



T.C. MİLLÎ EĞİTİM  
BAKANLIĞI

3 ADIM

## DENEME SINAVLARI

Kare kod ile  
ulaşabileceğin video  
çözümlü sorular

Tamamı özgün  
sorular

**AYT**  
sözel

YKS konularının  
tamamını kapsayan  
sorular

Konu analiz  
raporu ve sonuç  
karnesi

15 DENEME







T.C. MİLLÎ EĞİTİM  
BAKANLIĞI

3 ADIM

# DENEME SINAVLARI

*Kare kod ile  
ulaşabileceğin video  
çözümlü sorular*

*Tamamı özgün  
sorular*

# AYT

## sözel

*YKS konularının  
tamamını kapsayan  
sorular*

*Konu analiz  
raporu ve sonuç  
karnesi*

## 15 DENEME



MİLLÎ EĞİTİM BAKANLIĞI YAYINLARI • 9079  
YARDIMCI KAYNAK EĞİTİM MATERYALİ • 2832

3 ADIM AYT DENEME SINAVI  
SÖZEL

**Basım Adedi** 153.063

**ISBN** 978-975-11-7271-6

**Yazar** KOMİSYON



**Baskı Yeri:**

**Sertifika No:**

Bu yayın Millî Eğitim Bakanlığı tarafından üniversite sınavına hazırlanan öğrencilere destek olmak amacıyla hazırlanmıştır. Yayında yer alan soruların tamamı özgündür.



## İSTİKLÂL MARŞI

Korkma, sönmez bu şafaklarda yüzen al sancak;  
Sönmeden yurdumun üstünde tüten en son ocak.  
O benim milletimin yıldızıdır, parlayacak;  
O benimdir, o benim milletimindir ancak.

Çatma, kurban olayım, çehreni ey nazlı hilâl!  
Kahraman ırkıma bir gül! Ne bu şiddet, bu celâl?  
Sana olmaz dökülen kanlarımız sonra helâl.  
Hakkıdır Hakk'a tapan milletimin istiklâl.

Ben ezelden beridir hür yaşadım, hür yaşarım.  
Hangi çılgın bana zincir vuracakmış? Şaşarım!  
Kükremiş sel gibiyim, bendimi çiğner, aşarım.  
Yırtarım dağları, enginlere sığmam, taşarım.

Garbın âfâkını sarmışsa çelik zırhlı duvar,  
Benim iman dolu göğsüm gibi serhaddim var.  
Ulusun, korkma! Nasıl böyle bir imanı boğar,  
Medeniyet dediğin tek dişi kalmış canavar?

Arkadaş, yurduma alçakları uğratma sakın;  
Siper et gövdeni, dursun bu hayâsızca akın.  
Doğacaktır sana va'dettiği günler Hakk'ın;  
Kim bilir, belki yarın, belki yarından da yakın.

Bastığın yerleri toprak diyerek geçme, tanı:  
Düşün altındaki binlerce kefensiz yatanı.  
Sen şehit oğlusun, incitme, yazıktır, atanı:  
Verme, dünyaları alsan da bu cennet vatanı.

Kim bu cennet vatanın uğruna olmaz ki feda?  
Şüheda fişkırarak toprağı sıksan, şüheda!  
Cânı, cânânı, bütün varımı alsın da Huda,  
Etmesin tek vatanımdan beni dünyada cüda.

Ruhumun senden İlahî, şudur ancak emeli:  
Değmesin mabedimin göğsüne nâmahrem eli.  
Bu ezanlar -ki şehadetleri dinin temeli-  
Ebedî yurdumun üstünde benim inlemeli.

O zaman vecd ile bin secde eder -varsa- taşım,  
Her cerâhamdan İlahî, boşanıp kanlı yaşım,  
Fıskırır ruh-ı mücerret gibi yerden na'sım;  
O zaman yükselerek arşa değer belki başım.

Dalgalar sen de şafaklar gibi ey şanlı hilâl!  
Olsun artık dökülen kanlarımın hepsi helâl.  
Ebediyyen sana yok, ırkıma yok izmihlâl;  
Hakkıdır hür yaşamış bayrağımın hürriyyet;  
Hakkıdır Hakk'a tapan milletimin istiklâl!

**Mehmet Âkif ERSOY**


## GENÇLİĞE HİTABE

Ey Türk gençliği! Birinci vazifen, Türk istiklâlini, Türk Cumhuriyetini, ilelebet muhafaza ve müdafaa etmektir.

Mevcudiyetinin ve istikbalinin yegâne temeli budur. Bu temel, senin en kıymetli hazinedir. İstikbalde dahi, seni bu hazineden mahrum etmek isteyecek dâhilî ve hâricî bedhahların olacaktır. Bir gün, istiklâl ve cumhuriyeti müdafaa mecburiyetine düşersen, vazifeye atılmak için, içinde bulunacağın vaziyetin imkân ve şeraitini düşünmeyeceksin! Bu imkân ve şerait, çok namüsaît bir mahiyette tezahür edebilir. İstiklâl ve cumhuriyetine kastedecek düşmanlar, bütün dünyada emsali görülmemiş bir galibiyetin mümessili olabilirler. Cebren ve hile ile aziz vatanın bütün kaleleri zapt edilmiş, bütün tersanelerine girilmiş, bütün orduları dağıtılmış ve memleketin her köşesi bilfiil işgal edilmiş olabilir. Bütün bu şeraitten daha elîm ve daha vahim olmak üzere, memleketin dâhilinde iktidara sahip olanlar gaflet ve dalâlet ve hattâ hıyanet içinde bulunabilirler. Hattâ bu iktidar sahipleri şahsî menfaatlerini, müstevlîlerin siyasî emelleriyle tevhit edebilirler. Millet, fakr u zaruret içinde harap ve bîtap düşmüş olabilir.

Ey Türk istikbalinin evlâdı! İşte, bu ahval ve şerait içinde dahi vazifen, Türk istiklâl ve cumhuriyetini kurtarmaktır. Muhtaç olduğun kudret, damarlarındaki asil kanda mevcuttur.

Mustafa Kemal Atatürk



**MUSTAFA KEMAL ATATÜRK**

## İÇİNDEKİLER

1. ADIM 1. Deneme .....	9
1. ADIM 2. Deneme .....	51
1. ADIM 3. Deneme .....	91
1. ADIM 4. Deneme .....	131
1. ADIM 5. Deneme .....	171
2. ADIM 1. Deneme .....	211
2. ADIM 2. Deneme .....	255
2. ADIM 3. Deneme .....	297
2. ADIM 4. Deneme .....	337
2. ADIM 5. Deneme .....	377
3. ADIM 1. Deneme .....	417
3. ADIM 2. Deneme .....	463
3. ADIM 3. Deneme .....	507
3. ADIM 4. Deneme .....	551
3. ADIM 5. Deneme .....	595
Cevap Anahtarı .....	639



## Neden Deneme Sınavları?

Gerçek sınavın provası olan deneme sınavları bilgi ve zaman kullanımını ölçmeye yarayan en önemli fırsatlardandır. Bu fırsatı en iyi şekilde değerlendirebilmeniz için öncelikle deneme sınavını çözerken bu sınavın uygulama esaslarına uygun hareket etmeniz önemlidir. Sessiz bir ortamda, uygun oturma şekliyle, belirlenen süre içerisinde bu sınavları çözmeniz size gerçek sınav provası kazandıracaktır.

## Deneme Sınavları Size Ne Kazandırır?

- ▶ Eksik konuların tespit edilmesini sağlar.
- ▶ Önceden çalışılmış konuların tekrar hatırlanmasına yardımcı olur.
- ▶ Zamanın nasıl kullanılacağını öğretir.
- ▶ Farklı soru tiplerinin görülebilmesini sağlar.
- ▶ Kaygı düzeyini dengede tutmayı sağlar.
- ▶ Öğrencinin diğer öğrenciler arasındaki yerini görmesini sağlar.





T.C. MİLLÎ EĞİTİM  
BAKANLIĞI

3 ADIM

DENEME SINAVLARI

1. ADIM

AYT  
sözel



1. DENEME

ADI VE SOYADI

OKUL ADI

ADAYIN İMZASI

**ADAYIN DİKKATİNE!**

1. Bu sınavda AYT soru dağılımları dikkate alınmıştır.
2. Deneme tam kapsam olup YKS konularının tamamını kapsamaktadır.
3. Bu sınav Türk Dili ve Edebiyatı - Sosyal Bilimler 1 Testi (TDE 24 soru, Tarih 10 soru, Coğrafya 6 soru) 40 soru, Sosyal Bilimler 2 Testi (Tarih 11 soru, Coğrafya 11 soru, Felsefe Grubu 12 soru, DKAB 6 soru ) 40 soru olmak üzere toplamda 80 soru içermektedir.

Bu testlerin her hakkı saklıdır. Hangi amaçla olursa olsun, testlerin tamamının veya bir kısmının Millî Eğitim Bakanlığının yazılı izni olmadan kopya edilmesi, fotoğrafının çekilmesi, herhangi bir yolla çoğaltılması, yayımlanması ya da kullanılması yasaktır. Bu yasağa uymayanlar gerekli cezai sorumluluğu ve testlerin hazırlanmasındaki mali külfeti peşinen kabullenmiş sayılır.

### **DİKKAT!**

Din Kültürü ve Ahlak Bilgisi dersini yasal olarak almak zorunda olan adaylar ve İmam Hatip Okulları öğrencileri/mezunları, Sosyal Bilimler-2 Testi'nin ilk 40 sorusunu cevaplamakla yükümlüdür. Bu adaylar, bu testin 41-46. sorularını cevaplamayacaklardır. Bu adaylar, bu testin 41-46. sorularında işaretleme yapmış olsalar bile bu cevapları değerlendirmeye alınmayacaktır.

Din Kültürü ve Ahlak Bilgisi dersini yasal olarak almak zorunda olmayan veya farklı müfredat ile alan adaylar, Sosyal Bilimler-2 Testi'nin 35-40. sorularını cevaplamadan 41-46. sorularını cevaplayacaklardır. Bu adaylar, bu testin 35-40. sorularında işaretleme yapmış olsalar bile bu cevapları değerlendirmeye alınmayacaktır.

### **AÇIKLAMA**

1. Bu kitapçıkta **86 soru** bulunmaktadır.  
Türk Dili ve Edebiyatı-Sosyal Bilimler-1 Testi: 40 soru  
Sosyal Bilimler-2 Testi: 46 soru
2. **Bu sınavda her testteki doğru cevaplarınızın sayısından yanlış cevaplarınızın sayısının dörtte biri çıkarılacak ve kalan sayı o bölüme ilgili ham puanınız olacaktır.**
3. Kitapçığın sayfalarındaki boş yerleri müsvedde için kullanabilirsiniz.
4. Cevaplamaya istediğiniz sorudan başlayabilirsiniz. Bir soru ile ilgili cevabınızı cevap kâğıdında o soru için ayrılmış olan yere işaretlemeyi unutmayınız.
5. Bu kitapçıkta yer alan her sorunun sadece bir doğru cevabı vardır. Cevap kâğıdında bir soru için birden çok cevap yeri işaretlenmişse o soru yanlış cevaplanmış sayılacaktır. İşaretlediğiniz bir cevabı değiştirmek istediğinizde silme işlemini çok iyi yapmanız gerektiğini unutmayınız.

1. Bu testte sırasıyla Türk Dili ve Edebiyatı (1-24), Tarih-1 (25-34), Coğrafya-1 (35-40) alanlarına ait toplam 40 soru vardır.
2. Cevaplarınızı cevap kâğıdının Türk Dili ve Edebiyatı-Sosyal Bilimler-1 Testi için ayrılan kısmına işaretleyiniz.

1. Sait Faik'in bu romanı ----, okuyanı baştan sona kadar sürükleyen bir kitap. Yazarın öykülerindeki o sevimli dağınıklık yok. Kitap bütünlüğe sahip. Bütün olup biten serüvenlerin özünün ve anlamının, mutluluğun olup olmayışına dayanması, Sait Faik'in eserine, üzerinde uzun boylu durulacak bir ---- katmış.

**Bu parçada boş bırakılan yerlere aşağıdakilerden hangisi sırasıyla getirilmelidir?**

- A) akıcı - duyarlılık  
B) düzenli - basitlik  
C) sistemli - kolaylık  
D) derli toplu - derinlik  
E) çelişkileriyle - bilinmezlik

2. (I) Görme duyumuzla net görüntüler elde etmemiz, ışığın gözümüze girdiği bölümde gerçekleşen kırılmalarla mümkün olur. (II) Kırılma indisi 1 olan havadan gözümüze ulaşan ışık, ilk olarak kavisli yapısıyla bir merceğe gibi çalışan korneada kırılır. (III) Korneanın kırılma indisi yaklaşık 1,37'dir. (IV) Burada yavaşlatılarak doğrultusu değiştirilen ışınlar gözün merkezine doğru odaklanır. (V) Daha sonra kırılma indisi bir miktar daha büyük olan göz merceğinde son odaklaması yapılır ve net görüntünün elde edileceği sarı beneğe yönlendirilir.

**Bu parçada numaralanmış cümlelerle ilgili aşağıdakilerden hangisi söylenemez?**

- A) I. cümlede net görüntü elde etmenin nasıl mümkün olacağından söz edilmiştir.  
B) II. cümlede göze ulaşan ışığın ilk olarak nerede kırıldığı belirtilmiştir.  
C) III. cümlede korneanın kırılma indisi ile ilgili bir sayısal veri kullanılmıştır.  
D) IV. cümlede ışınların doğrultusunun değiştirildiğinden bahsedilmiştir.  
E) V. cümlede kırılmanın görüntüye doğru yönelmesinin üzerinde durulmuştur.

3. Oyuncak, çocuğun hayatındaki temel unsurlardan biridir ve en önemli arkadaşı hatta sırdaşıdır. Çocuk oyun yoluyla kendini denetlemeyi, kurallar koymayı ve bunlara uymayı öğrenir. Çocuklar gerçek yaşamda yapamadığı şeyleri deneyimleyerek anlamak ve öğrenmek için oyunda denemeler yaparlar. Oyuncak ve nesnelere bir anlam yükleyen çocuk için oyun ve oyuncak ciddi bir işittir. Başlangıçta hayalî olan durumlar bir süre sonra çocuğun kurallar öğrenmesini sağlar. Bütün çocuklar küçük yaşlarda hayalî bir oyun arkadaşı edinirler. Normal bir gelişim örüntüsü ve faydalı bir uğraş olan bu süreçte genellikle oyun arkadaşı bir oyuncaktır. Oyun ve oyuncak çocuk için sadece bir meşguliyet ve eğitsel uğraş değil onun ruh sağlığı gelişimini destekleyen, onda duygusal ilişkilerin başlamasına ve gelişmesine yardımcı olan bir etkinliktir.

**Bu parçada aşağıdakilerin hangisine değinilmemiştir?**

- A) Oyun sayesinde çocukların öz denetim kazandığına  
B) Çocukların en iyi arkadaşlarının oyuncak olduğuna  
C) Oyunun çocukların psikolojik gelişimini desteklediğine  
D) Çocuğun oyuncakına farklı bir anlam yüklediğine  
E) Oyunun kişisel alan oluşturulmasını sağladığına

4. *Eski Dostum Kertenkele* için yazma süreci hiç de klasik bir yazma biçiminde gerçekleşmedi. Kalbimi açma ve düşüncelerimi boşaltma ihtiyacı duyduğum anlarda âdeta bir günlük gibi yazma eylemini gerçekleştirdiğim bu çalışmada kurgunun varacağı yeri ben de hiçbir zaman kestiremedim. Hayatın kendisi gibiydi *Eski Dostum Kertenkele*'yi yazmak. Yani benim için de belirsizdi. Bir sonraki aşamada ne olacak bilmiyor ve olacakları kurgulayamıyordum. Yazı beni nereye götürüyorsa oraya gidiyordum. Bir nevi günlük gibi olan bu yazma eyleminde metaforlar benim en büyük yardımcımdı.

**Bu parçadan hareketle *Eski Dostum Kertenkele* için yazarın yazma süreci ile ilgili aşağıdakilerden hangisine ulaşamaz?**

- A) Geleneksel yazma biçimlerinden farklı yazdığına
- B) Güncedeki gibi kendi hislerini aktararak yazdığına
- C) Plansız yapılan çalışmada kurgunun belirsizliğine
- D) Hayatın kendisi gibi her an her şey olabileceğine
- E) Düşüncelerini yazıya geçirmenin doğallığına

5. Almanya'nın Bonn şehrinde doğan ve çok küçük yaşlardan itibaren müziğe karşı olan yeteneği, babası ve ilk müzik öğretmeni olan Johann van Beethoven tarafından fark edilen Beethoven, daha sonra besteci ve orkestra şefi Christian Gottlob Neefe ile çalışmalarına devam etmiş; 21 yaşında Viyana'ya yerleşmiş ve orada Joseph Haydn ile çalışmış aynı zamanda virtüöz piyanist olarak şöhret kazanmış, ölene dek Viyana'da yaşamını sürdürmüştür. Yirmili yaşlarının sonlarına geldiğinde işitme sorunları yaşamaya başlamış ve hayatının son zamanlarında neredeyse tamamen sağır olmuştur. 1811 yılında 41 yaşında orkestra şefliğini ve halka açık konserler vermeyi bırakmış fakat beste yapmaya devam etmiştir. En çok takdir edilen eserlerini hayatının son 15 yılında bestelemiştir.

**Bu parçada söz edilen sanatçıyla ilgili aşağıdakilerin hangisine ulaşamaz?**

- A) Yeteneğini emekle geliştirmeye çalıştığına
- B) Müzikle ilgili araştırmalar yaptığına
- C) Doğduğu şehirden başka yerde ün kazandığına
- D) İşitme kaybından sonra icrayı bıraktığına
- E) Çok çeşitli müzisyenler ile çalıştığına

6. Bana bir düzine sağlıklı bebek ve onları istediğim şekilde yetiştirme olanağı veriniz. Onlardan tesadüfen herhangi birini alıp yetenekleri, eğilimleri, ırk ve cediti ne olursa olsun seçeceğim herhangi bir alanda yetiştirip mesela doktor, hukukçu, artist, tüccar hatta dilenci, hırsız yapabileceğimi garantilerim.

**Bu parçanın yazarı aşağıdakilerden hangisini vurgulamaktadır?**

- A) İnsan ideale ulaşmak için bütün engelleri aşabilecek güce sahiptir.
- B) İnsan isterse mücadele ederek her zorluğu olumsuz şartlara rağmen aşabilir.
- C) İnsan tabiatı; esnek, yumuşak olup bulunduğu çevreye göre şekil alır.
- D) Sağlıklı her birey başarıya ulaşmak için fırsatları kovalamalıdır.
- E) İnsan desteklendiği takdirde istediği bir meslekte çalışabilir.

7. Sen çamlı dağlarda ağaran şafak  
Sen duru göllerin nilüferisin  
Sen engin ovada sararan başak  
Sen umut kaynağı, alın terisin

**Bu dördükle ilgili aşağıdakilerden hangisi söylenemez?**

- A) Teşbih sanatına yer verilmiştir.
- B) Tam kafiye kullanılmıştır.
- C) Çapraz kafiye düzeninde yazılmıştır.
- D) Ek ve kelime hâlinde redif vardır.
- E) Kelime tekrarıyla ahenk sağlanmıştır.

8. Çukurova bayramlığın giyerken  
Çıplaklığın üzerinden soyarken  
Şubat ayı kış yelini kovarken  
Cennet dense sana yakışır dağlar

**Bu dörtlükle ilgili aşağıdakilerin hangisi söylenemez?**

- A) 11'li hece ölçüsüyle yazıldığı  
B) Kişileştirme sanatına başvurulduğu  
C) Ek hâlinde redife yer verildiği  
D) Epik bir şiir türünden alındığı  
E) Nazım türünün güzelleme olduğu

9. Seyyit Gazi yolun diktiler nişan  
Deli gönlüm oldu şimdi perişan  
Tanrı kelamını her dem söyleşen  
İdris cennettedir Musa Tur'dadır

**Bu dizelerde aşağıdaki söz sanatlarından hangisi vardır?**

- A) İntak                      B) Telmih                      C) Teşhis  
D) İrsalimesel                      E) Hüsnütalil

10. Ölümsüzlüğü arayan bir kralın öyküsüdür. Destana konu olan kral İÖ 3000 yıllarının ilk yarısında Mezopotamya'daki Uruk kentinde hüküm sürmüştür. Ölümsüzlüğün ve bilginin peşindeki insanı yücelterek anlatan bu destan; günümüze ulaşabilmiş, bilinen en eski destandır. Akat ve Sümer dillerinde yazılmış tabletlerden derlenmiştir. Bunlardan günümüze 12 tablet gelebilmiştir. Ama bu tabletler eksik olduğu için destan metninin bütünü elde edilememiştir. Destanda ayrıca Nuh Tufanı'ndan da bahsedilmektedir.

**Bu parçada sözü edilen destan aşağıdakilerden hangisidir?**

- A) *İlyada*                      B) *Mahabarata*                      C) *Türeyiş*  
D) *Gilgamiş*                      E) *İgor*

11. 11. yüzyılda Karahanlı Uygur Türklerinden Yusuf Has Hacib tarafından Türkçe olarak kaleme alınmıştır. Mutluluk veren bilgi anlamına gelen bu eser; edebiyat, siyaset, yönetim gibi birçok alanla ilgili bilgi verdiği için Türk dünyasında önemli bir yere sahiptir. Devlet yönetiminde adaletin ve hukukun önemine vurgu yapan siyasetname türünde bir eserdir. İyi bir yöneticinin yani bir hükümdarın neler yapması gerektiği konusunun etraflıca işlendiği bölümler içermektedir. Yusuf Has Hacib tarafından Doğu Karahanlı Hükümdarı Tabgaç Buğra Han'a sunulmuş olan eserde anlatılmak istenen nitelikler sembolik kişiler üzerinden kurgulanmış ve bu kişilerin diyaloglarından ve ifadelerinden hareketle aktarılmıştır.

**Bu parçada söz edilen edebî eser aşağıdakilerin hangisidir?**

- A) *Atabetü'l Hakâyık*  
B) *Dîvânü Lugât'it-Türk*  
C) *Divân-ı Hikmet*  
D) *Dede Korkut Hikâyeleri*  
E) *Kutadgu Bilig*

12. I. Ne dedim de küstü yâr  
II. Bir rüzgâr esti yâr  
III. Şu dağların üstü kar  
IV. İkimizin arasından

**Biçim ve içerik özellikleri dikkate alınarak bir mâni oluşturulmak istense bu dizelerin sıralaması aşağıdakilerin hangisi olur?**

- A) I - II - IV - III  
B) I - III - II - IV  
C) III - I - IV - II  
D) III - II - I - IV  
E) IV - II - I - III

13. *Hüsrev ü Şîrîn ve Harnâme* adlı eserleriyle Türk edebiyatında mesnevi sahasının önemli simaları arasında yer almıştır. Mesnevi yazmayı bir şehir kurmaya benzetmiş, eserlerinde oldukça akıcı bir dil kullanmış, tasvirlerinde ve konuyu işleyişinde başarılı kabul edilmiştir.

**Bu parçada sözü edilen sanatçı aşağıdakilerden hangisidir?**

- A) Şeyhî  
B) Şeyhülislam Yahyâ  
C) Nâîlî  
D) Fuzûlî  
E) Bâkî

14. **Divan edebiyatıyla ilgili aşağıdakilerden hangisinde bilgi yanlışı vardır?**

- A) İç kafiyeli gazellere “musammat gazel” denir.  
B) Öğretici nitelikte mesnevilere “pendname” adı verilir.  
C) Peygamberimizi övmek için yazılan kasidelere “tevhid” denir.  
D) “Müstezat” gazelin beyitleri arasına kısa dizeler eklenerek yazılır.  
E) Ahilerin uyması gereken kuralları anlatan eserlere “fütüvvetname” denir.

15. Tasavvuf anlayışına göre dört kapı kırk makam anlayışını işleyen eser, Hacı Bektâş-ı Veli tarafından Arapça olarak kaleme alınmıştır. Eserde, amacına uygun olarak didaktik bir üslup ve akıcı bir anlatım tercih edilmiştir. Anlaşılması zor konular sohbet havası içerisinde somut örneklerle daha açık ve anlaşılır hâle getirilmiştir.

**Bu parçada söz edilen eser aşağıdakilerden hangisidir?**

- A) *Risâletü'n-Nushiyye*  
B) *Makâlât*  
C) *Rebâbnâme*  
D) *Kitâb-ı Miğlâte*  
E) *Mârifetnâme*

16. Şiirlerinde tasvir ön plandadır. Varlığı bir fotoğraf gibi idrak etmek, renk ve şekilleri canlı tutmak, gerçeklik duygusu yaratmak o dönem şiiri içinde keşfettiği bir özelliktir. Bu çığır, önce Avrupa basınında başlayan, o yıllarda da Türk dergilerinde bollaşan fotoğraf ve desen baskılarına paralel gelişen parnasizmin doğduğu bir akımdır. Sanatçının açtığı bu yoldan dönemin önemli şairlerinin de etkilendiği görülür. Şairin şiirleri hakkında dikkate değer tahliller yapmış olan Mehmet Kaplan, onun şiirlerinin tabiat ve ev içi tasvirleriyle, alegorik ve sembolik imajlarla yoğunlaştığını belirtmiştir. Yalnız o da çağdaşları gibi hayata ve insanları, aralarına girmeyerek uzaktan temaşa lezzetiyle yetinmiştir. Resim ve musiki kültürü olan şair, şiirini bu sanatlarla beraber yürütmüştür. Şiirine musiki sanatının girişinde Fransız sembolistlerinden faydalanmakla beraber bunu pek az şiirinde başarı ile uygulayabilmiştir. *Elhân-ı Şitâ*, *Yakâzât-ı Leyliyye*, *Temâşâ-yı Leyâl*, *Temâşâ-yı Hazân* gibi şiirleri nesiller boyunca okunmaya devam etmiştir.

**Bu parçada sözü edilen şair aşağıdakilerden hangisidir?**

- A) Süleyman Nazif  
B) Ahmet Haşim  
C) Tahsin Nahit  
D) Tevfik Fikret  
E) Cenap Şahabettin

17. Millî Edebiyat Dönemi 1911’de *Genç Kalemler* dergisi ile başlatılan Cumhuriyet Dönemi Türk Edebiyatı’nın ortaya çıktığı 1923 yılına kadar devam eden bir edebî sürecin adıdır. Bu edebî dönemin başlıca temsilcileri arasında ----, ----, ---- gibi isimleri saymak mümkündür.

**Aşağıdaki sanatçılardan hangisi bu parçada boş bırakılan yerlerden birine getirilemez?**

- A) Mehmet Emin Yurdakul  
B) Ömer Seyfettin  
C) Ali Canip Yöntem  
D) Ziya Gökalp  
E) Ali Ekrem Bolayır



18. O

Bir şehrin uzak homurtusu  
 İçimizdeki mahşer  
 Cömert ve kıraç toprağın özü  
 O adını koyamadığımız duygu  
 O bambaşka şey  
 Belki sevinç  
 Korku belki

**Biçim ve içerik özellikleri dikkate alındığında bu şiirin şairi ve yazıldığı şiir geleneği aşağıdakilerden hangisi olabilir?**

- A) Ercüment Behzat Lav - Toplumcu gerçekçi şiir
- B) Necip Fazıl Kısakürek - Öz şiir
- C) Ziya Osman Saba - Yedi Meşale
- D) Ece Ayhan - İkinci Yeni
- E) Kemalettin Kamu - Millî Edebiyat zevk ve anlayışını sürdüren şiir

19. ----,

verdiği eserlerle Türk edebiyatının son 60 senesinde mühim bir yere oturur. Başta şiir olmak üzere hikâye, deneme, fıkra, piyes, inceleme-düşünce yazıları gibi çeşitli türlerde yazmıştır. Programlı çıkışı ve estetik yönü edebiyat dünyasının ilgisini çekmiştir. Edebiyatımızda bir sistem gözeterek ürün veren nadir sanatçılardandır. O, insanımızın şuurlu kazanması ve öz benliğine dönmesi için "Diriliş" adını verdiği bir sistem geliştirmiştir. Bu sistemde edebiyat önemli bir yer tutar. Edebiyat, sanatçının "Diriliş" perspektifinin bir nevi başlangıç noktası ve onun felsefesine göre kendini inşa etmenin bir yoludur. Yazdığı şiirler metafizik ve İslami bir zemine oturur. *Şahdamar, Gül Muştusu, Zamana Adanmış Sözler* eserlerinden bazılarıdır.

**Bu parçada sözü edilen sanatçı aşağıdakilerden hangisidir?**

- A) Necip Fazıl Kısakürek
- B) Cahit Zarifoğlu
- C) Erdem Bayazıt
- D) Sezai Karakoç
- E) İsmet Özel

20.

Eser; hayat tecrübesi olmayan, iradesiz ve mirasyedi bir genç olan Ali Bey'in hikâyesidir. Ali Bey, Tanzimat Dönemi romanlarında işlenen züppe tipin öncülerinden biridir. Kendisine uygun olmayan Mahpeyker adlı bir kadına âşık olur. Yazar, tam da burada taraf tutarak kötü karakterli Mahpeyker'in karşısına masum Dilâşup'u çıkararak ondan yana olduğunu okuyucuya gösterir. Romanın sonunda Mahpeyker'in hırsları hepsini felakete sürüklerken yazar da okuyucunun bu anlatıdan bir ders çıkarmasını ister.

**Bu parçada sözü edilen yazar ve roman aşağıdakilerden hangisidir?**

- A) Nâmık Kemal - *İntibah*
- B) Nâbizâde Nâzım - *Zehra*
- C) Ahmet Mithat Efendi - *Felâatun Bey ve Râkım Efendi*
- D) Ahmet Mithat Efendi - *Esrâr-ı Cinâyât*
- E) Sâmipaşazâde Sezâi - *Sergüzeşt*

21. Aşağıda alıntı yapılmış roman parçalarında kullanılan anlatım tekniklerinden hangisi parantez ( ) içindeki terimle uyuşmamaktadır?

- A) Ali Rıza Bey, Babiâli yetiştirmelerinden bir mülkiye memuruydu. Otuz yaşına kadar Dahiliye kalemlerinden birinde çalışmıştı. Belki ölünceye kadar da orada kalacaktı. Fakat kız kardeşiyle annesinin iki ay ara ile ölmesi onu birdenbire İstanbul'dan soğutmuş, Suriye'de bir kaza kaymakamlığı alarak gurbete çıkmasına sebep olmuştu.

(Özetleme)

- B) — Bırakır mıyız işini? Bırakırız tabî.  
— Gözünün yaşına bakacak değiliz ya!  
— Niye bakalım? O bizimkine bakıyor mu?  
— Biz de onunkine bakmayız! Ya bakarsa? dedi Ali.  
— Bakarsa... Irgatbaşı'dan hakkımızı alırsa mı?  
— Alırsa?

(İç çözümleme)

- C) Aman yarabbi! Bir zamanlar evliydim ben de... Sonra yine evliydim. İnsan bir günde varamıyor bir yere, ne yapalım? Nereye? Tanımlayamadığım, bir ad veremediğim duygular yüzünden ne kadar üzülmüştük.

(Bilinç akışı)

- D) Babasını hatırladı. Trene yolcu ederken "Aman oğlum," demişti, "yüzümü kara çıkarma. Babayın oğlu olduğunu göster şu millete, ille de mihtara. Benim oğlumsan sırtın yere gelmez. Heye İstanbul gurbeti çetin, İstanbulunun cinden de beter olduğunu söylerdi emmim ya, boş ver. Var git, sağlıcakla, eyi kötü bir işin başın geç, bize mektup sal. Ondan sonrasına karışma. Ben hepsinin yuvasını yaparım!"

(Geriye dönüş)

- E) Küçük Ağa başını kaldırdı ve soran gözlerle baktı. Doktor çevik bir davranışla ayağa kalkmıştı. Gidecekti artık. Onun hâlâ soran gözlerine dost gözlerle bakarak:

— Çünkü, dedi. Küçük Ağa'nın siz oluşu.. yani.. nasıl söylemeli?... Anlıyor musunuz veya anlatabiliyor muyum bilmem... Sizin gibi genç, güçlü, kuvvetli.. ve bilhassa bilgili, akıllı biri oluşu... Kısacası işte siz oluşunuz benim için hususî bir kıymet ve ehemmiyet taşıyor.

(Gösterme)

22. Halk edebiyatından çok, Türk halk tiyatrosunu ilgilendiren bir alandır. Çünkü seyirci önünde çeşitli hikâyelerin "dramatizasyon"unu yapan kişi, bir anlatıcı olmaktan çok bir oyuncudur. Hem öyle bir oyuncudur ki bir hikâyeyi her anlatışta değişik yaratışlara gider. Seyirci ile çok yakın bir ilişki kurduğundan, seyircinin göstereceği tepkiye göre o anda doğaçlamaya giderek her anlatışta yeni bir yaratışa ve zenginliğe yönelir.

**Bu parçada sözü edilen geleneksel tiyatro aşağıdakilerden hangisidir?**

- A) Kukla  
B) Meddah  
C) Orta oyunu  
D) Gölge oyunu  
E) Köy seyirlik oyunu

23. Ahmet Vefik Paşa, Tanzimat birinci kuşakta olup

I II  
romantizm etkisindeki sanatçılardandır. Molière'i  
III IV

Türk edebiyatına kazandıran isim olarak edebiyat

tarihimize geçmiştir. İlk adapte çalışması *Zor Nikâhı*

V

adlı eser, edebiyatımızdaki ilk tiyatro çevirisidir.

**Bu parçada numaralanmış ifadelerin hangisi bilgi yaratışına neden olmuştur?**

- A) I B) II C) III D) IV E) V

24. Bu akımda sanatın ilke ve kurallarına uymak esastır. Eserlerin konuları tarihten ve mitolojiden alınır. Kahramanlar soylulardan seçilir. Eserlerde kötü ve kaba sözlere yer verilmez.

**Bu parçada sözü edilen edebî akım aşağıdakilerden hangisidir?**

- A) Romantizm  
B) Realizm  
C) Klasisizm  
D) Natüralizm  
E) Egzistansiyalizm

25. Ranke, milattan önce 5. yüzyılda, Herodot'un tarihini okurken, dönemin nasıl bir ruh yapısına sahip olduğu, hangi olayları yaşadığı veya hangi olaylarla yüz yüze kaldığı, toplumun iç yapıları nedir? gibi soruları göz önüne alarak, "Herodot'u bu tür yargılara götüren bakış açısını anlamamız, tarihçiliğin önemli unsurlarından biridir." demiştir.

**Paragrafa göre Ranke, tarihçinin özellikle hangi durumu göz önünde bulundurması gerektiğinin altını çizmiştir?**

- A) Nesnellik  
B) Tekrarlanamazlık  
C) Zamanın ruhu  
D) Objektiflik  
E) Nedensellik

26. "Dünyada tam bir iktidar kuşağı bağladı, kurt ile kuzu bir arada yaşadı... ey, bu makama sen kendi gücün ve isteğin ile gelmedin, onu sana Tanrı verdi... Hükümdarlar iktidarı Tanrıdan alırlar..."

**Paragrafa göre Kutadgu Bilig'de tanımlanan kavramın adı aşağıdakilerden hangisidir?**

- A) Kün  
B) Oguş  
C) Uçmağ  
D) Kurgan  
E) Kut

27. **Aşağıdakilerden hangisi Osmanlı Devleti'nin kuruluş yıllarında güçlenmesinde etkili olan gruplardan biri değildir?**

- A) Ahiyân-ı Rûm  
B) Bâciyân-ı Rûm  
C) Abdalân-ı Rûm  
D) Gaziyân-ı Rûm  
E) Gûlaman-ı Rûm

28. **II. Bayezid Dönemi'nde gerçekleşen;**

- I. Cem Sultan Olayı,  
II. Şahkulu Ayaklanması,  
III. Mora Yarımadası'nın fethinin tamamlanması

**olaylardan hangileri önceki dönemlere göre batı yönünde durgun bir dış politika izlenmesine sebep olmuştur?**

- A) Yalnız I      B) Yalnız II      C) Yalnız III  
D) I ve II      E) II ve III

29. Aşağıdakilerden hangisi Osmanlı Devleti'nin Batıdaki teknik gelişmelerden ilk defa askerî alanda yararlanmasının nedeni olarak söylenebilir?

- A) Askerî yönden güçlü olunursa devletin tekrar eski gücüne kavuşacağına inanılması
- B) Devlet adamlarının asker kökenli olması
- C) Avrupalı devletlerin Osmanlı Devleti'nin askerî alanda yenilik yapmasını istemesi
- D) Askerî alanda yapılan yeniliklere daha fazla önem verilmesi
- E) Avrupa'da yapılan yeniliklerin askerî alanda olması

30. II. Meşrutiyet'in Osmanlı Devleti'nde meydana getirdiği kargaşa ortamından yararlanarak bağımsızlığını ilan eden devlet aşağıdakilerden hangisidir?

- A) Yunanistan
- B) Bulgaristan
- C) Arnavutluk
- D) Sırbistan
- E) Romanya

31. Mustafa Kemal Atatürk'ün öğrenim gördüğü şehirlerin kronolojik sıralaması aşağıdakilerin hangisinde doğru olarak verilmiştir?

- A) Selanik - Manastır - İstanbul
- B) Manastır - Selanik - İstanbul
- C) Manastır - İstanbul - Selanik
- D) Selanik - İstanbul - Manastır
- E) İstanbul - Manastır - Selanik

32. Aşağıdakilerden hangisi Millî Cemiyetlerin kurulma sebeplerinden biri değildir?

- A) İtilaf Devletlerinin, Mondros Ateşkes Anlaşması'nın 7. maddesine göre işgallere başlaması
- B) Azınlıkların bağımsızlık istekleri
- C) İstanbul Hükûmeti'nin işgaller karşısında etkisiz kalması
- D) Kuruldukları bölgelerde bağımsız olma istekleri
- E) Millî Varlığa Düşman Cemiyetlerin faaliyetlerine engel olunmak istenmesi

33. • Afganistan Dostluk Antlaşması imzalanmıştır.  
• Londra Konferansı'nın toplanmasında etkili olmuştur.  
• Moskova Antlaşması imzalanmıştır.  
• Düzenli ordunun Yunanlılara karşı ilk başarısıdır.

Yukarıda sonuçları verilen savaş, aşağıdakilerden hangisidir?

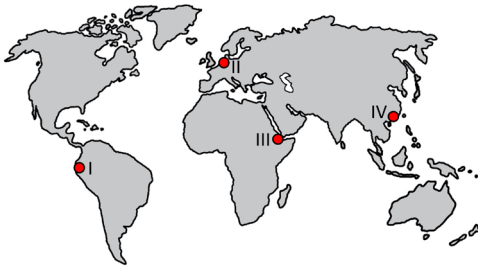
- A) I. İnönü
- B) II. İnönü
- C) Sakarya
- D) Büyük Taarruz
- E) Kütahya - Eskişehir

34. 11 Eylül 2001'de teröristler tarafından kaçırılan dört yolcu uçağı, ABD'nin çeşitli yerlerindeki binalara çarparak 3.000'den fazla Amerikan vatandaşının hayatını kaybetmesine neden oldu. Daha önce böylesi bir terör tehdidi ile karşılaşmamış olan ABD, bu tehdide karşı "Terörizmle Küresel Savaş" adıyla yeni bir savaş başlattı.

**Bu bilgilere göre ABD aşağıdaki devletlerden hangisine teröre destek verdiği gerekçesiyle askerî müdahalede bulundu?**

- A) Afganistan  
B) Mısır  
C) İran  
D) Suriye  
E) Lübnan

35. Hinterlandı geniş, önemli koy ve körfezlere sahip, ulaşım olanakları gelişmiş ve liman aracılığıyla ticari faaliyetleri fazla olan şehirlere liman şehri denir. Bu şehirler küresel ticarete büyük öneme sahiptir.



**Haritada numaralandırılarak gösterilen yerlerde bulunan şehirlerin hangilerinde bu faaliyetlerin daha yoğun olduğu söylenebilir?**

- A) I ve II      B) I ve III      C) II ve III  
D) II ve IV      E) III ve IV

36. Çevre sorunu; beşerî faaliyetler veya doğal süreçlerle çevrenin zarar görmesi, kirlenmesi ve doğal denge bozulmasıdır.

**Aşağıdakilerden hangisinin bu sorunun ortaya çıkmasında ve büyük boyutlara ulaşmasında etkili olduğu söylenemez?**

- A) Sıvı atıkların su kaynaklarına bırakılması  
B) Toprağın sürdürülebilir kullanımının yaygınlaşması  
C) Tarım faaliyetlerinde yapay gübre kullanımının artması  
D) Enerji ihtiyacının tükenbilir kaynaklardan karşılanması  
E) Şehir alanlarında taşıt trafiğinin belirli alanlarda yoğunlaşması

37. Günümüzde yaklaşık 250 milyon insan çölleşmenin sonuçlarından doğrudan etkilenmektedir. Yaklaşık 1 milyar insanın yaşadığı alan da çölleşme riski altındadır.

**Bu soruna çözüm üretme sürecinde yapılacak çalışmalar arasında aşağıdakilerden hangisi gösterilemez?**

- A) Atık suların faydalanma çalışmalarının artırılması  
B) Salma sulamaya karşılık alternatif yöntemlerin yaygınlaştırılması  
C) Bölge koşullarına uygun tarım ürünlerinin tercih edilmesi  
D) Bitki örtüsünün korunmasına yönelik önlemlerin artırılması  
E) Mera ve otlaklardan yılın tamamında eşit oranda faydalanılması

38. I. Japonya'da 11 Mart 2011 tarihinde okyanus içinde meydana gelen 9,0 büyüklüğündeki deprem sonrasında 30 metreden fazla yüksekliğe sahip tsunami oluşmuştur. Bu tsunami nedeniyle çok sayıda insan etkilenmiştir.
- II. 2017 yılı Kasım ayında Antalya'da yaşanan hortum nedeniyle tarım alanları, seralar ve evler zarar gördü.

**Bu ekstrem doğa olaylarının oluşum kökeni aşağıdakilerden hangisinde verilmiştir?**

	I	II
A)	Astronomi	Jeoloji Jeomorfoloji
B)	Meteoroloji Hidrometeoroloji	Astronomi
C)	Jeoloji Jeomorfoloji	Astronomi
D)	Jeoloji Jeomorfoloji	Meteoroloji Hidrometeoroloji
E)	Astronomi	Meteoroloji Hidrometeoroloji

39. Güneydoğu Anadolu Projesi, Yukarı Mezopotamya olarak bilinen ve Güneydoğu Anadolu'nun sosyal ve ekonomik kalkınmasını amaçlayan insan odaklı bir bölgesel kalkınma projesidir.

**Bu projenin sosyokültürel gelişimi doğrudan destekleyen hedefleri arasında aşağıdakilerden hangisi yer alır?**

- A) Kır ve kent alanlarının alt yapısını iyileştirmek
- B) Sulu tarım uygulanabilecek alanları genişletmek
- C) Diğer bölgelerle olan gelir farklılıklarını azaltmak
- D) Bölgedeki okullaşma oranı ve eğitim düzeyini yükseltmek
- E) Fırat ve Dicle nehirlerindeki hidroelektrik enerji üretimini artırmak

40. Mevsimler arasında görülen belirgin sıcaklık ve yağış farkları, bitki ve hayvanların yaşam faaliyetlerini etkiler. Bu farklılığın görüldüğü bölgelerde bazı ağaçlar kışın yaprağını dökerken hayvanların bir kısmı kış uykusuna yatar, bir kısmı da göç eder.



**Haritadaki işaretli alanlardan hangisinde bu durum daha az yaşanmaktadır?**

- A) I    B) II    C) III    D) IV    E) V

1. Bu testte sırasıyla, Tarih-2 (1-11), Coğrafya-2 (12-22), Felsefe Grubu (23-34), Din Kültürü ve Ahlak Bilgisi (35-40), Din Kültürü ve Ahlak Bilgisi dersini yasal olarak almak zorunda olmayan veya farklı müfredat ile alanlar için Felsefe Grubu (41-46) alanlarına ait toplam 46 soru vardır.
2. Cevaplarınızı cevap kâğıdının Sosyal Bilimler-2 Testi için ayrılan kısmına işaretleyiniz.

1. I. İnançoğulları  
II. Saltuklular  
III. Danişmentliler
- Yukarıdaki beyliklerden hangileri Haçlılara karşı mücadele etmiştir?**
- A) Yalnız I                      B) Yalnız II                      C) Yalnız III  
D) I ve III                      E) II ve III
2. **Aşağıdakilerden hangisi coğrafyanın toplumsal olayları etkilediğine örnek gösterilebilir?**
- A) Orta Asya Türk Göçleri  
B) Babai Ayaklanması  
C) Rumeli'ye geçiş  
D) Balkan fetihleri  
E) Coğrafi Keşifler
3. **Anadolu'nun fetih sürecinde Malazgirt Zaferi'nden sonra Anadolu'da kurulan ilk Türk beyliği aşağıdakilerden hangisidir?**
- A) Artuklular                      B) Mengücekliler  
C) Çaka Beyliği                      D) Danişmentliler  
E) Saltuklular
4. Fatih Sultan Mehmet, çıkarttığı Kanunname-i Ali Osman'da kardeş katli fermanı ile padişaha diğer kardeşlerini öldürme yetkisi vermiştir.
- Fatih Sultan Mehmet'in bu uygulamadaki amacının aşağıdakilerden hangisi olduğu savunulabilir?**
- A) İslam dünyasında birliği sağlamak  
B) Merkezi otoriteyi tek elde toplamak  
C) Akdeniz ticaretinde söz sahibi olmak  
D) Bizans'ın tekrar diriltilmesini önlemek  
E) Halifelik makamını Türklerin kontrolüne almak
5. Modernleşme, Osmanlı toplum hayatında evlerin mimarisinden sokakların fizikî görüntüsüne kadar kentin çehresinde köklü bir değişime neden olmuştur. Genellikle çift katlı ve bahçe içinde yapılan eski Osmanlı evleri, modernleşme sürecinde yerini giderek çok katlı apartmanlara bırakmıştır. Apartman yaşamı, ev içi yaşamdan çok, yerleşim bölgesinin sunduğu lüks hayat görüntüsüyle genç ve modern Osmanlı insanını cezbetmiştir. Şişli gibi apartmanlaşan yeni semtlerde yolların genişliği, temizliği, havagazının kullanımı ile sokakların aydınlığı, modern görünüşlü insanların ve aynı insanlara hitap eden alışveriş merkezlerinin konumlanması bu düşüncede etkin rol oynamıştır.
- Buna göre apartmanların tercih edilmeye başlanması modernleşmenin etkilediği aşağıdaki dönüşümlerin hangisi ile ilgilidir?**
- A) Şehirleşmenin sosyal yaşamı etkilemesi  
B) Dayanıklı yapı anlayışının ortaya çıkması  
C) Farklılıklarla bir arada yaşama isteği  
D) Çalışma hayatında yaşanan değişim  
E) Ucuz ve güvenli barınma isteği

6. XVI. ve XVII. yüzyıllarda Osmanlı Devleti ile Avrupa'da en fazla mücadele eden hanedanlık aşağıdakilerden hangisidir?

- A) Romanof Hanedanı
- B) York Hanedanı
- C) Hohenzollern Hanedanı
- D) Komnenos Hanedanı
- E) Habsburg Hanedanı

7. Mustafa Kemal, o aydından bahsederken: "Ben inkılap ruhunu ondan aldım." diye söz etmiş ve onun özgürlük, laiklik anlayışından esinlenmiştir.

**Bu parçada sözü edilen Mustafa Kemal'in düşünce ve fikir hayatı üzerinde önemli etkisi olan fikir adamı aşağıdakilerden hangisidir?**

- A) Yahya Kemal
- B) Tevfik Fikret
- C) Ziya Gökalp
- D) Mehmet Emin Yurdakul
- E) Reşat Nuri

8. Fransızların işgaline karşı koyarak, Antep şehrinde direnişi başlatan ve direniş sırasında şehit düşen Millî Mücadele kahramanı aşağıdakilerden hangisidir?

- A) Kılıç Ali Bey
- B) Sütçü İmam
- C) Şahin Bey
- D) Ali Saip Bey
- E) Kara Mehmet

9. Mondros Ateşkes Antlaşması'nın ardından İtilaf Devletleri'nin belli bölgeleri kendilerine göre işgal etmesi;

- I. işgal bölgelerinin önceden belirlendiği,
- II. anlaşma maddelerinin buna izin verdiği,
- III. işgalci güçler arasında görüş ayrılıkları yaşandığı,
- IV. işgallere karşı tedbir alınmadığı

**gibi durumlardan hangilerinin kanıtıdır?**

- A) Yalnız I
- B) Yalnız II
- C) Yalnız III
- D) I ve IV
- E) I, II ve IV

10. Misak-ı Milli'de yer alan;

- Mondros imzalandığı sırada Türk askerinin koruduğu yerler milli sınırlardır.
- Kars, Ardahan ve Batum'da halk oylaması yapılacaktır.
- İstanbul ve Boğazlar ticarete açılacaktır.
- Azınlıklara verilen haklar komşu ülkelerdeki Müslüman halklara verilenlerden fazla olamaz.
- Kapitülasyonlar kaldırılacaktır.

**gibi maddelere dayanılarak,**

- I. Millî sınırlar belirlenmiştir.
- II. Uluslararası eşitlik ilkesi belirtilmiştir.
- III. Manda ve himaye ile ilgili uygulamaların şartları tespit edilmiştir.
- IV. Ekonomi ile ilgili ilkeler belirlenmiştir.

**yargılarından hangisine ulaşamaz?**

- A) Yalnız I
- B) Yalnız II
- C) Yalnız III
- D) I ve IV
- E) I, II ve IV



## 11. İki Dünya Savaşı arasındaki dönemde;

- Ortak Refah Alanı
- Bizim Deniz
- Hayat Sahası
- Yatıştırma

politikaları aşağıdaki devletlerle eşleştirildiğinde hangisi dışarıda kalır?

- A) Çin
- B) Almanya
- C) İngiltere
- D) Japonya
- E) İtalya

## 12. İnsan faaliyetleri, canlıların yeryüzündeki dağılışında etkili olan unsurlar arasındadır.

Aşağıda verilen insan faaliyetlerinden hangisinde bu etki daha azdır?

- A) Enerji ihtiyacının fosil yakıtlardan karşılanması
- B) Ormanlık alanların tarım faaliyetlerine açılması
- C) Otoyol güzergâhlarının sulak alanlardan geçirilmesi
- D) Madencilik faaliyetinin kapalı maden ocaklarında yapılması
- E) Açık deniz balıkçılığında aşırı ve zamanından önce avlanma yapılması

## 13. Türkiye'de hayvancılık, tarım sektörü içinde önemli bir yere sahiptir. Tür ve ırklarına göre hayvan sayısı bakımından zengin bir ülke olan Türkiye'nin farklı bölgelerinde farklı hayvancılık faaliyetleri yapılmaktadır.

Bu faaliyetlerle ilgili olarak aşağıda verilenlerden hangisi yanlıştır?

- A) İç kesimlerde küçükbaş hayvan yetiştiriciliği daha yaygındır.
- B) Kümes hayvancılığı büyük şehirlerin etrafında yoğunlaşmıştır.
- C) Yaz yağışlarının fazla olduğu alanlarda sığır yetiştiriciliği yaygındır.
- D) Mera hayvancılığından elde edilen verim ahır hayvancılığından fazladır.
- E) Denizlerden elde edilen balığın bir kısmı kültür balıkçılığında karşılanmaktadır.

## 14. Ülkelerin bir araya gelerek çeşitli amaçlar doğrultusunda oluşturduğu örgütlerin bazıları belirli bir alanda faaliyetlerini yürütmekte olan bölgesel örgütlerdir.

Aşağıdakilerden hangisi bu örgütlere örnek gösterilebilir?

- A) Birleşmiş Milletler
- B) İslam İşbirliği Teşkilatı
- C) Bağımsız Devletler Topluluğu
- D) Petrol İhraç Eden Ülkeler Örgütü
- E) Ekonomik İşbirliği ve Kalkınma Örgütü

15. Çevre sorunlarının oluşmasını ve büyümesini engellemede, oluşturulan çözüm sürecinin toplumun geneline yayılmasında bireysel uygulamalar büyük önem taşımaktadır.

**Aşağıdakilerden hangisi bu uygulamalar arasında gösterilemez?**

- A) Enerjinin tasarruflu kullanılması  
B) Doğaya uygun teknolojilerin tercih edilmesi  
C) İhtiyaçlar dışında ürün tüketiminden kaçınılması  
D) Atıkların geri dönüşüm kutularına gruplarına uygun bırakılması  
E) Sanayi tesislerinin enerji nakil alanlarının uzağında inşa edilmesi

16. Enerji ve ham madde kaynağı olarak değerlendirilebilmesi, kullanımının çok çeşitli ve fazla olması petrolü stratejik bir kaynak hâline getirmiştir. Bu özellikleri sayesinde petrolün büyük rezervler hâlinde bulunduğu alanlar jeopolitik açıdan önem kazanmıştır.



**Haritada numaralandırılan yerlerden hangisinin jeopolitik önemi üzerinde bu kaynağın etkisi daha fazladır?**

- A) I B) II C) III D) IV E) V

17. Aşağıda iki farklı ülkenin nüfus özellikleriyle ilgili bazı bilgiler verilmiştir.

**K ülkesi:** Ortalama yaşam süresi uzun, toplam nüfus içindeki yaşlı nüfus oranının dünya geneline göre yüksek olduğu bir ülkedir. Bu durum nüfusun kendini yenileyememesi, iş gücü açığı gibi bazı sorunları beraberinde getirmiştir.

**L ülkesi:** Nüfus artış hızının yüksek ve genç nüfus oranının dünya geneline göre yüksek olduğu bir ülkedir. Bu durum ülkede doğal kaynakların hızla tükenmesi, işsizlik, kişi başına düşen millî gelirin azalması gibi bazı sorunları beraberinde getirmiştir.

**K ve L ülkelerinde nüfusa bağlı olarak yaşanan sorunların çözümünde aşağıdaki uygulamalardan hangisi daha etkili olacaktır?**

- A) K ülkesinin dışarıdan göç alması, L ülkesinin dışarıya göç vermesi  
B) K ülkesinde vergi gelirlerinin azaltılması, L ülkesinde artırılması  
C) K ülkesinde tarım sektörünün, L ülkesinde hizmet sektörünün geliştirilmesi  
D) K ülkesinde demografik yatırımların azaltılması, L ülkesinde artırılması  
E) K ülkesinde nüfus artış hızını yükseltici, L ülkesinde azaltıcı politika uygulanması

18. I. Denetlemenin zor olması  
II. Geniş pazara sahip olması  
III. Zaman tasarrufu sağlaması  
IV. Erişilebilirliğin alt yapı gerektirmesi

**Yukarıdakilerden hangileri günümüzde giderek yaygınlaşan elektronik ticaretin sağladığı avantajlar arasında gösterilebilir?**

- A) I ve II B) I ve III C) II ve III  
D) II ve IV E) III ve IV

19. Beşerî faaliyetler ile toprak ekosistemine ait fiziksel, kimyasal ve biyolojik dengenin bozulması sonucu toprak kirliliği oluşur.

**Aşağıdakilerden hangisi bu soruna yol açan etmenler arasında gösterilemez?**

- A) Tarımsal faaliyetler sonrasında oluşan anız örtüsü  
B) Zararlı ot ve böceklerle karşı kullanılan tarım ilaçları  
C) Tarlalarda verimi artırmak için kullanılan suni gübreler  
D) Nükleer denemeler sonucu ortaya çıkan radyoaktif maddeler  
E) Havaya karışan kimyasal gazların neden olduğu asit yağmurları

20. İklim değişikliği, gezegenimizin karşı karşıya olduğu en büyük tehditlerden biridir. Dünya ortalama sıcaklığının Sanayi Devrimi öncesine kıyasla 2 °C'den fazla yükselmesi durumunda uzun vadede çok büyük etkiler görülecektir. Yeryüzünün alçak kesimleri yükselen deniz seviyesinin altında kalarak tamamen yok olabilir. Dünyanın birçok bölgesinde herkese yetecek kadar içme suyu bulmak imkânsız hâle gelebilir.

**Bu durumun etkilerinin azaltılmasına yönelik alınacak tedbirler arasında aşağıdakilerden hangisi gösterilemez?**

- A) Fabrika bacalarına filtre takmak  
B) Termik santralleri yaygınlaştırmak  
C) Bireysel araç kullanımını azaltmak  
D) Etkili bir çevre politikası uygulamak  
E) Yenilenebilir kaynak kullanımını artırmak

21. Ekonomik faaliyetlerin merkezi durumunda bulunan şehirler, sunduğu farklı zenginlikler ile günümüzde olduğu gibi gelecekte de en gözde yerleşim merkezleri olacaktır. Özellikle teknolojinin ve hizmet sektörünün geliştiği bölgelerde şehirleşmenin daha yoğun olacağı tahmin edilmektedir.



**Haritada numaralandırılarak gösterilen yerlerden hangisinde benzer bir durumun yaşanması daha fazla beklenir?**

- A) I      B) II      C) III      D) IV      E) V

22. Dünyadaki önemli kuş göç yollarından ikisi Türkiye üzerinden geçmektedir. Kuşlar, ilkbaharda Türkiye'ye veya Türkiye üzerinden kuzeye; sonbaharda ise güneye doğru göç etmektedir. Bu göç esnasında Türkiye'ye uğrayan kuş türlerinden bazıları belli alanlarda konaklayıp göçmekte, bazıları kuluçkaya yatmakta, bazıları da kışı burada geçirmektedir.

**Bu durum üzerinde etkili olan temel faktör aşağıdakilerden hangisidir?**

- A) Yer şekilleri  
B) Coğrafi konum  
C) Yeraltı kaynakları  
D) Yükselti ortalaması  
E) Endemik bitki çeşitliliği

23. Sosyal bir varlık olan insanın düşünce tarihinin her döneminde tek başına tamamen özgür ve özgün olarak fikir ürettiği düşüncesi ne kadar doğru olabilir? İster bilimsel ister sanatsal isterse felsefi olsun ortaya çıkan ürünler tamamen bir kişiye, bir gruba ya da bir çağa ait olabilir mi? Hayır dediğinizi duyar gibiyim. Bu ürünler özellikleri çerçevesinde birbiri üzerinden yükselen nitelikte taşlar gibi kulelere dönüşür ve göğe doğru çıkarlar. Evet öncelikleri irdeleriz, sorgular gerekirse sınırsız fakat etkileniriz de.

**Bu parçada vurgulanan düşünce aşağıdakilerden hangisidir?**

- A) Yaratıcılığa dayanan her türlü edininin kümülatif olduğu
- B) Sorgulanmayan bilginin niteliğinden kuşku duyulması gerektiği
- C) İnsanın etkinliklerinin tamamen objektif olması gerektiği
- D) Olgusal olan etkinliklerin insan için daha değerli olduğu
- E) Fikirler dünyasının fenomenal dünyadan bağımsız olduğu

24. Gazâlî *El-Münkız Mine'd-Dalâl* adlı eserinde duyuların zihnin kavradığı şeyleri anlayamayacağını, zihnin de kalp gözünün erişebileceği şeyleri kavrayamayacağını savunmuştur. Ona göre Tanrı'nın insana verdiği gönül gözü ile hakikate ulaşılabilir.

**Bu parçada anlatılanlar bilginin kaynağı ile ilgili yaklaşımlardan hangisiyle açıklanır?**

- A) Akılcılık
- B) Deneyimcilik
- C) Eleştiricilik
- D) Olguculuk
- E) Sezgicilik

25. Kelime anlamı yeniden doğuş olan Rönesans, felsefi yanıyla da benzer bir özelliğe işaret etmektedir. 15-17. yüzyıl dönemi için kullanılan Rönesans felsefi eskiden kopuşu, yeniye yönelmeyi içermektedir. Kopuşun başladığı "eski" din eksenli Orta Çağ düşüncesidir. Kopuşu başlatan önemli unsurların başında da, Orta Çağ'da yapılan tercüme çalışmalarının neticesinde, Antik Yunan düşüncesinin akla önem veren tavrının yeniden yeşermesi olduğu söylenebilir. Bu durum, Rönesans'ın Antik Çağ felsefesinin devamı olduğu anlamına da gelmemektedir. Çünkü 15-17. yüzyılda felsefi sistemler ve görüşler bir dönüşüm geçirmeye başlamıştır ancak bu aydınlanmaya giden yolda bir hazırlık süreci olarak değerlendirilmelidir.

**Bu parçadan Rönesans felsefesi ile ilgili aşağıdaki yargıların hangisine ulaşılamaz?**

- A) Dini otoritelere bir başkaldırı söz konusudur.
- B) Rasyonel düşünceye verilen değer artmıştır.
- C) Bir geçiş süreci olarak değerlendirilir.
- D) Ortaya çıkışında çeviri faaliyetleri etkili olmuştur.
- E) Teoloji felsefe üzerindeki egemenliğini artırmıştır.

26. Gelişim, organizmanın döllenmeden başlayarak bedensel, zihinsel, duygusal, sosyal yönden sistemli olarak büyümesi, değişmesi ve istenilen görevleri yerine getirebilecek düzeye gelmesidir. Gelişim, organizmanın belli bir düzen içinde kalıcı olarak gösterdiği değişimleri kapsar.

**Buna göre gelişim için aşağıdakilerden hangisi söylenemez?**

- A) Kalıtım ve çevre etkileşiminin bir ürünüdür.
- B) Sürekli ve belli aşamalarda gerçekleşir.
- C) Her bireyde aynı şekilde gerçekleşir.
- D) Belli fonksiyonların yerine getirilmesidir.
- E) Gelişim bir bütündür.

27. Psikoloğuyla yaptığı görüşme sırasında çocukluk döneminden kalma korkularıyla yüzleşen bir kişi ailesine, bilinçaltında gizli kalan izlerin etkilerinden kurtulabilmesi için psikoloğunun hipnoz yöntemine başvuracağını anlatır.

**Parçadaki örnekte psikolog aşağıdaki ekollerden hangisine göre hareket etmektedir?**

- A) Davranışçı Yaklaşım
- B) Hümanistik Yaklaşım
- C) Bilişsel Yaklaşım
- D) İşlevselci Yaklaşım
- E) Psikanalitik Yaklaşım

28. Bir kimsenin alacakaranlıkta halının üzerindeki ipi yılan gibi görmesi yanılısamaya, boş duvarda fillerin yürüdüğünü görmesi sanrıya örnektir.

**Buna göre yanılısama ve sanrı arasındaki fark uyarıcının hangi özelliğine ilişkindir?**

- A) Şiddetine
- B) Gerçekliğine
- C) Karmaşıklığına
- D) Konumuna
- E) Dikkat çekmesine

29. Sosyalleşme yaşam boyu devam eden bir süreçtir. Bireylerin yaşam boyu geçirdiği biyolojik ve fizyolojik değişimler, yeni beceri ve özelliklerin kazanılmasını da mümkün kılar. Birey sosyal yaşama uygun davranışları, normları ve değerleri sosyalleşme aracılığıyla edinir. Sosyalleşme sürecinin birbirini takip eden dört döneminden söz edilir. Bunlar; çocukluk, gençlik, yetişkinlik ve yaşlılık dönemleridir. Bu dört dönemde de bireyler aile, arkadaş grupları, okul ortamı ve kit- le iletişim araçları vb. unsurların etkisiyle toplumsal yaşama adapte olur ve toplumsallaşırlar. Örneğin bir çocuk sosyal normları daha çok aile bireylerinden ve birlikte oyun oynadığı diğer çocuklardan öğrenip bu sayede sosyalleşirken; bir yetişkinin sosyalleşmesi daha çok çalışma ortamı ve arkadaşları ya da ailevi ilişkileri yoluyla olur.

**Buna göre verilen ifadelerden hangisi sosyalleşme için söylendiğinde yanlış olur?**

- A) Birey, toplumun sosyokültürel yapısına uygun olarak temel davranış kalıplarını öğrenir.
- B) Oyun grupları çocuklara toplumsal kurallara uymayı ve uyumlu hareket etmeyi öğretir.
- C) Yaşlılık dönemi sosyalleşmenin tamamlandığı dönemdir.
- D) Sosyalleşme, insanı sosyal sistemin bir üyesi hâline getirir.
- E) Yetişkinlik döneminde iş ve aile yaşantısı sosyalleşmede etkili olur.

30. Toplumu oluşturan bireyler ekonomik, sosyal, kültürel ve siyasal yönden farklılıkları olan katmanlarda bulunabilirler. Bu durum toplumsal yapıda farklı tabakalaşma türlerinin ortaya çıkmasına neden olabilir. Toplumlar var olduğu görülen tabakalaşma türleri değişmez değildir ve tüm toplumlar aynı şekilde görülmemektedir. Zamana ve topluma göre farklı şekillerde oluşabilirler. İnsanlar bu tabakalaşma türlerinde gelir, eğitim, yaş, cinsiyet, din, etnik köken gibi faktörlere göre bir anlamda derecelendirilir ya da rütbelendirilir.

**Buna göre tabakalaşma ile ilgili olarak;**

- I. Farklı biçimlerde ortaya çıkabileceği
- II. Hiyerarşik bir yapı niteliği gösterdiği
- III. Statik bir niteliğe sahip olduğu

**özelliklerinden hangilerine ulaşamaz?**

- A) Yalnız I      B) Yalnız II      C) Yalnız III  
D) I ve II      E) II ve III

31. Toplumsal olaylar toplum içinde meydana gelen yeri ve zamanı belli tek değişimlerdir. Toplumsal olgu ise bu değişimlerin tekrarlanması sonucu oluşan zamandan ve mekândan bağımsız genel ve soyut durumları karşılayan kavramlardır.

**Buna göre hangi seçenekte toplumsal olay ve olgu sırasıyla verilmiştir?**

- A) Göç - Kavimler Göçü  
B) Savaş - Kurtuluş Savaşı  
C) Evlilik - Ayşe'nin düğünü  
D) Fransız İhtilali - İhtilal  
E) Seçim - 2019 mahalli idareler seçimi

32. Bir objenin zihindeki tasarımı kavramdır. Kavramlar soyutlama ve genelleme yoluyla bilinirler. Soyutlama o kavramı diğerlerinden ayırıcı özellikleri ile, genelleme ise benzer özellikleri ile tasarlamaktır.

**Buna göre verilen özelliklerden hangisi "Kedi" kavramının soyutlama yoluyla tasarlanmasıdır?**

- A) Dört ayaklı olması  
B) Kuyruğunun olması  
C) Süt içmeyi sevmesi  
D) Miyavlaması  
E) Renkli gözlü olması

33. Kaplam bir kavramın kapsadığı, işaret ettiği varlıkların tümüdür. Bu varlıkların ortak özelliklerine işlem adı verilir. İşlem ile kaplam ters orantılıdır. Bir kavramın işlemi arttıkça kaplamı, kaplamı arttıkça işlemi azalır.

**Buna göre aşağıdaki kavramlardan hangisinin kaplamı en fazladır?**

- A) Ağaç      B) Canlı      C) Cansız  
D) Taş      E) Varlık

34. Aşağıdaki önermelerden hangisinin sembolleştirilmesinde tikel evetleme eklemi kullanılır?

- A) Aynı zamanda hem kitap okuyup hem de konuşmak mümkün değildir.  
B) Doğru veya yanlış değer almayan cümleler önerme değildir.  
C) Toplumlar ancak ve ancak bilimsel gelişmeler desteklenirse ilerleyebilir.  
D) Psikoloji insan davranışlarının yanında hayvan davranışlarını da konu edinir.  
E) Ekonomik denge sağlanırsa toplum refaha ulaşır.

**35 - 40. soruları Din Kültürü ve Ahlak Bilgisi dersini yasal olarak almak zorunda olanlar ve İmam Hatip Okulları öğrencileri/mezunları cevaplayacaktır.**

35. İnsanın dış dünyayı tanıma ve algılama faaliyeti sonucunda elde ettiği ürüne bilgi adı verilir. Çok farklı bilgi türü vardır ve bunların hepsi de özne ile nesne arasında kurulan bağ sonucunda ortaya çıkmaktadır. Ancak kurulan bağ bilginin türüne göre değişkenlik göstermektedir.

**Buna göre aşağıdakilerden hangisinde bilginin türleri ile kurulan bağ yanlış olarak verilmiştir?**

- A) Teknik bilgi: Yetenek ve beceri  
 B) Sanatsal bilgi: Hayal gücü ve sezgi  
 C) Bilimsel Bilgi: Sezgi ve deneyim  
 D) Felsefi bilgi: Akıl yürütme ve çıkarım  
 E) Dini bilgi: İnanç ve vahiy

36. (I) Ekmel varlık delili, sadece İslam dünyasında ortaya konulmuş bir delildir. (II) Farabi ve İbni Sina, İslam dünyasındaki temsilcileridir. (III) Bu delille göre, insanın zihninde mükemmel varlık düşüncesi vardır. Bu düşüncüyü insan kendisi üretmiş olamaz. Bu düşüncenin üretilebilmesi için böyle bir varlığın mutlaka olması gerekir. (IV) Ayrıca zihnin dışında da böyle bir varlık olmasaydı eksik olurdu ve mükemmellikten söz edilemezdi. (V) İnsan zihninin dışında da böyle bir varlık vardır ve bu düşüncüyü insan zihnine yerleştiren kendisi mükemmel olan varlıktır.

**Bu metinde hangi cümlelerde bilgi yanlış yapılmıştır?**

- A) I B) II C) III D) IV E) V

37. “Nerede olursanız olun, sağlam ve tahkim edilmiş kaleler içinde bulunsanız bile ölüm size ulaşacaktır...” (Nisâ suresi, 78. ayet.)

**Bu ayet ölümle ilgili aşağıdaki atasözlerinden hangisi ile ilişkilendirilebilir?**

- A) Ağaca dayanma kurur, insana dayanma ölür.  
 B) Etme bulursun, inleye inleye ölürsün.  
 C) Yatan ölmez, yeten ölür.  
 D) Gelin girmedik ev olur, ölüm girmedik ev olmaz.  
 E) At ölür nalı kalır, yiğit ölür namı kalır.

38. İslam medeniyeti bilimsel bir sürecin sonucunda oluşmuştur.

**Bu medeniyetle ilgili;**

- I. Müslümanlar 10. yüzyılda tüm bilim dallarında eserler vermişlerdir.  
 II. Tercüme faaliyetlerinin yanında matematik, astronomi, haritacılık, coğrafya, fizik, kimya, tıp, zooloji, botanik, biyoloji ve benzeri bilim dallarında da yeni buluşlarla insanlığa katkıda bulunulmuştur.  
 III. Müslümanların ilimdeki egemenliği 20. yüzyıla kadar devam etmiştir.

**yargılardan hangisi doğrudur?**

- A) Yalnız I B) I ve II C) I ve III  
 D) II ve III E) I, II ve III

39. Din, Allah (c.c.) tarafından peygamberler aracılığı ile insanlara gönderilen ilahi kurallardır. Bu kurallar, Allah (c.c.) ile insanlar arasındaki ilişkileri düzenler. Bu sebeple din kavramı hem ulûhiyeti hem de ubudiyeti ifade eder.

**Aşağıdaki ayetlerden hangisi dinin farklı bir yönüne ait bilgiler içermektedir?**

- A) “Allah katında hak din İslâm’dır...” (Âli İmran suresi, 19. ayet.)
- B) “Hâlbuki onlara, ancak dini Allah’a has kılarak, hakka yönelen kimseler olarak O’na kulluk etmeleri, namazı kılmaları ve zekâtı vermeleri emredilmişti. İşte bu dosdoğru dindir.” (Beyyine suresi, 5. ayet.)
- C) “Kim İslam’dan başka bir din ararsa, (bilsin ki o din) kabul edilmeyecek ve o ahirette hüsrana uğrayanlardan olacaktır.” (Âli İmran suresi, 85. ayet.)
- D) “O gün, Allah onlara kesinleşmiş cezalarını verecektir. Allah’ın apaçık hak olduğunu bileceklerdir.” (Nur suresi, 25. ayet.)
- E) “...Bugün sizin için dininizi kemale erdirdim. Size nimetimi tamamladım ve sizin için din olarak İslâm’ı seçtim...” (Mâide suresi, 3. ayet.)

40. “İbrahim ne Yahudi ne de Hristiyan’dı. Fakat o, hanif bir Müslümandı. Allah’a ortak koşanlardan da değildi.” (Ali İmran Suresi, 67. ayet.)

**Bu ayetteki altı çizili kavramla ilgili;**

- I. Allah’a tam manasıyla yönelmeyi ifade eder.  
 II. Tek Allah inancını hatırlatır.  
 III. Tüm peygamberler bu inanca sahiptir.

**İfadelerden hangisi söylenebilir?**

- A) Yalnız I                      B) I ve II                      C) I ve III  
 D) II ve III                      E) I, II ve III



**41 - 46. soruları Din Kültürü ve Ahlak Bilgisi dersini yasal olarak almak zorunda olmayan veya farklı müfredat ile alanlar cevaplayacaktır.**

41. Sartre için insan, varlığı gerçekleşmemiş bir potansi-yeldir. Oysa masa bütünüyle gerçekleşmiş bir şeydir; geleceği yoktur veya her ne ise o olma olgusuyla belirlenmiştir. İnsan ise belirlenmemiş olup kendisindeki boşluğu istediği şekilde doldurmak bakımından tamamen özgürdür; nasıl olmak istiyorsa öyle olacaktır.

**Sartre'in bu parçadaki insan ile ilgili görüşlerinden aşağıdaki yargılardan hangisine ulaşamaz?**

- A) Özgür bir varlıktır.
- B) Olanaklar varlığıdır.
- C) Önce var olur, sonra özünü yaratır.
- D) Doğası değişmez bir yapıya sahiptir.
- E) Kendi yolunu kendi seçen bir varlıktır.

42. Hayat buldu güzelliğin  
Ellerimde ve kalbimde  
Yansıttığın nedir ki  
Ruhumun gördüğüdür  
İmzasıdır tuvalime

**Bu şiirde estetiğin temel kavramlarından hangisinin önemini vurgulamıştır?**

- A) Estetik süje
- B) Estetik obje
- C) Estetik değer
- D) Estetik haz
- E) Estetik yargı

43. Psikoloji insan doğasını anlamaya ve açıklamaya çalışan pozitif bir bilimdir. İnsanı her yönden ele alıp inceleyen bu bilime, çağın koşullarına göre insan davranışlarını etkileyen yeni konular dahil olmaktadır.

**Buna göre aşağıdakilerden hangisi psikoloji biliminin cevap aradığı bir soru değildir?**

- A) Sosyal medyanın insan davranışı üzerindeki etkileri nelerdir?
- B) Bir iş yerinde çalışanların verimliliğini arttırmak için neler yapılabilir?
- C) Toplumsal sapmayı meydana getiren etkenler nelerdir?
- D) Gruplar bireylerin davranışını nasıl etkiler?
- E) Unutmaya neden olan faktörler nelerdir?

44. Toplumsal yapı maddi ve manevi unsurları içinde barındıran, toplumu oluşturan bütün bireylerin ve grupların, toplumu düzenleyen kurum ve bu kurumlar arası ilişkilerin tamamını kapsayan bir kavramdır.

**Buna göre bir ülkede meydana gelen;**

- I. ekonomik kalkınma
- II. yeni bir anayasanın kabulü
- III. geniş ailenin yerini çekirdek ailenin alması
- IV. akrabalık bağlarının zayıflaması

**durumlarından hangilerinin toplumsal yapı üzerinde etkili olduğu söylenebilir?**

- A) Yalnız I
- B) I ve II
- C) I, II ve IV
- D) II, III ve IV
- E) I, II, III ve IV

45. Toplumdaki gruplar, kurumlar, sınıflar, örgütler ve ilişkiler gibi toplumsal yapının çeşitli öğelerinin birbirini tamamlayabilme durumuna ve sürecine toplumsal bütünleşme denir. Toplumsal bütünleşme, toplumsal yapının çeşitli öğeleri arasındaki uyum sürecidir. Toplumsal bütünleşmenin amacı; toplumun varlığının, birliğinin ve işleyişinin sürdürülmesidir. Toplumu bir arada tutan ve onun bütün olmasını sağlayan bağlar bazen zayıflayabilmekte hatta kopabilmektedir. Bu süreç toplumsal çözülme olarak ifade edilmektedir.

**Buna göre aşağıdakilerden hangisi toplumsal çözülmenin nedenleri arasında yer almaz?**

- A) Toplumsal tabakalar arasında eşitsizliğin derinleşmesi
- B) İnsan hak ve özgürlüklerinin kısıtlanmaması
- C) Ekonomik, siyasi ve mesleki örgütlenmelerin zayıflaması
- D) Siyasi kurumların demokratik işleyişinin sağlanamaması
- E) Birey ve gruplarda toplumun parçası olma bilincinin zayıflaması

46. İki kavramdan her biri diğerinin bazı fertlerini içine alırsa aralarında eksik girişimlik ilişkisi vardır.

**Buna göre aşağıdaki kavramların hangisinde eksik girişimlik ilişkisi vardır?**

- A) Kuş - Papağan
- B) İnsan - Düşünen
- C) Altın - Gümüş
- D) Kadın - Sporcu
- E) Kanatlı - Kelebek



# Kendini Deęerlendir



1

*Kare kodu okut.*

2

*Sınavını seę*

3

*Cevaplarını sisteme gir.*

4

*Eksik olduęun konuları analiz et.*

5

*Bu sınava katılanlar arasındaki sıralamanı gör.*



T.C. MİLLÎ EĞİTİM  
BAKANLIĞI

3 ADIM

DENEME SINAVLARI

1. ADIM

AYT  
sözel

2. DENEME



ADI VE SOYADI

OKUL ADI

ADAYIN İMZASI

**ADAYIN DİKKATİNE!**

1. Bu sınavda AYT soru dağılımları dikkate alınmıştır.
2. Deneme tam kapsam olup YKS konularının tamamını kapsamaktadır.
3. Bu sınav Türk Dili ve Edebiyatı - Sosyal Bilimler 1 Testi (TDE 24 soru, Tarih 10 soru, Coğrafya 6 soru) 40 soru, Sosyal Bilimler 2 Testi (Tarih 11 soru, Coğrafya 11 soru, Felsefe Grubu 12 soru, DKAB 6 soru ) 40 soru olmak üzere toplamda 80 soru içermektedir.

Bu testlerin her hakkı saklıdır. Hangi amaçla olursa olsun, testlerin tamamının veya bir kısmının Millî Eğitim Bakanlığının yazılı izni olmadan kopya edilmesi, fotoğrafının çekilmesi, herhangi bir yolla çoğaltılması, yayımlanması ya da kullanılması yasaktır. Bu yasağa uymayanlar gerekli cezai sorumluluğu ve testlerin hazırlanmasındaki mali külfeti peşinen kabullenmiş sayılır.

### **DİKKAT!**

Din Kültürü ve Ahlak Bilgisi dersini yasal olarak almak zorunda olan adaylar ve İmam Hatip Okulları öğrencileri/mezunları, Sosyal Bilimler-2 Testi'nin ilk 40 sorusunu cevaplamakla yükümlüdür. Bu adaylar, bu testin 41-46. sorularını cevaplamayacaklardır. Bu adaylar, bu testin 41-46. sorularında işaretleme yapmış olsalar bile bu cevapları değerlendirmeye alınmayacaktır.

Din Kültürü ve Ahlak Bilgisi dersini yasal olarak almak zorunda olmayan veya farklı müfredat ile alan adaylar, Sosyal Bilimler-2 Testi'nin 35-40. sorularını cevaplamadan 41-46. sorularını cevaplayacaklardır. Bu adaylar, bu testin 35-40. sorularında işaretleme yapmış olsalar bile bu cevapları değerlendirmeye alınmayacaktır.

### **AÇIKLAMA**

1. Bu kitapçıkta **86 soru** bulunmaktadır.  
Türk Dili ve Edebiyatı-Sosyal Bilimler-1 Testi: 40 soru  
Sosyal Bilimler-2 Testi: 46 soru
2. **Bu sınavda her testteki doğru cevaplarınızın sayısından yanlış cevaplarınızın sayısının dörtte biri çıkarılacak ve kalan sayı o bölüme ilgili ham puanınız olacaktır.**
3. Kitapçığın sayfalarındaki boş yerleri müsvedde için kullanabilirsiniz.
4. Cevaplamaya istediğiniz sorudan başlayabilirsiniz. Bir soru ile ilgili cevabınızı cevap kâğıdında o soru için ayrılmış olan yere işaretleme yapmayınız.
5. Bu kitapçıkta yer alan her sorunun sadece bir doğru cevabı vardır. Cevap kâğıdında bir soru için birden çok cevap yeri işaretlenmişse o soru yanlış cevaplanmış sayılacaktır. İşaretlediğiniz bir cevabı değiştirmek istediğinizde silme işlemini çok iyi yapmanız gerektiğini unutmayınız.

1. Bu testte sırasıyla, Türk Dili ve Edebiyatı (1-24), Tarih-1 (25-34), Coğrafya-1 (35-40) alanlarına ait toplam 40 soru vardır.
2. Cevaplarınızı cevap kâğıdının Türk Dili ve Edebiyatı-Sosyal Bilimler-1 Testi için ayrılan kısmına işaretleyiniz.

1. Sait Faik, “düşünce ve duyularını, kendi kurallarını geliştiren yeni bir sanatçı olarak başıboş ve özgür yaşama tutkularını anlamayan, buna karşı olan bir çevrede” yetişmiştir. Onun aile çevresi ve öteki çevrelerle tam, düzenli, doyurucu ve destekleyici bir anlaşma içinde olduğu söylenemez. İlk hikâyelerinden başlayarak bütün eserlerinin artistçe kendi üslubunda bir yaşamı yadığıyanlarla çatışmalarının aynası olduğu görülür. Bu soy bir çatışmanın olmadığı yerde de çağının sanatının ve yerleşmiş sanat ölçülerini aşan bir yeni ve güçlü sanat eserinin yeşeremeyeceği de açıktır. Böylece onda edebiyatı özentilerden romantik ucuzluklardan kurtarmak, bir başka kata yükseltmek isteyen davranışın varlığı daha ilk adımlarında belli olmaktadır.

**Bu parçada altı çizili sözle anlatılmak istenen aşağıdakilerden hangisidir?**

- A) Bencilce bir hayat anlayışı benimseme  
B) Olduğundan farklı bir yaşam sürme  
C) Kendine göre bir yaşam şekli geliştirme  
D) Toplumsal kurallara aykırı bir yaşam oluşturma  
E) Hayatı oyun gibi algılayıp yaşama

2. Yaratıcı yazarlar, yapıtlarının dünyaya verilmiş benzersiz yanıtlar olması için büyük bir çaba harcarken bir yapıtın neden benzersiz olduğunu görmeleri için ona bir başkasının ışığını düşümleri gerekir ki bu durum onlar için oldukça zorlayıcıdır.

**Bu cümleye göre yaratıcı yazarların işini zorlaştıran, aşağıdakilerden hangisidir?**

- A) Gerçek ve hayal gücünün çatışması  
B) Başka yapıtlara duyulan hayranlığı  
C) Etkilenme endişesi ve özgünlük arayışı  
D) Kendini aşma ve yenileme arzusu  
E) Takdir edilme ve dikkat çekme kaygısı

3. Kader anlamına gelen “fado”, Portekiz’de yaşayan azınlık topluluklardan olan Romanların halk müziğidir. Bu şarkılarda, özlenen bir şeye ya da kimseye hiçbir zaman kavuşulamayacağı duygusu hâkimdir. Fadonun balıkçı, kâşif ya da denizci olan sevgililerini, eşlerini denize uğurlayan ve onların geri dönmelerini umutla bekleyen kadınların artık beklenen yakınlarının geri gelmemesi üzerine denize karşı yaktıkları ağıtlardan doğduğuna inanılmaktadır. İspanya’nın flamenkosu, Arjantin’in tangosu gibi Portekiz’in fadosu da şiir diliyle zenginleşmiştir. Portekiz’in önemli ozanlarının türün anlatsal gücüne verdiği katkı büyüktür. Klasik fado bir Portekiz gitar ve bir klasik gitar eşliğinde tek bir şarkıcının performansı ile icra edilmektedir. Modern fadonun ise yaylı çalgılar dördüsünden tüm bir orkestraya kadar çeşitli uygulamaları mevcuttur.

**Bu parçaya göre “fado” ile ilgili aşağıdakilerden hangisine değinilmemiştir?**

- A) Acı duyguları dile getirdiğine  
B) Etnik bir kökene dayandığına  
C) Farklı biçimlerde icra edildiğine  
D) Şairlerin katkıda bulunduğuna  
E) Dünyaya Portekiz’den yayıldığına

4. Ünlü ressamlar dendiğinde akla gelen ilk isimlerden bir tanesidir: Pablo Picasso. Hayatını eser üreterek geçiren Picasso, seramik ve çömlekçilik alanında da yaratıcı çalışmalar yapmıştır. Bu başarısının sırrını "Her zaman yapamadığım şeyi yapıyorum, onun nasıl yapılacağını öğrenmem için." sözleriyle ifade etmiştir. Bir sezonda en çok gol atma rekoruna sahip Messi gibi, üçlük sayılarıyla efsaneleşen Michael Jordan gibi, saatte ortalama 37,58 km hızla koşabilen Usain Bolt gibi kariyerinde en iyi olmanın yolu bu sözü rehber edinebilmekten geçmektedir.

**Bu parçada anlatılmak istenen aşağıdakilerin hangisidir?**

- A) Kariyerinde ilerlemek için kendinden önceki başarılı insanları takip etmelisin.
- B) Başarılı olabilmek için cesur olup yaptığın işin sınırlarını zorlamalısın.
- C) Hayatın her aşamasında çok çalışarak gerçek başarıya ulaşabilirsin.
- D) İşinin en iyisi olmak istiyorsan rakiplerinden her zaman bir adım önde olmalısın.
- E) Bir işte başarılı olmak istiyorsan başarısız denemeleri yinelemekten kaçınmalısın.

5. Geçmişten günümüze her türlü siyasi, toplumsal, kültürel, askerî, ekonomik vb. olayın getirmiş olduğu ortamlarla birlikte bazı düşünce ve sanat insanları bir araya gelerek ortak bir sanat ve düşünce sistemi (edebî akımlar) geliştirmiştir. Sanatçıların bir araya gelip oluşturdukları ortak düşüncelerin temelinde de hümanizm ve Rönesans vardır. Daha çok felsefi bir düşünceden hareketle oluşturulan bu ortak sanat görüşleri edebiyat, müzik, mimari, resim gibi birçok güzel sanatın ilkelerinin yeniden belirlenmesini sağlamıştır. Buradan da anlayabildiğimiz gibi edebî akımları sadece edebiyat bünyesinde değerlendirmemek doğru olacaktır çünkü sanat akımları resim, müzik, mimari gibi birçok sanatı etkilemiş ve şekillendirmiştir. Özellikle Fransa'da filizlenen edebî akımlar, kendilerinden önceki akımlara bir tepki olarak doğmuştur. Hümanizm ve Rönesans ile ortak düşünce etrafında toplanma anlayışının güçlenmesiyle birlikte Batı dünyasında "kласisizm, romantizm, realizm, natüralizm, parnasizm, sembolizm" gibi edebî akımlar oluşmuştur.

**Bu parçadan hareketle aşağıdakilerden hangisine ulaşılabilir?**

- A) Edebiyat denince edebî akımlar akla gelir çünkü edebiyat ona hayat ve şekil verendir.
- B) Edebî akımlar sadece edebiyatı değil resim, müzik, mimari gibi birçok sanatı etkilemiştir.
- C) Edebî akımlar hümanizm ve Rönesans'tan ibarettir.
- D) Resim, müzik, mimari sanat alanları edebî akımlardan en çok etkilenenlerdir.
- E) Edebî akımlar sanatsal ve bilimsel tüm dalları etkilemiştir.



6. Yaşar Kemal'in ülkesi, her zaman bir medeniyetler kavşağı olmuş ve olmaya devam etmektedir. Yaşar Kemal yazdığı kırktan fazla cilt oluşturan romanlarında, hikâyelerinde, röportajlarında ve etnografya yazılarında bu kültürel hazineden hem somut olarak hem sembolik olarak istifade eder. Bu yerel kültürel gerçekler tek başına, tepeden tırnağa kendi kişisel mekânıyla dolu olan bir yazara ilgi duymamızı sağlar fakat böyle bir kültürel arka planın zenginliklerini dünya edebiyatının büyük bir yazarının kaynağı olan sembolik bir derin kavrayışla birleştirdiğimizde, o zaman onun eserleri -günümüzün aşırı kullanılan terminolojisiyle söylersek- gerçek anlamda küresel olur. Yaşar Kemal'in eserleri, insanlığın sürekli karşı karşıya olduğu varoluşsal sorularla doludur -bizi en nihayetinde kazanılamayacak fakat yapılması gereken mücadelelere girmeye iten, insan olmanın ne anlama geldiğine dair sorular- sanatçı, en büyük kaynaklarımız olan insan imgelemi ve onu ifade eden dil gibi insani kaynaklarımızın farkına varmamızı sağlar.

**Bu parçada Yaşar Kemal ile ilgili aşağıdakilerin hangisine değinilmemiştir?**

- A) Eserlerinde sanattı bir dil kullandığına
- B) Evrensel bir yazını olduğuna
- C) Değişik türlerde eserler yazdığına
- D) Eserlerinde kültürel değerlere yer verdiğiğine
- E) Eserlerinde varoluşsal sorular bulunduğuna

7. Desem ki vakitlerden bir Nisan akşamıdır,  
Rüzgârların en ferahlatıcısı senden esiyor,  
Senden seyrediyorum denizlerin en mavisini,  
Ormanların en kuytusunu sende gezmekteyim,  
Senden kopardım çiçeklerin en solmazını,  
Toprakların en bereketlisini sende sürdürdüm,  
Senden tattım yemişlerin cümlesini.

**Bu şiir, içerik açısından aşağıdaki şiir türlerinden hangisine örnek verilebilir?**

- A) Epik
- B) Satirik
- C) Lirik
- D) Didaktik
- E) Pastoral

8. İnme turnam inme haber sorayım  
Kanadın altına nâme sarayım  
Nazlı sevdiğimden haber alayım

Katar katar olmuş gelir, turnalar  
Eğrim eğrim ne hoş gelir, turnalar

**Bu şiirle ilgili aşağıdakilerin hangisi söylene-  
mez?**

- A) 11'li hece ölçüsüyle yazıldığı
- B) Lirik şiire örnek olduğu
- C) Düz kafiye düzeninde olduğu
- D) Teşbih sanatından yararlandığı
- E) Redife yer verildiği

9. Cânâne cefâ kılrsa nola cânâ safâdur  
Agyâr elemin çekdügümüz yâ ne belâdur
- Bu beytin ilk dizesindeki edebî sanat aşağıdaki-  
lerden hangisidir?**
- A) Telmih  
B) Teşbih  
C) Hüsnüalil  
D) Tezat  
E) Teşhis

10. (I) İslamiyet öncesi Türk edebiyatında sav, sagu, koşuk ve destan örnekleri verilmiştir. (II) Ölçü olarak hece ölçüsü kullanılmıştır. (III) Bu dönemde yabancı sözcüklere pek rastlanmaz. (IV) Aşk, doğa güzelliği, kahramanlık ve ölüm konularına yer verilmiştir. (V) Bu dönem ürünlerini kopuz eşliğinde çalıp söyleyen kişilere şair adı verildi.

**Numaralanmış cümlelerin hangisinde bir bilgi yanlışı vardır?**

- A) I B) II C) III D) IV E) V

11. I. *Göktürk Yazıtları* • Nazım biçimi mesnevidir, alegorik anlatım içerir.
- II. Halk hikâyeleri • Nutuk özelliği taşıyan ilk eserdir.
- III. Koşuk • Anonim olup nazım-nesir şeklinde oluşturulmuştur.
- IV. *Kutadgu Bilig* • Kopuz eşliğinde söylenen şairdir.
- V. *Genç Osman Destanı*

**Numaralanmış eser adları ile özellikleri eşleştirildiğinde hangisi dışta kalır?**

- A) I B) II C) III D) IV E) V

12. (I) Yunus Emre, XIII. yüzyılda Anadolu'da yaşamıştır. (II) Türkçe şiirin öncüsü olan ünlü tasavvuf ve halk şairidir. (III) Keskin bir gözlem gücü, derin bir hoşgörü anlayışına sahiptir. (IV) Şiirlerinde sadece hece ölçüsünü kullanmıştır. (V) *Dîvân ve Risâletü'n-Nushiyye* adlı iki eseri bulunmaktadır.

**Bu parçada numaralanmış cümlelerin hangisinde bir bilgi yanlışı vardır?**

- A) I B) II C) III D) IV E) V

13. İy özin insan bilen  
Var edeb öğren edeb  
İy edeb erkân bilen  
Var edeb öğren edeb

**Bu dördlüğün nazım türü aşağıdakilerden hangisidir?**

- A) İlahi B) Devriye C) Şathiye  
D) Nefes E) Nutuk

14. **Aşağıdaki açıklamalardan hangisi parantez ( ) içinde verilen terimle uyuşmamaktadır?**

- A) Halk şiirinde âşıkların genellikle son dörtlükte mahlasını söylemesine denir. (Tapşırma)
- B) Düz mâninin sonuna aynı kafiyede iki dize daha eklenerek söylenen mânilere denir. (Yedekli mâni)
- C) Türkülerde tekrarlanan bölümlere denir. (Kavuştak)
- D) Saz şairlerinin şiirlerini derledikleri uzunlamasına açılan deri kaplı deftere denir. (Divan)
- E) Doğa ve aşk konusunun coşkuyla işlendiği halk şiiri nazım türüdür. (Güzelleme)

15. Edirne'de doğan sanatçı, hayatını Bursa'da geçirmiştir. Şiirlerinden iyi bir medrese eğitimi aldığı, Arapça ve Farsçanın yanında devrin geçerli ilimlerini öğrendiği anlaşılmaktadır. O, XV. yüzyılda Osmanlı şiirini tesiri altına alan ve divan şiirinin gelişmesinde önemli rol oynayan büyük ve tanınmış şairlerden biridir. Dizeleri divan şiirinin söz ve anlam özellikleriyle örülüdür. İşlediği konular genellikle din dışı olup beşerî aşk konusundaki şiirler de *Divan'* ında önemli yer tutmaktadır. Dinî ve tasavvufî konulara rağbet göstermeyen şairin Fatih Sultan Mehmet'e sunduğu "kerem" ve "güneş" redifli kasidesi en bilinen şiirlerindedir.

**Bu parçada söz edilen şair aşağıdakilerden hangisidir?**

- A) Şeyhî                      B) Ahmet Paşa      C) Nâbî  
D) Ahmet-i Daî      E) Fuzûlî

16. Meded meded bu cihânûn yıkıldı bir yanı  
Ecel Celâlîleri aldı Mustafâ Han'ı

Tutundı mihr-i Cemâlî, bozuldu dîvânı  
Vebâle koydılar âl ile Âl-i Osmânı

Geçerler idi geçende o merd-i meydânı  
Felek o canibe döndürdü şâh-ı devrânı

Yalancının kuru bühtânı buğz-ı pinhânı  
Akıttı yaşumızı yaktı nâr-ı hicrânı

Cinayet itmedi cânî gibi anun cânı  
Boğuldu seyl-i belâya, tagıldı erkânı

**İçerik özellikleri dikkate alındığında bu beyitlerin aşağıdaki türlerden hangisine ait olduğu söylenebilir?**

- A) Münacat                      B) Naat                      C) Methiye  
D) Mersiye                      E) Tevhit

17. Bir beyanname ile kuruluşunu deklare eden ilk edebî topluluktur. Sanatı şahsi ve muhterem olarak kabul ederler. Şiirde aşk ve tabiat temalarını önceleyen grup; roman ve hikâyede realizm, natüralizmin etkisinde hareket etmiştir. Dönemin önemli temsilcileri arasında Ahmet Hâşim, Ali Canip Yöntem, Yakup Kadri Karaosmanoğlu gibi isimler yer alır.

**Bu parçada söz edilen edebî dönem / topluluk aşağıdakilerden hangisidir?**

- A) Tanzimat  
B) Servetifünun  
C) Fecriati  
D) Millî Edebiyat  
E) Cumhuriyet

18. Şairin *Türkçe Şiirler* adlı kitabında yer alan ve şairlerimize İstanbul'un dışındaki bir hayattan, Anadolu'dan, Anadolu coğrafyası ve insanı ile onun ızdıraplarından bahseden şiirleri büyük yankılar uyandırmıştı. Şair açıkça dil anlayışını da ortaya koyuyor ve şiirlerinin bir köylü tarafından anlaşılmasını istediğini açıklıyordu.

**Bu parçada sözü edilen sanatçı aşağıdakilerden hangisidir?**

- A) Ziya Gökalp  
B) Mehmet Emin Yurdakul  
C) Faruk Nafiz Çamlıbel  
D) Yusuf Ziya Ortaç  
E) Orhan Seyfi Orhon

19. Soyut şiiri uç noktalara taşıyan şair, dili oldukça zorlamıştır. İkinci Yeniciler içerisinde yer alan sanatçı ilk zamanlarda toplumcu gerçekçi çizgiye daha yakın durmuştur. *İstanbul, Günaydın Yeryüzü, Türkiye Şarkısı ve Köroğlu* onun toplumcu gerçekçi şiirlerinden oluşur. 1955'ten itibaren şiir anlayışındaki değişime bağlı olarak toplumcu gerçekçi çizgiden uzaklaşır. *Galile Denizi* onun toplumcu gerçekçilikten kopuşunun ifadesidir.

**Bu parçada sözü edilen sanatçı kimdir?**

- A) Ece Ayhan
- B) İlhan Berk
- C) Cemal Süreya
- D) Turgut Uyar
- E) Edip Cansever

20. İslami söylemin temsilcisi olan şair, 1980 sonrası Türk şiirinin önemli isimlerindedir. Onun şiirleri, imgelerle örülmüştür. Şiirlerinde hem divan edebiyatının hem de halk edebiyatının etkileri görülür. Yalnızlık, hasret, aşk, ölüm ve sonsuzluk temalarını hüznü bir üslupla işlemiştir. *Yağmur* şiiri ile Türkiye Diyanet Vakfı Na't-ı Şerif Büyük Ödülünü alan şair; *Çiçekler Üşümesin, Yankı ve Hüzün, Aşkım İsyanımdır* eserlerinin de sahibidir.

**Bu parçada sözü edilen şair aşağıdakilerden hangisidir?**

- A) Abdurrahim Karakoç
- B) İsmet Özel
- C) Sedat Umran
- D) Nurullah Genç
- E) Hüseyin Atlansoy

21. Millî Edebiyat Dönemi romanı, o güne kadar ferdi konulara eğilen ve ferdi meselelerin dışına çıkmayan ---- romanından farklı bir görüntü arz eder. Millî Edebiyat Dönemi romanı bir cephesiyle aydın ile halk yüzleşmesini açığa çıkarır. Dönemin önemli romancılarından Yakup Kadri'nin ---- romanında bu yüzleşme dikkat çeker. Romanın başkahramanı Ahmet Celal savaşta bir kolunu kaybetmiş bir zabittir. Bu kaybindan dolayı hayata küser ve Anadolu'nun ücra bir köyüne sığınır. Kurtuluş Savaşı tüm şiddetle devam ederken Kuvayımilliye birlikleri oluşturulurken Ahmet Celal de köyü gözlemeleme ve Millî Mücadele'yi köylünün gözünden okuma fırsatı bulur.

**Bu parçada boş bırakılan yerlere aşağıdakilerden hangisi sırasıyla getirilmelidir?**

- A) Millî Edebiyat - *Ankara*
- B) Servetifünun - *Yaban*
- C) Tanzimat - *Kalpakkılar*
- D) Servetifünun - *Küçük Ağa*
- E) Tanzimat - *Ateşten Gömlek*

22.

Yazar	Eser	Eser Kişisi
I	<i>Esrâr-ı Cinâyât</i>	Kalpazan Mustafa
Nâbizâde Nâzım	II	Huri
Nâmık Kemal	<i>İntibah</i>	III

**Bu tabloda boş bırakılan yerlere aşağıdakilerden hangisi getirilmelidir?**

- |                           | I | II               | III     |
|---------------------------|---|------------------|---------|
| A) Ahmet Mithat Efendi    |   | <i>Karabibik</i> | Ali Bey |
| B) Recâizâde Mahmut Ekrem |   | <i>Zehra</i>     | Celâl   |
| C) Recâizâde Mahmut Ekrem |   | <i>Karabibik</i> | Ali Bey |
| D) Ahmet Mithat Efendi    |   | <i>Zehra</i>     | Celâl   |
| E) Yusuf Kâmil Paşa       |   | <i>Karabibik</i> | Suphi   |

23. Cumhuriyet Dönemi'nin tanınmış gazetecilerinden ve tiyatro yazarlarından. Oyunlarında gazetecilik mesleğinin kendisine kazandırdığı geniş gözlem imkânlarını başarı ile kullandığı, toplumu rahatsız eden, toplum tarafından yadırganan meseleleri usta bir gazeteci gözlemciliği ile sahneye aktardığı görülür. Piyesleri, eğlendirirken eğiten ve yetiştiren eserlerdir. Olayları öyle sergiler ki seyircinin son sahnede bir karşılaştırma yaparak iyilerle kötülerini, doğrularla yanlışları algılaması ve ayırması kolayca mümkün olur. Onun başta gelen özelliği, seyircisi ile kolay ilişki kurabilmiş olmasıdır. İçinde yaşadığı toplumun en aktüel sorunlarını ele alırken seyircisinin görüş açısını paylaşması ve onun duygularına yönelmesi onu yaşadığı yılların en popüler yazarı yapmıştır. *Harput'ta Bir Amerikalı*, *Hacıyatmaz* başlıca eserlerindedir.

**Bu parçada söz edilen yazar aşağıdakilerin hangisidir?**

- A) Güngör Dilmen
- B) Orhan Asena
- C) Turgut Özakman
- D) Cevat Fehmi Başkut
- E) Sabahattin Kudret Aksal

24. Hüseyin Rahmi Gürpınar, 1910 yılında Dünya'dan da gözlemlenebilen Halley kuyruklu yıldızının toplum içerisinde yarattığı paniği konu olarak seçtiği *Kuyruklu Yıldız Altında Bir İzdivaç* adlı eserinde kendini bilime adanmış bir karakter olan İrfan Bey aracılığıyla çeşitli bilimsel konulara, özellikle de astronomiye değinmektedir. Halley kuyruklu yıldızı ile ilgili konuşmasında İrfan Bey uzaydan, yıldızlardan, gezegenlerden, Güneş sisteminden ve benzeri daha pek çok konudan bahseder. Bu konuları basite indirgemeye çalışarak anlatsa da dinleyicilerin hiçbir şey anlamayacaklarını bile bile detaylı bilgilere yer verir.

**Bu parçaya göre Hüseyin Rahmi Gürpınar'ın hangi edebî akımdan etkilendiği söylenebilir?**

- A) Realizm
- B) Natüralizm
- C) Klasisizm
- D) Sürrealizm
- E) Romantizm

25. Yazının icat edilmesi tarih çağlarının başlangıcı sayılır. Yazının bulunmasından önceki dönem ise Taş Çağı ve Maden Çağı olarak ikiye ayrılır. Taş Çağı kendi içerisinde Eski Taş Çağı, Orta Taş Çağı ve Yeni Taş Çağı olmak üzere isimlendirilirken, Maden Çağı da kendi içerisinde Bakır, Tunç ve Demir Çağı olarak isimlendirilir.

**Bu tanıma göre tarih öncesi çağların isimlendirilmesinde etkili olan durum aşağıdakilerden hangisidir?**

- A) Tarih öncesi çağlarda temel geçim kaynağının avcılık olması
- B) İnsanların günlük hayatta kullandıkları eşyaların yapıldığı maddeler
- C) Eski dönem insanların göçebe bir yaşam sürmesi
- D) Doğa koşullarının insanlar üzerindeki etkileri
- E) Yerleşik yaşamın insan toplumları arasında yayılmaya başlaması

26. Abbasi Halifesi Me'mun zamanında bir akademi hâline dönüştürülen eğitim kompleksi aşağıdakilerden hangisidir?

- A) Beyt-ül Mal
- B) Beyt-ül-Hikme
- C) Medrese
- D) Dârülhikme
- E) Dâr-ül Adl

27. I. I. Murat  
II. II. Murat  
III. I. Bayezid

Yukarıda isimleri verilen Osmanlı padişahlarından hangileri İstanbul'u kuşatmıştır?

- A) Yalnız I
- B) Yalnız II
- C) Yalnız III
- D) I ve II
- E) II ve III

28. "Oturduğun yeri pak et, kazandığın lokmayı hak et." diyerek temizlik, dürüstlük, çalışkanlık ve helal kazancı teşvik ederken yıkıcılığa, zulme, sömürüye ve tembelliğe karşı da tavrını ortaya koyan, "Makalat" isimli eseriyle tanınan ünlü mutasavvıf aşağıdakilerden hangisidir?

- A) Ahi Evran
- B) Hacı Bektaş-ı Veli
- C) Mevlâna Celâleddîn-i Rûmî
- D) Yunus Emre
- E) Hacı Bayram-ı Veli

29. Aşağıdakilerden hangisi Osmanlı Devleti'nde divan toplantılarında alınan kararların kaydedildiği defterlerdir?

- A) Tahrir
- B) Mühimme
- C) Tereke
- D) Salname
- E) Ruzname

30. XVIII. yy'da Lale Devri'nde kurulan matbaada, İbrahim Müteferrika'nın basımını yaptığı ilk eser aşağıdakilerden hangisidir?

- A) Vankulu Lûgati
- B) Evliya Çelebi Seyahatnamesi
- C) Lûğat-i Naci
- D) Kur'an-ı Kerim
- E) Divan-ı Lûgati't-Türk

31. Sanayi Devrimi ile ilgili aşağıdaki bilgilerden hangisi yanlıştır?

- A) Sanayi Devrimi el emeğine dayanan üretim yerine, sermaye ve makinelerin yer aldığı yeni bir ekonomik yaşama geçmeyi sağlamıştır.
- B) Sanayi Devrimi sonucunda Avrupa'da mal ve ürünlerin üretim hızı ve miktarı artmıştır.
- C) Sanayi Devrimi sonucunda ekonomisi endüstriyel üretime dayanan Osmanlı Devleti'nin üretimi daha da artmıştır.
- D) Sanayileşme ile işçi sınıfı denilen yeni bir sınıf ortaya çıkmıştır.
- E) Daha önce geleneksel yöntemlerle yürütülen tarımsal faaliyetlerde, Sanayi Devrimiyle birlikte bilimsel metotlar uygulanmaya başlanmıştır.

32. Aşağıdaki devletlerden hangisi, Millî Mücadele yıllarında İngiltere'nin menfaatleri doğrultusunda hareket etmiştir?

- A) Fransa
- B) İtalya
- C) Yunanistan
- D) Rusya
- E) ABD

33. Vatandaşlar arasında din ayrımı gözetmeyen Cumhuriyetçilik, akıl ve bilim ilkelerine göre hareket eden bir yönetim anlayışını savunur.

**Buna göre "Cumhuriyetçilik" ilkesinin aşağıdaki ilkelerden hangisi ile ilişkili olduğu söylenebilir?**

- A) İnkılapçılık
- B) Milliyetçilik
- C) Halkçılık
- D) Laiklik
- E) Devletçilik

34. Kıbrıs Rumlarının Enosis amacını gerçekleştirmek için öncelikle İngiliz sömürge idaresine, sonrasında ise Kıbrıslı Türklere karşı kurdukları gizli örgütün ismi aşağıdakilerden hangisidir?

- A) EOKA
- B) ETA
- C) HAGANAH
- D) ASALA
- E) SAVAK

35. Sıcaklıkların ortalama maksimum sıcaklıklardan 3 ila 5°C üzerinde art arda 5 gün veya daha fazla süre ile devam etmesine sıcak hava dalgası denir.



**Haritada numaralandırılarak gösterilen yerlerden hangisinde ocak ayında 10°C üzerindeki günlük sıcaklık ortalamalarının bir haftadan uzun sürmesi ekstrem olarak kabul edilebilir?**

- A) I
- B) II
- C) III
- D) IV
- E) V

36. Açık ocak madencilğinde maden üzerindeki toprak örtü tabakasının kazma, yükleme ve taşıma yoluyla kaldırılması gerekmektedir. Bu yöntemle yapılan madencilik faaliyetlerinin yeraltı işletmeciliğine göre çevre üzerindeki olumsuz etkileri daha fazladır.

**Aşağıdakilerden hangisi bu etkiler arasında gösterilemez?**

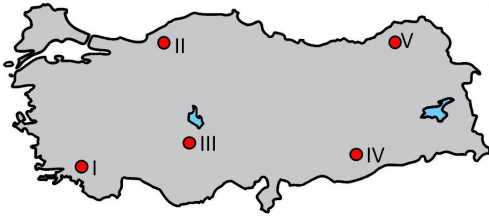
- A) Gürültü kirliliği
- B) Biyoçeşitliliğin azalması
- C) Tektonik depremlerin artması
- D) Kütle hareketlerinin yaygınlaşması
- E) Su kaynaklarının akımındaki düzensizlik

37. Çin, 1990'larda gerçekleştirdiği ekonomi reformuyla devlete ait sanayinin özelleştirilmesi sonucunda ticarette dışa açılarak son yıllarda ciddi bir gelişme kaydetmiştir. Tarım, sanayi ve hizmet sektöründeki artan büyüme, Çin'i üretimde dünyanın en büyük gücü hâline getirmiştir. Dünyadaki pek çok şirket fabrikalarını Çin'e taşımıştır.

**Bu durumun oluşmasında aşağıdakilerden hangisi daha etkili olmuştur?**

- A) İş gücünün fazla olması
- B) Ham madde ihracatının azaltılması
- C) Devletçi politikaların uygulanması
- D) Kamu yatırımlarının desteklenmesi
- E) Araştırmaya ayrılan kaynağın artırılması

38. Türkiye'de kırsal yerleşme birimlerinin toplu veya dağınık dokulu olmasında iklim, yeryüzü şekilleri, su kaynakları, ekonomik faaliyet tipi ve güvenlik gibi faktörler etkili olmuştur. Engebenin az ve su kaynaklarının yetersiz olduğu yerlerde evlerin birbirine yakın mesafede kurulmasıyla toplu dokulu yerleşmeler oluşmuştur.



**Haritada numaralandırılarak gösterilen yerlerden hangilerinde bu tür yerleşmeler daha yaygındır?**

- A) I ve II
- B) II ve III
- C) III ve IV
- D) III ve V
- E) IV ve V

39. Cumhuriyet'in kuruluşundan bugüne toplumsal, siyasi ve iktisadi değişimlere bağlı olarak farklı ekonomik politikalar uygulanmıştır. 1960 ile 1980 yılları arası dönemde ekonominin geliştirilmesi, toplum refahının artırılması, sosyal adaletin sağlanması ve ekonominin karma sistem içinde yürütülmesi için bazı uygulamalar hayata geçirilmiştir.

**Aşağıdakilerden hangisi bu uygulamalardan biridir?**

- A) Aşar vergisinin kaldırılması
- B) İzmir İktisat Kongresi'nin toplanması
- C) Teşviki Sanayi Kanunu'nun çıkarılması
- D) Devlet Planlama Teşkilatı'nın kurulması
- E) Birinci Beş Yıllık Sanayi Planı'nın uygulanması

40. Ülkelerin gelişmişliğini belirlemede sanayi ve diğer üretim faaliyetlerinin büyüklüğü dikkate alınan ölçütler olmakla birlikte; gelişmişlik seviyesindeki tespitlerin doğruluğunu artırmak için ülke nüfusuyla ilgili bazı özellikler de dikkate alınmalıdır.

**Buna göre aşağıdakilerden hangisi, bu tespitlerin doğruluğunu artırmak için dikkate alınacak nüfus özelliklerindendir?**

- A) Sanayi üretimindeki çeşitlilik
- B) İhraç ürünlerinin ekonomik değeri
- C) Tarım sektöründe çalışanların oranı
- D) Toplam ithalatta ham maddenin oranı
- E) Birim tarım arazisinden elde edilen verim değeri



1. Bu testte sırasıyla, Tarih-2 (1-11), Coğrafya-2 (12-22), Felsefe Grubu (23-34), Din Kültürü ve Ahlak Bilgisi (35-40), Din Kültürü ve Ahlak Bilgisi dersini yasal olarak almak zorunda olmayan veya farklı müfredat ile alanlar için Felsefe Grubu (41-46) alanlarına ait toplam 46 soru vardır.
2. Cevaplarınızı cevap kâğıdının Sosyal Bilimler-2 Testi için ayrılan kısmına işaretleyiniz.

1. Aşağıdakilerden hangisi insan topluluklarının yaptığı kitlesel göç hareketinin sonuçlarından birisi değildir?

- A) Demografik hareketlenmelerin görülmesi  
B) Sivil kayıplar yaşanması  
C) Kültürel etkileşimlerin görülmesi  
D) Siyasi otoritelerde değişme ya da parçalanmaların görülmesi  
E) Sosyal devlet anlayışının gelişmesi

2. I. **Kurgan:** Eski Türklerde ölen kişinin sevdiği eşyalarıyla birlikte gömüldüğü mezar.  
II. **Kut:** Kağanlık görevinin Tanrı tarafından verildiğinin kabul edilmesi.  
III. **Atalar Kültü:** Ruhların aileleri koruduğu inancı.

Yukarıda verilen inanışların hangisi İslamiyet öncesi Türk devletlerinde ahiret inancının olduğunu gösterir?

- A) Yalnız I      B) Yalnız II      C) Yalnız III  
D) I ve III      E) I, II ve III

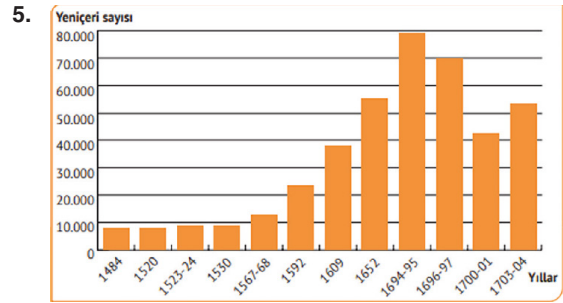
3. Osmanlı Beyliği'nin kuruluşu hakkında bilgi veren ilk tarihi kaynak olan "Yahşi Fakih Menakıbnamesi"ne dayanarak "Tevarih-i Ali Osman" adlı eseri oluşturan tarihçi aşağıdakilerden hangisidir?

- A) Tursun Bey  
B) Neşri Mehmet Efendi  
C) Halepli Mustafa Naima Efendi  
D) Hoca Saadetin Efendi  
E) Aşıkpaşazâde

4. Osmanlı Devleti İslam hukukundan hareketle ülkesinde yaşayan toplulukları din ya da mezhep esasına göre teşkilatlandırarak yönetmiştir.

Osmanlı Devleti'nin uyguladığı bu yönetim modeli aşağıdakilerden hangisidir?

- A) Narh Sistemi      B) Dirlik Sistemi  
C) İskân Siyaseti      D) İltizam Sistemi  
E) Millet Sistemi



Tabloda verilen XV ve XVIII. yüzyıllar arasında yeniçeri sayısındaki değişime bakılarak aşağıdaki yargılardan hangisine ulaşılabilir?

- A) Yeniçeri sayısı her yıl düzenli olarak artmıştır.  
B) 1484-1530 yılları arasında fetih siyaseti izlenmemiştir.  
C) 1592 tarihinden itibaren ülke sınırları daha iyi korunmuştur.  
D) Yeniçerilerin 1694-1697 aralığındaki sayısı 1520-1530 aralığındaki yıllara göre 7-8 kat artmıştır.  
E) 1520-1566 sonrası dönemde fetih hareketleri hız kazanmıştır.

6. 1789 Fransız İhtilâli'nin gündeme getirdiği özgürlük, eşitlik, kardeşlik, milliyetçilik gibi kavramlar sadece Fransa'yı değil kısa vadede Avrupa'yı, uzun vadede ise tüm dünyayı etkiledi. Fransız devrimciler tarafından "savaş yoluyla özgürlüklerini elde etmek isteyen halklara yardım etme" düşüncesi ortaya atıldı.

**Buna göre;**

- I. Osmanlı Devleti,
- II. Avusturya-Macaristan İmparatorluğu,
- III. Rus Çarlığı,
- IV. Amerika Birleşik Devletleri,
- V. Prusya

**gibi devletlerden hangileri Fransız İhtilali'nin getirdiği bu düşünceden etkilenmiştir?**

- A) Yalnız I
- B) I ve II
- C) II ve III
- D) I, II ve IV
- E) III, IV ve V

7. Mustafa Kemal çok kitap okumakla beraber fırsat buldukça kitap da yazmıştır.

**Mustafa Kemal'in kaleme almış olduğu en önemli eseri aşağıdakilerden hangisidir?**

- A) Takımın Muharebe Talimi
- B) Cumalı Ordugâhı
- C) Nutuk
- D) Taktik Tatbikat Gezisi
- E) Bölüğün Muharebe Eğitimi

8. **Mondros Ateşkes Antlaşması sonrasında kurulan;**

- I. Wilson Prensipleri,
- II. İngiliz Muhipler,
- III. Teâlî-i İslâm

**cemiyetlerinin millî varlığa düşman cemiyetler olarak kabul edilmesinin temel sebebi aşağıdakilerden hangisidir?**

- A) Tam bağımsızlığa inanmayarak manda ve himayeyi istemeleri
- B) Saltanat ve halifelik makamlarının devamını savunmaları
- C) İstanbul hükümeti tarafından desteklenmeleri
- D) Millî Mücadeleciler ile birlikte hareket etmemiş olmaları
- E) Kuruluş merkezlerinin İstanbul olması

9. • Yunanlıların İzmir'i işgaline karşı kurulmuştur.
- İslâm dini esaslarına sarılmayı kurtuluş çaresi olarak görmüştür.
- Adana ve çevresinin Fransız işgaline girmesine karşı kurulmuştur.
- Padişah ve halifeye mutlak bağlılık tek kurtuluş için geçerlidir.

**Bu bilgiler dikkate alındığında aşağıdakilerden hangisi amaçları açıklanan cemiyetlerden birisi değildir?**

- A) Redd-i İlhak Cemiyeti
- B) Kilikyalılar Cemiyeti
- C) İngiliz Sevenleri Cemiyeti
- D) Sulh ve Selameti Osmaniye Cemiyeti
- E) Teali İslam Cemiyeti

10. • Devletin siyasi, iktisadi ve hukuki düzende sadece aklın egemenliğini kabul etmesini esas alır. Toplum içinde dinsel ve mezhebe bağlı sınıf farklılıklarının oluşmasını engeller.
- Vatandaşların kanun önünde eşit haklara sahip olması, ayrıcalıkların ortadan kaldırılması ve egemenlik haklarının millete verilmesini amaçlar.
  - Toplumu çağın gerisinde bırakan kurumları ortadan kaldırmak veya bu kurumları yeni gelişmelere uygun hâle getirmeyi hedefler.
  - Ekonomik, kültürel, sanatsal alanlarda ve eğitim, sağlık alanlarında yatırımlar yapılmasını amaçlar.

**Yukarıda verilen ifadelerle Atatürk İlkeleri eşleştirildiğinde aşağıdakilerden hangisi boşta kalır?**

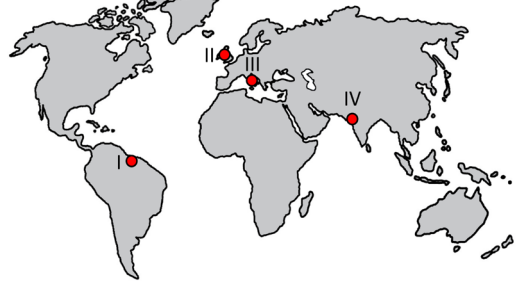
- A) Milliyetçilik
- B) Devletçilik
- C) Halkçılık
- D) İnkılapçılık
- E) Laiklik

11. Karadeniz'in altından geçen ve dünyanın en derin noktasına boru döşenerek gerçekleştirilen bu proje üç ayrı aşamada tamamlanmış bir projedir. Projenin ilk aşaması Rusya sınırları içerisinde yer alan İzobilye-Djubga arasına 372 km boru hattı döşenmesi ile başlamıştır. İkinci aşaması ise denizin tam 2100 metre altından, toplam uzunluğu 392 km olan ve her biri 24 inç çapında olan iki paralel boru hattı döşenmesi şeklinde gerçekleşmiştir. Üçüncü ve son aşamada ise Samsun limanından alınan doğalgazın tam 501 km uzunluğunda olan ve 48 inçlik boru hattı ile Ankara'ya sevk edilmesi gerçekleşmiştir.

**Yukarıda bilgisi verilen proje aşağıdakilerden hangisidir?**

- A) Mavi Akım
- B) Güney Kafkasya
- C) Bakü-Tiflis-Ceyhan
- D) Trans-Hazar
- E) TANAP

12. Bazı canlılar her mevsim yağışın olduğu biyomlarda yaşamsal faaliyetlerini devam ettirmektedir. Bu nedenle belirgin bir kurak dönemin bulunduğu biyomlarda bu canlıların yaşamaının daha sınırlı olduğunu söylemek mümkündür.



**Haritada numaralandırılan yerlerin hangilerinde belirtilen koşullara uyum sağlayan bir canlının yaşamaının daha sınırlı olduğu söylenebilir?**

- A) I ve II
- B) I ve III
- C) II ve III
- D) II ve IV
- E) III ve IV

13. Tarım alanlarının sürülerek bir veya iki yıl dinlenmesi için boş bırakılmasına nadas denir. Türkiye'de ekilen tarım arazilerinin her yıl yaklaşık % 25'i nadasa bırakılmaktadır.

**Bu uygulamayla ilgili olarak aşağıdakilerden hangisi söylenebilir?**

- A) Çiftçilerin gelirini azaltmaktadır.
- B) Su ve rüzgâr erozyonunu azaltmaktadır.
- C) Sulanabilen alanlarda uygulanmaktadır.
- D) Tarımsal üretimde sürekliliği sağlamaktadır.
- E) Üretimde doğal koşulların etkisini azaltmaktadır.

14. Hidrojen, suyun da dâhil olduğu birçok maddeden elde edilebilen ve pek çok alanda yararlanılabilen bir enerji kaynağıdır. Hidrojen yakıt pilleri, taşınabilir bilgisayarlar ve cep telefonları gibi mobil uygulamalarla elektrik santrallerinde güç sağlayıcı olarak kullanılmaktadır. Ayrıca bu piller ulaşım sektöründe geniş kullanım alanına kavuşmuştur.

**Bu enerji kaynağının kullanım alanının genişlemesinin en önemli avantajı aşağıdakilerden hangisidir?**

- A) İleri teknolojiye sahip bir enerji kaynağı olması  
 B) Hidrojen yakıt pillerinin yüksek verimliliğe sahip olması  
 C) Sanayi ve hizmet sektörlerinde başarı ile kullanılması  
 D) Dünyanın farklı bölgelerinde değişik yöntemlerle elde edilmesi  
 E) Enerji ihtiyacını çevreyi kirlilemeden, sürdürülebilir şekilde karşılaması

15. Ülkelerin gelişmişlik düzeylerinin belirlenmesinde bazı göstergeler dikkate alınmaktadır. Bu göstergelere bağlı olarak ülkeler, ekonomik yönden gelişmiş veya az gelişmiş olarak iki gruba ayrılabilir.

**Aşağıdakilerden hangisi bu ayırmada kullanılan göstergelerden biri değildir?**

- A) Eğitim düzeyi  
 B) İhraç ürünleri  
 C) Maden rezervi  
 D) Ortalama ömür  
 E) Kişi başına düşen millî gelir

16. Doğal ortam özellikleri, ekonomik faaliyetler üzerindeki etkisi ile ülkelerin gelişiminde etkilidir. Yer şekillerinin dağlık ve engebeli olması bazı ekonomik faaliyetleri sınırlandırdığı için ülkelerin gelişimini olumsuz olarak etkilemektedir.

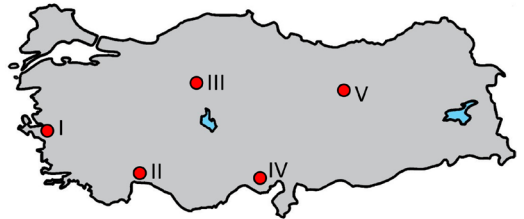
**Yer şekillerinin bu özelliği;**

- I. sanayi,  
 II. rafting,  
 III. ulaşım,  
 IV. ormancılık

**faaliyetlerinden hangileri üzerindeki etkisi ile ülkelerin gelişimini olumsuz etkiler?**

- A) I ve II      B) I ve III      C) II ve III  
 D) II ve IV      E) III ve IV

17. Işık kirliliği; ışığın yer, miktar, yön ve zamanlama olarak yanlış kullanımı sonucu ortaya çıkar. Işık kirliliği, hava ve su kirliliği gibi zehirleyici olmasa da gereğinden fazla ve yanlış yerde kullanıldığında çevreye ve canlılara zarar verebilir.



**Haritada numaralandırılarak gösterilen yerlerden hangisinde bu kirlilik türüne bağlı çevre sorununun daha az olması beklenir?**

- A) I      B) II      C) III      D) IV      E) V

18. 1960'da Bağdat Konferansı'nda İran, Irak, Kuveyt, Suudi Arabistan ve Venezuela'nın imzaladığı anlaşmayla kurulan ekonomik bir örgüttür. Amacı; petrol fiyatlarını belirlemenin yanı sıra üye ülkelerin petrol politikalarını koordine etmek, verimli, ekonomik ve düzenli üretimi sağlamaktır.

**Kuruluşu ve amaçları hakkında bilgi verilen bu örgüt aşağıdakilerden hangisidir?**

- A) OECD                      B) G-20                      C) OPEC  
D) NATO                      E) D-8

19. Aşağıda üretim, dağıtım ve tüketimi etkileyen unsurlardan dördüne ait örnek verilmiştir.

- Aşırı yağışlar, şiddetli rüzgâr, sis ve don olayı ulaşımında aksamalara neden olmaktadır.
- Çayırların geniş yer kapladığı bölgelerde büyükbaş hayvancılık yapılırken steplerin olduğu bölgelerde küçükbaş hayvancılık yaygındır.
- Eğimli araziler sanayi tesislerinin kurulmasını güçleştirdiği gibi ulaşımı da zorlaştırmaktadır.
- Üretim için gerekli olan tesislerin yapılması, araç ve gereçlerin alınması, üretimde ham madde ve enerji ihtiyacını karşılayan kaynakların çıkarılmasında son derece önemlidir.

**Buna göre verilenler arasında aşağıdaki unsurlardan hangisine ait örnek yoktur?**

- A) Bitki örtüsü  
B) Pazarlama  
C) Sermaye  
D) Yeryüzü şekilleri  
E) İklim özellikleri

20. Kuraklık, çok yavaş gelişen, geniş alanlarda etkili olan bir olaydır. İnsanların ekonomik faaliyetlerini sürdürebilmesi için suya ihtiyacı vardır. Uzun süreli kuru hava nem azlığı oluşturarak tarım, hayvancılık, ormancılık, balıkçılık gibi faaliyetleri etkiler ve birtakım ekonomik sorunları ortaya çıkarır.

**Aşağıdakilerden hangisi bu sorunların oluşumunda daha etkilidir?**

- A) İç göçlerin artması  
B) Biyoçeşitliliğin azalması  
C) Bitki türlerinde azalma olması  
D) Salgın hastalıkların ortaya çıkması  
E) Bitkisel üretimde verimin düşmesi

21. Türkiye; Asya ve Avrupa'nın birleştiği noktada olması, eşsiz doğal güzelliklerinin varlığı, yüksek kapasiteli konaklama olanakları ile toplantı ve organizasyon potansiyeline sahiptir. Her yıl binlerce insan iş ve kongre amacıyla Türkiye'yi ziyaret etmektedir. Bununla birlikte ABD, Orta Doğu ülkeleri, Avrupa ve dünyanın pek çok ülkesine günlük tarifeli uçuş seferlerinin oluşu kongre turizminin gelişmesini sağlamıştır.

**Bu turizm türü;**

- I. Antalya  
II. Konya  
III. İstanbul  
IV. Adana

**şehirlerinden hangilerinde daha fazla gelişmiştir?**

- A) I ve II                      B) I ve III                      C) II ve III  
D) II ve IV                      E) III ve IV

22. Türkiye'de 2000'li yılların başından itibaren nüfus artış hızının, doğurganlık oranının düşmesi ve bu düşüşün devam etme eğilimi göstermesi nüfus politikasında değişikliği gündeme getirmiştir. Bu doğrultuda 2014 yılından sonra yapılan bir dizi yasal düzenleme ile doğum oranlarının artırılmasına dönük uygulamalar başlatılmıştır.

**Buna göre;**

- I. Çocuklu aileler için bakıcı yardımı yapılması
- II. Çalışan annelere yeni istihdam alanlarının açılması
- III. Küçük çocuklu annelerin izin sürelerinin uzatılması

**çalışmalarından hangisi bu uygulamalara örnek gösterilebilir?**

- A) Yalnız I
- B) Yalnız II
- C) Yalnız III
- D) I ve III
- E) II ve III

23. Felsefe insanı, insanın değerlerini, ürettiği kültür ürünlerini kendisine konu edinir. Ancak ortaya çıktığı ilk dönemlerde öncelikli konusu, insanın içinde yaşadığı evren ve varlık olmuştur. Varlığın olup olmadığını sorgulamış, varlığın var olduğunu kabul ettiğindeyse onun ne türden olduğunu anlamaya çalışmıştır. Nitekim varlığı olgusal, nesnel, somut gerçeklikler olarak açıklayan filozoflar da; ideal, soyut, zihinsel olduğunu düşünen filozoflar da olmuştur.

**Bu parçada varlık felsefesinin;**

- I. Varlık var mıdır?
- II. Varlığın mahiyeti nedir?
- III. Evrende amaçlılık var mıdır?

**sorularından hangileri ile ilgili açıklama yapılmıştır?**

- A) Yalnız I
- B) Yalnız II
- C) Yalnız III
- D) I ve II
- E) I ve III

24. A. Thomas' a göre insan usuna dayanarak iman alanına ait bazı bilgileri bilebilir. Fakat dinin bilgileri akla aykırı değildir. Ona göre iman teoloji, akıl felsefe alanına aittir. İnsanın iman noktasında atması gereken adım Tanrı'nın varlığını ortaya koymaktır. Evrende bütün belirlenmişliklerin bir belirleyicisi olduğuna göre mantıksal olarak bir ilk belirleyicinin de olması gerekir ki bu ilk neden yani belirleyici Tanrı'dır.

**Buna göre parçada;**

- I. Akıl-İnanç ilişkisi
- II. Tümmeller problemi
- III. Tanrı'nın varlığını kanıtlama problemi
- IV. Kötülük problemi

**konularından hangileri ile ilgili açıklama yapılmıştır?**

- A) I ve II
- B) I ve III
- C) II ve III
- D) II ve IV
- E) III ve IV

25. Sofistlerden önceki filozofların düşünce sistematiğinin konusu doğa, varlıktaki değişim ve ilk neden fikirleri olmuştur. Fakat Sofistlerle birlikte bu seyir değişmiş felsefi düşünüşün konusu bilgi, insan ve insanın değer alanları olmuştur. Bu filozofları politika ve hitabet alanlarında ders veren gezgin öğretmenler olarak nitelenmek yanlış olmayacaktır. Bilgide ve ahlakta rölativizmi savunan bu düşünürlere göre önemli olan insana hayatın içinde pratik yaşam becerileri kazandırmaktır.

**Bu parçadan hareketle Sofistlerle ilgili olarak aşağıdakilerden hangisine ulaşılamaz?**

- A) İnsanın merkeze alındığı felsefi düşünceleri tartışıklarına
- B) Retorik alanında uzman olan düşünürler olduklarına
- C) Dogmatizmi reddeden bir felsefi düşünüşe sahip olduklarına
- D) Evrensel değerlerin varlığını kabul ettiklerine
- E) Felsefenin problem alanını genişlettiklerine

26. Üniversitede ders veren bir psikoloji profesörü öğrencilerine şöyle der: "Merak tüm bilimlerin kapısını açan bir anahtardır. İnsan merakı öncelikle dış dünyaya yönelik olmuştur. Çünkü göz içeriye değil, dışarıya açılan bir penceredir ve insanoğlu öncelikle o pencereyi açıp dışarıyı seyretmeye koyulmuştur. Bu nedenle sosyal bilimlerin, tüm çocuklarını kucağından teker teker indiren anneleri felsefeden kopuşları daha uzun bir zaman almıştır. Psikoloji biliminin temelleri İlk Çağ filozoflarına dayanmaktadır ancak onun bilim unvanını kazanabilmesi için 19. yüzyılı ve Wilhelm Wundt'u beklemesi gerekmektedir."

**Bu parçadan aşağıdaki yargıların hangisine ulaşılamaz?**

- A) Psikoloji 19. yüzyıla kadar felsefenin içindedir.
- B) Bütün bilimler felsefeden doğmuştur.
- C) Merak tüm bilimlerin doğuşundaki temel etkidir.
- D) İnsanın kendine dönük merakı Wilhelm Wundt'la başlamıştır.
- E) Psikoloji bilimi sosyal bilimler sınıflamasına dâhildir.

27. Edimsel koşullanma yoluyla öğrenmede bireylerin bilinçli ve iradesel olarak yaptıkları bir davranışın başkaları tarafından takdir edilmesi sonucunda bireyin bu davranışı süreklilik kazanabilir. Yapılması onaylanmayan bir eylemin gerçekleşmesi durumunda istenmeyen bir uyarıcı ile karşılaşan birey bu davranışı durdurabilir ya da davranışın yapıma tekrarı azalabilir.

**Buna göre parçada edimsel koşullanmanın;**

- I. Olumlu pekiştirme
- II. Olumsuz pekiştirme
- III. Ceza

**kavramlarından hangilerine değinilmiştir?**

- A) Yalnız I
- B) Yalnız II
- C) I ve II
- D) I ve III
- E) II ve III

28. İllüzyon psikolojik ve fiziksel olmak üzere ikiye ayrılır. Psikolojik illüzyonlar bireyden, bireyin kişilik ve psikolojik durumundan kaynaklanırlar. Bu nedenle bireyden bireye farklılık gösterirler. Fiziksel illüzyonlar ise uyarıcı kaynaklı oldukları için bütün bireylerde aynı şekilde görülürler.

**Buna göre aşağıdakilerden hangisi farklı bir illüzyon örneğidir?**

- A) Ufukta deniz ve gökyüzünün bitişikmiş gibi görünmesi
- B) Çok sıcak havalarda karayolunda su birikintisi varmış gibi görünmesi
- C) Yarım bardak suya konulmuş kaşığı kırıkmiş gibi görünmesi
- D) Evde yalnız kalan birine askıdaki kıyafetin hırsızmış gibi görünmesi
- E) Enine çizgili kıyafet giyen kişinin olduğundan ki-lolu görünmesi

29. Kültür toplumsal yaşamdan ayrı düşünülmesi mümkün olmayan bir kavramdır. Günlük yaşantımızda nazik ya da entelektüel insanlara ilişkin bir sıfat olarak "kültürlü" deriz örneğin ama sosyolojik anlamıyla kültür biraz daha farklı ve kapsamlıdır. Bu kavramın içine toplumsal değerler, değerlere bağlı oluşan normlar, gelenekler, inançlar gibi soyut öğeler girdiği gibi üretilen araç gereçler, sanatsal yapıtlar, mimari eserler vb. somut öğeler de girer.

**Buna göre kültür ile ilgili;**

- I. Toplumsal ve tarihsel bir bağlamı vardır.
- II. Her toplumda o topluma özgü nitelikler taşır.
- III. Değişime kapalı statik bir yapıdadır.

**yargılarından hangilerine ulaşılabilir?**

- A) Yalnız I
- B) Yalnız II
- C) Yalnız III
- D) I ve II
- E) II ve III

30. Toplumda her meslek grubunun kendine has belli bir statüsü ve saygınlığı vardır. Ancak aynı meslek grubuna dâhil olan herhangi bir kişi özel niteliklerinden dolayı çevresinde yüksek saygınlığa sahip olurken, başka bir kişi, toplum normlarına uygun olmayan davranışlarından dolayı saygınlık görmeyebilir.

**Bu parçada "sosyal saygınlığın" hangi özelliği üzerinde durulmaktadır?**

- A) Zaman içinde değişkenlik göstermesi
- B) Kişisel özelliklerle ilgili olması
- C) Toplumun mesleğe verdiği değer ile ilgili olması
- D) Birey dışındaki koşullara bağlı olması
- E) Meslek grubunun tamamına yönelik olması



31. “Ünlü bir sinema sanatçısının bir ürünün reklamında rol almasından sonra ürünün satışlarında değişiklik olup olmadığını, örneklem olarak seçtiği tüketicilere sorular sorarak araştırmak isteyen bir sosyolog” **aşğıdaki tekniklerden hangisini kullanmıştır?**

- A) Görüşme
- B) İstatistik
- C) Örnek olay incelemesi
- D) Monografi
- E) Anket

32. Tümel önerme; yüklemde ele alınan özelliğın öznenin işaret ettiği tüm bireylerde bulunduğunu gösteren; tikel önerme ise yüklemde ele alınan özelliğın öznenin işaret ettiği bazı bireylerde bulunduğunu gösteren önermelerdir.

**Buna göre aşğıdaki önermelerden hangisi nicelik bakımından diğerlerinden farklıdır?**

- A) Hiçbir canlı değersiz değildir.
- B) İnsanların tamamı saygı görmeyi hak eder.
- C) Birçok kişi yaşamın değerli olduğunun farkındadır.
- D) Her aydın hoşgörülüdür.
- E) İnsanların hiçbiri sorumluluk sahibi değildir.

33. Bir şey ile ilgili “nedir?” sorusuna verilen cevaba tanım denir. Peki her şeyi tanımlamak mümkün müdür? Dış deneyin konusu dışında kalan içsel yaşantılar, duyular ve üstün cinsler tanımlanamazlar sınıfına girerler.

**Buna göre aşğıdaki kavramlardan hangisi tanımlanamazlar içinde yer almaz?**

- A) İnsan
- B) Koku
- C) Sevgi
- D) Varlık
- E) Zaman

34. Sorumluluk bilinci gelişmiş bazı insanlar özverili ve çalışkandır.

Doğukan, sorumluluk bilinci gelişmiş bir insandır.

O halde Doğukan özverili ve çalışkandır.

**Çıkarımın geçerli olabilmesi için aşğıdaki ifade edilen değışikliklerden hangisi yapılmalıdır?**

- A) I. öncülde geçen “bazı” sözcüğü yerine “bütün” sözcüğü yazılmalıdır.
- B) Sonuç önermesinin sonu “özverili ve çalışkan olabilir” şeklinde değıştirilmelidir.
- C) II. öncül “Doğukan bazı insanlardan biridir.” şeklinde değıştirilmelidir.
- D) II. öncül “değildir” ile bitirilmelidir.
- E) Öncüller olduğu gibi kalmalı sonuç “değildir” ile bitirilmelidir.

**35 - 40. soruları Din Kültürü ve Ahlak Bilgisi dersini yasal olarak almak zorunda olanlar ve İmam Hatip Okulları öğrencileri/mezunları cevaplayacaktır.**

35. Allah'ın bilgisi, geçmişi de geleceği de kapsar ve sınırsızdır. Allah'ın bilgisinde hiçbir eksiklik söz konusu değildir. Allah bilmek için bir araca da ihtiyaç duymaz. Biz yaratılmışların bilgisi ise sınırlıdır ve geçicidir. Bazı şeyleri olduğu gibi biliriz. Bazı şeyler hakkında da derin bilgiye sahibizdir. Ancak derin bilgiye sahip olduğumuz konularda da bilgimiz sınırlı ve geçicidir.

**Bu metin aşağıdaki kavramlardan hangisi ile ilgili değildir?**

- A) İlim                      B) Marifet                      C) Kudret  
D) Tekvin                      E) İrade

36. "O ki birbiri ile ahenktar yedi göğü yaratmıştır. Rahman olan Allah'ın yaratışında hiçbir uygunsuzluk göremezsin. Gözünü çevir de bir bak, bir bozukluk görebiliyor musun? Sonra gözünü, tekrar tekrar çevir bak; göz (aradığı bozukluğu bulmaktan) âciz ve bitkin halde sana dönecektir." (Mülk suresi, 3. ayet)

**Bu ayet Allah'ın varlığını ispat için kullanılan delillerden hangisi ile ilgilidir?**

- A) Dini tecrübe delili  
B) Nizam delili  
C) Ahlak delili  
D) Ekmel varlık delili  
E) Ontolojik delil

37. "Tekrar diriltilecekleri güne kadar arkalarında geriye dönmekten onları alıkoyan bir perde (engel) vardır." (Mü'minün suresi, 100. ayet.)

**Bu ayette "perde" olarak belirtilen kavram aşağıdakilerden hangisidir?**

- A) Ba's                      B) Haşır                      C) Mizan  
D) Berzah                      E) Sur

38. Medrese, İslam tarihinde eğitim öğretimin yapıldığı kurumlardır. İslam dünyasında medreselere büyük önem verilmiş, fethedilen şehirlerde cami ile birlikte mutlaka bir medrese inşa edilmiştir. Anadolu Selçukluları da Anadolu'da çok sayıda medrese inşa ettirmişlerdir.

**Aşağıdakilerden hangisi bu medreselerden biri değildir?**

- A) Kırşehir Caca Bey Medresesi  
B) Sivas Gök Medrese  
C) Erzurum Yakutiye Medresesi  
D) Erzurum Çifte Minare Medresesi  
E) İznik Orhaniye Medresesi

39. · “Göklerde ve yerde her türlü övgü O’na mahsusdur. Gündüzün sonunda ve öğle vaktine eriştiğinizde de O’nu tesbih edin.” (Rum suresi, 18. ayet)
- “Ölüden diriyi, diriden de ölüyü çıkarıyor ve yeryüzünü ölümünün ardından canlandırıyor. İşte siz de böyle çıkarılacaksınız.” (Rum suresi, 19. ayet)
- “O’nun kanıtlarından biri de gökleri ve yeri yaratması, dillerinizin ve renklerinizin farklı olmasıdır. Kuşkusuz bunda bilenler için ibretler vardır.” (Rum suresi, 22. ayet)

**Bu ayetlerden hareketle aşağıdaki sonuçlardan hangisine ulaşamaz?**

- A) Evrende Allah’ın varlığını gösteren çok sayıda işaret vardır.
- B) Kur’an’da bazı ayetlerde kozmolojik delillere yer verilmiştir.
- C) Allah, evrende her an yaratma halindedir.
- D) Müminin düzenli olarak Allah’la iletişim içinde olması gerekir.
- E) Allah’ın sonsuz kudreti ile insanları yeniden diriletecektir.
40. Hz. Muhammed (s.a.v.), hicret esnasında yatağına Hz. Ali’yi yatırır. Hz. Ali, 22 yaşında olmasına rağmen böyle bir görevi hiç endişe etmeden kabul eder. O, büyük savaşların hepsine katılmış, katıldığı bu savaşlarda çok büyük kahramanlıklar göstermiştir. Cesareti ve kahramanlığı sebebiyle kendisine dönme dönme saldıran anlamına gelen “Haydar-ı Kerrar” ismi verilmiştir. Mekke fethedildikten sonra Kâbe’deki putları temizleme görevini de yine Hz. Ali üstlenmiştir.

**Bu metinde Hz. Ali’nin hangi özelliğinden bahsedilmiştir?**

- A) Merhameti
- B) Adaleti
- C) Şecaati
- D) İffeti
- E) Hikmeti

**41 - 46. soruları Din Kültürü ve Ahlak Bilgisi dersini yasal olarak almak zorunda olmayan veya farklı müfredat ile alanlar cevaplayacaktır.**

41. Aristoteles “İnsanları felsefe yapmaya sürükleyen şaşırmadır. İnsanlar önce kendilerine çarpan yabancı şeylere şaşırarak baktılar sonra yavaş yavaş devam ettiler ve ayın, güneşin, yıldızların değişimlerini ve kâinatın nasıl oluştuğunu sordular.” der.

**Buna göre Aristoteles felsefenin kökenini aşağıdakilerden hangisine dayandırmıştır?**

- A) Varlığın olgusal olarak incelenmesine
- B) Rasyonel bir bakış açısına
- C) Merak ve hayret etmeye
- D) Bireylerin bilinç durumuna
- E) Şüphe duymaya

42. Nietzsche’ye göre özgür insan, içinde yaşadığı toplumun ahlak normlarının, değer yargılarının dışına çıkabilen insandır. O, yaşadığı sürüden kopmuş, kendi yolunu arayan, insanla ilgili her şeyi kendi gözleri ile görmek isteyen insandır.

**Buna göre aşağıdakilerden hangisi özgür insanın niteliklerinden biri olamaz?**

- A) Ahlaki normlara eleştirel yaklaşmak
- B) Geleneksel değerlerle hesaplaşmak
- C) Yeni değerlerin peşinde olmak
- D) Aklını bağımsızca kullanabilmek
- E) Yaşadığı çevreye boyun eğmek

43. Hepimiz çevremizdeki diğer insanların davranışlarından etkileniriz. Anne ve babamız, öğretmenlerimiz ve akranlarımızın bizimle ilgili düşünceleri, davranışlarımız ve aldığımız kararlar üzerinde önemli ölçüde bir etkiye sahip olabilir. Hatta bazen onları etkilemek ya da bizimle iftihar etmelerini sağlamak amacıyla davranışlarımızı değiştirebiliriz.

**Verilen açıklama psikolojinin alt dallarından hangisinin konusudur?**

- A) Deneysel psikoloji
- B) Gelişim psikolojisi
- C) Bilişsel psikoloji
- D) Sosyal psikoloji
- E) Klinik psikoloji

44. Toplumsal gelişme, toplumsal alanda meydana gelen ileri doğru değişimlerdir. Toplumun üyelerinin temel insani ihtiyaçlarını karşılaması, yaşam kalitelerinin artırılması ve tüm bireylerin potansiyellerine ulaşmaları için uygun ortam sunulması gibi koşullar sağlandığında varlığından söz edilebilecek bir kavramdır.

**Buna göre aşağıdakilerden hangisi toplumsal gelişmenin göstergeleri arasında yer almaz?**

- A) Ekonomik büyüme
- B) Hukukun üstünlüğü
- C) İnsan haklarındaki gelişmeler
- D) Alt tabakanın genişlemesi
- E) Toplumsal bütünleşme

45. İş yerinde çalışanlar arasında görülen dengeli ilişkiler, huzurlu bir aile ortamı, uzun süre varlığını sürdüren arkadaş grupları önemli bir durumun altını çizer: Davranış beklentilerinin aynı değerlere ve benzer duyarlılıklara dayanması.

**Bu parçada anlatılan toplumsal etkileşim tipi aşağıdakilerden hangisidir?**

- A) Rekabet
- B) İş birliği
- C) Uyarılama
- D) Sosyal benzeştirme
- E) Sosyal uyum

46. Bir kavramın içine aldığı nesnelere tümüne o varlığın kapsamı denir.

**Buna göre aşağıdakilerden hangisinin kapsamı en fazladır?**

- A) Canlı
- B) Hayvan
- C) Kanatlı
- D) Omurgalı
- E) Varlık



# Kendini Deęerlendir



1

*Kare kodu okut.*

2

*Sınavını seę*

3

*Cevaplarını sisteme gir.*

4

*Eksik olduęun konuları analiz et.*

5

*Bu sınava katılanlar arasındaki sıralamanı gör.*



T.C. MİLLÎ EĞİTİM  
BAKANLIĞI

3 ADIM

DENEME SINAVLARI

1. ADIM

AYT  
sözel



3. DENEME

ADI VE SOYADI

OKUL ADI

ADAYIN İMZASI

**ADAYIN DİKKATİNE!**

1. Bu sınavda AYT soru dağılımları dikkate alınmıştır.
2. Deneme tam kapsam olup YKS konularının tamamını kapsamaktadır.
3. Bu sınav Türk Dili ve Edebiyatı - Sosyal Bilimler 1 Testi (TDE 24 soru, Tarih 10 soru, Coğrafya 6 soru) 40 soru, Sosyal Bilimler 2 Testi (Tarih 11 soru, Coğrafya 11 soru, Felsefe Grubu 12 soru, DKAB 6 soru) 40 soru olmak üzere toplamda 80 soru içermektedir.

Bu testlerin her hakkı saklıdır. Hangi amaçla olursa olsun, testlerin tamamının veya bir kısmının Millî Eğitim Bakanlığının yazılı izni olmadan kopya edilmesi, fotoğrafının çekilmesi, herhangi bir yolla çoğaltılması, yayımlanması ya da kullanılması yasaktır. Bu yasağa uymayanlar gerekli cezai sorumluluğu ve testlerin hazırlanmasındaki mali külfeti peşinen kabullenmiş sayılır.

### **DİKKAT!**

Din Kültürü ve Ahlak Bilgisi dersini yasal olarak almak zorunda olan adaylar ve İmam Hatip Okulları öğrencileri/mezunları, Sosyal Bilimler-2 Testi'nin ilk 40 sorusunu cevaplamakla yükümlüdür. Bu adaylar, bu testin 41-46. sorularını cevaplamayacaklardır. Bu adaylar, bu testin 41-46. sorularında işaretleme yapmış olsalar bile bu cevapları değerlendirmeye alınmayacaktır.

Din Kültürü ve Ahlak Bilgisi dersini yasal olarak almak zorunda olmayan veya farklı müfredat ile alan adaylar, Sosyal Bilimler-2 Testi'nin 35-40. sorularını cevaplamadan 41-46. sorularını cevaplayacaklardır. Bu adaylar, bu testin 35-40. sorularında işaretleme yapmış olsalar bile bu cevapları değerlendirmeye alınmayacaktır.

### **AÇIKLAMA**

1. Bu kitapçıkta **86 soru** bulunmaktadır.  
Türk Dili ve Edebiyatı-Sosyal Bilimler-1 Testi: 40 soru  
Sosyal Bilimler-2 Testi: 46 soru
2. **Bu sınavda her testteki doğru cevaplarınızın sayısından yanlış cevaplarınızın sayısının dörtte biri çıkarılacak ve kalan sayı o bölüme ilgili ham puanınız olacaktır.**
3. Kitapçığın sayfalarındaki boş yerleri müsvedde için kullanabilirsiniz.
4. Cevaplamaya istediğiniz sorudan başlayabilirsiniz. Bir soru ile ilgili cevabınızı cevap kâğıdında o soru için ayrılmış olan yere işaretlemeyi unutmayınız.
5. Bu kitapçıkta yer alan her sorunun sadece bir doğru cevabı vardır. Cevap kâğıdında bir soru için birden çok cevap yeri işaretlenmişse o soru yanlış cevaplanmış sayılacaktır. İşaretlediğiniz bir cevabı değiştirmek istediğinizde silme işlemini çok iyi yapmanız gerektiğini unutmayınız.



1. Bu testte sırasıyla, Türk Dili ve Edebiyatı (1-24), Tarih-1 (25-34), Coğrafya-1 (35-40) alanlarına ait toplam 40 soru vardır.
2. Cevaplarınızı cevap kâğıdının Türk Dili ve Edebiyatı-Sosyal Bilimler-1 Testi için ayrılan kısmına işaretleyiniz.

1. Biz bir yazıyı okurken yalnız onu değil, kendi kendimizi de okuyoruz. Bunun için değil midir ki tecrübele-ri, fikirleri ve hayalleri bizimkine uyan veyahut da hiç olmazsa biraz yaklaşan yazarların yazılarını severiz. Önemli olan kitapların muhteşem dünyasına girebil-mek değil o dünyada mutlu olmamızı sağlayacak edebî zevki kazanmaktır.

**Bu parçada altı çizili sözle anlatılmak istenen aşağıdakilerden hangisidir?**

- A) Yazıları kendi bakış açımıza göre okuma  
B) Okuduklarımızdan zevk almaya çalışma  
C) Okuduklarımızda kendimizden bir şeyler bulma  
D) Kitapların muhteşem dünyasına dalıp kaybolma  
E) Mutlu olmak için edebî zevk uyandıracak eserlere yönelme

2. (I) Çocuk edebiyatı için halk edebiyatı eserleri temel ve millî kaynaklardır. (II) Çocuk edebiyatı, bir toplumun kültürünün yansımasıdır. (III) Yüzyıllardır süregelen Türk kültürü, halk edebiyatı ve gelenekleri; çocuk edebiyatı aracılığıyla kuşaktan kuşağa aktarılmaktadır. (IV) Türk halk edebiyatı motifleri, çocuk edebiyatı için çok geniş bir çalışma alanı sunmaktadır. (V) Bir toplumu toplum yapan şey, o toplumun ortak değerleridir; ortak değerlerin aktarılmasını sağlamak da toplumdaki her bireyin vatandaşlık görevi olmalıdır.

**Bu parçada numaralanmış cümlelerin hangisinde öneriye yer verilmiştir?**

- A) I B) II C) III D) IV E) V

3. Çehov'un bir yazar olarak hikâyeci kimliğinin altında "az sözde çok anlam" yatar. Hikâyelerinin çoğu kısadır, her birinin âdeta kısıyım ve başarıyıım der gibi bir hâli vardır. Çehov gereksiz tasvirlerle, ayrıntılı tekrarlara yer vermez ve asla dile getirdiği karakterlerin dünyası ile alakadar değildir.

**Bu parçadan Çehov ile ilgili aşağıdakilerden hangisine ulaşılabılır?**

- A) Eserlerindeki en çarpıcı özellik, özlü ve yoğun anlatımdır.  
B) Açık ve sade yazarken kullandığı yazın dili yavandır.  
C) Uzun uzun yaptığı betimlemeler karakterlerin dünyası ile ilgilidir.  
D) Dili her yaş grubundan, farklı toplumsal kesimlerden gelen okuyucuya hitap edecek düzeydedir.  
E) Her türden eseri devrinin okur kitleleri ve eleştir-menlerce büyük bir edebî coşkuyla karşılanmıştır.

4. İnsanların çoğu kaybetmekten korktuğu için sevmekten korkuyor. Sevilmekten korkuyor, kendisini seilmeye layık görmediği için. Düşünmekten korkuyor, sorumluluk getireceği için. Konuşmaktan korkuyor, eleştirilmekten korktuğu için. Duyularını ifade etmekten korkuyor, reddedilmekten korktuğu için. Yaşlanmaktan korkuyor, gençliğin kıymetini bilmediği için. Unutulmaktan korkuyor, dünyaya iyi bir şey vermediği için.

**Bu parçada anlatılmak istenen aşağıdakilerden hangisidir?**

- A) İnsanların sorumluluktan kaçışları yalnızlıklarının temel sebebidir.  
B) İnsanın yapmaktan kaçındığı eylemlerin altında korkuları vardır.  
C) İnsan duygularıyla yüzleşmekten korktuğu için gerçek anlamda yaşayamaz.  
D) Her şeye rağmen hayata dört elle sarılmak cesur insanların işidir.  
E) İnsanlar zorluklarla mücadeleden kaçınırken insanlıktan uzaklaşır.

5. Şiir hem nazım hem nesir kisvesinde tecelli edebilir. Bir söze manzum olduğu için "şiir" denemeyeceği gibi mensur olduğu için "şiir değildir" de denemez. Ancak tabiat, manzum olan şiire mensur olandan daha çok meyleder. Bir fikir nesirle tıpkı şiir gibi söylene aynı fikir nazımla yine şiir olarak ifade edilse nazım olan daha çok sevilir. Bu hâl, nazımdaki tabiatı çeken özel ahenkten ileri gelir. Kafiye ise nazımın çekiciliğini arttıran süstür. Bunun içindir ki kafiyeli nazım, kafiyesiz nazımdan daha çok sevilir. Şiirden öteden beri "vezinli, kafiyeli söz" diye bahsedilir. Aslında şiirin mutlaka kafiyeli ve vezinli olması için gerçek bir sebep yoktur. Biz genel olarak belli sözlere edebiyat demekle beraber bunların en çok belli olanlarına şiir diyoruz. Manzum veya mensur olanlarını kaydetmiyoruz. Bununla beraber şiir denebilecek bir sözün mensur olmasına nispetle manzum olmasından daha çok zevk duyuyoruz.

**Bu parçadan aşağıdakilerin hangisine ulaşılır?**

- A) Şair iç dünyasında yaşadığı izlenimleri hem nazım hem de mensur şeklinde dile getirebilir.  
 B) Kafiyeli bir biçimde oluşturulan şiirler kafiyesiz şiirlere göre daha çok sevilir.  
 C) Duyguların, düşüncelerin ahenkli söylenmesi şiirin doğal özelliğinden gelmektedir.  
 D) Sanatçılara manzum eser yazmak nesir yazmaktan daha kolay gelir.  
 E) Şiir kafiyesi ve vezni mutlaka olması gereken söz demek değildir.

6. Doğanın bir parçası olan insan kendi yaşam evrenini oluştururken hayatın / kültürün içerisinde farklı öğretilerle ve inançlarla kendini inşa eder. İnsan kendi varoluşunu anlamlı kılabilecek ahlaki değer yargılarını toplumun bir parçası olarak zaman içerisinde kazanır. Müzik de bu değer kalıplarını şekillendirmede, mutlak bir dinlenme aracı olmanın ötesinde, etkin bir eğitim aracıdır. Müzik, bireylerin hem iç dünyalarına hem de yaşam algılarına hitap ederek zihinlerde ve kalplerde doğrudan ya da dolaylı bazı ahlaki ya da gayriahlaki duygular oluşturur ve daha önemlisi, insan tabiatındaki yerleşik ahlaki duygu ve ilkelerin pekiştirilmesine hizmet eder.

**Bu parçaya göre müzikle ilgili aşağıdakilerin hangisi söylenebilir?**

- A) Sadece dinlenme aracı değil aynı zamanda eğitim aracıdır.  
 B) Ahlaki sorunların çözümünde her zaman etkilidir.  
 C) Değer yargılarının oluşumunda öncelikli etkidir.  
 D) Toplumların kültürünü oluşturan ilk ögedir.  
 E) İnsan tabiatındaki duyguları çözümler.

7. Gâiblerden bir ses geldi: Bu adam,  
 Gezdirsin boşluğu ense kökünde!  
 Ve uçtu tepemden birdenbire dam;  
 Gök devrildi, künde üstüne künde...

**Bu dizelerle ilgili aşağıdakilerden hangisi söylenemez?**

- A) 11'li hece ölçüsüyle yazılmıştır.  
 B) Zengin uyak vardır.  
 C) Kafiye örgüsü abab şeklindedir.  
 D) İstiare sanatına yer verilmiştir.  
 E) Karşıt anlamlı sözcükler kullanılmıştır.

8. Dinmiş denizin şarkısı, rüzgâr uyumakta,  
Rıhtım boyu sonsuz bir üzüntüyle karaltı  
Körfez düşünür, Kanlıca mahzundur uzakta,  
Mazi gibi sislenmiş Emirgan Çınaraltı.

**Bu dördlük, içerik açısından aşağıdaki şiir türlerinden hangisine örnek gösterilebilir?**

- A) Didaktik  
B) Epik  
C) Lirik  
D) Satirik  
E) Pastoral

9. Beni bir dağda buldular  
Kolum kanadım yoldular  
Dolaba layık gördüler  
Derdim vardır inilerim

**Yunus Emre'nin "Dertli Dolap" adlı şiirinden alınan bu dördlükte;**

- I. açık istiare,  
II. kapalı istiare,  
III. intak

**söz sanatlarından hangileri vardır?**

- A) Yalnız I      B) Yalnız II      C) I ve III  
D) II ve III      E) I, II ve III

10. İlk Müslüman Türk devleti olan Karahanlıların İslamiyet'i kabul eden birinci hükümdarının kişiliğini, İslamiyet'i kabulünü ve İslam dinini yaymak için gösterdiği fedakârlıklarla kerametlerini anlatan menakıpname özelliğinde bir destandır.

**Bu parçada söz edilen destan aşağıdakilerden hangisidir?**

- A) *Battal Gazi Destanı*  
B) *Köroğlu Destanı*  
C) *Manas Destanı*  
D) *Danışmend Gazi Destanı*  
E) *Satuk Buğra Han Destanı*

11. 17'nci yüzyılın ikinci yarısıyla 18'inci yüzyılın ilk yarısı arasında yaşamıştır. Hem aruz hem hece ölçüsüyle şiirler söylemiştir. Şairin şiirleri, divanının dışında cönklerde de yer almaktadır. Musiki ile de ilgilenmiş olan şairin kendi adını taşıyan bir de musiki makamı (havası) vardır. Aruz ile yazdığı şiirlerinde başta Fuzûlî olmak üzere klasik şairlerimizin tesiri görülmektedir.

**Bu parçada bahsedilen halk edebiyatı şairi aşağıdakilerden hangisidir?**

- A) Karacaoğlan  
B) Âşık Seyranî  
C) Dadaloğlu  
D) Gevherî  
E) Köroğlu

12. **Aşağıdakilerden hangisi koşma türlerinden biri değildir?**

- A) Nefes  
B) Güzelleme  
C) Koçaklama  
D) Taşlama  
E) Ağıt

13. **Aşağıdaki açıklamalardan hangisi parantez ( ) içinde verilen terimle uyuşmamaktadır?**

- A) Savaşları konu edinen eserlerdir.  
(Gazavatname)  
B) Peygamberlerin mucizevi hikâyelerini anlatan eserlerdir.  
(Kıyasienbiya)  
C) Divan edebiyatında kullanılan kalıplaşmış sözcüklerdir.  
(Mazmun)  
D) Beş mesneviden oluşan eserlerdir.  
(Tehzil)  
E) Kasideelerde şairin adının ya da mahlasının geçtiği beyittir.  
(Taç beyit)

14. Sanatçının tespit edilen tek eseri *Kâbüsnâme*'dir. Bu eseri II. Murat'ın emriyle aynı adla Türkçeye çevirmiştir. Sanatçı; eserin Farsça aslına olduğu gibi bağlı kalmamış, gerekli gördüğü yerlerde ekleme ve açıklamalara gitmiştir. Yalnızca eseri çevirmemiş, işe kendi bilgisini de katmış, neredeyse ortaya telif sayılabilecek bir eser koymuştur. Atasözleri ve deyimlerle açık bir anlatımı yeğlemiş, yaşadığı çağın düşüncelerini herkesin anlayabileceği bir dille ifade etmiştir. Bu eser, Türkçe mensur tercümelerin en güzel örneklerinden biridir.

**Bu parçada sözü edilen yazar aşağıdakilerden hangisidir?**

- A) Şeyhî
- B) Ahmedî
- C) Kadı Burhaneddin
- D) Mercimek Ahmed
- E) Necatî

15. Cümle yâran sana uşşâk olduğun bilmez misin  
Cümlenin tâkatları tâk olduğun bilmez misin  
Şimdi âlem sana müştâk olduğun bilmez misin  
lyddir çık naz ile seyrana kurban olduğum

**Bu şiirin nazım biçimi aşağıdakilerden hangisidir?**

- A) Şarkı
- B) Gazel
- C) Kaside
- D) Müstezat
- E) Mesnevi

16. Fransız edebiyatı etkisi altında gelişen yeni Türk edebiyatının kurucularından biri kabul edilmektedir. Tanzimat'tan sonraki Türk edebiyatının karakteristik özelliğini meydana getiren bir yanıyla yerli, bir yanıyla da yeni olma gayreti onda açık biçimde görülür. Asırlardan beri devam eden bir edebî gelenek içinde yetişen Tanzimat sonrası edebiyatçılarının hemen hepsinde görülen bazı ortak özellikler, divan şiiri ile âşık tarzı geleneği ve Fransız edebiyatı etkisi onda da görülür. Onun eleştirilen ve tutarsızlıkla itham edilmesine yol açan davranışlarının en önemlisi, meşhur *Şiir ve İnşâ* makalesinde ileri sürdükleriyle ondan altı yıl sonra yazdığı *Harâbât*'ın mukaddimesindeki görüşleri arasındaki tezattır.

**Bu parçada söz edilen şair aşağıdakilerden hangisidir?**

- A) Nâmık Kemal
- B) Ahmet Mithat Efendi
- C) Muallim Nâci
- D) Ziyâ Paşa
- E) Recâizâde Mahmut Ekrem

17. II. Meşrutiyet'ten sonra başlayan bu dönemin yazarları ilk kez Anadolu'ya yönelmiştir. Sade ve arı bir Türkçe ile yazılan eserler yurt sorunlarını ve ulusal değerleri ortaya çıkarma amacını gütmüştür. Eserlerinde ağıdalı ve bireysel dil kullanan bazı yazar ve şairler dönemin etkisiyle gerçekçi bir tutumla toplumsal konulara yönelmişlerdir.

**Bu parçada söz edilen edebî dönem / topluluk aşağıdakilerden hangisidir?**

- A) Fecriati
- B) Millî Edebiyat
- C) Servetifünün
- D) Cumhuriyet
- E) Tanzimat

18. İlk şiiri *Servet-i Fünûn*'da çıkan, Türk ve Fransız edebiyatını iyi bilen sanatçı; sembolizme ilgi duymuştur. 1928 yılında henüz öğrenciyken Yedi Meşale topluluğuna katılmıştır. Sade ve açık bir dille yazdığı ilk şiirlerinde hece veznini kullanmıştır. Servetifünun'dan etkilenerek süslü, bol tasvirli şiirler yazmıştır. Halk edebiyatını önemsememiş; şiiri beşerî bularak şiirlerinde çocukluk özlemi, anılara düşkünlük, aile sevgisi, yoksulluk, Allah'a kulluk, kadere boyun eğiş, ölüm ve ahiret konularına yoğunlaşmış; günlük hayatın acısını ve sevincini şiirlerine yansıtmıştır. Yakın arkadaşlarından Oktay Akbal'ın yeryüzünde bir ermiş hayatı yaşadığını söylediği sanatçı, belli bir süre etkisi altında kaldığı Necip Fazıl Kısakürek'ten farklı olarak ölüm karşısında isyan etmek yerine bir Yunus Emre edasıyla ölümü tevekkülle karşılamış ve daima ölümün asıl gerçeklik olduğunu vurgulamıştır. *Sebil ve Güvercinler* şiir kitaplarından, *Mesut İnsanlar Fotoğrafhanesi* hikâyelelerindenir.

**Bu parçada söz edilen şair aşağıdakilerden hangisidir?**

- A) Sabri Esat Siyavuşgil
- B) Yaşar Nabi Nayır
- C) Vasfi Mahir Kocatürk
- D) Ziya Osman Saba
- E) Cevdet Kudret Solok

19. Cumhuriyet Dönemi Türk şiirinin önemli isimlerinden olan sanatçı, Garip şiirinin üç isminden biri olarak bilinir. Ona göre şiir ne bir duygunun ne de bir düşüncenin aktarım aracıdır. Şiir daima bir araştırma ve yeni oluşumlara açılabilme olanakları sonsuz olan bir kaynaktır. *Rahatı Kaçan Ağaç, Telgrafhane, Kolları Bağlı Odysseus* şiir türünde yazdığı eserlerinden bazılarıdır.

**Bu parçada sözü edilen sanatçı aşağıdakilerden hangisidir?**

- A) Oktay Rifat Horozcu
- B) Orhan Veli Kanık
- C) Melih Cevdet Anday
- D) Turgut Uyar
- E) Ece Ayhan

20. *Bir Serencam* adlı öykü kitabında toplumsal baskı ve birey çatışmasını işleyen yazar, Fecriati topluluğunun dağılmasından sonra Millî Edebiyat Dönemi'nde bayrağı taşır. Sanatçı; bu dönem romanlarında, Tanzimat'tan Cumhuriyet'e kadar olan süreçte Türk toplumundaki değişimleri, bunalmaları, problemleri, aydın-halk çatışmasını, ülke gerçeklerini ve millî duyguları işlemiştir. Eserlerinde çok bilinçli bir gözlem vardır. Realisttir. Karakterleri özgündür. Tanzimat'la başlayan Batı etkisini ve bu etkinin üç nesilde meydana getirdiği değişiklikleri, II. Meşrutiyet'ten sonraki toplum ve kültür hayatını anlattığı eserleri, edebiyatımızın önemli yapıtlarındandır.

**Bu parçada söz edilen sanatçı aşağıdakilerden hangisidir?**

- A) Ahmet Hikmet Müftüoğlu
- B) Yakup Kadri Karaosmanoğlu
- C) Reşat Nuri Güntekin
- D) Refik Halit Karay
- E) Halit Ziya Uşaklıgil

21. **Aşağıdaki açıklamalardan hangisi parantez ( ) içinde verilen kavramla uyuşmamaktadır?**

- A) Anlatılmak istenen bir şeyin alay olduğunu belli edecek biçimde tersinden söylenerek anlatılması. (İroni)
- B) Kahramanın zihninden geçenlerin aralıksız ve belli bir düzen olmaksızın aktarılması. (Gösterme)
- C) Bir sanatçının üslubunun, dil ve anlatım özelliklerinin onu anımsatacak şekilde taklit edilmesi. (Pastiş)
- D) Olayların açıklanması, bir problemin çözülmesi için şimdiki zamandan geçmiş zamana dönülmesi. (Geriye dönüş)
- E) Kişilerin ve durumların, özellikle kahramanların iç dünyasında olup bitenin anlatılması. (İç çözümleme)

22. (I) Meddahlar, Türklerin İslamiyet'i kabul etmelerinden önce halk arasında kahramanlık destanlarını anlatan ozanların bir devamı olarak İslamiyet'in kabulünden sonra ve sosyokültürel değişimlerin sonucunda özellikle kent merkezlerinde ortaya çıkan zümrelerden biridir. (II) Meddahların en önemli niteliklerinden biri hikâye anlatıcılıklarıdır ve onlar özellikle gerçekçi halk hikâyeleri anlatmışlardır. (III) Bu hikâyelerde olağanüstü öğeler atılmış; dev, peri gibi tabiatüstü varlıklara, insanüstü gücü olan kahramanlara, menkıbelerdeki kerametlere yer verilmemiştir. (IV) Şiir dilini kullanmayan meddah, yerine göre taklitlerle gerçeklik duygusunu güçlendirmeye çalışmıştır. (V) Meddahların gösterilerde doğaçlama yapmalarının yanında gösteriye başlarken ve gösteriyi bitirirken anlattıkları belli hikâyeleri vardır.

**Bu parçada numaralanmış cümlelerden hangisinde bilgi yanlışı vardır?**

- A) I      B) II      C) III      D) IV      E) V

23. Oyun yazarlığımız 1960'lı yıllarda nitelik ve nicelik bakımından büyük bir gelişim gösterir. Biçimsel olarak epik, absürt, varoluşçu, grotesk, gerçeküstücü ve soyutlamaya dayanan türler denendiği görülür. Bunun yanında tiyatromuzun ulusallaşması başlığı altında da geleneksel tiyatro biçimlerinden yararlanılarak oyun metinleri oluşturulur. Öte yandan oyunlarda kullanılan tarihsel ya da kırsal çevre de oyunların biçimsel olarak düzenlenişini etkileyen bir başlık olarak düşünülmelidir.

**Bu parçadan hareketle 1960'lı yılların Türk tiyatrosuyla ilgili aşağıdakilerden hangisine ulaşılamaz?**

- A) Türk tiyatrosunun ciddi gelişme gösterdiği yıllardır.  
B) Tiyatro türlerinin çeşitliliğinin arttığı görülür.  
C) Geleneksel Türk tiyatrosundan esinlenerek oluşturulan metinlere rastlanır.  
D) Tiyatro farklı akımların etkisinde gelişim göstermiştir.  
E) Türk tiyatrosunda yeni türlerin kullanılması Türk tiyatrosunun dünya çapında tanınmasını sağlamıştır.

24. ---- akla ve sağduyuya değer verir. Sanat kaygısının ön planda tutulduğu bu akımda önemli olan konu değil konunun işleniş şeklidir. ---- insan kişiliğini anlatabilmek için soya çekim yasalarından ve toplum biliminden yararlanır. Yaşamı bütün yönüyle ele alır. Bu anlayışa bağlı sanatçıların yazdığı romanlarda kahramanların portreleri en ince ayrıntılarına kadar verilir.

**Bu parçada boş bırakılan yerlere sırasıyla aşağıdakilerden hangisi getirilmelidir?**

- A) Natüralizm - Realizm  
B) Realizm - Sürrealizm  
C) Romantizm - Sembolizm  
D) Parnasizm - Romantizm  
E) Klasisizm - Natüralizm

25. **Tarih öncesi dönemlerde yaşamış bir topluluğun bulunduğu bölgede yapılan kazılarda;**

- I. keten elbise,  
II. toprak vazo,  
III. deriden yapılmış kın

**gibi bulgulardan hangisinin bulunması bu topluluğun hayvancılıkla uğraştığını kanıtlar?**

- A) Yalnız I      B) Yalnız III      C) I ve II  
D) I ve III      E) II ve III

26. Orta Çağ'da en önemli geçim kaynakları; tarım, hayvancılık ve ticarettir.

**Buna göre Orta Çağ ekonomisini;**

- I. coğrafi yapı,
- II. iklim,
- III. jeopolitik konum

**gibi durumlardan hangilerinin belirlediği söylenebilir?**

- A) Yalnız I                      B) Yalnız III                      C) I ve II  
D) II ve III                      E) I, II ve III

27. İslam tarihinde görülen;

- I. Bedir Savaşı,
- II. Uhud Savaşı,
- III. Mu'te Savaşı,
- IV. Tebük Seferi

**gibi olaylarından hangileri Bizans ile İslam Devleti arasında yaşanmıştır?**

- A) Yalnız I                      B) Yalnız II                      C) Yalnız III  
D) II ve III                      E) III ve IV

28. Osmanlı Beyliği'nde "İnsanı yaşat ki devlet yaşasın" düşüncesi ile;

- I. fethedilen topraklarda kalıcılığın sağlanması,
- II. ülkedeki birlik ve beraberliğin sağlanması,
- III. teşkilatlanma çalışmalarının yapılması

**gelişmelerinden hangileri arasında doğrudan ilişki kurulabilir?**

- A) Yalnız I                      B) Yalnız II                      C) Yalnız III  
D) I ve II                      E) I, II ve III

29. Osmanlı Devleti'nin toprak sisteminin temelini oluşturan tımar sistemi daha önce;

- I. Uygurlar,
- II. Selçuklular,
- III. Memlûklar

**devletlerinden hangileri tarafından uygulanmıştır?**

- A) Yalnız I                      B) Yalnız II                      C) Yalnız III  
D) I ve II                      E) II ve III

30. 1848 İhtilali, ekonomik buhranın tarım sektörünü bitirme noktasına getirmesiyle başlamış ve gelişen endüstrinin işçi sınıfına karşı takındığı sert tavır yüzünden devam etmiştir. Ekonomik buhran, işsizliğin yanı sıra işçi sınıfının da iş yükünün artmasına sebep olmuştur.

**Bu süreçte öne çıkan fikir akımı aşağıdakilerden hangisidir?**

- A) Liberalizm
- B) Kapitalizm
- C) Marksizm
- D) Sosyalizm
- E) Merkantilizm

31. Anadolu'yu işgal için gelen ancak 3 Ekim 1921'de başlayan Mudanya Ateşkes görüşmelerine doğrudan katılmayan devlet aşağıdakilerden hangisidir?

- A) İngiltere
- B) İtalya
- C) Fransa
- D) Rusya
- E) Yunanistan

32. Kurtuluş Savaşı sırasında Batı Cephesi'nde düzenli ordu ile gerçekleştirilen aşağıdaki muharebelerden hangisi başarısızlıkla sonuçlanmıştır?

- A) I. İnönü
- B) II. İnönü
- C) Kütahya - Eskişehir
- D) Sakarya
- E) Aslıhanlar - Dumlupınar

33. Laiklik ilkesinin amacı;

- I. Laik hukuk sistemi oluşturmak,
- II. Toplum düzenini laikleştirmek,
- III. Siyasi yapıda laik düzeni yerleştirmek

**olmuştur. Bu doğrultuda kabul edilen kanunlar veya gerçekleştirilen inkılaplar aşağıdakilerin hangisinde doğru sıralanmıştır?**

- A) Medeni Kanun - Şapka Giyilmesi Hakkındaki Kanun - Halifeliğin Kaldırılması
- B) Tevhid-i Tedrisat Kanunu - Medeni Kanun - Halifeliğin Kaldırılması
- C) Medeni Kanun - Şapka Giyilmesi Hakkındaki Kanun - Cumhuriyetin İlanı
- D) Türk Ceza Kanunu - Soyadı Kanunu - Saltanat'ın Kaldırılması
- E) Medeni Kanun - Halifeliğin Kaldırılması - Genel Kurmay Başkanlığının Kurulması

34. Türkiye ve Yunanistan arasında yaşanan aşağıdaki gelişmelerden hangisi iki dünya savaşı arası döneme aittir?

- A) Kıbrıs Sorunu
- B) Kıta Sahanlığı Sorunu
- C) Nüfus Mübadelesi
- D) FIR Hattı Sorunu
- E) Ege adalarının silahlandırılması



35. Aşağıda bir örgütün kuruluşu ve hedefleriyle ilgili bazı bilgiler verilmiştir.

- 1999 yılında ABD ve Kanada Maliye bakanlarının öncülüğünde Washington'da kurulmuştur.
- 1994'te Meksika'da, 1997'de Asya'da ve 1998'de Rusya'da yaşanan finansal krizler kuruluşunda etkili olmuştur.
- Gelişmiş ve gelişmekte olan ülkelerin oluşturduğu ve küresel ekonomik kararların alındığı örgüt, uluslararası ekonomik iş birliğini artırmayı hedeflemektedir.

Bilgileri verilen örgüt aşağıdakilerden hangisidir?

- A) Grup 20 (G-20)  
 B) Gelişen Sekiz Ülke (D-8)  
 C) Kuzey Atlantik Antlaşması Örgütü (NATO)  
 D) Karadeniz Ekonomik İşbirliği Teşkilatı (KEİ)  
 E) Ekonomik İşbirliği ve Kalkınma Örgütü (OECD)

36. Küresel iklim değişimi, insanların atmosferdeki kimyasalların dengesini bozması ve atmosferin sera etkisine müdahalesi ile gerçekleşmiştir. Beşerî ve ekonomik faaliyetler sırasında atmosfere salınan su buharı, karbondioksit, metan, azot oksit ve ozon gibi sera gazları küresel iklim değişiminin temel nedenidir.



Haritada numaralandırılarak gösterilen alanlardan hangisindeki beşerî ve ekonomik faaliyetler bu duruma daha az etki yapar?

- A) I    B) II    C) III    D) IV    E) V

37. Türkiye'de turizm etkinliklerinin belirli bir mevsimde yoğunlaştığı alanlar bulunmakla birlikte bu etkinliklerin birden fazla mevsimde devam ettiği alanlar da bulunmaktadır. Bazı alanlarda ise deniz ve kış turizmine uygun alanların birbirine yakın olduğu gözlenmektedir.



Haritada numaralandırılan yerlerden hangilerinde bu farklı turizm etkinliklerinin ikisine de uygun alanlar bulunur?

- A) I ve II    B) I ve III    C) II ve III  
 D) II ve IV    E) III ve IV

38. Bir coğrafya öğretmeni, dersinde biyoçeşitliliğin yeryüzündeki dağılışını etkileyen faktörleri anlatırken: "Kısa mesafede yükseltinin değişmesine bağlı olarak sıcaklık ve yağış değerlerinde önemli değişiklikler oluşabilmektedir. Aynı zamanda bakı durumu bir yerin sıcaklık koşullarını etkilemektedir. Nemli hava akımlarının yükselmesine uygun arazi yapısı ise nem ve yağış değerlerini etkilemektedir. Bir yere ait bu özellikler canlı tür çeşitliliğinin ve sayısının kısa mesafelerde değişmesine neden olmaktadır." demiştir.

Öğretmen, bu ifadesinde biyoçeşitliliğin yeryüzündeki dağılışını etkileyen hangi faktörü daha fazla vurgulamıştır?

- A) İklim  
 B) Su kaynakları  
 C) Toprak yapısı  
 D) Yeryüzü şekilleri  
 E) Kıtaların kayması

39. Türkiye'de bölgeler arasındaki sosyal, ekonomik farklılıkları azaltmak veya ortadan kaldırmak amacıyla uygulanan bölgesel kalkınma projelerinden birisi de Doğu Anadolu Projesi'dir.

**Aşağıdakilerden hangisi bu projenin amaçlarından değildir?**

- A) Kırsal ve kentsel alanlarda bölge halkının refah seviyesini yükseltmek
- B) Gıda, tarım ve hayvancılık sektöründe verimlilik ve katma değeri artırmak
- C) Kişi başına düşen gayri safi millî hasılayı artırmak
- D) Bölge dışına göçü azaltmak ve göçlere bağlı olarak gelişen sorunları en aza indirmek
- E) Altyapı çalışmaları yaparak ülkedeki ağır sanayi tesislerini bölge illerine taşımak

40. Şehirleşme sürecinde, çeşitli etkenlere bağlı olarak nüfusun şehirlerde veya şehirlerin etrafında yoğunlaştığı görülmektedir.

**Bu durumun oluşmasındaki temel etken aşağıdakilerden hangisidir?**

- A) İş imkânları
- B) Çevre sorunları
- C) Eğitim olanakları
- D) Trafik yoğunluğu
- E) Doğal kaynak tüketimi

1. Bu testte sırasıyla, Tarih-2 (1-11), Coğrafya-2 (12-22), Felsefe Grubu (23-34), Din Kültürü ve Ahlak Bilgisi (35-40), Din Kültürü ve Ahlak Bilgisi dersini yasal olarak almak zorunda olmayan veya farklı müfredat ile alanlar için Felsefe Grubu (41-46) alanlarına ait toplam 46 soru vardır.

2. Cevaplarınızı cevap kâğıdının Sosyal Bilimler-2 Testi için ayrılan kısmına işaretleyiniz.

1. Hazar Hakanlığı VIII. ve IX. yy.larda Avrupa'nın en güçlü devletlerinden biri oldu. Tarihe "Hazar Barış Çağı" olarak geçen dönemde, çeşitli milletlerin tüccarlarının ülkelerinde serbestçe dolaşmasına imkân verdi. Diğer yandan ticaret yollarının güvenliğini sağlamak için önemli yerlere kaleler yaptırdı. Hazar Barış Çağı'nda sağlanan güven ortamının etkisi ile tüccarlar ve zanaatkârlar Hazar şehirlerine yerleşirken halkın refah seviyesi de yükseldi. Ayrıca farklı dinlerden tüccarlarla kurulan ticari ilişkiler sonucunda Hazarlar arasında Musevilik ve Hristiyanlık dinleri yayıldı.

**Buna göre Hazarlar Dönemi ile ilgili aşağıdakilerden hangisi söylenemez?**

- A) Hazarlar, ticaretin güven ortamında gelişmesini sağlayan önlemler almışlardır.  
 B) Hazarlarda halkın refah seviyesi yüksektir.  
 C) Hazarlarda ticari faaliyetlerden ötürü birden fazla din yayılma imkânı bulmuştur.  
 D) Hazarlar yayılmacı bir fetih siyaseti izlemiştir.  
 E) Hazarlar, kendi dönemlerinde ekonomik yönden güçlü bir devlettir.

2. • Orta Asya Türk devletlerinde halk, ülkeyi yöneten hakana bu yetkinin Gök Tengri tarafından verildiğine inanıyordu.  
 • Emeviler Devleti'nde hükümdarlar Allah adına hareket ettiklerini göstermek için "halife" unvanını kullanmışlardı. Aynı şekilde Abbasi halifeleri de Allah'ın yeryüzündeki temsilcileri olduklarını söyleyip uyruklarını bir arada tutmak istemişlerdi.  
 • Sasanilerde kral Zerdüştlük dininin simgesi olan kutsal ateşin koruyucusu kabul ediliyordu.  
 • Bizanslılar yeryüzündeki imparatorluklarının tanrının krallığının bir görünümü olduğuna inanırlardı.

**Verilen bilgilerden çıkarılabilecek en kapsamlı yargı aşağıdakilerden hangisidir?**

- A) Meşruiyetlerinin kaynağını Tanrı'ya dayandırmışlardır.  
 B) Devletler birbirleri ile etkileşimde bulunmuştur.  
 C) Bizanslıların imparatorlukla yönetimleri diğer topluluklara örnek olmuştur.  
 D) Emeviler ve Abbasiler aynı inanışa sahiptirler.  
 E) Gök Tanrı inancı geniş bir coğrafyada etkili olmuştur.

**3. Osmanlı Devleti;**

- I. ekberiyet,  
 II. iltizam,  
 III. dirlik

**uygulamalarından hangilerini kendinden önce kurulan Türk devletlerinden almıştır?**

- A) Yalnız I      B) Yalnız II      C) Yalnız III  
 D) I ve II      E) I, II ve III

4. Osmanlı Devleti'nin teşkilatlanmasında önemli bir yeri olan kadının;

- I. idarî
- II. askerî
- III. eğitim

alanlarından hangileri ile ilgili görevlerinin bulunduğu söz edilebilir?

- A) Yalnız I
- B) I ve II
- C) I ve III
- D) II ve III
- E) I, II ve III

5. 11. Sınıf Tarih Ders Kitabı'nın 3. Ünitesi'nde yer alan Hazırlanım bölümünde;

1. Osmanlı Devleti'nin XVIII. yüzyıldan itibaren Avrupalı devletlere karşı güç kaybetmesinin sebepleri nelerdir?
2. Avrupalı devletlerin Osmanlı Devleti'ne yönelik politikalarında Şark Meselesi'nin etkileri nelerdir?
3. XVIII. yüzyıldan itibaren Osmanlı Devleti ile Rusya arasında yaşanan mücadelenin sebepleri nelerdir?

sorularına yer verilmiştir.

**Bu sorular dikkate alındığında aşağıdaki yargılardan hangilerine ulaşamaz?**

- A) Avrupalı devletlerin ortak hedefi Osmanlı Devleti'dir.
- B) Osmanlı Devleti XVIII. yüzyılda Avrupalı devletler karşısında bazı başarısızlıklar yaşamıştır.
- C) Şark Meselesi, Avrupalıların Osmanlı Devleti'ni parçalama projesidir.
- D) Osmanlı Devleti XVIII. yüzyılda birden çok devletle mücadele halindedir.
- E) Osmanlı Devleti'nin Rusya ile sorunları XVIII. yüzyılda başlamıştır.

6. I. Londra Antlaşması (1840)
- II. Hünkar İskelesi Antlaşması (1833)
- III. Paris Antlaşması (1856)

**Yukarıda verilen gelişmelerden hangilerinin Mısır Meselesi ile ilgili olduğu söylenebilir?**

- A) Yalnız I
- B) Yalnız II
- C) I ve II
- D) I ve III
- E) II ve III

7. Aşağıdakilerden hangisi Mondros Ateşkes Antlaşması'ndan sonra İngilizler tarafından ilk işgal edilen yerdir?

- A) İzmir
- B) İstanbul
- C) Bursa
- D) Musul
- E) Van

8. Ermenistan ile BMM arasında 3 Aralık 1920 tarihinde imzalanan Gümrü Barış Antlaşması'nın önemli bazı maddeleri şunlardır:

- I. Ermenistan BMM'yi tanıyacaktır.
- II. Kars, Sarıkamış, Kağızman, Iğdır ve Oltu BMM Hükûmeti'ne bırakılacaktır.
- III. İsteyen Ermeniler Türkiye'ye göç edebilecektir.

**Buna göre Gümrü Antlaşması ile aşağıdaki yargılardan hangisine ulaşamaz?**

- A) BMM Hükûmeti'nin uluslararası alanda siyasi başarı kazanmıştır.
- B) Ermeniler, Anadolu üzerindeki her türlü isteklerinden vazgeçmişlerdir.
- C) Sevr Antlaşması'nın Ermeniler ile ilgili maddeleri geçersiz olmuştur.
- D) Ermenistan BMM'nin varlığını tanımıştır.
- E) Güney cephesi kapanmıştır.

9. • Din ve vicdan hürriyetini önemser.  
• Sürekli yenileşmeyi ve değişimi öngörür.  
• Sınıf ayrımını reddeder.  
• Türk kültüründen doğmuştur.
- Atatürk ilkeleri'ne ait verilen özellikler aşağıdaki ilkelerle eşleştirildiğinde hangisi ile ilgili bilgiye ulaşamaz?**

- A) İnkılapçılık      B) Laiklik      C) Milliyetçilik  
D) Halkçılık      E) Devletçilik

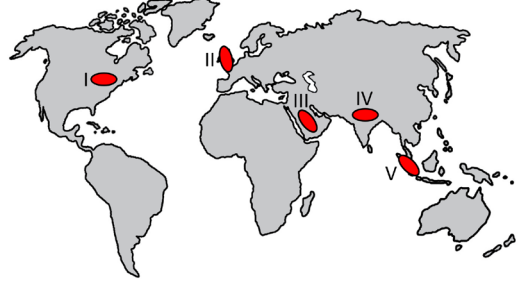
10. **Aşağıdakilerden hangisi Türkiye'nin II. Dünya Savaşı sürecinde almış olduğu önlemler arasında gösterilemez?**

- A) Toprak Reformu'nun yapılması  
B) Millî Korunma Kanunu'nun çıkarılması  
C) İaşe Müsteşarlığının kurulması  
D) Varlık Vergisi Kanunu'nun çıkarılması  
E) Ekmek Karnesi Uygulaması'nın yapılması

11. **1929 Dünya Ekonomik Krizi'nin Türkiye'de;**  
I. döviz üzerinde devlet denetimin artması,  
II. gümrük vergilerinin yükseltilmesi  
III. dış ticarete takas sisteminin uygulanması  
**gibi gelişmelerden hangilerine yol açtığı söylenebilir?**

- A) Yalnız I      B) Yalnız II      C) Yalnız III  
D) I ve II      E) I, II ve III

12. Aşağıdaki haritada bazı alanlar numaralandırılarak gösterilmiştir.



**Yıllık yağış miktarının 200 mm'nin altında olduğu alanlarda yaşamaya uyum sağlamış bir canlı haritadaki alanların hangisinde daha geniş bir yaşam alanına sahip olur?**

- A) I      B) II      C) III      D) IV      E) V

13. Dünya üzerindeki önemli kültür bölgelerinden biri de Latin Amerika Kültür Bölgesi'dir. Bu kültür, Orta ve Güney Amerika ile Karayip Adaları'nı da içine alan bir bölgede dağılışı göstermektedir.

**Aşağıdakilerden hangisi bu kültürle ilgili olarak söylenebilir?**

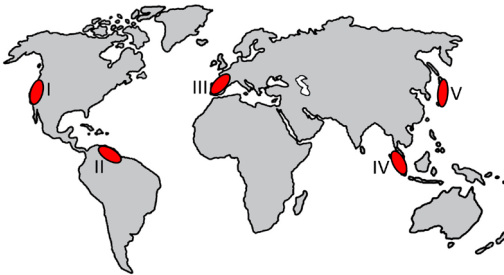
- A) Batı Avrupa kültüründen etkilenmiştir.  
B) Son yüzyılda izole kültür özelliği kazanmıştır.  
C) Dini yapısı Doğu kültürü ile benzerlik gösterir.  
D) İslam Kültür Bölgesi'nin genişlemesinde etkili olmuştur.  
E) Slav kültürünün şekillenmesinde belirleyici bir etkisi vardır.

14. Doğal kaynakların sürdürülebilir kullanımında, tüketimde kullanılan yöntem ve teknolojiler de etkilidir. Bu yöntem ve teknolojiler ülkelere göre değişiklik gösterebilir.

Ülkeler arasındaki bu değişiklikte aşağıdakilerden hangisi daha belirleyici bir farklılıktır?

- A) Doğal kaynağın türü  
B) Tüketici nüfus sayısı  
C) Doğal kaynak rezerv miktarı  
D) Gelişmişlik düzeyinin farklılığı  
E) Doğal kaynağın tüketim miktarı

15. Plantasyon tarımı, tropikal ve subtropikal bölgelerin bazı alanlarında ticari amaçla bir veya birkaç çeşit ürün yetiştirmeye dayalı tarım yöntemidir. Özellikle kahve, kakao, kauçuk gibi ürünlerin yetiştirilmesinde bu yöntem yoğun olarak tercih edilmektedir.



Haritada numaralandırılan alanların hangilerinde bu tarım yönteminin daha yaygın olduğu söylenebilir?

- A) I ve II  
B) I ve III  
C) II ve IV  
D) III ve V  
E) IV ve V

16. Ülkeler arası siyasi ve ekonomik ilişkilerin düzenlenmesi ve güvenliğin sağlanması gibi amaçlarla uluslararası küresel ve bölgesel örgütler kurulmuştur.

Buna göre;

- I. Avrupa Birliği  
II. İslam İşbirliği Örgütü  
III. Bağımsız Devletler Topluluğu  
IV. Petrol İhraç Eden Ülkeler Örgütü

örgütlerinden hangileri bölgesel amaçlı kurulmuş örgütler arasında yer alır?

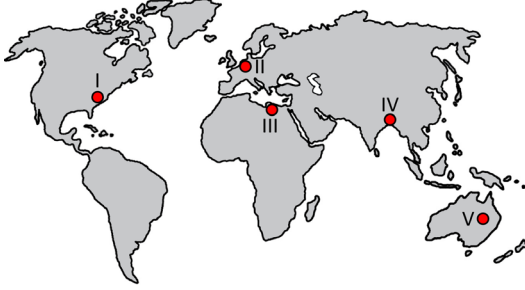
- A) I ve II  
B) I ve III  
C) II ve III  
D) II ve IV  
E) III ve IV

17. Nüfus politikaları, nüfus artış hızını artırma, azaltma veya nüfusun niteliğini iyileştirmeye dönük yapılan uygulamalardır.

Bu uygulamalar ile ulaşılmak istenen amaçlar arasında aşağıdakilerden hangisi gösterilemez?

- A) Kalkınma hızını artırmak  
B) İşsizlik oranlarını azaltmak  
C) Cinsiyet oranını dengelemek  
D) Eğitim seviyesini yükseltmek  
E) Sağlık hizmetlerini genele yaymak

18. Yıl içindeki yağışların büyük bölümünün belirli bir mevsimde gerçekleşmesi, yerleşmelerin vadi tabanı ve yakın çevresindeki alanlarda kurulması ekstrem boyutlardaki sel ve taşkınlara bağlı zararları artırmaktadır.



Haritada numaralandırılan yerlerden hangisinde bu durum **daha fazla** yaşanmaktadır?

- A) I    B) II    C) III    D) IV    E) V

19. I. Sulama  
II. Makineleşme  
III. Tohum ıslahı

Türkiye’de tarımsal verimliliği artırmada etkili olan yukarıdaki çalışmalardan hangileri doğal koşullardan **daha fazla** etkilenmektedir?

- A) Yalnız I    B) Yalnız II    C) Yalnız III  
D) I ve II    E) II ve III

20. İnsanlık tarihi boyunca ülkeler ve topluluklar arasında çatışmalar ortaya çıkmıştır. Günümüzde de devam etmekte olan bu çatışmaların belli başlı temel nedenleri vardır.

Aşağıdakilerden hangisi bu temel nedenler arasında **gösterilemez**?

- A) Etnik farklılıklar  
B) Sınır aşan su kaynakları  
C) Ulaşım yollarının kontrolü  
D) Enerji kaynaklarının paylaşımı  
E) Ekonomik etkinliklerin farklılık göstermesi

21. Eski dünya karalarında yaşayan ve doğal yolla okyanus ötesindeki karalara göç etmelerinin mümkün olmadığı bazı canlı türleri, coğrafi keşifler sonrasında insanlar tarafından yeni dünya karalarına taşınmış ya da tam tersi olarak yeni dünya karalarından diğer kara alanlarına canlı türleri taşınmıştır.

Bu durumla ilgili olarak;

- I. Taşınan canlı türlerinin nesli tükenmiştir.  
II. Bazı alanlarda biyoçeşitliliğe yeni türler dâhil olmuştur.  
III. Yeni türler diğer alanların ekosisteminde değişikliğe yol açmıştır.

yargılarından hangilerine ulaşılabilir?

- A) Yalnız I    B) Yalnız II    C) Yalnız III  
D) I ve III    E) II ve III

22. Dünyadaki hızlı nüfus artışıyla birlikte doğal kaynak tüketimi de artmıştır. Ayrıca tüketim ve üretim süreci boyunca ortaya çıkan atıklar pek çok çevre sorununa yol açmıştır. Günümüzde bu sorunlar, olduğu ülkenin sınırlarını aşarak küresel boyutlara ulaşmıştır.

Bu durum aşağıdaki gelişmelerden hangisi üzerinde **daha etkili** olmuştur?

- A) Uluslararası çevre anlaşmalarının yapılması  
B) Küresel ticarete fosil yakıtların payının artması  
C) Tropikal bölgelerden endüstriyel ham madde elde edilmesi  
D) Yüksek karbon içerikli organik kökenli kaynakların kullanımının artması  
E) Deniz ve okyanuslarda avcılık yoluyla elde edilen balık miktarının artması

23. Kierkegaard'a göre etik olan evrensel ve evrensel olduğu için herkes için geçerlidir, başka bir ifadeyle her an için geçerlidir. Kendi içinde içseldir, kendi dışında hiçbir şeyi yani telos'u (amaç, maksat) yoktur; ancak o dışarıdaki her şeyin telos'udur. Ve içi doldurulduğunda, gidecek daha ilerisi yoktur.

**Bu parça ahlak felsefesinin aşağıdaki problemlerinin hangisine cevap niteliğindedir?**

- A) Ahlaki eylemin amacı nedir?
- B) İnsan ahlaki eylemlerinde özgür müdür?
- C) Evrensel bir ahlak yasası mümkün müdür?
- D) Özgürlük ve sorumluluk arasında nasıl bir ilişki vardır?
- E) Ahlak yargısını diğer yargılardan ayıran özellikler nelerdir?

24. Bilginin oluşması için bilmek isteyen bir varlığın bilinmesi gereken varlığa yönelmesi gerekir. Suje ve objenin etkileşimi sonucu oluşan, ereği hakikat olan ürünlere bilgi denir. Fakat her suje obje bağlantısının sonucu hakikat değildir. Hakikat(doğruluk) sujenin obje hakkındaki düşüncesinin, objenin gerçekliğiyle olan uygunluğudur.

**Buna göre hakikatle ilgili olarak aşağıdaki yargıların hangisine ulaşılabilir?**

- A) Bilinçten bağımsız, nesnel olarak var olan her şeydir.
- B) Bir düşüncenin dayanaklarını ortaya koymaktır.
- C) Bir ifadenin, işaret ettiği gerçekliği yansıtmasıdır.
- D) İnsanın akılsal ve ruhsal yanının ürünü olan gerçekliklerdir.
- E) Olgusal dünyaya içkin olan fenomenlerdir.

25. Felsefi bir görüşün sorgulanması, o görüşün analiz edilmesine, filozofun kullandığı kavramların tespit edilmesine, özgün kavramları varsa bunların anlaşılmasına, nihayetinde görüşün layıkıyla kavranmasına dayanır. Böylece ele alınan felsefi görüşte öne sürülen argümanların gerçeği yansıtmadığı tespit edilebilir, argümanlar arasındaki tutarlılık denetlenebilir.

**Buna göre aşağıdakilerden hangisi felsefi görüş sorgulanırken yapılması gereken işlemlerden biri olamaz?**

- A) Metinde geçen temel görüşlerin tespit edilmesi
- B) Metinde bilgi hatasının olup olmadığının incelenmesi
- C) Metinde filozofun kullandığı kendine has kavramların irdelenmesi
- D) Filozofun görüşünün objektif nitelik taşıyıp taşımadığına bakılması
- E) Argümanların akıl ilkelerine uygunluğunun değerlendirilmesi

26. Çabuk sinirlendiğini ve öfke kontrolünün olmadığını düşünen bir kişi psikoloğuyla görüşmeye gider. Psikoloğu danışanına, kan tahlili yaptırmasını ve tiroid hormonuna baktırmasını önerir. Ayrıca hormonların insan davranışları üzerinde etkileri olduğu ve bu etkilerin ilaçlarla tedavi edilebileceği hakkında bilgi verir.

**Bu parçada psikolojinin ilişkili olduğu hangi bilimin verilerinden söz edilmektedir?**

- A) Antropoloji
- B) Fizyoloji
- C) Genetik
- D) Sosyoloji
- E) Zooloji



27. Her birimiz sözlerimiz, mimiklerimiz ve beden dilimizle duygularımızı ele veririz. Çünkü duygular edimlerimizi etkiler ve şekillendirir. O halde duyguları anlamak davranışı da davranışın nedenlerini de anlamayı sağlayacaktır. Bazen bireyler hissettiklerinin tam tersini de söyleyebilir. Bu bağlamda beden dili çoğu zaman kişinin gerçek duygularını anlatır bize... Peki acaba duygu kontrolü mümkün müdür? Bireyler yaşamlarının ilk dönemlerinde bu kontrolü tam anlamıyla sağlayamazlar da zaman içinde buldukları toplum içinde önce aileleri ve sonra diğer etkenlerin de etkisiyle duygularını kontrol edebilmeyi ve onlarla başa çıkmayı öğrenirler. Fakat çok yoğun yaşanan duyguların kontrol edilmesi zordur. Hatta bu duygular bireyde depresyon, migren, mide rahatsızlıkları gibi hastalıkları tetikleyebilir.

**Bu parçadan duygularla ilgili olarak aşağıdakilerden hangisine ulaşamaz?**

- A) Kontrolünde sosyalleşmenin etkili olduğuna
- B) Bireyin davranışlarını biçimlendirdiğine
- C) Çocuklukta denetlenmesinin zor olduğuna
- D) Fiziksel ve ruhsal rahatsızlıklara neden olabileceğine
- E) Kendini tanıyan insanların duygularını saklayabileceğine

28. Fenomenolojik yaklaşıma göre her birey kendini ve etrafında olup biteni subjektif olarak algılar. Bu algılama sürecinde bireylerin kendilerini karşısındaki bireylerin yerine koyarak onların duygu ve düşüncelerini anlamaya çalışması son derece önemli bir durumdur. Çünkü bireyler davranış kalıplarını içinde yaşadıkları sosyal çevre aracılığıyla kazanırlar ve davranışları da benlikleri de bu sayede şekillenir. Ruh sağlığı yerinde olan bireyler kendilerini ve çevrelerini gerçekçi bir biçimde irdeleme özelliğine sahiptir. Aynı zamanda benlik saygısı gelişmiş bireyler hem kendilerine değer verir hem de yaşadıkları hayatla barışık ve gelişmeye açık bir kişilik sergiler. Bununla birlikte bireyler uygun koşullar sağlandığında bilinçli ve özgür kararlar verebilir ve potansiyelini en üst basamağa kadar taşıyabilir. Çünkü her birey biricik ve değerlidir.

**Bu parçadan Fenomenolojik yaklaşımla ilgili aşağıdakilerden hangisine ulaşamaz?**

- A) Empati kurmanın bireyin benliği üzerinde etkili olduğuna
- B) Benlik gelişiminde sosyalleşmenin gerekliliğine
- C) Kendini gerçekleştirimin benlik saygısına dayandığına
- D) Her insanın kendine özgü bir bakış açısına sahip olduğuna
- E) Benliğin toplumdan bağımsız özgür bir biçimde oluşabileceğine

29. Birey farklı bir kültüre oryantasyon sürecinde karmaşık duygular ( korku, heyecan, endişe vb.) yaşayabilir ve kendini alışık olmadığı bu kültürde kaybolmuş hissedebilir. Çünkü birey kendi kültüründen farklı olan bu kültürde nasıl davranması gerektiğini bilmediği için, o toplumun üyeleri arasında kendini "öteki, yabancı" hissedebilir. Farklı ülkelere çalışmak, eğitim almak için giden, mesleği gereği göç etmek durumunda kalan bireylerde bu durum sıklıkla görülür.

**Bu parçada anlatılan kavram aşağıdakilerden hangisidir?**

- A) Kültür emperyalizmi
- B) Kültür şoku
- C) Kültürlenme
- D) Kültürel gecikme
- E) Kültürel yozlaşma

30. Sosyalleşme, insanın toplumsal yaşama uygun davranışları ve değerleri öğrenme sürecidir. Bu süreç, kişinin doğumuyla başlayarak onun dili, yaşadığı kültürü öğrenmesini ve gelecek kuşaklara aktarmasını içerir. Bireyin sosyalleşmesinde aile, okul, arkadaş grupları ve kitle iletişim araçları etkilidir.

**Buna göre aşağıdakilerden hangisinde bireyin sosyalleşmesinde arkadaş gruplarının etkisi en azdır?**

- A) Bireyin liderlik becerilerinin gelişmesinde
- B) Bir amaç doğrultusunda ortak çalışma kültürü oluşturulmasında
- C) Değerlere yönelik tecrübe edinilmesinde
- D) Gruba ilişkin aidiyet duygusunun oluşmasında
- E) Dil ve temel davranış kalıplarını öğrenmede

31. I. Nüfus yoğunluğunun az olması  
 II. Kültürel çeşitlilik  
 III. Samimi ilişkilerin ağırlıkta olması  
 IV. Toplumsal gelişmenin oldukça hızlı olması

**Numaralandırılmış özelliklerden hangileri köy toplumu için söylenebilir?**

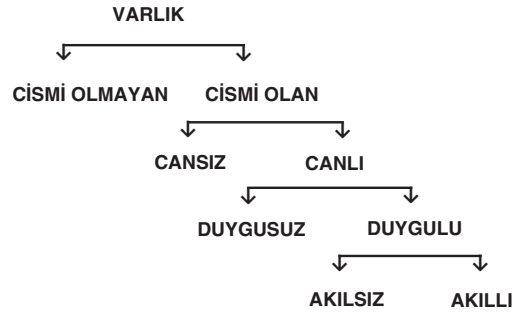
- A) Yalnız I
- B) Yalnız IV
- C) I ve II
- D) I ve III
- E) II ve IV

32. Bileşik önermeleri oluşturan basit önermelere ana bileşen, ana bileşenleri birbirine bağlayan önermelere ana eklem denir. Her bileşik önermede bir veya birden fazla eklem olabilir. Aynı şekilde bir veya daha fazla sayıda bileşene sahip bileşik önermeler de olabilir.

**Aşağıda verilen önermelerden hangisinin tek bileşeni vardır?**

- A)  $p \wedge q$
- B)  $\sim p \vee \sim q$
- C)  $\sim p$
- D)  $(\sim p \Rightarrow \sim q) \wedge q$
- E)  $\sim(p \vee q)$

33.



**Porphyrios ağacı olarak bilinen şemaya göre aşağıdaki yargılardan hangisi yanlıştır?**

- A) Duygulunun yakın cinsi canlıdır.
- B) Cismi olan varlığın türüdür.
- C) Akıllının uzak cinsi duyguludur.
- D) Duygusuz ve cansız cismi olanın türleridir.
- E) Duygulunun uzak cinsi varlıktır.

34. Aristoteles, evreni anlamak ve açıklamak isteyen insanın uymak zorunda olduğu bazı ilkelerin olduğunu düşünüyordu. Birbiriyle uyuşmayan, birbirine ters birden fazla özelliğin aynı konuya aynı anda yüklenemeyeceğini kabul ediyordu. Mesela şu anda elimde bulunan ve yazı yazdığım kalemin, aynı bakımdan hem siyah renkte olması hem de olmaması mümkün değildir.

**Bu parçada;**

- I. Çelişmezlik  
II. Özdeşlik  
III. Üçüncü halin imkânsızlığı

**akıl ilkelerinden hangileri ile ilgili açıklama bulunmaktadır?**

- A) Yalnız I                      B) Yalnız II                      C) Yalnız III  
D) I ve II                      E) II ve III

**35 - 40. soruları Din Kültürü ve Ahlak Bilgisi dersini yasal olarak almak zorunda olanlar ve İmam Hatip Okulları öğrencileri/mezunları cevaplayacaktır.**

35. Duyu organları, bilgiyi elde etme araçlarımızdır. Duyularımızla elde ettiklerimizi aklımızla işleriz. Duyu organları sağlıklı bir şekilde kullanılmalı ki elde edilen veriler doğru olsun ve aklımız doğru bilgiyi işlesin. Doğru bilgi olmadan doğru kararlar verilmesi beklenemez. Bu sebeptendir ki Kur'an'da duyu organlarımıza vurgu yapılmış ve bunları etkin bir şekilde kullanmamız istenilmiştir.

**Aşağıdaki ayetlerden hangisi bu metin için örnek olarak verilemez?**

- A) "Allah, sizi analarınızın karnından, siz hiçbir şey bilmez durumda iken çıkardı. Şükredesiniz diye size kulaklar, gözler ve kalpler verdi." (Nahl suresi, 78. ayet.)  
B) "Biz insanı katışık bir nutfeden yarattık; onu deneriz, bu yüzden, onun iştmesini ve görmesini sağladık." (İnsân suresi, 2. ayet.)  
C) "Andolsun ki onlara, size vermediğimiz imkânlar vermiş ve kulaklar, gözler ve kalpler bahşetmiştik ama Allah'ın ayetlerini bile bile inkâr ettikleri için kulakları, gözleri ve kalpleri onlara bir fayda sağlamadı ve alaya aldıkları şeyler onları kuşatıp yok ediverdi." (Ahkaf suresi, 26 ayet.)  
D) "Rabbine karşı gelmekten sakınanlar için cennette üst üste yapılmış ve altlarından ırmaqlar akan köşkler vardır..." (Zümer suresi, 20. ayet.)  
E) "(Sana karşı çıkanlar) hiç yeryüzünde dolaşmadılar mı? Zira dolaşsalar elbette düşünecek kalpleri ve işitecek kulakları olurdu. Ama gerçek şu ki gözler kör olmaz; lâkin göğüsler içindeki kalpler kör olur." (Hac suresi, 46. ayet.)

36. Hiçbir varlık sebepsiz yaratılmamıştır. Bir yaratılış amacı vardır. Evrendeki düzen ve yaratılışındaki amaç, sonlu olan varlıklar tarafından gerçekleştirilemez. Ancak sonsuz akıl sahibi ve her şeye gücü yeten bir varlık tarafından gerçekleştirilebilir.

**Bu metinde Allah'ın varlığının ispatı için kullanılan delil hangisidir?**

- A) Ahlak delili
- B) Dini tecrübe delili
- C) Ontolojik delil
- D) Ekmel varlık delili
- E) Gaye delili

37. "Sizden biriniz öldüğü zaman, ona varıp oturacağı yeri sabah akşam gösterilir. O kimse cennet ehlinden ise cennetten; cehennem ehlinden ise cehennemden olan yeri gösterilir." (Buharî, Cenaiz, 90.)

**Bu hadisten hareketle aşağıdaki sonuçlardan hangisine ulaşılabilir?**

- A) İnsanın dünya yaşamı kabir hayatının da belirleyicisidir.
- B) İnsan yeniden dirilişe kadar kabir hayatında bekletilir.
- C) Ölen kişi kendisi adına yapılan hayırlardan haberdar olur.
- D) Eser bırakan kişilerin amel defteri kapanmaz.
- E) Kabir hayatı herkes için aynı şekilde yaşanacaktır.

38. Şifahane, İslam dünyasındaki hastanelerin genel adıdır. Bunun yanında çeşitli dönemlerde ..... adları ile de anılmıştır.

**Metindeki boşluğa aşağıdaki isimlerden hangisi getirilirse yanlış olur?**

- A) Bimaristan
- B) Daru'l-aceze
- C) Daru's-şifa
- D) Daru'l-afiye
- E) Daru's-sihha

39. İslam ve iman kavramları Kur'an'da bazı ayetlerde aynı anlamda ve birlikte kullanılmıştır.

**Aşağıdaki ayetlerden hangisi bu duruma örnek olarak verilebilir?**

- A) "...Yoksa siz kitabın bir kısmına inanıp bir kısmını inkâr mı ediyorsunuz? ..." (Bakara suresi, 85. ayet.)
- B) "Eğer onlar da sizin inandığınız gibi inanırlarsa doğru yolu bulmuş olurlar; dönerlerse mutlaka anlaşmazlık içine düşmüş olurlar..." (Bakara suresi, 137. ayet.)
- C) "...Andolsun ki, Rabbinden sana hak gelmiştir. Sakın şüphecilerden olma!" (Yunus suresi, 94. ayet.)
- D) "Musa: "Ey milletim! Allah'a inanıyorsanız ve teslim olmuşsanız O'na güvenin" dedi." (Yunus suresi, 84. ayet.)
- E) "...Kalpleri inanmamışken, ağızlarıyla, "İnadık" diyenler .....seni üzmesin..." (Maide suresi, 41. ayet.)

40. Mus'ab bin Umeyr, İslam'a ilk inananlardandır. Zengin bir ailenin çocuğudur ve bolluk içinde yaşamıştır. Ailesi Müslüman oluşuna tepki gösterir ve onu her türlü imkândan yoksun bırakır. Baskı yaparlar, hapsederler; ancak o tüm bunlara rağmen İslam inancını bırakmaz. Yaşananlar sebebiyle Mekke'den Habeşistan'a hicret eder. Sonra yine Mekke'ye döner ve Hz. Peygamber'in yanında İslam'ın yayılmasına hizmet eder.

**Bu metinden hareketle Mus'ab bin Umeyr ile ilgili aşağıdaki yargılardan hangisine ulaşamaz?**

- A) Müslüman olduktan sonra hayatında zor bir dönem başlamıştır.
- B) Baskılar artınca göç etmek zorunda kalmıştır.
- C) Öğretmenlik yönü ile öne çıkmış bir sahabidir.
- D) Ailesi Müslüman olmasını istememiştir.
- E) İslam'ın yayılması için önemli roller üstlenmiştir.

**41 - 46. soruları Din Kültürü ve Ahlak Bilgisi dersini yasal olarak almak zorunda olmayan veya farklı müfredat ile alanlar cevaplayacaktır.**

41. Kant, "Bir doğa güzelliği güzel bir şeydir; sanat güzelliği ise bir şey hakkında güzel bir tasarımdır." der.

**Bu görüşüyle Kant aşağıdakilerden hangisini vurgulamaktadır?**

- A) Doğa güzelliğiyle sanatsal güzelliğin birbiriyle çeliştiğini
- B) Sanatsal güzelliğin doğa güzelliğinin bir taklidi olduğunu
- C) Doğada güzel olan bir şeyin sanatta da güzel olacağını
- D) Hem doğadaki hem de sanattaki güzelin yaratıcı bir edimin ürünü olduğunu
- E) Doğal güzelliğin var olan sanat güzelliğinin ise oluşturulan bir şey olduğunu

42. Bu filozoflar mitolojik açıklamalarla yetinmemiş, evreni belirli bir neden-sonuç içinde açıklamışlardır. Onlar için sonsuz ve tözsel gerçeklik arkedir. Arkhe, evrende var olan her belirlenim ve hareketi var eden ilk ilke ve başlangıç noktasıdır.

**Bu parçada sözü edilen filozoflar aşağıdakilerden hangisidir?**

- A) Septikler
- B) Doğa filozofları
- C) İdealistler
- D) Sofist filozoflar
- E) Rasyonalistler

43. Ailece gittiğimiz bir tatilde gördüğümüz manzara karşısında hayran kalmıştık. İnşaat mühendisliğinde okuyan oğlum bu manzaraya villa tipinde evler yapılması gerektiğini, kızım ise burada birkaç gün kalmanın şarkı sözlerine ilham kaynağı olacağını söylüyordu.

**Bu parçada algıyı etkileyen faktör aşağıdakilerden hangisidir?**

- A) Tutumlar
- B) Kültürel özellikler
- C) Deneyim ve beklentiler
- D) İlgi ve ihtiyaçlar
- E) Kişilik özellikleri

44. Toplumsal yapı karmaşık ve çok yönlü olduğu için sosyoloji diğer bilim dalları ile yakın ilişki içerisinde hareket etmektedir.

**Buna göre;**

- I. Toplumsal kurumların yönetim şekillerinden nasıl etkilendiğini araştırmak.
- II. Sosyal grupların dinamiklerini ve bireylerin grup içindeki davranışlarını açıklamak.
- III. İnsanların ihtiyaçlarını ve bunların giderilmesini sağlayan mallar ve hizmetleri incelemek.
- IV. Demografik yapının, toplumsal kurumlar üzerindeki etkisini araştırmak.

**öncüllerinde verilen ifadeler sosyolojinin ilişkili olduğu aşağıdaki bilim alanları ile eşleştğinde hangisi dışarıda kalır?**

- A) Antropoloji
- B) Coğrafya
- C) Ekonomi
- D) Psikoloji
- E) Siyaset

45. Ülkeler arası ilişkilerin yaygınlaşması ve bunun sonucunda farklı toplumların oluşturduğu maddi ve manevi kültür içeriklerinin kendi milli sınırlarını aşması ve tüm dünyaya yayılması, hızla gelişen iletişim teknolojisi sonucunda tüm insanlığın anında her haberi öğrenmesi artık hepimize olağan gelen bir olgular zincirini oluşturmaktadır. Bu zincirin doğurduğu sonuç bütün dünya toplumlarının tek bir çatı altında toplanması, neredeyse ortak bir kültür oluşturmasıdır.

**Bu parçada ele alınan kavram aşağıdakilerden hangisidir?**

- A) Modernleşme
- B) Küreselleşme
- C) Toplumsal hareketlilik
- D) Toplumsal bütünleşme
- E) Kültürel yozlaşma

46. I. Hava kararırorsa yağmur yağar.  
II. Toplumsal kurallara uygun davranmalısın.  
III. Hiçbir insan gözlüklü değildir.  
IV. O oyuncuğu bana getir.

**Numaralandırılmış ifadelerden hangileri önermedir?**

- A) I ve II
- B) I ve III
- C) II ve III
- D) II ve IV
- E) III ve IV



# Kendini Deęerlendir



1

*Kare kodu okut.*

2

*Sınavını seę*

3

*Cevaplarını sisteme gir.*

4

*Eksik olduęun konuları analiz et.*

5

*Bu sınava katılanlar arasındaki sıralamanı gör.*





T.C. MİLLÎ EĞİTİM  
BAKANLIĞI

3 ADIM

DENEME SINAVLARI

1. ADIM

AYT  
sözel



4. DENEME

ADI VE SOYADI

OKUL ADI

ADAYIN İMZASI

**ADAYIN DİKKATİNE!**

1. Bu sınavda AYT soru dağılımları dikkate alınmıştır.
2. Deneme tam kapsam olup YKS konularının tamamını kapsamaktadır.
3. Bu sınav Türk Dili ve Edebiyatı - Sosyal Bilimler 1 Testi (TDE 24 soru, Tarih 10 soru, Coğrafya 6 soru) 40 soru, Sosyal Bilimler 2 Testi (Tarih 11 soru, Coğrafya 11 soru, Felsefe Grubu 12 soru, DKAB 6 soru ) 40 soru olmak üzere toplamda 80 soru içermektedir.

Bu testlerin her hakkı saklıdır. Hangi amaçla olursa olsun, testlerin tamamının veya bir kısmının Millî Eğitim Bakanlığının yazılı izni olmadan kopya edilmesi, fotoğrafının çekilmesi, herhangi bir yolla çoğaltılması, yayımlanması ya da kullanılması yasaktır. Bu yasağa uymayanlar gerekli cezai sorumluluğu ve testlerin hazırlanmasındaki mali külfeti peşinen kabullenmiş sayılır.

### **DİKKAT!**

Din Kültürü ve Ahlak Bilgisi dersini yasal olarak almak zorunda olan adaylar ve İmam Hatip Okulları öğrencileri/mezunları, Sosyal Bilimler-2 Testi'nin ilk 40 sorusunu cevaplamakla yükümlüdür. Bu adaylar, bu testin 41-46. sorularını cevaplamayacaklardır. Bu adaylar, bu testin 41-46. sorularında işaretleme yapmış olsalar bile bu cevapları değerlendirmeye alınmayacaktır.

Din Kültürü ve Ahlak Bilgisi dersini yasal olarak almak zorunda olmayan veya farklı müfredat ile alan adaylar, Sosyal Bilimler-2 Testi'nin 35-40. sorularını cevaplamadan 41-46. sorularını cevaplayacaklardır. Bu adaylar, bu testin 35-40. sorularında işaretleme yapmış olsalar bile bu cevapları değerlendirmeye alınmayacaktır.

### **AÇIKLAMA**

1. Bu kitapçıkta **86 soru** bulunmaktadır.  
Türk Dili ve Edebiyatı-Sosyal Bilimler-1 Testi: 40 soru  
Sosyal Bilimler-2 Testi: 46 soru
2. **Bu sınavda her testteki doğru cevaplarınızın sayısından yanlış cevaplarınızın sayısının dörtte biri çıkarılacak ve kalan sayı o bölüme ilgili ham puanınız olacaktır.**
3. Kitapçığın sayfalarındaki boş yerleri müsvedde için kullanabilirsiniz.
4. Cevaplamaya istediğiniz sorudan başlayabilirsiniz. Bir soru ile ilgili cevabınızı cevap kâğıdında o soru için ayrılmış olan yere işaretlemeyi unutmayınız.
5. Bu kitapçıkta yer alan her sorunun sadece bir doğru cevabı vardır. Cevap kâğıdında bir soru için birden çok cevap yeri işaretlenmişse o soru yanlış cevaplanmış sayılacaktır. İşaretlediğiniz bir cevabı değiştirmek istediğinizde silme işlemini çok iyi yapmanız gerektiğini unutmayınız.

1. Bu testte sırasıyla, Türk Dili ve Edebiyatı (1-24), Tarih-1 (25-34), Coğrafya-1 (35-40) alanlarına ait toplam 40 soru vardır.
2. Cevaplarınızı cevap kâğıdının Türk Dili ve Edebiyatı-Sosyal Bilimler-1 Testi için ayrılan kısmına işaretleyiniz.

1. İnsanın içini dökmeden edemediği dakikalar olur. Bir dost, bu dakikalarda erişilmez bir değer kazanır. Ama her şey, bir dosta söylenmez ki? Onun için hele bir insan yazarsa içinin gizli kıvrımlarını görmesini biliyorsa masanın başına geçip kalemi eline almadan edemez. İşte günlük dediğimiz, yazarın kendi kendisi ile ---- başka bir şey olmayan, o günü gününe tutulmuş hatıralar, bu iç dökme ---- doğmuştur. Böyle bir yazar, kendisi için günlüğünü tutar. Bu bakımdan, sessiz bir konuşma olan bu çeşit günlükleri bir edebiyat türü saymaya imkân yoktur.

**Bu parçada boş bırakılan yerlere aşağıdakilerden hangisi sırasıyla getirilmelidir?**

- A) konuşmasından - ihtiyacından  
B) dertleşmesinden - beklentisinden  
C) hesaplaşmasından - korkusundan  
D) mücadelesinden - hesabından  
E) yarışmasından - güdüsünden

2. Geniş aile içinde büyüyen çocuklar, yaşlılardan aldıkları hayat bilgisi sayesinde, yaşamlarında ilk adımlarını güvenle atarlar.

**Bu cümlede çocuklarla ilgili asıl anlatılmak istenen aşağıdakilerden hangisidir?**

- A) Çocukların yaşlılarından öğrenebileceği birçok şey olduğu  
B) Çocukların hayat tecrübelerini istemsiz biçimde kazandığı  
C) Yaşlılarıyla birlikte büyüyen çocukların hayatı korkusuz karşıladığı  
D) Geniş ailede yaşayan çocukların diğerlerinden cesaretli olduğu  
E) Geniş ailede büyüyen çocukların hayatta daha başarılı olabileceği

3. Turgut Uyar, İkinci Yeni'de ikinci adımı, *Tütünler Islak* (1962) kitabıyla atar. Bu kitabı ile yeni biçimsel denemelere girişmiştir. Bir bakıma, şiirindeki farklılaşmayı daha ileri bir noktaya götürür. O da anlamdır. *Dünyanın En Güzel Arabistanı*'nda, belli belirsiz ve parçalanmış bir hâlde olmasına rağmen varlığı inkâr edilemez bir anlam katmanı var iken *Tütünler Islak* kitabında anlam ya da temalar iyice silikleşmiş, anlam iyice zor çözülür olmuştur. Bu da genel bir bakışla *Tütünler Islak*'a daha boşucu bir hava vermektedir. Mutsuzluk, kentin yarattığı bunaltı, tedirginlik, sıkıntı duygusu, kaçış arzusu ve ölüm; şairin yinelediği temalardır. Ayrıca bu kitapta, yeniden deyimler, deyişler ve türkü formuna yakın söyleyişlerle karşılaşırız.

**Bu parçadan hareketle Turgut Uyar'ın *Tütünler Islak* kitabı ile ilgili hangisi aşağıdakilerden söylenemez?**

- A) Anlaşılması zor bir eserdir.  
B) Farklı biçim ve söyleyişler içerir.  
C) Kentin mutsuz insanlarını konu edinmiştir.  
D) Diğer eserlerine göre anlamsal açıdan farklıdır.  
E) Şiirlerinin yanında denemelerini de içerir.

4. Dilin kurallara dayalı bir dizge olması, dille ilgili çalışmalarda göz önünde bulundurulması gereken ilk husustur. Bir dildeki birimler, o dile özgü kurallara göre bir araya gelerek bir dizge oluşturur. Yani dil gelişigüzel bir şekilde yan yana dizilmiş birimler yığını değil, kurallar çerçevesinde dizilen birimler arasındaki ilişkiler ağıdır. Birimler, bu dizge içinde ve diğer birimlerle olan ilişkileriyle anlam kazanır. Kurallar olmadan bir dil düşünülemez.

**Bu parçadan dille ilgili aşağıdakilerden hangisine ulaşılabilir?**

- A) Konuşma ihtiyacından doğmuş, özen istemeyen evrensel bir yetidir.  
B) Düzen sıralama ve kurallara bağlılık gösterme zorunluluğu yoktur.  
C) Kelimeler arasında anlam ve yazım bütünlüğü olan ilişkiler ağıdır.  
D) Gelişigüzel yan yana sıralanmış birimler yığınıdır.  
E) Her canlının kendini ifade ettiği kendine özgü bir yapı sergiler.

5. “Yaşlı maymunlar ellerini su kabağı şişesine batırmazlar.” deyişinin kökeni şu hikâyeye dayanır: Hindistan’da avcılar, Hindistan cevizinin kabuğunda bir delik açar ve içine bir muz yerleştirip Hindistan cevizini gömerler. Sonra genç maymunlar bunu bulur, kazıp çıkarır ve delikten ellerini sokarak muzunu tutar. Ancak muzunu tutan elleri yumruk hâlini aldığından deliğe sığmaz ve ellerini geri çıkaramaz. Meyveyi bırakıp ellerini kurtaracaklarına maymunlar imkânsız gerçekleştirmek yani muzunu oradan çıkarmak için uğraşmayı sürdürür. Aynı şey bizim için de geçerlidir. Belli bir şeye sahip olma arzusu -bazen bu çok küçük ve gereksiz bir şey de olabilir- sonunda bizi o şeyin tutsağı hâline getirir.

**Bu parçadan aşağıdakilerin hangisine ulaşılabılır?**

- A) Tutkularının esiri olan insanlar, başkalarının esiri olurlar.
- B) Olmayacak hayaller kurmanın insana hiçbir faydası olmaz.
- C) Kazanmak için bazen kaybetmeyi göze almak gerekir.
- D) Kazanma arzusu olmadan kimse size bir şey vermez.
- E) Bazen tehlikeyi göze alıp imkânsız denemek gerekir.

6. İngiliz edebiyatı içinde gerçekçi olarak değerlendirilen Dickens, kitaplarında yer alan kahramanları gerçek hayattan ve belirgin tiplerden seçer. Bir diğer özelliği de toplumsal sorunları irdelemesi ve genel itibarıyla sosyal konular üzerinde durmasıdır. Dickens, eserlerinde genel anlamda burjuva hayatının yüzeyselliği ve acımasızlığını işlemez. Onun ana karakterleri ve kurgusunun bel kemiğini yoksul ama sade ve temiz yaşayan insanlar oluşturur. Romanlarında görülen betimleme başarısı edebiyat dünyasında takdirle karşılanmıştır. Çok sessiz bir ortamda şehir kâtibinden daha sistemli ve düzenli çalışan Dickens, iş ciddiyetinin meyvelerini ölümünün ardından yüzyıllar geçse de almaya devam etmektedir.

**Bu parçaya göre Charles Dickens’in başarılı eserler yazmasının asıl sebebi aşağıdakilerden hangisidir?**

- A) Kitaplar ve dergiler içinde erittiği zamanı, mükemmel betimlemelerle ördüğü eserler vererek diriltmesi
- B) Tasvirlerini ve eserlerini yazısız kurallara özen göstererek oluşturması
- C) Realist bakış açısıyla oluşturduğu eserlerinin sosyal hayatın şu anki meselelerine de temas etmesi
- D) Küçük yaşlarda çalışmaya başlayarak doğal ve gerçekçi betimlemeler yapması
- E) Burjuva hayatının debdebesinden ziyade, sessiz ve kalender insanları işlemesi

7. I.

Sultan Süleyman'a kalmayan dünya  
Bu dağlar yerinden ayrılır bir gün  
Nice bin senedir çürüyen canlar  
Hakkın emri ile dirilir bir gün

II.

Evvel sen de yücelerden uçardın  
Şimdi enginlere indin mi gönül  
Derya deniz dağ taş demez geçerdin  
Karadan menzilin aldın mı gönül

**Aşağıdakilerden hangisi bu dörtlüklerin ortak özelliklerinden biri değildir?**

- A) Halk şiiri geleneğine ait olma
- B) Ait oldukları şiirin ilk dörtlüğü olma
- C) Güzelleme türünde yazılmış olma
- D) Ek ve kelime hâlinde redif barındırma
- E) Söz sanatından yararlanma

8. Bu rüzgâr her vakit böyle esmeyecek  
Gökte bulut, suda yelken, dalda çiçek.

**Bu dizelerdeki söz sanatı aşağıdakilerden hangisinde vardır?**

- A) Ah şu yalnızlık  
Kemik gibi  
Ne yana dönsem batar.
- B) Gizemli bir dehliz gibi şehri dolaşıyorum  
Sıkıca tutunuyorum kendimi şehre karışmaktan alıkoymaya.
- C) Ve neden sonra  
Tekrar sesimi duyduğun gün gökkubbede,  
Hatırla ki mahşer günüdür.  
Ortalığa düşmüş, seni arıyorum.
- D) Hak edilmiş hüznlerimiz olacak mı bizim de  
Dönüp dönüp arkamıza baktığımız  
Bir dünya kalıntısı üstünde
- E) Kavuşmak bir gün toprağa,  
Bir bahar cümbüşü olmak,  
Dört mevsimde ayrı ayrı  
Tabiatın düşü olmak.

9. Yeryüzünde yalnız benim serseri,  
Yeryüzünde yalnız ben derbederim.  
Herkesin dünyada varsa bir yeri,  
Ben de bütün dünya benimdir derim.

**Bu dörtlükte aşağıdaki sanatlardan hangisi vardır?**

- A) Mübalağa
- B) Teşbih
- C) İstiare
- D) Telmih
- E) Kişileştirme

10. Daha hiçbir şey yokken "Tanrı Kara Han"la su vardı. Kara Han'dan başka gören, sudan başka görünen yoktu. Kara Han yalnızlıktan sıkılıp ne yapayım diye düşünürken su dalgalandı. "Ak Ana" çıktı. Kara Han'a "yarat" deyip yine suya daldı.

**Bu parça ile ilgili aşağıdakilerden hangisi söylenemez?**

- A) *Yaratılış Destanı*'nından alınmıştır.
- B) Toplumun inançlarını yansıtmaktadır.
- C) İslamiyet öncesi dönemin özelliklerini taşımaktadır.
- D) Mitolojik bir motif kullanılmıştır.
- E) Alegorik bir dille oluşturulmuştur.

11. ----, Türkçenin bilinen ilk sözlüğü, ilk dil bilgisi kitabı ve ilk edebiyat antolojisi olma özelliğini taşıyan geniş kapsamlı bir eserdir. Sonunda Türk illerini gösteren ve tarihî önem taşıyan bir harita da bulunmaktadır. Bu özellikleri dolayısıyla pek çok bilim dalına kaynaklık etmektedir. ----, sözcükleri açıklarken tarih, coğrafya, folklor ve edebiyata ilişkin bilgiler, toplumsal yaşayışa ilişkin ipuçları da verir.

**Bu parçadaki boşluklara aşağıdakilerden hangisi sırasıyla getirilmelidir?**

- A) *Kutadgu Bilig* - Yusuf Has Hacıp
- B) *Divân-ı Hikmet* - Ahmet Yesevi
- C) *Muhâkemetü'l Lugâteyn* - Ali Şir Nevaî
- D) *Divân-ı Kebir* - Mevlânâ
- E) *Dîvânu Lugâti't-Türk* - Kaşgarlı Mahmut

12. **Aşağıdakilerden hangisi parantez ( ) içinde verilenle uyuşmamaktadır?**

- A) Halk edebiyatı sanatçılarının şiirin son dördlüğünde mahlaslarını söyleme geleneğine denir.  
(Tapşırma)
- B) Allah'tan geldik, Allah'a döneceğiz anlayışının işlendiği şiirlerdir.  
(Şathiye)
- C) Dört yüz kitaptan yararlanılarak yazılan, ilk defa bir âlim tarafından Güneş sistemi hakkında bilgi verilen kitaptır.  
(*Marifetname*)
- D) Ünlü bir şairin şiirine başka bir şair tarafından aynı ölçü ve kafiye ile yazılan benzerlerine denir.  
(Nazire)
- E) Ünlü kişilerin hayatlarını anlatan eserlerdir. Biyografinin divan edebiyatındaki karşılığıdır.  
(Tezkire)

13. Aruzla yazdığı şiirlerinde Arapça ve Farsça kelime ve terkipleri yoğun bir şekilde kullanır. İçerik bakımından divan şiirini taklit eder. Heceyle ortaya koyduğu şiirlerinde ise daha sade bir Türkçe göze çarpar. Bu şiirlerinde saz şiirinin biçim ve içerik özellikleri görülür. Hayata ve insanlara eleştirel bir gözle bakan sanatçının bu kişilik özelliği *Sergüzeştname* adlı esere de yansımıştır. Bu sebeple "hiciv şairi" olarak da tanınmıştır.

**Bu parçada söz edilen şair aşağıdakilerden hangisidir?**

- A) Bayburtlu Zihnî
- B) Âşık Ömer
- C) Seyranî
- D) Gevherî
- E) Dadaloğlu

- 14. I. Fahriye: Kaside içinde şairlerin kendilerini övdükleri beyitlerin bulunduğu bölümdür.
- II. Miyan: Şarkıda her bendin sonunda tekrar eden dizedir.
- III. Hamse: Bir şairin üç mesnevisinin bir araya getirilmesiyle oluşturulan yapıttır.
- IV. Tuyuğ: Divan edebiyatında dört dizelik Arap edebiyatından alınmış nazım biçimidir.
- V. Muhammes: Altı dizelik bentlerden oluşan nazım şeklidir.

**Numaralanmış terimlerle ilgili açıklamalardan hangisi doğrudur?**

- A) I
- B) II
- C) III
- D) IV
- E) V

15. Aşağıdakilerden hangisi bir gazelin matla beyti olabilir?

- A) Bir gonca-ı nâzik-dil ü bir serv-i hırâmân  
Bir lale yanaklu ki gelür lâlesitâne
- B) Degüldüm ben sana mâil sen itdün aklımı zâil  
Bana ta'n eyleyen gâfil seni görgeç utanmaz mı
- C) Gönlüm yine meyl eyledi bir rûh-ı revâne  
Cânım dahi anunla bile oldı revâne
- D) Cân kumrusı bir serv hevâsında uçarken  
Sayd oldı gönül murgına uyup balabâne
- E) Cân sırrıdır Ahmed bunu key sakla gönülden  
Dîvâne kaçan mahrem ola râz-ı nihâne

16. Divan şiirinde Necâtî Bey'le belirginleşen, Bâkî ve Şeyhülislâm Yahyâ gibi şairlerin eserlerinde mükemmelleşen mahallîleşme akımının XVIII. yüzyıldaki en büyük temsilcisidir. Şiirlerindeki önemli özelliklerden biri yerlilik merakıdır. İfade ve üslupta halk edebiyatına yakınlaşması, gerçek hayattan alınan unsurları kullanması, günlük dilden gelen deyimlere yer vermesi; yerlilik arzusunu gösteren unsurlar olarak değerlendirilmektedir. Şarkı türünün gelişip yaygınlaşmasında büyük rol oynamış, "şarkı şairi" olarak anılmıştır.

**Bu parçada söz edilen şair aşağıdakilerden hangisidir?**

- A) Şeyh Gâlip
- B) Enderunlu Fazıl
- C) Nedim
- D) Koca Ragıp Paşa
- E) Nâbî

17. 1896 yılında bilim ve teknik konularında dergi çıkarılan öğrencim Ahmet İhsan'ı ziyaret ettim ve dergisinde edebiyat konularında yazı yazmak istediğimi söyledim. Teklifimi memnuniyetle kabul eden Ahmet İhsan hem bana hem de benim fikirlerimi paylaşan kişilere dergisinde yer verdi. Zamanla bir edebiyat okulu hâline gelen dergi, 1901 yılına kadar yayın hayatına devam etti. Fransızca bir çevirinin dergide yayımlanması nedeniyle dergi kapatıldı. Derginin kapatılması bir dönemin de sona ermesine sebep oldu.

**Bu parçada sözlerine yer verilen sanatçı ve onun sözünü ettiği dergi aşağıdakilerden hangisidir?**

- A) Tevfik Fikret - *Servet-i Fünun*
- B) Recâizâde Mahmut Ekrem - *Servet-i Fünun*
- C) Muallim Nâci - *Malûmat*
- D) Hüseyin Cahit Yalçın - *Servet-i Fünun*
- E) Cenap Şahabettin - *Servet-i Fünun*

18. Şiire aruz ölçüsüyle başlamış, daha sonra Ziya Gökalp'in etkisiyle hece ölçüsüne yönelmiş ve başarılı şiirler yazmıştır. Hecenin beş şairinden biridir. Şiirlerini *Türk Yurdu*, *Servet-i Fünun* ve *Büyük Mecmuâ*'da yayımlamıştır. Şiirlerinde günlük hayatın çeşitli görünümünü sade bir dille işleyen şair *Akbaba* adında bir dergi çıkarır. Bu dergide yazdığı akıcı fıkralarıyla siyasi mizahın özgün örneklerini verir. *Bir Rüzgâr Esti*, *Yanardağ*, *Cenk Ufukları*, *Oyun*, *Akından Akına* gibi şiir kitapları; *Şeker Osman*, *Göç*, *Sarı Çizmeli Mehmet Ağa*, *Kürkçü Dükkânı* adlarında romanları; *Kördüğüm*, *Latife*, *Binnaz*, *Nikahta Keramet* adlarında oyunları ve *Göz Ucuyla Avrupa* adlı bir gezi yazısı vardır. Anılarını *Portreler* adıyla kitaplaştırmıştır.

**Bu parçada söz edilen şair aşağıdakilerden hangisidir?**

- A) Orhan Seyfi Orhon
- B) Enis Behiç Koryürek
- C) Halit Fahri Ozansoy
- D) Yusuf Ziya Ortaç
- E) Faruk Nafiz Çamlıbel

19. I. Bentler, şiir içinde başlı başına bir anlam bütünlüğü göstermezler.  
 II. Bütün güzelliğine değil parça güzelliğine önem verilmiştir.  
 III. Dizelerin uyaklanışı, şairin isteğine göre değişmiştir.  
 IV. Dizede her zaman anlam bütünlüğü olmayabilir, bir dizede tamamlanmamış düşünce, öteki dizeye geçebilir.  
 V. Şiire günlük hayat konu olmaya başlamıştır.

**Numaralanmış cümlelerden hangileri modern şiir anlayışıyla örtüşmez?**

- A) I ve II                      B) I ve III                      C) II ve III  
 D) III ve IV                      E) IV ve V

20. *Taaşşuk-ı Talât ve Fitnat*'ın yazarıdır. Tanzimat sanatçıları içinde edebiyatla ilgili yapıtlarının yanında bilim ve dil çalışmaları da yapmış *Kâmus-ı Türki* adlı sözlüğü yazmış; bundan başka *Kâmus-ı Fransevî*, *Kâmus-ı Arabî* gibi sözlüklerle ilk ansiklopedi sayılan *Kâmusu'l Alam* adlı altı ciltlik yapıtını yayımlamıştır. *Orhon Yazıtları*'nı Türkiye Türkçesine aktarmıştır.

**Bu parçada söz edilen sanatçı aşağıdakilerden hangisidir?**

- A) Sâmipaşazâde Sezâi  
 B) Abdülhak Hâmit Tarhan  
 C) Ahmet Mithat Efendi  
 D) Recâizâde Mahmut Ekrem  
 E) Şemsettin Sâmî

21. Yazar, bu romanda Servetifünun edebiyatını romanın başkarakteri olan Ahmet Cemil'in gözünden anlatmıştır. Dolayısıyla bu romanı okuyarak Servetifünun Dönemi özelliklerini, sanat anlayışını, zihniyetini, yaşanan dönemin sosyokültürel hayatını, sanatçıların yaşamlarından kesitleri vb. pek çok hususa dair bilgiyi kolayca kavramak mümkündür. Yazar; bu romanında dönemin yazar ve şairlerini tek tek anlatmak, dönemin özelliklerini her yönüyle temsil etmek yerine Ahmet Cemil karakterini oluşturmuştur.

**Bu parçada söz edilen yazar ve eseri aşağıdakilerden hangisidir?**

- A) Halit Ziya Uşaklıgil - *Mai ve Siyah*  
 B) Hüseyin Cahit Yalçın - *Kavgalarım*  
 C) Mehmet Rauf - *Eylül*  
 D) Ahmet Hikmet Müftüoğlu - *Gönül Hanım*  
 E) Safveti Ziya - *Salon Köşelerinde*

22. **Aşağıdakilerden hangisi Tanzimat Dönemi tiyatro oyunlarından biri değildir?**

- A) *Vatan yahut Silistre*  
 B) *Şair Evlenmesi*  
 C) *Körebe*  
 D) *Atala*  
 E) *Macera-yı Aşk*



23. Yazarının "İşte size Macit Bey'in hikâyesi etrafında örölmüş bir ortaoyunu" diye takdim ettiđi ve Ankara'daki Küçük Tiyatro'nun açılışında Muhsin Ertuđrul tarafından ilk piyes olarak oynatılan ----, hem toplumsal deđişimi ironik bir şekilde ortaya koyması hem de geleneksel ile modernini birleştirmeye yönelik yapısal arayışlarıyla dönemin oyun metinleri arasında kendine sağlam bir yer edinir. Geleneksel tiyatrodan hem öz hem de biçim bakımından yararlanma gayretinin bilinçli bir örneđidir. Bizim olan meselelere tatlı bir gülümseme ile dokunması ve bu tatlılığı içinde düşündürebilmesi yönleriyle kendi alanının köşe taşlarından sayılabilecek türden bir oyundur.

**Bu parçada boş bırakılan yere aşağıdaki eserlerden hangisi getirilmelidir?**

- A) *Koçyiğit Körođlu*
- B) *Kahvede Şenlik Var*
- C) *Köşebaşı*
- D) *Paydos*
- E) *Fehim Paşa Konađı*

24. Trrrrum,  
trrrrum,  
trrrrum!  
trak tiki tak  
Makinalaşmak  
istiyorum!  
Beynimden, etimden, iskeletimden  
geliyor bu!

**Bu dizeler içeriđinden hareketle hangi sanat akımı etkisinde yazılmış bir şiirden alınmış olabilir?**

- A) Dadaizm
- B) Sürrealizm
- C) Fütürizm
- D) Egzistansiyalizm
- E) Kübizm

- 25. I. Avrupa Hun
- II. Bulgarlar
- III. Avarlar
- IV. Macarlar
- V. Hazarlar

**Yukarıda verilen Türk devletlerinden hangisinin Dođu Avrupa'da egemenlik kurup kısa süre sonunda Slav milletleri arasında eriyerek Hristiyanlığı kabul ettiđi söylenemez?**

- A) I
- B) II
- C) III
- D) IV
- E) V

26. Orta Çađ'ın ilk yüzyıllarında Avrupa'da Germen kavimleri tarafından çok sayıda krallık kuruldu. Bu krallıklar zaman içinde Kutsal Roma Germen İmparatorluğu tarafından bir çatı altında toplandı. İmparatorluğun kurucuları, çevrelerindeki krallara ve beylere askerî hizmet karşılığında toprak verme uygulamasını başlattılar.

**Bu durum Avrupa'da hangi sosyal sınıfı ortaya çıkarmıştır?**

- A) Burjuva
- B) Aristokrasi
- C) Ruhban
- D) Paryalar
- E) Proletarya

27. Osmanlı Devleti toplum yapısının temelini oluşturan millet sistemini;

- I. dil,
- II. din,
- III. ırk

**gibi faktörlerden hangilerini esas alarak belirlemiştir?**

- A) Yalnız I      B) Yalnız II      C) Yalnız III  
D) I ve II      E) I, II ve III

28. XI. yy. da Anadolu'yu yurt edinmek için seferler yapan Türkler bu süreçte;

- I. Gürcüler,
- II. Ermeniler,
- III. Rumlar

**gibi toplumların hangileri ile mücadele etmek zorunda kalmıştır?**

- A) Yalnız I      B) Yalnız II      C) Yalnız III  
D) I ve II      E) I, II ve III

29. Aşağıdakilerden hangisi Osmanlı Devleti'nde yönetenler sınıfı içerisinde yer alan seyfiye sınıfına mensup değildir?

- A) Sadrazam
- B) Vezirler
- C) Kazasker
- D) Kaptan-ı derya
- E) Yeniçeri Ağası

30. Zitvatorok Antlaşması'nın önemli maddeleri şöyledir:

- I. Avusturya yıllık vergi ödemeyecek, imparator bir defaya mahsus olmak üzere 200.000 kuruş gönderecektir.
- II. Osmanlılar, Avusturya arşidükü için Caesar (Sezar) unvanını kullanacaktır.
- III. Eğri, Kanije ve Estergon kaleleri Osmanlı Devleti'nde kalacaktır.
- IV. Taraflarca esir almak ve kale işgal etmek yasaklanacak, eldeki esirler geri verilecektir.

**Zitvatorok Antlaşması'nın yukarıdaki maddelerinden hangileri Osmanlı Devleti'nin Avusturya karşısındaki siyasi üstünlüğünü kaybettiğinin kesin kanıtıdır?**

- A) Yalnız I      B) Yalnız II      C) Yalnız III  
D) I, II ve IV      E) I, III ve IV

31. Osmanlı Devleti hangi savaş ile uğraşırken Arnavutluk bu durumu fırsat bilerek bağımsızlığını ilan etmiştir?

- A) Balkan Savaşları
- B) Trablusgarp Savaşı
- C) I.Dünya Savaşı
- D) Kırım Savaşı
- E) 93 Harbi

32. I. Saltanatın kaldırılması

- II. Cumhuriyetin ilanı
- III. Tevhid-i Tedrisat Kanunu'nun çıkarılması
- IV. Halifeliğin kaldırılması

**Yukarıda verilen gelişmelerden hangileri doğrudan siyasi alanda yapılan inkılaplar ile ilgilidir?**

- A) I ve II      B) I ve III      C) I, II ve III  
D) I, II ve IV      E) I, II, III ve IV

33. I. İnönü Zaferi'nden sonra BMM elçilik heyeti ile Afganistan temsilcileri arasında askerî ve siyasi alanda yardımlaşmayı esas alan Türk-Afgan Dostluk Antlaşması imzalanmıştır.

**Buna göre;**

- I. BMM Hailfeliğin dinî gücünü kullanmak istemiştir.
- II. Afganistan BMM'nin bağımsızlık hareketine destek vermiştir.
- III. BMM'nin dış politikadaki etkinliği artmıştır.

**yargılarından hangilerine ulaşılır?**

- A) Yalnız I
- B) Yalnız II
- C) Yalnız III
- D) I ve III
- E) II ve III

34. Aşağıdaki ülkelerden hangisi II. Dünya Savaşı'nda diğer ülkelerle aynı grup içerisinde yer almamıştır?

- A) Almanya
- B) SSCB
- C) İngiltere
- D) Fransa
- E) ABD

35. Aşağıdaki tabloda K, L ve M bölgelerinin yüz ölçümleri ve sahip olduğu yabancı bitki sayısı gösterilmiştir.

	K	L	M
Yüz Ölçümü (km <sup>2</sup> )	5.110	250.000	50.000
Yabancı Bitki Sayısı	2.500	1.850	1.600

**Yalnızca tablodaki bilgiler dikkate alındığında aşağıdakilerden hangisine ulaşılabilir?**

- A) M merkezi Kuzey Yarım Kürede yer almaktadır.
- B) Yüz ölçümü en küçük bölgede bitki çeşitliliği en fazladır.
- C) K merkezindeki bitki zenginliği toprak çeşitliliğine bağlıdır.
- D) Yüz ölçümüyle yabancı bitki sayısı arasında doğru orantı vardır.
- E) L merkezinde yükseltiye bağlı olarak bitkiler kuşaklar oluşturmuştur.

36. Tarihi çok eskilere dayanan ve dünyanın en eski kültürlerinden olan Türk kültürü, ilk olarak Orta Asya'nın doğal şartlarına bağlı olarak şekillenmiştir. Bu nedenle Türk kültürünün kültür ocağı Orta Asya'dır.

**Aşağıdakilerden hangisi Türk kültürünün bu bölgede şekillenen özelliklerinden biri değildir?**

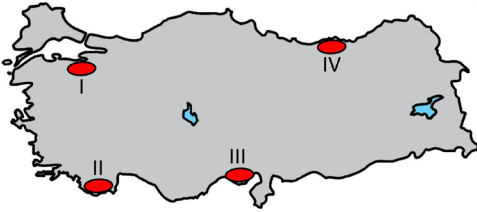
- A) Denizcilik
- B) Demircilik
- C) Göçebe yaşam
- D) Küçükbaş hayvancılık
- E) Halı ve kilim dokumacılığı

37. 6-12 Ocak 2017 tarihleri arasında görülen soğuk hava dalgası, kuzeyde Moskova üzerinden başlamış, güneye doğru inerek etkisini derinleştirmiş; Avrupa, Balkanlar ve Türkiye’de etkisi uzun süren soğuk hava, kar yağışı ve don olaylarına neden olmuştur.

**Aşağıdakilerden hangisi bu hava olayına bağlı olarak ortaya çıkan olumsuz bir durum değildir?**

- A) Enerji tüketiminin artması  
B) Canlıların yaşam koşullarının zorlaşması  
C) Tarım ürünlerinin zarar görmesi  
D) Ulaşımda aksamaların yaşanması  
E) Yeraltı kaynağı rezervlerinin artması

38. Su kaynaklarının kullanımı esnasında suyun kendini yenileyebilmesine imkân vermeyecek oranda yabancı maddelerin karışması ile su kirliliği meydana gelir. Özellikle sanayi tesislerinden çıkan sıvı atıkların artırılmadan suya bırakılması sonucu siyanür, cıva, kurşun, arsenik gibi kimyasallar birikerek suların kirlenmesine neden olmaktadır.



**Buna göre haritada numaralandırılan alanların hangilerinde bu kirliliğin daha fazla olması beklenir?**

- A) I ve II                      B) I ve III                      C) II ve III  
D) II ve IV                      E) III ve IV

39. Bulunduğu ülke tarafından korunması garanti edilen ve üstün evrensel değere sahip bütün kültürel ve doğal varlıklara "Dünya Mirası" denir. İnsanların farklı amaçlarla doğal ve beşerî ortamda gerçekleştirdiği faaliyetler bu varlıklara yönelik tehdit oluşturabilmektedir.

**Buna göre dünya mirası olarak kabul edilen varlıkların bulunduğu alanlarda;**

- I. baraj yapımı,  
II. geri dönüşüm faaliyetlerinin yaygınlaştırılması,  
III. millî park alanları oluşturulması,  
IV. turizm alanlarının taşıma kapasitesi üzerinde kullanılması

**faaliyetlerinden hangileri bu miraslara yönelik tehdit oluşturur?**

- A) I ve II                      B) I ve IV                      C) II ve III  
D) II ve IV                      E) III ve IV

40. Sanayi Devrimi'yle birlikte buharla çalışan makinelerin icat edilmesi, üretimde büyük bir artış yaşanmasına neden oldu. Üretimde yaşanan bu durum enerji kaynaklarının kullanımının ve öneminin artmasına neden olmuştur.

**Aşağıdaki enerji kaynaklarından hangisinin kullanımı ve önemi bu duruma bağlı olarak daha önce artmıştır?**

- A) Petrol                      B) Doğal gaz                      C) Taş kömürü  
D) Nükleer                      E) Güneş

1. Bu testte sırasıyla, Tarih-2 (1-11), Coğrafya-2 (12-22), Felsefe Grubu (23-34), Din Kültürü ve Ahlak Bilgisi (35-40), Din Kültürü ve Ahlak Bilgisi dersini yasal olarak almak zorunda olmayan veya farklı müfredat ile alanlar için Felsefe Grubu (41-46) alanlarına ait toplam 46 soru vardır.
2. Cevaplarınızı cevap kâğıdının Sosyal Bilimler-2 Testi için ayrılan kısmına işaretleyiniz.

1. Tarih Öncesi dönemde ateşin kontrol altına alınıp kullanılması önemli bir dönüm noktası oldu. Ateş öncelikle ısınmak, karanlığı aydınlatmak ve vahşi hayvanları korkutmak için kullanıldı. Ateşin bulunmasıyla birlikte yiyeceklerini pişiren insanın beslenme alışkanlığı değişirken sindirimi kolaylaştı. Bu dönemde yaşam şartlarındaki iyileşmeye bağlı olarak insanın bilgi ve becerileri gelişti.

**Buna göre, bir yerleşim yerinde yapılan kazıda;**

- I. altın küpe,  
II. toprak kap,  
III. buğday tanesi

**gibi buluntulardan hangileri bu topluluğun ateşi kullandığını kanıtlar niteliktedir?**

- A) Yalnız I                      B) Yalnız II                      C) I ve II  
D) II ve III                      E) I, II ve III

2. Türklerin konargöçer yaşam tarzında; boylar halinde yaşamaları, hayvancılığa dayalı ekonomiye bağlı olarak yaylak ve kışlak yaşamını sürdürmeleri ve boy beyleri önderliğinde belli bir hiyerarşik düzen içinde yapılanmaları gibi gelişmeler görülmüştür.

**Bu durumun aşağıdaki gelişmelerden hangisine katkı sağladığı söylenebilir?**

- A) Teşkilatlı ve örgütlü yapılanmaya  
B) Ordu teşkilatının kurulmasına  
C) Yerleşik hayata geçilmesine  
D) Merkezi devlet yapısının kurulmasına  
E) Belli bir coğrafyada egemenlik sürmelerine

3. Osmanlı Devleti'nde padişahlar sadece siyasi, ekonomik ve sosyal gelişmeler ile meşgul olmamış, kültürel faaliyetlerde de bulunmuştur. Birçok Osmanlı padişahı yüksek eğitimlerinin yanında kalemi güçlü şairler olarak da karşımıza çıkmıştır. Hatta bazı padişahlar mahlaslar ile "divan" sahibi olacak kadar şiir yazmış ve divan edebiyatına yön vermiştir.

**Aşağıdakilerden hangisinde şair padişahlar ile kullandıkları mahlaslar yanlış eşleştirilmiştir?**

- A) Fatih Sultan Mehmet-Avni  
B) II. Bayezid-Adli  
C) Yavuz Sultan Selim-İlhami  
D) Kanuni Sultan Süleyman-Muhibbi  
E) II. Murat-Muradi

4. Osmanlı Devleti'nde klasik dönemde kamu düzeninin sağlanmasında;

- I. örf, âdet gelenek ve görenekler  
II. İslam Hukuku  
III. Medeni Hukuk

**gibi kurallardan hangisi etkili olmuştur?**

- A) Yalnız I                      B) I ve II                      C) I ve III  
D) II ve III                      E) I, II ve III

## 5. 1789 Fransız İhtilali'nin çıkmasında etkili olan;

- I. Kilisenin toplum üzerindeki baskısı
- II. Halkın ağır vergiler altında ezilmesi
- III. Kralların keyfi uygulamalarına gösterilen tepki
- IV. Amerikan bağımsızlık mücadelesi

**gibi durumlardan hangileri iç gelişmeler arasında gösterilemez?**

- A) Yalnız I                      B) Yalnız II                      C) Yalnız IV  
D) III ve IV                      E) I, II ve III

## 6. Osmanlı Devleti'nin karşı karşıya kaldığı göçler dikkate alındığında;

- I. Metruk, harabe ve boş yerler ziraata açılmıştır.
- II. Göçmenler sayesinde yeni yerleşim yerleri oluşturulmuştur.
- III. Devletin normal masrafları iskân masrafları ile birleşince artmıştır.
- IV. Devlet masrafları karşılayabilmek için dış borçlanmaya gitmiştir.

**gelişmelerinden hangileri göçlerin olumsuz etkilerine örnek olarak gösterilebilir?**

- A) Yalnız I                      B) Yalnız II                      C) Yalnız III  
D) I ve II                      E) III ve IV

7. "Bütün cihan bilmelidir ki, artık bu devletin ve bu milletin başında hiçbir kuvvet yoktur, hiçbir makam yoktur. Yalnız bir kuvvet vardır, o da millî egemenliktir. Yalnız bir makam vardır, o da milletin kalbi, vicdanı ve mevcudiyetidir."

**Atatürk'ün bu sözü ;**

- I. Cumhuriyet'in ilanı,
- II. Medeni Kanun'un kabulü,
- III. Saltanatın kaldırılması

**İnkılaplarından hangileriyle doğrudan ilgilidir?**

- A) Yalnız I                      B) Yalnız II                      C) I ve II  
D) I ve III                      E) I, II ve III

## 8. Cumhuriyet Dönemi'nde yaşanan;

- Şeyh Said İsyanı,
- Mustafa Kemal'e Suikast Girişimi
- Menemen Olayı

**gibi gelişmeler birlikte düşünüldüğünde aşağıdaki sonuçlardan hangisine ulaşılabılır?**

- A) İç sorunların dış politikayı etkilediği  
B) İnkılapların toplum tarafından benimsendiği  
C) Diplomatik krizlerin yaşandığı  
D) Laik ve demokratik düzenin tehdit edildiği  
E) Halkın demokrasi bilincinin arttığı

9. BMM'ye Karşı Çıkan Ayaklanmalar

I	Anzavur Ahmet Ayaklanması	Kuvayimilliyeye yanlısı olup sonradan çıkan ayaklanmadır.
II	Bolu, Düzce, Hendek Ayaklanması	Hem İstanbul Hükümeti hem de İtilaf Devletleri tarafından desteklenerek çıkan ayaklanmadır.
III	Demirci Mehmet Efe Ayaklanması	İstanbul Hükümeti tarafından çıkartılmıştır.
IV	Ermenilerin Ayaklanması	Azınlıklar tarafından çıkarılan ayaklanmadır.

Yukarıda verilen tablodaki ayaklanmalar ve ayaklanmayı çıkartan unsurlardan hangileri doğru **değildir**?

- A) Yalnız I                      B) Yalnız II                      C) I ve III  
D) III ve IV                      E) I, II ve IV

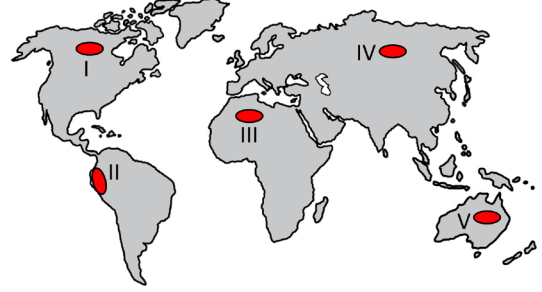
10. Kuzey Atlantik Antlaşması Örgütü (NATO) aşağıdaki devletlerden hangisinin yayılmacı politikasının oluşturduğu tehditleri engellemek amacıyla kurulmuştur?

- A) Almanya                      B) İtalya                      C) Çin  
D) Japonya                      E) SSCB

11. Türkiye'de İncirlik Üssü ve yakınlarında Amerikan, İngiliz, Fransız ve Türk hava birliklerinden bir uluslararası güç oluşturulmasına neden olan gelişme aşağıdakilerden hangisidir?

- A) Arap Baharı  
B) I. Körfez Savaşı  
C) Güney Osetya Savaşı  
D) İran - Irak Savaşı  
E) İsrail - Arap Savaşları

12. Yükseltiyeye bağlı olarak sıcaklığın azalması ve bir noktaya kadar yağışın artması, bitki ve hayvan türlerinin bir dağ yamacı boyunca çeşitlenmesini sağlamıştır.



Haritada numaralandırılan alanların hangisinde bu durum **daha belirgin** olarak görülmektedir?

- A) I                      B) II                      C) III                      D) IV                      E) V

13. İnsan yaşamında büyük değişikliklere yol açmakta olan teknoloji, insanların hayat standardını yükseltmekte ve yaşamlarını kolaylaştırmaktadır. Bununla birlikte teknolojik olanakların oluşturulması ve kullanılması aşamasında, doğal ve beşeri çevre olumsuz etkilenebilmektedir.

**Bu olumsuzluklara;**

- I. Doğal kaynakların aşırı tüketimi,  
II. Yeni iş alanlarının ortaya çıkması,  
III. Sosyal ve psikolojik sorunların artması,  
IV. Üretim için gerekli iş gücüne duyulan ihtiyacın azalması

**durumlarından hangileri örnek gösterilebilir?**

- A) I ve II                      B) I ve III                      C) II ve III  
D) II ve IV                      E) III ve IV

14. Rüzgâr gücünün kullanımı çok eskiye dayanmaktadır. Rüzgâr gücü ilk çağlarda yel değirmenlerinin Sanayi Devrimi'ne kadar da yelkenli gemilerin hareket ettirilmesinde yaygın olarak kullanılmıştır. Son yıllarda ise rüzgâr, gelişen teknoloji ve artan enerji ihtiyacına bağlı olarak oldukça önem kazanan bir enerji kaynağı hâline gelmiştir.

**Bu enerji kaynağının tercih edilmesinde;**

- I. yenilenebilir enerji kaynağı olması,
- II. çevre kirliliğine fazla neden olmaması,
- III. santraller için geniş alanların gerekli olması,
- IV. rüzgâr türbini üretiminin ileri teknoloji gerektirmesi

**özelliklerinden hangileri etkili olmuştur?**

- A) I ve II                      B) I ve III                      C) II ve III  
D) II ve IV                      E) III ve IV

15. Coğrafya dersinde çevre sorunları konusunda sunum yapan öğrenciler çevre kirliliğine neden olan aşağıdaki etmenleri arkadaşlarıyla paylaşmışlardır.

- Termik santrallerde enerji üretiminde kullanılan fosil yakıtlar
- İnsan faaliyetlerine bağlı olarak meydana gelen orman yangınları
- Fabrikaların bacalarından çıkan kimyasal gazlar ve tozlar
- Binaların ısıtılmasında ve motorlu taşıtlarda kullanılan yakıtlar
- Eğlence amaçlı patlatılan havai fişekler

**Öğrencilerin paylaştığı bu etmenler hangi türden bir çevre kirliliğine daha fazla neden olmaktadır?**

- A) Toprak kirliliği  
B) Su kirliliği  
C) Hava kirliliği  
D) Radyoaktif kirlilik  
E) Besin kirliliği

16. Türkiye'de bölgelerarası ekonomik ve sosyal farklılıkları gidermek için bölgesel kalkınma çalışmaları başlatılmış ve önemli sonuçlar elde edilmiştir.

**Bu projelerle,**

- I. bölgedeki kent nüfusunu artırmak,
- II. bölge dışına olan göçleri azaltmak,
- III. bölgenin sosyokültürel gelişimini sağlamak

**hedeflerinden hangilerini gerçekleştirmek için çalışmalar yapılmaktadır?**

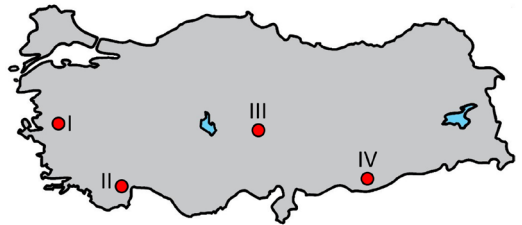
- A) Yalnız I                      B) Yalnız II                      C) Yalnız III  
D) I ve III                      E) II ve III

17. İsviçre'de Alp Dağları'nın güneye bakan yamaçlarında tüylü meşe, salep, menekşe; kuzeye bakan yamaçlarında ise kayın, sarıçam gibi bitkilere daha fazla rastlanmaktadır.

**Bu durumun temel nedeni aşağıdakilerden hangisidir?**

- A) Yükselti                      B) Bakı                      C) Engebe  
D) Nemlilik                      E) Rüzgârlar

18. Türkiye'nin yüksek dağlarla çevrili bir ülke oluşu ve kar örtüsünün yılın büyük bölümünde mevcut olması kış turizmini geliştirmiştir. Son yıllarda yüksek standartlara sahip kayak ve konaklama tesislerinin sayıca artışı, kayak tutkunlarını bu bölgelere çekmektedir.



**Haritada numaralandırılan alanların hangilerinde bu turizm türünün geliştiği söylenebilir?**

- A) I ve II                      B) I ve III                      C) II ve III  
D) II ve IV                      E) III ve IV



19. Aşağıda bir uluslararası örgütün bazı özellikleri verilmiştir.

- 1949 yılında Sovyetler Birliği'ne karşı Avrupa'nın güvenliğini sağlamak için ABD öncülüğünde 12 devletin katılımıyla kurulan askerî bir örgüttür.
- Örgüt; askerî, sosyal ve kültürel anlamda birbirlerine destek veren ve ortak faydalar güden ülkelerin bir araya toplanması ile oluşturulmuştur.
- Türkiye, örgüte 1952 yılında üye olmuştur.

**Bu örgüt aşağıdakilerden hangisidir?**

- A) Birleşmiş Milletler (BM)
- B) Bağımsız Devletler Topluluğu (BDT)
- C) Kuzey Atlantik Antlaşması Örgütü (NATO)
- D) Karadeniz Ekonomik İşbirliği Teşkilatı (KEİ)
- E) Ekonomik İşbirliği ve Kalkınma Örgütü (OECD)

20. Arazi kullanım şekli, çevre açısından büyük önem taşımaktadır. Çünkü plansız ve yanlış arazi kullanımı çevreye büyük zarar vermektedir.

**Aşağıdakilerden hangisi bu duruma örnek olarak gösterilemez?**

- A) Meraların ıslahı ile otlatma süresinin uzaması
- B) Dere yataklarının kapatılması ile taşkın sayısının artması
- C) Eğimli yamaçlarda toprağın eğime paralel sürülmesiyle erozyonun artması
- D) Ovalara hava limanı yapılması ile tarımsal üretimin azalması
- E) Ormanların yerleşmeye açılması ile doğal bitki örtüsünün tahrip edilmesi

21. Çölleşme; kurak, yarı-kurak iklim bölgelerinde arazinin yağış alma, su tutma kapasitesinin azalması ve doğal bitki örtüsünün tahrip olarak toprak erozyonunun yaşanmasıdır. Bir başka ifade ile çölleşme, toprağın susuzlaşması ve çoraklaşmasıdır.

**Günümüzde bu sorunun küresel boyuta ulaşmasında;**

- I. Dünya nüfusunun artması
- II. Kırdan kente göçün artması
- III. Su kaynaklarının aşırı kullanımı
- IV. İntansif tarım yöntemlerinin yaygınlaşması

**faktörlerinden hangileri daha etkili olmuştur?**

- A) I ve II
- B) I ve III
- C) II ve III
- D) II ve IV
- E) III ve IV

22. Hava kirliliği; katı, sıvı ve gaz şeklindeki yabancı maddelerin insan sağlığına, canlı hayatına ve ekolojik dengeye zarar verecek miktar, yoğunluk ve sürede atmosferde bulunmasıdır.

**Bu kirliliğin oluşmasında aşağıdakilerden hangisi daha etkilidir?**

- A) Endüstriyel katı atıklar
- B) Seralarda sebze üretimi
- C) Santrallerde hidroelektrik üretimi
- D) Termik santrallerde enerji üretimi
- E) Tarım alanlarında suni gübre kullanımı

23. Kuhn'un *Bilimsel Devrimlerin Yapısı* adlı eserinin son sözünde iki anlamı olduğunu belirttiği ve bu iki anlamı "Bir tarafta, terim belli bir topluluğun üyeleri tarafından paylaşılan inançların, değerlerin, tekniklerin bütününe temsil etmektedir. Diğer tarafta da bu bütünün içinde bir tek tür unsur söz konusudur: model yahut örnek olarak kullanılan ve gerektiği zaman olağan bilimdeki bütün diğer bulmacaların çözümleme temeli olarak kesin kuralların yerine kullanılabilen somut bulmaca-çözümleri." şeklinde açıkladığı terim aşağıdakilerden hangisidir?

- A) Doğrulama
- B) Bilimsel yasa
- C) Paradigma
- D) Bilimsel devrim
- E) Bilimsel yöntem

24. 18. yüzyıl ile beraber insana ve insan aklına verilen değer arttığını gözleyebiliriz. Aydınlanma çağı da denen bu dönem felsefesi temelde insan hayatının anlaşılması ve düzenlenmesine ilişkin bilginin aydınlatılması anlamını taşımaktadır. Aslında insanın varlığının anlamı ve değerinin anlaşılması çabası 15. yüzyılda da felsefi bir problem olarak ele alınıp akıl yoluyla cevaplanmaya çalışılmıştır, ancak Aydınlanma ile birlikte bu problem çok daha geniş bir biçimde ele alınmış ve yaşanan toplumsal değişimler ile daha da önem kazanmıştır. Dini otoritelere başkaldırılan Rönesans'tan sonra, Akıl çağı olarak da adlandırılan bu dönemde üzerine düşünceler geliştirilen "hayat düzeni" nin temelleri ve amacı bir üst dünya olmaktan tamamen çıkmış ve bu dünya olmuştur. Çünkü bu dönem geleneklere bağlı kalma tavrının hükümsüzleştiği, insanın kendini kendi aklı ile anlamaya çalıştığı dönemdir.

**Bu parçadan Aydınlanma felsefesi ile ilgili aşağıdaki yargılardan hangisine ulaşılabilir?**

- A) Felsefe tarihinde insanın problem alanı haline gelmesi 15. yüzyıla dayanır.
- B) Rasyonel bakış açısının yerleşmesinde Rönesans felsefesinin etkisi olmuştur.
- C) İnsan hayatının değeri, statik tarihi değerlere uygunluğuyla belirlenir.
- D) Aydınlanma felsefesi, olgulardan bağımsız, düşünsel temele dayanır.
- E) Toplumun düzenlenmesinin yegâne aracı metafizik kabullerdir.

25. İnsan varoluşu itibarıyla sosyal bir canlıdır. Bu nedenle insanın yalnız başına hayatını idame ettirmesi pek mümkün görünmemektedir. Ancak insanların bir arada yaşayabilmesinin de bazı handikapları olacağı açıktır. Çünkü birden fazla insan demek, birden fazla bakış açısı, birden fazla yaşam tarzı, birden fazla beklenti demektir. Bu durumda “toplumsal yaşamdan vazgeçilmeli” de denilemeyeceğine göre insanların bir arada mutlu olabilmesi için saygı, hoşgörü gibi erdemlere ve uzlaşma niyetine ihtiyaç vardır. Bu gibi insani özellikleri geliştirebilecek alanlardan biri de felsefedir.

**Bu parçada felsefenin aşağıdaki işlevlerinden hangisi vurgulanmıştır?**

- A) Demokrasi kültürünü geliştirmek
- B) Doğanın anlaşılmasını sağlamak
- C) İdeal devlet biçimi oluşturmak
- D) Yeni fikirlerin üretilmesini sağlamak
- E) Rasyonel bakış açısını geliştirmek

26. Sıla ve Barış psikoloji eğitimi almak isteyen iki arkadaşdır. Sıla'nın ilgisini insan davranışlarının altında yatan nedenler, ruh hastalıkları ve davranış bozuklukları çekmektedir. Barış'ın psikolojiye yönelmesinin sebebi ise hatırlama, düşünme, problem çözme, dil ve öğrenme gibi konulara yönelik merakından kaynaklanmaktadır.

**Buna göre iki arkadaşın ilgileri dikkate alındığında psikoloji biliminin alt dallarından hangilerine yönelmeleri beklenir?**

- | Sıla                   | Barış              |
|------------------------|--------------------|
| A) Klinik Psikoloji    | Sosyal Psikoloji   |
| B) Sağlık Psikolojisi  | Eğitim Psikolojisi |
| C) Gelişim Psikolojisi | Klinik Psikoloji   |
| D) Klinik Psikoloji    | Bilişsel Psikoloji |
| E) Bilişsel Psikoloji  | Eğitim Psikolojisi |

27. Bireysel farklılıklar üzerinde kalıtım ve çevrenin hangi ölçüde etkili olduğu konusu bu alanda çalışan psikologlar arasında farklı görüşlerin ortaya çıkmasına neden olmuştur. Doğuştan donanım olarak adlandırılan kalıtım, genetik özelliklerin çocuğa aktarılmasıdır. Kalıtım bireyin temel eğilimlerini ve davranışın alt-üst sınırını belirler. Edinilmiş donanım olarak adlandırılan çevre ise, organizmanın ilişki kurduğu varlıklar ve ortamın tümüdür. Çevre alt ve üst sınır arasında davranışın hangi noktada gerçekleşeceğini belirler.

**Buna göre hangi davranışın kalıtım kaynaklı olduğu söylenebilir?**

- A) Kulağına ağır darbe alan boksörün yürürken dengesini sağlayamaması
- B) Geçirdiği trafik kazasından sonra kişinin Rus aksanıyla konuşması
- C) Daha önce arkadaşları ile arası iyi olmayan Mehmet'in lisede arkadaşları ile çok iyi anlaşması
- D) Doğum sırasında oksijensiz kalan Oğuz bebeğin annesinin hareketlerini takip edememesi
- E) Çekingen bir çocuk olan Ceylin'in topluluk önünde şiir okumayı istememesi

28. Bireyler bazı durumlarda onaylanmayan veya kabul edilmeyen davranışlarını bir başkasına yüklemeye çalışırlar. Birey yaşadığı korku, güvensizlik, öfke vb. duygularını bir başkasına atfederek benliğini korumaya ve kaygısını azaltmaya çalışır. Öfke problemi olan bir kişinin çevresindeki insanlarda öfke kontrolünün olmadığını söylemesi gibi.

**Bu parçada anlatılan savunma mekanizması aşağıdakilerden hangisidir?**

- A) Karşıt tepki geliştirme
- B) Yansıtma
- C) Mantiğa bürünme
- D) İnkâr
- E) Yer değiştirme

29. Sosyalleşme, bireyin toplumsal yaşama uygun davranış ve değerleri öğrenme sürecidir. Sosyalleşme her zaman bireyin topluma istendik şekilde uyum sağlamasıyla sonuçlanmayabilir. Bu durumda toplum yaptırım gücünü kullanır. Bireyin topluma uygun davranışları ödüllendirilirken, uygun olmayan davranışları cezalandırılır.

**Parçada sözü edilen kavram aşağıdakilerden hangisidir?**

- A) Toplumsal sapma
- B) Toplumsal değer
- C) Toplumsal norm
- D) Toplumsal kontrol
- E) Toplumsal saygınlık

30. Toplumsal yapıda meydana gelen değişiklikler her zaman istenen yönde olmayabilir. Örneğin ekonomik koşullardaki değişim, vatandaşların yaşam standardının düşmesine ortam hazırlıyorsa bu bir gelişme sayılmaz. Bu değişim beraberinde yasalara uyumu zorlaştırabilir, yasaların işlevsizleşmesi toplumsal kurumlar arasındaki uyumu ve işbirliğini bozabilir. Toplumsal değerler artık insanlar üzerinde eskisi kadar etkili olmayabilir. Böyle bir tablonun toplumsal bir karşılığı olacağını tahmin etmek de zor değildir.

**Bu parçada anlatılanların sebep olacağı durum aşağıdakilerden hangisidir?**

- A) Toplumsal dayanışmanın artması
- B) Demokrasi kültürünün gelişmesi
- C) Toplumsal çözülmenin yaşanması
- D) Sivil toplum örgütlerinin güçlenmesi
- E) Toplumsal kontrolün sağlanması

31. Evlilik türleri, eşin seçtiği gruba göre egzogami (dıştan evlenme) ve endogami (içten evlenme); eş sayısına göre monogami (tek eşli evlilik) ve poligami (çok eşli evlilik); oturlan yere göre matrilokal (ana çevresi), patrilokal (baba çevresi) ve neolokal (ev açma) gibi türlere ayrılır.

**Buna göre üniversitede tanıştığı kız arkadaşıyla evlenerek memleketine geri dönüp ailesinin yanına yerleşen bir gencin durumunu belirten kavramlar aşağıdakilerden hangisidir?**

- A) Egzogami - monogami- matrilokal
- B) Endogami - poligami- patrilokal
- C) Egzogami - monogami-neolokal
- D) Egzogami - monogami- patrilokal
- E) Endogami - poligami-matrilokal

32. Eşdeğerlik çıkarımlarında, bir önermenin niteliğine dokunmadan öznesini yüklem, yüklemine özne yapmak, düz döndürme olarak ifade edilir.

**Buna göre "Bazı insanlar gözlüklüdür." önermesinin düz döndürmesi aşağıdakilerden hangisidir?**

- A) Bütün gözlüklüler insandır.
- B) Hiçbir gözlüklü insan değildir.
- C) Bazı gözlüklüler insan değildir.
- D) Her insan gözlüklü değildir.
- E) Bazı gözlüklüler insandır.

33. Aşağıdaki akıl yürütme yollarından hangisi diğerlerinden farklıdır?

- A) Bitkilerin tamamı solunum yapar. Çam bitkidir. O halde çam solunum yapar.
- B) Pazartesi, salı ve çarşamba günü hava güneşliydi. O halde bütün hafta hava güneşli olacak.
- C) Bütün metaller ısıtılınca genişir. Demir metaldir. O halde demir ısıtılınca genişir.
- D) Bu yaz çok güzel geçecek. Çünkü şimdiye kadar ki bütün yazlar güzel geçti.
- E) Her insan başarılı olmak ister. Dolayısıyla Emre de başarılı olmak ister.

34. Aşağıdakilerden hangisi “Bir gül yeter.” cümlesinde bilgi aktarımını engelleyen etkendir?

- A) Belirsizlik
- B) Çok anlamlılık
- C) Tutarsızlık
- D) Olgusal tartışma
- E) Tanımlama

35 - 40. soruları Din Kültürü ve Ahlak Bilgisi dersini yasal olarak almak zorunda olanlar ve İmam Hatip Okulları öğrencileri/mezunları cevaplayacaktır.

35. Allah, vahiy göndererek insana dünya hayatında yol göstermiştir. Bilgi sahibi olmasının imkânsız olduğu bazı konulardan insanı haberdar etmiştir. Ancak bazı konular vardır ki insan düşünerek bilgi sahibi olabilir.

**Aşağıdaki ayetlerden hangisinde insanın düşünerek bilgi sahibi olabileceği bir konuya değinilmiştir?**

- A) “Şüphesiz ki Rabbiniz, gökleri ve yeri altı günde (altı evrede) yaratan ve sonra arşa hükmeden, geceyi, kendisini durmadan takip eden gündüze katan; güneşi, ayı, yıldızları, hepsini buyruğuna baş eğdirerek var eden Allah'tır...” ( A'râf suresi, 54. ayet.)
- B) “Fakat Rabbine karşı gelmekten sakınanlar için (cennette) üst üste yapılmış ve altlarından ırmaklar akan köşkler vardır...” (Zümer suresi, 20. ayet.)
- C) “Cehennemden yedi kapısı vardır. Onlardan her kapı için birer grup ayrılmıştır.” (Hicr suresi, 44. ayet.)
- D) “Namazı kılın, zekâtı verin, rükû edenlerle beraber rükû edin.” (Bakara suresi, 43. ayet.)
- E) “Eğer yerde ve gökte Allah'tan başka ilâhlar bulunsaydı kesinlikle yerin göğün düzeni bozulurdu...” (Enbiya suresi, 22. ayet.)

36. Kozmolojik deliller, Allah'ın varlığını dış âlemi gözlemleyerek ispatlayan delillerdir. Bu delillerden en çok kullanılan nizam ve gaye delilidir.

**Aşağıdaki ayetlerden hangisi bu konuya örnek olarak verilemez?**

- A) "Biz gökleri, yeri ve bunlar arasında bulunanları, oyun ve eğlence olsun diye yaratmadık." (Enbiya suresi, 16. ayet.)
- B) "O, geceyle gündüzü, Ay'la Güneş'i hizmetinize verdi; yıldızlar da O'nun emrine boyun eğmişlerdir. Bunda aklını kullanan bir topluluk için önemli ibretler vardır. Sizin için yerden türlü renklerde bitirdiği şeyler de böyle; bunda da düşünüp taşınan bir kavim için büyük ibret vardır." (Nahl suresi, 12-13. ayetler.)
- C) "Görmedin mi Allah nasıl bir misal getirdi: Güzel bir sözü, kökü (yerde) sabit, dalları gökte olan güzel bir ağaca (benzetti). (O ağaç), Rabbinin izniyle her zaman yemişini verir. Öğüt alsınlar diye Allah insanlara misaller getirir." (İbrahim suresi, 24. ayet.)
- D) "Eğer yerde ve gökte Allah'tan başka ilâhlar olsaydı, kesinlikle ikisinin de düzeni bozulurdu." (Enbiya suresi 22. ayet.)
- E) "Göğün nasıl yükseltildiğine, dağların nasıl dikildiğine, yeryüzünün nasıl yayıldığına bakmazlar mı?" (Ğaşiye suresi 18. ayet.)

37. "Sana kıyameti, ne zaman gelip çatacağını soruyorlar. De ki: Onun ilmi ancak Rabbimin katındadır. Onun vaktini O'ndan başkası açıklayamaz. O, göklere de yerlere de ağır gelmiştir. O size ansızın gelecektir. Sanki sen onu biliyormuşsun gibi sana soruyorlar. De ki: Onun bilgisi ancak Allah katındadır. Ama insanların çoğu bilmezler." (A'râf suresi, 187. ayet.)

**Bu ayetten hareketle;**

- I. Kıyametin ne zaman gerçekleşeceğini sadece Allah bilir.
- II. Kıyamet öncesinde onun geldiğine işaret eden alametler ortaya çıkacaktır.
- III. Kıyamet, kesin olarak ve ansızın gerçekleşecek bir olaydır.

**yargılarından hangilerine ulaşılabılır?**

- A) Yalnız I                      B) I ve II                      C) I ve III  
D) II ve III                      E) I, II ve III

38. İslam medeniyetinin bilim, teknik ve sanat gibi bir çok alanda öncülük edecek eserler ortaya koyması 13.yüzyılda Batı medeniyeti tarafından fark edilmiştir.

**Aşağıdakilerden hangisi bunun sonuçlarından biri değildir?**

- A) Avrupa'dan Endülü's'e birçok öğrenci gönderilmiştir.
- B) Müslüman bilginlerin eserleri tercüme edilmiştir.
- C) Medreselerdeki program Avrupa'daki okullarda taklit edilmiştir.
- D) Yunan medeniyetine ait eserler Arapçaya tercüme edilmiştir.
- E) Rönesans hareketlerine zemin hazırlamıştır.

39. Aşağıda kelime-i şehadet ve kelime-i tevhidin anlamları verilmiştir.

- Ben şahitlik ederim ki; Allah'tan başka ilah yoktur. Ben, yine şahitlik ederim ki; Hz. Muhammed, Allah'ın kulu ve elçisidir.
- Allah'tan başka ilah yoktur. Hz. Muhammed, onun elçisidir.

**Bu ifadelerle ilgili,**

- Bu ilkeler tahkiki iman olarak kabul edilir.
- İslam dininin en temel inanç esaslarıdır.
- Bu esasları kalben kabul eden kişiler Müslüman olurlar.

**yargılarından hangileri doğru olarak kabul edilebilir?**

- A) Yalnız I      B) I ve II      C) I ve III  
D) II ve III      E) I, II ve III

40. Mus'ab bin Umeyr; zeki, çalışkan ve kendisini geliştirmiş bir gençti. İnsanlarla iyi iletişim kurabilen cana yakın bir kişiliğe sahipti. Bütün kabiliyetlerini İslam'ı anlamak ve anlatmak için kullandı. Hz. Peygamber de bu yeteneklerini geliştirmesi için ona imkânlar verdi. Bundan dolayı onu .....

**Bu metin aşağıdakilerden hangisi ile devam ettirilirse doğru bir bilgi verilmiş olur?**

- Helal ve haramları en iyi bilen kişi olarak göstermiştir.
- Medine'de Müslüman olanlara İslam'ı anlatması için görevlendirilmiştir.
- Genç yaşında ordu komutanı olarak görevlendirilmiştir.
- Habeşistan'daki Müslümanların temsilcisi yapmıştır.
- Yönetici ve kadı olarak atanmıştır.

**41 - 46. soruları Din Kültürü ve Ahlak Bilgisi dersini yasal olarak almak zorunda olmayan veya farklı müfredat ile alanlar cevaplayacaktır.**

41. Phyrhon'a göre aynı şey farklı insanlara, farklı şekillerde görünür. Aynı bal bir kimseye tatlı, bir başkasına acı gelebilir. Hatta aynı suyu bir elim sıcak, diğer elim soğuk algılayabilir. Ben suyun sıcak mı yoksa soğuk mu olduğunu bilemem.

**Phyrhon'un bu görüşleri aşağıdaki yargılardan hangisiyle çelişir?**

- Tüm bilgimizden şüphe etmeliyiz.
- Varlık hakkında doğru bilgiye ulaşılamaz.
- Duyu verileri insandan insana farklılık gösterir.
- Şeyler hakkında kesin bir yargıya varamayız.
- Görünüşlerin ötesindeki gerçekliğe ulaşılabilir.

42. Öyle hareket et ki; eylemlerinde olabildiğince çok mutluluğu, olabildiğince çok haz ile olabildiğince çok insan için gerçekleştirebil.

**Buna göre Bentham'ın ahlak ilkesi aşağıdakilerden hangisi ile ifade edilebilir?**

- Toplumsal faydacılık
- Ödeve uygunluk
- Bireysel hazcılık
- Altın ortaya uygunluk
- Bilgiye dayalılık

43. Bir insanın fiziksel ve zihinsel olarak kendisinden beklenen davranışı gerçekleştirecek düzeye ulaşmasıdır. Birey bu duruma ulaşmadan içinde bulunduğu döneme uygun davranışları yapamaz. Bir yıl önce ayakkabısını yardım almadan bağlayamayan bir çocuğun bir yıl sonra yardım almadan ayakkabısını bağlamayı öğrenmesi bu duruma örnektir.

**Bu durum aşağıdaki kavramlardan hangisiyle açıklanır?**

- A) Büyüme
- B) Deneyim
- C) Güdülenme
- D) İçgüdü
- E) Olgunlaşma

44. Statü, insanların toplum içindeki yerini ifade eden bir kavramdır. İki çeşit statü vardır; verilmiş statü ve kazanılmış statü. Verilmiş statü bireylere, onların yetenek ve becerilerine bakmadan ve herhangi bir çaba sarf etmeden, doğuştan elde edilir; kazanılmış statü kişilerin kendi çabaları sonucu elde ettikleri statüdür.

**Buna göre aşağıdakilerden hangisi verilmiş statüye örnektir?**

- A) Doktor olmak
- B) Kadın/erkek olmak
- C) Anne/baba olmak
- D) Milletvekili olmak
- E) Yönetici olmak

45. Bunalım ve çözülme yaşanan bir toplumda birlik, beraberlik ve dayanışmayı öneren iyilik, dostluk, saygı, yardımlaşma vb. gibi ideal ölçütler sosyal yaşamın düzenini, kurumların işleyişini ve toplumsal birliğin güçlenmesi sağlarlar. Toplumdan topluma değişebildikleri gibi aynı zamanda toplumsal normlara da kaynaklık ederler.

**Bu parçada açıklanan kavram aşağıdakilerden hangisidir?**

- A) Sosyal statü
- B) Sosyal değer
- C) Sosyal sapma
- D) Sosyal prestij
- E) Sosyal kontrol

46. Hume, nedenselliğin bir alışkanlık olduğunu, nesnelere arasında mantıksal ve zorunlu bir ilişkinin bulunmadığını ileri sürer. Gazâli'ye göre neden-sonuç ilişkisi olayların ve nesnelere birbiri ardı sıra gelmesinden ibarettir. Bu nedenle doğada böyle zorunlu bir ilişki yoktur.

**Parçada filozofların görüşlerini dile getirdiği ilke aşağıdakilerden hangisidir?**

- A) Özdeşlik
- B) Çelişmezlik
- C) Üçüncü halin imkânsızlığı
- D) Yeter - sebep
- E) Benzeşim





# Kendini Deęerlendir



1

*Kare kodu okut.*

2

*Sınavını seę*

3

*Cevaplarını sisteme gir.*

4

*Eksik olduęun konuları analiz et.*

5

*Bu sınava katılanlar arasındaki sıralamanı gör.*



T.C. MİLLÎ EĞİTİM  
BAKANLIĞI

3 ADIM

DENEME SINAVLARI

1. ADIM

AYT  
sözel



5. DENEME

ADI VE SOYADI

OKUL ADI

ADAYIN İMZASI

**ADAYIN DİKKATİNE!**

1. Bu sınavda AYT soru dağılımları dikkate alınmıştır.
2. Deneme tam kapsam olup YKS konularının tamamını kapsamaktadır.
3. Bu sınav Türk Dili ve Edebiyatı - Sosyal Bilimler 1 Testi (TDE 24 soru, Tarih 10 soru, Coğrafya 6 soru) 40 soru, Sosyal Bilimler 2 Testi (Tarih 11 soru, Coğrafya 11 soru, Felsefe Grubu 12 soru, DKAB 6 soru ) 40 soru olmak üzere toplamda 80 soru içermektedir.

Bu testlerin her hakkı saklıdır. Hangi amaçla olursa olsun, testlerin tamamının veya bir kısmının Millî Eğitim Bakanlığının yazılı izni olmadan kopya edilmesi, fotoğrafının çekilmesi, herhangi bir yolla çoğaltılması, yayımlanması ya da kullanılması yasaktır. Bu yasağa uymayanlar gerekli cezai sorumluluğu ve testlerin hazırlanmasındaki mali külfeti peşinen kabullenmiş sayılır.

### **DİKKAT!**

Din Kültürü ve Ahlak Bilgisi dersini yasal olarak almak zorunda olan adaylar ve İmam Hatip Okulları öğrencileri/mezunları, Sosyal Bilimler-2 Testi'nin ilk 40 sorusunu cevaplamakla yükümlüdür. Bu adaylar, bu testin 41-46. sorularını cevaplamayacaklardır. Bu adaylar, bu testin 41-46. sorularında işaretleme yapmış olsalar bile bu cevapları değerlendirmeye alınmayacaktır.

Din Kültürü ve Ahlak Bilgisi dersini yasal olarak almak zorunda olmayan veya farklı müfredat ile alan adaylar, Sosyal Bilimler-2 Testi'nin 35-40. sorularını cevaplamadan 41-46. sorularını cevaplayacaklardır. Bu adaylar, bu testin 35-40. sorularında işaretleme yapmış olsalar bile bu cevapları değerlendirmeye alınmayacaktır.

### **AÇIKLAMA**

1. Bu kitapçıkta **86 soru** bulunmaktadır.  
Türk Dili ve Edebiyatı-Sosyal Bilimler-1 Testi: 40 soru  
Sosyal Bilimler-2 Testi: 46 soru
2. **Bu sınavda her testteki doğru cevaplarınızın sayısından yanlış cevaplarınızın sayısının dörtte biri çıkarılacak ve kalan sayı o bölüme ilgili ham puanınız olacaktır.**
3. Kitapçığın sayfalarındaki boş yerleri müsvedde için kullanabilirsiniz.
4. Cevaplamaya istediğiniz sorudan başlayabilirsiniz. Bir soru ile ilgili cevabınızı cevap kâğıdında o soru için ayrılmış olan yere işaretlemeyi unutmayınız.
5. Bu kitapçıkta yer alan her sorunun sadece bir doğru cevabı vardır. Cevap kâğıdında bir soru için birden çok cevap yeri işaretlenmişse o soru yanlış cevaplanmış sayılacaktır. İşaretlediğiniz bir cevabı değiştirmek istediğinizde silme işlemini çok iyi yapmanız gerektiğini unutmayınız.

1. Bu testte sırasıyla, Türk Dili ve Edebiyatı (1-24), Tarih-1 (25-34), Coğrafya-1 (35-40) alanlarına ait toplam 40 soru vardır.  
2. Cevaplarınızı cevap kâğıdının Türk Dili ve Edebiyatı-Sosyal Bilimler-1 Testi için ayrılan kısmına işaretleyiniz.

1. İnsan zihninin (aklının) algılaması, anlaması ve ka-  
I  
rar vermesi aşamalarında karşılaştırma yapmanın  
şekillendirici bir fonksiyonu (işlevi) vardır. H. Piren-  
II  
ne'e göre karşılaştırma yapmak doğuştan gelen  
beşerî (insani) bir kazanımdır. Ancak bu tarz çalı-  
III  
malar en temel karşılaştırma yöntemi ile sınırlı kal-  
maz; analiz etme, yeniden inşa (çözme), değeren-  
IV  
dirme, genelleme ve yorumlamalar ile karşılaştırılan  
durum, olay, tema vb. hakkında bütüncül bir sentez  
V  
(bireşim) ortaya koyar.

**Bu parçada numaralanmış sözcüklerden hangisinin anlamı, ayraç içinde verilenle uyuşmamaktadır?**

- A) I B) II C) III D) IV E) V

2. **Aşağıdaki yargılardan hangisi kişisel düşünce içermemektedir?**

- A) Uzun süren sükûtu acı acı çalan kapının zili bozdu.  
B) Yapılan açıklamaların ardından herkes derin bir sükûta gömüldü.  
C) Sükûtu da sesi vardır, onu duyacak kulak hatta yürek lazımdır.  
D) Salonun sükûtu içinde uzun zaman yüz yüze baktılar.  
E) Birkaç dakikalık sükûtumuzda bize güzel bestelerinden birini dinletebilirdin.

3. Stefan Zweig, 1927 yılında insanlığın tarihinden kendince seçtiği kırılma noktalarını o tutkulu üslubuyla anlattığı, denemelerden müteşekkil bir kitap yayımlar. *İnsanlığın Yıldızının Parladığı Anları* isimini verdiği bu kitaptaki denemelerin ortak noktası, bize "Ya öyle olmasaydı?" diye sordurtmasıdır. Hepimizin kişisel hayatında en az bir kez yaşadığı, geriye dönüp bakınca "Yahu ne kadar fazla şey art arda gelmiş de öyle olmuş!" diye hayretler içinde kalarak tuhaf bir huzura erdiği veya kederlendiği, kişisel hayatının kırılma noktaları kabul ettiği olaylar vardır. Büyüklüğünü o zaman pek de anlayamadığımız bu anlar ancak geriye dönüp baktığımızda gerçek anlamlarına kavuşur.

**Bu parçanın anlatımıyla ilgili aşağıdakilerden hangisi söylenemez?**

- A) Deyimlerden yararlanılmıştır.  
B) Gözlem gücünden yararlanılmıştır.  
C) Kişisel yargılar içermektedir.  
D) Niteleyici sözcüklere yer verilmiştir.  
E) Tespitte bulunulmuştur.

4. Böyle bir soru doğal olarak tüm kariyerimiz boyunca muhatap olacağımız bir soru. Biz aktörler için sinemada yaşadığı her deneyim, karşılaştığı her yönetmen bambaşka bir yaşamı temsil eder. Bu yaşamlar arasında doğal olarak favorileriniz ya da hatırlamak istemedikleriniz vardır. Tüm açık yürekliliğimle *Hayat Güzeldir*'in bugüne dek yaptığım işlerden farklı bir yer edindiğini söyleyebilirim. "Farklı" derken de bunu tanımlamakta zorlanıyorum aslında. Belki daha uzun bir zaman diliminde, bundan beş on yıl sonra daha net açıklayabileceğimi düşünüyorum bu farklılığı.

**Bu paragraf aşağıdaki sorulardan hangisine verilmiş bir cevap olabilir?**

- A) Oyuncular olarak tecrübelerinizi nasıl kazanıyorsunuz?  
B) Oynadıktan sonra hatırlamak istemediğiniz bir rolünüz oldu mu?  
C) Diğer filmleriniz ile *Hayat Güzeldir*'in arasında ayırım yapabilir misiniz?  
D) *Hayat Güzeldir*'in sizdeki yeri nedir?  
E) Oynadığınız filmlerle ilgili düşünceleriniz zamanla değişir mi?

5. Prof. Dr. Aziz Sançar'ın hayat öyküsü herkese örnek olacak mücadelelerle doludur. Bilim insanında olması gereken sabırlı, kararlı, azimli bir gözlemci olma ve çok çalışma gibi değerleri üzerinde taşıyan Aziz Sançar; Mardin'den başlayıp Nobel Ödülü almasına kadar giden bir başarının mimarı olmuştur. Aziz Sançar bir araştırmacı arkadaşı ile bilimsel buluşların maddi değerlerini konuşurken arkadaşı Aziz Sançar'dan, keşfine maddi bir değer biçmesini ister. Aziz Sançar, "Sana on milyon dolar versek bu buluşu bir başkasına verir misin derlerse hiç düşünmeden vermem derim. Çünkü keşif her türlü maddi ödülün dışında bana nadiren bulabildiğim bir iç sükûnet vermiştir. Ayrıca gelecek kuşak Türk araştırmacıları biyokimya ve moleküler biyoloji derslerinde bunu görüp 'Bu keşfi bizden biri yaptı.' diyebilecekler. Onlara bu güveni vermekle memleketime hizmet ettiğimi hissediyorum." der.

**Bu parçadan Aziz Sançar ile ilgili aşağıdakilerden hangisine ulaşılabilir?**

- A) Varlıklı bir ailenin çocuğu olduğu için yaptıklarının karşılığında hiçbir ücret almamıştır.
- B) Nobel Ödülü alması hayatının akışını yavaşlatmamış aksine onun daha fazla üretmesini sağlamıştır.
- C) İmkânsızlık içinde geçirdiği öğrenim hayatı onu kamçılıyarak zirveye taşımıştır.
- D) Millî ve manevî değerlerin paradan çok daha kıymetli olduğunu ortaya koymuştur.
- E) Yaptığı keşiflerde yakın ailesinden başka kimse-den maddi manevî destek almamıştır.

6. Romanlarım, bazen küçücük bir kıvılcımla başlar. Kimsenin dikkatini çekmeyen bir olay, benim için sayfalar dolusu bir anlatıya dönüşür; bir volkan patlar içimde o an. Bu niyetle direkt kapatırım kendimi, bazen aylarca bilgisayarın başından kalkmam. Bazen de açılırım dünyaya, Kaf Dağı'na gidemem ama Mısır Piramitleri'ne romanlarım için gittiğim olmuştur. Her romanımda çok sevdiğim ablalarım Nur ve Hava mutlaka karakterlerimden biridir. Totem gibi... Onlarsız olmaz romanlarım sanki. Hangi yörenin insanına aitse olay, o yörenin yerel her şeyini yerinde görürüm. Olayın sonucundan çok, olayın nedenlerine odaklanmam gerekir ki romanımda tutarsızlık olmasın. Yazdığım süreçte yakınlarım da tanıyamaz bazen beni, yazdığım yöreye göre karakterlerimi olduğu gibi yansıtabilmek için bambaşka konuşmaya başlamışım çoktan. Bütün algılarım yeni romanla açılır âdeti. Gezdiğim her yerdeki en belirgin nesnelere dikkatle incelerim ki kurgumda onları betimleyebileyim.

**Bu parçadaki yazarla ilgili aşağıdakilerin hangisi söylenemez?**

- A) Eserlerini çeşitli araştırmalar yaparak yazdığı
- B) Eserlerini yazarken gözlemlere önem verdiği
- C) Eserlerini yazın dilinden uzaklaşmadan yazdığı
- D) Karakter seçiminde gerçek hayattan yararlanabileceği
- E) Eserlerinin konusunun gündelik bir olaya dayanabileceği

7. Çeşitli renklerle türlü görüşler  
Hayal midir rüya mıdır bu işler  
Tatlı muhabbetler güzel sevişler  
Güzellik ne sevda nedir sevgi ne

**Bu dördükle ilgili aşağıdakilerden hangisi yanlıştır?**

- A) 11'li hece ölçüsüyle söylenmiştir.
- B) Ağzı özelliği taşımaktadır.
- C) Düz ayak kullanılmıştır.
- D) Tenasüp sanatına yer verilmiştir.
- E) Zengin kafiye vardır.

8. Kahrımın nedenini söylesem irkilirler;  
Çünkü herkes beni Kays, seni Leylâ bilirler.
- Bu dizelerde aşağıdaki edebî sanatlardan hangisi kullanılmıştır?**
- A) İntak                      B) Teşhis                      C) Tenasüp  
D) İstifham                      E) Telmih

9. Aradılar bir tenhada buldular  
Yaslandılar şivgalarım kırdılar  
Yaz bahar ayında bir od verdiler  
Yandım gittim ala karlı dağ iken
- Bu dörtlükle ilgili aşağıdakilerin hangisi söylenemez?**
- A) Koşmadan alındığı  
B) Redif kullanıldığı  
C) 11'li hece ölçüsüyle yazıldığı  
D) Çapraz kafiye düzeninde olduğu  
E) İstiare sanatından yararlanıldığı

10. Gelmiş ipin hakkından ktır ktır.  
Bir ilmik kopunca ağdan hayır mı kalır.  
Sabır, biraz da zaman  
Güçten, öfkeden daha yaman.
- Bu dizeler fablın hangi bölümlerinden alınmış olabilir?**
- A) serim - düğüm  
B) serim - çözüm  
C) düğüm - çözüm  
D) düğüm - öğüt  
E) çözüm - öğüt

11. Yazılı edebiyat döneminde Mani ve Buda dininin esaslarını anlatan eserler verilmiştir. Bu eserlerde Uygur alfabesi kullanılmıştır. Örneğin ---- ve ---- Budizmi anlatan eserlerdir. Üslup ve hikâye etme biçimi *Göktürk Yazıtları*'na benzese de *Göktürk Yazıtları*'ndaki millî şuur ve heyecan bu metinlerde yoktur.

**Bu parçadaki boşluklara aşağıdakilerden hangisi gelmelidir?**

- A) *Altun Yaruk - Sekiz Yükmek*  
B) *Prens Kalyanamkara ve Papamkara - Irk Bitig*  
C) *Kutadgu Bilig - Divân-ı Hikmet*  
D) *Saltuknâme - Mairsimit*  
E) *Atabetü'l Hakâyık - Divânu Lugâti't-Türk*

12. Türk toplumunda büyük ilgi gören tasavvuf, büyük şahsiyetler yetiştirmiştir. Bu tasavvufi şahsiyetlerin hayatlarıyla ilgili biyografik çalışmalar yeni bir türün ortaya çıkmasını sağlamıştır. Olağanüstü öğeler içeren bu eserler, geniş halk kitlelerine bu kişileri tanıtmak ve sevdirmek amacıyla kaleme alındıkları için de dil ve üslup bakımından halk diline yakındır.

**Bu parçada sözü edilen tür aşağıdakilerden hangisidir?**

- A) Menakıpname  
B) İskendername  
C) Sefaretname  
D) Gazavatname  
E) Fütüvvetname

13. Dervişin vefatından sonra Bektaşî tarikatına mensup dervişler tarafından kaleme alınan eserlerin onun biyografisine katkısı çoktur. Şeyhî'nin yaşamını konu alan eser; şairin eserlerinde önemli bir paya sahip olan vahdet-i vücud, ilahi aşk, melamet ve insan-ı kâmil gibi tasavvufî düşüncelerin adresini gösterir. Didaktik eserlerinde açık ve yalın bir dil kullanan şairin nükteli ve iç-neli bir üslubu vardır. *Divân*, *Gevhernâme*, *Minbernâme* gibi manzum, *Budalanâme*, *Vücûdnâme* gibi mensur, *Saraynâme* ve *Dilgüşâ* gibi manzum / mensur karışık eserleri vardır.

**Bu parçada sözü edilen şair aşağıdakilerden hangisidir?**

- A) Kaygusuz Abdal  
B) Hacı Bayram Veli  
C) Âşık Garip  
D) Köroğlu  
E) Eşrefoğlu Rumî

14. İçerisinde ahlaki, psikolojik, tasavvufî bilgiler vardır. Bu yönüyle didaktik bir eserdir. Mesnevi nazım biçimi kullanılarak yazılmıştır. Beyit sayısı 12.000'i bulmaktadır. Âşık Paşa halkı eğitmeyi amaçladığı için saf, katışıksız bir Türkçe ile eserini kaleme almıştır.

**Bu parçada özellikleri verilen eser aşağıdakilerden hangisidir?**

- A) *İskendernâme*  
B) *Cemşid ü Hurşid*  
C) *Garibnâme*  
D) *Feleknâme*  
E) *Mantıku't-Tayr*

15. Asıl adı Ömer olup divan edebiyatında hiciv denince akla gelen ilk isimdir. Hatta hicivlerinden dolayı ona genç yaşta "Zarrî" mahlası verilen şairin *Sihâm-ı Kazâ* adlı eserinde hicivleri yer almaktadır.

**Bu parçada sözü edilen şair aşağıdakilerden hangisidir?**

- A) Nâbî  
B) Necâtî  
C) Nefî  
D) Nedim  
E) Neşâtî

16. Tanzimat Dönemi Türk şiiri ile ilgili verilen bilgilerden hangisi **yanlıştır**?

- A) Şiirde konu bütünlüğü sağlanmıştır.  
B) Biçim eski olsa da içerikte yenilik görülmüştür.  
C) Aruz ölçüsü kullanılmaya devam edilmiştir.  
D) Şiirlerde başlık kullanılmaya başlanmıştır.  
E) Divan edebiyatı mazmunlarına yer verilmiştir.

17. Türk edebiyatında 1860'lı yıllarda Şinâsi ile başlayıp Nâmık Kemal ve Abdülhak Hâmit'le gelişen yenileşme hareketinin başlıca temsilcilerinden biridir. Her güzel şey şiirin konusu olabilir diyen sanatçının ilk manzum eseri eski tarzda yazdığı şiirlerden meydana gelen *Nağme-i Seher*, ikincisi *Yâdigâr-ı Şebâb*'dir. Yeninin en büyük temsilcisi olan sanatçının ilk oyunu ise *Afife Anjelik* adlı trajedidir.

**Bu parçada sözü edilen sanatçı aşağıdakilerden hangisidir?**

- A) Tevfik Fikret  
B) Cenab Şahabettin  
C) Recâizâde Mahmut Ekrem  
D) Muallim Nâci  
E) Ahmet Haşim



18. Maraş Lisesinde okurken edebiyatla ilgilenen bir arkadaş grubuna dâhil olmuştur. Erdem Bayazıt, Mehmet Akif İnan, Rasim Özdenören ve Alaeddin Özdenören gibi ileride şair, hikâyeci ve yazarlar çıkacak bu gruptaki arkadaşlarıyla *Hamle* adlı okul dergisini yeniden çıkarmıştır. 1966'da *Diriliş* dergisinde şiirleri, *İns* adlı uzun hikâyesi yayımlanmıştır. Edebiyat dünyasında tanınmaya başladığı bu yıllarda ilk kitabı *İşaret Çocukları*'ni çıkarmıştır.

**Bu parçada sözü edilen sanatçı aşağıdakilerden hangisidir?**

- A) Cahit Zarifoğlu
- B) İsmet Özel
- C) Hilmi Yavuz
- D) Sezai Karakoç
- E) Ebubekir Eroğlu

19. ---- romanının ana kahramanı Servetifünun neslini temsil eden Ahmet Cemil'dir. Romanda dönemin sanat anlayışı Ahmet Cemil'in bakışından anlatılır. Yazıldığı dönemin toplumsal hayatını süslü ve ağır bir dille anlatmıştır. Türk edebiyatında Batılı tarzda ilk romanlardan biri olarak kabul edilir.

**Bu parçada boş bırakılan yere aşağıdakilerden hangisi getirilmelidir?**

- A) *Hayal İçinde*
- B) *Gönül Hanım*
- C) *Mai ve Siyah*
- D) *Kırık Hayatlar*
- E) *Aşk-ı Memnu*

20. Çocukluğu anneannesinin konağında geçen yazar; komşu hanımlardan hikâyeler, masallar, halk anlatılarını dinlemiş, geleneksel mahalle hayatını ve halktan insanları tanımıştır. Küçük yaşlardan itibaren Ahmet Mithat Efendi'nin kitaplarını okumuş, onun dil ve edebiyat görüşünden etkilenmiştir. Eserlerini oluştururken geleneksel halk hikâyeleri, meddah, Karagöz ve orta oyunundan büyük ölçüde yararlanmıştır. Hiçbir edebî gruba, akıma bağlı kalmamış; kendine has bir edebiyat anlayışı geliştirmiştir. Yazar, edebî eserlerinde "toplumsal fayda" amacını taşımıştır. Ahmet Mithat Efendi'nin edebiyat anlayışını takip etmişti. *Gulyabani*, *Cadı*, *Mürebbiye* eserleri arasındadır.

**Bu parçada sözü edilen sanatçı aşağıdakilerden hangisidir?**

- A) Ahmet Rasim
- B) Hüseyin Rahmi Gürpınar
- C) Sâmipaşazâde Sezâi
- D) Hüseyin Cahit Yalçın
- E) Nâbizâde Nâzım

21. Samim; Simeranya adında dünyanın yüz elli yıl sonrasını tasarladığı bir ütopyası olan, maneviyata düşkün bir roman karakteridir. O, aslında yazarın okurlarına iletmek istediği mesajlar için bir araçtır. Çünkü yazar, işin özünde roman kişilerini Batılı ve Doğulu olarak sınıflandırmaktadır ve hepsinin bir görevi ve işlevi vardır.

**Bu parçada sözü edilen yazar ve romanı aşağıdakilerden hangisidir?**

- A) Ahmet Hamdi Tanpınar - *Huzur*
- B) Peyami Safa - *Fatih-Harbiye*
- C) Halide Edip Adivar - *Sinekli Bakkal*
- D) Ahmet Hamdi Tanpınar - *Mahur Beste*
- E) Peyami Safa - *Yalnızız*

**22. Orta oyunu ile ilgili aşağıdaki bilgilerden hangisinde bir yanlışlık yapılmıştır?**

- A) Mukaddime bölümünde zurnanın Pişekâr havası ile gelen Pişekâr, zurnacı ile kısa bir konuşma yapar. Sonra zurna, Kavuklu havasını çalar; Kavuklu ile Kavuklu-arkası (cüce) konuşarak sahneye gelir.
- B) Orta oyununda dekor denilebilecek başlıca iki nesne vardır: Birincisi ev olarak kullanılan "yeni dünya" adı verilen paravan, ikincisi iş yeri olarak kullanılan ve dükkân adı verilen "palanga"dır.
- C) Orta oyununda Pişekâr ve Kavuklu başta olmak üzere Zenne, Acem, Rumelili, Arnavut, Kayserili, Frenk, Çelebi, Muhacir gibi tipler vardır.
- D) Orta oyununda, vurmali ve nefesli sazlarla söylenen şarkı ve türküler oyuna eşlik eder.
- E) Orta oyunu, sahne olarak kabul edilen ve etrafı seyircilerle çevrilmiş açık bir alanda oynanır.

- 23.** Edebiyatımızda absürt tiyatro alanında başarılı yapıtlar ortaya koymuş olan sanatçı, sağlam tiyatro tekniği, şiirsel dili ve evrensel boyutları bulunan oyunları ile tanınmaktadır. *Midas Üçlemesi*, yazarın en bilinen eseridir. İstanbul Şehir Tiyatroları'nda yönetmen yardımcılığı ve dramaturgluk da yapan yazar; *Delî Dumrul*, *Troya İçinde Vurdular Beni*, *Ben Anadolu* gibi pek çok eserin de sahibidir.

**Bu parçada sözü edilen yazar aşağıdakilerden hangisidir?**

- A) Haldun Taner  
B) Güngör Dilmen  
C) Turgut Özakman  
D) Cevat Fehmi Başkut  
E) Refik Erduran

- 24.** Dış dünyayı nesnel bir bakışla anlatmış ve şiire önem vermişlerdir. Şiirde ölçü, kafiye, ses uyumu çok önemsenmiş; şiirin biçimsel yönden kusursuz olmasına önem verilmiştir. Realizmin şiire yansımış biçimidir. Seçkinlere seslenen bir edebiyat akımıdır. Sanatçılar resim yapar gibi şiir yazmaya çalışmışlardır.

**Bu parçada sözü edilen edebiyat akımı aşağıdakilerden hangisidir?**

- A) Romantizm  
B) Natüralizm  
C) Parnasizm  
D) Ekspresyonizm  
E) Sembolizm

- 25.** Geçmişin dönemlendirilmesinde izlenen yollardan biri tarihin çağlara ayrılmasıdır. Tarihin çağlara ayrılmasında toplumlar kendi tarihlerindeki önemli olayları esas almışlardır. Bu nedenle tarihçiler arasında çağların başlangıç ve bitiş noktaları konusunda tam bir görüş birliği yoktur. Örneğin bazı tarihçiler Yeni Çağ'ın başlangıcı olarak İstanbul'un Fethi'ni, bazıları ise matbaanın icadını kabul etmişlerdir. Aynı şekilde kimi tarihçiler İlk Çağ'ın Kavimler Göçü'yle birlikte sona erdiğini kabul ederken bir kısım tarihçiler bunun Batı Roma İmparatorluğu'nun yıkılışıyla gerçekleştiğini söylemektedir.

**Paragraf dikkate alındığında, tarih bilimi ilgili aşağıdakilerden hangisine ulaşılar?**

- A) Tarihî araştırmalarda olaylar arasında sebep sonuç ilişkisi kurmak oldukça önemlidir.
- B) Tarihin dönemlendirilmesinde toplumdan topluma değişen önemli görülen olaylar etkilidir.
- C) Tarihin dönemlendirilmesi tüm dünyada objektif bir şekilde gerçekleşir.
- D) Tarihî olayların gerçekleşmesinde sosyal ve kültürel öğelerin önemi büyüktür.
- E) Tarihî olaylar değerlendirilirken olayın geçtiği dönemin koşulları ele alınır.

26. İslamiyet'i kabul eden ilk Türk boyu aşağıdakilerden hangisidir?

- A) Peçenekler
- B) Çiğil
- C) Oğuzlar
- D) Karluklar
- E) Kıpçaklar

27. Anadolu coğrafyası bulunduğu konum itibari ile tarihin her döneminde toplumlar için bir cazibe merkezi olmuştur. Tarihin hemen hemen her döneminde göç alan bir yerleşim yeri haline gelmiştir.

**Bu duruma göre Anadolu'ya ilk Türk akınına yapan topluluk aşağıdakilerden hangisidir?**

- A) Avarlar
- B) Oğuzlar
- C) Avrupa Hunları
- D) Sabarlar
- E) Hazarlar

28. Osmanlı topraklarının paylaşılması ve Bizans'ın canlandırılması amacıyla Rusya-Avusturya 1780 yılında bir plan hazırlayarak kendi aralarında antlaşma imzalamışlar ancak proje hayata geçirilememiştir.

**Bu amaçla hazırlanan projede aşağıdaki milletlerden hangisi harekete geçirilmek istenmiştir?**

- A) Arnavutlar
- B) Yunanlar
- C) Lehler
- D) Bulgarlar
- E) Sırlar

29. I. Malta Adası Kuşatması  
II. I. Viyana Kuşatması  
III. Cerbe Deniz Savaşı

**Kanuni Sultan Süleyman Dönemi'nde yapılan yukarıdaki seferlerin hangileri başarısızlıkla sonuçlanmıştır?**

- A) Yalnız I
- B) Yalnız II
- C) Yalnız III
- D) I ve II
- E) II ve III

30. Aşağıdakilerden hangisi tımar sisteminin bozulma nedenleri arasında gösterilemez?

- A) Tımarların, sipahiler dışındaki kişilere verilmesi
- B) Tımarların saray görevlileri tarafından özel mülkiyete dönüştürülmesi
- C) Dirliklerin parayla alınıp satılır hâle gelmesi
- D) Uzun süren savaşlar ve başarısız sonuçlar alınması
- E) Savaş ganimetlerinin paylaşımında belirsizliklerin yaşanması

31. "... Ordu mensupları cemiyet içinde kaldıkça millete dayanan bir parti kuramayız. Orduyu da zaafa uğratarız. Bugün mensuplarının çoğu İttihat ve Terakki Cemiyeti'nin üyesi olan 3. Ordu esas itibarıyla modern bir ordu sayılamaz. Ordu ile cemiyeti ayırılmalı. Cemiyet tam manasıyla siyasi bir parti halinde milletin bünyesinde kök salsın. Ordu da asli vazifesiyle uğraşsın..."

**Mustafa Kemal Atatürk'ün sözlerini haklı çıkartan gelişme aşağıdakilerden hangisidir?**

- A) I.Balkan Savaşı
- B) 31 Mart Vakası
- C) II.Balkan Savaşı
- D) Trablusgarp Savaşı
- E) II. Meşrutiyet'in ilanı

32. Yeni Türk Devleti'nin hukuk alanında yaptığı düzenlemeler çerçevesinde aşağıdaki eşleştirmelerden hangisi yanlış verilmiştir?

- A) İcra İflas Kanunu - İsviçre
- B) Ceza Mahkemeleri Usulü Kanunu - Almanya
- C) Medeni ve Borçlar Kanunu - İsviçre
- D) Ceza Kanunu - Bulgaristan
- E) İdare Hukuku - Fransa

33. Cumhuriyet Dönemi'nde gerçekleşen;

- Şeyh Said Ayaklanması,
- Mustafa Kemal'e suikast girişimi
- Menemen Olayı

gibi gelişmelerin ortak yönü için;

- I. Rejimi yıkmaya yönelik eylemlerdir.
- II. Ülkede huzur ve güvenin bozulmasında etkili olmuşlardır.
- III. İnkılaplar halk tarafından benimsenmiştir.

yargılarından hangisi söylenemez?

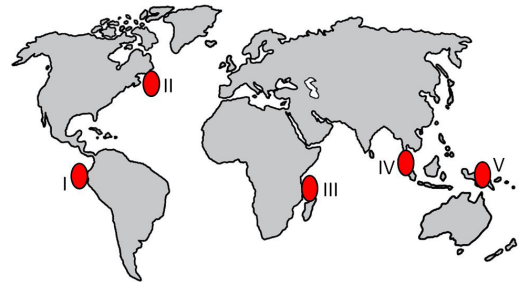
- A) Yalnız I
- B) Yalnız II
- C) Yalnız III
- D) I ve II
- E) I, II ve III

34. CHP iktidarına ve bürokrasiye karşı Nuri Demirağ öncülüğünde kurulan ..... 1946'da ve daha sonra katıldığı seçimlerde başarı sağlayamadı. 22 Mayıs 1958'de feshedilmiş sayıldı.

Yukarıda verilen bilginin doğru bir şekilde tamamlanması için boş bırakılan yere aşağıdakilerden hangisi getirilmelidir?

- A) Millî Nizam Partisi
- B) Milliyetçi Köylü Partisi
- C) Millî Kalkınma Partisi
- D) Demokrat Parti
- E) Türkiye İşçi ve Çiftçi Partisi

35. Aşağıdaki haritada bazı alanlar numaralandırılarak gösterilmiştir.



Haritada numaralandırılan alanlardan hangisinde tropikal siklonlara bağlı ekstrem olayların yaşanma riski daha düşüktür?

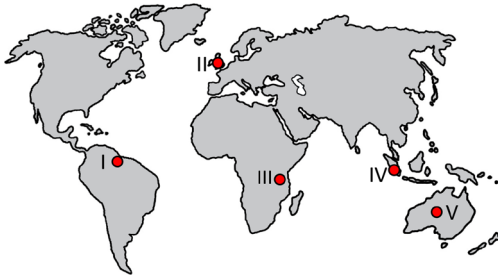
- A) I
- B) II
- C) III
- D) IV
- E) V

36. Ortaya çıkmasında doğal süreçler etkili olsa da çevre sorunlarının büyük bölümü beşerî faaliyetler sonucu çevrenin zarar görmesi, kirlenmesi ve doğadaki denge bozulması sonucu oluşmaktadır.

**Aşağıdakilerden hangisi bu duruma neden olan beşerî faaliyetlerdendir?**

- A) Ekolojik duyarlılığın artırılması  
B) Ev ve fabrika bacalarında filtre kullanılması  
C) Hasat sonrası oluşan tarımsal atıkların yakılması  
D) Tıbbi atıkların özel araçlarla taşınması ve bertaraf edilmesi  
E) Enerjide fosil yakıt yerine yenilenebilir kaynak kullanılması

37. Mevsimler arasında görülen belirgin yağış farkları, hayvanların yaşamsal faaliyetlerini etkilemektedir. Özellikle kurak dönemde su kaynaklarının azalması hayvanların su kaynaklarının olduğu bölgelere göç etmesine neden olmaktadır.



**Haritada numaralandırılan alanların hangisinde bu durumun daha belirgin olarak yaşandığı söylenebilir?**

- A) I    B) II    C) III    D) IV    E) V

38. Gelişmişliğin yalnızca ekonomik göstergelere göre ölçüldüğü yaklaşımlara alternatif olarak Birleşmiş Milletler Kalkınma Programı 1990 yılından bu yana her yıl İnsani Gelişim Endeksi Raporu yayımlamaktadır. İnsani gelişim endeksindeki sıralamaların tespitinde, ekonomik göstergelere ek olarak ülkelerin bazı nüfus özellikleri de dikkate alınmaktadır.

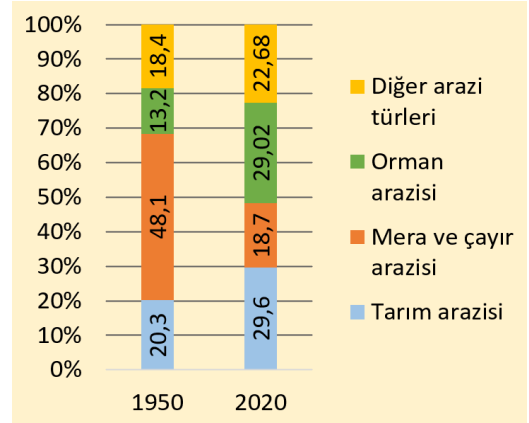
**Ülkelerin bu endeksteği sırasının belirlenmesinde;**

- I. ortalama eğitim seviyesi  
II. aritmetik nüfus yoğunluğu  
III. doğuştan beklenen yaşam süresi

**özelliklerinden hangilerinin daha etkili olduğu söylenebilir?**

- A) Yalnız I    B) Yalnız II    C) Yalnız III  
D) I ve III    E) II ve III

39. Aşağıda Türkiye'de 1950 ve 2020 yıllarında su yüzeyleri hariç ülkenin toplam arazisinden yararlanma şekilleri ve oranlarını gösteren grafik verilmiştir.



**Yalnızca grafikteki bilgiler dikkate alındığında aşağıdakilerden hangisine ulaşılabilir?**

- A) Hayvancılık faaliyetlerinde verim düşmüştür.  
B) Otlak olarak kullanılabilen alanlar daralmıştır.  
C) Tarım arazilerinde yem bitkilerine ayrılan alanın oranı artmıştır.  
D) Diğer arazi türleri içerisinde en büyük pay sanayi alanlarına aittir.  
E) Tarım arazilerinden elde edilen gelir artmıştır.

40. Türkiye'de Cumhuriyet'in kuruluşundan bugüne ekonomik alanda yapılanlar 1923-1929 dönemi, 1930-1950 dönemi, 1950-1960 dönemi, 1960-1980 dönemi ve 1980'den sonraki dönem olmak üzere beş döneme ayrılmıştır.

**Buna göre aşağıdakilerden hangisinin yapıldığı dönem yanlış verilmiştir?**

- A) İzmir İktisat Kongresi'nin toplanması - 1923-1929 dönemi
- B) Birinci Beş Yıllık Sanayi Planı'nın uygulanması 1930-1950 dönemi
- C) Sanayi Kredi Bankası ve Sümerbank'ın kurulması - 1950-1960 dönemi
- D) Beş yıllık kalkınma planlarının uygulanmaya başlanması - 1960-1980 dönemi
- E) İhracata dayalı sanayi stratejisi düzenlemelerinin uygulamaya konulması - 1980'den sonraki dönem

1. Bu testte sırasıyla, Tarih-2 (1-11), Coğrafya-2 (12-22), Felsefe Grubu (23-34), Din Kültürü ve Ahlak Bilgisi (35-40), Din Kültürü ve Ahlak Bilgisi dersini yasal olarak almak zorunda olmayan veya farklı müfredat ile alanlar için Felsefe Grubu (41-46) alanlarına ait toplam 46 soru vardır.
2. Cevaplarınızı cevap kâğıdının Sosyal Bilimler-2 Testi için ayrılan kısmına işaretleyiniz.

1. Tarihçi, tarihi araştırırken, kendi duygu durumunu, dünya görüşünü, toplumsal değer sistemlerini dışlayarak, bunları araştırma konusuna katmamalıdır.

**Bu ifadeyle tarihin özelliklerinden hangisine vurgu yapılmaktadır?**

- A) Öznellik  
B) Tekrarlanamazlık  
C) Teklik  
D) Objektiflik  
E) Nedensellik

2. İlk Çağ uygarlıklarından olan Perslerde kral, geniş topraklara sahip olan ülkesinin yönetimini kolaylaştırmak için ülkeyi 'satraplık' adı verilen bir sistemle yönetmiştir. Bu sisteme göre kral, ülkedeki yönetim birimi olan eyaletlerine 'satrap' adını verdiği valileri gönderiyordu. "şah gözü" ve "şah kulağı" denilen görevliler vasıtasıyla da bu valilerini sürekli denetlemekteydi.

**Bu bilgidan yola çıkarak Perslerle ilgili;**

- I. İstilalara açık bir coğrafyadadır.  
II. Merkezi bir yönetim anlayışı benimsenmiştir.  
III. İdari alanda gücünü ekonomiden alan feodal yapı bulunmaktadır.

**yargılarından hangilerine ulaşılır?**

- A) Yalnız I                      B) Yalnız II                      C) Yalnız III  
D) I ve II                      E) I, II ve III

3. Hz. Muhammed Dönemi'nde İslam Devleti'nin merkezi Medine iken, Hz. Ali zamanında Küfe, Emeviler Dönemi'nde Şam, Abbasiler Dönemi'nde ise Bağdat ön plana çıkmıştır.

**İslam Devleti'nin, Hz. Muhammed Dönemi'nden Abbasilere kadar olan süreçte başkentlerinin değişmesinde etkili olan etmen aşağıdakilerden hangisidir?**

- A) Kültürel ilişkilerin gelişmesi  
B) Komşu ülkelerle ilişkilerin gelişmesi  
C) İslam Devleti'nin sınırlarının giderek genişlemesi  
D) Devlette egemen olan güçlerin değişmesi  
E) İslam Devleti'nde farklı bölgelerde var olan devlet teşkilatlanması

4. XV. yy. da İspanya Krallığı, İber Yarımadası'ndaki Endülüs Emevîlerinden bu yana yaşamakta olan Müslümanlara büyük bir baskı politikasına başladı. Bölgedeki Müslüman ve Yahudiler, Hristiyanlar tarafından katledilmeye başlanınca Osmanlı Devleti bölgeye gönderdiği donanmayla kurtarabildiği kadar Müslüman ve Yahudi'yi topraklarına getirdi.

**Paragrafta bahsedilen olay aşağıdaki Osmanlı padişahlarından hangisinin döneminde gerçekleşmiştir?**

- A) I. Bayezid  
B) II. Murat  
C) Fatih Sultan Mehmet  
D) II. Bayezid  
E) Yavuz Sultan Selim

5. İnsanlık tarihinin önemli dönüm noktalarından biri Sanayi Devrimi'dir. Sanayi Devrimi'nin başta ekonomi olmak üzere birçok alanda etkisi olmuştur. Sanayi Devrimi'yle birlikte el emeğine dayalı tarımsal üretim ve küçük ölçekli atölye üretiminden, makineleşmeye dayalı endüstriyel üretime geçilmiştir.

**Bu durum;**

- I. işçi sınıfının ortaya çıkması,  
II. pazar arayışının hız kazanması,  
III. tarımsal üretimde artışların olması

**sonuçlarından hangilerini doğurmuştur?**

- A) Yalnız I      B) Yalnız II      C) Yalnız III  
D) II ve III      E) I, II ve III

6. Berlin Kongresi'nde sadece Ayastefanos Antlaşması'na yeni bir şekil verilmekle kalınmamış, bozulan Avrupa güçler dengesinin yerine yeni güçler dengesi kurulmuştur. Bu yeni denge, Avrupalı büyük devletlerin Osmanlı topraklarını paylaşmasıyla ortaya çıkmıştır. Ayastefanos Antlaşması ile karşısında sadece Rusya'yı bulan Osmanlı Devleti, Berlin Kongresi'nde altı büyük devletin hedefi hâline gelmiştir.

**Berlin Kongresi'nde Osmanlı Devleti'ne karşı olan devletler arasında aşağıdakilerden hangisi yer almaz?**

- A) İngiltere  
B) Almanya  
C) Fransa  
D) Avusturya-Macaristan  
E) Hollanda

7. Şam'da askerlik görevinin yanı sıra siyasi faaliyetlerini de sürdüren Mustafa Kemal, burada bu cemiyeti kurdu. Ali Fuat'ın (Cebesoy) desteğiyle Beyrut'ta cemiyetin bir şubesini açtı. Suriye'de istediği gibi faaliyetlerini sürdüremeyen Mustafa Kemal, gizlice Selanik'e geçti ve orada da cemiyetin başka bir şubesini açtı.

**Bu parçada söz edilen cemiyet aşağıdakilerin hangisidir?**

- A) İttihat ve Terakki  
B) Felah-ı Vatan  
C) Âdem-i Merkeziyet  
D) Müdafaa-i Hukuk  
E) Vatan ve Hürriyet

8. Çağının gerisinde kalmış, toplumun ihtiyaçlarını karşılayamayan kurum ve uygulamaların ortadan kaldırılarak yerine modern kurum ve uygulamaların getirilmesidir.

**Verilen ifade aşağıdaki ilkelerden hangisiyle doğrudan ilişkilidir?**

- A) Laiklik  
B) Cumhuriyetçilik  
C) İnkılapçılık  
D) Halkçılık  
E) Milliyetçilik



9. Saltanatın 1 Kasım 1922'de kaldırılmasını zorunlu kılan nedenler arasında aşağıdakilerden hangisi gösterilemez?

- A) Milli Mücadele'deki başarıların İstanbul Hükümeti tarafından desteklenmesi
- B) Ülke içindeki iki başlılığa son verilmek istenmesi
- C) Saltanatın milli egemenlik anlayışına ters olması
- D) Cumhuriyet'in ilanı için saltanat engelini bulunması
- E) Lozan görüşmelerine İstanbul Hükümetinin davet edilmesi

10. Aşağıdakilerden hangisi II. Dünya Savaşı'nın sonuçları arasında yer almaz?

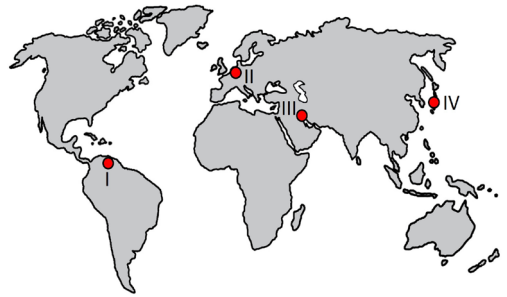
- A) Müttefikler, Almanya, İtalya ve Japonya'nın topraklarını işgal etti,
- B) Nazizm ve Faşizm gibi ideolojiler etkisini kaybetti.
- C) Avrupa merkezli uluslararası sistem sona erdi.
- D) Milletler Cemiyeti kuruldu.
- E) Milyonlarca insan esir düştü, etnik kökeni ya da dini inancı nedeniyle katledildi.

11. II. Dünya Savaşı'ndan sonra ABD'nin başını çektiği Batı Bloku ülkeleri ile SSCB'nin önderliğindeki Doğu Bloku ülkeleri arasında ekonomik, askerî, ideolojik, siyasi ve kültürel alanlarda büyük çekişmeler yaşanmaya başladı ve bu süreç 1960'lara kadar devam etti.

Yukarıda tanımlanan süreç aşağıdakilerden hangisidir?

- A) Silahsızlanma Dönemi
- B) Yumuşama Dönemi
- C) Küreselleşme
- D) Post-modernizm
- E) Soğuk Savaş Dönemi

12. Bazı ülkeler temiz enerji üretiminde bilimsel araştırmalar için bütçelerinden önemli miktarda kaynaklar ayırıp bu konuda yatırımlar yaparak, enerji tüketiminde yenilenebilir kaynakların oranını yükseltmektedir.



Haritada numaralandırılan yerlerin hangilerinde bulunan ülkelerin, bu araştırmalar için bütçelerinden daha fazla kaynak ayırması beklenir?

- A) I ve II
- B) I ve III
- C) II ve III
- D) II ve IV
- E) III ve IV

13. Fosil yakıtların yakılması, sanayileşme süreci, yanlış arazi kullanımı ve ormansızlaşma gibi çeşitli insan faaliyetleri sonucunda atmosferdeki sera gazlarının birikimi artmaktadır. Bu durum doğada çeşitli değişimler meydana getirmektedir.

**Aşağıdakilerden hangisi bu değişimler arasında gösterilemez?**

- A) Biyoçeşitliliğin azalması
- B) Sel ve taşkınların sıklaşması
- C) Buzul alanlarının genişlemesi
- D) Buharlaşma şiddetinin artması
- E) Kurak iklim alanlarının genişlemesi

14. Aşağıda uluslararası örgütlerden birine ait bilgiler verilmiştir.

- İkinci Dünya Savaşı'nı kazanan devletlerin önderliğinde savaş sonrası çıkabilecek anlaşmazlıkları çözmek amacıyla kurulmuştur.
- Türkiye, 24 Ekim 1945 tarihinde 51 ülkenin onayı ile kurulan örgütün kurucu üyeleri arasında yer almaktadır.
- Genel kurulda alınan bütün kararları ABD, Rusya, İngiltere, Fransa ve Çin Halk Cumhuriyeti'nden oluşan Güvenlik Konseyi'nin veto etme yetkisi vardır.

**Bilgileri verilen örgüt aşağıdakilerden hangisidir?**

- A) Grup 20
- B) Avrupa Birliği
- C) Birleşmiş Milletler
- D) Kuzey Atlantik Antlaşması Örgütü
- E) Ekonomik İşbirliği ve Kalkınma Örgütü

15. Küreselleşen hızlı şehir hayatına karşı 1999 yılında İtalya'nın Greve in Chianti şehrinde kurulan Sakin Şehir, nüfusu 50.000'in altındaki şehirlerin üye olabildiği uluslararası belediyeler birliğidir. Bir şehrin Sakin Şehir olması; o şehrin dokusunun, renginin, müziğinin ve hikâyesinin uyum içinde olmasının yanı sıra; şehrin sakinleri ile şehri ziyaret edenlerin buradaki yaşamdan zevk alabilecek bir hâle gelmesi demektir.

**Bu birliğe üye olan şehirlerin hedefler ve öngörülerinde aşağıdakilerden hangisinin olduğu söylenemez?**

- A) Şehrin nüfusunu azaltmak
- B) Tarihsel kimliğine sahip çıkmak
- C) Şehrin kendi özgün yapısını korumak
- D) Şehirdeki yaşam kalitesini iyileştirmek
- E) Şehrin gelenek ve göreneklerini gelecek kuşaklara aktarmak

16. Aşağıda Türkiye'nin turizm potansiyeli ile ilgili bilgiler verilmiştir.

- Üç tarafının denizlerle çevrili olması, eşsiz koy, körfez ve limanların bulunması büyük bir potansiyel oluşturmaktadır.
- Jeotermal zenginlik açısından dünyanın sayılı ülkeleri arasında olan Türkiye'de çok sayıda kaplıca vardır.
- Asya ve Avrupa'nın birleştiği noktada bulunması ve yüksek kapasiteli konaklama olanakları her yıl çok sayıda organizasyonun yapılmasına imkân sağlamaktadır.
- Pek çok kültüre ev sahipliği yapan Türkiye'de geçmişten günümüze üç büyük semavi dine ait pek çok ibadethane ve eser bulunmaktadır.

**Verilenler arasında aşağıdaki turizm türlerinden hangisinin potansiyeliyle ilgili bir bilgi yoktur?**

- A) Sağlık turizmi B) Yat turizmi C) İnanç turizmi
- D) Kongre turizmi E) Kış turizmi

17. Şehir ısı adası, şehirlerin çeşitli etkenlerle ilgili olarak kırsal alanlardan daha sıcak olma durumudur. Şehirleşmenin yoğun olduğu alanlarda bu durumun daha fazla yaşandığı görülmektedir.



Haritada numaralandırılarak gösterilen yerlerden hangilerinde bu durum daha az yaşanmaktadır?

- A) I ve II      B) I ve III      C) II ve III  
D) II ve IV      E) III ve IV

18. Türkiye’de ulaşım sektörü, ürünlerin ve ham maddenin gideceği yere ulaştırılması, ekonomik kalkınmanın sağlanması ve sürdürülmesi açısından önemli işlevleri olan bir sektördür.

Aşağıdakilerden hangisi ulaşım sektörünün bu işlevleriyle daha az ilgilidir?

- A) İş kollarının çeşitlenmesini sağlaması  
B) Dış ticaret açığının azaltılmasına katkı sağlaması  
C) Çok sayıda insana istihdam imkânı oluşturması  
D) Üretim faaliyetlerinin hareketliliğini ve verimini artırması  
E) Yoğun nüfuslu alanlarda kültürel etkileşimi kolaylaştırması

19. Atmosferin doğal yapısının bozulmasıyla etkisini gösteren hava kirliliği, doğrudan veya dolaylı olarak başka çevre sorunlarının oluşmasında etkilidir.

Aşağıdakilerden hangisi bu sorunlardan biri değildir?

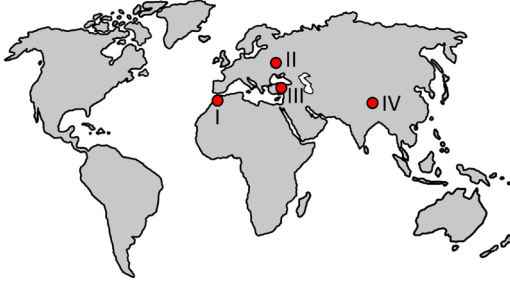
- A) Ses kirliliğinin oluşması  
B) Ozon tabakasının incelmeye  
C) Asit yağmurlarının gerçekleşmesi  
D) Toprakta kimyasal madde birikmesi  
E) Dünya’nın ortalama sıcaklığının artması

20. Bazı ürünlerin üretimi, diğer üretim faaliyetlerinden elde edilen yarı işlenmiş maddelere bağlı olarak gerçekleşmektedir.

Aşağıdakilerden hangisi bu duruma örnek gösterilemez?

- A) Tekstil fabrikalarında mağazalarda satılacak kıyafet üretimi  
B) Ormancılık faaliyetleriyle mobilya üretimi için kereste temin edilmesi  
C) Petrol rafinerilerinden kimya endüstrisi için ham madde elde edilmesi  
D) Demir - çelik fabrikalarında makine imalatında kullanılacak çeliğin üretilmesi  
E) Bakır fabrikalarında elektrikli eşyalarda kullanılmak üzere ham bakırın işlenmesi

21. Petrol ve doğal gazın üretim alanlarından pazar alanlarına en kısa yoldan ve daha az maliyetle taşınması ihtiyacı, bazı alanlarda bu kaynakların boru hatları ile taşınmasını gerekli kılmıştır.



Haritada numaralandırılmış yerlerden hangilerinde bu yöntemle taşımacılık daha fazla yapılmaktadır?

- A) I ve II      B) I ve III      C) II ve III  
D) II ve IV      E) III ve IV

22. Arazilerin jeolojik, jeomorfolojik, bitki örtüsü, su kaynakları, toprak gibi özelliklerinin dikkate alınarak kullanılmasına arazi planlaması denir. Arazi özelliklerinin göz ardı edilerek bilinçsiz ve aşırı kullanımı sonucu, çevrede telafisi mümkün olmayan olumsuz sonuçlar yaşanmaktadır.

Aşağıdakilerden hangisi bu sonuçları artıran uygulamalara örnek gösterilebilir?

- A) Tarlaların eğim yönünde sürülmesi  
B) Nadas alanlarında sulama yapılması  
C) Meralardaki aşırı otlatmanın önlenmesi  
D) Vadi tabanlarının iskân dışında tutulması  
E) Ormanlık alanlarda gençleştirme yapılması

23. İkel yaşamdan kopan bireyin hayatta kalabilmesi ve ihtiyaçlarını karşılayabilmesi için bir topluluğa dâhil olması gerekir. Topluluk halinde yaşamının avantajları yanında dezavantajları da vardır. Bu nedenle toplumsal gruplarda, toplumu idare eden bir güce ihtiyaç duyulur. İşte bu güç egemenlik kavramı ile açıklanabilir. Egemenliği elinde bulunduran kişi ya da gruplar, bireyin birey olma olanağını gerçekleştirmesine hizmet edebileceği gibi onu sınırlayabilir de. Bu nedenle tarih boyunca egemen gücün kaynağı ve sınırları tartışma konusu olmuştur. Egemenliğin kaynağının Tanrı iradesi ya da toplumsal sözleşme olduğunu savunanlar olmuştur. Günümüz demokrasi anlayışında ise daha öncelikli sorunun egemenliğin sınırları olduğu, birey-devlet ilişkisinde birey haklarını korumanın ön plana çıktığı söylenebilir.

Buna göre egemenlik ile ilgili aşağıdaki yargılardan hangisine ulaşılabilir?

- A) Bir sorun olarak ortaya çıkması toplumsal yaşamın zorunlu bir sonucudur.  
B) Egemenliğin kullanımında gözetilmesi gereken devlet bekasıdır.  
C) Dini kabuller doğrultusunda, dine hizmet edecek biçimde kullanılmalıdır.  
D) Modern toplumlarda tartışma konusu olmaktan çıkmıştır.  
E) Bireyin mevcudiyeti için bir tehlike olarak görülmüştür.

24. Aristoteles *Magna Moralia*'da "Utanmaz olan her durumda herkese her şeyi gelişigüzel söyleyen ya da yapandır, utangaç olansa bunun tam tersi, çekindiği için hiç kimsenin karşısında hiçbir şey yapamayan ve söyleyemeyendir. Her konuda utangaç olan böyle biri eylemsiz olur. Ağırbaşlılık ve ağırbaşlı ise bunların bir nevi ortasıdır; nitekim ne utanmaz gibi her durumda her şeyi yapar ve söyler, ne de utangaç biri gibi her durumda ve her şeyden çekinir. Gerekeni gerektiği yerde ve gerektiği zaman yapar ve söyler." demiştir.

**Bu parçada Aristoteles ahlaki eylemi aşağıdakilerden hangisine dayandırmıştır?**

- A) Dinginlik
- B) Ölçülülük
- C) Özgürlük
- D) Sorumluluk
- E) Yararlılık

25. Tutarlı düşünmek deyince tutumluluğu anlamak ya da refleksif düşüncenin reflekslere dayalı olduğunu sanmak felsefi bir düşüncüyü anlamayı zorlaştıracaktır gibi günlük yaşamda, insanlar arası sıradan iletişimi bile zora sokmaktadır. Bu nedenle iletişime dayalı yaşamlara sahip biz insanlar için dili ve dilin unsurlarını anlamak ve kavramak hayati önem taşır demek iddialı olmayacaktır.

**Bu parçada vurgulanan aşağıdakilerden hangisidir?**

- A) Felsefi görüş geliştirmede refleksiyonun önemi
- B) İkna edici düşünceler üretebilmede tutarlılığın rolü
- C) Felsefenin gündelik yaşamdan uzak bir alan olduğu
- D) Kavramları doğru kullanmanın önemi
- E) Toplumsal yaşamda uyumun zor yakalandığı

26. Rehber öğretmeni tarafından görüşmeye çağırılan bir öğrenci, sorunlarını paylaşmak istemekte fakat kendisi ve ailesiyle ilgili özel bulduğu bilgileri bir başkasıyla konuşmaktan çekinmektedir. Görüşme esnasında okula yeni kaydolan öğrencisindeki bu çekinceyi fark eden rehber öğretmen, öğrencisiyle tanıştıktan sonra; rehberlik faaliyetlerinin gönüllülük ve gizlilik esasına dayandığını, rehber öğretmenlerin ve psikologların insanlardan zorla bilgi almadıklarını anlatır.

**Bu parçadan aşağıdakilerden hangisine ulaşılabılır?**

- A) Rehberliğin bireyin kendisini tanımasını sağladığına
- B) Psikolojik danışmanın uzmanlık gerektirdiğine
- C) Rehberliğin etik ilkelerinin bulunduğuna
- D) Rehberliğin kapsayıcı bir alan olduğuna
- E) Bilimsel yöntemlerin evrenselliğine

27. Davranış organizmanın uyarıcıya verdiği tepki olarak tanımlanır. Tepkisel davranışlar gösteren insan, kendi icadı olan bilgisayardan daha karmaşık bir işleyişin içerisinde. Uyarıcıların alınması, yorumlanması ve organizmanın tepkilerini vermesi oldukça karmaşık bir fizyolojik süreç olsa da insan bu karmaşadan habersiz yemek yer, spor yapar ya da kitap okur. Üstelik tüm bunları bir ordu misali sürekli olarak çalışan organlar, sistemler ve hücreler eşliğinde yapar. Sinir hücrelerinin dili olsaydı hiç durmadan çalıştıklarını söyleyerek hallerinden şikâyetçi olurlar mıydı acaba?

**Bu parçada psikolojinin aşağıdakilerden hangisi ile ilişkisi anlatılmıştır?**

- A) Biyolojik yapı ve süreçler
- B) Kalıtım ve çevre
- C) Uyarıcı tepki bağı
- D) Gelişim dönemleri
- E) Bilinçlilik türleri

28. Organizmanın normal şiddet ve sürenin üzerinde uyarılması aşırı uyarılma, normal şiddet ve sürenin altında uyarılması yetersiz uyarılma olarak adlandırılır. Her iki durum da organizmanın dengesinin bozulmasına neden olur.

**Aşağıdaki durumlardan hangisi yetersiz uyarılma örneğidir?**

- A) Bir kişinin yatağın başucundaki saatin sesinden uyuyamaması
- B) Çok kaygılı bir öğrencinin çalışmaya başlayamaması
- C) Uzun süre yüzen bir kişinin ayağına kramp girmesi
- D) Karanlığa maruz bırakılan kişinin aydınlık ortama geçince gözlerinin kamaşması
- E) İlgil ve sevgiden yoksun büyüyen kişinin sosyal ilişkilerinde problem yaşaması

29. Kültür bir toplumun öğrendiği, ürettiği ve paylaştığı maddi ve manevi öğelerin toplamıdır. En ilkel denilen topluluklarda bile var olan kültür, gündelik yaşamdaki hemen her türlü faaliyeti kapsar. Enformasyondan etiğe, sanata, teknolojiye, inançlara ve geleneklere kadar. Maddi kültür öğeleri bireylerin çabaları sonucunda elde ettikleri araç ve gereçleri temsil ederken, manevi kültür öğeleri ise gelenekler, görenekler, örfler, âdetler, törenler gibi davranış motiflerini temsil eder. Maddi kültür öğeleri, maddi olmayan öğelere oranla daha hızlı değişir. Bu durumda maddi olmayan kültür öğeleri bu değişmeye karşı direnç gösterebilir ve uyumsuzluklar yaşanabilir.

**Bu parçadan aşağıdaki yargıların hangisine ulaşılamaz?**

- A) Kültürün öğelerinin farklı özelliklerde olması kültürel gecikmeye neden olur.
- B) Kültür tüm toplumlarda var olan insani etkinliklerin bütünsel örgüsüdür.
- C) Sosyal değerler bilim ve teknolojiye nazaran daha yavaş değişirler.
- D) Kültür değişme niteliğine sahip dinamik bir yapı özelliği gösterir.
- E) Kültürel öğeler birbiriyle ahenkli bir birlik için dedirler.

30. Her toplumsal kurum gibi ekonomi de toplumsal yaşamda insanların gereksinimlerini karşılamak için ortaya çıkmıştır. Bu doğrultuda tarımsal, endüstriyel, entelektüel ürünler elde edilmiş, elde edilen ürünler sürecin paydaşları tarafından paylaşılmış, bu ürünler ihtiyaçları karşılamak üzere kullanılmıştır. Bütün bu süreç, dengeyi sağlamaya çalışan ekonomi kurumu tarafından yönetilir.

**Bu parçada sözü edilen süreç sırasıyla ekonominin aşağıdaki kavramlarından hangileriyle ifade edilir?**

- A) Bölüşüm, Üretim, Tüketim
- B) Üretim, Bölüşüm, Tüketim
- C) Tüketim, Üretim, Bölüşüm
- D) Bölüşüm, Tüketim, Üretim
- E) Üretim, Tüketim, Bölüşüm

31. Kurala uygun, alışlagelen, olağan gibi sıfatlarla tanımlanan normal kavramı sosyolojinin ilgilendiği konulardan biridir. Çünkü normalin dışına çıkma şeklinde nitelendirilen sapma davranışı, toplumsal bir sorun olarak sosyolojinin konusunu oluşturur. Peki teorik anlamının dışında normal nedir? Normali belirleyen söz konusu kuralları kim belirler? Buna doğru dan “yasalar” demek mümkün değildir. Çünkü sapma davranışı suç kavramı ile birebir örtüşmez. Bunun iki sebebi olduğu söylenebilir. Birincisi sapma diyebileceğimiz her olumsuz davranış hukuken suç olarak tanımlanmamış olabilir. İkinci olarak da sapma her zaman olumsuz yönde olmak zorunda değildir.

**Buna göre aşağıdakilerden hangisi farklı türde bir sapmaya örnek gösterilebilir?**

- A) Kütüphanede ders çalışan bir öğrencinin arkadaşlarıyla yüksek sesle konuşması
- B) Bir işçinin yasal çalışma saatlerinin üzerinde çalışmayı reddetmesi
- C) Bir insanın kalabalık bir restoranda rahatsız edici sesler çıkararak yemek yemesi
- D) İşten eve gitmeye çalışan birinin, inenlere müsaade etmeden toplu taşıma aracına binmesi
- E) Ebeveynlere hürmetin önemsendiği bir toplumda bir çocuğun aile büyüklerine saygısızlık yapması

32. Kavramlar arası ilişkilerde, iki kavramdan yalnızca birinin diğerinin bütün bireylerini karşılması tam girişimlik ilişkisi olarak ifade edilir.

**Buna göre, aşağıdaki kavram çiftlerinden hangisi arasında tam girişimlik ilişkisi vardır?**

- A) Öğretmen - Gözlüklü
- B) Taş - Çiçek
- C) Hayvan - Kedi
- D) Pembe - Elbise
- E) Akıllı - Düşünen

33. Aşağıdaki seçeneklerin hangisinde verilen kavramlar işlemi en fazla olandan en aza doğru sıralanmıştır?

- A) Kedi - varlık - canlı - hayvan
- B) Hayvan - canlı - kedi - varlık
- C) Kedi - hayvan - canlı - varlık
- D) Varlık - canlı - kedi - hayvan
- E) Canlı - varlık - hayvan - kedi

34. “İnsanlar sorumluluklarının ve haklarının bilincine sahipse özgürce yaşayabilirler.” önermesinin sembolik mantıktaki ifadesi aşağıdakilerden hangisidir?

- A)  $(p \wedge q) \Rightarrow r$
- B)  $(p \vee q) \Leftrightarrow r$
- C)  $(p \Rightarrow q) \wedge r$
- D)  $(p \Rightarrow r) \vee (q \Rightarrow r)$
- E)  $(p \Leftrightarrow q) \Rightarrow r$

**35 - 40. soruları Din Kültürü ve Ahlak Bilgisi dersini yasal olarak almak zorunda olanlar ve İmam Hatip Okulları öğrencileri/mezunları cevaplayacaktır.**

35. İlim ilim bilmektir.  
İlim kendin bilmektir  
Sen kendini bilmezsen  
Ya nice okumaktır  
(Yunus Emre)
- Bu şiirle aşağıdaki hadislerden hangisi arasında bağlantı kurulabilir?**
- A) "Fayda vermeyen ilimden Allah'a sığınırım."  
(Nesâî, İstiâze, 13.)
- B) "İlim, kadın erkek her Müslümana farzdır." (İbn Mâce, Sünnet, 17.)
- C) "İlmi, âlimlere karşı övünmek amacıyla öğrenmeyiniz." (İbn Mâce, Sünnet, 23.)
- D) "Ya öğreten ya öğrenen ya dinleyen ya da bunları seven ol. Beşincisi olma helak olursun." (Dârimî, Mukaddime, 26.)
- E) "İlim, müminin yitik malıdır. Onu nerede bulursa alır." (Tirmizî, İlim, 19.)

36. Allah, hiçbir şeye muhtaç olmayan her şeyin kendisine muhtaç olduğu varlıktır. Evrendeki her şeyin yaratıcısıdır ve yarattıklarının yararlanması için her türlü nimeti bolca vermektedir. Yaratmak ve yaşatmak onun için kolaydır. Çünkü her şeye gücü yetmektedir. Bir şeyin olmasını istediği zaman ona ol demesi yeterlidir o şey hemen olur.

**Bu metinde Allah'ın isimlerinden hangilerine değinilmemiştir?**

- A) Vehhab  
B) Samet  
C) Kadir  
D) Rezzak  
E) Rahim

37. "O gün insanlar hakka çağırın o korkunç sesi işiteceklerdir. İşte bu, (kabirlerden) çıkış günüdür." (Kâf suresi, 42. ayet.)

**Verilen ayet;**

- I. İsrâfil  
II. Ba's  
III. Kıyamet  
IV. Sur

**kavramlarından hangileri ile ilgilidir?**

- A) I ve IV      B) I, II ve III      C) II, III ve IV  
D) I, III ve IV      E) I, II, III ve IV

38. İslam dünyasında;

- Akıl hastaları için özel hastaneler yapılmıştır.
- Gökyüzü olayları ile ilgili gözlem yapmak için kurumlar açılmıştır.
- Yüksek seviyede ilmi çalışmalar ve tercüme faaliyetleri yapılmıştır.
- Hz. Peygamber'in sözlerinin öğretildiği ve bu konuda uzmanların yetiştirildiği kurumlar açılmıştır.

**Aşağıdakilerden hangisi bu kurumlardan biri değildir?**

- A) Daru'l-hadis  
B) Beytü'l-hikme  
C) Daru'l-huffâz  
D) Şifahane  
E) Rasathane



39. İsmail Öğretmen, “Bu sıfatlar sınırlı olarak da olsa yaratılmışlarda bulunur; ancak Allah’ın (c.c.) sıfatlarına benzemez. Allah’ın (c.c.) sıfatları ezeli ve ebedidir. Yaratılmışların sıfatları ise sınırlıdır ve geçicidir.”

**Aşağıdaki sıfatlardan hangisi İsmail Öğretmenin belirttiği sıfatlardan değildir?**

- A) Hayat                      B) Kıdem                      C) İlim  
D) İrade                      E) Basar

40. “Allah’tan bir rahmet ile onlara yumuşak davrandın! Şayet sen kaba, katı yürekli olsaydın, hiç şüphesiz, etrafından dağılıp giderlerdi. Şu hâlde onları affet; başlışlanmaları için dua et, iş hakkında onlara danış. Kararını verdiğin zaman da artık Allah’a dayanıp güven. Çünkü Allah, kendisine dayanıp güvenenleri sever.” (Âli İmran Suresi 159. ayet.)

**Aşağıdakilerden hangisi bu ayetten çıkartılabilecek bir sonuç değildir?**

- A) Hz. Peygamber, şefkat ve merhametle doludur.  
B) İslam’ın eğitim metotlarından biri de affetmektir.  
C) Birlik ve beraberlik ancak bazı ilkelere bağlı olmakla mümkündür.  
D) Hz. Peygamber vahye dayalı konularda istişare ile yol almıştır.  
E) Kaba ve katı kalpli kişiler muhataplarında nefret uyandırır.

**41 - 46. soruları Din Kültürü ve Ahlak Bilgisi dersini yasal olarak almak zorunda olmayan veya farklı müfredat ile alanlar cevaplayacaktır.**

41. Kant’a göre bilgi hem zihinden hem deneyden gelen verilerin birleşmesi sonucu oluşur. Hegel, Kant’ın bilginin oluşumu ile ilgili öne sürdüğü dış dünyadan, yani deneyden gelen bilginin de zihnin bir ürünü olduğunu iddia eder. Hegel’e göre bilginin tüm öğeleri zihnin kendisine aittir.

**Bu parçada Hegel aşağıdaki ifadelerden hangisine eleştiri yapmaktadır?**

- A) Doğru bilginin kaynağı akıldır.  
B) Gerçek kavramı insan düşüncesinin bir yansımasıdır.  
C) Doğru bilgi ancak duyu verileri ile elde edilir.  
D) Akla uygun olan her şey doğrudur.  
E) Doğru bilginin kaynağı akıl ile birlikte deneydir.

42. Platon’a göre iki farklı masa vardır: Bir yanda, üzerinde yemek yediğimiz ancak masa ideasının yansıması olan masa; diğer yanda ise, asıl var olan masa ideası. Aristoteles’e göre ise, “şu” diye gösterdiğimiz; maddi, ereksel, formel ve fail nedene dayalı olarak varlığa gelen masa vardır. Platon’un aksine, Aristoteles’e göre idea, “şu masa”nın özünü oluşturur.

**Buna göre, iki filozofun “masa” kavramını farklı şekillerde açıklamalarının sebebi aşağıdakilerden hangisidir?**

- A) Varlığa bakış açıları  
B) Tutarlı olmaları  
C) Bilgiye değer vermeleri  
D) Nesnel düşünceleri  
E) Taklitçi olmaları

43. Korelasyon iki değişken arasındaki ilişkidir. Değişkenler arasındaki ilişki aynı yönde artıyor ya da azalıyor pozitif, biri artarken diğeri azalıyor negatîf korelasyondur.

**Buna göre aşağıdaki değişkenler arasındaki ilişkilerden hangisi diğerlerinden farklı bir korelasyona örnek oluşturur?**

- A) Yorgunluk - Dikkat
- B) Planlı çalışma - Başarı
- C) Dengeli beslenme - Sağlık
- D) Uykusuzluk - Trafik kazası
- E) Öz güven - Cesaret

44. Geleneksel toplumlardaki statü çeşitliliği modern toplumlarda olduğu kadar fazla değildir. Aynı şekilde aynı statünün farklı toplumsal yapılarda farklı değerlere sahip olduğu da görülmektedir. Kapalı toplumsal tabakalaşmada temel belirleyici soy olmasına karşın açık toplumsal tabakalaşmada bireysel yetenekler ve performans ön plana çıkmaktadır.

**Bu parçadan aşağıdaki yargılardan hangisine ulaşılabilir?**

- A) Statü çeşitliliği her toplumsal yapıda aynı biçimde görülür.
- B) Statünün belirleyici kriteri toplumsal değerlerdir.
- C) Toplumsal hareketliliğin belirleyicisi mevcut statü çeşitliliğidir.
- D) Toplumsal statünün çeşitliliği ve değeri toplumsal sisteme göre değişir.
- E) Her toplumsal yapıda soy bireye ayrıcalıklı statü kazandırır.

45. Sosyolojinin nesnesi, toplumun dış kabuğundan (coğrafi, ekolojik, bölgesel vb.) esnek gündelik pratiklerle örgütlenen üstyapılarına, kolektîf değerlere, düşüncelere ve nihayet hem kolektîf hem de bireysel olarak toplumsal zihniyete kadar, her yönüyle derinliğine ele alınan toplumsal gerçekliktir.

**R. Boudon'un *Sosyoloji Yöntemleri* adlı eserinden alınan bu parçada sosyolojinin hangi özelliği vurgulanmıştır?**

- A) Toplumsal olaylarla ilgili öndeyide bulunması
- B) Toplumsal yapıyı bir bütün olarak ele alması
- C) Toplumsal olayları nesnel bir biçimde incelemesi
- D) Toplumsal yapıyı diğer bilimlerle ilişkilendirerek açıklaması
- E) Toplumunu neden-sonuç ilişkisi içinde açıklaması

46. Aşağıda verilen altı çizili kavramlardan hangisi tümel kavram değildir?

- A) Her insan konuşkandır.
- B) Kimi kediler çok sevimlidir.
- C) Hiçbir silgi kalem değildir.
- D) Tüm çiçekler kırmızıdır.
- E) Bütün metaller ısıtılınca genleşir.



# Kendini Deęerlendir



1

*Kare kodu okut.*

2

*Sınavını seę*

3

*Cevaplarını sisteme gir.*

4

*Eksik olduęun konuları analiz et.*

5

*Bu sınava katılanlar arasındaki sıralamanı gör.*



T.C. MİLLÎ EĞİTİM  
BAKANLIĞI

3 ADIM

DENEME SINAVLARI

2. ADIM

AYT  
sözel



1. DENEME

ADI VE SOYADI

OKUL ADI

ADAYIN İMZASI

**ADAYIN DİKKATİNE!**

1. Bu sınavda AYT soru dağılımları dikkate alınmıştır.
2. Deneme tam kapsam olup YKS konularının tamamını kapsamaktadır.
3. Bu sınav Türk Dili ve Edebiyatı - Sosyal Bilimler 1 Testi (TDE 24 soru, Tarih 10 soru, Coğrafya 6 soru) 40 soru, Sosyal Bilimler 2 Testi (Tarih 11 soru, Coğrafya 11 soru, Felsefe Grubu 12 soru, DKAB 6 soru) 40 soru olmak üzere toplamda 80 soru içermektedir.

Bu testlerin her hakkı saklıdır. Hangi amaçla olursa olsun, testlerin tamamının veya bir kısmının Millî Eğitim Bakanlığının yazılı izni olmadan kopya edilmesi, fotoğrafının çekilmesi, herhangi bir yolla çoğaltılması, yayımlanması ya da kullanılması yasaktır. Bu yasağa uymayanlar gerekli cezai sorumluluğu ve testlerin hazırlanmasındaki mali külfeti peşinen kabullenmiş sayılır.

### **DİKKAT!**

Din Kültürü ve Ahlak Bilgisi dersini yasal olarak almak zorunda olan adaylar ve İmam Hatip Okulları öğrencileri/mezunları, Sosyal Bilimler-2 Testi'nin ilk 40 sorusunu cevaplamakla yükümlüdür. Bu adaylar, bu testin 41-46. sorularını cevaplamayacaklardır. Bu adaylar, bu testin 41-46. sorularında işaretleme yapmış olsalar bile bu cevapları değerlendirmeye alınmayacaktır.

Din Kültürü ve Ahlak Bilgisi dersini yasal olarak almak zorunda olmayan veya farklı müfredat ile alan adaylar, Sosyal Bilimler-2 Testi'nin 35-40. sorularını cevaplamadan 41-46. sorularını cevaplayacaklardır. Bu adaylar, bu testin 35-40. sorularında işaretleme yapmış olsalar bile bu cevapları değerlendirmeye alınmayacaktır.

### **AÇIKLAMA**

1. Bu kitapçıkta **86 soru** bulunmaktadır.  
Türk Dili ve Edebiyatı-Sosyal Bilimler-1 Testi: 40 soru  
Sosyal Bilimler-2 Testi: 46 soru
2. **Bu sınavda her testteki doğru cevaplarınızın sayısından yanlış cevaplarınızın sayısının dörtte biri çıkarılacak ve kalan sayı o bölüme ilgili ham puanınız olacaktır.**
3. Kitapçığın sayfalarındaki boş yerleri müsvedde için kullanabilirsiniz.
4. Cevaplamaya istediğiniz sorudan başlayabilirsiniz. Bir soru ile ilgili cevabınızı cevap kâğıdında o soru için ayrılmış olan yere işaretlemeyi unutmayınız.
5. Bu kitapçıkta yer alan her sorunun sadece bir doğru cevabı vardır. Cevap kâğıdında bir soru için birden çok cevap yeri işaretlenmişse o soru yanlış cevaplanmış sayılacaktır. İşaretlediğiniz bir cevabı değiştirmek istediğinizde silme işlemini çok iyi yapmanız gerektiğini unutmayınız.

1. Bu testte sırasıyla, Türk Dili ve Edebiyatı (1-24), Tarih-1 (25-34), Coğrafya-1 (35-40) alanlarına ait toplam 40 soru vardır.
2. Cevaplarınızı cevap kâğıdının Türk Dili ve Edebiyatı-Sosyal Bilimler-1 Testi için ayrılan kısmına işaretleyiniz.

1. Günümüzde kontakt lens kullananların sayısı hızla artıyor. “Renkli göz” isteğine yanıt verebilmesiyle de ---- kontakt lensler, bazı basit kurallara dikkat edilmediğinde ise ciddi sorunlara davetiye çıkarıyor. Özellikle yazın çok daha dikkatli olunması şart. Zira havuz, deniz, kum, açık hava derken kontakt lensler insanı ---- çok daha açık hâle getiriyor.

**Bu parçada boş bırakılan yerlere aşağıdakilerden hangisi sırasıyla getirilmelidir?**

- A) tercih edilen - hastalıklara
- B) önem kazanan - kullanıma
- C) alternatifsiz - dikkat çekmeye
- D) cezbeden - tehlikeye
- E) beğenilen - mantarlara

2. (I) Yüz ifadeleri, duygulara kişiler arası iletişimde anlam bütünlüğü kazandıran evrensel işaretlerdir. (II) Yüz ifade analizinin insan davranışlarının analizi, insan-insan etkileşimi ve insan-bilgisayar etkileşimi gibi çok geniş bir uygulama yelpazesi vardır. (III) İnsanlar yüz ifadelerini tanımada ve yorumlamada herhangi bir sorun yaşamazken bu işlem bilgisayarlar da zorlu bir problem olarak karşımıza çıkmaktadır. (IV) Fakat özellikle insan-bilgisayar etkileşiminde yaşanan gelişmelerle birlikte insanlara ait duyguların bilgisayarlar tarafından anlaşılması elzem bir konu hâline gelmiştir. (V) Bunun yanında güvenlik, psikoloji, sağlık, robotik ve sanal gerçeklik gibi birçok çalışma alanında da yüz ifadelerinin analizi ve tanınması giderek yaygınlaşmış ve bu alanlara çok büyük katkı sağlamıştır.

**Bu parçada numaralanmış cümlelerle ilgili aşağıdakilerin hangisi yanlıştır?**

- A) I. cümlede tanım yapılmıştır.
- B) II. cümlede örnekleme yapılmıştır.
- C) III. cümlede karşılaştırma yapılmıştır.
- D) IV. cümlede neden-sonuç ilişkisine yer verilmiştir.
- E) V. cümlede nesnel bilgiye yer verilmiştir.

3. Komik ya da ciddi ama daima korkunç ve de aç olan Dracula'nın serüveni takip edildiğinde insanlığın son iki yüzyılda geçirdiği bunalımlar ve değişimler adına bazı kodlar çıkarılabilmektedir. Yaşanan gündün kaçışın ve yaratıcısının kendisini ifade edişinin bir yöntemi olan Dracula, korku duygusuna hitap ederken bilinçaltında da bazı psikanalitik çözümlere olanak tanımaktadır. Sinemadaki serüveninde de aynı yönde çıkarsamalara gitmek mümkündür. Birçok vampir konulu filme kaynaklık eden romanın yazarı Stoker, Dracula'nın geleceği noktaları sezebildi mi bilinmez ama korku tutkunlarının daima bir kenarda bulunduracakları bir korku simgesi olarak uzun yıllar inceleneceği açıktır.

**Bu parçadan hareketle aşağıdakilerden hangisine ulaşılabılır?**

- A) Dracula, korku duygusuna hitap eden vampir edebiyatının ilk örneğidir.
- B) Stoker, vampir konulu filmler yaparak bir korku sembolü oluşturmuştur.
- C) Dracula'da dünya insanının buhranlarına ve değişimlerine rastlamak mümkündür.
- D) Dracula'da korku unsuru yaşanan çağın olaylarına dayanılarak verilmiştir.
- E) Stoker, eserini kendi varoluşundan uzaklaşarak meydana getirmiştir.

4. Cilt kuruluđu, cilt tahriři, böcek ısırması ya da bit gibi parazitlerle tetiklenebilen kaşıntı; başlangıcı itibarıyla pek hoş karşılanan bir his değildir. Acı gibi diđer hoşnutsuzluk yaratan hislerden ayrıldığı temel nokta kaşınma dürtüsüdür. Ancak kaşıntı ve acı biyolojik açıdan incelendiğinde ortak noktalara sahiptir. Çünkü omurilik aracılığıyla ilettikleri mesajlar, birbirine benzeyen sinir hücreleri gruplarıyla taşınabilir. Bu yüzden uzunca bir süre bilim insanları kaşıntıyı, acının bir alt kategorisi olarak değerlendirmiştir. Güncel araştırmalar kaşıntı ve acı mesajlarını taşıyan sinir hücreleri gruplarının ayrımını daha belirgin tanımlayabiliyor. Ancak gelen sinyalleri değerlendiren beyin, bu ayrımı yapmakta zorlanabiliyor. Çünkü kaşımayla cilde verilen hafif hasar yüzünden, iletilen mesajlarda acı sinyalleri baskın gelip beyinde kaşınma hissinin maskelenmesine yol açıyor. Bunun karşılığında beyin acıyı dindirmek için serotonin salgılanmasını sağlıyor. Bu da geniş bir bölgeyi kapsayan rahatlama hissiyle sonuçlanıyor.

**Bu parçada aşağıdakilerden hangisine değinilmemiştir?**

- A) Kaşıntıya beyin serotonin salgılayarak cevap verip rahatlama sağladığına
- B) Geçmişte kaşıntının acının bir alt kategorisi olarak değerlendirildiğine
- C) Kaşıntı sinyallerinin acı sinyallerinden baskın geldiğine
- D) Beynin kaşıntı ile acı sinyallerini ayırmakta güçlük çektiğine
- E) Acı sinyallerinin beyinde kaşınma sinyallerini maskeleydiğine

5. Egzersiz yaptığımızda uyku rutinlerimizi, stres seviyemizi ve ruh hâlimizi direkt etkileyen sosyal ve duygusal açıdan olumlu değışiklikler yaşıyoruz. Ayrıca egzersiz yapmak hafızamızın güçlenmesine, dikkatimizin artmasına, karar verme mekanizmalarının iyileşmesine ve tüm bilişsel işlevlerin gelişmesine yardımcı olur. Egzersiz, beyni doğrudan etkilerken hipertansiyon ve insülin direnci gibi bilişsel gerilemeye neden olan çevresel risk faktörlerini de azaltır.

**Bu parçadan egzersizle ilgili aşağıdakilerden hangisi çıkarılamaz?**

- A) Kişinin duygu durumunu olumlu yönde etkilediği
- B) Beyni etkileyen hastalıkların zararlarını azalttığı
- C) Kişinin belleğini kuvvetlendirirken motivasyonunu da arttırdığı
- D) Kişinin bir iş ya da sorun hakkında sağlıklı düşünebilmesini sağladığı
- E) Uyku düzeninin ve stres dengesinin sağlanmasına yardımcı olduğu

6. Eskilerin erdemi, geçmiş zamanı her zaman göz önünde bulundurmaya bir yasa olarak benimsemelerine dayanıyordu. Onların tükenmez bütünlüklerinin gizi budur. Çünkü bir eserin -bir kuşağın- zenginliğini her zaman geçmişi ne kadar içerdiği belirler.

**Bu parçadan aşağıdakilerden hangisine ulaşılabilir?**

- A) Geçmiş, geleceği belirlemede yegâne söz sahibidir.
- B) Eser, geçmişe dair unsurları barındırdığı ölçüde nitelik kazanır.
- C) İnsan yaş aldıkça geçmişe bağlanır, bugününü düne göre şekillendirir.
- D) Sanat eserinin kalıcılığı, insanlığın ortak geçmişini konu edinmesiyle mümkündür.
- E) Sanatçı, sanat geleneğinden bağımsız bir sanat eseri yaratma çabasında olmamalıdır.



7. Kalbim yine üzgün seni andım da derinden,  
Geçtim yine dün eski hazan bahçelerinden!  
Üzgün ve kırılmış gibi en ince yerinden,  
Geçtim yine dün eski hazan bahçelerinden!

Senden boşalan bağıma göz yaşları dolmuş!  
Gördüm ki yazın bastığımız otları solmuş.  
Son demde bu mevsim gibi benzim de kül olmuş,  
Geçtim yine dün eski hazan bahçelerinden!

**Bu dizelerle ilgili aşağıdakilerden hangisi söylenemez?**

- A) Nakaratlara yer verildiği  
B) Teşbih sanatına başvurulduğu  
C) Kafiye ve rediften yararlandığı  
D) Dörtlük nazım birimi kullanıldığı  
E) Pastoral şiire örnek olduğu
8. Sanat, bahar günümde, çiçekli bir fidandı  
Kış gelince bir balta altında parçalandı  
Dün gölge veren ağaç, bugün ocakta yandı  
Şimdi yanarım kül olup giden hünerime

**Bu dörtlükle ilgili olarak aşağıdakilerden hangisi yanlıştır?**

- A) Satirik bir şiir örneğidir.  
B) Düz kafiye örgüsü kullanılmıştır.  
C) Şair içinde bulunduğu duruma hayflanmıştır.  
D) 11'li hece ölçüsü ile yazılmıştır.  
E) Teşbih sanatına yer verilmiştir.

9. Saçma ey göz eşkten gönümdeki odlara su  
Kim bu denli dutuşan odlara kılmaz çâre su

**Bu beyitte aşağıdaki söz sanatlarından hangisi yoktur?**

- A) Tenasüp      B) Mübalağa      C) Tevriye  
D) Hüsnütalil      E) Tezat

10. Destan, Türklerin bir ovaya gelip yerleşmelerini ve burada büyüyerek çoğalmalarını anlatmaktadır. Yaşadıkları bu bölgede çoğalmalarını, bu bölgeye sığamaz olduklarını bu nedenle de yıllardır kendilerine siper olan demir dağı eritip çıkma mücadeleleri sonrasında atalarının düşmanlarını yenip Göktürk Devleti'ni kurmalarını konu edinir.

**Bu parçada sözü edilen destan aşağıdakilerden hangisidir?**

- A) *Bozkurt*  
B) *Türeyiş*  
C) *Oğuz Kağan*  
D) *Göç*  
E) *Ergenekon*

11. Kansu vilayetindeki Bin Buda mabetlerinde bulunan bu eserde, iyi yürekli bir şehzadenin bütün canlılara yardım etmek ve canlıların birbirlerini öldürmelerine engel olmak üzere çok değerli bir mücevheri ele geçirmek için çıktığı maceralı yolculuk anlatılır. Aslı Sanskritçe olan ve 10. yüzyılda Uygurcaya çevrilen bu eserde çok canlı bir üslup vardır. Olaylar çok akıcı bir dille anlatılmaktadır.

**Bu parçada sözü edilen eser aşağıdakilerden hangisidir?**

- A) *Irk Bitig*  
B) *Altın Yaruk*  
C) *Sekiz Yüklemek*  
D) *Kökünç*  
E) *Kalyanamkara ve Papamkara Hikâyesi*

12. 14. yüzyılda Yunus Emre'nin izinden giderek eserlerini Türkçe yazan ---- Türkçe kullanımını Anadolu'da önemli şekilde etkilemiştir. Daha çok tasavvufi şiirler yazan sanatçının çok fazla eseri yoktur. Aruzla yazdığı iki şiiri ve hece ölçüsü ile yazdığı üç şiiri bulunmaktadır. Ona ait olduğu kesin bilinmemekle beraber bir de mensur mektubu vardır.

**Bu parçadaki boşluğa aşağıdakilerden hangisi getirilmelidir?**

- A) Kaygusuz Abdal  
B) Pîr Sultan Abdal  
C) Hacı Bektaş Veli  
D) Hacı Bayram Veli  
E) Kayıkçı Kul Mustafa

13. ----, ruhun âlemi dolaşmasını konu edinen şiidir. İran ve Türk tasavvuf edebiyatlarının yanı sıra özellikle tekke, halk ve Bektaşî edebiyatlarına ait değişik nazım şekilleriyle ifade edilmesinden meydana gelmiştir. Daha çok hece ölçüsüyle kaleme alınmıştır.

**Bu parçada boş bırakılan yere aşağıdakilerden hangisi getirilmelidir?**

- A) Devriye      B) Şathiye      C) Nutuk  
D) İlahi      E) Nefes

14. Bu şairlerin çoğu Hint felsefesi, edebî zevki ve şiirinin etkisinde kalmıştır. Mananın söze hâkim olduğu, muhayyile ve karmaşık çağrışımların ön plana çıktığı şiirler yazmışlardır. Aşırı dereceye varan mübalağa, irsalimesel, istiare gibi söz sanatlarını kullanmışlardır.

**Bu parçada sözü edilen akımdan aşağıdaki sanatçılardan hangisi etkilenmiştir?**

- A) Neşâtî      B) Nedim      C) Necâtî  
D) Fuzûlî      E) Bâkî

15. Türk edebiyatında ilk seyahatname, Seydi Ali Reis'in seyahatlerini anlatan ---- adlı eserdir. En tanınmış seyahatname örnekleri arasında Evliya Çelebi'nin ---- adlı eseri yer alır. Katip Çelebi'nin aslında bir coğrafya kitabı olan ---- adlı eseri de seyahatname özelliği gösterir. Daha sonra Batı ile ilişkiler gelişince elçilik göreviyle ülke dışına giden sefirler gittikleri yerlerin ilgi çekici yönlerini, sefaretname adıyla yazdıkları yapıtlarda tanıtmışlardır. Yirmisekiz Çelebi Mehmet Efendi'nin ---- buna örnek verilebilir.

**Bu parçada boş bırakılan yerlere aşağıda verilenlerden hangisi getirilemez?**

- A) *Fransa Sefaretnâmesi*  
B) *Mirâtü'l-Memâlik*  
C) *Kitâb-ı Bahriye*  
D) *Seyahatnâme*  
E) *Cihânnümâ*

16. I.  
Mahv eder kendini bülbül bile hürriyet için;  
Çekilir mi bu belâ âlem-i pür mihnet için?  
Dîn için, devlet için, can çekişen millet için,  
Azme hâil mi olurmuş bu çürük ten kafesi?

II.  
Ne hoş eyler muhabbeti tarif  
Şu garip bülbül âşiyânında.  
Ben de güya idim zamanında.  
Aşiyânımdı bir nihâl-i zarif,  
Esti bir zemherir-i zehr-efşân,  
Ne çemen kaldı akıbet ne fidân

**Numaralanmış dizelerden hareketle Tanzimat Dönemi şiiriyle ilgili aşağıdakilerden hangisine ulaşılamaz?**

- A) Romantizm etkisiyle yazılmıştır.  
B) Ahenk unsurlarından büyük ölçüde yararlanılmıştır.  
C) Bireysel ve toplumsal konularda şiirler yazılmıştır.  
D) Divan edebiyatı nazım şekilleri kullanılmaya devam edilmiştir.  
E) Kimi şairler sanatlı bir dil kullanırken kimileri üslubuyla konuşma diline yaklaşmıştır.

17. İlk şiir denemelerinde Abdülhak Hâmit ve Tefvik Fikret'in etkisinde kalır. O sıralarda gündeme gelen Arapça ve Farsça tamlamalar kullanılmadan yazılan "terkipsiz şiir" anlayışına ilgi duyar ve bu yolda şiir yazma denemelerine girişir. Bu ilk dönem şiirlerinden özellikle *Fırtına ve Kar* onun tanınmasını sağlar. Terkipsiz fakat eski kelimelerin yer aldığı şiir dilinden Ziya Gökalp'in uyarılarıyla halkın diline, vezinde ise aruzdan heceye geçer; bu anlayıştaki ilk denemelerini *Türk Yurdu* ve özellikle *Yeni Mecmua*'da yayımlar. 1919'da çıkan *Peri Kızıyla Çoban Hikâyesi* heceyle sade Türkçe şiir anlayışının başarılı örneklerinden biri kabul edilir.

**Bu parçada sözü edilen şair aşağıdakilerden hangisidir?**

- A) Faruk Nafiz Çamlıbel
- B) Enis Behiç Koryürek
- C) Orhan Seyfi Orhon
- D) Yusuf Ziya Ortaç
- E) Halit Fahri Ozansoy

18. ----, Türk şiirinde önemli bir kırılma noktası oluşturmuştur. Var olan tüm şiir algı ve anlayışını kökten değiştirmiştir. Onlara göre anlam soyut, kapalı ve anlaşılması güç hatta zaman zaman akıl dışı bir söyleyişe sahip olmalıdır. Sanat ve dil anlayışlarındaki alışılmışın dışında tutumları nedeniyle şiirlerine "kapalı şiir", "anlamsız şiir", "soyut şiir" gibi isimler verilmiştir. Sözcüklerin çağrışımlarla çoğaltmasına önem vermiş, kapılarını imgeye sonuna kadar açmışlardır.

**Bu parçada boş bırakılan yere aşağıdakilerden hangisi getirilmelidir?**

- A) Yedi Meşaleciler
- B) I. Yeni
- C) Hisarcılar
- D) Fecriati
- E) II. Yeni

19. İlk eserlerinde daha çok kadınların yetiştirilmesi ve kadın psikolojisi üzerinde durmuş; zamanla kazandığı tecrübeler ve Millî Mücadele yıllarında Anadolu insanını tanınması, sosyal meselelere yönelmesine sebep olmuştur. Kendine has bir üsluba sahip olan sanatçının eserleri, özellikle cümle yapısı bakımından çok eleştirilmiştir.

**Bu parçada sözü edilen sanatçı aşağıdakilerden hangisidir?**

- A) Halide Edip Adıvar
- B) Peyami Safa
- C) Refik Halit Karay
- D) Ahmet Hikmet Müftüoğlu
- E) Yakup Kadri Karaosmanoğlu

20. Yazarın romancılığında iki ayrı çizgi etkindir. *İstanbul'un İç Yüzü* yazarın en yetkin romanı sayılır. Yazar, 1920'de yayımlanan bu romanda roman tekniğinin dışında birbirinden kopuk parçaları mozaikler hâlinde birleştirerek İstanbul'u bütün renk ve çizgileriyle yansıtmıştır. Türkiye'ye dönüşünden sonra yazdığı romanlarda daha çok kişiye seslenme, daha fazla satma ve okunma kaygısıyla sanatı bir kenara bırakıp ticari eserlere yönelmiştir.

**Bu parçada sözü edilen yazar aşağıdakilerden hangisidir?**

- A) Refik Halit Karay
- B) Falih Rıfkı Atay
- C) Sait Faik Abasıyanık
- D) Memduh Şevket Esendal
- E) Sabahattin Ali

21. Türk şiirinin mihenk taşlarından biri olan ve şiire tema, biçim açısından yenilik getiren ----, hikâye türünde de eser kaleme almıştır. Savunduğu davasını düzyazı alanında da güçlü kalemiyle kanıtlamıştır. Hikâyelerini Çehov tarzında yazmış, olay örgüsü yaratmadan durum ve kişiler üzerinde güçlü tespitler yapmıştır. ---- eserinde ilk hikâyesinden son hikâyesine kadar benzer temalar üzerinde durmuş, yapmak istediği sosyal eleştirileri çoğu zaman kahraman anlatıcının ağzından söylemiştir. Basit ve küçük insanın alelade yaşayışını anlatan bu hikâyeler şiirleriyle aynı doğrultuda olmuştur.

**Bu parçada boş bırakılan yerlere aşağıdakilerden hangisi getirilmelidir?**

- A) Sait Faik Abasıyanık - *Semaver*
- B) Orhan Veli - *Hoşgör Köftecisi*
- C) Nâzım Hikmet - *Sevdalı Bulut*
- D) Halikarnas Balıkcısı - *Gülen Ada*
- E) Sabahattin Ali - *Değirmen*

22. **Hacivat** — Of hay hak... Ben bendenize, ben duacı-nıza, ben hake, ben hakisare eli yüzü yunmuş, el fazı düzgün hoşsohbet fasihullisan musaha beti tatlı.

**Karagöz** — (Pencereden) Hoşgeldin keçi suratlı.

**Hacivat** — Gelirse karşıma o söylese ben dinlesem, ben söylesem o dinlese.

**Karagöz** — (Penceresinden) Şu Hacivat da benden bir temiz dayak yese.

**Hacivat** — Her ikimiz de söyleşirken bizi temaşaya tenezzül eden ahibba safayad olsalar diyelim, işimizi Mevlam rast getire, yar bana bir eğlence meded! Aman bana bir eğlence meded!..

**İçerik özellikleri dikkate alındığında bu parça hangi bölümden alınmış olabilir?**

- A) Tekerleme
- B) Muhavere
- C) Bitiş
- D) Fasil
- E) Mukaddime

23. 1949 yılında kabaca “benzetmeci” türde oyunlarla başladığı tiyatro yazarlığını, 1960’lı yılların hemen başından itibaren temelli bir biçimde değiştirerek yabancılaştırmaya dayalı “epik” bir anlayışa dönüştürmüştür. *Keşanlı Ali Destanı* ile başlayan ve *Sersem Kocanın Kurnaz Karısı*, *Gözlerimi Kapatırım Vazifemi Yaparım* gibi Türk tiyatrosunun bugüne dek en fazla sahnelenmiş oyunları ile süren bu “epik” dönemi, sadece yazar için değil tiyatro yazını için de bir dönüm noktası olarak kabul edilebilir. Yazarın epik tiyatroya kattığı Türk halk tiyatrosu geleneğinin göstermeci öğeleri, Türk tiyatro yazınının ilk örneklerinin görüldüğü Tanzimat Dönemi’nden beri tartışılmalı gelen “ulusal tiyatro” ve “Türk tiyatrosunun kimliği” sorunlarına farklı ve özgün bir açılım da getirmiş; bu açılım Türk oyun yazarlığının önünde yeni bir kulvar açmıştır.

**Bu parçada söz edilen sanatçı aşağıdakilerden hangisidir?**

- A) Turgut Özakman
- B) Muhsin Ertuğrul
- C) Musahipzâde Celâl
- D) Orhan Asena
- E) Haldun Taner

24. ---- doğanın olduğu gibi temsili yerine duyguların ve iç dünyanın ön plana çıkarıldığı 20. yüzyıl sanat akımıdır. Almanya’da pozitivism, natüralizm ve empresyonizm akımlarına karşı ortaya çıkmıştır. ---- ise ilk olarak Alman düşünür Martin Heidegger tarafından ortaya atılmış, İkinci Dünya Savaşı yıllarında Fransız düşünür ve romancı Sartre’in akımı benimsemesi ve edebiyata uygulaması ile bütün dünyada yaygınlaşmıştır.

**Bu parçada boş bırakılan yerlere sırasıyla aşağıdakilerden hangisi getirilmelidir?**

- A) Ekspresyonizm - Egzistansiyalizm
- B) Empresyonizm - Fütürizm
- C) Parnasizm - Natüralizm
- D) Dadaizm - Sembolizm
- E) Kübizm - Realizm

25. "Romalı bir aşçı, tarihçiden daha fazla Roma'yı bilir."

**Descartes bu sözü ile tarih biliminin;**

- I. tanıklık,
- II. objektiflik,
- III. tutarlılık

**özelliklerinden hangisine vurgu yapmıştır?**

- A) Yalnız I                      B) Yalnız II                      C) I ve II  
D) II ve III                      E) I, II ve III

26. I. Peçenekler  
II. Avrupa Hunları  
III. Sibirler (Sabarlar)

**Yukarıdaki Türk devletlerinden hangileri Anadolu'ya keşif amaçlı akınlar düzenlemiştir?**

- A) Yalnız I                      B) Yalnız II                      C) Yalnız III  
D) I ve III                      E) II ve III

27. **Aşağıdakilerden hangisi İslamiyet öncesi Arabistan'da Araplar arasında kültür birliğinin oluşmasına katkı sağlamıştır?**

- A) Kabileler arasındaki kan davaları  
B) Putperestlik inancının yaygınlığı  
C) Haram aylarda Ukaz Panayırının düzenlenmesi  
D) Kervan ticaretinin yaygın olması  
E) Hadariler ile Bedeviler arasındaki mücadele

28. **Malazgirt Meydan Muharebesi'nden sonra Anadolu'da feodal yapılı beyliklerin kurulması aşağıdakilerden hangisini doğrudan etkilemiştir?**

- A) Sanatsal faaliyetler  
B) Merkezî otorite  
C) Ekonomik yapı  
D) Teokratik düzen  
E) Kültürel yapı

29. Osmanlı Devleti ile Avusturya arasında imzalanan Zitvatorok Antlaşması ile Avusturya kralı Osmanlı padişahına eşit sayılmıştır.

**Bu durum aşağıdaki antlaşmalardan hangisini geçersiz kılmıştır?**

- A) Vasvar  
B) Amasya  
C) Bucaş  
D) Ferhat Paşa  
E) İstanbul

30. Fransız İhtilali ile yayılan milliyetçilik akımı, farklı milletleri bünyesinde barındıran Osmanlı Devleti'nin dağılma sürecine girmesine neden olmuştur. Özellikle Balkanlardaki Hristiyan topluluklar, milliyetçilik akımının etkisi ve büyük Avrupa devletlerinin de kışkırtmaları sonucu bağımsızlıklarını elde etmek için ayaklanmaya başlamışlardır.

**Osmanlı Devleti'nde milliyetçiliğin etkisiyle ilk olarak ayaklanan ve bağımsızlığına ilk kavuşan uluslar aşağıdakilerden hangisinde bir arada verilmiştir?**

- A) Sırp - Bulgar  
B) Sırp - Yunan  
C) Yunan - Bulgar  
D) Sırp - Arnavut  
E) Yunan - Arnavut

31. • 23 Ağustos 1921 sabahı Yunan ordusunun saldırısı ile başlamıştır.
- Bu savaşta askerlerine cesaret vermek için ön saflarda vuruşan 350 subay şehit düşmüştür. Bu nedenle "Subay Savaşı" olarak adlandırılır.
  - 22 gün ve 22 gece devam eden savaş, 13 Eylül 1921'de Türk ordusunun zaferi ile sonuçlanmıştır.

**Bilgileri verilen Millî Mücadele Dönemi'nde Batı Cephesinde gerçekleşen muharebe aşağıdakilerden hangisidir?**

- A) I. İnönü
- B) II. İnönü
- C) Kütahya - Eskişehir
- D) Sakarya
- E) Aslıhanlar - Dumlupınar

32. I. Saltanatın Kaldırılması  
II. Lozan Barış Antlaşması'nın onaylanması  
III. Menemen Olayı  
IV. Tevhid-i Tedrisat Kanunu

**Yukarıda verilen olayların doğru olarak sıralanışı aşağıdaki seçeneklerin hangisinde verilmiştir?**

- A) I - II - III - IV
- B) I - IV - II - III
- C) II - I - IV - III
- D) I - II - IV - III
- E) IV - I - II - III

33. **Yönetmenliğini Metin Erksan'ın yaptığı "Susuz Yaz" filmi 1963 Berlin Film Festivali'nde aşağıdaki ödüllerden hangisini almıştır?**

- A) Altın Portakal
- B) Altın Küre
- C) Altın Ayı
- D) Altın Palmiye
- E) Altın At

34. Komünist rejim altında toplanan ülkeler, 1947 yılından itibaren Moskova'dan yönetilen bir blok hâline gelmiştir. Bu durumu siyasi bir lider yaptığı konuşmasında Baltık'taki Stettin'den Adriyatik'teki Trieste'ye kadar demir bir perdenin çekilmesinden bahsetmiştir. Bundan sonra "Demir Perde" tabiri Rusya tarafından yönetilen bu bloku adlandırmak için sıkça kullanılmıştır.

**Bu bilgide belirtilen "Demir Perde" tabirini ilk defa kullanan lider aşağıdakilerden hangisidir?**

- A) Harry S. Truman
- B) Charles de Gaulle
- C) George Marshall
- D) Winston Churchill
- E) Robert Schuman

35. Bir ülkede uzun yıllar nüfus artış hızını azaltmaya yönelik politika uygulanmıştır. Uygulanan politikanın başarılı olması ile ülkenin nüfus yapısında bazı değişimler meydana gelmiştir.

- I. ortalanca yaşın azalması
- II. doğum oranının azalması
- III. kalkınma hızının düşmesi
- IV. yaşlı nüfus oranının artması

Ülkenin nüfus yapısındaki değişimler arasında yukarıdakilerden hangileri yer alır?

- A) I ve II
- B) I ve III
- C) II ve III
- D) II ve IV
- E) III ve IV

36. Bazı endüstriyel faaliyetlerde ham madde olarak orman ürünlerinin kullanılması bitki varlığı ve tür çeşidinin azalmasına, hayvanların neslinin tükenme tehlikesiyle karşı karşıya kalmasına neden olabilmektedir.



Haritada numaralandırılan alanlardan hangilerinde bu sorun **daha büyük** boyutlarda yaşanmaktadır?

- A) I ve II
- B) I ve III
- C) II ve III
- D) II ve IV
- E) III ve IV

37. Doğal çevre sürekli bir değişim içerisinde. Bu değişim doğal süreçlere bağlı olarak gerçekleştiği gibi, insan faaliyetlerine bağlı olarak da gerçekleşebilir.

**Bu değişimde, aşağıdaki insan faaliyetlerinden hangisinin etkisi daha azdır?**

- A) Sulak alanların tarım arazisine dönüştürülmesi
- B) Yoğun turizm yerine ekoturizm anlayışının gelişmesi
- C) Denizlerde kaçak ve aşırı avlanan balık miktarının artış göstermesi
- D) Demir - çelik sanayisinde enerji kaynağı olarak taş kömürü kullanılması
- E) Yoğun endüstriyel ormancılık faaliyetinin tüm orman alanlarında yapılması

- 38. I. Ham madde ihracatı
- II. Tarımsal üretimin doğal koşullardan etkilenmesi
- III. Üçüncül ekonomik faaliyetlerde çalışan nüfus oranı
- IV. Millî gelirden araştırma geliştirme çalışmalarına ayrılan pay

**Yukarıdakilerden hangileri gelişmekte olan ülkelerde gelişmiş ülkelere göre daha fazla olan özelliklerdendir?**

- A) I ve II
- B) I ve III
- C) II ve III
- D) II ve IV
- E) III ve IV

39. Aşağıda bazı biyomlarda bulunan bitki özellikleri verilmiştir.

- Bitki çeşitliliği ve orman altı florası bakımından yüzünün en zengin alanlarındandır.
- Çam, köknar, ladin gibi soğuğa dayanıklı ağaçlardan oluşan tayga ormanları yer alır.
- Yaz yağışları ile yeşeren uzun boylu ot toplulukları ile küçük gruplar hâlinde görülen çalı ve ağaçlar bitki örtüsünü oluşturur.
- Kuraklığa dayanıklı otlar, çalılar ve kaktüsler başlıca bitkileridir.

Verilenler arasında aşağıdaki biyomlardan hangisine ait özellik yoktur?

- A) Çöl
- B) Savan
- C) Tundra
- D) İğne Yapraklı Orman
- E) Tropikal Yağmur Ormanları

40. Bazı ülkeler sermaye ve teknolojinin yetersizliği nedeniyle mevcut kaynakları ham madde olarak veya yarı işlenmiş şekilde ihraç etmektedir. Bu ülkeler sahip oldukları kaynaklar bakımından zengin olmalarına rağmen ekonomik yönden fazla gelişmemiştir.



Haritada numaralandırılarak gösterilen yerlerden hangilerinde bu niteliklere sahip ülke bulunur?

- A) I ve II
- B) II ve III
- C) II ve IV
- D) III ve V
- E) IV ve V



1. Bu testte sırasıyla, Tarih-2 (1-11), Coğrafya-2 (12-22), Felsefe Grubu (23-34), Din Kültürü ve Ahlak Bilgisi (35-40), Din Kültürü ve Ahlak Bilgisi dersini yasal olarak almak zorunda olmayan veya farklı müfredat ile alanlar için Felsefe Grubu (41-46) alanlarına ait toplam 46 soru vardır.

2. Cevaplarınızı cevap kâğıdının Sosyal Bilimler-2 Testi için ayrılan kısmına işaretleyiniz.

1. Lidyalılar Anadolu'ya Ege Göçlerinden sonra gelmişlerdir. Gediz ile Küçük Menderes Irmakları arasındaki bölgeye yerleşmişlerdir. MÖ. VII. Yüzyılın başlarında burada devletlerini kurmuşlardır. Ayrıca başkentleri Sardesten akan Paktalos Irmağı'nın alüvyonlarındaki elektrum denilen altın ve gümüş karışımını kullanarak tarihin bilinen ilk madeni parasını (sikke) icat etmişlerdir. Böylece takas yerine taşınması kolay bir değişim aracı olan parayı kullanarak ticaretin hızlanmasını ve yayılmasını sağlamışlardır.

**Yukarıdaki metinde tarih biliminin;**

I. yer

II. zaman

III. sebep - sonuç ilişkisi

**özelliklerinden hangilerine vurgu yapıldığı söylenebilir?**

- A) Yalnız I                      B) Yalnız III                      C) I ve II  
D) I ve III                      E) I, II ve III

2. Aşağıdakilerden hangisi Türk-İslam eserleri arasında gösterilemez?

- A) Divan-ı Lugatî't Türk  
B) Divan-ı Hikmet  
C) Orhun Yazıtları  
D) Atabetül Hakayık  
E) Kutadgu Bilig

3. Türkiye Selçuklu Devleti'nin kurucusu Süleyman Şah'ın, devletin başkenti olan İznik'te hutbeyi Büyük Selçuklu Sultanı Melikşah'ın adına okuması aşağıdakilerden hangisinin göstergesidir?

- A) Anadolu'da siyasi birliğin sağlandığı  
B) Devletin sınırlarının genişlediği  
C) İslam dünyasının siyasi liderliğinin Büyük Selçuklu Devleti'nde olduğu  
D) Büyük Selçuklu Devleti'nin, Türkiye Selçuklu Devleti üzerinde etkili olduğu  
E) Türkiye Selçuklu Devleti'nin tam bağımsız bir devlet olduğu

4. Osmanlı Beyliği'nin, Orhan Bey Dönemi'nde Çimpe Kalesi'nin fethinden hemen sonraki süreçte Balkanlarda kısa sürede egemenlik kurmasında aşağıdaki durumlardan hangisi daha çok etkili olmuştur?

- A) Balkan ülkelerinin Bizans Devleti ile iş birliği içinde olmaları  
B) Osmanlıya karşı Haçlı ittifakını kurmaları  
C) Avrupa'ya yakın coğrafyada olmaları  
D) Bölgede siyasi ve dini çekişmelerin yaşanması  
E) Bölgede Ortodoks Hristiyan sayısının fazla olması

5. Osmanlı Devleti'nde XVII. yüzyılda saray dışından evlenerek halk ile yönetim arasındaki bağları güçlendirmeyi amaçlayan Osmanlı padişahı aşağıdakilerden hangisidir?

- A) IV. Murat
- B) II. Osman
- C) IV. Mustafa
- D) II. Mustafa
- E) I. Ahmet

6. Osmanlı Devleti'nde padişah yasama, yürütme ve yargı yetkilerini kullanmakta tek yetkili idi. Ancak ülke yönetiminde bu yetkilerini sadrazam, kazasker ve defterdar gibi birtakım üst düzey yöneticiler aracılığı ile kullanırdı.

**Buna göre Osmanlı Devleti'nde;**

- I. kanunname ve ferman çıkarmak,
- II. uluslararası antlaşmalar imzalamak,
- III. devlet adamlarının atamalarını yapmak

**gibi uygulamaların hangisi yürütme yetkisinin kullanıldığının açık göstergesidir?**

- A) Yalnız I
- B) I ve II
- C) I ve III
- D) II ve III
- E) I, II ve III

7. Adaletnameler, devlet otoritesini temsil edenlerin reyaya karşı bu otoriteyi kötüye kullanmalarını, kanun, hak ve adalete aykırı tutumlarını; olağanüstü önlemlerle yasaklayan beyanname şeklindeki padişah hükümleridir.

**Buna göre Osmanlı Devleti'nin adaletnameler yayınlamasında;**

- I. Merkezi otoriteyi güçlendirmek
- II. Sosyal adaleti sağlamak
- III. Siyasi birliği korumak
- IV. Yöneticiler üzerinde tasarrufta bulunmak

**gibi gerekçelerden hangisinin etkili olduğu söylenebilir?**

- A) Yalnız I
- B) I ve II
- C) I ve III
- D) I, II ve IV
- E) II, III ve IV

8. Osmanlı Devleti'nin Trablusgarp'ı İtalya'ya karşı savunmakta zorluk yaşamasının nedenleri arasında aşağıdakilerden hangisi gösterilebilir?

- A) İtalya'nın Balkan devletlerinden destek alması
- B) Trablusgarp halkının İtalyanlarla birlikte hareket etmesi
- C) Balkanlarda azınlık isyanlarının çıkması
- D) Osmanlı Devleti'nin Trablusgarp ile kara bağlantısının olmaması
- E) İtalya'nın Osmanlı Devleti'ne ultimatom vermesi

9. Aşağıdakilerden hangisi Batı Cephesi'nde düzenli ordunun yapmış olduğu son savaştır?

- A) I. İnönü
- B) II. İnönü
- C) Kütahya - Eskişehir
- D) Sakarya
- E) Büyük Taarruz

10. Aşağıdakilerden hangisi Halk Fırkası'nın özellikleri arasında gösterilemez?

- A) Anadolu ve Rumeli Müdafaa-i Hukuk Cemiyeti'nin devamı niteliğindedir.
- B) Kalkınma için liberal ekonomik modeli savunmuştur.
- C) 14 Mayıs 1935'te Cumhuriyet Halk Partisi adını almıştır.
- D) Atatürk ilkelerini parti programına dahil etmiştir.
- E) 1950'de Demokrat Parti iktidara gelinceye kadar ülkeyi tek başına yönetmiştir.

11. Birleşmiş Milletler Teşkilatı ile ilgili aşağıdaki bilgilerden hangisi doğru değildir?

- A) İngiltere ve ABD'nin yayımladıkları Atlantik Bildirisi'ndeki kararlar 1 Ocak 1942'de Birleşmiş Milletler Bildirisi'nde aynen kabul edilmiştir.
- B) BM Güvenlik Konseyi; Almanya, İngiltere, Fransa, SSCB ve Çin'in aralarında bulunduğu beş daimî üyeden oluşmuştur.
- C) Birleşmiş Milletler Genel Kurulu önemli kararların 2/3 çoğunlukla alındığı, her ülkenin tek oy kullanma hakkının olduğu temel yapıdadır.
- D) San Francisco Konferansı sonunda kurulmuştur.
- E) Milletler Cemiyeti Teşkilatı'nın yetkilerini devralmıştır.

12. Canlıların yaşamsal faaliyetlerinin sürebilmesi madde döngülerinin devamlılığına bağlıdır. Bunlardan biri olan azot döngüsü, belirli süreçlere bağlı olarak gerçekleşir.

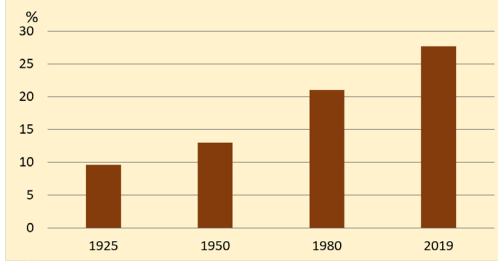
**Bu süreçlere;**

- I. kireç taşının çözünmesi,
- II. canlı artıklarının ayrışması,
- III. volkanik faaliyetlerin gerçekleşmesi,
- IV. bazı deniz canlılarının kabuk oluşturmaları

**durumlarından hangileri örnek gösterilebilir?**

- A) I ve II
- B) I ve III
- C) II ve III
- D) II ve IV
- E) III ve IV

13. Aşağıdaki grafikte, bazı yıllarda Türkiye'nin gayrisafi millî hasılası içerisinde sanayi sektörünün payı verilmiştir.



**Yalnızca grafikteki bilgiler dikkate alındığında verilen dönemde Türkiye ekonomisiyle ilgili olarak;**

- I. Tarım sektöründe çalışan kişi sayısı azalmıştır.
- II. Ülke gayri safi millî hasılasında sanayinin payı artmıştır.
- III. Sanayi dışındaki sektörlerin gayri safi millî hasıladaki payı azalmıştır.

**yargılarından hangilerine ulaşılabilir?**

- A) Yalnız I                      B) Yalnız II                      C) Yalnız III  
D) I ve III                      E) II ve III

14. I. ve II. Dünya savaşlarından sonra yaşanan siyasi, askerî ve ekonomik sorunların tekrar yaşanmaması için birçok küresel ve bölgesel örgüt kurulmuştur.

**Bu örgütlerden bazılarıyla ilgili olarak aşağıda verilen bilgilerden hangisi yanlıştır?**

- A) Birleşmiş Milletler II. Dünya Savaşı sonrası çıkabilecek anlaşmazlıkları çözmek amacıyla kurulmuştur.
- B) İslam İşbirliği Teşkilatı farklı kıtalardan üye ülkeleri olan küresel bir örgüttür.
- C) Ekonomik İşbirliği ve Kalkınma Örgütü Türkiye'nin de üye olduğu örgütlerdendir.
- D) Kuzey Atlantik Antlaşması Örgütü, üye ülkelerin güvenliğini sağlamayı amaçlayan askerî bir örgüttür.
- E) Karadeniz Ekonomik İşbirliği Teşkilatı yalnızca Karadeniz'e kıyısı olan ülkelerin üye olabildiği bir örgüttür.

15. Jeopolitik, bir ülkenin dünya üzerindeki konumunun, sahip olduğu fiziki ve beşerî unsurların dış siyasetine etkisidir. Jeopolitik önemi belirleyen bu faktörlerden bazıları diğerlerine göre çok daha fazla etkili olabilmektedir.

**Buna göre aşağıdakilerden hangisinin Türkiye'nin jeopolitiği üzerinde daha etkili olduğu söylenebilir?**

- A) Çeşitli iklim özelliklerinin yaşanması
- B) Dağlık engebeli arazilerin geniş olması
- C) Verimli tarım topraklarına sahip olması
- D) Enerji üretim ve tüketim bölgelerine yakın olması
- E) Genel olarak batıdan doğuya doğru yükseltinin artması

16. Üstün evrensel değere sahip kültürel ve doğal varlıklara dünya mirası, bu varlıkların yer aldığı listeye ise Dünya Miras Listesi adı verilir. Bu varlıkların korunması için uluslararası çalışmalar gerçekleştirilmektedir.

**Aşağıdakilerden hangisi bu varlıkların korunmasına katkı sağlayacak çalışmalar arasında gösterilemez?**

- A) Ormancılık faaliyetlerinin yeniden düzenlenmesi
- B) Belirli alanlarda millî park uygulamalarının genişletilmesi
- C) Yerleşmeye açılacak alanların sınırlarının kültürel mirasa göre belirlenmesi
- D) Farklı bölgelerden getirilen canlılarla hayvancılık faaliyetlerinin geliştirilmesi
- E) Arkeolojik alanlarda asit yağmurlarının etkilerini azaltacak önlemler alınması

17. Yerleşik hayata geçişle birlikte insanların bir arada yaşamaya başlaması şehirlerin temelini oluşturan küçük yerleşim birimlerinin ortaya çıkmasını sağlamıştır. Şehirsel yerleşmelerin ilk olarak görüldüğü alanlar; Mezopotamya, Mısır, Hindistan, Çin ve Orta Amerika'dır.

**Bu durum üzerinde aşağıdakilerden hangisinin etkisi daha azdır?**

- A) Ilıman iklim koşulları
- B) Verimli tarım alanları
- C) Su kaynaklarının bolluğu
- D) Zengin yeraltı kaynakları
- E) Toprak yapısının elverişli olması

18. Asit yağışları, sülfür ve azot oksit gibi kimyasal maddelerin su buharı ile birleşerek aside dönüşmesi ve bu asidin yağmur veya kar ile yeryüzüne düşmesi dir. Bu yağışlar, hem doğal hem de beşerî çevrede sorunlara neden olmaktadır.

**Aşağıdakilerden hangisi bu yağışların beşerî çevrede neden olduğu sorunlara örnek gösterilebilir?**

- A) Toprağın asitleşmesi
- B) Su ekosisteminin zarar görmesi
- C) Arkeolojik alanlarda tahribat oluşması
- D) Kurbağalar ve balık yumurtalarının etkilenmesi
- E) Bitkilerin yaprak ve köklerinde kurumaların olması

19. Bir araştırmaya göre, 2020 yılında oluşan kasırgaların gücünün Sanayi Devrimi öncesindekilere göre %10 arttığı ortaya konulmuştur. Aynı araştırmada 2020 yılında Dünya'nın ortalama yüzey sıcaklığının ise 1850 yılına göre 1°C yükseldiği belirlendi.

**Bu değişimlerin yaşanmasında;**

- I. atmosferin ısınmasındaki magma etkisi,
- II. insan faaliyetleri sonucu artan sera gazları,
- III. doğal ortamlarda meydana gelen bozulmalar

**faktörlerinden hangilerinin daha etkili olduğu söylenebilir?**

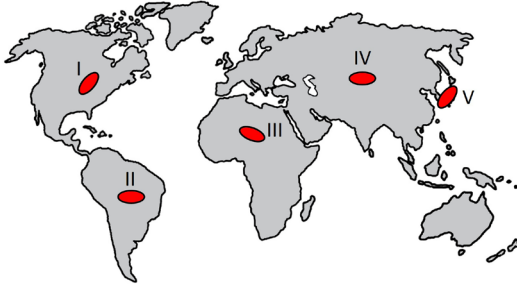
- A) Yalnız I
- B) Yalnız II
- C) Yalnız III
- D) I ve II
- E) II ve III

20. Ekonomik faaliyetin turizm ağırlıklı olduğu yerleşmelerde ekonomik açıdan yaşanan değişimlerin yanında sosyal, kültürel ve çevresel açıdan da değişimler yaşanmaktadır.

**Aşağıdakilerden hangisi bu değişimlere örnek gösterilemez?**

- A) Turizm kaynaklarının korunması
- B) İnsanların gelir düzeyini yükseltmesi
- C) İnsanlardaki dil öğrenme isteğini artırması
- D) Toplumlar arasında hoşgörü ortamı oluşması
- E) Toplumların birbirlerini daha yakından tanımalarını sağlaması

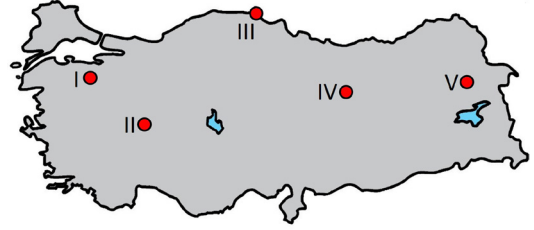
21. Günümüzde akıllı şehir olarak nitelendirilen merkezlerde, düşük karbon kullanımı teşvik edilmektedir. Bu uygulama küresel ısınma probleminin çözümüne yönelik gelecekteki yerleşim alanlarının planlanmasına örnek teşkil etmektedir. Şehirlerin çöp toplama sahasından alınan atıklardan biyoyakıt elde edilmekte ve kamuda hizmet veren araçların bir bölümü bu enerji kaynağı ile çalışmaktadır.



Gelecekte bu özellikteki şehirlerin, haritada numaralandırılan alanların hangilerinde daha fazla olması beklenir?

- A) I ve II      B) I ve V      C) II ve III  
D) III ve IV      E) IV ve V

22. Türkiye, bölgesel gelişmişlik farklılıklarının azaltılması için 2012 yılında çıkarılan teşvik paketiyle yatırım teşvik uygulamaları bakımından 6 bölge olarak decelendirilmiştir. Ekonomik yönden gelişmiş şehirler 1. bölgede iken, ekonomik gelişmesi yeterli olmayan şehirler ise 6. bölgede olacak şekilde sıralanmıştır.



Haritada numaralandırılarak gösterilen şehirlerin ekonomik gelişmişlikleri düşünüldüğünde hangisinin teşvik uygulamaları bakımından 1. bölgede yer alması beklenir?

- A) I      B) II      C) III      D) IV      E) V

23. Felsefe tarihi bilmek ve felsefe yapmak aynı şey değildir. Felsefe tarihini bilen, belli problemlere ilişkin binlerce yıldır yapılan açıklamaları ya da bu problemlerin ortaya konma nedenlerini, yapılan açıklamalarla ilgili ortaya konulan karşı çıkışları biliyor demektir. Ama felsefe yapan biri, söz konusu problemleri -en azından tamamını değilse bile bazılarını- kendine problem ediniyor, çözümünü merak ediyor, bu problemleri kendi bakış açısıyla çözmeye çalışıyor. Tüm bunları yaparken de cevap aradığı probleme ilişkin verilen önceki cevapları analiz ediyor, eleştiriyor, reddediyor ya da savunuyor demektir.

Buna göre aşağıdakilerden hangisi felsefe yapan birinin özelliği değildir?

- A) Zihinsel bir çaba sarf etmek  
B) Sorgulayıcı olmak  
C) Bilinenlere eleştirel yaklaşmak  
D) Özgün bir görüş geliştirmeye çalışmak  
E) Dogmatik bir bakış açısını benimsemek

24. İnsanlık tarihi evrenin ve insanın anlaşılma çabasının bir ürünü olarak ortaya çıkmıştır. En ilkel topluluklarda bile, pratik kaygılarla da olsa bir bilme çabası içinde olunmuş, belli oranda bir gözleme başvurulmuştur. Ancak tarihin bir dönemi -MÖ 6. yüzyıl- düşünsel birikim için başlangıç noktası kabul edilmiş; bilme yolunda gösterilen gayretin biçim değiştirdiği görülmüştür. Bu değişiklik ilk doğa filozofu kabul edilen Thales'in doğayı yine doğadaki olgulara bakarak açıklama çabasıyla yani kendinden önceki girişimlerde olduğu gibi mitolojik ya da dinsel açıklamaların aksine gözlemlerine dayalı akılcı değerlendirmeler yapmasıyla mümkün olmuştur. Thales doğa gözlemleri sonucunda her şeyin temelinde suyun, öğrencisi Anaksimandros apeironun, Anaksimandros'un öğrencisi Anaksimenes ise havanın olduğunu savunmuştur.

**Buna göre aşağıdaki yargıların hangisine ulaşılabilir?**

- A) Doğaya duyulan merak Antik Yunan'da başlamıştır.
- B) Thales ile birlikte evren rasyonel biçimde açıklanmaya çalışılmıştır.
- C) Doğa filozofları metafizik unsurlara bağlı ilkeler benimsemiştir.
- D) Felsefi açıklamaların temelinde teolojik motifler bulunur.
- E) Doğa filozofları, felsefenin problem alanını genişletmiştir.

25. Düşsel tasarım ürünü olan ütopyalar yüzyıllardır filozofların ideal toplum ve devlet modeli olarak felsefe tarihinde kendilerine yer bulmuşlardır. Ütopyalar bazen var olan düzene eleştirel bir bakış, alternatif bir düzen arayışı olarak istenilen nitelikte bazen de gelecekte yaşanabilecek olumsuzluklara yönelik uyarıcı nitelikte edebi kurgular olarak karşımıza çıkmıştır. En iyi ve ideal olanı kurgulaması ve bu durumun reel gerçekliğe uygun olmaması ütopyaların yadsınabileceği anlamına gelmemelidir. Çünkü bu düşünsel toplum formları hayal gücünün, yaratıcılığın, olması isteneni ya da olmasından korkulanı sıra dışı ve özgün bir biçimde kurgulayabilmenin en güzel örneklerini yansıtmaktadır. Unutmamak gerekir ki hayal gücü hem insanın sınır tanımayan zihinsel özgürlüğü hem de tininin gözüdür.

**Bu parçadan ütopyalarla ilgili olarak aşağıdakilerden hangisine ulaşılamaz?**

- A) Sorgulayıcı bir aklın ürünü olarak ortaya çıktığına
- B) Sanatsal değere sahip yazınsal eserler olduğuna
- C) Eleştirel yaklaşımın ürünleri olduğuna
- D) Olumlu-olumsuz nitelikte iki biçimde de yazılabileceğine
- E) Toplumsal yaşamdan bağımsız olarak oluşturulduğuna

26. Bir öğrencinin başarısızlığının nedenlerini araştırmak isteyen bir psikolog, öğrencinin kendisi, ailesi, arkadaş çevresi, öğretmenleri ve okul idarecileri ile görüşmeler yapar. Bu görüşmeler sonucunda öğrenci ile ilgili kapsamlı bir yaşam hikâyesi oluşturur ve onun okul başarısızlığına yol açabilecek unsurları belirlemeye çalışır.

**Bu parçada örneklendirilen araştırma yöntemi aşağıdakilerden hangisidir?**

- A) Doğal gözlem
- B) Anket
- C) Vaka incelemesi
- D) Korelasyonel yöntem
- E) Sistemik gözlem

27. “Güzelliğin on par’etmez  
Bu bendeki aşk olmasa  
Eğlenecek yer bulaman  
Gönlümdeki köşk olmasa”

**Aşık Veysel’in bu şiiri algıda seçicilik üzerinde aşağıdakilerden hangisinin etkisini göstermektedir?**

- A) Kaygının  
B) Önceki yaşantıların  
C) Toplumsal etmenlerin  
D) Tutumun  
E) Cinsiyetin

28. Bireyler zaman zaman varmak istediği hedeflere ulaşma noktasında bazı problemler ve engellerle karşı karşıya kalırlar. Örneğin bir öğrencinin kendisi için en uygun olan mesleği seçmesi konusunda yaşadığı kararsızlık yaşam döngüsünde karşılaştığı problemlerden birisidir. Bir problemin çözümünde öncelikle gerekli olan bilgiler toplanmalı ve rasyonel olarak bu bilgiler eleştiri süzgecinden geçirilmelidir. Bunun sonucunda ortaya konabilen çözümler değerlendirilmelidir. Bulunan çözümler problemi ortadan kaldıramıyorsa başa dönülmeli ve yeni çözümler üretilmelidir. Tabi ki insanın duyguları ve yaşanmışlıkları da eleştirel düşünüşünün önüne geçebilir fakat birey iyi güdülenmişse ve problemine eleştirel olarak yaklaşabiliyorsa problemi çözme noktasında kararlı bir biçimde önüne çıkan engelleri aşabilecektir.

**Bu parçada aşağıdakilerden hangisi vurgulanmıştır?**

- A) Karşılaşılan problemin farklı alanlara ilişkin olabileceği  
B) Problem çözmenin çok zor bir uğraş olduğu  
C) Doğru karar vermede irdelemenin önemli olduğu  
D) Karşılaşılan her probleme çözüm bulunabileceği  
E) Problem çözmenin üst düzey bilişsel bir beceri gerektirdiği

29. Toplumun en küçük birimi olarak tanımlanan aile, evlilik, kan bağı ya da evlat edinme yoluyla birbirine bağlanan bireylerden oluşur. Bu bağ, bireyin toplumun normlarını öğrenmesinde, değerlerini benimsemesinde, topluma uyum sağlamasında etkilidir. İnsanlığın devamı için kilit kavram olarak aile, ilkel toplumlardan çağdaş toplumlara kadar her türlü toplumsal yapıda görülür. Ancak söz konusu bağın kurulma biçimine göre, aile fertlerinin sayısına göre, aile kurumunun işleyişindeki otoritenin durumuna göre farklı aile türlerinden bahsetmek mümkündür. Örneğin otoriteye göre sınıflandıracak olursak kadının statüsünün erkeğin statüsünden üstün olduğu ailelere anaerkil aile; tersi durumdakilere ise ataerkil aile denir.

**Buna göre aile ile ilgili aşağıdaki yargılardan hangisine ulaşamaz?**

- A) Evrensel bir niteliğe sahiptir.  
B) Sosyalleşmenin öncü kurumudur.  
C) Niteliklerine göre farklı şekillerde adlandırılır.  
D) Sınırlı sayıda üyeden oluşur.  
E) Üyeleri arasında ikincil ilişkiler görülür.



30. İnsanlık tarihi, binlerce yıldır farklılaşan koşulların, bu koşullar dolayısıyla değişen toplulukların tarihi olmuştur. Bireysel yaşantılarımızda dahi karşılaştığımız insanların, çalışma koşullarımızın, içinde yaşadığımız yerleşim yerlerinin, içine doğduğumuz ya da sonradan dâhil olduğumuz toplumsal grupların bizleri nasıl şekillendirdiğini görebiliriz. Toplumlar için de durum benzerdir. Bir toplumsal yapı içinde yer alan inanç biçimleri, geleneksel kabuller, toplumu idare eden liderin özellikleri, coğrafi koşullar vb. etkenler toplumsal yapının biçimlenmesinde etkilidir.

**Bu parçada toplumsal değişimde etkili olan;**

- I. Kültür  
II. Demografi  
III. Fiziki çevre

**faktörlerinden hangilerine değinilmiştir?**

- A) Yalnız I      B) Yalnız II      C) Yalnız III  
D) I ve II      E) I ve III

31. I. Ulusal bir proje yarışmasına katılacak olan bir grup öğrenci, sorumlulukları aralarında paylaşarak projelerini bitirmişlerdir.  
II. Performans ödevini bitirmede arkadaşından yardım alan bir öğrenci, kendisine yardımcı olan arkadaşına anlamadığı bir ders konusunu anlatarak destek olmuştur.  
III. Proje yarışmasında birinci olmak isteyen öğrenci diğer öğrencilerle yarış içindedir.  
IV. Öğrenciler okul içindeki uyulması gereken kuralları içselleştirilip uygulamıştır.

**Bu örnekler aşağıdaki toplumsal etkileşim tipleri ile eşleştirildiğinde hangisi dışarıda kalır?**

- A) Benzeştirme  
B) İşbirliği  
C) Mübadele  
D) Rekabet  
E) Uyum

32. Meclis - Papatya - Başarısız - İşçi - Neşeli

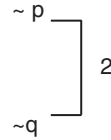
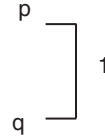
**Verilen kavramların türlerine göre doğru sıralaması aşağıdakilerden hangisidir?**

- A) Tümel - kolektif - olumsuz - tikel - olumlu  
B) Kolektif - tekil - olumsuz - distribütif - olumlu  
C) Distribütif - olumlu - kolektif - olumsuz - tümel  
D) Kolektif - olumsuz - genel - distribütif - tekil  
E) Olumlu - tekil - kolektif - distribütif - genel

33.  $p \Rightarrow q$  (ön)

1.  $p \wedge q$  (ön)

2.  $\sim(p \vee q)$  ( $\sim$  sn)



$\sim p$        $q$

**Çözümleyici çizelge yoluyla geçerliliği denetlenen çıkarım aşağıdakilerden hangisidir?**

- A)  $p \Rightarrow q, p \wedge q \therefore \sim p \vee q$   
B)  $p \Rightarrow q, p \wedge q \therefore \sim(p \vee q)$   
C)  $p \wedge q, p \wedge q \therefore \sim p \vee \sim q$   
D)  $p \Rightarrow q, p \wedge q \therefore p \vee q$   
E)  $p \wedge q, p \wedge q \therefore p \Rightarrow q$

34. Akıl yürütme; çıkarım yapmak, bir veya birkaç önermeden hareketle yeni bir önermeye ulaşmaktır. Akıl yürütme sonucu elde edilen bilginin doğruluğu öncül adı verilen kanıt önermelerinin doğru olmasına bağlıdır. Sonucun öncüllerden zorunlu olarak çıkarılması ya da öncüllerin sonucu desteklememesi, o akıl yürütmede mantıksal doğruluğun bulunmadığını gösterir.

**Buna göre verilen örneklerin hangisinde mantıksal olarak doğru, bilgi açısından yanlış bir çıkarım yapılmıştır?**

- A) Bütün sanatçılar yaratıcıdır.  
Mozart sanatçıdır.  
O halde Mozart yaratıcıdır.
- B) Bütün kuşlar uçar.  
Penguen kuştur.  
O halde penguen uçar.
- C) Bütün ağaçlar yapraklıdır.  
Meşe bir ağaçtır.  
O halde meşe yapraklıdır.
- D) Bütün çocuklar meraklıdır.  
Hazal bir çocuktur.  
O halde Hazal meraklıdır.
- E) Bütün kuşlar kanatlıdır.  
Kartal bir kuştur.  
O halde kartal kanatlıdır.

**35 - 40. soruları Din Kültürü ve Ahlak Bilgisi dersini yasal olarak almak zorunda olanlar ve İmam Hatip Okulları öğrencileri/mezunları cevaplayacaktır.**

35. Hz. Aişe, ortaya çıkan yeni sorunlara Kur'an ve hadisler ışığında çözümler üretmiştir. İslami ilimlerle ilgilenenler, Hz. Aişe'ye gelerek sorular yöneltmişler o da bilgisini başkaları ile paylaşmıştır. Özellikle kadınların eğitimi ile bizzat ilgilenmiştir. Onun döneminde Medine, İslami ilimlerin merkezi haline gelmiştir. Bazı İslami ilimlerin temelleri de onun döneminde atılmıştır.

**Bu metinden hareketle Hz. Aişe ile ilgili aşağıdaki sonuçlardan hangisine ulaşılamaz?**

- A) İlmi kişiliği ile İslam tarihinde önemli bir yer edinmiştir.
- B) Bizzat Hz. Peygamber'den eğitim alması ilmini genişletmiştir.
- C) Yeni çözümler üretebilecek ilmi birikime sahiptir.
- D) İlimin genişlemesine katkı sağlamıştır.
- E) Kadınların eğitime dâhil olmasını sağlamıştır.

36. · "Göklerde ve yerde bulunan herkes, O'ndan ister. O, her an yaratma halindedir." (Rahman suresi, 29. ayet)
- "Biz bir şeyin olmasını istediğimiz zaman sözü-müz sadece, ona, "ol" dememizdir. O da hemen oluverir." (Nahl suresi, 40. ayet)
- "O, karada ve denizde ne varsa bilir. O'nun ilmi dışında bir yaprak bile düşmez. Yerin karanlıkları içindeki tek bir tane, yaş ve kuru ne varsa hepsi apaçık bir kitaptadır." (Enam suresi, 59. ayet)

**Bu ayetler sırasıyla aşağıdakilerden hangisi ile ilgilidir?**

- A) Tekvin-Kudret-İlim
- B) İlim-İrade-Kıdem
- C) Kıdem-Beka-İlim
- D) Tekvin-Beka-Kıdem
- E) İlim-Kudret-Tekvin

37. Hakan, Din Kültürü ve Ahlak Bilgisi dersinde notlar alır ve bunları desteklemek için ayetler araştırır.

- İnsanlara dünyada yaptıklarının yazılı olduğu defterleri verilir.
- Hayır ve şer her ne yapılmışsa mutlaka karşılığını bulacaktır.
- Çetin bir hesap olacaktır.
- Canlı ve cansız varlıklar da insanın yaptıklarına şahitlik eder.

**Buna göre Hakan'ın aşağıdaki ayetlerin hangisinden yararlanmadığını söyleyebiliriz?**

- A) “Artık kim zerre ağırlığına bir hayır işlerse, onun mükâfatını görecektir. Kim de zerre ağırlığına bir kötülük işlerse, onun cezasını görecektir.” (Zilzâl suresi, 7-8. ayetler.)
- B) “İşte o gün kişi kardeşinden, annesinden, babasından, eşinden ve çocuklarından kaçır.” (Abese suresi 34. ayet.)
- C) “Vay halimize derler, bu nasıl kitapmış. Küçük büyük hiçbir şey bırakmaksızın hepsini sayıp dökmüş.” (Kehf suresi, 49. ayet.)
- D) “O gün onların ağızlarını mühürleriz; yaptıklarını bize elleri anlatır, ayakları da şahitlik eder.” (Yâsîn suresi, 65. ayet.)
- E) “Elbette kendilerine peygamber gönderilen kimseleri de gönderilen peygamberleri de mutlaka sorgulayacağız.” (A'râf suresi, 6. ayet.)

38. Tefsir ilmi Kur'an'ı anlama ihtiyacından doğmuştur. Zamanla gelişerek uzmanlık gerektiren bir ilim haline gelmiştir. İslam tarihinde bu konuda çok sayıda eser verilmiştir. Bunlardan birisi de cumhuriyet döneminde yapılan “Hak Dini Kur'an Dili” adlı çalışmadır.

**Metinde bahsedilen eserin yazarı kimdir?**

- A) Ömer Nasuhi Bilmen  
B) Mehmet Akif Ersoy  
C) Elmalılı Hamdi Yazır  
D) Ömer Rıza Doğrul  
E) Konyalı Mehmet Vehbi

39. “Zatü'n-Nitâkeyn” lakabıyla bilinmektedir. Bu isim iki kuşak sahibi anlamına gelir. Sevr mağarasına taşıdığı azık torbalarını ağızlarını bağlamak için kuşağını çözerek ikiye böler. Birisiyle azık torbasının ağzını diğeri ile ise su tulumunun ağzını bağlar. Bunu gören Hz. Peygamber, “Sana cennette iki kuşak vardır” buyurur.

**Metinde bahsedilen ve sorumlu davranışları ile örnek oluşturan sahabi kimdir?**

- A) Hz. Fatıma  
B) Hz. Hatice  
C) Hz. Aişe  
D) Hz. Esma  
E) Hz. Meryem

40. 632 yılında Suriye bölgesine gönderilmek üzere bir ordu hazırlanır. Hz. Peygamber, bu ordunun başına henüz 19 yaşında olan Üsame bin Zeyd'i getirmek ister. Ancak önemli kişilerin de olduğu bir orduya genç birisinin gelmesine eleştiriler gelir. Ayrıca bir kölenin oğlu olması da eleştirilir. Hz. Peygamber, Üsame bin Zeyd'in babasının da komutanlık yaptığını onun da bu görevi layıkıyla yerine getireceğini söyler. Ayrıca Üsame'yi de babasını da çok sevdiğini söyleyerek onlara bir insan olarak verdiği değeri hatırlatır.

**Bu olaydan hareketle Hz. Muhammed'le (s.a.v.) ilgili olarak;**

- I. Görev verirken liyakati esas almıştır.
- II. İnsanlar arasında soy sop ayırımı olmadığını vurgulamıştır.
- III. Üsame'nin komutanlık becerisini fark etmiş ve ona fırsat tanımıştır.
- IV. Torunu gibi gördüğü Usame'ye ayrıcalık tanımıştır.

**yargılarından hangilerine ulaşılabilir?**

- A) I ve II                      B) II ve IV                      C) I, II ve III  
D) I, II ve IV                      E) I, III ve IV

**41 - 46. soruları Din Kültürü ve Ahlak Bilgisi dersini yasal olarak almak zorunda olmayan veya farklı müfredat ile alanlar cevaplayacaktır.**

41. Hiç gemi görmemiş bu çoban ilkin bu gördüğü ve önceden hiç tanımadığı nesnenin ne olduğunu merak eder. Çoban ilk bakışta cansız ve duygusuz bir şey gördüğüne inanır, daha sonra ise hakkında kuşku duyduğu o şeyin nasıl bir şey olduğunu belli işaretlerden tahmin etmeye başlar, tıpkı felsefecilerin başına geldiği gibi; belki de onları öncelikle evrenin görüntüsü şaşırtmıştı, sonra evrenin sınırlı ve düzenli hareketlerini, her şeyin sabit bir düzenle ve değiştirilemez bir uyumla denetlendiğini görünce, bu göksel ve Tanrısal evde birisinin sadece ikamet eden biri olarak bulunmadığını, onun aynı zamanda bir hükümdar, bir yönetici olduğunu ve bu muazzam eserin, böylesine büyük bir yapının âdeta mimarı olduğunu da anladılar.

**Cicero'nun *Tanrıların Doğası* adlı eserinden derlenen bu parça din felsefesinin aşağıdaki sorulardan hangisinin cevabı niteliğindedir?**

- A) Evren sonlu mu sonsuz mudur?
- B) Ölümden sonra yaşam var mıdır?
- C) Evrende düzen ve amaçlılık var mıdır?
- D) Tanrı evrene nasıl müdahale eder?
- E) Tanrının varlığı ile ilgili görüşler nelerdir?

42. Popper'a göre bir hipotezin lehinde ne kadar çok gözlem yapılmış olursa olsun bu durum onu doğrulamaya yetmezken, hipoteze aykırı olan tek bir örnek onu çürütmeye yetecektir. Tıpkı "Tüm kuğular beyazdır." önermesinde olduğu gibi çok sayıda kuğunun beyaz olduğu gözlemlense bile farklı renkte bir kuğunun doğma olasılığının var olması nedeniyle bu önerme şüpheli ve varsayımsal olacaktır.

**Bu parçada Popper'ın bilim anlayışı ile ilgili olarak aşağıdakilerden hangisine ulaşılabılır?**

- A) Tümevarıma dayalı kuramların doğruluğu kuşkuyla karşılanmalıdır.  
 B) Bilimsel kabul edilebilecek önermeler akla dayanmalıdır.  
 C) Deney ve gözlem bir varsayımın doğruluk değerini belirler.  
 D) Bilimsel bir önermede esas olan doğrulanabilirliktir.  
 E) Bilimsel bir anlayış bilimi tüm süreçleriyle ele almaktadır.

43. Aylarca denizde kalan gemi personelinin ve savaş esirlerinin duygu, algı ve düşüncelerinde uyarıcı gereksiniminin artmasından dolayı çeşitli farklılaşmalar gözlenir. Gerçekle gerçek olmayanı karıştırma sonucunda ruhsal çöküntü ortaya çıkar.

**Bu açıklamada belirtilen sorunların ortaya çıkmasına sebep olan durum psikolojide aşağıdaki kavramlardan hangisi ile ifade edilir?**

- A) Yetersiz uyarılma  
 B) Aşırı uyarılma  
 C) Alt duyum eşiği  
 D) Üst duyum eşiği  
 E) Duyarsızlaşma

44. İki şeyin benzerliğinden kaynaklı biri hakkında hüküm verildiği zaman bu hükmün diğeri için de geçerli olması anlamına gelen olasılıklı akıl yürütmedir. Bu yolla elde edilen bilgi sadece bir varsayımdır. Örneğin günümüzde yaşanan sosyal bir olay, geçmişte yaşanan bir sosyal olayla birbirine benziyorsa, geçmişteki olay ile bu günkü olayın benzer sebeple ortaya çıktığı düşünülebilir. Fakat tek tek olay ve olgulardan hareket ederek, tümel sonuçlara ulaşmak varsayımsal değil, daha güvenilir niteliğe sahip bilgilere ulaşılmasını sağlayan bir akıl yürütme biçimidir.

**Bu parçada;**

- I. Tümdengelim  
 II. Tümevarım  
 III. Analoji

**akıl yürütme türlerinden hangileri açıklanmıştır?**

- A) Yalnız I  
 B) Yalnız II  
 C) Yalnız III  
 D) I ve II  
 E) II ve III

45. Sosyal normlar insanların neyi yapıp neyi yapmama gerektirdiği konusunda insan ilişkilerini düzenleyen, dengeleyen, denetleyen niteliklere sahiptir. Bireyler bu normları toplumsal yapı içinde kazanırlar. Her toplumda görülen sosyal normların önemi birbirinden farklıdır. Aynı zamanda ait olduğu toplumun ihtiyaçlarına göre değişen, gelişen ve yenilenen bir özellik gösterirler.

**Bu parçadan sosyal norm ile ilgili olarak aşağıdaki yargılardan hangisine ulaşılamaz?**

- A) Sosyalleşme süreci içinde öğrenilir.  
 B) Evrensel bir niteliğe sahiptir.  
 C) Yapı bakımından statik kalıplardır.  
 D) Toplumsal kontrolün gerçekleşmesini sağlar.  
 E) Önem derecesi toplumdan topluma değişir.

46. Aşağıdaki örneklerden hangisinde ters döndürme kuralları doğru uygulanmamıştır?

- A) Bütün insanlar ölümlüdür.  
Bütün ölümlü olmayan insan olmayandır.
- B) Bazı hayvanlar kemirgendir.  
Bazı kemirgen olmayan hayvan olmayandır.
- C) Hiçbir ağaç taş değildir.  
Bazı taş olmayan ağaç olmayan değildir.
- D) Bazı insanlar gözlüklü değildir.  
Bazı gözlüklü olmayan insan olmayan değildir.
- E) Bütün bebekler sevimlidir.  
Bütün sevimli olmayan bebek olmayandır.



# Kendini Deęerlendir



1

*Kare kodu okut.*

2

*Sınavını seę*

3

*Cevaplarını sisteme gir.*

4

*Eksik olduęun konuları analiz et.*

5

*Bu sınava katılanlar arasındaki sıralamanı gör.*





T.C. MİLLÎ EĞİTİM  
BAKANLIĞI

3 ADIM

DENEME SINAVLARI

2. ADIM

AYT  
sözel

2. DENEME



ADI VE SOYADI

OKUL ADI

ADAYIN İMZASI

**ADAYIN DİKKATİNE!**

1. Bu sınavda AYT soru dağılımları dikkate alınmıştır.
2. Deneme tam kapsam olup YKS konularının tamamını kapsamaktadır.
3. Bu sınav Türk Dili ve Edebiyatı - Sosyal Bilimler 1 Testi (TDE 24 soru, Tarih 10 soru, Coğrafya 6 soru) 40 soru, Sosyal Bilimler 2 Testi (Tarih 11 soru, Coğrafya 11 soru, Felsefe Grubu 12 soru, DKAB 6 soru ) 40 soru olmak üzere toplamda 80 soru içermektedir.

Bu testlerin her hakkı saklıdır. Hangi amaçla olursa olsun, testlerin tamamının veya bir kısmının Millî Eğitim Bakanlığının yazılı izni olmadan kopya edilmesi, fotoğrafının çekilmesi, herhangi bir yolla çoğaltılması, yayımlanması ya da kullanılması yasaktır. Bu yasağa uymayanlar gerekli cezai sorumluluğu ve testlerin hazırlanmasındaki mali külfeti peşinen kabullenmiş sayılır.

### **DİKKAT!**

Din Kültürü ve Ahlak Bilgisi dersini yasal olarak almak zorunda olan adaylar ve İmam Hatip Okulları öğrencileri/mezunları, Sosyal Bilimler-2 Testi'nin ilk 40 sorusunu cevaplamakla yükümlüdür. Bu adaylar, bu testin 41-46. sorularını cevaplamayacaklardır. Bu adaylar, bu testin 41-46. sorularında işaretleme yapmış olsalar bile bu cevapları değerlendirmeye alınmayacaktır.

Din Kültürü ve Ahlak Bilgisi dersini yasal olarak almak zorunda olmayan veya farklı müfredat ile alan adaylar, Sosyal Bilimler-2 Testi'nin 35-40. sorularını cevaplamadan 41-46. sorularını cevaplayacaklardır. Bu adaylar, bu testin 35-40. sorularında işaretleme yapmış olsalar bile bu cevapları değerlendirmeye alınmayacaktır.

### **AÇIKLAMA**

1. Bu kitapçıkta **86 soru** bulunmaktadır.  
Türk Dili ve Edebiyatı-Sosyal Bilimler-1 Testi: 40 soru  
Sosyal Bilimler-2 Testi: 46 soru
2. **Bu sınavda her testteki doğru cevaplarınızın sayısından yanlış cevaplarınızın sayısının dörtte biri çıkarılacak ve kalan sayı o bölüme ilgili ham puanınız olacaktır.**
3. Kitapçığın sayfalarındaki boş yerleri müsvedde için kullanabilirsiniz.
4. Cevaplamaya istediğiniz sorudan başlayabilirsiniz. Bir soru ile ilgili cevabınızı cevap kâğıdında o soru için ayrılmış olan yere işaretlemeyi unutmayınız.
5. Bu kitapçıkta yer alan her sorunun sadece bir doğru cevabı vardır. Cevap kâğıdında bir soru için birden çok cevap yeri işaretlenmişse o soru yanlış cevaplanmış sayılacaktır. İşaretlediğiniz bir cevabı değiştirmek istediğinizde silme işlemini çok iyi yapmanız gerektiğini unutmayınız.

1. Bu testte sırasıyla, Türk Dili ve Edebiyatı (1-24), Tarih-1 (25-34), Coğrafya-1 (35-40) alanlarına ait toplam 40 soru vardır.
2. Cevaplarınızı cevap kâğıdının Türk Dili ve Edebiyatı-Sosyal Bilimler-1 Testi için ayrılan kısmına işaretleyiniz.

1. Felsefe tarihine baktığımızda pek çok filozofun aynı zamanda edebî bir tarzı ---- görülür. İlk Çağ filozoflarından bazıları ---- şiir şeklinde dile getirmişler ve aynı zamanda ozan olmuşlardır.

**Bu parçada boş bırakılan yerlere aşağıdakilerden hangisi sırasıyla getirilmelidir?**

- A) seçtikleri - duygularını  
B) benimsedikleri - kendilerini  
C) kullandıkları - görüşlerini  
D) kabullendikleri - araştırmalarını  
E) önemsedikleri - bilgilerini

2. Belgeselci; farklı coğrafi, sosyal ve ekonomik özelliklere sahip ülkelerdeki sanat aktivitelerini hem sayısal verilere hem de kişisel deneyimlerine dayanarak aktarıyor.

**Bu cümleden belgeselciyle ilgili çıkarılabilecek kesin yargı aşağıdakilerden hangisidir?**

- A) Farklı ülkeleri birbiriyle karşılaştırarak bir sonuca ulaşmıştır.  
B) Ortaya çıkan sorunlarla ilgili çeşitli çözüm yolları önermiştir.  
C) Sanatsal faaliyetlerin geliştirilmesine yönelik önlemlerin yetersiz kaldığını vurgulamıştır.  
D) Yansıtılan etkinlikler içinde bireysel çalışmalarına da yer vermiştir.  
E) Sanat etkinliklerine dair yansıtılan bilgiler hem nesnellik hem de öznellik taşımaktadır.

3. “Älem boşluk kaldırmaz.” derler, zihin hiç kaldırmıyor. Meşgul olacağımız zihinsel bir gündemimiz yoksa “boş” kalan zihin hemen doluyor. Neyle mi? Abuk sabuk düşüncelerle! Gerçi onlara düşünce de denemez ya, geçmiş olaylar ve gelecek planlarıyla meşgul oluyor zihin ve kaygı bozukluğu gelişmeye başlıyor. Eğer eğitilmiş bir zihnin yoksa olumsuz olaylar ve durumlar üzerine odaklanıyor ve mutsuz oluyorsunuz.

**Bu parçadan aşağıdakilerden hangisine ulaşılabılır?**

- A) Gelecek kaygısının başlıca nedeni kontrol edilemeyen zihinsel aktivitelerdir.  
B) Kişinin geçmişte yaşadığı olumsuz olaylar, mutsuzluğun temel nedenlerindedir.  
C) İnsanın duygusal olarak sağlıklı olabilmesi için zihinsel bir uğraşa ihtiyacı vardır.  
D) Zihnin eğitilmiş kişilerce kontrolü daha kolaydır ve bu durum mutluluğu beraberinde getirir.  
E) Bir uğraşı olmayan insan hayatta kendine yer edinemez, toplum tarafından kabul görmez.

4. Arthur Miller'ın, trajediyle ilgili "Aristo, *Poetika* adlı eserinde, trajediyi anlatırken 'yüksekten düşüş' tabirini kullanmaktadır. Bu bizde şöyle bir fikir uyandırır, sanki bu kritere göre sıradan bir insan trajedi kahramanı olamayacaktır. Ama Aristo'nun yaşadığı çağ ile günümüz arasında yüzyıllar geçmiştir. O günden günümüze dek insanın aklına gelebilen her şeyde büyük değişiklikler meydana gelmiş, her alanda gelişmeler olmuştur. İnsan artık her şeyin makineler tarafından yapıldığı bir çağda yaşamaktadır. Bugün geometri alanında öylesine keşifler yapılmış, ilerlemeler olmuş ki artık Euclid'in geometri prensiplerinde bile büyük değişiklikler olmuştur." şeklinde düşüncelerini belirtmiştir. Miller, bu görüşten hareket ederek büyük bir deha ve tıp âlimi olan Hipokrat'ın yerine günümüzde Amerika'nın herhangi bir tıp fakültesinden mezun olmuş sıradan bir doktora görünmeyi yeğlemektedir. Çünkü bir deha bile kendi yaşadığı çağ ve toplumun özellikleriyle sınırlıdır.

**Bu parçaya göre Arthur Miller'ın, Aristo'nun trajedi anlayışını kabul etmemesinin nedeni aşağıdakilerden hangisidir?**

- A) Kahramanlarının geçerliliğini yitirmiş, yüksek zümreden seçilmiş olması
- B) Bilimsel teoriye ya da bilgiye dayanmayan eserlerin geçerliliğini kaybetmesi
- C) Düşüncelerin ancak ortaya konduğu çağda bütünüyle geçerli olabileceği
- D) Kendi çağını doğru anlayamayanların gelecek dönemlere hitap edemeyeceği
- E) O dönemde yazılmış eserlerin sadece yüksek tabakaya yönelik yazılmış olması

5. Osmanlı'dan epey farklı bir devlet yapısı ve kültüre sahip olan Japonya, Osmanlı ile aynı yüzyılda modernleşme sürecine girdi. Japonya'nın, 1800'lerin ortalarından itibaren İmparator Meiji önderliğinde başlayan Batı'ya açılma hamlesi, kısa sürede toplumsal bir soruna dönüştü. Bilimsel ve teknik anlamda yüzyü Batı'ya dönük olmasına rağmen toplumsal bağlamda geleneklerine sınımsız bağlı olan Japon halkı, Avrupa kültürüyle karşılaşınca bir bocalama yaşadı. Sanat, felsefe ve bilim çevrelerinden birçok kişi toplumu alışık olmadığı durumlara karşı uyarıcı yazılar kaleme aldı; yönlendirici açıklamalarda bulundu. Batılılaşma hamlesi, çok ciddi açmazlara neden olmasa da özellikle insan ilişkilerinde kavramsal ve hayati bazı ikilemler doğurdu. Sanat ve edebiyat da hâliyle bu çelişkilerden etkilendi.

**Bu parçadan aşağıdakilerden hangisine ulaşılamaz?**

- A) Toplumun fikir önderleri, Batılılaşmaya karşı bir direnç sergilemiştir.
- B) Batılılaşma, toplum yapısında bir ikilik doğmasına neden olmuştur.
- C) Toplumsal yapıdaki değişimler, hayatı ve sanatı etkilemiştir.
- D) Batılılaşma hamlesi, devlet yöneticilerinin öncülüğünde başlamıştır.
- E) Batılılaşma, kültürel değişimi de içeren bir yapıya sahiptir.

6. Bilgisayar, tablet ve akıllı telefonların toplumda yaygın kullanımına bağlı olarak değinilmesi gereken bir husus da internetteki hazır uygulama ve programların bireylerdeki düşünme yeteneği ve sanatsal yaratıcılığı dumura uğratmasıdır. Mevcut bir resmi kolayca kara kalem çalışmasına veya yağlı boyaya çeviren, hazır ses ve ritimler sunarak amatörlerin bile kolayca beste yapmalarına imkân veren program ve uygulamalar çeşitlenip artmakta ve bunların kullanımları yaygınlaşmaktadır. Küresel sistem ve modern yaşam entelektüel ve sanatsal ürünleri paketleyip hazır bir biçimde bireylere sunduğu için gelecek nesiller arasında Mozart, Beethoven, Bach, Chopin gibi bestekârlar; Picasso, Dali, Van Gogh, Monet, Renoir gibi ressamlar; Michelangelo, Bartholdi, Rodin gibi heykeltıraşlar ve Bacon, Locke, Spinoza, Goethe, Nietzsche gibi düşünür ve filozofların yetişmesi de beklenmemelidir.

**Bu parçada bilgisayar, tablet ve akıllı telefonların kullanımıyla ilgili aşağıdakilerin hangisi vurgulanmaktadır?**

- A) Geleceğin sanatçıları teknolojik gelişmeleri takip etmelidir.
- B) Bilinçli kullanıldığında sanata ilginin artmasını sağlamaktadır.
- C) Kaliteli sanat ürünlerinin doğmasını desteklemektedir.
- D) Günümüzde sanatsal alanda kullanımı gitgide artmaktadır.
- E) İnsanlarda yaratıcılığı ve sanatsal ruhu zamanla köreltmektedir.

7. Arzu iplik, sevgi nakış,  
Ördükçe güzel görünür.  
Gönül gözü ile bakış,  
Gördükçe güzel görünür.

**Bu dizelerle ilgili aşağıdakilerden hangisi yanlıştır?**

- A) Çapraz kafiye düzeninde oluşturulmuştur.
- B) Lirik bir şiirden alınmıştır.
- C) Kelime ve ek hâlinde redif kullanılmıştır.
- D) Nazım türü bakımından taşlamadır.
- E) Zengin kafiye vardır.

8. I.

Emrah bizim elin gonca gülleri  
Açılmıştır öter dost bülbülleri  
Ben sefil sergerdan gurbet elleri  
Gezeyim bir zaman yâr garip garip

II.

Gevheri der kime gönül katayım  
Gevherimi nadanlara satayım  
Dost bağında bülbül gibi öteyim  
Gülşen benim güller benim har benim

**Aşağıdakilerden hangisi numaralanmış bu dörtlüklerin ortak özelliklerinden biri değildir?**

- A) 11'li hece ölçüsünün kullanılması
- B) Tapşırmanın yer alması
- C) Nazım şeklinin koşma olması
- D) Zengin kafiyenin kullanılması
- E) Ahenk unsuru olarak redife yer verilmesi

9. Yâr deyince kalem elden düşüyor  
Gözlerim görmüyor, aklım şaşıyor  
Lambada titreyen alev üşüyor  
Aşk kâğıda yazılmıyor Mihriban

**Bu dördlüğün üçüncü dizesinde aşağıdaki edebî sanatlardan hangisi yoktur?**

- A) Tezat  
B) İstiare  
C) Mübalağa  
D) Tevriye  
E) Teşhis

10. İlk Türk devleti olarak kabul edilen Hun Devleti'nin en önemli lideri olan ve Türk boylarını ilk kez bir çatı altında toplamayı başaran Mete Han, MÖ 174 yılında öldüğünde geriye büyük bir imparatorluk bıraktı. Bu imparatorluk yaklaşık 18 milyon kilometrekare yüz ölçümüne sahipti. İmparatorluğun sınırları doğu-batı yönünde Japon Denizi'nden Volga Nehri'ne ve kuzey-güney yönünde Sibiryadan Tibet ve Keşmir'e uzanıyordu. Mete Han, Türk tarihi açısından âdeta bir kırılma noktası olmuştur. Öyle ki Mete Han'ın destan kahramanı olabileceği tezi dahi öne sürülmüştür. Bazı tarihçiler Mete Han ile Oğuz Türklerinin atası kabul edilen destan kahramanı Oğuz Kağan arasında birçok ortak nokta olduğunu söylemiştir. Destanda Oğuz Kağan'ın doğumundan itibaren tüm hayatı ele alınır. Gençlik dönemindeki olağanüstü kahramanlıkları, hükümdar oluşu, giriştiği savaşlar ve ölmeden önce kurduğu büyük ülkeyi çocuklarının arasında paylaşması anlatılır.

**Bu parçada söz edilenlerle doğal destanların oluşumuyla ilgili aşağıdaki "gerekli şart ve safhalar-dan" hangisi arasında ilişki vardır?**

- A) Çekirdek dönem  
B) Sözlü gelenek  
C) Olağanüstü olaylar  
D) Destan anlatıcısı  
E) Yazıya geçirilme

11.

Kahramanlar	Temsil Ettikleri Kavramlar
Kün Togdı	I
Ay Toldı	II
Ögdülmüş	III
Odgurmuş	IV

**Bu tabloda numaralanmış yerlere hangi kavramlar sırasıyla getirilmelidir?**

- A) Adalet - Saadet - Akıl - Akıbet  
B) Akıl - Akıbet - Adalet - Saadet  
C) Saadet - Akıl - Akıbet - Adalet  
D) Akıbet - Saadet - Akıl - Adalet  
E) Adalet - Akıl - Saadet - Akıbet

12.

- Türkülerde asıl konunun işlendiği bölümdür.
- Halk şairlerinin şiirlerinin toplandığı defterdir.
- Âşık tarzı halk şiirinde şairlerin takma adlarını kullanmalarına denir.
- Halk edebiyatında aruzun "mef'ûlü mefâ'ilü mefâ'ilü fe'ülün" kalıbıyla yazılan ezgisine göre düz, Acem ve Emrah adlarını alan nazım şeklidir.

**Aşağıdakilerden hangisi bu açıklamalardan herhangi biriyle ilişkilendirilemez?**

- A) Bent  
B) Kalenderî  
C) Tapşırma  
D) Cönk  
E) Miyan

13.

- Lügat manasıyla yakıştırmak, eklemek gibi anlamlara gelmektedir. Halk edebiyatımızın en sevilen ve en çok kullanılan bu nazım şeklini divan edebiyatındaki gazelere benzetmek mümkündür. Genellikle tabiat güzellikleri, sevgi, aşk, özlem, gurbet, ayrılık, kahramanlık, yığıtlık, eleştiri, acı, yakınma, hayata ait temalar sıkça işlenmektedir. 11'li hece ölçüsü ile yazılır. Dil sade, anlatım yalın ve içtendir. Karacaoğlan, Dadaloğlu, Âşık Gevherî gibi önemli temsilcileri vardır.

**Bu parçada sözü edilen nazım şekli aşağıdakilerden hangisidir?**

- A) Koşma  
B) Türkü  
C) Varsağı  
D) Semai  
E) Destan

14. Kaynaklarda “Hüsrev-i şuarâ, pîşterin-i şuarâ-yı Rûm” gibi sıfatlarla anılmıştır. Ününü daha çok mesnevi alanında kazanmıştır. *Hüsrev ü Şîrin* adlı eseriyle Türk edebiyatında mesnevi sahasının önemli simaları arasında yer almıştır. Mesnevi yazmayı bir şehir kurmaya benzetmiş, eserlerinde oldukça akıcı bir dil kullanmış, tasvirlerinde ve konuyu işleyişinde başarılı kabul edilmiştir.

**Bu parçada sözü edilen şair aşağıdakilerin hangisidir?**

- A) Şeyhî  
B) Ahmedî  
C) Şeyhülislam Yahyâ  
D) Ahmet Paşa  
E) Taşlıcalı Yahyâ

15. Bir gazele ait üç beyit şu şekildedir:

- I. Yârdan cevr ü cefâ lûtf u kerem gibi gelür  
Gayrdan mihr ü vefâ derd ü elem gibi gelür  
II. Bâkiyâ hangi gönül şehrine gelse şeh-i aşk  
Bile endûh u belâ hayl ü haşem gibi gelür  
III. Firkat-ı yâr katı zâr u zebun itdi beni  
Döymeyem mihnet-i hicrana ölem gibi gelür

**Bu beyitlerin şiirde yer alma sırası aşağıdakilerden hangisinde doğru olarak verilmiştir?**

- A) I - III - II  
B) II - I - III  
C) II - III - I  
D) III - II - I  
E) III - I - II

16. Yorgun gözümün halkalarında  
Güller gibi fecr oldu nümâyân,

Güller gibi... sonsuz, iri güller  
Güller ki kamıştan daha nâlân;  
Gün doğdu yazık arkalarında!

Altın kulelerden yine kuşlar  
Tekrârını ömrün eder ilân.  
Kuşlar mıdır onlar ki her akşam  
Âlemlerimizden sefer eyler?

**Bu şiirin biçim, içerik ve anlatım özellikleri dikkate alındığında aşağıdaki şairlerin hangisine ait olduğu söylenebilir?**

- A) Ziyâ Paşa  
B) Tevfik Fikret  
C) Ziya Gökalp  
D) Ahmet Hâşim  
E) Nâmık Kemal

17. İlk şiirlerinde aruz ölçüsünü daha sonraki şiirlerinde hece ölçüsünü kullanmıştır. Yayımladığı mizah dergisindeki manzum hiciv yazılarıyla edebiyatımızda yer etmiştir. Türkçeyi ustalıkla kullanan sanatçı tiyatro türünde de başarılı eserler vermiştir. Hatıralarını *Bizim Yokuş* ve *Portreler* adlı eserlerinde toplamıştır.

**Bu parçada sözü edilen sanatçı aşağıdakilerden hangisidir?**

- A) Halit Fahri Ozansoy  
B) Nurullah Ataç  
C) Ziya Osman Saba  
D) Yusuf Ziya Ortaç  
E) Falih Rıfkı Atay

18. özenle soyduğum şu elma söyle şimdi kimindir  
özenle ne yapıyorsam bilirsin artık senindir

kararan dünya, yeni bir güle bir ateş parçasıdır  
bir ateş parçasından arta kalan soylu karanlık senindir

senindir ey sonsuz veren ne varsa hayat gibi  
tutma soluğunu, genişle, öz ve kabuk senindir

**Bu dizelerle ilgili aşağıdakilerden hangisi söyle-  
nemez?**

- A) Divan şiirinin dize kuruluşundan yararlandığı  
B) Ahengi sağlamak için redif ve kafiye kullanıldığı  
C) Belli bir ölçü kullanılarak yazıldığı  
D) Duyguların imgeli bir dil yoluyla aktarıldığı  
E) İçerik açısından lirik şiir niteliği taşıdığı

19. Kış aylarında tarım alanında yapacak hiçbir iş bulamadıkları için "Orta Anadolu'nun seksen evlik köylerinin" birinden iş ve ekmek aramak üzere Çukurova'ya inen üç köylü arkadaş: İflahsızın Yusuf, Pehlivan Ali, Köse Hasan. Yazar; bu üç köylü aracılığıyla fabrika ve inşaatlardaki işçilerin çalışma şartlarını, toprak işçilerinin tarım işletmelerindeki çapalama ve harman yerinde buğdayı sapından ayırma işini tüm gerçekçiliğiyle gözler önüne serer.---- anlattıkları henüz gerçek sanayi işçisi değildir; ---- işçileri bir ayağı köyde, bir ayağı kentte köylü işçilerdir.

**Bu parçada boş bırakılan yerlere aşağıdaki yazar ve eserlerden hangileri getirilmelidir?**

- A) Yaşar Kemal'in - *Yer Demir Gök Bakır*'ın  
B) Orhan Kemal'in - *Bereketli Topraklar Üzerinde*'nin  
C) Kemal Tahir'in - *Rahmet Yolları Kesti*'nin  
D) Fakir Baykurt'un - *Onuncu Köy*'ün  
E) Talip Apaydın'ın - *Sarı Traktör*'ün

20. **Aşağıdaki eser ve kahraman eşleştirmelerinden hangisi yanlıştır?**

- A) *Eylül* - Suad  
B) *Mai ve Siyah* - İkbâl  
C) *Ateşten Gömlek* - Ayşe  
D) *Çalkıuşu* - Feride  
E) *Huzur* - Neriman

21. Kâinat karşısında artık aynı adam değildi. Her şey onda sanki daha derine, daha esaslıya doğru gidiyor ve bu yüzden günlük manzara ve çehreler kendisi için zaman zaman değişiyordu. O artık etrafında bulunan her şeyi, küçük ve bazen çok şaşkırtıcı uyanışlar hâlinde görmeye mahkûmdu; bir sisten ayrılan tek bir ağaç gibi, bu zihnin bulanıklığına, mevcut olan her şey tek başına aksediyordu. Hayatın bütünlüğünü ve basitliğini kaybetmişti; Abdullah bunun böyle olmasından çok mustarıpti "Belki de büsbütün çıldıracağım!.. Büsbütün..." diyerek ürperdi ve sonra saklayamadığı bir telaşla yanındakilerin bunu fark edip etmediklerini anlamak için dört tarafına bakındı. Hayır, kimse bu değişikliğin farkında değildi.

**Bu parça aşağıdaki hikâye anlayışlarının hangisinden alınmıştır?**

- A) Bireyin iç dünyasını esas alan hikâye  
B) Millî-dinî duyarlılıkları yansıtan hikâye  
C) Toplumcu gerçekçi hikâye  
D) Küçürek hikâye  
E) Modernist hikâye



22. Şiir, hikâye, roman, tiyatro, deneme türlerinde verdiği eserlerle tanınan sanatçı; Güneydoğu Anadolu'ya ait bir söylenceden ve bir halk türküsünden esinlenerek yazdığı ilk oyunu *Boş Beşik*'te, yöre insanının folklorunu işledi. Oyunlarında kadın gerçeği ile kasaba insanını konu edindi. Özellikle 1960 sonrası oyunlarında ağa baskısı, su-toprak sorunu, kan davası ve kadının sömürülmesi üzerinde durdu.

**Bu parçada sözü edilen sanatçı aşağıdakilerden hangisidir?**

- A) Haldun Taner
- B) Necati Cumalı
- C) Turan Oflazoğlu
- D) Recep Bilginer
- E) Orhan Asena

23. Türk edebiyatının en iyi tiyatrocuları arasında yer alan Orhan Asena, özellikle 1950 yılı sonrası süreçte önde gelen tiyatro yazarlarımızdan biridir. "Türk tiyatrosunun Shakespeare'i" olarak bilinir. Tiyatro eserleri birçok ödül almış ve birçok defa sahnelenmiştir.

**Aşağıdaki eserlerden hangisi parçada tanıtılan sanatçıya ait değildir?**

- A) *Hürrem Sultan*
- B) *Kösem Sultan*
- C) *Ya Devlet Başa Ya Kuzgun Leşe*
- D) *Kocaoğlan*
- E) *Tanrılar ve İnsanlar*

24. ---- yazarla kahramanı birleştirmiştir. Bu akımı yansıtan romanlarda duygusal anlatıma, rastlantılara, eser yoluyla toplumu değiştirmeye, karşıt tiplere yer verildiği görülür. Her kesimden insanın ele alındığı bu romanlarda yazar tarafsız değildir. Yazar kahramanları değerlendirmeyi okuyucuya bırakmaz, kendisi yapar. ----, romanlarının bu özellikleri barındırması bakımından Türk edebiyatında bu akımın en önemli temsilcilerinden biri kabul edilir.

**Bu parçada boş bırakılan yerlere aşağıdakilerden hangisi sırasıyla getirilmelidir?**

- A) Romantizm - Nâmık Kemal
- B) Realizm - Halit Ziya
- C) Natüralizm - Hüseyin Rahmi
- D) Empresyonizm - Ahmet Hâşim
- E) Klasisizm - İbrahim Şinâsi

25.



**Buna göre yukarıda verilen ören yerindeki uygarlıkla ilgili,**

- I. Dışarıdan göç almıştır.
- II. Çıkrık kullanılmıştır.
- III. Uygarlık gelişimi düzenlidir.

**gibi özelliklerden hangileri söylenebilir?**

- A) Yalnız I
- B) Yalnız II
- C) Yalnız III
- D) I ve III
- E) II ve III

26. I. Eli silah tutan herkesin asker sayılması  
II. Genellikle ücretli askerlerden oluşması  
III. Askerliğin, vatandaşlık görevi olmaması

**Yukarıdakilerden hangileri Orta Çağ'daki yerleşik toplumlara ait ordunun özellikleri arasında gösterilemez?**

- A) Yalnız I                      B) Yalnız II                      C) I ve II  
D) I ve III                      E) I, II ve III

27. **Abbasilerin zayıflaması üzerine toprakları üzerinde kurulan devletler arasında aşağıdakilerden hangisi gösterilemez?**

- A) İhşitler  
B) İdrisîler  
C) Harzemşahlar  
D) Tolunoğulları  
E) Büveyhoğulları

28. I. Dandanakan Savaşı  
II. Pasinler Savaşı  
III. Malazgirt Savaşı

**Yukarıda verilen savaşlardan hangileri Bizans ile Büyük Selçuklu Devleti arasında gerçekleşmiştir?**

- A) Yalnız I                      B) Yalnız II                      C) Yalnız III  
D) I ve II                      E) II ve III

29. **Osmanlı Devleti'nin kuruluş, ilk etapta topraklarını genişlettiği bugünkü Kocaeli, Sakarya, Bilecik, Bursa, İzmit, Düzce, Yalova, Bolu, Bartın ve Zonguldak illerini kapsayan coğrafi alanın Antik Çağ'daki adı aşağıdakilerden hangisidir?**

- A) Smyrna                      B) Kilikya                      C) Bitinya  
D) Kapadokya                      E) Trakya

30. XVIII. yüzyılın son çeyreğinde hazırlanan "Yunan (Grek) Projesi" olarak bilinen plan ile İstanbul, Trakya, Makedonya, Bulgaristan ve Kuzey Yunanistan birleştirilerek yeni bir Bizans İmparatorluğu kurmak ve Osmanlı topraklarını paylaşmak amaçlanmıştır. Bu doğrultuda Avrupa devletleri arasında ittifak antlaşmaları imzalanmıştır.

**Yukarıda bilgisi verilen proje aşağıdaki devletlerden hangisi tarafından tasarlanmıştır?**

- A) Rusya                      B) Prusya                      C) İngiltere  
D) Fransa                      E) Almanya

31. **Aşağıdakilerden hangisi Millî Mücadele Dönemi'nde faaliyet gösteren Kuvay-ı Millîye birliklerinin özelliklerinden biri değildir?**

- A) Mondros Ateşkes Anlaşması sonrası işgallere tepki olarak kurulmuşlardır.  
B) Batı Anadolu'da Yunan ilerleyişinin yavaşlatılmasında büyük yararlılıklar göstermişlerdir.  
C) Kuvay-ı Millîye birliklerinin ihtiyaçları halk tarafından karşılanmıştır.  
D) Sivas Kongresi'nde, Batı Anadolu Kuvayımillîye Komutanlığı kurularak başına İsmet Paşa atanmıştır.  
E) Kuvay-ı Millîye ruhu düzenli orduda da yaşatılmıştır.

32. Aşağıdakilerden hangisi Balkan Antantı'nda yer alan devletlerden biri değildir?

- A) Yunanistan
- B) Bulgaristan
- C) Romanya
- D) Türkiye
- E) Yugoslavya

33.

I	Türk Tarih Kurumunun açılması	Milliyetçilik
II	Takvim, saat ve ölçülerin değiştirilmesi	İnkılapçılık
III	Türk Medeni Kanunu'nun kabulü	Laiklik
IV	Soyadı Kanunu'nun kabulü	Devletçilik

Yukarıdaki yeniliklerle Atatürk ilkelerinden hangisi yanlış eşleştirilmiştir?

- A) Yalnız I
- B) Yalnız II
- C) Yalnız III
- D) Yalnız IV
- E) II ve III

34. Aşağıdakilerden hangisinin II. Dünya Savaşı'ndan sonra ABD ve SSCB arasındaki mücadeleye sürecinde kurulduğu söylenemez?

- A) Birleşmiş Milletler (BM)
- B) Varşova Paktı
- C) NATO
- D) COMECON
- E) Truman Doktrini

35. Uluslararası önem taşıyan, bu nedenle takdire ve korunmaya değer doğal oluşumlara, anıtlara ve sitlere dünya mirası denilmektedir. Türkiye'nin dünya mirası listesinde 17'si kültürel, 2'si hem kültürel, hem doğal miras olmak üzere 19 miras alanı bulunmaktadır.

**Bu listede yer alan;**

- I. Hieropolis - Pamukkale,
- II. Divriği Ulu Camii ve Darüşşifası,
- III. Göreme Millî Parkı ve Kapadokya,
- IV. Diyarbakır Kalesi ve Hevsel Bahçeleri Kültürel Peyzajı

**dünya miraslarından hangileri hem kültürel hem doğal miras alanlarındandır?**

- A) I ve II
- B) I ve III
- C) II ve III
- D) II ve IV
- E) III ve IV

36. Işık; yoğunluk, miktar ve süre bakımından canlıların yaşam faaliyetlerini etkiler. Bitkilerin çoğunun çimlenmek ve gelişebilmek için güneş ışığına ihtiyacı vardır.

**Aşağıdakilerden hangisi bitkilerin bu ihtiyacı ile doğrudan ilgilidir?**

- A) Kafkaslarda endemik bitki türlerinin fazla olması
- B) Yağmur ormanlarında ağaçların boylarının uzun olması
- C) Çöl bitkilerinin köklerinin toprağın derinliklerine kadar ulaşması
- D) Bir dağ yamacı boyunca bitkilerin kuşaklar oluşturması
- E) Kuzey Kanada'da tundra bitki örtüsünün görülmesi

37. Fırtına türlerinden biri olan buz fırtınaları nadiren görülür ve yer yüzeyinin çok soğuk olduğu durumlarda yağın yağmurun yere düşer düşmez donmasıyla meydana gelir. Oluştuklarında her şeyin üzerini kalın bir buz tabakası kaplar.

**Bu ekstrem doğa olayının yaşanması durumunda aşağıdaki olaylardan hangisinin gerçekleşmesi beklenmez?**

- A) Ulaşımın aksaması  
B) Bitki örtüsünün zarar görmesi  
C) Enerji nakil hatlarının kopması  
D) Ekonomik kayıpların yaşanması  
E) Yer altı taban suyu seviyesinin alçalması

38. Nüfus ve yaşam standartları artarken tüketimde de kaçınılmaz şekilde bir artış yaşanmakta ve bu durum doğal kaynaklarımız üzerindeki baskıyı artırarak dünyanın dengesini bozmakta, sınırlı kaynaklarımız artan ihtiyaçlara yetişememektedir. Bu nedenle son yıllarda tüm dünyada sıfır atık uygulama çalışmaları yaygınlaşmaktadır.

**Aşağıdakilerden hangisi bu çalışmalar ile sağlanacak avantajlardan biri değildir?**

- A) Kaynak israfının önlenmesi  
B) İş gücü potansiyelinin artması  
C) Doğal kaynak verimliliğinin artması  
D) Sürdürülebilir kalkınmanın sağlanması  
E) Tüketimden kaynaklı çevre risklerinin azalması

39. Dünyada ticaretin ve sanayinin en yoğun olduğu dört önemli bölge vardır. Bu bölgelerdeki ve bölgeler arasındaki alım satım faaliyetleri dünyada bir ticaret ağını ortaya çıkararak küresel ekonominin temel dinamiğini oluşturmuştur.



**Haritada numaralandırılan yerlerin hangilerinin bu bölgelerde olduğu söylenebilir?**

- A) I ve II  
B) I ve III  
C) II ve III  
D) II ve IV  
E) III ve IV

40. Ülkelerin üretim ve tüketim merkezlerine göre konumu ekonomisini etkilemektedir. Bir ülkenin sanayi bölgesi ile enerji kaynakları bölgesi arasında bulunması o ülkede enerji taşımacılığı etkinliğinin fazla olmasına neden olur.



**Haritada numaralandırılarak gösterilen yerlerde bulunan ülkelerden hangisinde bu etkinlik daha fazla gelişmiştir?**

- A) I  
B) II  
C) III  
D) IV  
E) V

1. Bu testte sırasıyla, Tarih-2 (1-11), Coğrafya-2 (12-22), Felsefe Grubu (23-34), Din Kültürü ve Ahlak Bilgisi (35-40), Din Kültürü ve Ahlak Bilgisi dersini yasal olarak almak zorunda olmayan veya farklı müfredat ile alanlar için Felsefe Grubu (41-46) alanlarına ait toplam 46 soru vardır.

2. Cevaplarınızı cevap kâğıdının Sosyal Bilimler-2 Testi için ayrılan kısmına işaretleyiniz.

1. Nil Nehri Mısır medeniyetine hayat veren en önemli unsurlardandır. Fakat nehrin zaman zaman taşması Mısır medeniyetinin büyük kayıplar yaşamasına neden olmuştur. Bundan dolayı, Mısırlılar tarım arazilerini korumak ve silinen sınırlarını belirlemek için çeşitli önlemler almak zorunda kalmıştır.
- Paragrafa göre Mısır medeniyeti;**
- I. Astronomi,  
II. Geometri,  
III. Anatomi
- hangi bilimlerin gelişmesine zemin hazırlamıştır?**
- A) Yalnız I                      B) Yalnız II                      C) I ve II  
D) II ve III                      E) I, II ve III
2. **Aşağıdakilerden hangisi, İslamiyet öncesinde Orta Asya'da kurulan Türk devletleri ile ilgili doğru bir bilgi değildir?**
- A) Devlet yönetiminde hâkimiyetin kaynağı tanrısaldır.  
B) Yönetimde federatif sistemi benimsemişlerdir.  
C) Orduları genellikle paralı askerlerden oluşmuştur.  
D) En yoğun ekonomik faaliyetleri hayvancılıktır.  
E) Toplumda tabakalaşma görülmemiştir.
3. **Osmanlı Devleti, aşağıdaki konuların hangisinde âyanlardan yardım talebinde bulunmamıştır?**
- A) Kamu düzeninin sağlanmasında  
B) Vezirlerin atanmasında  
C) Asker toplamada  
D) Vergi toplamada  
E) Şehir ve yolların korunmasında
4. Osmanlı Devleti'nde; devletin hanedanın ortak malı sayılması, şehzadeler arasında sık sık taht kavgalarının yaşanmasına neden olmuştur.
- Aşağıdaki gelişmelerden hangisinin böyle bir duruma neden olduğu söylenebilir?**
- A) I. Kosova Savaşı  
B) Fetret Devri  
C) Edirne Olayı  
D) Maltepe Savaşı  
E) Mısır Seferi

5. 1718 Pasarofça Antlaşması'nın imzalanmasıyla başlayan dönem, Osmanlı Devleti'nde "Lale Devri" olarak bilinir. 1730'daki Patrona Halil İsyanı'yla Lale Devri sona ermiştir. Bu dönemde birçok yenilikler yapılmıştır.

**Lale Devri'nde görülen yenilikler arasında;**

- I. Yalova'da kâğıt fabrikasının açılması
- II. İtfaiye teşkilatının kurulması
- III. Avrupa'ya geçici elçilerin gönderilmesi
- IV. Matbaanın kullanılmaya başlanması
- V. İslahatlar için yabancı subayların görevlendirilmesi

**gibi gelişmelerden hangisi gösterilemez?**

- A) I      B) II      C) III      D) IV      E) V

6. 1770 tarihinde Çeşme Limanı'na baskın düzenleyerek Osmanlı donanmasını imha eden devlet aşağıdakilerden hangisidir?

- A) Venedik
- B) Rusya
- C) İngiltere
- D) İspanya
- E) Fransa

7. Osmanlı Devleti'nin XIX. yüzyılda "mürur tezkiresi"ni uygulamasının amacı aşağıdakilerden hangisidir?

- A) Esnaf denetimi
- B) Hükûmet denetimi
- C) Göç denetimi
- D) Vergi denetimi
- E) Bina denetimi

8.



Sevr Antlaşması'na göre Osmanlı toprakları yukarıda verilen haritadaki gibi paylaşılmıştır.

**Bu paylaşıma göre işgal bölgesi ile işgal eden devlet aşağıdakilerden hangisinde doğru olarak eşleştirilmiştir?**

- A) I - İtalya
- B) II - İngiltere
- C) III - Fransa
- D) IV - Yunanistan
- E) V - Rusya

9. 1925'te çıkarılan bir kanunla aşar vergisi kaldırılmıştır.

**Bu gelişme ile ilgili olarak;**

- I. Türk Medeni Kanunu'nun kabulüyle kadın-erkek eşitliği sağlandı
- II. Toplumda ayrıcalık ve üstünlük belirten lakap ve unvanların kaldırıldığı
- III. Avrupa ülkeleri ile ticarete birliğin sağlandı
- IV. Tarıma dayalı ekonominin geliştirilmesinin sağlandı

**uygulamalarından hangisinin gerçekleştirildiği söylenebilir?**

- A) Yalnız III
- B) Yalnız IV
- C) I ve II
- D) II ve III
- E) I, II, III ve IV

## 10. Cumhuriyet Halk Fırkası'nın kuruluşu ile;

- I. çok partili hayata geçişi hızlandırma,
- II. askerlikle siyaseti birbirinden ayırma,
- III. inkılapları yürütecek kurumları oluşturma

gibi amaçlardan hangilerine ulaşılmak istenmiştir?

- A) Yalnız I      B) Yalnız II      C) Yalnız III  
D) I ve III      E) I, II ve III

## 11. NATO'nun kurulması ile ilgili olarak aşağıdakilerden hangisi söylenemez?

- A) ABD ile Avrupa ülkeleri arasındaki dayanışma artmıştır.  
B) Varşova Paketi kurulmuştur.  
C) Doğu Blok'una karşı denge kurulmuştur.  
D) SSCB'nin tehditlerine karşı set oluşturulmuştur.  
E) ABD Monroe Doktrini'ne geri dönmüştür.

12. Türkiye'de bulunan petrol rafinerileri ham petrolün arıtılarak ve çeşitli işlemlerden geçirilerek benzin, dizel yakıtı, sıvılaştırılmış petrol gazı, ve fuel oil gibi kullanışlı ürünlere dönüştürüldüğü endüstriyel işlem tesisleridir.



Haritada numaralandırılarak gösterilen yerlerden hangilerinde bu tesislerden biri bulunur?

- A) I ve II      B) I ve III      C) II ve V  
D) III ve IV      E) IV ve V

13. Su ekosistemlerindeki biyoçeşitliliği suyun durgun veya hareketli olması, suların sıcaklık ve derinliği ile sulardaki ışık ve besin maddeleri etkiler.

Bu ekosistemlerdeki biyoçeşitliliğin fazla olduğu yerlere aşağıdakilerden hangisi örnek gösterilemez?

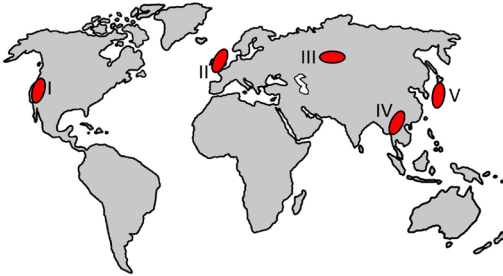
- A) Okyanus diplerine yakın derin yerler  
B) Akarsuların denize döküldüğü ağz kısımları  
C) Denizlerin 100 m derinliğe kadar olan alanları  
D) Su sıcaklığının yüksek olduğu okyanus kıyıları  
E) Sıcak ve soğuk okyanus akıntılarının karşılaşma alanları

14. I. Vergi gelirlerinin artması  
II. Genç nüfus oranının düşmesi  
III. Nüfusun dinamizminin azalması  
IV. İstihdam alanlarının genişlemesi

**Yukarıdakilerden hangileri bir ülkenin nüfus artış hızını azaltmaya yönelik politika uygulamasının ortaya çıkardığı olumsuz sonuçlardandır?**

- A) I ve II                      B) I ve III                      C) II ve III  
D) II ve IV                      E) III ve IV

15. Teknoloji ve iletişim araçlarındaki hızlı gelişme, dünyayı sık kullanılan tabiriyle küresel bir köy hâline getirmiş, uzakları yakın etmiştir. Bilgilere ve olaylara bu denli çabuk ulaşma kültürel aktarımı da hızlandırmıştır. Böylece bazı ülkelere ait gelenekler, sinema sektörüyle hızla tüm dünyaya yayılmış ve farklı kültürlerce benimsenmiştir.



**Haritada numaralandırılarak gösterilen yerlerden hangisi, bu özelliği ile tüm dünyayı daha fazla etkilemiştir?**

- A) I                      B) II                      C) III                      D) IV                      E) V

16. Güneydoğu Anadolu Projesi Bölgesi'nde, sanayi tarıma dayalıdır. Ayrıca bölgede tarıma dayalı sanayi kolları için büyük bir yatırım potansiyeli vardır. Bu potansiyele bağlı olarak projenin hayata geçmesiyle birlikte sanayi ürünlerinin ekim alanının ve üretiminin belirgin şekilde arttığı görülmektedir.

**Proje ile birlikte aşağıdaki tarım ürünlerinden hangisinin ekim alanı ve üretiminde daha fazla artış olmuştur?**

- A) Mercimek                      B) Buğday                      C) Pamuk  
D) Zeytin                      E) Nohut

17. Aşağıda Avrupa Birliği ile ilgili bir açıklama yapılmıştır.

Avrupa Birliği; temeli 1951 yılında Almanya, Belçika, Fransa, Hollanda, İtalya ve Lüksemburg tarafından imzalanan Paris Anlaşması'na dayanmaktadır. Bu anlaşma kapsamında Avrupa Kömür ve Çelik Topluluğu kurularak kömür ve çelik üretimi ile ticaretin geliştirilmesi hedeflenmiştir. 1992'de Hollanda'nın Maastricht kentinde imzalanan Avrupa Birliği Antlaşması'yla örgüt günümüzdeki ismini almıştır. Brüksel merkezli ekonomik ve siyasi bir örgüt olan Avrupa Birliği, 2013 yılında Hırvatistan'ın katılımıyla üye sayısını 28'e çıkarmıştır. Ancak 31 Ocak 2020'de, Birleşik Krallık resmî olarak Avrupa Birliği'nden ayrılmıştır.

**Yalnızca yapılan açıklamadaki bilgiler dikkate alındığında Avrupa Birliği ile ilgili olarak aşağıdakilerden hangisi söylenebilir?**

- A) Kuruluş amacına bağlı kalındığı  
B) Bazı askeri çalışmalara destek verdiği  
C) Üye sayısında artış ve azalışlar olduğu  
D) Tüm çalışmaların bir merkezden yapıldığı  
E) Kurucu üyelerinin veto yetkisinin bulunduğu

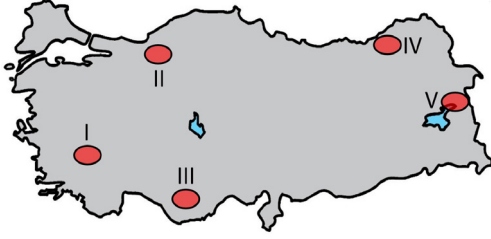


18. Bazı ülkelerin yeterince kalkınmamasında sahip oldukları kaynakların sınırlı olmasının yanı sıra bilim ve teknolojiadaki yetersizlik, ham maddenin dışarıdan temini, iş gücü ve sermayenin azlığı gibi nedenler etkili olmaktadır.

**Aşağıdaki ülkelerden hangisi bu duruma örnek gösterilebilir?**

- A) Moğolistan  
B) İran  
C) Venezuela  
D) Irak  
E) Güney Afrika Cumhuriyeti

19. Aşağıda, haritada beş bölge numaralarla gösterilmiş ve bu bölgelerin üçüne ait turizm özellikleri verilmiştir.



- Doğal bir sembol olan Yedigöller Millî Parkı bölgenin tanınması ve turizmi için önemli bir değerdir.
- Karstik bir oluşum olan Pamukkale travertenleri, bölge turizminin gelişmesinde önemli bir lokomotifdir.
- Bendimahî Çayı üzerindeki Muradiye Şelalesi bölgedeki doğal turizm sembollerine bir örnektir.

**Buna göre, haritada numaralarla gösterilen bölgelerden hangilerine ait turizm özelliği verilmiştir?**

- A) I ve II      B) II ve III      C) II ve V  
D) III ve IV      E) IV ve V

20. Tüm ülkeler, ekonomik büyüme hedeflerini gerçekleştirmek için yoğun olarak doğal kaynak kullanır. Ancak çevrenin, ekonomik gelişmenin kaynağı olduğu kadar sınırlı olduğu da unutulmamalıdır. Bu nedenle ülkeler hedeflerini gerçekleştirirken devamlılık ve gelecek nesillerin refahının sağlanabilmesi için sürdürülebilir kalkınma uygulamalarına öncelik vermelidirler.

**Aşağıdakilerden hangisi bu uygulamalara örnek gösterilemez?**

- A) Orman alanlarının otlak alanlara dönüştürülmesi  
B) Organik tarım yapılan arazilerin artması  
C) Geri dönüşüme verilen önemin artması  
D) Kesilen ağacın yerine yenisinin dikilmesi  
E) Yenilenebilir kaynak kullanımının artması

21. Son 150 yıldır insan etkinlikleri sonucu atmosferde artan sera gazları ve parçacıklar atmosferin sera işlevini kuvvetlendirerek küresel ısınma olarak adlandırılan sıcaklık artışına neden olmuştur.

**Bu artış üzerinde;**

- I. ulaşım,  
II. sanayileşme,  
III. enerji üretimi

**faaliyetlerinden hangileri etkili olmuştur?**

- A) Yalnız I      B) Yalnız II      C) Yalnız III  
D) I ve III      E) I, II ve III

22. Küreselleşen ekonominin sunduğu fırsatlar, Türkiye'nin konumu, rekabet potansiyeli olan ürünlerin varlığı ve Türkiye'nin nüfusu dış ticaret hacmini artırmıştır.

**Aşağıdaki ülkelerden hangisi Türkiye'nin bu ticaret hacminde daha fazla paya sahiptir?**

- A) Almanya      B) Azerbaycan      C) İsrail  
D) İngiltere      E) İran

23. Aristoteles *Magna Moralia* adlı eserinde "Öte yandan 'erdem' de ruhtadır. En azından ruhun yaptıklarıyla ruhun erdemlerinin yaptıklarının aynı olduğunu söyleriz. Ancak her bir durumda erdem, erdemi olduğu şeye ilişkin iyiyi yapar ve diğerlerinin yanında, ruh, kendisi aracılığıyla yaşadığımız şeydir. O halde ruhun erdemleri sayesinde iyi yaşayabiliriz." demiştir.

**Buna göre aşağıdaki yargılardan hangisine ulaşılabilir?**

- A) İyiyi eylemek, iyi olana yönelmekle mümkündür.  
B) Erdem mutluluk için sadece bir araçtır.  
C) En üstün iyi insana haz veren şeydir.  
D) Erdem her insana eşit olarak verilmiştir.  
E) Erdem yaşantı yoluyla kazanılır.

24. Ahmet Cevizci *Ortaçağ Felsefesi* adlı eserinde "Evren, İslam felsefesine göre, Tanrı'nın eseridir, yaratılmıştır. Evrenin bir başlangıcı vardır ve o er geç yok olacaktır. Tanrı'dan türemiş olan evren O'nun sonsuz bir "zuhur" alanıdır. Evrenin yetkinliği Tanrı'nın yüceliğini, yaratıcı gücünün enginliğini gösterir." demiştir. Ona göre, İslam felsefesinde iki ayrı grup filozof vardır ve bunlardan bir gruba göre eylemin belirleyicisi Tanrı olduğundan insan yaptıklarından sorumlu değildir; diğer gruba göre ise insan tüm davranış ve eylemlerinde bağımsızdır.

**Bu parça İslam felsefesinin;**

- I. Yaratıcının varlığını kanıtlama problemi  
II. İrade özgürlüğü problemi  
III. Toplumsal yaşama yönelik problemler

**problemlerinden hangileriyle ilgilidir?**

- A) Yalnız I  
B) Yalnız II  
C) Yalnız III  
D) I ve II  
E) II ve III

25. Düşünce tarihinde bilgi sandığının nasıl dolduğu, düşünürlerin bilme isteği ve hakikat arayışlarında, olanı olduğu ya da verildiği gibi kabul etmeden, yaşama karşı özgün ve rölatif bakış açısıyla oluşturdukları düşünsel ürünlerin, yüzyıllardır niteliksel olarak birikmesiyle açıklanabilir. Böylece sorular ve cevaplarla bilgi sandığı her geçen gün hacmini artırmıştır.

**Bu parçada felsefenin hangi özelliğine değnilmemiştir?**

- A) Subjektif olma  
B) Merak etme  
C) Refleksif olma  
D) Yığılımlı ilerleme  
E) Eleştirel olma

26. Psikoloji biliminin pozitif bir bilim olma yolunda izlediği süreç, 17. yüzyıl düşünürlerinden John Locke'ın, insan zihninin başlangıçta boş bir levhaya benzediği, daha sonra deneyimler yoluyla bilgilerle dolduğu fikriyle hız kazanmıştır. Söz konusu görüşün temelini oluşturan "zihin-beden" karşıtlığının ilk izleri ise bilgi felsefesinin temel sorularından biri olan, "Bilginin kaynağı nedir?" sorusunun içinde saklıdır. Yani bizler insan davranışlarını tanımak, anlamak ve kontrol etmek konusundaki amaçları; Sokrates, Platon, Aristoteles ve Descartes gibi dehaların ayak izlerini takip ederek edindik.

**Bu parçada vurgulanmak istenen düşünce aşağıdakilerden hangisidir?**

- A) Psikolojinin J. Locke sayesinde pozitif bilim haline geldiği  
 B) Psikoloji biliminin tarihsel bir süreç takip ettiği  
 C) Psikoloji biliminin filozofların çalışmalarının öncülüğünde geliştiği  
 D) Psikolojinin 17. yüzyılda pozitif bir bilim olma yolunda ilerlediği  
 E) Psikoloji biliminin beden-zihin karşıtlığını ele aldığı

27. Çevresel uyarıcıların şiddetinin çok yüksek olduğu bir ortamda okuduğu kitabın içine girebilen bir kişinin bu davranışı ne ile açıklanabilir? Ya da tam tersini düşünelim. Geleceği ile ilgili çok önemli bir seminerde sunum yapması gereken bir kişi sunumuna değil de ortamdaki diğer uyarıcılara neden yönelir? Burada önemli olan açık ve canlı bir zihnin sadece yoğunlaşması gereken duruma yönelmesi diğer her tür nesne ve uyarıcının geri planda kalmasıdır. Kişi artık bu noktada iradesel bir çaba ve farkındalık sergilemektedir.

**Parçada anlatılan durum aşağıdaki kavramlardan hangisiyle açıklanabilir?**

- A) Seçici dikkat  
 B) Bilinçlilik türleri  
 C) Sosyal etki  
 D) Yükleme  
 E) Algı yanılgıları

28. Her gün evden çıkarken acaba ocağı kapattım mı ya da tost makinesinin fişini çektim mi diye düşünmek özellikle unutkan yapıya sahip kişilerde bir dereceye kadar olağan kabul edilebilir. Fakat ocağı kapatırken beynine kapattım sinyalini vermesine rağmen başkasına zarar verme duygusu ya da hata yapmaktan korkma gibi takıntıların da etkisiyle birey yarı yoldan dönüp ocağı tekrar tekrar kontrol ediyorsa bu normal bir davranış olarak kabul edilmez. Bu durum kişilik bozukluğuna işaret eder.

**Bu parçada anlatılan kişilik bozukluğu aşağıdakilerden hangisidir?**

- A) Paranoid  
 B) Şizoid  
 C) Antisosyal  
 D) Obsesif-kompulsif  
 E) Narsistik

29. Durkheim'e göre değer yaratmak, üretmek toplumların önemli bir özelliğidir. Sosyal değerlerin oluşması; sosyal normların, kontrol mekanizmalarının ve sonuçta kapsamlı bir sosyal düzenin meydana getirilmesi anlamı taşır. Toplumun rastgele bir kalabalıktan, çokluktan ayıran temel unsur olan sosyal değerler, bir toplumda ulaşılmak istenen ideal ölçütleri gösterir. Sosyal değerler, ekonomi, dil, ahlak, hukuk, politika, din gibi birçok alanla ilişkilidir.

**Buna göre aşağıdakilerden hangisi sosyal değerlerin özellikleri arasında yer almaz?**

- A) Toplumun beklentileri ile ilişkilidir.  
 B) Toplumsal kurumlardan bağımsızdır.  
 C) Tek tek bireylerden ayrı düşünülemez.  
 D) Toplumsal yapının düzenleyici öğelerindedir.  
 E) Toplumun birliğini güçlendirir.

30. Bir süreç olarak ifade edebileceğimiz eğitim, bireyde istedik yönde davranış değişikliği sağlamayı amaçlar. Bu bağlamda kasıtlı davranış değişikliği sağlamak isteyen eğitimin farklı alanlara ilişkin işlevleri olduğunu söyleyebiliriz. Örneğin, bireyin sosyalleşmesini sağlaması toplumsal işlevi; nitelikli insan gücü yetiştirme ekonomik işlevi; anayasaya saygılı yurttaşlar yetiştirmek siyasal işlevi; bireyin yeteneklerini geliştirmesine yardımcı olması bireysel işlevi; bireyin sosyal çevre edinmesine olanak tanınması gizil işlevidir.

**Buna göre aşağıdakilerden hangisi eğitimin işlevlerine ilişkin doğru bir yargıdır?**

- A) Kültürün geliştirilmesi ve aktarılmasının sağlanması bireysel işlevidir.
- B) Bireye meslek kazandırma gizil işlevidir.
- C) Üretim ve tüketimde bilinçli olunmasına yardımcı toplumsal işlevidir.
- D) Demokrasi bilincine sahip bireyler yetiştirme siyasal işlevidir.
- E) Toplumsal düzenin sağlanmasına yardımcı olması ekonomik işlevidir.
31. Kültür kavramı genel olarak toplumsal yapı içinde, bireylerin ortak değerler çerçevesinde, ortak bir yaşam alanında, uyum içinde yaşamasına olanak sağlayan davranış kalıpları, inançlar, gelenekler ve bunlara bağlı olarak ortaya çıkmış araç ve ürünleri ifade eder. Geçmiş toplumlara ait bilgilere ulaşmaya çalışan antropoloji, kültürün daha çok maddi yönünü anlayabilme ve açığa çıkarabilme yeteneğine sahiptir. Oysa tarih ve sosyoloji gibi bilimler kültürün manevi öğelerini de anlamada daha yol gösterici olurlar.

**Bu parçadan aşağıdaki yargılardan hangisine ulaşamaz?**

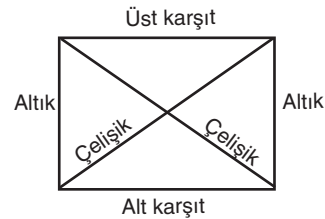
- A) Kültürel öğeler birbiriyle etkileşim halindedir.
- B) Maddi kültür öğeleri tarihin ilgi alanının dışında kalır.
- C) Bir toplumu tanıyabilmek için kültürünü anlamak önemlidir.
- D) Sosyolojik araştırmalar farklı bilimlerle işbirliği içinde yapılır.
- E) Kültür bireyin sosyalleşmesi ve topluma uyumunda belirleyicidir.

32. Beş tümele göre tanımlar özle ilgili ve ilinti ile ilgili tanımlar olarak ikiye ayrılır. Özle ilgili tanımlar, bir terimin yakın cinsi ve ayırımı ile yapılan tanımlardır. İlinti ile ilgili tanımlar ise, bir terimin ilintiye ait olan onun niteliklerini bildiren tanımlardır.

**Buna göre aşağıdakilerden hangisi özle ilgili yapılmış tanıma örnek olarak verilebilir?**

- A) Bitkiler, solunum yapan canlılardır.
- B) Sincap, hareket eden bir varlıktır.
- C) İnsan, düşünen canlıdır.
- D) Kuş, kanatlı hayvandır.
- E) Köpek, sadık bir dosttur.

33. Tümel olumlu (A) Tümel olumsuz (E)



- Tikel olumlu (I) Tikel olumsuz (O)

Karşı olum karesine göre "Bütün sanatçılar yaratıcıdır." önermesinin altığının çelişigi olan önerme aşağıdakilerden hangisidir?

- A) Bazı sanatçılar yaratıcıdır.
- B) Bazı sanatçılar yaratıcı değildir.
- C) Hiçbir sanatçı yaratıcı değildir.
- D) Bütün sanatçılar yaratıcıdır.
- E) Kimi sanatçılar yaratıcıdır.

34.  $(q \wedge r) \Rightarrow p$  şeklinde sembolleştirilen önerme aşağıdakilerden hangisidir?
- A) Birey kendi bedeni ve zihni üzerinde mutlak egemendir.
- B) Çok sayıda kişi işbirliği ve yardımlaşma yaparsa toplumlar ayakta kalır.
- C) Bireylerin ve toplumların hayatlarında dil önemli bir faktördür.
- D) Öğretim pasif değil aktif ve yapıcı bir süreçtir.
- E) Birbirimize güvenirse başka hiçbir şeye güvenmemize gerek kalmaz.

35 - 40. soruları Din Kültürü ve Ahlak Bilgisi dersini yasal olarak almak zorunda olanlar ve İmam Hatip Okulları öğrencileri/mezunları cevaplayacaktır.

35. “Eğer Rabbin dileseydi, yeryüzündekilerin hepsi iman ederdi. O halde sen inanmaları için insanları zorlayacak mısın?” (Yunus suresi, 99. ayet.)

**Bu ayetten hareketle;**

- I. Özgür irade ile gerçekleşen imanın anlamı vardır.
- II. Dinde zorlama yoktur.
- III. Kalpte hür iradeye dayalı bir tasdik olmalıdır.

**yargılarından hangilerine ulaşabiliriz?**

- A) Yalnız I                      B) I ve II                      C) I ve III
- D) II ve III                      E) I, II ve III

36. I. “Hani Rabbin meleklere, ‘Ben yeryüzünde bir halife yaratacağım.’ demişti...” (Bakara suresi, 30. ayet)
- II. “Biz gökleri, yeri ve bunlar arasındakileri oyun olsun diye yaratmadık.” (Enbiya suresi, 16. ayet)
- III. “Gerçekten insan, pek hırslı (ve sabırsız) yaratılmıştır. Kendisine fenalık dokunduğunda sızlanır, feryat eder. Bir iyiliğe konunca da iyice cimrileşir, onu başkalarıyla paylaşmak istemez.” (Meariç suresi, 19-21. ayetler)
- IV. “Kim dine ve dünyaya yararlı bir iş yaparsa kendi iyiliği için yapmış olur; kim de kötülük işlerse kendi aleyhine işlemiş olur. (Fussilet suresi, 46. ayet)
- V. “Biz insanı en güzel biçimde yarattık.” (Tin suresi, 4. ayet)

**Bu ayetlerden aşağıdaki yargılardan hangisi doğrudan çıkartılamaz?**

- A) Birinci ayete göre Allah’ın emir ve yasaklarını yeryüzünde hayata geçirecek olan insandır.
- B) İkinci ayete göre insanın yaratılışının bir anlamı vardır.
- C) Üçüncü ayete göre insan iki yönlü bir yapıya sahiptir.
- D) Dördüncü ayete göre insan özgür ve sorumlu bir varlıktır.
- E) Beşinci ayete göre insan yaratılmış olanların en şerefliisidir.

37. “Biz, kıyamet günü için adalet terazileri kurarız. Artık kimseye, hiçbir şekilde haksızlık edilmez. (Yapılan iş,) bir hardal tanesi kadar dahi olsa, onu getiririz. Hesap gören olarak biz yeteriz.” (Enbiyâ suresi, 47. ayet)

**Bu ayet aşağıdaki kavramlardan hangisi ile ilgili değildir?**

- A) Mizan  
B) Amel defteri  
C) Berzah  
D) Mahşer  
E) Hesap günü

38. Kur’an’da kavimlerle ilgili bilgilere yer verilmesi ve bunları araştırmamız istenilmesi tarih bilincinin gelişmesine sebep olmuştur. Bunun etkisiyle tarih alanında da çalışmalar yapılmıştır.

**Aşağıdakilerden hangisi bu alanda çalışma yapan ilim adamlarından değildir?**

- A) Cahız  
B) İbni İshak  
C) İbni Haldun  
D) Taberi  
E) Ahmet Cevdet Paşa

### 39. İslam inanç esasları;

- Açıktır ve fitrata uygundur; bu sebeple selim akıl sayesinde kolay anlaşılır.
- Baskı ve zorlama olmaksızın özgür iradeye dayalı gerçekleşir, dayatılmaz.
- Anlamak ve kabul etmek için kimsenin aracılığına ihtiyaç yoktur.
- İlahi adalet gereği dünyada yapılanların karşılığı ahirette görülecektir.

**Aşağıdaki ayetler bu ilkelerle eşleştirildiğinde hangisi dışarıda kalır?**

- A) “Kullarım, sana beni sorarlarsa bilsinler ki ben, muhakkak onlara pek yakınım. Beni çağıran, bana dua eden kişiye çağırdığı, dua ettiği anda icabet ederim...” (Bakara suresi, 186. ayet.)
- B) “Kitap’ı okuyup durduğunuz halde kendinizi unuttur da başkalarına mı iyilikle emredersiniz? Düşünmez misiniz?” (Bakara suresi, 44. ayet.)
- C) “Eğer Rabbin dileseydi, yeryüzündekilerin hepsi iman ederdi. O halde sen inanmaları için insanları zorlayacak mısın?” (Yunus suresi, 99. ayet.)
- D) “Kim zerre kadar bir iyilik yapmışsa onu görür. Kim de zerre kadar kötülük yapmışsa onu görür.” (Zilzal suresi, 7-8. ayetler.)
- E) “Kime dilerse hikmeti ona verir; şüphesiz kendisine hikmet verilene büyük bir hayır da verilmiştir. Temiz akıl sahiplerinden başkası öğüt alıp düşünmez.” (Bakara suresi, 269. ayet.)

40. · Böbrek taşlarını ilaçla parçalamış ve ameliyatla çıkarmıştır.
- 19. yüzyılın başına kadar tıp dünyasında otorite kabul edilmiştir.
- Tıp tarihinin önemli keşiflerinden biri olan kan dolaşımını bulmuştur.
- "Maddetu'l-Hayat" adlı eserinde mikroptan bahsetmiştir.

**Yukarıda hangi İslam âlimi ile ilgili bir bilgiye yer verilmemiştir?**

- A) İbni Sina  
B) İbni Nefis  
C) Zekeriya er-Razi  
D) Akşemseddin  
E) Farabi

**41 - 46. soruları Din Kültürü ve Ahlak Bilgisi dersini yasal olarak almak zorunda olmayan veya farklı müfredat ile alanlar cevaplayacaktır.**

41. Platon, *Phaidon*'da sürekli olarak ölümün, ruhun bedenden kurtuluşu ve bağımsızlığına kavuşması olduğunu kanıtlamaya çalışır. Ruh, bilimi elde etmede duylardan hiçbir yardım almaz; tersine kendi içine kapanıp bedene ilişkisini ne kadar keserse gerçeği o kadar iyi kavrar. Ayrıca bilimin gerçek konusu olan yüksek ve değerli şeyler, örneğin iyilik, güzellik, doğruluk, sağlık, adalet, tek kelime ile şeylerin özü, gerçek, duylarla algılanan şeyler değildirler. Onlar sadece ve sadece aklın, düşünmenin konusudurlar. Bir kimse "kulaklarından, gözlerinden, tek kelime ile ruhu bulandırmaktan başka bir işe yaramayan ve ruhla olan her ilişkide onun gerçek bilgiyi, bilgeliği kazanmasına engel olan" bedenden ne kadar sıyrılırsa, duylarının yerine ne kadar düşünmeyi geçirirse, gerçekten incelediği konu hakkında o kadar kesin bir bilgi elde eder.

**A. Arslan'ın *İlkçağ Felsefe Tarihi* adlı eserinden alınan bu parçadan aşağıdaki yargılardan hangisine ulaşılabilir?**

- A) Duyular ve beden reel bilgi için engel teşkil eder.  
B) Hakiki ve bilimsel anlamda mutlak bir bilgi edinmek mümkün değildir.  
C) Duyu olmadan akıl boş, akıl olmadan duyu ködür.  
D) Ruh, bağımsızlığını ussal alanın dışında kazanır.  
E) Gerçek bilgi değerini pratik yaşamın içinde edinir.

42. Yaşam bir akıştır. Akıl ve mantık bu akışı kavrayabilecek esneklikte değildir. Akışı kavrama gücü, zekâ ile içgüdünün birleşimiyle ortaya çıkan bir yetiyi gerektirir. Bu yeti bizde doğuştan bulunmaktadır ve mutlak bilginin kaynağıdır.

**Bu parçadaki görüş aşağıdakilerden hangisine uygundur?**

- A) Comte'un pozitivizmine  
B) Husserl'in fenomenolojisine  
C) Bergson'un entüsyonizmine  
D) Wittgenstein'in analitik felsefesine  
E) Descartes'in rasyonalizmine

43. Bir davranışın oluşabilmesi için organizmayı içten ya da dıştan harekete geçirecek bir etkiye ihtiyaç vardır. Aynı zamanda bu etkinin organizma tarafından fark edilmesi, duyu organlarını ve sınırları etkilemesi gerekir. Örneğin dışarıdan gelen sesin kulak tarafından alınması gibi. Burada organizmanın bu etkiyi fark etmeye başladığı nokta da önemlidir. İnsanlar işitme frekansı 20'den az olan titreşimlerle frekansı 20.000'den fazla olan titreşimleri duyamaz.

**Bu parçada aşağıdaki kavramlardan hangisine değinilmemiştir?**

- A) Uyarıcı
- B) Duyum
- C) Uyarım
- D) Algı
- E) Duyusal eşik

44. Toplumsal yapıyı oluşturan ögeler birbiri ile etkileşim halindedir. Toplumsal yapı maddi ve manevi öğeleri içinde barındırır. Maddi yapı toplumun üzerinde yaşadığı bölgenin coğrafi konum ve özellikleri, somut öğeleriyle ilgiliyken; manevi yapı toplumsal ilişkileri belirleyen ve düzenleyen kültürel özelliklerle, değerlerle, soyut öğelerle ilgilidir.

**Buna göre aşağıdakilerden hangisi maddi yapıda meydana gelen bir değişikliğin manevi yapıyı etkilediğine örnek olamaz?**

- A) Teknolojik gelişmenin görüntülü konuşma imkânı vermesi sonucu samimiyete dayalı birincil ilişkilerin daha zor kurulması
- B) Ekonomide yaşanan olumsuz gelişmelerin toplumsal yardımlaşmanın önemini artırması
- C) Yeraltı kaynaklarının sebep olduğu maddi refah sayesinde sanatın gelişme göstermesi
- D) Yaşanan kuraklık sebebiyle ruh sağlığı olumsuz etkilenen insanların birbirlerine karşı hoşgörüsünü kaybetmesi
- E) Toplumsal değerlerin önemini yitirmesi sonucu toplumda çözüme yaşanması

45. Yaşam içinde oluşturulan maddi ve manevi birikimlerin sınırları aşılıp tüm dünyaya yayılması olarak da tanımlanabilir. Bu durum çoğu bilim insanı tarafından ekonomik bir olgu olarak tanımlansa da aslında siyasal, kültürel, ekonomik, toplumsal etkenlerin bir araya gelmesi ve kitle iletişim araçlarının gelişmesi sonucunda oluştuğunu söylemek daha doğru olacaktır. Bugün dünyanın herhangi bir şehrinde yapılan bir konseri ya da spor olimpiyatlarını düşünün. Kitle iletişim araçları sayesinde dünyanın her yerinde milyonlarca insan tarafından anında seyredilebiliyor.

**Bu parçada açıklanan kavram aşağıdakilerden hangisidir?**

- A) Modernleşme
- B) Küreselleşme
- C) Demokratikleşme
- D) Toplumsal gelişme
- E) Kültürel yozlaşma

46. Aynı niteliğin, aynı zamanda, aynı özneye, aynı bakımdan hem ait olması, hem de olmaması imkânsızdır. Buna diyalektik türden itirazları önlemek üzere bütün diğer belirlemeleri de eklememiz gerekir. İşte bu ilke, bütün ilkeler içinde kesin olanıdır. Çünkü o, yukarıda verdiğimiz tanıma uyar. Gerçekten bazıların Herakleitos'un ileri sürdüğü görüşlere inandıklarının gibi, aynı şeyin hem var olduğu, hem de olmadığını düşünmek mümkün değildir.

**Aristoteles'in *Metafizik* adlı eserinden alınan bu parçada;**

- I. Özdeşlik
- II. Çelişmezlik
- III. Üçüncü halin imkânsızlığı
- IV. Yeter - sebep

**akıl ilkelerinden hangileri açıklanmıştır?**

- A) Yalnız I
- B) Yalnız II
- C) Yalnız III
- D) Yalnız IV
- E) III ve IV





# Kendini Deęerlendir



1

*Kare kodu okut.*

2

*Sınavını seę*

3

*Cevaplarını sisteme gir.*

4

*Eksik olduęun konuları analiz et.*

5

*Bu sınava katılanlar arasındaki sıralamanı gör.*



T.C. MİLLÎ EĞİTİM  
BAKANLIĞI

3 ADIM

DENEME SINAVLARI

2. ADIM

AYT  
sözel



3. DENEME

ADI VE SOYADI

OKUL ADI

ADAYIN İMZASI

**ADAYIN DİKKATİNE!**

1. Bu sınavda AYT soru dağılımları dikkate alınmıştır.
2. Deneme tam kapsam olup YKS konularının tamamını kapsamaktadır.
3. Bu sınav Türk Dili ve Edebiyatı - Sosyal Bilimler 1 Testi (TDE 24 soru, Tarih 10 soru, Coğrafya 6 soru) 40 soru, Sosyal Bilimler 2 Testi (Tarih 11 soru, Coğrafya 11 soru, Felsefe Grubu 12 soru, DKAB 6 soru) 40 soru olmak üzere toplamda 80 soru içermektedir.

Bu testlerin her hakkı saklıdır. Hangi amaçla olursa olsun, testlerin tamamının veya bir kısmının Millî Eğitim Bakanlığının yazılı izni olmadan kopya edilmesi, fotoğrafının çekilmesi, herhangi bir yolla çoğaltılması, yayımlanması ya da kullanılması yasaktır. Bu yasağa uymayanlar gerekli cezai sorumluluğu ve testlerin hazırlanmasındaki mali külfeti peşinen kabullenmiş sayılır.

### **DİKKAT!**

Din Kültürü ve Ahlak Bilgisi dersini yasal olarak almak zorunda olan adaylar ve İmam Hatip Okulları öğrencileri/mezunları, Sosyal Bilimler-2 Testi'nin ilk 40 sorusunu cevaplamakla yükümlüdür. Bu adaylar, bu testin 41-46. sorularını cevaplamayacaklardır. Bu adaylar, bu testin 41-46. sorularında işaretleme yapmış olsalar bile bu cevapları değerlendirmeye alınmayacaktır.

Din Kültürü ve Ahlak Bilgisi dersini yasal olarak almak zorunda olmayan veya farklı müfredat ile alan adaylar, Sosyal Bilimler-2 Testi'nin 35-40. sorularını cevaplamadan 41-46. sorularını cevaplayacaklardır. Bu adaylar, bu testin 35-40. sorularında işaretleme yapmış olsalar bile bu cevapları değerlendirmeye alınmayacaktır.

### **AÇIKLAMA**

1. Bu kitapçıkta **86 soru** bulunmaktadır.  
Türk Dili ve Edebiyatı-Sosyal Bilimler-1 Testi: 40 soru  
Sosyal Bilimler-2 Testi: 46 soru
2. **Bu sınavda her testteki doğru cevaplarınızın sayısından yanlış cevaplarınızın sayısının dörtte biri çıkarılacak ve kalan sayı o bölüme ilgili ham puanınız olacaktır.**
3. Kitapçığın sayfalarındaki boş yerleri müsvedde için kullanabilirsiniz.
4. Cevaplamaya istediğiniz sorudan başlayabilirsiniz. Bir soru ile ilgili cevabınızı cevap kâğıdında o soru için ayrılmış olan yere işaretlemeyi unutmayınız.
5. Bu kitapçıkta yer alan her sorunun sadece bir doğru cevabı vardır. Cevap kâğıdında bir soru için birden çok cevap yeri işaretlenmişse o soru yanlış cevaplanmış sayılacaktır. İşaretlediğiniz bir cevabı değiştirmek istediğinizde silme işlemini çok iyi yapmanız gerektiğini unutmayınız.

1. Bu testte sırasıyla, Türk Dili ve Edebiyatı (1-24), Tarih-1 (25-34), Coğrafya-1 (35-40) alanlarına ait toplam 40 soru vardır.
2. Cevaplarınızı cevap kâğıdının Türk Dili ve Edebiyatı-Sosyal Bilimler-1 Testi için ayrılan kısmına işaretleyiniz.

1. Bilgi çoğaldıkça bütünü tamamlayan parçalar belir-meye başlar. Yeni ayrıntılar, hayatın keşfedilmemiş yanları romancının yaratım sürecine yeni kılcal da-marlar olarak eklenir.

**Bu parçada altı çizili sözle asıl anlatılmak istenen aşağıdakilerden hangisidir?**

- A) Romancılığa yeni bir ses getirmek  
B) Roman yazarına farklı bakış açısı kazandırmak  
C) Romana yeni alanlar yaratmak  
D) Roman yazarının ufkunu genişletmek  
E) Roman yazarına can alıcı noktaları göstermek

2. (I) Müzelerin genellikle şehir merkezinde, insanların yoğun olarak bulunduğu yerlerde olmasını bekleriz oysa Japonya'daki Miho Müzesi, bir dağın tepesine kurulmuş. (II) Muhteşem bir manzaraya sahip müzenin Kyoto şehir merkezinin 30 km kadar dışında ve dağ tepesinde olması, ziyaretçileri zorluyor. (III) Miho Müzesinin koleksiyonu, müzenin kurucusunun eskiden Japon çay törenlerinde kullanılan eşyaları biriktirmesiyle başlıyor. (IV) Asya ve Batı kültürlerine ait eserleri içeren müze koleksiyonu, iki binden fazla parçadan oluşuyor. (V) Müze, mayıs boyunca Japon kültüründe çok önemli bir yere sahip "bunraku" olarak adlandırılan bir kukla sergisine de yer verecek.

**Bu parçada numaralanmış cümlelerde Miho Müzesi ile ilgili aşağıdakilerden hangisi söylenemez?**

- A) I. cümlede bir dağ tepesi gibi sıra dışı bir yerde kurulduğundan söz edilmiştir.  
B) II. cümlede konumunun doğurduğu hem olumlu hem de olumsuz durumdan bahsedilmiştir.  
C) III. cümlede müzedeki koleksiyonun hangi amaçla oluşturulduğu ortaya konmuştur.  
D) IV. cümlede farklı kültürlerden oluşan koleksiyonla ilgili sayısal bir veri aktarılmıştır.  
E) V. cümlede dönemsel olarak başka sergiye de ev sahipliği yaptığına değinilmiştir.

3. J. R. R. Tolkien'in 1954 yılında yayımladığı *Yüzüklerin Efendisi* epik fantezi türünde yazılan en iyi romanlardan biridir. Roman, Orta Dünya olarak anılan fantezi bir dünyanın hâkimiyetini elinde tutmaya çalışan Lord Sauron'un yüzüğünün elinden alınması ve yüzüğün iyiler tarafından Lord Sauron'dan kaçırılma macerasını anlatır. Lord Sauron, bu yüzük aracılığıyla tüm kötü güçleri bünyesinde barındırıp Orta Dünya'nın kalıcı hükümdarı olma çabası içindedir. Hobbit Frodo, Samwise, Pippin, Merry; Elf Legolas, Cüce Gimli, büyücü Gandalf, insan ırkından Boromir ve Aragorn'dan oluşan iyi düzeni sağlamaya ve korumaya çabalayan ekip; yüzük Sauron'un eline geçmeden türlü türlü macera geçirerek yüzüğü yok etmeye uğraşırlar. Edebî bağlamda kurgu dünyası, gerçekliğin değişime uğrayarak edebî eserin içine girmesidir. Böylece edebî kurguda hayat ile sanatın gerçekliği çakışır. Ortaya çıkan bu yeni birleşim gerçek dünyanın daha iyi algılanmasına fırsat tanır. *Yüzüklerin Efendisi* romanına bakıldığında da bu kurgusal dünyadaki toplumların gerçek dünyadaki toplumlarla yakın ilişkiler kurdukları görülür. Romanda yer alan gerçeküstü kişiler gerçek dünyadaki kişilerin farklı temsillerini oluşturur. Bu doğrultuda romandaki olayları dünyada gerçekleşen olayların alegorik yansımaları şeklinde okumak doğru bir tespit olacaktır.

**Bu parçaya göre aşağıdakilerden hangisi söylenemez?**

- A) *Yüzüklerin Efendisi*, bir yüzük aracılığıyla fantezi bir dünyada hâkimiyet kurma mücadelesini anlatır.  
B) *Yüzüklerin Efendisi'* ndeki kurmaca dünya gerçek dünyanın sembolik bir yansımaları olarak değerlendirilir.  
C) *Yüzüklerin Efendisi'* nde yer alan her bir karakter günümüzdeki insanların farklı birer temsilcisi niteliğindedir.  
D) J. R. R. Tolkien'den önce epik fantezi türünde yazılmış olan oldukça başarılı romanlar da vardır.  
E) Fantastik eserler gerçekliği dönüşüme uğratarak baştan aşağı farklı bir dünya yaratıp gerçekliğin farkındalığını artırır.

4. Garip şiirini oluşturan üç şairin, Garip düzleminde değerlendirildiklerinde eşit ağırlık taşımadıkları kanısındayım. Hem I. Yeni'nin hem *Garip* kitabının içinden çekip çıkarılamayacak tek şiirin Orhan Veli şiiri olduğu düşüncesindeyim. Buradan Oktay Rifat ve Melih Cevdet'in akım bağlamında "majör" duruşu temsil etmediği düşüncesine varıyorum.

**Bu parçada anlatılmak istenen düşünce aşağıdakilerden hangisidir?**

- A) Garip şiir anlayışını gerçek anlamda temsil eden Orhan Veli'dir.
- B) Orhan Veli'nin tek şiiri bu anlayışı etkilemiştir.
- C) Garip anlayışında bütün şairler aynı etki gücüne sahiptir.
- D) Oktay Rifat diğer şairlerin gölgesinde kalmıştır.
- E) Melih Cevdet öncü bir duruş sergilemiştir.
5. Dil bize çok "doğal" görünür oysa insanları doğadan ayıran ve kültür dünyasına koyan dildir. Doğadan bağımsızlığımızı dile borçluyuz. Ama buna rağmen dil doğaldır. Ana dilimizi çok doğal bir şekilde öğreniriz. "Tek dil" kaybettikten sonra yüzyıllar boyunca, bu doğallık kaybolmadı. İnsanlar normalde bir dil öğreniyordu, bir de başka diller konuşan gruplarla hayatı paylaşanlar başka bir dilden (veya dillerden) belki bazı kelime ve ibareler öğreniyorlardı. Farklı dil gruplarının birlikte yaşama biçimlerine pek çok örnek vardır ama gerçek anlamda çok dilli (poliglot) olmak eğitimli kesim için geçerliydi. Farklılığı yaratan faktör normalde dil değildi, tersine dil eğitimden büyük ölçüde etkileniyordu.

**Bu parçadan aşağıdakilerin hangisine ulaşılabılır?**

- A) Kültürlerin etkileşimi, toplumların dillerindeki ana yapıyı bozmaktadır.
- B) Kitlelerin bir dil etrafında birleşmesi, toplumsal birlikteliğin ilk şartıdır.
- C) Dillerin farklılığı, bireylerin birbirinden uzaklaşmalarına neden olmaktadır.
- D) Eğitim, bireylerin birden fazla dil kullanımında önemli bir faktördür.
- E) Dilin yapısında doğadan gelen unsurların bir parçasını bulmak mümkündür.

6. Portekiz'deki canastro ve İspanya'daki cabazos adlı yapıları görenler, Doğu Karadeniz'deki yöre halkı tarafından serender adı verilen yapıları hatırlayacaktır. Canastrolar da hububatların korunması ve hava yardımıyla kurutulması amacıyla geliştirilmiştir. Neolitik Çağ'da yerleşmiş ilkel topluluklardan beri bulunan bu yapılar günümüzde hâlâ deniz seviyesinden 500 m ya da daha yukarıdaki alanlarda kullanılmaktadır. Her evin yakınında bu yapılara rastlanabilmesinin sebebi ise herhangi bir çiftçinin elindeki imkânlarla bu yapıyı oluşturabilmesidir. Yüksekliği 2 metreye kadar olan bu yapılar kemirgenleri engelleyebilmek için 40-50 cm yüksekliğinde zemine çakılan ağaç direkler üzerine oturtulmaktadır. Tabanı ve gövdesi ince dallarla sepet örme biçiminde yapılmaktadır ve yapımında çivi kullanılmamaktadır. Çatısı ise kalın ahşaplarla veya çinko ile kapatılmaktadır.

**Bu parçadan hareketle canastro ile ilgili aşağıdakilerden hangisi söylenemez?**

- A) Dünyanın farklı yerlerinde aynı amaçlarla benzeri yapıların inşa edildiği
- B) Yöre insanları tarafından kolayca yapılabilmesinin yaygın olmasını sağladığı
- C) Çeşitli canlıları ürünlerden uzak tutmak ve ürünleri korumak amacıyla üretildiği
- D) Günümüze kadar ulaşan bu yapıların çok uzun zamandan beri kullanıldığı
- E) Ağaçtan yapılmış bir yükselti üzerine farklı malzemeler kullanılarak yapıldığı
7. Kalktım sabahı dinledim  
Hanların önünde geceleyen  
Koca koca kamyonlar kalktı  
İşçi kahvelerinde çaylar demli  
İstasyonlarda salepler dumanlı

**Bu şiirden yazıldığı dönemin zihniyetiyle ilgili aşağıdakilerden hangisine ulaşılamaz?**

- A) Ölçü ve kafiye dikkate alınmamıştır.
- B) Yaşamdaki belli bir kesit anlatılmıştır.
- C) Günümüz Türkçesiyle yazılmıştır.
- D) Günlük yaşamla ilgili gözlemlere yer verilmiştir.
- E) İmgesel anlatı ön plandadır.

8. Karac'ođlan der ki kondum göçölmez  
Acıdır ecel şerbeti içilmez  
Üç derdim var birbirinden seçilmez  
Bir ayrılık, bir yoksulluk, bir ölüm

**Bu dörtlükle ilgili aşağıdakilerin hangisi söylenemez?**

- A) 11'li hece ölçüsünün kullanıldığı  
B) Nazım şeklinin koşma olduğu  
C) Düz kafiye düzeninde olduğu  
D) Teşhis sanatının kullanıldığı  
E) Tapşımaya yer verildiği

9. Konuştun güneşi hatırlıyordum  
Gariptin yepyeni bir sesin vardı  
Bu ses öyle benim öyle yabancı  
Bu ses saçlarımı ıslatan sessiz bir kardı

**Bu dizelerdeki söz sanatı aşağıdakilerden hangisidir?**

- A) Teşbih                      B) Teşhis                      C) İstiare  
D) Tevriye                      E) Tecahüliarif

10. Uygur ülkesinin bulunduğu Selenga ve Tolga ırmaklarının birleşmekte olduğu yerde Hulin Dağı bulunur. Bu dağ üzerinde iki tane ağaç bulunur. Bu ağaçlardan birisi kayın ağacıdır ve bir gece kayın ağacının üzerinde bir ışık belirir. Bu ışık hep kayın ağacında kalır ve ağacın gövdesi büyümeye başlar. Günler geçerken bu ağacın gövdesi ansızın yanılır ve içinden beş tane küçük çadır ve odacıklar ortaya çıkar. Bu odalarda ise ağızlarında emzik olan çocuklar vardır. Uygur halkı bu çocukları görünce çok şaşırır ve onların kutsal olduğunu düşünür. Bu çocukların isimleri Sungur Tekin, Türek Tekin, Kutur Tigin, Us Tekin ve Buğu Tekin'dir. Uygur halkı bu çocukların Tanrı'nın izniyle gönderildiğini düşünürler ve aralarında en büyük olan Buğu Tekin'i kendilerine hakan seçerler.

**Göç Destanı'ndan alınan bu parçayla ilgili aşağıdakilerden hangisi söylenemez?**

- A) Gerçek ve gerçek dışı olaylar iç içedir.  
B) Destan motiflerine ve tabiat tasvirlerine yer verilmiştir.  
C) Kahramanların karakteristik özellikleri verilmiştir.  
D) İslamiyet öncesi Türk edebiyatının özellikleri görülür.  
E) Kişilere kutsiyet atfedilmiştir.

11. İslami Türk edebiyatının şiir türünde, *Kutadgu Bilig*'den sonra yazıya geçirilmiş en eski ikinci eseri olan ----, nerede ve ne zaman kaleme alındığı kesin olarak bilinmeyen bir eserdir. Dinî ve sosyal ahlak esaslarını cemiyette yerleştirmek için çok defa ayet ve hadislerle desteklenen fikirler, kolaylıkla anlaşılabilir tarzda oldukça sade bir dil ile ifade edilmiştir. Bu özellikleriyle esere bir nasihat kitabı olarak da bakmak mümkündür.

**Bu parçada boş bırakılan yere aşağıdakilerden hangisi getirilmelidir?**

- A) *Mantıku't-Tayr*  
B) *Dîvân-ı Hikmet*  
C) *Atabetü'l-Hakâyık*  
D) *Dîvânu Lugâti't-Türk*  
E) *Risâletü'n-Nushiyye*

12. Âşık tarzı halk edebiyatı sanatçıları çoğunlukla hece ölçüsüyle şiir söylemişlerdir. 18. yüzyıldan sonra divan edebiyatından etkilenerek aruzla yazan halk şairleri yetişmiştir.

**Aşağıdakilerden hangisi bu parçada sözü edilen şairlerden biri değildir?**

- A) Dadalođlu  
B) Bayburtlu Zihni  
C) Erzurumlu Emrah  
D) Seyranî  
E) Dertli

13. Eğer ekilir de bostan olursam  
Şu halkın diline destan olursam  
Kara toprak senden üstün olursam  
Bu yıl bu yayladan Şâh'a gidelim

**Pir Sultan Abdal'a ait olan bu dörtlüğün nazım türü aşağıdakilerden hangisidir?**

- A) Hikmet                      B) Şathiye                      C) Nefes  
D) Devriye                      E) Nutuk

14. Edimelidir. Sultân Bâyezîd zemânından kalmış, Sultân Mahmûd kullarından olmuş, ol 'asrun şu'arâsiyla mukârin ve merhûm Necâtî ile musâhib belki mu'âsır dimelidir. Necâtî Beg kabrin kaldırap mermerle yapdurup bir levhine bu beytin

Beyt:

Bir seng-dil firâkına ölen Necâtînün

Bi'llâh mermer ile yapasız mezârını

**Bu parça aşağıdaki edebî türlerin hangisinden alınmıştır?**

- A) Tezkire            B) Surname            C) Kıyafetname  
D) Pendname            E) Menakıbname

15. Fuzûlî bir aşk ve ızdırap şairidir. Ondaki bu aşk mecazi olmayıp ilahidir. Aşkın verdiği ızdırap ve kederi sevmiştir. Bu hâliinden memnundur ve bu durumun sona ermesini istemez.

**Bu parçaya göre aşağıdaki beyitlerden hangisi Fuzûlî'ye ait olamaz?**

- A) Âh ü feryadın Fuzûlî incidipdir âlemi  
Ger belâ-yı aşk ile hoşnûd isen gavgâ nedir  
B) Gülüm şöyle gülüm böyle demektir yâre mu'tâdim  
Seni ey gül sever cânım ki cânâna hitâbımsın  
C) Yâ Rab belâ-yı aşk ile kıl âşîna beni  
Bir dem belâ-yı aşktan kılma cüdâ beni  
D) Aşk derdiyle hoşem el çek ilâcumdan tabîb  
Kılma dermân kim helâküm zehri dermânundadır  
E) Oldukça ben götürme belâdan iradetim  
Ben isterim belâyı çü ister belâ beni

16. **Servetifünun roman anlayışı ile ilgili aşağıdakilerden hangisi söylenemez?**

- A) Romanlardaki olaylar genellikle İstanbul'da geçer.  
B) Kişi kadrosu yüksek zümre içinden seçilir.  
C) Karamsarlık ağır basar ve romanlar kötü sonla biter.  
D) Mekânlar, karakterlerden bağımsız tasvir edilmiştir.  
E) Yazarlar, romanlarda kendini gizlemiştir.

17. Bu edebî topluluğu Yakup Kadri anılarında şöyle anlatır: "Şahabettin Süleyman, İzmir'den döndükten sonra ortaya bir edebî dernek kurmak fikrini atmıştı. Bu dernek veya mahfil II. Meşrutiyet'ten sonra belirmeğe başlamış şair ve yazarlardan teşekkül edecekti ve yeni bir edebî okul niteliğini taşıyacaktı. Edebiyatımızda yepyeni bir devrin başladığına kanaat getiren Şahabettin Süleyman, kalburüstü görünen ne kadar şair ve yazar varsa kapı kapı dolaşıp aradı, buldu ve sahibini tanıdığı 'Hilâl' matbaasının bir odasında bir toplantıya çağırdı. Benim de kısa bir süre içinde bulunduğum, yirmi bir genç şair ve yazarın bir bildiri etrafında bir araya gelerek oluşturduğu bu edebî topluluk, kısa sürede dağılmaktan kurtulamadı."

**Bu parçada Yakup Kadri'nin söz ettiği edebî topluluk aşağıdakilerden hangisidir?**

- A) Servetifünun  
B) Fecriati  
C) Millî Edebiyat  
D) Tanzimat  
E) Cumhuriyet

18. Millî Edebiyat Dönemi'nde yazılmış eserlerin bir kısmı tezli eser olarak değerlendirilir. Bu dönemde yazılan birçok eserde tez üzerinde yoğunlaşıldığı için eserlerin estetik boyutu zaman zaman ihmal edilir. Bu da beraberinde klişe ve tekrara düşen bir kurgu ve anlatım biçimini getirir. Örneğin Reşat Nuri Güntekin'in ---- romanı ile Halide Edip Adıvar'ın ---- romanı; Anadolu'ya öğretmenlik yapmaya giden aydın bir öğretmenin, gittiği yörenin halkı ile yaşadığı çatışma üzerine kurgulanmıştır.

**Bu parçada boş bırakılan yerlere aşağıdakilerden hangisi sırasıyla getirilmelidir?**

- A) *Acımak - Ateşten Gömlek*  
B) *Yeşil Gece - Vurun Kahpeye*  
C) *Dudaktan Kalbe - Sinekli Bakkal*  
D) *Miskinler Tekkesi - Yeni Turan*  
E) *Çalkıkuşu - Handan*



19. Yazma serüvenine Gönen Köy Enstitüsünde öğretmenlerinin teşvikiyle hece şiirleri yazarak başlamıştır. Yazara göre sanatçının ve sanatın gayesi toplum sorunlarına eğilmek, kitleleri uyandırmak ve bilinçlendirmek olmalıdır. Ele aldığı konuyu, işlediği sorunu eleştirel gerçekçi bir bakışla yansıtmıştır. Hikâyelerinde köy gerçeklerini, köyün değişik kesimlerinden portrelerini, köydeki insanların acılarını, dertlerini, sorunlarını işlemiştir. Eserlerinde kırsal kesim insanının yaşama biçimini, sorunlarını, ilişkilerini gözleme yaslanarak anlatmıştır. Romanlarında köylünün kader saydığı yoksulluktan kurtulması için mücadeleci tiplerin gerekliliğini vurgulamıştır. Sanatçının "Irazca Üçlemesi" içinde toplanan eserlerinde Türk köylü kadınının bilgeliği ve direnci Irazca üzerinden ele alınmıştır.

**Aşağıdakilerden hangisi bu parçada sözü edilen sanatçıya ait eserlerden biri değildir?**

- A) *Yılanların Öcü*
- B) *Kaplumbağalar*
- C) *Çakırcalı Efe*
- D) *Onuncu Köy*
- E) *Tırpan*

20. Mesele falan değildi öyle,  
*To be or not to be* kendisi için;  
 Bir akşam uyudu;  
 Uyanmayıverdi.  
 Aldılar, götürdüler.  
 Yıkandı, namazı kılındı, gömüldü.  
 Duyarlarsa öldüğünü alacaklılar  
 Haklarını helâl ederler elbet.  
 Alacağına gelince,  
 Alacağı yoktu zaten rahmetlinin

**Bu dizelerde kullanılan anlatım tekniği aşağıdakilerden hangisidir?**

- A) Metinlerarasılık
- B) Geriye dönüş
- C) Bilinç akışı
- D) İç çözümleme
- E) İç monolog

21. **Aşağıdakilerden hangisi Garip şiirine örnek olarak gösterilebilir?**

- A) Adım Sonbahar  
 "nasıl iş bu  
 her yanına çiçek yağmış  
 erik ağacının  
 ışık içinde yüzüyor
- B) Çocukluğum, çocukluğum...  
 Uzakta kalan bahçeler  
 O sabahlar, o geceler,  
 Gelmez günler çocukluğum
- C) Bakır kaseye çiçekleri koydu  
 Sütünü yumurtasını koydu  
 Pencereden gelen ışığı koydu  
 Bisiklet sesini çıkırcık sesini  
 Ekmeğin havanın yumuşaklığını koydu
- D) Yaşamak güzel şey doğrusu  
 Üstelik hava da güzelse  
 Hele gücün kuvvetin yerindeyse  
 Elin ekmek tutmuşsa bir de  
 Hele tertemizse gönlün  
 Hele kar gibiyse alnın
- E) Şen günler, bir kırlangıç  
 Gibi vuruyor kanat.  
 Kederli günler, sanki  
 Kurulmamış bir saat.

22. (I) Türk edebiyatında modern tiyatro türlerinden sayılan komedi, trajedi ile birlikte Antik Yunan Dönemi'nde ortaya çıkmıştır. (II) Komedi, seyirciyi sadece güldürmeyi amaçlamaz; seyirciyi iyi, doğru ve güzele yöneltmeyi amaçlar. (III) Kahramanlarını trajedide olduğu gibi soylular ve olağanüstü varlıklar arasından değil sıradan kişiler arasından seçer. (IV) Bu durumun da etkisiyle trajediden farklı olarak şiir biçiminde değil düzyazı biçiminde oluşturulur. (V) Vurma, yaralama gibi şiddete ve kana dayalı olayların da sahnede seyircinin gözü önünde canlandırılmasında bir sakınca yoktur.

**Bu parçada numaralanmış cümlelerin hangisinde bir bilgi yanlışı vardır?**

- A) I      B) II      C) III      D) IV      E) V

23. ---- adlı oyununa yazdığı ön söz ile yeni Türk edebiyatını şekillendiren Nâmık Kemal, bu ve bunun gibi yazılarında düşüncelerini ifade etmeye devam eder. Yaptığı yalnızca eski Türk edebiyatını tenkit etmek değildir; bu türden belirleyici prensipler taşıyan yazılarında aslında edebiyatta sanatı benimseyen, yazma endişeleri taşıyan yolun da öncüsü olur. ---- adlı romanı konusunu, XVI. yüzyılda II. Selim devrinde başlayıp aralıklarla yarım yüzyıl kadar devam eden Osmanlı-İran savaşlarından alır. Nâmık Kemal, bu roman tekniğine biraz daha hâkim olmakla beraber burada da konuşmaların azlığı ve hareketsizlik dikkati çekmektedir. Ayrıca tasvirlerin genellikle subjektif ve mübalağalı oluşu, psikolojik tahlillere yeterli derecede yer verilmeyişi ve romantizmin etkisiyle olayın trajik bir şekilde son bulması eserin tenkit edilen taraflarıdır.

**Bu parçada boş bırakılan yerlere aşağıdakilerden hangileri sırasıyla getirilmelidir?**

- A) *İntibah - Kara Bela*  
 B) *Celâlettin Harzemşah - Cezmi*  
 C) *Zavallı Çocuk - Evrâk-ı Perişan*  
 D) *Âkif Bey - Bârîka-i Zafer*  
 E) *Vatan yahut Silistre - Gülnihal*

24. Sâf u râkid... Hani akşamki tegayyür, heyecan?

Bir çocuk rûhu kadar pür-nisyân,  
 Bir çocuk rûhu kadar şimdi münevver, lekesiz,  
 Uyuyor maî deniz.

Ben bütün bir gecelik cûşîş-i ahzânımla,  
 O hayâlât-ı perişânımla  
 Müteşekkî, lâim.

Karşıdan safvet-i mahmûrunu seyretmedeyim...  
 Yok, bulandırmasın âlûde-i zulmet bu nazar  
 Rûh-ı mâğsûmunu, ey maî deniz;

Âh, lâkin ne zarar;  
 Ben bu gözlerle mükedder, âciz,  
 Sana baktıkça tesellî bulurum, aldanırım:  
 Maî bir göz elem-i kalbime ağlar sanırım...

**Bu şiir hangi akımın etkisiyle yazılmış olabilir?**

- A) Romantizm  
 B) Klasisizm  
 C) Parnasizm  
 D) Ekspresyonizm  
 E) Sürrealizm

25. Buzul Çağı boyunca toplayıcılık ve avcılık yapan insanlar, iklimin ılımanlaşmasıyla birlikte toprağı ekip biçmeye başladılar. Elde ettikleri ürünü arttırmak ve bu ürünlerin bölüşümünü organize etmek için de çeşitli kurumlar oluşturdular. İnsanlar tükettiklerinden çok üretmeye başlayınca yiyecek üretiminde çalışması gerekmeyen yeni bir grup ortaya çıktı. Kentlere gelen bu insanlar iş bölümü gereğı farklı işlerle uğraşmaya başlayınca elde edilen kazançlar da farklılaştı. Böylece ortaya çıkan iş bölümü toplumsal tabakalaşmanın da kaynağını oluşturdu.

**Verilen paragrafta sosyoekonomik durumu değiştiren hangi kavramdan bahsedilmektedir?**

- A) Toplumsal değişme
- B) İlerleme
- C) Artı ürün
- D) Endüstriyel mal
- E) Sosyal tabakalaşma

26. Avrupa Hunları ile Bizans arasında imzalanan Margos Barışı'nda alınan;

- I. Bizans, Avrupa Hun Devleti'ne vergi ödeyecek,
- II. iki ülke ticareti belirli bölgelerde yapabilecek,
- III. Hunlardan kaçanlara Bizans sığınma hakkı vermeyecek

**kararlarından hangileri Bizans'ın Avrupa Hun Devleti'nin hâkimiyetini kabul ettiğini gösterir?**

- A) Yalnız I
- B) Yalnız II
- C) Yalnız III
- D) I ve II
- E) I, II ve III

27. Abbasilerin özelliklerinden bazıları şunlardır:

- I. Helenistik Döneme ait eserler Arapçaya çevrilmek medreselerde okutulmuştur.
- II. Arap olmayan diğer milletlere yönetimde görev verilmiştir.
- III. Önemli görevlere yalnız Arap kökenli kişileri getirmişlerdir.

**Yukarıdakilerden hangileri Abbasilerin yönetimde halka eşit davrandıklarının göstergesidir?**

- A) Yalnız I
- B) Yalnız II
- C) Yalnız III
- D) I ve II
- E) II ve III

28. Türkiye Selçuklu Devleti'nde;

- I. Bizans'a karşı Miryokefalon Savaşı'nın kazanılması,
- II. Anadolu'daki kervansaray sayısının artırılması,
- III. Başkent'in İznik'ten Konya'ya taşınması,
- IV. Antalya ve Samsun gibi önemli limanların fethedilmesi

**gibi gelişmelerden hangilerinin Anadolu'da ticaretin gelişmesine katkı sağladığı söylenebilir?**

- A) I, II ve III
- B) I, II ve IV
- C) II ve IV
- D) II, III ve IV
- E) III ve IV

29. Osmanlı Devleti'nde bir bölgede yaşayan insanların tarım arazilerinin, hayvan sayılarının, mal ve servetlerinin kaydedildiğı defterlere verilen ad aşağıdakilerden hangisidir?

- A) Şeriye sicilleri
- B) Maarif defterleri
- C) Tereke defterleri
- D) Tahrir defteri
- E) Mühimme defteri

**30. Osmanlı Devleti'nin Avrupa'daki topraklarında çıkan milliyetçilik isyanlarında;**

- I. Boğazların yabancı devletlere kapatılması,
- II. Fransız İhtilali'nin etkileri,
- III. Balkan topraklarının savaş alanı haline gelmesi

**gelişmelerinden hangilerinin etkisi olduğu söylenebilir?**

- A) Yalnız I                      B) Yalnız II                      C) I ve II  
D) II ve III                      E) I, II ve III

**31. Amasya Genelgesi'nde yer alan;**

"Vatanın bütünlüğü ve milletin bağımsızlığı tehlikededir. İstanbul Hükûmeti galip devletlerin etkisi altında bulunduğu sorumlulukları yerine getirememektedir. Bu durum milletimizi yok olmuş saymaktadır."

**şeklindeki ifadelere dayanarak;**

- I. Türk milletinin İstanbul Hükûmeti'nden bir beklentisinin olmaması gerektiği,
- II. Yeni bir devletin kurulması için çalışmalara başlandığı,
- III. Vatanın bütünlüğünü ve milletin bağımsızlığının korunması yolunda adım atılacağı,
- IV. Millî Mücadele'nin gerekçesinin oluştuğu

**gibi durumlardan hangilerine ulaşamaz?**

- A) Yalnız I                      B) Yalnız II                      C) Yalnız IV  
D) II ve III                      E) III ve IV

- 32. Arap devletlerinin desteği ile bağımsızlıklarını kazanacaklarına inanan Filistinliler 1962'de silahlı mücadeleye başladılar. 1964'te Yaser Arafat önderliğinde ve Filistin Kurtuluş Örgütü (FKÖ) çatısı altında birleştiler. FKÖ, Batı Şeria ve Gazze'de bir Filistin Devleti'nin kurulması için çalıştı.**

**Aşağıdakilerden hangisi Filistinlilerin devletlerini kurlmaları için başlattıkları mücadelenin adıdır?**

- A) Baas hareketi  
B) İnfirat  
C) Siyonizm  
D) Arap Baharı  
E) İntifada

**33. Cumhuriyet döneminde gerçekleşen;**

- I. Halkın yönetime katılmasının sağlanması
- II. Ülkede yaşayanların refah düzeyinin artırılması
- III. Hicri Takvim yerine Miladi Takvim'in kullanılması

**gibi girişimlerin Atatürk ilkeleriyle ilişkisi aşağıdakilerden hangisinde doğru verilmiştir?**

- | I                  | II              | III           |
|--------------------|-----------------|---------------|
| A) Halkçılık       | Milliyetçilik   | İnkılapçılık  |
| B) Cumhuriyetçilik | Halkçılık       | İnkılapçılık  |
| C) Cumhuriyetçilik | Milliyetçilik   | İnkılapçılık  |
| D) Halkçılık       | Cumhuriyetçilik | Milliyetçilik |
| E) Cumhuriyetçilik | Milliyetçilik   | İnkılapçılık  |

34. Siyasi ve ekonomik yapıda değişiklikler yapmak amacıyla 1987'de "glasnost" ve "perestroyka" adını verdiği açıklık ve yeniden yapılanma siyasetini açıklayan SSCB lideri aşağıdakilerden hangisidir?

- A) Mihail Gorbaçov
- B) Boris Yeltsin
- C) Nikita Kruşev
- D) Vladimir Putin
- E) Joseph Stalin

35. Türkiye, değişen ve gelişen ekonomik yapıdan kopmamak, ekonomisini daha güçlü hâle getirmek, ulusal ve bölgesel finansal krizlerin etkilerini en aza indirmek gibi amaçlarla bazı ekonomik örgütlerin kuruluşunda yer almış veya bazı örgütlere sonradan üye olmuştur.

Türkiye'nin aşağıdaki örgütlerden hangisine üye olmasında bu amaçlar daha az etkiye sahiptir?

- A) Grup 20 (G-20)
- B) Gelişen Sekiz Ülke (D-8)
- C) Kuzey Atlantik Antlaşması Örgütü (NATO)
- D) Karadeniz Ekonomik İşbirliği Teşkilatı (KEİ)
- E) Ekonomik İşbirliği ve Kalkınma Örgütü (OECD)

36. 23 Şubat 1954 tarihli gazeteler "İstanbul'da Donduran Kış" manşetleriyle çıkmıştır. Aşırı soğuklar nedeniyle oluşan ve Tuna Nehri'nden Karadeniz'e oradan da İstanbul Boğazı'na giriş yapan buz kütleleri boğazda hayatı durma noktasına getirmiştir. Soğuk hava koşulları yaklaşık 15 gün boyunca devam ettiği için buz kütleleri uzun süre erimeden kalabilmiştir.

**Bu ekstrem doğa olayı;**

- I. ulaşımın aksamaması,
- II. enerji tüketiminin artması,
- III. yeraltı su seviyesinin azalması

**durumlarından hangileri üzerinde etkili olmuştur?**

- A) Yalnız I
- B) Yalnız II
- C) Yalnız III
- D) I ve II
- E) II ve III

37. Şehir sınırlarının genişlemesi ve ekonomik faaliyetlerin oluşturduğu etkiye bağlı olarak ekosistemlerin sınırları daralabilir veya dar alanlardaki ekosistemler tamamen yok olabilir.



**Haritada numaralandırılarak gösterilen yerlerden hangilerinde bu etkinin daha fazla olması beklenir?**

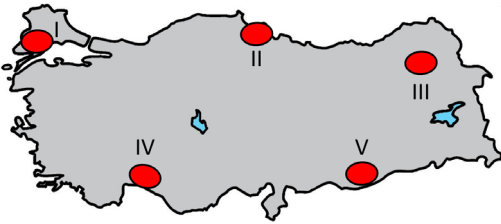
- A) I ve II
- B) I ve III
- C) II ve III
- D) II ve IV
- E) III ve IV

38. Teknolojik gelişmeler, tüketim türlerinin çeşitlenmesi, şehirlerde nüfus yoğunluğunun artması, eğitime daha fazla insanın erişmesi gibi etkenlere bağlı olarak gelecekte pek çok durumun günümüzden daha farklı olması beklenmektedir.

**Aşağıdakilerden hangisinin bu beklentiler arasında olduğu söylenemez?**

- A) Üretimde iş gücü gereksiniminin artması
- B) Hizmet sektörünün daha önemli hale gelmesi
- C) Araştırma ve geliştirmeye daha fazla önem verilmesi
- D) Dijital teknolojilerin kullanım alanlarının çeşitlenmesi
- E) Büyümenin yenilik, icatlar ve bilgiye dayalı olarak gerçekleşmesi

39. Türkiye’de yaklaşık kırk bin mağara bulunduğu tahmin edilmektedir. Doğrudan turist ziyaretine açılan mağaralar bulunmakla birlikte uygun ekipmanlarla ve rehber eşliğinde girilebilecek pek çok mağara ile mağara turizmi Türkiye’de önemli bir turizm çeşididir.



**Haritada numaralandırılarak gösterilen alanlardan hangisinde, bu turizm türünün potansiyeli daha yüksektir?**

- A) I
- B) II
- C) III
- D) IV
- E) V

40. İnsanlar artan nüfus ve çeşitlenen ihtiyaçları ile doğal çevrede her geçen gün daha fazla kaynak tüketmektedir. Doğal çevrenin kendini yenileyebilme kapasitesinin üstünde gerçekleşen tüketim, geri dönüşü olmayan sorunlara yol açabilmektedir.

**Aşağıdakilerden hangisi bu sorunların oluşmasında daha fazla etkiye sahiptir?**

- A) Balıkçılıkta yetiştiricilik ile elde edilenlerin payının artması
- B) Enerji ihtiyacının karbon içerikli kaynaklardan karşılanması
- C) Üretimde atıklardan kazanılmış ham maddelerin kullanılması
- D) Geniş alanlarda ekstansif tarım yönteminin uygulanması
- E) Kâğıt üretiminde sürdürülebilir faaliyetlerin yaygınlaşması

1. Bu testte sırasıyla, Tarih-2 (1-11), Coğrafya-2 (12-22), Felsefe Grubu (23-34), Din Kültürü ve Ahlak Bilgisi (35-40), Din Kültürü ve Ahlak Bilgisi dersini yasal olarak almak zorunda olmayan veya farklı müfredat ile alanlar için Felsefe Grubu (41-46) alanlarına ait toplam 46 soru vardır.
2. Cevaplarınızı cevap kâğıdının Sosyal Bilimler-2 Testi için ayrılan kısmına işaretleyiniz.

1. Ziggurat, Mezopotamya uygarlıklarından Sümerlere ait bir yapıdır. Tapınak, depo, okul ve rasathane olarak kullanılmıştır.

**Bu bilgiler doğrultusunda;**

- I. astronominin geliştiği,  
II. laik yönetim anlayışının uygulandığı,  
III. doğal afetler için hazırlıklı olunduğu,  
IV. eğitime önem verildiği

**gibi durumlardan hangilerine ulaşılabilir?**

- A) Yalnız I                      B) Yalnız II                      C) I ve II  
D) II ve III                      E) I, II ve IV

2. Aşağıdakilerden hangisi Türklerin İslamiyeti kabul etmesiyle birlikte hükümdarlık alameti olarak kabul edilmiştir?

- A) Çetr  
B) Otağ  
C) Hutbe  
D) Tuğ  
E) Nevbet

3. Aşağıdaki kavramlardan hangisi ticari mekânlar arasında gösterilemez?

- A) Ribat  
B) Han  
C) Bedesten  
D) Arasta  
E) Kümbet

4. Kapıkulu ordusu hakkında aşağıdakilerden hangisi söylenemez?

- A) Ocağa yeni alınanlar ilk olarak acemi oğlanlar ocağına yerleştirilmiştir.  
B) Ulufeciler savaşta ve barışta hazineyi korumuşlardır.  
C) Topçular, top mermisinin dökümü ve kullanılmasından sorumlu olan askerî sınıftır.  
D) Cebeciler, ordunun silahlarının bakımını yapan askerî sınıftır.  
E) Acemi oğlanlar ocağını bitiren asker kapuya çıkma töreninden sonra yeniçeri ocağına kaydedilmiştir.

5. Osmanlı Devleti'nde;

- I. Fatih Dönemi'nde Ortodoks Rum ve Ortodoks Ermenilerin koruyuculuğunun üstlenilmesi  
II. Kanuni Dönemi'nde Katoliklere karşı Protestanların desteklenmesi

**gibi politikalar ile ulaşılmak istenilen amaç aşağıdakilerden hangisinde doğru olarak verilmiştir?**

- A) Ortodoks ve Protestanlara devlete ticari katkılar sağlamak  
B) Fetihleri engelleyebilecek Hristiyan birliğini parçalamak  
C) Ortodoks ve Protestan inançlarının Müslümanlar arasında yayılmasına engel olmak  
D) Osmanlı Devleti'nin hoşgörülü politikasını göstermek  
E) Ortodoks ve Protestanları askerî amaçla kullanmak

6. Osmanlı Devleti ekonomisinde önemli bir yeri olan Narh Sistemi ile ilgili olarak aşağıdaki yargılardan hangisi söylenemez?

- A) Başta ekmek ve buğday olmak üzere temel tüketim maddelerini kapsamıştır.
- B) Piyasadaki ürünlerin fiyat aralığı devlet tarafından belirlenmiştir.
- C) Ürünlerin fiyat aralığı kaliteye göre değişmiştir.
- D) Fiyatların devlet tarafından belirlenmesindeki temel amaç esnaf arasında rekabeti artırarak piyasada bol ürün bulunmasını sağlamaktır.
- E) Fiyatlar belirlenirken halkın alım gücüne riayet edilmiştir.

7. II. Mahmut ile âyanlar arasında imzalanan Sened-i İttifak'ın sonuçları için aşağıdakilerden hangisi söylenebilir?

- A) Padişahın mutlak otoritesi zarar görmüştür.
- B) Dış devletlerin baskısı ile imzalanmıştır.
- C) Osmanlı Devleti iç işlerine karışılmasını önlemek istemiştir.
- D) Halkın yönetime katılımını sağlamıştır.
- E) Azınlık haklarını genişletmiştir.

8. Hristiyan azınlıklara siyasi hâkimiyetimizi ve sosyal dengemizi bozacak ayrıcalıkların verilemeyeceği kararı ilk kez aşağıdakilerden hangisinde alınmıştır?

- A) Havza Genelgesi
- B) Amasya Genelgesi
- C) Erzurum Kongresi
- D) Sivas Kongresi
- E) Amasya Görüşmeleri

9. II. TBMM, yeniliklere açık ve reformcu milletvekillerinden oluşmaktaydı.

**Bu durumun;**

- I. Kadınlara seçme ve seçilme hakkının verilmesi,
- II. Muhalefet partilerinin kurulmasının engellenmesi,
- III. Millî egemenliğin sağlanması,
- IV. Toplumunu dönüştürecek yeniliklerin hız kazanması

**gibi gelişmelerden hangilerine zemin hazırladığı söylenebilir?**

- A) Yalnız I
- B) Yalnız II
- C) II ve III
- D) I ve IV
- E) III ve IV

10. • Yönetimde halkın egemen olmasını amaçlar

- Bağımsızlık düşüncesini temel alır
- Kişi, sınıf, zümre ayrımına karşıdır
- Akıl ve bilimi ön planda tutar

**Verilen özellikler aşağıdaki ilkeler ile eşleştirildiğinde hangisi dışarıda kalır?**

- A) Laiklik
- B) Halkçılık
- C) Milliyetçilik
- D) Cumhuriyetçilik
- E) Devletçilik

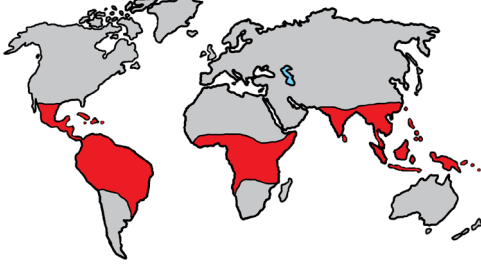
11. 1950 sonrası Türkiye'de kara yollarının gelişmesi sonucu yerli otomobil yapma ihtiyacı ortaya çıktı. Dönemin Cumhurbaşkanı ---- ----, 16 Haziran 1961'de tümüyle yerli üretim bir otomobil yapılmasını emretti. Görevin, Türkiye Cumhuriyeti Devlet Demir Yolları (TCDD) işletmesine verilmesi üzerine 23 mühendis "Devrim Arabası" projesine başladı.

**Verilen paragrafın doğru bir şekilde tamamlanması için boş bırakılan yere aşağıdakilerden hangisi getirilmelidir?**

- A) İsmet İnönü
- B) Cemal Gürsel
- C) Cevdet Sunay
- D) Fahri Korutürk
- E) Süleyman Demirel



12. Aşağıdaki haritada bazı yerler taranarak koyu renkle gösterilmiştir.



Haritada taranarak gösterilen alanlarda;

- I. Çöl
- II. Savan
- III. İğne yapraklı ormanlar
- IV. Tropikal yağmur ormanları

biyomlarından hangileri daha geniş bir dağılışa sahiptir?

- A) I ve II      B) I ve III      C) II ve III  
D) II ve IV      E) III ve IV

13. Çölleşme; kurak, yarı-kurak iklim bölgelerinde arazinin yağış alma, su tutma kapasitesinin azalması ve doğal bitki örtüsünün tahrip olarak toprak erozyonunun yaşanmasıdır. Kısacası çölleşme, toprağın su-suzlaşması ve çoraklaşmasıdır.

**Aşağıdakilerden hangisi bu değişimi engellemek için uygulanabilecek çözüm yollarındandır?**

- A) Sulamayla yetiştirilen tarım ürünlerinin üretilmesi
- B) Büyükbaş hayvancılığa dayalı et üretiminin geliştirilmesi
- C) Mera alanlarında otlatmanın bütün yıla yayılarak artırılması
- D) Tarımsal sulamada damla sulama tekniğinin payının artırılması
- E) Doğal bitki örtüsüne dayalı endüstri kollarının geliştirilmesi

14. Türk kültürü; Orta Asya'dan kaynağını almış Anadolu, Sibirya, Afrika ve Balkanlar'a kadar uzanan geniş bir coğrafyaya birikimini aktarmış bir kültürdür. Aynı zamanda Türkler bu alanlarda kültürel değerlerini yansıtan çok sayıda tarihi eser de bırakmıştır.

**Aşağıdakilerden hangisi bu eserlerden biri değildir?**

- A) Orhun Yazıtları
- B) Mostar Köprüsü
- C) İshak Paşa Sarayı
- D) Şirdar Medresesi
- E) Yerebatan Sarnıcı

15. 19. yüzyılın başlarında bir tarım ülkesi olan Almanya, bu yüzyılın başlarından sonra sanayileşmeye başlamıştır. Bu durum Almanya'da sosyal ve ekonomik alanda birçok değişimin yaşanmasına neden olmuştur.

**Aşağıdakilerden hangisinin bu değişimle ilişkisi daha azdır?**

- A) Kırdan kente göçün artması
- B) Ham madde ihtiyacının artması
- C) Tarımda çalışan nüfus oranının azalması
- D) İhracatta el sanatları ürünlerinin payının azalması
- E) İthalatta temel gıda maddesi olan ürünlerin payının artması

16. Amik Gölü çevresindeki yanlış arazi kullanımı ile gölün kuruması, çevresindeki alanları etkiledi. Kuruyan göl sahasında tarım yapılmaya başlansa da göl alanının çevreye göre yaklaşık altı metre daha aşağıya inmesi sel, taşkın ve su baskınlarını artırdı. Göçmen kuşların uğrak yeri olan gölün kurumasından sonra bu kuşların göç yolları değişti.

**Aşağıdakilerden hangisi doğal çevreye yapılan bu müdahalenin sonuçları arasında gösterilemez?**

- A) Afetlerin artması  
B) Sera etkisinin artması  
C) Ekosistemlerin bozulması  
D) Göl çevresindeki nem oranının azalması  
E) Tarımsal faaliyetlerin zarar görmesi

17. Nüfus politikaları belirlenirken yaşanan dönemin koşulları dikkate alınmaktadır. Örneğin, Türkiye'de 1923 ile 1965 yılları arasında nüfus artış hızını yükseltmeyi amaçlayan politikalar, dönemin koşullarına uygun olarak belirlenmiştir.

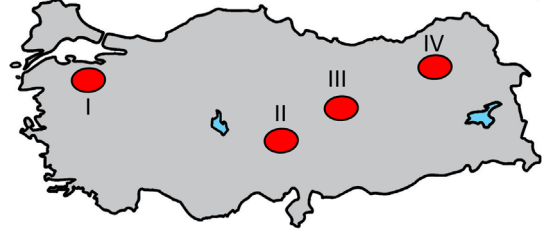
**Bu dönemdeki nüfus politikalarının belirlenmesinde;**

- I. Şehirleşme oranının az olması  
II. Ölüm oranlarının yüksek olması  
III. Tarımda makine kullanımının az olması

**koşullarından hangileri daha etkili olmuştur?**

- A) Yalnız I      B) Yalnız II      C) Yalnız III  
D) I ve II      E) II ve III

18. Demir, yüksek mukavemet özelliği sayesinde gemi yapımının yanı sıra otomotiv ve inşaat sektöründe kullanılmakta olan bir madendir. Tüm metaller içinde en çok kullanılanıdır. Karabük, Ereğli ve İskenderun'da bu madenin ham madde olarak kullanıldığı fabrikalar bulunmaktadır.



**Haritada numaralandırılan alanlardan hangilerinde bu madenin büyük rezervli yatakları bulunmaktadır?**

- A) I ve II      B) I ve III      C) II ve III  
D) II ve IV      E) III ve IV

19. Meteoroloji kökenli ekstrem olaylar doğal çevreyi ve beşerî faaliyetleri önemli oranda etkilemektedir.

**Aşağıdakilerden hangisi bu türdeki ekstrem olayların sonuçlarından değildir?**

- A) Buz fırtınalarının enerji nakil hatlarına zarar vermesi  
B) Sıcak hava dalgaları nedeniyle canlılarının zarar görmesi  
C) Normalin altındaki yağış değerlerinin bitki türlerini azaltması  
D) Volkanik patlamalar sonucu oluşan kül bulutunun gökyüzünü kaplaması  
E) Fırtınaların okyanus seviyesini yükselterek deniz taşkınlarına neden olması

20. Avustralya'ya insanlar tarafından getirilen ve doğaya bırakılan tavşanlar hızla çoğalmış ve yıllar içinde sayıları milyonlarla ifade edilir hale gelmiştir. Bu yeni tür, kıtada bazı canlı türlerinin ortadan kalkmasına, biyoçeşitliliğin azalmasına ve beslenme ağında bozulmalara neden olmuştur.

**Doğal çevrede yaşanan bu değişimler aşağıdaki-lerden hangisiyle açıklanabilir?**

- A) Bitki varlığının artmış olması  
B) Desteklenebilecek birey sayısının aşılması  
C) Etçil tüketici türlerinin kıta geneline yayılması  
D) İklimsel değişimin ekosistemde değişikliğe yol açması  
E) Artan tarımsal faaliyetler nedeniyle doğal bitki örtüsünün tahrip olması

21. Petrol, kömür, doğal gaz gibi fosil yakıtları ve stratejik yeraltı kaynaklarını ele geçirme; bu kaynakların üretimi, taşınması ve pazarlamasını kontrol etme çabaları ülkeler arasında çatışmalara neden olmaktadır.



**Haritada numaralandırılan yerlerden hangileri bu alanlara örnek gösterilebilir?**

- A) I ve II  
B) I ve III  
C) II ve III  
D) II ve IV  
E) III ve IV

22. Aksaray, Karaman, Konya, Niğde, Nevşehir, Kırıkkale, Kırşehir ve Yozgat illerini kapsayan Konya Ovası Projesi'nin hayata geçmesiyle bölge halkının ekonomik ve sosyokültürel yönden gelişimi desteklenmiş olacaktır. Projenin temel amacı bölgede var olan potansiyeli kullanarak kapsamlı bir dönüşümü gerçekleştirmektir.

**Bu dönüşümün gerçekleşmesinde aşağıdaki uygulamalardan hangisinin etkisi daha azdır?**

- A) Demir yolu ağının geliştirilmesi  
B) Sulanabilir alanların genişletilmesi  
C) Sanayi bitkilerinin ekim alanlarının artırılması  
D) Hayvancılığa dayalı sanayi kollarının geliştirilmesi  
E) Büyükbaş mera hayvancılığının yaygınlaştırılması

23. Nurettin Topçu *İsyan Ahlakı* adlı eserinde "İnsan kendini ve eşyayı ancak hareket etmekle tanıyabilir. Ve her hareket âleme yayılabilmek temayülüne sahip olduğu gibi, istenmiş olan her harekette ahlakîyetin damgası bulunur. Ahlakîyet, istenen hareketle beraber başlar. Kemale eren benlik, kendi birliğine götüren yolda her engele kendini karşı koyar. Hür olan her hareket, bizim yönümüzden anarşizm veya ihtilal, ilahi irade hakkında ise bir itaat ve uysallık halinde gözükmektedir. Hareketin hür oluşu, bizde hareketi yaratan isyanın ifadesidir. Ve her dinin temelini teşkil eden, bir ahlak sistemi, bir isyan doktrindir; içinde bulunduğu hal ile yetinen insanın vehmine karşı isyan, insanlığın yeryüzünde yaşattığı iradeyi istismar eden iradelere yine bu insanlığın itaat ve uysallığına karşı isyan." demiştir.

**Bu parçadan aşağıdaki yargıların hangisine ulaşılabilir?**

- A) İsyan ahlakı, bireyin iman, sorumluluk gözeterek özgür iradesiyle aklını kullanmasıdır.  
B) İnsan, eylemleri belirlenmediğinden, sınırsız özgürlüğe sahip bir varlıktır.  
C) İnsanın eylemlerini yönlendiren bir evrensel reçetenin olması mümkün değildir.  
D) Birey içinde yaşadığı toplumda kendisine verilenlerle yetinmesini bilmelidir.  
E) Ahlakî hareketin temelinde kabul görülen yasalara itaat etme duygusu yatar.

24. İtalya'nın Ascoli Piceno kasabasında, 1529 yılında yazılmış, Latince bir duvar yazısı;

Yapabilen istemiyor

İsteyen yapamıyor

Bilen yapmıyor

Yapan bilmiyor

Ve Dünya böyle kötüye gidiyor.

**Bu metinde felsefenin hangi disiplinlerine yer verilmiştir?**

- A) Estetik - Etik  
B) Ontoloji - Siyaset  
C) Epistemoloji - Etik  
D) Epistemoloji - Din felsefesi  
E) Etik - Siyaset

25. Orta Çağ felsefesi Hristiyan ve İslam felsefesi olmak üzere iki alt başlık altında incelenebilir. Ancak bu dönem felsefesinde ve hatta sonraki dönem felsefeleri üzerinde de İslam felsefesinde yapılan çalışmaların etkileri önemlidir. Kültür olgusu üzerinden açıklanabilecek önemli bir faaliyet İslam coğrafyasını felsefenin merkezi konumuna getirmiş, İslam düşünürleri arasında farklı felsefi akımların ortaya çıkmasını sağlamış, İslam felsefesi vasıtasıyla hem Hristiyan düşünürlerini etkilemiş, hem de Rönesans düşüncesinin yeşermesine katkı sağlamıştır.

**Bu parçada sözü edilen durum aşağıdakilerden hangisi ile açıklanabilir?**

- A) Çeviri faaliyetlerinin yapılması  
B) Bilimsel devrimlerin gerçekleşmesi  
C) İdeal devlet tasarılarının yazılması  
D) Edebi eserlerin artması  
E) Varlığın özne odaklı ele alınması

26. Bir konferansa katılan psikolog konuşması esnasında; kişisel gelişim, kişisel algı, kişisel seçim gibi konulara öncelik verilmesi gerektiğini ve bireylerin kendilerine dönük algılarının davranışları üzerinde etkili olduğunu anlatır. İnsanın kendini gerçekleştirmeye çalışan bir varlık olduğunu vurguladıktan sonra da "Unutulmaması gereken en önemli şey bireyin benzersiz olduğu ve aynı zamanda koşulsuz sevgiyi hak ettiği'dir." diyerek sözlerini sonlandırır.

**Bu parçada sözü edilen psikolog aşağıdaki yaklaşımlardan hangisinin temsilcisi olarak gösterilebilir?**

- A) Yapısalcı yaklaşım  
B) Hümanistik yaklaşım  
C) Bilişsel yaklaşım  
D) İşlevselci yaklaşım  
E) Psikanalitik yaklaşım

27. Geçmişten geleceğe zaman tüneline seyahat etmenin aracıdır bellek... Öğrenmenin, öğrenilen bilgileri biriktirmenin, saklamanın ve aktarmanın olmazsa olmazıdır adeta. Öğrenilecek bilgi birey tarafından anlamlı olarak örgütlenirse yani görsel, işitsel, sözel vb. gibi ne kadar farklı yöntemlerle anlamlı hale getirilirse o bilgi bireyin belleğinde o kadar kalıcı olacaktır. Ayrıca bir bilgi bireyde uygun şekilde saklanmıyorsa geri çağırılması da bir o kadar zor olacaktır.

**Bu parçada belleğin;**

- I. Kodlama  
II. Depolama  
III. Hatırlama

**işlevlerinden hangilerinden söz edilmiştir?**

- A) Yalnız I  
B) Yalnız II  
C) I ve II  
D) II ve III  
E) I, II ve III

28. Duyum, çevreden gelen uyarıcıların duyu organlarını uyarması sonucu gerçekleşir. Duyu organının uyarılabilmesi için uyarıcının belli bir şiddete ve duyu organının da belli bir algılayabilme sınırına sahip olması gerekir. Bu sınır bazı duyu organları için yaklaşık olarak: görmede, karanlık bir gecede 50 km'den bir mum ışığını; işitmede, sessiz bir ortamda 5 metre mesafede bir kol saatinin işleyişinin sesini; koku almada, 6 odalı bir evde bir damla parfüm kokusunu algılama şeklinde örneklendirilebilir.

**Buna göre parçada açıklaması yapılan kavram aşağıdakilerden hangisidir?**

- A) Duyusal eşik
- B) Farklılaşma eşiği
- C) Duyarsızlaşma
- D) Yetersiz uyarılma
- E) Duyarlılaştırma

29. Toplumsal gelişme ileri yönlü bir değişmeyi ifade eder. Toplumsal gelişmenin ortaya çıkmasında birden fazla faktörün rol oynadığı söylenebilir. Örneğin kişi başına düşen milli gelir ortalamasının artması, alt ve üst tabakanın daralmasıyla gelir dağılımındaki adaletsizliğin en aza indirilmesi, demokrasi kültürünün geliştirilmesi, bireylerin hak ve özgürlüklerinin güvence altına alınması, toplumsal çözülmenin önüne geçilmesi ve sapma davranışlarının büyük oranda önlenmesi toplumsal gelişmenin gerçekleşmesinde etkilidir.

**Buna göre aşağıdakilerden hangisi toplumsal gelişmenin öğelerinden biri değildir?**

- A) Hukukun üstünlüğünün sağlanması
- B) Yatay hareketliliğin artması
- C) Ekonomik büyümenin gerçekleşmesi
- D) Toplumsal bütünleşmenin sağlanması
- E) Orta tabakanın genişlemesi

30. Dikey hareketlilik bireylerin bir katmandan ya da statüden diğerine hareketi olarak tanımlanır. Bu hareketlilik yukarı doğru olabildiği gibi aşağıya doğru da olabilir. A. Giddens *Sosyoloji* adlı eserinde bununla ilgili olarak şöyle yazmıştır: "Bir toplumdaki, düşük tabakalarda dünyaya gelen kişilerin toplumsal-ekonomik merdivenin yukarısına hangi ölçüde tırmanabildiklerini gösteren dikey hareketlilik, toplumun "açıklığı"nın önemli bir göstergesidir."

**Buna göre dikey hareketlilik ile ilgili vurgulanmak istenen aşağıdakilerden hangisidir?**

- A) Bireyler arasında fırsat eşitliğini sağlaması
- B) Toplumda bireylere sosyal prestiji kazandırması
- C) Bireyin birden fazla statü edinmesini kolaylaştırması
- D) Toplumsal dayanışmayı artırması
- E) Bireylere daha iyi bir yaşam tarzı sunması

31. I. Bir sosyoloğun üniversiteye öğrenci gibi gidip onları izleyerek, üniversiteli öğrencilerin birbirleri ile olan ilişki dinamiklerini anlamaya çalışması  
II. Bir üniversitede öğrencilerin birbirlerine karşı duyduğu sevgi, kıskançlık, saygı gibi duygusal bağlarını tespit etmeye çalışan sosyoloğun, öğrencilere konu ile ilgili soru sorması  
III. Bir sosyoloğun, öğrencilerin üniversite kurallarına ilişkin düşüncelerini öğrenmek için önceden hazırladığı soruların yer aldığı kâğıtları cevaplamaları için öğrencilere dağıtması

**Bu örneklerdeki sosyolojide kullanılan veri toplama teknikleri aşağıdakilerden hangisinde doğru sırayla verilmiştir?**

- A) Monografi - İstatistik - Anket
- B) İstatistik - Gözlem - Monografi
- C) Gözlem - Sosyometri - Anket
- D) Monografi - Gözlem - Sosyometri
- E) Gözlem - Anket - İstatistik

32. Fatih Sultan Mehmet, 12 yaşında tahtı kendisine bırakan babası II. Murat'a bir mektup yazar; "Devletü babam! Din ve devlet tehlikededir. Eğer padişah iseniz, buyurun ordunuzun başına geçin!.. Yok eğer padişah ben isem, sizi orduma başkumandan olarak nasb ve tayin eyliyorum."

**Fatih Sultan Mehmet'in babasına yazdığı mektup kıyas türlerinden hangisine örnektir?**

- A) Entimem
- B) Dilemma
- C) Sorit
- D) Zincirleme kıyas
- E) Koşullu kıyas

33. Bir kimliğe sahip her kavramın gerçekliği, gerçekliğe sahip her kavramın da bir neliği vardır. Ancak neliği olan her kavramın bir gerçekliği ve kimliği yoktur.

**Buna göre;**

- I. Deve kuşu
- II. Zümrüdüanka kuşu
- III. Deniz kızı
- IV. Ege denizi

**kavramlarından hangilerinin hem neliği hem gerçekliği vardır?**

- A) I ve II
- B) I ve III
- C) I ve IV
- D) II ve III
- E) II ve IV

34.

I	II	III	IV
D	D	Y	Y
D	D	Y	D
Y	D	D	Y
D	D	Y	Y

**Verilen doğruluk çizelgesine göre aşağıdakilerden hangisi yanlıştır?**

- A) I. ve II. önerme birlikte tutarlıdır.
- B) II. önerme geçerlidir.
- C) III. önerme tutarsızdır.
- D) IV. önerme geçersizdir.
- E) III. ve IV. önerme birlikte tutarlı değildir.

**35 - 40. soruları Din Kültürü ve Ahlak Bilgisi dersini yasal olarak almak zorunda olanlar ve İmam Hatip Okulları öğrencileri/mezunları cevaplayacaktır.**

35. İman için kalbin tasdik etmesi yeterlidir. Yani imanın geçerli olması için amellerin imana uygun olması zorunlu değildir. İman için ameller zorunlu olsaydı örneğin namazlarını kılmayan kişinin imanı geçersiz olurdu.

**Buna göre aşağıdaki sonuçlardan hangisine ulaşabiliriz?**

- A) İkrar, iman için zorunlu değildir.
- B) Amel, imanın bir parçası değildir.
- C) Kalbin tasdik etmesi ve dilin ikrar etmesi de bir ameldir.
- D) Ameller imanın güçlenmesini sağlar.
- E) İmanın miktarında artma ya da eksilme olmaz.

36. Aşağıda Kur'an okumakla ilgili bazı kavramlara ve açıklamalarına yer verilmiştir. Ancak bir yanlışlık yapılmıştır.

- I. Kıraat: Kur'an-ı Kerim'i kurallarına uygun bir şekilde okumaktır.
- II. Tecvit: Kur'an okunurken uyulması gereken kurallardır.
- III. Tertil: Kur'an-ı Kerim'i hem kurallarına göre okuyup hem de anlamı üzerinde düşündürmektir.
- IV. Tilavet: Kur'an'ı tane tane okumaktır. En kapsamlı okuma şeklidir.

**Yanlışlığın düzeltilmesi için hangi kavramlar yer değiştirmelidir?**

- A) I ve II                      B) I ve III                      C) II ve III  
D) II ve IV                      E) III ve IV

37. I. "...Peygamber, onlara iyiliği emreder ve onları kötülükten meneder; yine onlara temiz şeyleri helal, kötü ve pis şeyleri haram kılar..." (Â'râf suresi, 157. ayet.)
- II. "İçinizde Allah'ın lütfuna ve ahiret gününe umut bağlayanlar, Allah'ı çokça ananlar için hiç şüphe yok ki Allah'ın elçisinde güzel bir örnek vardır." (Ahzâb suresi, 21. ayet.)
- III. "Sana kitabı, özellikle ayrılığa düştükleri konuda onları aydınlatman için ve inanan bir topluluğa rehber ve rahmet olsun diye indirdik." (Nahl suresi, 64. ayet.)
- IV. "Ey örtünüp bürünen (Peygamber)! Kalk ve (insanları) uyar." (Müddessir Suresi, 1-2. ayetler.)

**Yukarıda verilen ayetler sırasıyla aşağıdaki görevlerden hangisi ile ilgilidir?**

- A) Teşri-Temsil-Tebyin-Tebliğ  
B) Tebliğ-Temsil-Tebyin-Teşri  
C) Tebliğ- Tebyin- Temsil -Teşri  
D) Teşri- Tebyin- Temsil -Tebliğ  
E) Tebyin- Teşri- Temsil -Tebliğ

38. · Belhi  
· Piri Reis  
· Seydi Ali Reis  
· Uluğ Bey  
· Kâtip Çelebi

**Yukarıda isimleri verilen İslam âlimleri hangi alanda çalışma yapmışlardır?**

- A) Fizik  
B) Coğrafya  
C) Matematik  
D) Tarih  
E) Tıp

39. "Dini ayakta tutun ve onda ayrılığa düşmeyin diye Nuh'a tavsiye ettiğini, sana vahyettiğimizi, İbrahim'e, Musa'ya ve İsa'ya tavsiye ettiğimizi Allah size de din kıldı..." (Şura suresi, 13. ayet.)

**Bu ayetten hareketle;**

- I. Tüm peygamberlere temelde aynı inanç esasları vahyedilmiştir.
- II. İslam inanç esasları zamana ve coğrafyaya göre değişebilir.
- III. İman esaslarında artma ya da eksilme olabilir.
- IV. İman esaslarında herhangi bir değişiklik olmamıştır.

**yargılarından hangilerine ulaşılabilir?**

- A) I ve III  
B) II ve III  
C) I ve IV  
D) III ve V  
E) IV ve V

## 40. Aşağıda sünnetin kısımlarına yer verilmiştir.

- I. Hz. Muhammed'in (s.a.v.) sözlü sünnetidir. Bir konuda nasıl davranmamız gerektiği ile ilgili söylediği sözlerdir.
- II. Hz. Muhammed'in (s.a.v.) onaylayıcı davranışlarıdır. Huzurunda gerçekleşen bir olaya müdahale etmediyse dinen meşru bir olaydır. İlgili davranışın yasaklanmadığını gösterir.
- III. Hz. Muhammed'in (s.a.v.) davranışlarıdır.

**Tanımlara ait kavramlar aşağıdakilerden hangisinde doğru bir sıralama ile verilmiştir?**

- A) Takriri sünnet- Kavli sünnet- Fiili sünnet  
 B) Kavli sünnet- Fiili sünnet- Takriri sünnet  
 C) Takriri sünnet- Fiili sünnet- Kavli sünnet  
 D) Kavli sünnet- Takriri sünnet- Fiili sünnet  
 E) Fiili sünnet- Takriri sünnet- Kavli sünnet

**41 - 46. soruları Din Kültürü ve Ahlak Bilgisi dersini yasal olarak almak zorunda olmayan veya farklı müfredat ile alanlar cevaplayacaktır.**

41. Thales, Anaksimandros ve Anaksimenes gibi filozoflar eliyle kurulan felsefenin Yunan'daki doğuşuna damgasını vuran olay, evrenin kökeni ve doğasıyla, doğal dünyada ortaya çıkan süreçlerle ilgili problemlere getirilen mitolojik açıklamanın, bilinçli düşünce düzeyinde bir tarafa bırakılmasıdır. Ortaya koydukları felsefi ya da metafiziksel açıklamanın, en azından günümüz bakış açısından alabildiğine ilkel olmasına rağmen, Thales ve arkadaşlarını filozof kılan en temel olgu, onların dini ya da mitolojik açıklamanın yerine, özellikle bilimsel düşüncenin temelini oluşturan "gözle görünür dünyanın akli ve anlaşılır bir düzeni gizlediği, doğal dünyanın nedenlerinin yine bu dünyanın sınırları içinde aranması gerektiği ve başka bir kaynaktan yardım görmeyen, özerk insan aklının bu arayışta kendisinden yararlanılabilecek yegâne araç olduğu" inancını ikame etmiş olmalarıdır.

**A. Cevizci'nin *Felsefe Tarihi* adlı eserinden alınan bu parçada Thales ve arkadaşlarını filozof kılan temel etken aşağıdakilerden hangisidir?**

- A) Olgusal dünyayı rasyonel olarak açıklamaları  
 B) Mitolojik ve bilimsel açıklamaları uzlaştırmaları  
 C) Dogmatik düşünceyi tamamen ortadan kaldırmaları  
 D) Doğayı metafiziksel öğelerle açıklamaları  
 E) Evrenle ilgili çok sayıda araştırma yapmış olmaları



42. İki de zamanı tam olarak gösteren iki saatiniz bulunduğunu varsayın. Saatlerden biri saati işaret edince, öbürü çalsın. Saatlerden birini görüp öbürünü işitince, birinin öbürünün çalmasına neden olduğu sonucuna varacaksınız. Zihin ve beden için de aynı şey söz konusudur. Zihin de beden de birbirine uyması için zamanca birbirlerine göre Tanrı yönünden ayarlanmışlardır.

**B. Russell'in *Batı Felsefesi Tarihi* adlı eserinden alınan bu parçada anlatılanlar aşağıdaki varlık anlayışlarından hangisiyle açıklanır?**

- A) Platon'un idealizmi
- B) Descartes'in düalizmi
- C) Marx'ın materyalizmi
- D) Husserl'in fenomenolojisi
- E) Herakleitos'un oluşçuluğu

43. Davranış, organizmanın içsel ve dışsal uyarıcılara verdiği tepkidir. Davranışın nedenlerini açıklarken insanın biyolojik özellikleri, fizyolojik durumu, sosyal ve fiziksel çevresi ve yaşantıları dikkate alınmalıdır. Çünkü tıpkı kar taneleri gibi, insanlar da birbirlerinden farklıdır. Örneğin Liseye Geçiş Sınavı'na girecek olan öğrencilerin duygusal ve fizyolojik yaşantısı ve buna bağlı olarak ortaya çıkan tepkilerinin değişik olması gibi.

**Bu parçada anlatılanlar aşağıdaki yargılardan hangisini desteklemektedir?**

- A) Farklı uyarıcılar aynı organizmada aynı tepkiyi oluşturabilir.
- B) Aynı organizma aynı uyarıcıya farklı durumlarda farklı tepki gösterebilir.
- C) Farklı uyarıcılar aynı organizmada farklı tepkilere neden olabilir.
- D) Aynı uyarıcı farklı organizmalarda farklı tepkilere neden olabilir.
- E) Uyarıcıların şiddeti ne kadar güçlüyse, organizma o kadar çok etkilenir.

44. Bireylerin statülerine bağlı olarak yerine getirmeleri gereken davranışlara rol denir. Statü bireyin toplumdaki yerini, rol ise nasıl davranması gerektiğini gösterir. Bu anlamda rol toplumsal kurallara ve genelin beklentisine uygun davranmaktır. Bu durum bireyin davranışları üzerinde hem yaptırım gücüne hem de sınırlandırıcı etkiye neden olur.

**Bu parçada sosyal rolün hangi yönü vurgulanmıştır?**

- A) Zamanla değişime uğraması
- B) Topluma göre farklılaşması
- C) Bireyde çatışmaya neden olması
- D) Normatif nitelikte olması
- E) Sosyal saygınlığın belirleyicisi olması

45. Bu toplumsal etkileşim tipinde birey ya da grup, diğerleriyle sosyal ilişkiye girdiğinde kendisi için yararlı olduğunu düşündüğü ve ilişkiden beklenen ödülleri elde edebilmek için ilişkisini sürdürür. Örneğin Aristoteles'in *Nikomakhos'a Etik* adlı eserinde "İnsanlar ya da çoğu insanlar, asil olanı dilerler fakat kârlı olanı tercih ederler. Bir hizmeti, karşılık beklemezsizin yerine getirmek asil; hizmetin karşılığını almak ise kârlı bir davranıştır. Bir insan verdiği hizmetin karşılığını denk bir şekilde almalıdır ve bunu gönüllü olarak yapmalıdır." sözleri bu etkileşim biçimiyle ilişkilendirilebilir.

**Bu parçada açıklanan toplumsal etkileşim tipi aşağıdakilerden hangisidir?**

- A) Çatışma
- B) İşbirliği
- C) Mübadele
- D) Rekabet
- E) Uyum

46. I. İlem ve kaplam arasında doęru orantı vardır.  
II. Genelden özele doęru inildięinde kavramın ilemi artar.  
III. İlem bir kavramda bulunan tüm özellikleri ifade eder.  
IV. Bir kavramın kaplamının geniş olması kavramın çok sayıda nesneye uygun olması anlamına gelir.

**İlem ve kaplamla ilgili olarak verilen öncüllerden hangileri doęrudur?**

- A) I ve II  
B) I ve III  
C) II ve III  
D) I,II ve III  
E) II,III ve IV



# Kendini Deęerlendir



1

*Kare kodu okut.*

2

*Sınavını seę*

3

*Cevaplarını sisteme gir.*

4

*Eksik olduęun konuları analiz et.*

5

*Bu sınava katılanlar arasındaki sıralamanı gör.*



T.C. MİLLÎ EĞİTİM  
BAKANLIĞI

3 ADIM

DENEME SINAVLARI

2. ADIM

AYT  
sözel



4. DENEME

ADI VE SOYADI

OKUL ADI

ADAYIN İMZASI

**ADAYIN DİKKATİNE!**

1. Bu sınavda AYT soru dağılımları dikkate alınmıştır.
2. Deneme tam kapsam olup YKS konularının tamamını kapsamaktadır.
3. Bu sınav Türk Dili ve Edebiyatı - Sosyal Bilimler 1 Testi (TDE 24 soru, Tarih 10 soru, Coğrafya 6 soru) 40 soru, Sosyal Bilimler 2 Testi (Tarih 11 soru, Coğrafya 11 soru, Felsefe Grubu 12 soru, DKAB 6 soru ) 40 soru olmak üzere toplamda 80 soru içermektedir.

Bu testlerin her hakkı saklıdır. Hangi amaçla olursa olsun, testlerin tamamının veya bir kısmının Millî Eğitim Bakanlığının yazılı izni olmadan kopya edilmesi, fotoğrafının çekilmesi, herhangi bir yolla çoğaltılması, yayımlanması ya da kullanılması yasaktır. Bu yasağa uymayanlar gerekli cezai sorumluluğu ve testlerin hazırlanmasındaki mali külfeti peşinen kabullenmiş sayılır.

### **DİKKAT!**

Din Kültürü ve Ahlak Bilgisi dersini yasal olarak almak zorunda olan adaylar ve İmam Hatip Okulları öğrencileri/mezunları, Sosyal Bilimler-2 Testi'nin ilk 40 sorusunu cevaplamakla yükümlüdür. Bu adaylar, bu testin 41-46. sorularını cevaplamayacaklardır. Bu adaylar, bu testin 41-46. sorularında işaretleme yapmış olsalar bile bu cevapları değerlendirmeye alınmayacaktır.

Din Kültürü ve Ahlak Bilgisi dersini yasal olarak almak zorunda olmayan veya farklı müfredat ile alan adaylar, Sosyal Bilimler-2 Testi'nin 35-40. sorularını cevaplamadan 41-46. sorularını cevaplayacaklardır. Bu adaylar, bu testin 35-40. sorularında işaretleme yapmış olsalar bile bu cevapları değerlendirmeye alınmayacaktır.

### **AÇIKLAMA**

1. Bu kitapçıkta **86 soru** bulunmaktadır.  
Türk Dili ve Edebiyatı-Sosyal Bilimler-1 Testi: 40 soru  
Sosyal Bilimler-2 Testi: 46 soru
2. **Bu sınavda her testteki doğru cevaplarınızın sayısından yanlış cevaplarınızın sayısının dörtte biri çıkarılacak ve kalan sayı o bölüme ilgili ham puanınız olacaktır.**
3. Kitapçığın sayfalarındaki boş yerleri müsvedde için kullanabilirsiniz.
4. Cevaplamaya istediğiniz sorudan başlayabilirsiniz. Bir soru ile ilgili cevabınızı cevap kâğıdında o soru için ayrılmış olan yere işaretlemeyi unutmayınız.
5. Bu kitapçıkta yer alan her sorunun sadece bir doğru cevabı vardır. Cevap kâğıdında bir soru için birden çok cevap yeri işaretlenmişse o soru yanlış cevaplanmış sayılacaktır. İşaretlediğiniz bir cevabı değiştirmek istediğinizde silme işlemini çok iyi yapmanız gerektiğini unutmayınız.

1. Bu testte sırasıyla, Türk Dili ve Edebiyatı (1-24), Tarih-1 (25-34), Coğrafya-1 (35-40) alanlarına ait toplam 40 soru vardır.
2. Cevaplarınızı cevap kâğıdının Türk Dili ve Edebiyatı-Sosyal Bilimler-1 Testi için ayrılan kısmına işaretleyiniz.

1. İlk dönem, *Karga ile Tilki*'de (1954) sona erer. Bir sonraki kitap *Perçemli Sokak*, bıçak gibi mi keser bir dönemi ötekinden? Bir bakıma öyle. Ne tamı tamına Garip'ten kopuştur aslında ne de başka apayrı bir poetikaya geçiştir. Belki de bunun için *Perçemli Sokak*'ta bir kopma görmek yanlış olmayabilir. Bir bakıma da öyle değil ama anlama diklenme açısından kitabın şairleri Oktay Rifat serüveninin yeni bir halkasından ibarettir. Ne var ki 1956'daki çıkışından başlayarak Oktay Rifat ile II. Yeni şairleri arasında bir tür "soğuk savaş" alanı olma özelliğini koruyacaktır, *Perçemli Sokak*.

**Bu parçada altı çizili sözle anlatılmak istenen aşağıdakilerden hangisidir?**

- A) Şiire yeni bir soluk getirme  
B) Şiirde anlamı biçimden önde tutma  
C) Şiirde anlama değil imgeye kapı açma  
D) Şiirde mantıksal işleyişe karşı çıkma  
E) Şiirde müzikaliteyi vurgulama

2. Bir projede problemin çözümü için bir araya gelen katılımcılardan I. katılımcı çözüme yönelik şu öneride bulunur:

"Bugüne kadar yaptığımız bütün çalışmalarda kullandığımız yöntemden farklı bir şey düşünmeye kalkarsak işin içinden çıkamayız. En pratik yöntem, bildiğimiz uyguladığımız yöntemdir." Katılımcının düşüncesine katılmayan II. katılımcı düşüncesini şu şekilde açıklar: ...

**Bu parçadan hareketle II. katılımcının düşüncesi aşağıdakilerin hangisi olamaz?**

- A) Her işimizi aynı şekilde yaparsak zamana ayak uyduramayız ve daha etkili yöntemleri deneme fırsatını asla bulamayız.  
B) Geleneksel yaklaşımlarla hareket ederek yeni bir yöntem bulmak da mümkün ve bunu denemeden öğrenmenin yolu yoktur.  
C) Çağın gereklerine uyacağız diye geçmiş izlerini yok etmek zorunda değiliz elbette ama bu izlere takılıp kalmak da bizi başarıya götürmeyecek.  
D) Herhangi bir işte geçerli olabilecek bu çözüm, bu proje için geçerli olmaz çünkü burada yenilikçi yöntemlerle çözüm üretmek zorundayız.  
E) Bakış açıları zaman içinde farklılaşır ve bu farklılıkları yakalayamazsak geleceğe açılan kapıya ulaşmamız mümkün değildir.

3. Hayatımız boyunca vücudumuz sayısız yaralanma ve zedelenmeye maruz kalır fakat vücudumuzun rejeneratif (yenilenme) kabiliyeti sayesinde bu yaraların çoğu biz fark edene kadar kapanır. İşte bu noktada vücudumuzun rejenerasyon mekanizması devreye girer. Rejenerasyon; kaybedilmiş veya zarar görmüş hücrenin, dokunun, organın veya uzvun yeniden üretilme yeteneğidir ve rejenerasyon genellikle değişik dokularda farklılaşabilen kök hücreler sayesinde yürütülür. Bakterilerden insanlara tüm türler belli bir ölçüde rejenerasyon kabiliyetine sahiptir. Bu yetenek organizmaların gelişmişlik seviyesiyle genelde ters orantılıdır; canlı geliştikçe, canlının yenilenme yeteneğinin gittikçe azaldığı görülmektedir.

**Bu parçadan hareketle "rejenarasyon" ile ilgili aşağıdakilerden hangisi söylenbilir?**

- A) Yaşlı insanlar, rejenerasyon yetenekleri sayesinde daha rahat hareket ederler.  
B) Her canlının rejenerasyon kabiliyeti yoktur.  
C) İnsan vücudu geliştikçe yenilenme yeteneği de sürekli olarak artmaktadır.  
D) İnsan vücudunda herhangi bir organ bu yetenek sayesinde yeniden üretilir.  
E) İnsanın hayatta kalmasını sağlayan önemli bir özelliktir.

4. Gelenek, zamanla devinime uğrayan ve böylece sürekli olarak kendisini yenileyebilen canlı bir anlam alanı taşır. İnsanın var oluşundan bu yana aslında her tekâmülün beraberinde getirdiği davranış biçimleri ve anlayışlar geleneği yaşatır. Yani bir bakıma her çağ kendi içerisinde bir gelenek savaşı verir. Her zaman dilimi kendinden önceki döneme göre tekâmül ederek ilerlerken eskide kalanların direttiği yaşantılar geleneği oluşturmaya devam eder. Gelenek, bir taraftan kendi ürettiklerinin rafa kaldırılmasıyla mücadele ederken diğer taraftan yeni yaşantılar yoluyla etkinliğini sürdürür.

**Bu parçada gelenek ile ilgili aşağıdakilerden hangisine değinilmemiştir?**

- A) Sürekli değişime uğrayarak kendini yenilediğine
- B) İnsanların gelişim sürecinde meydana gelen anlayışlarla yaşadığına
- C) Her geleneğin kendinden öncekine göre olgunlaştığına
- D) Eskiden ürettiklerinin unutulmaması için mücadele ettiğine
- E) Eski ve yeniyle sürekli savaş hâlinde olduğuna

5. Sözün birey ve toplum yaşantısı üzerindeki etkisi oldukça fazladır. Bu anlamda söz; bir insanı sevdiren ya da sevdirmeyen, kavgayı başlatan ya da barışı getiren olabilir. Sözle oluşan yaranın yürekte kapanması zordur. Bu nedenle sözün bir insanın yaşamını derinden etkileyen terbiye edici özelliği vardır. Bunun yanında sözün gönül okşayıcı tarafları da mevcuttur. Olumlu etkisi olan sözler tatlı, güzel sözler iken olumsuz etki uyandıran sözler kötü, çirkin, yalan, kaba ve doğru sözlerdir. Doğru sözün birey ve toplum üzerindeki olumsuz etkisinin nedeni ise -halk lisanıyla- gerçeğin acı yani hakikatin kolay kabul edilebilir olmasından kaynaklanmaktadır.

**Bu parçadan hareketle söz ile ilgili aşağıdakilerin hangisi söylenemez?**

- A) İnsanlar üzerinde iz bırakır.
- B) Doğru söz, olumsuz etki bırakabilir.
- C) Bireyler arasındaki etkileşimi sağlar.
- D) Gerçeğe dayalı sözler iyi intiba bırakır.
- E) İnsanların kalbinde derin yaralar açabilir.



6. Tarık Buğra'nın, kendine özgü düşünce, görüş ve yorumlarının asıl kaynağı kuşkusuz makaleleriyle denemeleridir. Hikâye ve romanları ise onun sanatsal gücünü, edebiyatçı kimliğini ortaya koyan örneklerdir. Onun farklı bir düzlemde yer alan ve yazarlık hayatı boyunca zaman zaman dillendirilen söyleşileri de önemli. Buğra'yı önce fikir sahibi aydın bir insan sonrasında yetenekli bir yazar / sanatçı yönüyle tanımanın kestirme yolu söyleşilerden geçmektedir. Buğra nasıl yetişti, nerelerden geldi, hangi emel ve hedeflerin peşinde koştu, nasıl yazar oldu, bu uğurda hangi fedakârlıklarda bulundu, nasıl bir sanat anlayışını benimsedi, nihayet sahip olduğu kültürel ve sanatsal birikimi eserlerinde nasıl kullandı? Bu soruların karşılığını büyük ölçüde söyleşilerde buluyoruz.

**Bu parçada söz edilen sanatçıyla ilgili aşağıdakilerin hangisine ulaşılabılır?**

- A) Edebiyatın sanatsal değerine önem vererek başarılı eserler yazdığına  
 B) Birçok fikirden yararlanarak, araştırarak bunları eserlerinde değerlendirdiğine  
 C) Sanatsal olarak yazdığı eserlerden daha çok fikir yazılarında başarılı olduğuna  
 D) Edebiyatın birçok alanında eser verip fikirlerini de eserlerine yansıttığına  
 E) İçinde fikir barındırmayan eserleri yazmayı düşünmediğine ve değersiz bulduğuna

7. Bu yağmur, bu yağmur, bu kıldan ince,  
 Nefesten yumuşak yağan bu yağmur  
 Bu yağmur, bu yağmur, bir gün dinince,  
 Aynalar yüzümü tanımaz olur.

**Bu dördükle ilgili aşağıdakilerden hangisi söylenemez?**

- A) 11'li hece ölçüsüyle yazıldığı  
 B) Lirik şiirden alındığı  
 C) Çapraz kafiye düzeninde olduğu  
 D) Teşhis sanatından yararlandığı  
 E) Redife yer verildiği

8. I.  
 Dadaloğlu yarın kavga kurulur,  
 Öter tüfek davlumbazlar vurulur.  
 Nice koç yiğitler yere serilir,  
 Ölen ölür kalan sağlar bizimdir.

II.

Kaldı deli gönül kaldı hep yasta,  
 Mevla'm erdir beni murâda kasda,  
 Âşık Ömer eydür sevgili dosta,  
 Allah'ısmarladık diyemedim ben.

**Aşağıdakilerden hangisi bu dördlüklerin ortak özelliklerinden biri değildir?**

- A) 11'li hece ölçüsüyle yazılmış olma  
 B) Düz kafiye düzeninde kurulma  
 C) Ait oldukları şiirin son dördlüğü olma  
 D) Koçaklama türünde yazılmış olma  
 E) Sade bir dille yazılmış olma

9. **Aşağıdaki dizelerin hangisinde parantez içinde verilen edebî sanat yoktur?**

- A) Ellerim bir kanat gibi titrekti  
 Tutmasam, gözümden yaş inecekti  
 (Teşbih)
- B) Sevgilim, kapımı çaldı aydınlık  
 Baygın gözlerimi aldı aydınlık  
 (Teşhis)
- C) Zamanda her şey kopuk, kesik  
 Biçkisi kader makasında  
 (Tenasüp)
- D) Ana gibi yâr olmaz, İstanbul gibi diyar  
 Güleni şöyle dursun, ağlayanı bahtiyar  
 (Telmih)
- E) Ne yalanlarda var ne hakikatte  
 Gözümü yumdukça gördüğüm nakış  
 (Tezat)

10. I. *Sakarya Meydan Savaşı* - Ceyhun Atuf Kansu  
 II. *Atatürk Kurtuluş Savaşında* - Fazıl Hüsnü Dağlarca  
 III. *Kuvâyi Millîye Destanı* - Nâzım Hikmet Ran  
 IV. *Çanakkale Destanı* - Cahit Külebi  
 V. *Genç Osman Destanı* - Kayıkçı Kul Mustafa

**Numaralanmış bölümlerde yer alan eserlerden hangileri yer değiştirirse eser-şair eşleştirmelerindeki yanlışlık giderilmiş olur?**

- A) I ve II  
 B) I ve III  
 C) II ve IV  
 D) III ve V  
 E) IV ve V

11. (I) Türk dilinin tespit edilebilen en eski yazılı metinleri; VII. yüzyılın sonlarına ve VIII. yüzyılın ilk yarısına ait olan *Yenisey Yazıtları*, *Göktürk Kitabeleri* ve Uygur dönemine ait olan dinî metinlerdir. (II) Yazılı dönemde Göktürkler ve Uygurlar kendi alfabeleriyle eserler vermiştir. (III) Dönemin eserleri, gerek muhtevaları gerek dil ve üsluplarıyla Türk edebiyatının ve tarihinin önemli kaynakları arasında yer almaktadır. (IV) Bu eserler; Türk tarihini, toplumun yaşam biçimini, dünyaya bakış tarzını ortaya koymaktadır. (V) Bu eserlerin yazarı, bilinen ilk edebiyatçı olan Aprınçur Tigin'dir.

**Bu parçadaki numaralanmış cümlelerin hangisinde bilgi yanlışı vardır?**

- A) I      B) II      C) III      D) IV      E) V

12. XVI. yüzyılın başlarında Sivas'ın Yıldızeli ilçesinin Banaz köyünde doğduğu tahmin edilmektedir. "O ruh girdi bana Haydar dost dedi / Yaradandan nasibini istedi" mısralarından asıl adının Haydar olduğu anlaşılmaktadır. Şiirlerini coşkulu bir dille söylemesi ve tasavvufun yanında halkı ilgilendiren konulara da yer vermesi, şiirlerinde konu bütünlüğünün bulunması en önemli özellikleridir. Tasavvufi gelenek içinde yer almasına rağmen hece ölçüsüyle yazdığı birçok nefesi günümüzde dergâhlarda hâlâ okunmaktadır.

**Bu parçada söz edilen şair aşağıdakilerin hangisidir?**

- A) Hacı Bektâş Veli  
 B) Pîr Sultan Abdal  
 C) Hacı Bayram Veli  
 D) Kaygusuz Abdal  
 E) Yunus Emre

13. Yârim İstanbul'u mesken mi tuttun  
 Gördün güzelleri beni unuttun  
 Sılaya dönmeye yemin mi ettin

Gayrı dayanacak özüm kalmadı  
 Mektuba yazacak sözüm kalmadı

Yârim sen gideli yedi yıl oldu  
 Diktiğin fidanlar meyveyle doldu  
 Seninle gidenler sılaya döndü

Gayrı dayanacak özüm kalmadı  
 Mektuba yazacak sözüm kalmadı

**Bu şiirin nazım biçimi aşağıdakilerden hangisidir?**

- A) Türkü  
 B) Nefes  
 C) Koşma  
 D) Destan  
 E) Mânî

14. Divan şairlerinin divanlarının sonunda herhangi bir manzume içinde yer almadan başlı başına bir şiir gibi yazılmış dizeler bulunmaktadır. Rahmî'nin "Gün doğmadan meşîme-i şebden neler doğar" dizesi gibi örnekler kendi başlarına şiir sayılabilecek bir duyguyu veya manayı ifade edecek yoğunluktadır. Bir manzume içinde yer almayan, manaları kendi içlerinde tamamlanan bu tek dizelere ---- denilmektedir. II. Mahmut'un hekimbaşısı Abdülhak Molla'nın ecza dolabının kapısı üzerine yazdırdığı, "Ne ararsan bulunur derde devâdan gayrı" ve Muallim Nâci'nin gülümserken çekilmiş bir resminin altına yazdığı, "Mudhikât-ı dehre ben ölsüm de tasvîrim güler" bu türden dizelere örnektir.

**Bu parçada boş bırakılan yerlere aşağıdakilerden hangisi getirilmelidir?**

- A) mısra-ı berceste
- B) taç beyit
- C) miyan
- D) yek-avaz
- E) mısra-ı azade

15. Aşağıdaki mesnevi - konu eşleştirmelerinin hangisinde yanlışlık yapılmıştır?

- A) *Hayriyye* - ahlaki
- B) *Hüsrev ü Şirin* - aşk
- C) *Hüsn ü Aşk* - dinî
- D) *Beng ü Bâde* - kahramanlık
- E) *Harnâme* - eleştirel

16. Servetifünun şiirinin olduğu kadar modern Türk şiirinin de öncüleri arasındadır. Şair, sadece edebiyatla değil musiki ve resim ile de meşgul olmuştur. Tabiatı önemli bir kaynak olarak görmüş, resim ve fotoğraf altına şiir yazma geleneğinin başarılı örneklerini vermiştir.

**Aşağıdaki eserlerden hangisi bu parçada sözü edilen şaire aittir?**

- A) *Tâmât*
- B) *Gizli Figânlar*
- C) *Elhân-ı Vatan*
- D) *Çocuk Şiirleri*
- E) *Tarih-i Kadim*

17. Çocukluğum, çocukluğum  
Gözümde tüten memleket  
Artık bana sonsuz hasret  
Sonsuz keder çocukluğum.

**Bu dördlüğün teması dikkate alındığında aşağıdaki şairlerden hangisine ait olduğu söylenebilir?**

- A) Behçet Necatigil
- B) Nâzım Hikmet Ran
- C) Ziya Osman Saba
- D) Bedri Rahmi Eyuboğlu
- E) Ahmet Kutsi Tecer

18. Aşağıdakilerden hangisinde boş bırakılan yere parantez ( ) içindeki sanatçı getirilirse açıklama yanlış olur?

- A) ---- hikâye ve romanlarında şiirsel bir dil kullanmıştır. Psikolojik derinlik, bilinçaltına inen bir duyuruluk göstermiştir. (Ahmet Hamdi Tanpınar)
- B) ---- Anadolu'yu şiirlerinde en iyi işleyen şairlerimizdendir; şiirleri aşk, memleket güzelliği, vatan sevgisi üzerine kuruludur. (Faruk Nafiz Çamlıbel)
- C) ---- Garip Hareket'inin kurucusudur; şiirlerinde gündelik konuşmayı, sıradan insanların hayat koşullarını, yaşama biçimlerini kullanmıştır. (Orhan Veli Kanık)
- D) ---- şiire aruzla başlamış daha sonra heceye geçmiştir, *Akbaba* adlı mizah dergisini çıkarmıştır. (Oktay Rifat Horozcu)
- E) ---- denizi, deniz hayatını edebiyatımıza tam anlamıyla yerleştiren yazardır. (Cevat Şakir Kabaağaçlı)

19. Roman, 1916 yılında Kâmil Bey'in İspanya'dan ülkeye dönmesi ile başlar. Bu tarihlerde Osmanlı toprakları işgal altındadır. Kâmil Bey *Karadayı* gazetesinde çalışmaya başlar. Millî Mücadele'ye gönül vermiş olan Nedime Hanım da bu gazetede çalışır. İstanbul'un Anadolu'da Millî Mücadele ile bağlantısı bu gazetedir. Kâmil Bey gün geçtikçe Millî Mücadele ruhunu kavramaya başlar. İşgal kuvvetlerinin saldırı planını ele geçiren Nedime Hanım ve arkadaşları bu planı Anadolu'ya ulaştırmaya çalışırlar. Bu işi Kâmil Bey üstlenir. Ancak içlerindeki ajanlar nedeniyle yakalanırlar. Paşa oğlu olması nedeniyle kendisine ceza verilmez. Ancak büyük mevkiler teklif edilmesine rağmen sorgusunda Nedime Hanım ve arkadaşlarını ele vermez.

**Bu parçada kısaca özeti verilen romanın adı ve yazarı aşağıdakilerden hangisidir?**

- A) *Esir Şehrin İnsanları* - Kemal Tahir
- B) *Bereketli Topraklar Üzerinde* - Orhan Kemal
- C) *Kurtlar Sofrası* - Attilâ İlhan
- D) *Yaban* - Yakup Kadri Karaosmanoğlu
- E) *Küçük Ağa* - Tarık Buğra

20. Çağdaş Türk edebiyatının üretken, bir o kadar da önemli sanatçılarından olan yazar; tiyatro, roman, hikâye, deneme, hatıra ve mektup gibi hemen hemen her türde eser vermiştir. Yazarın Ankara'daki gözlemleri ve deneyimleri eserlerinin kurgusu bakımından önem taşımaktadır. "Roman, hiçbir edebiyat türünde olmadığı kadar hayata bağlıdır, onu anlatır." anlayışıyla hareket eden yazarın ilk romanı *Ölmeye Yatmak*'tır. Daha ilk romanında farklı tekniklerle okurunun karşısına çıkan sanatçı, eserinde sosyoloji doçenti Aysel'in geçmişiyile hesaplaşmasını anlatmıştır.

**Bu parçada sözü edilen sanatçı aşağıdakilerden hangisidir?**

- A) Sevgi Soysal
- B) Füzûzan
- C) Adalet Ağaoğlu
- D) Latife Tekin
- E) Sevinç Çokum

21. Edebiyat dünyasına roman yazarlığıyla giren ve yazı hayatının birinci döneminde sekiz roman yazan sanatçı, bunların altısında "konak, köşk ve yalı"lardan en az birine yer verir. Ayrıca yazar, romanlarında kullandığı bu konut tiplerine değişik fonksiyonlar yükler. Örneğin *Yolcu Nereye Gidiyorsun* romanında Osmanlı İmparatorluğu'nun gerilemesini ve ülkenin düştüğü kargaşayı somutlaştırmak ister ve bunun için "konak"ı imparatorluğun sembolü olarak kullanır. *İnsan ve Şeytan* ile *Mesihpaşa İmamı* romanlarında ise yazar, eserin ana kahramanlarına geriye dönüş tekniğiyle geçmişin ideal konaklarını anlattırır. Bu romanlarda ise konaklar; birlik ve beraberliğin, düzen ve huzurun mekânıdır.

**Bu parçada sözü edilen sanatçı aşağıdakilerden hangisidir?**

- A) Yakup Kadri Karaosmanoğlu
- B) Abdülhak Şinasi Hisar
- C) Sâmîha Ayverdi
- D) Reşat Nuri Güntekin
- E) Ahmet Hamdi Tanpınar

22. Oyunları, Şinâsi'nin *Şair Evlenmesi* ile Türk edebiyatında ilk modern örneğini veren töre komedisi çizgisi üzerinde durmaktadır. Eserlerini Meşrutiyet ve Cumhuriyet gibi iki köklü dönüşüm devresinde vermiştir. Oyunlarında Karagöz ve orta oyunu gibi geleneksel sanatların unsurlarıyla Türk tiyatrosunun modern dönem birikimlerinden edindiği tecrübeyi birleştirmiştir. *Aynaroz Kadısı*, *İstanbul Efendisi*, *Kafes Arkasında* oyunlarından bazılarıdır.

**Bu parçada sözü edilen sanatçı aşağıdakilerden hangisidir?**

- A) Muhsin Ertuğrul
- B) İbnürrefik Ahmet Nuri Sekizinci
- C) Musahipzâde Celâl
- D) Reşat Nuri Güntekin
- E) Halit Fahri Ozansoy

23. Karagöz, Anadolu coğrafyasında gölge oyununa verilen isimdir. Karagöz oyunu dört bölümden meydana gelir. ---- bölümünde Hacivat bir semai, arkasından da bir gazel okuyarak seyircilerin oturularına göre sol taraftan perdeye gelir ve bir eğlence ister. Hacivat'ın bağırmasından rahatsız olan Karagöz, kendi evinin bulunduğu yerden fırlar; Hacivat'a vurur. Bu ilk çatışmadan sonra sadece Karagöz'le Hacivat arasında geçen yanlış anlaşılmalara dayalı konuşmaları içeren ---- bölümü oyunun ikinci bölümüdür. ---- bölümü, Karagöz oyununun kendisine verilen isimdir. Bu bölümde Karagöz ve Hacivat başta olmak üzere oyunun kişilerle ilgili bir olay ve bu olay etrafında gelişen durumlar söz konusudur. ---- bölümü hemen hemen oyunun en kısa bölümüdür. Bu bölümde oyundan çıkarılması gereken ders vurgulanır.

**Bu parçada boş bırakılan yerlere aşağıdakilerden hangisi sırasıyla getirilmelidir?**

- A) muhavere - fasıl - mukaddime - bitiş
- B) fasıl - muhavere - mukaddime - bitiş
- C) mukaddime - fasıl - muhavere - bitiş
- D) fasıl - mukaddime - muhavere - bitiş
- E) mukaddime - muhavere - fasıl - bitiş

24. Bu şairin şiirinde Servetifünun şiirinin genelinde olduğu gibi "tasvir" ön plandadır. Varlığı bir fotoğraf gibi idrak etmek, renk ve şekilleri canlı tutmak, gerçeklik duygusu yaratmak şairin o dönem şiiri içinde keşfettiği bir özelliktir.

**Bu parçada sözü edilen şairin aşağıdaki akımların hangisinden etkilendiği söylenebilir?**

- A) Sembolizm
- B) Parnasizm
- C) Realizm
- D) Dadaizm
- E) Sürrrealizm

- 25. I. Firavun
- II. Piramit
- III. Mumyacılık
- IV. Çivi yazısı
- V. Papirüs

**Yukarıdakilerden hangisi, Mısır medeniyetine ait bir özellik değildir?**

- A) I
- B) II
- C) III
- D) IV
- E) V

- 26. I. Avarlar
- II. Uygurlar
- III. Hunlar

**Yukarıdaki Türk boylarından hangisi hem Asya'da hem de Avrupa'da devlet kurmuştur?**

- A) Yalnız I
- B) Yalnız II
- C) Yalnız III
- D) I ve III
- E) I, II ve III

27. İslâm kültür ve medeniyetinde, aşağıdakilerden hangisi dinî bilimler içinde yer almaz?

- A) Fıkıh
- B) Kelâm
- C) Minyatür
- D) Hadis
- E) Tefsir

28. Türkiye Selçuklu Devleti'nde; Anadolu'dan dışarıya ihraç ürünleri olarak, canlı hayvan ve hayvan ürünleri, tuz, silah, kereste ve halı gibi hammadde ve işlenmiş eşyalar satılmıştır.

**Bu duruma bakıldığında Türkiye Selçukluları ile ilgili;**

- I. kültürel etkileşimin geliştiği,
- II. dış ticaretin geliştiği,
- III. dokumacılığın geliştiği,
- IV. hayvancılığın yaygın olduğu,
- V. ithalatın yapılmadığı

**gibi durumlardan hangisi söylenemez?**

- A) I      B) II      C) III      D) IV      E) V

29. Osmanlı toplumunda insanlar başarıları oranında, Müslüman olmak ve Türkçeyi bilmek şartıyla yönetici olabiliyorlardı.

**Bu durum Osmanlı Devleti ile ilgili olarak;**

- I. dikey hareketliliğin yaşandığı,
- II. teokratik anlayışın bulunduğu,
- III. sınıf farklılıklarının yaşandığı

**yargılarından hangilerini doğrular?**

- A) Yalnız I      B) I ve II      C) I ve III  
D) II ve III      E) I, II ve III

30. I. Sultan Abdülaziz'in tahttan indirilmesi  
II. Meşrutiyet'in ilanı  
III. 31 Mart Vakası  
IV. Bâb-ı Âli baskını

**Yukarıda verilen gelişmelerden hangileri Mebusan Meclisi'nin açılmasını sağlamıştır?**

- A) Yalnız I      B) Yalnız II      C) Yalnız III  
D) I, III ve IV      E) II, III ve IV

31. **23 Nisan 1920'de Ankara'da, milletin egemenliği-ne dayalı bir meclisin açılmasına neden olan gelişme, aşağıdakilerden hangisidir?**

- A) Erzurum Kongresi'nin toplanması
- B) İstanbul'un İtilaf devletleri tarafından resmen işgal edilmesi
- C) Misâk-ı Milli'nin kabul edilmesi
- D) Mondros Ateşkes Antlaşması'nın imzalanması
- E) Batı Anadolu'da Yunan işgalinin geniş alanlara yayılması

32. **Şükrü Saraçoğlu'nun kurduğu ikinci hükümet döneminde kabul edilen Toprak Mahsulleri Vergisi, aşağıdakilerden hangisine benzetilebilir?**

- A) Çift Bozan Vergisi
- B) Ağnam Vergisi
- C) Aşar Vergisi
- D) Cizye Vergisi
- E) Bac Vergisi

33. **Aşağıdakilerden hangisi Lozan Antlaşması'nın sonuçlarından değildir?**

- A) Dış borçlar sorununun çözümü
- B) Kapitülasyonların kaldırılması
- C) Boğazlar bölgesinin kesin denetiminin sağlanması
- D) Yeni Türk Devleti'nin uluslararası alanda tanınması
- E) I. Dünya Savaşı'nı sonuçlandıran son antlaşma olması

34. 1980'de İran ile Irak arasında sekiz yıl süren savaşlara;

- I. Şattularap su yolu
- II. Dini ve etnik anlaşmazlıklar
- III. Golan Tepeleri hâkimiyeti

**durumlarından hangileri neden olmuştur?**

- A) Yalnız I      B) Yalnız II      C) Yalnız III  
D) I ve II      E) I, II ve III

35. Aşağıda canlıların yeryüzüne dağılışı ve yaşam koşulları ile ilgili ifadeler verilmiştir.

- I. Sıcak ve nemli olan Ekvatorial iklim bölgesinde yıl boyu yeşil kalabilen uzun boylu ve geniş yapraklı ağaçlar ile çok çeşitli hayvan türleri vardır.
- II. Kıtaların birbirinden ayrılması, yeryüzündeki bitki ve hayvanların bulunduğu sahaların da birbirinden uzaklaşmasını beraberinde getirmiştir.
- III. İlk çağlardan bu yana doğadan çeşitli şekillerde yararlanan insanlar, farklı faaliyetlerle bitki ve hayvanların dağılışını etkilemişlerdir.

**Bu ifadeler canlıların yeryüzüne dağılışında etkili olan hangi faktörlerle ilgilidir?**

	I	II	III
A)	Fiziki	Biyolojik	Paleocoğrafya
B)	Biyolojik	Fiziki	Paleocoğrafya
C)	Paleocoğrafya	Fiziki	Biyolojik
D)	Biyolojik	Paleocoğrafya	Fiziki
E)	Fiziki	Paleocoğrafya	Biyolojik

36. Artan dünya nüfusu ve tüketim miktarı, doğal kaynakların hızlıca tüketilmesi, atıkların doğal ortama bırakılması gibi etkenler nedeniyle doğal çevre kendini yenileyememekte ve zamanla özelliğini kaybetmektedir.



**Harita üzerinde işaretlenen yerlerden hangilerinin de bu durumun daha fazla yaşandığı söylenebilir?**

- A) I ve II      B) I ve III      C) II ve III  
D) II ve IV      E) III ve IV

37. Taşkın, karalar üzerindeki suların çeşitli nedenler ile yükselerek arazilerin sular tarafından baskına uğraması olayıdır. Genellikle ilkbahar aylarında görülen taşkınlar daha çok kar erimelerine bağlı olarak gerçekleşir.



**Haritada numaralandırılarak gösterilen yerlerden hangisinde bu nedene bağlı taşkınlar daha fazla yaşanmaktadır?**

- A) I      B) II      C) III      D) IV      E) V

38. Aşağıda, ilk medeniyetlerin kurulduğu alanlardan beş tanesinin gösterildiği harita ile bu alanların dördünde kurulan medeniyetlere ait özellikler verilmiştir.



- Yukatan Yarımadası'ndaki verimli topraklar ile su kaynakları çevresinde kurulan medeniyetin ekonomisi tarıma dayanmaktadır. İnşa ettikleri tapınaklar, saraylar ve piramitler mimarinin geliştiğini göstermektedir.
- İndus ve Ganj nehirleri çevresinde kurulmuş olan medeniyet, tarım kültürü açısından ciddi bir potansiyele sahiptir. Birçok dine ev sahipliği yapan bu medeniyette halk, kast sistemi adı verilen sınıflara ayrılmıştır.
- Sarı Irmak ve Gök Irmak nehirleri arasındaki verimli topraklarda kurulmuş olan medeniyet, dünyanın en eski uygarlıkları arasında yer almaktadır. İpek Yolu'nun ortaya çıkmasına ve ticaretin gelişmesine katkı sağlamıştır.
- Nil Nehri çevresinde kurulmuş olan medeniyetin etrafının çöl ve denizlerle çevrili olması, diğer medeniyetlerle etkileşimini azaltmıştır. Hiyeroglif adı verilen yazı kullanılmış, tıp ve eczacılıkta da önemli gelişmeler kaydedilmiştir.

**Haritada numaralarla gösterilen alanlardan hangisinde kurulan medeniyete ait özellik verilmemiştir?**

- A) I      B) II      C) III      D) IV      E) V

39. Bir ülkenin idari sınırları dâhilinde bulunan fakat gümrük sahası dışında bırakılan, ülkenin diğer kısımlerinden farklı olarak, birtakım ekonomik ayrıcalıkların tanındığı bölgelere serbest bölge denir.

**Bu bölgelerin kuruluş amaçları arasında aşağıdakilerden hangisi yer almaz?**

- A) Ticari işletmeleri ihracata yönlendirmek  
B) Ülkede doğal kaynakların miktarını artırmak  
C) Uluslararası ticaretin gelişimini desteklemek  
D) İhracat odaklı üretim ve yatırımları desteklemek  
E) Yabancı yatırımları ve teknolojik girişimleri teşvik etmek

40. Beşerî faaliyetler sonucu sera etkisi yapan gazların atmosferdeki oranlarının hızla artmasıyla gerçekleşen küresel iklim değişikliği, küresel çevre sorunlarının başında yer alır. Küresel iklim değişikliği bazı durumlarda diğer çevre sorunları üzerinde de etkili olabilmektedir.

**Aşağıdakilerden hangisinin oluşmasında bu küresel çevre sorununun etkisi daha azdır?**

- A) Heyelan  
B) Kuraklık  
C) Çölleşme  
D) Buzulların erimesi  
E) Biyoçeşitliliğin azalması



1. Bu testte sırasıyla, Tarih-2 (1-11), Coğrafya-2 (12-22), Felsefe Grubu (23-34), Din Kültürü ve Ahlak Bilgisi (35-40), Din Kültürü ve Ahlak Bilgisi dersini yasal olarak almak zorunda olmayan veya farklı müfredat ile alanlar için Felsefe Grubu (41-46) alanlarına ait toplam 46 soru vardır.
2. Cevaplarınızı cevap kâğıdının Sosyal Bilimler-2 Testi için ayrılan kısmına işaretleyiniz.

1. Köktürk ve Uygur Devletlerine bağlı olarak yaşayan Oğuzlar, bu devletlerin yıkılmasından sonra biraz daha batıya göç ederek, Oğuz Yabgu Devleti'ni kurmuşlardır. İslamiyet'i kabul ettikten sonra da Büyük Selçuklu, Türkiye Selçuklu ve Osmanlı Devleti'ni kurarak, Türk kültürünün geniş bir coğrafyaya yayılmasını sağlamışlardır.

**Buna göre Oğuzların çok sayıda devlet kurmalarında;**

- I. Din değiştirmeleri  
II. Teşkilatçılık konusunda diğer Türk boylarından önde olmaları  
III. Batıya göç etmeleri

**durumlarından hangilerinin daha etkili olduğu söylenebilir?**

- A) Yalnız I                      B) Yalnız II                      C) Yalnız III  
D) I ve II                      E) I, II ve III

2. İslam dünyasındaki,

- I. Arapçanın resmî dil ilan edilmesi  
II. İlk Arap parasının basılması  
III. Türkler için Samarra kentinin kurulması

**gelişmelerden hangilerinin mevali uygulaması ile ilgili olduğu söylenemez?**

- A) Yalnız I                      B) Yalnız II                      C) Yalnız III  
D) II ve III                      E) I, II ve III

3. Aşağıdakilerden hangisi, Türkiye Selçukluları Devleti'nde ticareti geliştirmek amacıyla yönelik bir uygulama değildir?

- A) Konaklama yerlerinin düzenlenmesi  
B) Limanların fethine önem verilmesi  
C) İktisadî sisteminin uygulanması  
D) Kervansarayların yapılması  
E) Yol güvenliğinin sağlanması

4. Osmanlı Devleti'nde medreseler temel eğitim kurumlarıdır. Bu kurumların dışında din eğitimi veren tekke ve zaviyeler de birer eğitim kurumu şeklinde hizmet vermişlerdir. Osmanlı padişahları da bu tekkelerde ve zaviyelerde görev yapan tarikat mensuplarına destek olmak için yevmiye bağlamıştır.

**Osmanlı Devleti'nde padişahın bu tutumu;**

- I. Tekke mensuplarının devlete vergi vermesini sağlamak  
II. Tarikatların devlete bağlılığını artırmak  
III. Tekke ve zaviyelerin toplumsal düzenin sağlanmasına katkısını artırmak

**gibi amaçlarından hangileri ile açıklanabilir?**

- A) Yalnız II                      B) I ve II                      C) I ve III  
D) II ve III                      E) I, II ve III

5. Osmanlı Devleti fethettiği toprakların önemli bir bölümünü uygulanan dirlik sisteminin gereği olarak savaşta yararlık gösteren askerlere ayırmıştır. Dirlik sahipleri mülkiyeti devlete ait olan toprakları ektirmek, vergileri toplamak bu gelirin bir bölümüyle asker beslemek, savaş durumunda bu askerlerle padişahın ordusuna katılmakla yükümlüdürler. Bu sorumluluklar yerine getirdiği sürece de dirlik gelirinden yararlanma hakkını sürdürmüşlerdir.

**Buna göre;**

- I. Toprak yönetimi askeri sistemle ilişkilendirilmiştir.  
 II. Hazinesinin gelirleri bu uygulama ile azaltılmıştır.  
 III. Toplum üzerinde baskıcı bir yönetim oluşturulmuştur.

**yargılarından hangisine ulaşamaz?**

- A) Yalnız I      B) Yalnız II      C) Yalnız III  
 D) I ve II      E) II ve III

6. Küçük Kaynarca Antlaşması'nın bazı maddeleri şunlardır:

- I. Azak, Yenikale, Kerç ve Kabartay kaleleri Rusya'ya verilecek.  
 II. Ruslar, Balkanlarda istedikleri şehirlerde konsolosluklar açabilecekler.  
 III. Osmanlı Devleti, Rusya'ya savaş tazminatı ödeyecek.  
 IV. Rusya, Karadeniz'de donanma bulundurabilecek.  
 V. Rus tüccarlarına da Fransızlara verilen kapitülasyonlar tanınacak.

**Bu maddelerden hangisi ile Karadeniz'in Türk gölü olma özelliğinin sona erdirdiği söylenebilir?**

- A) I ve II      B) I ve IV      C) II, III ve IV  
 D) III, IV ve V      E) IV ve V

7. **Islahat Fermanı'na göre;**

- I. Gayrimüslimleri küçük düşürücü sözler kullanılmayacaktır.  
 II. Askerlik için nakdi bedel kabul edilecektir.  
 III. Hristiyanlar il meclislerine üye olabilecektir.  
 IV. Herkes şirket ve banka gibi kurumlar açabilecektir.

**Bu kararlardan hangilerinin azınlıklara siyasî haklar kazandırdığı savunulabilir?**

- A) Yalnız I      B) Yalnız II      C) Yalnız III  
 D) I ve III      E) II ve IV

8. XIX. yüzyılda Balkanlarda yaşayan milletler ayrılık amaçlı birçok ayaklanma çıkarmışlardır. Bu ayaklanmaların çıkmasında Osmanlı Devleti'nin uygulamalarından kaynaklanan sebeplerin yanında, Avrupa'da meydana gelen olayların ve gelişmelerin de etkisi olmuştur.

**Balkan ayaklanmalarının meydana gelmesinde;**

- I. Sanayi Devrimi  
 II. Fransız İhtilali  
 III. İşçi hareketleri

**gibi gelişmelerden hangisi etkili olmuştur?**

- A) Yalnız I      B) Yalnız II      C) Yalnız III  
 D) I ve II      E) II ve III

9. Mustafa Kemal'e ait aşağıdaki eserlerden hangisi diğerlerinden farklı bir alanda yazılmıştır?

- A) Takımın Muharebe Talimi
- B) Cumalı Ordugâhı
- C) Taktik Tatbikat Gezisi
- D) Bölüğün Muharebe Eğitimi
- E) Geometri Kitabı

10. Türkiye'nin Milletler Cemiyeti'ne davet edilmesinde aşağıdaki durumlardan hangisinin etkili olduğu söylenebilir?

- A) Osmanlı Devleti'nden kalan borçları ödeyecek olması
- B) Balkan Antantı'nda yer alması
- C) Montrö Boğazlar Sözleşmesi'ni imzalaması
- D) Sadabat Paktı'nın kurulması için girişimde bulunması
- E) Uluslararası sorunların çözümünde barışa öncelik vermesi

11. İsrail'in siyasi varlığını tanıyan ilk Arap ülkesi aşağıdakilerden hangisidir?

- A) Suriye
- B) Irak
- C) Mısır
- D) Ürdün
- E) Lübnan

12. Çalı biyomunda doğal bitki örtüsü ılık ve yağışlı geçen kışlarla, sıcak ve kurak geçen yazlara uyum sağlamış bodur ağaç ve çalılardan oluşur. Çakal, yaban koyunu, yaban keçisi, tavşan, puma, tilki ve karaca bu biyomda görülen hayvan türlerinden bazılarıdır.



Haritada numaralandırılarak gösterilen alanların hangisi bu biyomun dağılış alanında yer alır?

- A) I
- B) II
- C) III
- D) IV
- E) V

13. Atmosferin stratosfer katmanı içerisinde yoğun olarak bulunan ozon gazı doğal ve beşerî çevre için çok önemli bir yere sahiptir. İnsanların çeşitli amaçlarla klima, buzdolabı, sprey ve yangın söndürücü kullanımı ile ortaya çıkan kloroflorokarbon gazları ozon moleküllerini parçalar ve ozon tabakasının seyrelmesine neden olur.

**Bu seyrelmeye bağlı olarak;**

- I. Bitkilerin fotosentezinin hızlanması
- II. İnsanlardaki deri ve göz hastalıklarının artması
- III. Ultraviyole ışınlarının yeryüzüne daha fazla ulaşması

**olaylarından hangilerinin yaşanması beklenir?**

- A) Yalnız I
- B) Yalnız II
- C) Yalnız III
- D) I ve II
- E) II ve III

14. Sürdürülebilir kalkınma, mevcut ve gelecek nesiller için daha iyi bir yaşam kalitesi sağlamakla ilgilidir. Bu, bir bütün olarak dünyada aynı anda temel hedeflere ulaşılmasını gerektirir.

**Aşağıdakilerden hangisi bu temel hedeflerden biri değildir?**

- A) Çevrenin etkin korunması
- B) İstihdam seviyesinin sürdürülmesi
- C) Yüksek ve istikrarlı ekonomik büyüme
- D) Doğal kaynakların yüksek kapasitede kullanımı
- E) Herkesin ihtiyaçlarını karşılayan sosyal ilerleme

15. Günümüzde hız kazanan dağıtım, hem üretim hem de tüketimde büyük artışlara neden olmuştur. Ham maddenin üretim merkezlerine ve oradan çıkan mamul maddelerin de pazarlara ulaştırılabilmesi için dağıtıma ihtiyaç vardır. Ayrıca dağıtım ürünlerin tüketiciye bozulmadan, en kısa sürede temin edilmesi bakımından da oldukça önemlidir.

**Aşağıdaki ifadelerden hangisi bu faaliyeti etkileyen doğal faktörler ile ilgilidir?**

- A) Teknolojiye bağlı olarak ulaşım sistemlerinin gelişmesi
- B) Gelir düzeyinin yükselmesi ile ihtiyaçların çeşitlenmesi
- C) Pazarlama tekniklerindeki gelişmeler ile tüketimin artması
- D) Sanayi merkezlerinde kalifiye eleman sayısının fazla olması
- E) Engembeli alanlarda dağınık özellikte kırsal yerleşmelerin bulunması

16. Maddi ve manevi unsurlardan oluşan kültür, değişik toplumlarda ve bölgelerde farklı veya benzer özellikler göstermektedir. Benzer kültürel özelliklerin farklı toplumlara ve bölgelere yayılabilmesi çeşitli etkenlerle ilgilidir.

**Buna göre;**

- I. Coğrafi keşifler
- II. Büyük göç hareketleri
- III. Yoğun nüfuslu bölgelerin oluşması

**durumlarından hangileri bu yayılma üzerinde daha etkili olmuştur?**

- A) Yalnız I
- B) Yalnız II
- C) Yalnız III
- D) I ve II
- E) II ve III

17. İklim, bitki örtüsü, yeryüzü şekilleri ve su kaynakları gibi coğrafi özelliklerin dünyanın her yerinde aynı olmaması, bitki ve hayvan türlerinin yeryüzüne dağılımında farklılığa neden olmuştur.

**Bu dağılışıla ilgili olarak aşağıdakilerden hangisi söylenemez?**

- A) Sıcaklık ortalamalarının yıl boyunca 0°C altında olduğu alanlar bitki örtüsünden yoksundur.
- B) Yağış rejiminin düzensiz olduğu bölgelerde orman toplulukları görülmez.
- C) Yıllık yağışın az, günlük sıcaklık farkının fazla olduğu alanlarda kurakçıl bitkiler yaygındır.
- D) Yükseltinin fazla olduğu alanlarda biyoçeşitlilik genel olarak azdır.
- E) Kuzey Yarım Küre'de dağların güney yamaçlarında sıcaklık isteği fazla olan bitkiler daha yaygındır.

18. Küresel ve ekonomik bir örgüt olan Ekonomik İşbirliği ve Kalkınma Örgütü (OECD) 2022 yılı itibarıyla 38 üyeye ulaşmıştır. Türkiye, Ekonomik İşbirliği ve Kalkınma Örgütü'nün kurucu üyeleri arasında yer almaktadır.

**Bu örgütün kuruluşundaki temel amaçlar arasında aşağıdakilerden hangisi yer almaz?**

- A) Uluslararası barışın devamını sağlamak
- B) Üye ülkelerin istihdam olanaklarını geliştirmek
- C) Uluslararası ticaretin gelişmesini desteklemek
- D) Gelişmekte olan ülkelerin ekonomik kalkınmalarına katkı sağlamak
- E) Üye ülkelerin kendi kendine yetecek ekonomik gelişmesine destek olmak

19. I. Yer sarsıntıları yaşanması  
II. Mega tsunamilerin oluşması  
III. Güneş ışınlarının yeryüzüne daha büyük açılarla ulaşması

**Yukarıdakilerden hangileri, büyük bir gök taşının dünyaya çarpması ile ilişkilendirilebilir?**

- A) Yalnız I
- B) Yalnız II
- C) Yalnız III
- D) I ve II
- E) I ve III

20. Nüfus artışı, sanayileşme, insanların refah seviyesinin yükselmesi ve teknolojik gelişmelere bağlı olarak enerji üretimi artmaktadır. Bu üretim artışı hava, su, toprak ve radyoaktif kirliliği de beraberinde getirmektedir.

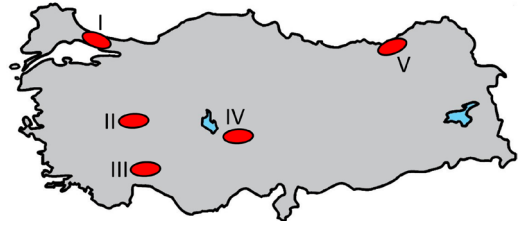
**Bu kirlilik türlerinin oluşmasında;**

- I. jeotermal,
- II. termik,
- III. nükleer,
- IV. hidroelektrik

**santrallerden hangilerinde enerji üretilmesi daha etkilidir?**

- A) I ve II
- B) I ve III
- C) II ve III
- D) II ve IV
- E) III ve IV

21. Aşağıdaki haritada beş alan numaralandırılarak gösterilmiştir.



**Bu yerlerin turizm potansiyelleriyle ilgili olarak aşağıdakilerden hangisi söylenemez?**

- A) I numaralı alanda nüfusun ve sanayinin yoğun olması nedeniyle turizm gelişmemiştir.
- B) II numaralı alanda fay hatları termal turizmin gelişmesinde etkili olmuştur.
- C) III numaralı alanda karstik arazinin yaygın olması mağara turizminin gelişmesinde etkili olmuştur.
- D) IV numaralı alanda doğal yer şekilleri turizmin gelişiminde etkili olmuştur.
- E) V numaralı alanda yazların yağışlı geçmesi nedeniyle kıyı turizmi fazla gelişmemiştir.

22. Ekonomik faaliyetler doğal kaynak kullanımını gerektirir. Bu doğal kaynaklardan biri de kendini yenileme özelliğine sahip olan ormanlardır. Ormanların kendini yenileme hızından daha hızlı tüketilmesi ormanları sınırlı ve tükenbilir bir kaynak hâline getirir. Ormanların kereste elde etmek, yerleşme ve tarım alanı açmak gibi nedenlerle tahribi, bu doğal ortamın giderek yok olmasına yol açar.

**Tükenebilirlik açısından bu doğal kaynak ile;**

- I. rüzgâr
- II. toprak
- III. kömür
- IV. tatlı su

**gibi doğal kaynaklardan hangileri daha benzer özelliktedir?**

- A) I ve II
- B) I ve III
- C) II ve III
- D) II ve IV
- E) III ve IV

23. Yaratıcı bir düşüncenin ürünü olan sanat eserinin güzelliğini sağlayan şey zaten kendisinde olan değerdir. Esere aura veren de kimlik kazandıran da alımlayıcının ona yönelmesini sağlayan da eserin bu "kendinde güzel olma" özelliğidir. Örneğin Shakespeare'in herhangi bir eserinin günümüzde hâlâ sergileniyor olması ve çok fazla alımlayıcı bulması bu durumun göstergesidir.

**Bu parçada vurgulanmak istenen aşağıdakilerden hangisidir?**

- A) Estetik yargıların rölatif bir niteliğe sahip olduğu
- B) Güzellik yargısının belirleyicisinin alımlayıcı olduğu
- C) Sanatın toplumsal koşullardan bağımsız olmadığı
- D) Sanat eserinin tek başına estetik bir değer taşıyamayacağı
- E) Ortak estetik yargılara ulaşmanın mümkün olduğu

24. Düşüncenin gelişimi ve pratiğe dönüşmesinde etkin olan dil bu özellikleri açısından insanın yapay etmelerinin yaratıcı ve taşıyıcı aracıdır. Takiyettin Mengüşoğlu *Felsefeye Giriş* adlı eserinde şöyle demiştir: "Dil olmadan tarihsel varlık-alanı, insan tarihi diye bir alan varolmayacaktır. O zaman insan da hayvan gibi tarihsel varlık-alanından, "tarihten" yoksun kalacak ve sadece doğal bir varlık olacaktır. Dil olmadan insanlar da, tıpkı hayvan tekleri gibi birbirinden habersiz kalacaklar ve yan yana yaşayacaklardı. İnsanlar arasında bileştirici bir bağ bulunmayacak, yani insanların birbirini anlamaları ya da anlamamaları olanağı olmayacaktır."

**Bu parçadan aşağıdaki yargıların hangisine ulaşılamaz?**

- A) İnsanın kendi varlığını ortaya koymasının yolu dildir.
- B) Dil ve düşünce birbirini beslerler.
- C) Düşüncenin oluşumunun koşulu dildir.
- D) Düşünme dille varlık sahasına çıkar.
- E) Kültürel birikimin varlığı dilin varlığına bağlıdır.

25. Thomas Kuhn'un bilim anlayışının temelindeki kavramlarından birisi paradigmadır. Paradigma bilimsel çalışmalara kaynaklık eden, belli bir dönemde bilim insanları tarafından doğruluğu kabul edilen, bilimsel düşünceler, değerler çerçevesidir. Kuhn *Bilimsel Devrimlerin Yapısı* adlı eserinde şöyle der: "Aslında gözlem ve deneyim, bilimsel inançların sınırını ciddi şekilde kısıtlı tutabilir ve tutmalıdır da, aksi halde bilim olmaz, ama bu tür inançların herhangi bir parçasını kendi başlarına belirleyemezler. Kişisel ve tarihsel rastlantıların bileşiminden oluşan ve görünürde keyfi gibi duran bir öge, belli bir zamandaki belli bir bilim çevresi tarafından benimsenen inançların daima temel malzemesi olmuştur ve olacaktır."

**Bu parçadan Kuhn'un bilim anlayışına ilişkin aşağıdaki yargılardan hangisine ulaşılabılır?**

- A) Bilimde kesin doğrulara ulaşmak mümkün değildir.
- B) Bilimin yöntemi tümdengimsel bir akıl yürütme olmalıdır.
- C) Bilim insanları birbirlerinin çalışmalarından faydalanır.
- D) Bilimsel çalışmalarda tam bir objektiflikten söz edilemez.
- E) Paradigmalar bilim insanlarının kişisel görüşlerini yansıtır.

26. Psikoloji, insan davranışlarını inceleyen pozitif bir bilimdir. Psikoloji öncelikle insan davranışlarının ne olduğunu, nasıl oluştuğunu bulmaya çalışır. İnsan davranışlarının nedenlerini anlamaya ve bireyin şu an ki durumundan, davranışından yola çıkarak gelecekte nasıl davranacağını bulmaya çalışır.

**Parçada psikolojinin hangi amacına değinilmiştir?**

- A) Açıklama
- B) Anlama
- C) Betimleme
- D) Kontrol
- E) Yordama

27. Hepimiz benliğimizin örgüsel bütünlüğünü sürdürmek ve korumak amacıyla hareket eder ve tepkide bulunuruz. Bu tepkilerin bilinç dışında gelişmesi durumu savunma mekanizmaları olarak nitelendirilir. Bireylerin karşılaştıkları problemlerle ilgili başa çıkma yolları olan bu mekanizmalar sorunu çözmez, sadece egoyu korur, suçluluk duygusu ve kaygıyı azaltır. Fakat her sorunda bu mekanizmayı kullanan bireylerin ruh sağlığı olumsuz etkilenecek ve bireyler için gerçekliğin çarpıtıldığı bir strateji haline gelecektir.

**Bu parçada savunma mekanizmaları ile ilgili vurgulanmak istenen aşağıdakilerden hangisidir?**

- A) Her sağlıklı birey tarafından kullanılan bir yöntem olduğu
- B) Farkında olmadan kullanılan refleksif tepkilerden oluştuğu
- C) Bireylerin sorunlarına farklı bakış açısı geliştirmesinde etkili olduğu
- D) Amaç haline gelmesinin bireylerin sağlığını olumsuz etkileyeceği
- E) Bireylerin kendisini gerçekleştirmesinde yardımcı rol oynadığı

28. Bir organizmanın öğrenme edimini gerçekleştirebilmesi için gerekli biyolojik donanıma sahip olması gerekir. Çünkü organizmalar genetik donanımına uyan davranışları öğrenebilirler. Örneğin bir insan konuşmayı öğrenebilir fakat bir aslana konuşmayı öğretemeyiz. Bir davranışın öğrenilmesinde bilişsel ve bedensel yetkinliğe ulaşmak da son derece önemlidir. Bir bebeğin yürüyebilmesi, konuşabilmesi, tuvalet alışkanlığı kazanabilmesi için gerekli gelişimsel düzeye ulaşabilmesi gerekir.

**Bu parçada öğrenmeyi etkileyen;**

- I. Güdülenme
- II. Türe özgü hazır oluş
- III. Olgunlaşma
- IV. Genel uyarılmışlık hali

**faktörlerinden hangileri örneklendirilmiştir?**

- A) I ve II
- B) II ve III
- C) III ve IV
- D) II, III ve IV
- E) I, II, III ve IV

29. Bireyin yaşamda sosyal kimliğinin bir parçası olan ve onun diğer insanlarla ve toplumla ilişkisini belirleyen olgulardan biri de statüsüdür. Statüler, bireyin iradesi dışında ona verilmiş olan forma sahip olabildikleri gibi aynı zamanda bireyin bilgi, yetenek ve çabasıyla edindiği formuyla da toplumsal yaşamda hiyerarşik bir konumlandırmaya neden olmaktadır. Cinsiyet, köken gibi statüler birincisine; doktor, öğretmen, sporcu olmak ikincisine örnektir.

**Bu parçadan aşağıdaki yargıların hangisine ulaşılr?**

- A) Birden fazla statü sosyal yaşamda prestij göstergesidir.
- B) Bireyler sahip oldukları her statüyü değiştirebilirler.
- C) Statüler, insanların onları nasıl elde ettiğine göre sınıflandırılır.
- D) Verilmiş statüde birey istenç özgürlüğüne sahiptir.
- E) Kazanılmış statüler verilmiş statülerden daha önemlidir.

30. Günümüz modern toplumları, birçok açıdan eski toplumlardan farklılaşır. Bu farklılaşmanın hem en önemli sonucu hem de nedeni sayılabilecek şey ise teknolojik alanda ortaya çıkan gelişmelerdir. Çok uzağa gitmeden, bundan belki 40-50 yıl önce, toplumun yaşça büyük bireyleri danışılan durumunda, yaşamsal tecrübeleriyle bilgisine başvurulanan kimselelerdi. Ancak teknolojinin geldiği şu noktada, modern toplumlarda, merakını gidermek isteyen küçük yaşta ki çocuklar bile başka kimsenin deneyimine gereksinim duymadan bütün merakını kitle iletişim araçları vasıtasıyla gideriyor, çoğu ihtiyacını yine bu araçlar yoluyla karşılıyor. Bireyler için avantaj gibi görünen bu durum, toplumun üyelerinin birbirine yabancılaşması, siber zorbalık, dolandırıcılık gibi aslında büyük tehlikeleri de beraberinde getiriyor.

**Bu parçadan aşağıdaki yargılardan hangisine ulaşılabılır?**

- A) Toplumsal değişim, istenilene doğru ileri yönlü bir süreci ifade eder.
- B) Toplumsal gelişme teknik bilginin çoğalması ile mümkün olabilir.
- C) Teknoloji, bireyler arası ilişkilerin son bulmasına neden olur.
- D) Kitle iletişim araçları olumlu ve olumsuz değişmeye neden olabilir.
- E) Modern toplumlarda değişme, sadece maddi kültür öğelerinde gerçekleşir.

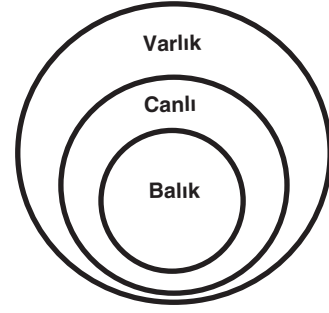


31. Toplumsal kurumlar, kendine özgü amaca ve belli bir örgütlenmeye sahip, işleyişi belli kurallara bağlanmış, ihtiyaca yönelik olarak ortaya çıkmış, süreklilik gösteren, birbiriyle ilişkili bir bütün olarak toplumsal yapıyı oluştururlar. Bu bakımdan, toplumsal kurumlar her toplumda vardır ancak her toplumda aynı biçimde olduğu da söylenemez. Örneğin ekonomi kurumu ve eğitim kurumu her toplumda vardır ve birbiri ile ilişkilidir fakat bu kurumlar başka toplumlarda başka değerlere göre şekillenip farklı işleyişe sahip olabilirler.

**Buna göre aşağıdakilerden hangisi toplumsal kurumların özelliklerinden biri değildir?**

- A) Toplumsal yapıda meydana gelen değişikliklere göre biçim alır.  
 B) Aynı toplumsal kurum, bulunduğu farklı toplumda farklı biçimde şekillenir.  
 C) Bir toplumda bulunan kurumların tamamı aynı önem ve değere sahiptir.  
 D) İçerik bakımından farklılaşsa da evrensel bir niteliğe sahiptir.  
 E) Bir kurumda meydana gelen değişiklik diğerlerini de etkiler.

32.



**Verilen diyagramdan aşağıdaki yargıların hangisine ulaşamaz?**

- A) Bütün balıklar canlıdır.  
 B) Bazı canlılar balıktır.  
 C) Bütün canlılar varlıktır.  
 D) Bazı balıklar canlıdır.  
 E) Bazı varlıklar canlıdır.
33. Doğru veya yanlış değeri alabilen; inançlarımızı, tahminlerimizi ya da bilgilerimizi başkalarına aktarmamızı sağlayan ifadeler dilin bildirme görevi ile ilgilidir.

**Buna göre;**

- I. Meteorologlar bu yıl kış mevsiminin çok soğuk geçeceğini söylediler.  
 II. Aferin, nihayet istediğin sınav sonucunu elde etmişsin.  
 III. Etik ilkelere uyan insanlar daha merhametlidir.

**İfadelerinden hangileri dilin bildirme görevine örnektir?**

- A) Yalnız I  
 B) Yalnız II  
 C) Yalnız III  
 D) I ve II  
 E) I ve III

34. "Bir şey aynı zamanda ve aynı yerde hem kendisi hem de kendisinden başka bir şey olamaz." şeklinde ifade edilen ilke çelişmezlik ilkesidir. Bu ilkeye göre bir önerme aynı zamanda ve aynı koşullarda hem doğru hem de yanlış olamaz.

**Buna göre aşağıdaki ifadelerden hangisi çelişmezlik ilkesine aykırıdır?**

- A) Canlılar hem düşünür hem de solunum yapar.
- B) Sayı ya çifttir ya da tektir.
- C) İnsan hem dürüst hem de yardımsever olabilir.
- D) Ateşe elini dokundurursan yakar, çünkü yakıcıdır.
- E) Emir hem çalışkan hem tembeldir.

**35 - 40. soruları Din Kültürü ve Ahlak Bilgisi dersini yasal olarak almak zorunda olanlar ve İmam Hatip Okulları öğrencileri/mezunları cevaplayacaktır.**

35. Allah (c.c.), insanı diğer canlılardan üstün yaratmış ve ona birtakım özellikler vermiştir. Bu özellikler insanı değerli ve üstün kılan unsurlardır. Ancak bu nimetler beraberinde sorumluluğu da getirir. Sorumluluğun gereği ise bu nimetleri Allah'ın (c.c.) istediği şekilde kullanmaktır. Bunu başarabilen insan Allah'a (c.c.) verdiği nimetlerden dolayı şükretmiş olur.

**Aşağıdaki ayetlerden hangisi konu ile ilgilidir?**

- A) "De ki: "Sizi yaratan, size işitme duygusu, gözler ve kalpler veren O'dur. Ne az şükrediyorsunuz!" (Mülk suresi, 23. ayet.)
- B) "O, hanginizin daha güzel amel yapacağını sınamak için ölümü ve hayatı yaratandır. O, mutlak güç sahibidir, çok bağışlayandır." (Mülk suresi, 2. ayet.)
- C) "İman edip salih ameller işleyenlere ise, zemininden ırmaklar akan cennetler vardır. İşte büyük kurtuluş budur." (Buruc suresi, 11. ayet.)
- D) "İman eden ve salih amel işleyenler için mutluluk ve güzel bir dönüş yeri vardır." (Rad suresi, 29. ayet.)
- E) "Bu Kur'an, ayetlerini düşünsünler ve akıl sahipleri öğüt alsınlar diye sana indirdiğimiz mübarek bir kitaptır." (Sad suresi, 29. ayet.)

36. Kur'an, Allah'ın kelimasıdır. Kur'an okuyan kişi Rabbi ile muhatap olur ve böylece onunla olan bağıını güçlendirir. Ancak sadece okumak yeterli değildir. Kur'an, emir ve yasaklarını hayata geçirmek amacıyla okunmalıdır. Çünkü ilahi mesajlar hayata geçirilmesi için gönderilmiştir.

**Buna göre;**

- I. "Resulüm sana bu mübarek kitabı, ayetlerini düşünsünler ve akli olanlar öğüt alsınlar diye indirdik" (En'am suresi, 98. ayet)
- II. "Öyleyse Kur'an okuduğun zaman, kovulmuş şeytandan Allah'a sığın." (Nahl suresi, 98. ayet)
- III. "Müminler ancak o kimselerdir ki; Allah anıldığı zaman kalpleri ürperir. O'nun ayetleri kendilerine okunduğu zaman (bu) onların imanlarını artırır." (Enfal suresi, 2. ayet)

**ayetlerinden hangileri konu ile ilgilidir?**

- A) Yalnız I      B) Yalnız II      C) I ve II  
D) I ve III      E) II ve III

37. • Sözlükte donatmak anlamına gelir.  
• Ölünün yıkanmasıdır.  
• Ölen kişinin bütün bedeninin kefen ile sarılmasıdır.  
• Tabutta cenazenin taşınmasıdır.

**Bu tanımlar aşağıdaki kavramlarla eşleştirildiğinde hangisi dışarıda kalır?**

- A) Tekfin      B) Defin      C) Teşyi  
D) Teçhiz      E) Gasil

38. "O, güneşi bir ışık (kaynağı), ayı da (geceleyin) bir aydınlık (kaynağı) kılan, yılların sayısını ve hesabı bilmeniz için ona menziller takdir edendir. Allah, bunları (boş yere değil) ancak gerçek ile (hikmeti gereğince) yaratmıştır. O, ayetlerini, bilen bir topluma ayrı ayrı açıklamaktadır." (Yunus suresi, 5. ayet.)

**Bu ayetin aşağıdaki ilimlerden hangisine teşvik ettiği söylenebilir?**

- A) Tıp      B) Felsefe      C) Astronomi  
D) Coğrafya      E) Tarih

39. "(İnanmak için) ille de kendilerine meleklerin gelmesini veya Rabb'inin gelmesini ya da Rabb'inden bazı işaretlerin gelmesini mi bekliyorlar? Daha önce inanmamış yahut inancı kendisine iyilik kazandırmamış kimseye, Rabb'inden bazı işaretler geldiği gün iman etmesi fayda sağlamaz. De ki: "Bekleyin! Şüphesiz biz de beklemekteyiz." (En'âm suresi, 158.ayet.)

**Bu ayet aşağıdaki ilkelerden hangisi ile ilgilidir?**

- A) İman şüphe duymaksızın gönülden inanmayı gerektirir.  
B) İman kalben teslim olmaktır.  
C) İman esasları bir bütündür, hepsine de inanmak gerekir.  
D) İman kalp ile tasdik dil ile ikrardır.  
E) Ümitsizlik anında yapılan iman geçerli değildir.

40. Furkan Öğretmen, “Hz. Muhammed (s.a.v.) kendisine haksızlık yapanlara beddua etmemiştir. “Ben lanetçi olarak değil, rahmet olarak gönderildim” bu yurmuştur. Taif’te kendisini taşıyanları da Mekke’de kendisine zulmedenleri de affetmiştir.” dedi.

**Furkan Öğretmenin, anlatımını desteklemek için aşağıdaki ayetlerden hangisini vermesi uygun değildir?**

- A) “Allah’ın rahmeti sayesinde sen onlara karşı yumuşak davrandın. Eğer kaba, katı yürekli olsaydın, onlar senin etrafından dağılıp giderlerdi...” (Â-i İmrân Suresi, 159. ayet.)
- B) “Ant olsun size içinizden öyle bir peygamber gelmiştir ki sizin sıkıntıya uğramanız ona çok ağır gelir. O, size çok düşkün, müminlere karşı çok şefkatli ve merhametlidir.” (Tevbe Suresi, 128. ayet.)
- C) “Ve seni ancak âlemlere rahmet olarak gönderdik.” (Enbiyâ Suresi, 107. ayet.)
- D) “De ki: Ben de ancak sizin gibi bir insanım. Ne var ki bana, ilahınızın bir tek ilah olduğu vahyolunuyor...” (Kehf Suresi, 110. ayet.)
- E) “Sen af yolunu tut, başısla, uygun olanı emret, bilgisizlere aldırış etme.” (A’râf suresi, 199. ayet.)

**41 - 46. soruları Din Kültürü ve Ahlak Bilgisi dersini yasal olarak almak zorunda olmayan veya farklı müfredat ile alanlar cevaplayacaktır.**

41. Anaksimenes nitelik bakımından değişmeyen, kendisiyle aynı kalma özelliği gösteren, gevşeyip yoğunlaşabilen bir maddenin varlığın özü olabileceğini iddia ederken; Empedokles birbiriyle karışıp daha sonra ayrılabilen, fakat kendisi değişmeyen ilk madde üzerinde karar kılmıştır. Demokritos’ta ise bu sorunun cevabı, maddenin temeli olan atom fikrine dönüşmüştür.

**Bu parçada aşağıdaki konulardan hangisi üzerinde durulmaktadır?**

- A) Değişmenin tüm var olanların temeli olarak ele alınması
- B) İlk Çağ’da idealar problemiyle ilgilenilmesi
- C) Filozofların düşüncelerinin, yaşadıkları çağda genel geçer olması
- D) Materyalistlerin varlığın özüne, farklı unsurları temele alarak ulaşmaları
- E) Empedokles ve Demokritos’un varlığın aynı nitelikte olduğunu savunmaları

42. Hegel’e göre dinin nesnesi felsefeninki gibi ebedi hakikattir, Tanrı’dır, Tanrı’dan ve Tanrı’nın açıklanmasından başka bir şey değildir. Felsefe dini açıklamak suretiyle yalnız kendini açıklar ve kendini açıklamak suretiyle dini açıklar. Düşünen ruh bu nesneye, hakikate nüfuz eden şey olduğu için o, hakikate nail olmayı ve öznel bilinci saflaştırmayı düşünür. Böylece felsefe ve din özdeşleşir.

**Bu parçadan aşağıdaki yargıların hangisine ulaşılabilir?**

- A) Felsefe dinden daha kapsayıcı bir disiplindir.
- B) Din ve felsefe birbirinden özerk niteliktedir.
- C) Felsefenin amacı dini temellendirmektir.
- D) Din felsefeye hizmet etmelidir.
- E) Din ve felsefe aynı nitelik üzerinde yükselir.

43. Ünlü sanatçıların, sporcuların hayat hikâyelerini dinlediğimizde genellikle çocukluklarından itibaren ne istediklerinin farkında olarak çabaladıklarını, bugün toplumun kendilerine duyduğu saygının ve sevginin rastlantısal değil, uzun soluklu bir yolculuğun ürünü olduğunu anlatırlar. Bu yolculuk güdülenmiş bir biçimde kendini var etmenin serüvenidir.

**Bu parçada anlatılanlar aşağıdaki psikolojik yaklaşımlardan hangisine örnek oluşturur?**

- A) Bilişsel
- B) Davranışsal
- C) Gestalt
- D) Hümanistik
- E) Psikanalitik

44. Ekonomik gelişmeler, eğitim, kentleşme, aile yapısındaki değişimler, hızlı nüfus artışı gibi faktörler bireyleri sosyal konumlarını ve pozisyonlarını değiştirmeye zorlayabilir. Örneğin bazı meslek alanlarının yok olması, ekonomik gelişmelere bağlı olarak yeni mesleklerin ortaya çıkması, bireylerin işlerini ya da yaşadıkları bölgeleri değiştirmelerine neden olabilmektedir. Bireylerin bir toplumsal konumdan veya tabakadan diğerine devinimi sonucunda statüleri, gelir düzeyleri kısacası bir bütün olarak yaşama biçimleri değişime uğrayacaktır.

**Bu parçada açıklanan kavram aşağıdakilerden hangisidir?**

- A) Toplumsal çözülme
- B) Toplumsal bütünleşme
- C) Toplumsal tabakalaşma
- D) Toplumsal gelişme
- E) Toplumsal hareketlilik

45. Aile, tarihsel süreç içerisinde hem nicel hem de nitel olarak önemli oranda değişmiştir. Bu değişim ise sosyalleşmenin en önemli faktörü olan ailenin bireyin sosyalleşmesindeki etki gücünü ve oranını değiştirmiştir. Büyük aile yapısının bireyin sosyalleşmesine katkısı ile çekirdek ailenin katkısı aynı değildir. Okulların zaman içinde sayısal olarak artmış olması, sosyalleşmeye sağladığı katkıyı artırmıştır. Tarihsel süreçte sosyalleşmeyi sağlayan sosyal kurum ve birimlerin değişiminin yol açtığı boşluklar veya teknolojik gelişmenin oluşturduğu yeni imkân ve yaşam tarzları, sosyalleşmenin bizzat kendisinde değişime neden olabilmektedir.

**Bu parçadan aşağıdaki yargılardan hangisine ulaşılabılır?**

- A) İnsanların beklentileri, toplumsal kurumların değişiminin en önemli nedenidir.
- B) Sosyalleşme sürecini etkileyen ortam ve birimler yapısal ve işlevsel açıdan sabit değildir.
- C) Aile sosyalleşmenin ilk ve tek değişken faktörüdür.
- D) Sosyalleşmeye etki eden unsurların tamamı statik bir özelliğe sahiptir.
- E) Toplumsal kurumların değişimi, sosyalleşmeden bağımsız olarak gerçekleşebilir.

46. Yapısı bakımından önermeler basit ve bileşik olmak üzere ikiye ayrılır. Basit önermeler tek bir yargı bildirirken, bileşik önermeler birden fazla yargı bildirir.

**Buna göre aşağıdakilerden hangisi yapısı bakımından diğerlerinden farklı bir önermedir?**

- A) Her meyvenin içindeki su oranı farklıdır.
- B) Çocuklar ya usludur ya da yaramazdır.
- C) Bir gezegende su varsa canlılık vardır.
- D) Bazı hastalıklar bulaşıcı ve tehlikelidir.
- E) Düzenli çalışırsa sınavı kazanır.



# Kendini Deęerlendir



1

*Kare kodu okut.*

2

*Sınavını seę*

3

*Cevaplarını sisteme gir.*

4

*Eksik olduęun konuları analiz et.*

5

*Bu sınava katılanlar arasındaki sıralamanı gör.*





T.C. MİLLÎ EĞİTİM  
BAKANLIĞI

3 ADIM

DENEME SINAVLARI

2. ADIM

AYT  
sözel



5. DENEME

ADI VE SOYADI

OKUL ADI

ADAYIN İMZASI

**ADAYIN DİKKATİNE!**

1. Bu sınavda AYT soru dağılımları dikkate alınmıştır.
2. Deneme tam kapsam olup YKS konularının tamamını kapsamaktadır.
3. Bu sınav Türk Dili ve Edebiyatı - Sosyal Bilimler 1 Testi (TDE 24 soru, Tarih 10 soru, Coğrafya 6 soru) 40 soru, Sosyal Bilimler 2 Testi (Tarih 11 soru, Coğrafya 11 soru, Felsefe Grubu 12 soru, DKAB 6 soru ) 40 soru olmak üzere toplamda 80 soru içermektedir.

Bu testlerin her hakkı saklıdır. Hangi amaçla olursa olsun, testlerin tamamının veya bir kısmının Millî Eğitim Bakanlığının yazılı izni olmadan kopya edilmesi, fotoğrafının çekilmesi, herhangi bir yolla çoğaltılması, yayımlanması ya da kullanılması yasaktır. Bu yasağa uymayanlar gerekli cezai sorumluluğu ve testlerin hazırlanmasındaki mali külfeti peşinen kabullenmiş sayılır.

### **DİKKAT!**

Din Kültürü ve Ahlak Bilgisi dersini yasal olarak almak zorunda olan adaylar ve İmam Hatip Okulları öğrencileri/mezunları, Sosyal Bilimler-2 Testi'nin ilk 40 sorusunu cevaplamakla yükümlüdür. Bu adaylar, bu testin 41-46. sorularını cevaplamayacaklardır. Bu adaylar, bu testin 41-46. sorularında işaretleme yapmış olsalar bile bu cevapları değerlendirmeye alınmayacaktır.

Din Kültürü ve Ahlak Bilgisi dersini yasal olarak almak zorunda olmayan veya farklı müfredat ile alan adaylar, Sosyal Bilimler-2 Testi'nin 35-40. sorularını cevaplamadan 41-46. sorularını cevaplayacaklardır. Bu adaylar, bu testin 35-40. sorularında işaretleme yapmış olsalar bile bu cevapları değerlendirmeye alınmayacaktır.

### **AÇIKLAMA**

1. Bu kitapçıkta **86 soru** bulunmaktadır.  
Türk Dili ve Edebiyatı-Sosyal Bilimler-1 Testi: 40 soru  
Sosyal Bilimler-2 Testi: 46 soru
2. **Bu sınavda her testteki doğru cevaplarınızın sayısından yanlış cevaplarınızın sayısının dörtte biri çıkarılacak ve kalan sayı o bölüme ilgili ham puanınız olacaktır.**
3. Kitapçığın sayfalarındaki boş yerleri müsvedde için kullanabilirsiniz.
4. Cevaplamaya istediğiniz sorudan başlayabilirsiniz. Bir soru ile ilgili cevabınızı cevap kâğıdında o soru için ayrılmış olan yere işaretlemeyi unutmayınız.
5. Bu kitapçıkta yer alan her sorunun sadece bir doğru cevabı vardır. Cevap kâğıdında bir soru için birden çok cevap yeri işaretlenmişse o soru yanlış cevaplanmış sayılacaktır. İşaretlediğiniz bir cevabı değiştirmek istediğinizde silme işlemini çok iyi yapmanız gerektiğini unutmayınız.

1. Bu testte sırasıyla, Türk Dili ve Edebiyatı (1-24), Tarih-1 (25-34), Coğrafya-1 (35-40) alanlarına ait toplam 40 soru vardır.
2. Cevaplarınızı cevap kâğıdının Türk Dili ve Edebiyatı-Sosyal Bilimler-1 Testi için ayrılan kısmına işaretleyiniz.

1. Umberto Eco'nun romanları, olay örgüsünün belirsizliklerini okurun kendi ---- tamamlamasını gerektirdiği ve okura benzersiz bir okuma ---- sunduğu için okuma uğraşını bir tür maceraya dönüştürür.

**Bu cümlede boş bırakılan yerlere aşağıdakilerden hangisi sırasıyla getirilmelidir?**

- A) bilinciyle - zevki  
B) deneyimiyle - eğilimi  
C) birikimiyle - imkânı  
D) sözcükleriyle - tarzı  
E) yönelimiyle - yöntemi

2. Hayatının her döneminde hedefleri olan bir insanın ve hedeflerine ulaşmakta kararlıysan sadece kararlı olmakla kalmayıp kararlı bir insan olduğunu herkese gösterebiliyorsan ve onları buna inandırabiliyorsan başarı senden kaçamaz.

**Bu cümlenin anlamca en yakını aşağıdakilerden hangisidir?**

- A) Sakin ve kararlı ol sık sessiz bir orman gibi, güneş seni mutlaka aydınlatacaktır.  
B) Hayatta en güç şey, amaçsız insanlarla yaşama zorunluluğudur.  
C) Hiç dinlenmemek üzere yola çıkmaya karar verenler, asla ve asla yorulmazlar.  
D) Her zaman aklımızın ardı sıra gidelim, diğerleri isterse ardımızdan gelsin.  
E) Ağaca çıkmak istiyorsanız yıldızlara tırmanmayı isteyiniz ki muvaffak olun.

3. Botanik bahçeleri, yüzyıllar önce kentlerde yaşama-ya başlamış toplumların doğaya duyduğu özlemin bir simgesi olarak yorumlanabilir. Rönesans Dönemi'nde Avrupa'da ortaya çıkmaya başlayan botanik bahçeleri, Sanayi Devrimi sonrasında kent nüfusunun artışıyla kentlerde daha yaygın hâle gelmiştir. Turistik aktiviteler içerisinde doğaya verilen zararın en az olduğu alanlardan biri olarak değerlendirilen botanik turizmüne verilen değer, gün geçtikçe artmaktadır. Sadece turistik faaliyetler için değil; günlük yaşam, eğitim ve halka açık etkinlikler için de ideal alanlar olarak botanik bahçeleri önem kazanmaktadır. Uluslararası Botanik Bahçeleri Birliği (BGCI) verilerine göre Almanya'da 109, Fransa'da 96, İtalya'da 120 ve İngiltere'de 199, Türkiye'de ise 9 botanik bahçesi bulunmaktadır. Diğer taraftan, Türkiye'nin sahip olduğu endemik bitki çeşitliliği oldukça yüksektir. Dünya'daki 126 bin endemik bitki türünden 3090 türü ülkemizde bulunmaktadır. Ülkemizde bulunan botanik bahçeleri sayısı ve mevcut bitkisel çeşitliliğinden hareketle henüz değerlendirilmemiş bir potansiyelin olduğu düşünülmektedir.

**Bu parçada botanik bahçeleriyle ilgili aşağıdakilerin hangisine değinilmemiştir?**

- A) Sadece bir bölgede yetişen bitki türü bakımından yüksek potansiyeliyle Türkiye'de geliştirilebilir bir alandır.  
B) Kentlerde yaşama geçişin artışıyla toplumların doğaya özleminin yansımaları olarak oluşturulmuştur.  
C) Türkiye'deki bitki türü çeşitliliği Dünya'daki diğer ülkelerden fazla olduğu için Türkiye mevcut potansiyelinin üstüne çıkılabilir.  
D) Botanik turizminin gelişmesi ve çeşitli etkinlikler için kullanılabilmesiyle önemi gün gittikçe artmaktadır.  
E) Uluslararası Botanik Bahçeleri Birliği (BGCI) ülkelerdeki botanik bahçelerin sayısı hakkında bilgilendirme yapmaktadır.

4. Helikopter ebeveyn kavramını ilk olarak Ginnott *Ebeveynler ve Gençler* adlı kitabında kullanmıştır. Bir çocuğun annesinin bir helikopter gibi etraflarında dört döndüğünü söylemesinden esinlenilerek ortaya çıkan kavram, 2011 yılında bilimsel literatüre girmiştir. Farklı yazarların helikopter ebeveynliği aşırı ebeveynlik, çim biçme ebeveynliği, kaplan ebeveynlik ya da buldozer ebeveynlik kavramları ile anlattıkları görülmektedir. Hangi kavramla ifade edilmiş olursa olsun, bu tür ebeveynlerin en önemli özelliği çocuklarına aşırı odaklanmış olmalarıdır. Genellikle çocuklarının hayatlarına ilişkin ve özellikle başarı ya da başarısızlıkları ile ilgili çok fazla sorumluluk üstlenme, çocuğun hayatı üzerinde aşırı kontrol, aşırı korumacılık ve mükemmeliyetçilik helikopter ebeveynlerin belli başlı özellikleri arasındadır.

**Bu parçadan “helikopter ebeveynlik” ile ilgili hangisi çıkarılamaz?**

- A) Farklı terimlerle de ifade edildiği  
B) İlk defa Ginnott tarafından kullanıldığı  
C) Mükemmeliyetçi çocuklar yetişmesine neden olduğu  
D) Adlandırılmasında annenin tavrından esinlendiği  
E) Çocuklara aşırı odaklanan ailelerde görüldüğü

5. İkinci Yeni şairlerinden Turgut Uyar'ın şiirinde kent bunalım yeridir, oradan kaçılarak doğaya sığınmalıdır. Edip Cansever'in şiirlerinde kentli insanın gündelik yaşam pratiklerine, bazen sınıfsal özelliklerine bazen de yaşadıkları bunalımlara yer verilmektedir. Modernitenin simgelerinden biri kabul edilen yeni kent düzeni, değerleri aşındırması yönüyle de farklı şairlerde çeşitli yansımalarla dizeleşmektedir. Bu şairlerden biri de Sezai Karakoç'tur.

**Bu parçaya göre İkinci Yeni şairleriyle ilgili aşağıdakilerin hangisi söylenebilir?**

- A) Birbirlerinden etkilenecek şiirlerini yazdıkları  
B) Aynı temayı farklı yaklaşımlarla ele aldıkları  
C) Kentten kaçış duygusunun şiirlerine hâkim olduğu  
D) Kent yaşamının güzelliklerini şiirlerine yansıttıkları  
E) Güncel konulardan uzaklaşma eğiliminde oldukları

6. İnsan hayatında her şey bir konuşmanın veya bilgi-haber-yorum nitelikli bir yazının konusu olabilirken edebî metinlerde durum tam anlamıyla böyle değildir. Edebî metinlerde sanatkar düşünceden ziyade duygu-sezgi-hayal melekelerini harekete geçirir. Bu da o soğuk, cansız ve içi boş konuları sıcak ve canlı kılar; duygu giydirmiş bir yapıya kavuşturur. Yani edebî metinlerde eseri güzelleştiren, okura estetik haz veren konu değildir asla, o konunun işlenişidir/ üslubudur çünkü “Şiirin değeri konuyla değil, konuyu işleyiş biçimiyle ölçülür.” Aynı konuda binlerce metin yazılmış olmakla birlikte, bunların işlenişçe birbirinden ayrıldığı ve her birinin farklı bir estetik yapı ve güzelliğe sahip olduğunun görülmesi hep üslupla ilgilidir. Bu âdeta Jean-Paul Sartre'in “sahici sanat” dediği “nesnellüğün türlü görünüşleri altından kendini belli eden bir öznellik” ile başarılabilmektedir.

**Bu parçada aşağıdakilerin hangisine değinilmemiştir?**

- A) Bilgi nitelikli bir yazının konusuna  
B) Edebî metinlerde düşüncenin ifadesine  
C) Edebî metinleri güzelleştiren unsurlara  
D) Öznel yargıların şiirdeki gerçekliğe etkisine  
E) Şiirde konunun işlenişinin önemine

7. Derinden derine ırmaklar ağlar,  
Uzaktan uzağa çoban çeşmesi.  
Ey suyun sesinden anlıyan bağlar,  
Ne söyler şu dağa çoban çeşmesi?

**Bu dizelerle ilgili olarak aşağıdakilerden hangisi söylenemez?**

- A) 11'li hece ölçüsü ile yazılmıştır.  
B) Çapraz uyak kullanılmıştır.  
C) Teşhis sanatından yararlanılmıştır.  
D) Dörtlük genelinde tam uyak kullanılmıştır.  
E) Halk şiiri geleneğinden yararlanılmıştır.

8. Ölüm asude bahar ülkesidir bir rinde;  
Gönlü her yerde buhurdan gibi yıllarca tüter.  
Ve serin serviler altında kalan kabrinde  
Her seher bir gül açar; her gece bir bülbül öter.
- Bu dörtlükle ilgili aşağıdakilerden hangisi söylenemez?**
- A) Şiirin teması dünyanın gelip geçiciliğidir.  
B) Dörtlük nazım birimi ile yazılmıştır.  
C) Yarım ve zengin uyak kullanılmıştır.  
D) Şiirde ahenk unsurları vardır.  
E) Altı çizili dizelerde hüsnütalil sanatı vardır.
9. **Aşağıdaki dizelerin hangisinde telmih sanatına yer verilmemiştir?**
- A) Yurdundan mahrum edip dolaştırdın Cem gibi  
Ruhumla söndü alev, sonra ruhum da yandı  
B) Yavuz iken zebun ettim Selim'i  
Her oyunu bozan gizli zor benim  
C) Ne büyüksün ki kanın kurtarıyor tevhidi  
Bedr'in aslanları ancak bu kadar şanlı idi  
D) Yeter ki gel, amadeyim emrine  
Tarık gibi gemileri yak da gel  
E) Şimdi o dünyadan hiçbir haber yok;  
Yok bizi arayan, soran kimsemiz
10. Türk masalının sözlü geleneğinde önemli yeri olan ve anlatma teknik ve üslubunun başlıca unsurları arasında yer alan ---- masalın başında, ortasında, sonunda kullanılan oldukça kısa söz kalıplarıdır. Bu kalıplar; anlatıcının hünerine göre oldukça uzatılabilen, asıl masaldan bağımsız çoğunlukla anlatıcının başından geçmiş gibi birinci şahısla söylenen, şaşırtıcı, acayip sözlerdir.
- Bu parçada boş bırakılan yerlere aşağıdakilerden hangisi getirilmelidir?**
- A) Döşeme  
B) Serim  
C) Dilek  
D) Arzbar  
E) Tekerleme

11. I. *Dede Korkut Hikâyeleri* Karahanlı Türkçesinin ilk örneklerindedir.  
II. Bir siyasetname olan *Kutadgu Bilig*, Türk edebiyatındaki ilk mesnevidir.  
III. *Atabetü'l-Hakâyık*, XII. yüzyılda yazılmış manzum bir öğüt ve ahlak kitabıdır.  
IV. *Divân-ı Hikmet*, ilk Türk mutasavvıfının dinî temalı şiirlerinin toplandığı eserdir.  
V. *Divânu Lugâti't-Türk*' te İslamiyet Öncesi Dönem'e ait ürünlere yer verilmiştir.
- Numaralanmış cümlelerin hangisinde bilgi yanlış vardır?**
- A) I      B) II      C) III      D) IV      E) V

12. Halk edebiyatı üç ana kola ayrılır. Bu kollardan biri dinî-tasavvufi halk edebiyatı veya tekke edebiyatı adıyla gelişmiştir. Bu kolda nazım türlerinin en tanınmış ilahilerdir. İlahilerin dışında devir esasını (Allah'tan gelip Allah'a dönmek) konu edinen şiirler ----, tarikata yeni giren birisine tarikat adabını öğretmek amacıyla kaleme alınan şiirler ----, bir düşünce veya duyguyu iğneleyici ve alaycı bir dille söz eder gibi yazılan şiirler de ---- olarak adlandırılmakta ve bu nazım türleri tasavvuf geleneği içinde değerlendirilmektedir.

**Bu parçada boş bırakılan yerlere aşağıdakilerden hangisi sırasıyla getirilmelidir?**

- A) devriye - hikmet - tapuğ  
B) hikmet - ayin - nutuk  
C) devriye - nutuk - şathiye  
D) deme - şathiye - nutuk  
E) hikmet - nutuk - devriye

13. Hiciv ve hikmet onun şiirinin temelini oluşturmaktadır. Şair halk edebiyatı şairleri arasında hiciv şiirleriyle ön plana çıkmıştır. Şiirlerinde atasözü ve deyimleri ustalıkla kullanmıştır. Hem hece hem aruz ölçüsüyle şiirler yazan şair, hece vezniyle oluşturduğu şiirlerini sazı eşliğinde irticalen söylemiştir. Kaynaklarda onun güçlü bir şair olduğu söylenmekle beraber şiirlerinde bilhassa kafiye, redif ve cinas bakımından orijinal sayılabilecek şiirler söylemiştir. En çok koşma ve semai nazım biçimlerini kullanan şairin destan, ilahi ve nefesleri de vardır.

**Bu parçada sözü edilen şair aşağıdakilerden hangisidir?**

- A) Ruhsatî
- B) Dadaloğlu
- C) Gevherî
- D) Âşık Ömer
- E) Seyrânî

14. Aşk, dünyanın türlü nimetlerinden yararlanma, hayatın anlamı ve hayat felsefesi, tasavvuf, ölüm gibi konular işlenir. Diğer nazım şekillerinden farklı olarak özel bir ölçüyle yazılır. İlk iki dize fikrin hazırlayıcısıdır. Asıl söylenmek istenen düşünce 3 veya 4. dizede ortaya çıkar. Genelde mahlassız oluşturulan şiirlerdir. Edebiyatımıza İran edebiyatından geçmiştir, en büyük şairi Ömer Hayyâm'dır.

**Bu parçada sözü edilen nazım biçimi aşağıdakilerden hangisidir?**

- A) Tuyuğ
- B) Mâni
- C) Rubai
- D) Murabba
- E) Müstezat

15. **Aşağıdakilerin hangisinde bilgi yanlışı vardır?**

- A) XV. yüzyılın önemli şairlerinden biri olan Şeyhî; mizah ustalığını, ince zekâsını ve fikir adamı olduğunu 126 beyitten oluşan *Harnâme* adlı mesnevisinde gösterir.
- B) Anadolu şairlerinin sultanı anlamında "Hüsrev-i Rûm" olarak anılan XV. yüzyıl şairi olan Necâtî, "döne döne" redifli gazeliyle tanınır.
- C) *Şehzâde Mustafa Mersiyesi*'ni kaleme alan ve XVI. yüzyılın mesnevi şairi olarak üne kavuşan Taşlıcalı Yahyâ, hamse sahibi şairlerden biridir.
- D) Hacı Halife lâkabıyla anılan Süleyman Çelebi'nin önemli eserlerinden biri *Keşfü'z-Zünun* adlı bibliyografya kitabıdır.
- E) Klasik Türk şiirinde kaside ustası olarak bilinen Nefî, özellikle fahriye bölümlerinde gösterdiği sanatlı anlatımla adından söz ettirir.

16. Sanatçı; biçim olarak eski, içerik olarak yeni şiirler yazar. Daha sonra hem şekil hem konu bakımından yeni şiirler kaleme alır. *Vâveylâ, Hilâl-i Osmanî* bu dönem şiirlerinin örnekleridir. Şiirlerini aruzla yazar. Hece ile yazdığı şiirleri sayılıdır. Eserlerinde vatan, özgürlük, adalet, meşrutiyet, bağımsızlık gibi konuları işler; "Sanat toplum içindir." görüşünü savunur. Roman ve piyeslerinde romantizme bağlı kalır.

**Bu parçada söz edilen sanatçı aşağıdakilerden hangisidir?**

- A) Nâmık Kemal
- B) Şinâsi
- C) Şemsettin Sâmî
- D) Ahmet Mithat Efendi
- E) Ziyâ Paşa

17. Hiç unutmam. Güzel bir bahar günü. Ömer Seyfettin, ---- ve ben Gülhane Parkı'na gitmiştik. Sakin bir saatti. Ulu ağaçların altında bir bahçe kanepesine oturmuş, edebiyattan söz açmıştık. Birdenbire Ömer, ağaçlarda bir sır arıyormuş gibi başını kaldırıp uzun uzun dallara, yapraklara baktı; sonra bize dönerek:

— Cancağızlarım, dedi. Tasvirler yapın, tasvirler. Şöyle güzel güzel, açık açık. Biz de hikâyelerimize şiirlerden örnek alalım.

**Sanatçının hececî arkadaşlarını anlattığı bu parçadaki boşluğa aşağıdaki sanatçılardan hangisi getirilemez?**

- A) Halit Fahri Ozansoy
- B) Enis Behiç Koryürek
- C) Yusuf Ziya Ortaç
- D) Orhan Seyfi Orhon
- E) Ziya Osman Saba

18. Türk şiiri nazım şekilleri bakımından modernleşir. Türkçeyi başarılı bir biçimde aruza uygularlar. "Kafiye göz için değil kulak içindir." ilkesini benimser, kafiye ahenk unsuru olarak ele alırlar. Şairler, mısra bağımsızlığı anlayışına ve ifadenin bir beyitte bitmesi geleneğine karşı koyarlar. Bu sebeple bütün güzelliğine önem verirler.

**Bu parçada hakkında bilgi verilen edebî anlayışın dışında kalan sanatçı aşağıdakilerden hangisidir?**

- A) Ali Ekrem
- B) Ahmet Rasim
- C) Hüseyin Cahit
- D) Ahmet Hikmet
- E) Ahmet Reşit

19. Servetifünun Dönemi'nde öne çıkan türlerden biri de romandır. Tanzimat'ta ilk örnekleri verilmeye başlanan romanın bu dönemde Batılı tekniğe uygun örnekleri başarıyla sergilenir. Halit Ziya'nın bu başarıda büyük bir payı vardır. Servetifünun nesrinin üzerinde geliştiği esasları belirler ve bunların nasıl uygulanacağını eserleriyle gösterir. Halit Ziya'yı başta Mehmet Rauf olmak üzere Hüseyin Cahit Yalçın, Ahmet Hikmet Müftüoğlu, Saffet Nezihî gibi isimlerin eserleri destekler.

**Aşağıdaki romanlardan hangisi bu parçada adı geçen yazarlardan birine ait değildir?**

- A) *Kırık Hayatlar*
- B) *Gönül Hanım*
- C) *Nadide*
- D) *Genç Kız Kalbi*
- E) *Dudaktan Kalbe*

20. Aşağıdakilerden hangisi Füzûzan'ın öykü türündeki eserlerinden biri değildir?

- A) *Gül Mevsimidir*
- B) *Sevda Dolu Bir Yaz*
- C) *Parasız Yatılı*
- D) *Benim Sinemalarım*
- E) *Kırk Yedi'liler*

21. Faruk Nafiz Çamlıbel'in oyunlarında dönemin sosyal, kültürel ve düşünce hayatını; Cihan Harbi'nin yıkıntılarını ve Millî Mücadele'yi takip etme imkânını buluruz. Anadolu'nun problemlerinin şuurlu olarak ele alındığı ---- isimli oyunda Cihan Harbi sonrası ve sosyal yaralar gözler önüne serilir. ---- ve ---- isimli oyunlarda ise Millî Mücadele ele alınır.

**Bu parçada boş bırakılan yerlere aşağıdakilerden hangileri sırasıyla getirilmelidir?**

- A) *Canavar - Kahraman - Akın*
- B) *Canavar - Kahraman - Ateş*
- C) *Kahraman - Akın - Ateş*
- D) *Yayla Kartalı - Kahraman - Ateş*
- E) *Akın - Canavar - Yayla Kartalı*

22. Orta oyunuyla ilgili aşağıdaki açıklamalardan hangisi parantez içinde verilen terimle uyuşmaktadır?

- A) Oyuncuların oyun alanı (Palanga)
- B) Ev olarak kullanılan paravan (Yeni dünya)
- C) İş yeri olarak kullanılan iskemle (Dükkân)
- D) Eğitim görmüş, aydın kesimi temsil eden tip (Kavuklu)
- E) Asıl olayın konu edildiği bölüm (Fasıl)

23. Oğuz Atay, hesaplaşma kavramını en başta roman kahramanlarının kişiliğinde işlemiştir. .... romanının Selim'i, Turgut'u; .... romanının Hikmet'i ve diğer kahramanları kendisiyle hesaplaşan, bu süreçte kendisiyle konuşan, tartışan karakterlerdir. Atay'ın diğer eserleri gibi günlüğü de baştan sona kendisiyle, toplumuyla, tarihiyle hesaplaşan bir insanın ruh dünyasını ele verir. İnsan aslında kendisiyle farkında olarak veya olmayarak sürekli hesaplaşmakta, hesabını veremediği yerlerde oyuna sığınmaktadır. Elbette kendisine, toplumuna, tarihine, topyekûn hayata hesap verme sorumluluğu olan aydının hesaplaşması bambaşka bir önem arz etmektedir.

**Bu parçada boş bırakılan yerlere aşağıdakilerden hangileri getirilmelidir?**

- A) *Tutunamayanlar - Tehlikeli Oyunlar*
- B) *Tutunamayanlar - Bir Bilim Adamının Romanı*
- C) *Tehlikeli Oyunlar - Eylembilim*
- D) *Tehlikeli Oyunlar - Bir Bilim Adamının Romanı*
- E) *Tutunamayanlar - Eylembilim*



24. Bu akımın etkisinde yazılan edebî eserlerde öznel gerçeklik, bireysel deneyimlerle verilir. Birey ve insan yaşantısı merkezdedir. Kendini gözlemleyen, sorgulayan, bu fark edişle yalnızlığıyla yüzleşmiş, seçimler yapma yükümlülüğünde olan, özgürlüğünü idrak eden ve bu özgürlük karşısında kaygılı, uyumsuz kahramanlara rastlanır. Bu edebiyatta içe bakış çok kullanıldığı için merak unsuruna dayanan kurgu ve olay sikkeliştir. Daha çok "an"lar durumlar üzerinde durulur. İç konuşma ve iç çözümleme teknikleri sıkça kullanılır, psikolojik çözümlere yer verilebilir. İnsanın dünyada bulunuşunu fark etmesi ve bunun ardından dünyayla, diğer insanlarla ve varlıklarla kurduğu ilişkinin doğası belli başlı temalardandır.

**Bu parçada sözü edilen edebiyat akımı aşağıdakilerden hangisidir?**

- A) Dadaizm
- B) Egzistansiyalizm
- C) Ekspresyonizm
- D) Empresyonizm
- E) Sürrealizm

25. Mısır medeniyetinde;

- I. Astronomi
- II. Tıp
- III. Eczacılık
- IV. Anatomi

**bilimlerinin hangilerinin gelişmesinde dinî inançlar etkili olmuştur?**

- A) I ve II
- B) II ve III
- C) III ve IV
- D) I, III ve IV
- E) II, III ve IV

26. Aşağıdaki devletlerden hangisi İslamiyet'in doğuşu sırasında Orta Asya topraklarına hâkim olan Türk devletidir?

- A) Asya Hun Devleti
- B) I. Köktürk Devleti
- C) II. Köktürk Devleti
- D) Uygurlar
- E) Hazarlar

27. Aşağıdakilerden hangisi, İslâmiyet'ten önce Arabistan'da kurulan devletlerden biri değildir?

- A) Tedmürülüler
- B) Gassanîler
- C) Main
- D) Sasani
- E) Seba

28. I. Sivas merkez olmak üzere, Tokat, Niksar ve Amasya civarında kurulmuştur.  
II. Haçlılarla mücadele etmiştir.  
III. Türkiye Selçukluları hükümdarı II. Kılıç Arslan, bu beyliğe son vermiştir.

**Verilen bilgiler, aşağıdaki beyliklerden hangisine aittir?**

- A) Danişmendliler
- B) Saltuklular
- C) Mengücekler
- D) Artuklular
- E) Çaka Beyliği

29. Aşağıdakilerden hangisinde İstanbul'un fethinden ekonomik anlamda olumsuz etkilenen Avrupalı devletler doğru olarak verilmiştir?

- A) İngiltere - Fransa
- B) Fransa - Venedik
- C) Ceneviz - Avusturya
- D) Venedik - Ceneviz
- E) Avusturya - Fransa

30. Aşağıdakilerden hangisinin Osmanlı Devleti'nin ticareti canlandırmak amacıyla uyguladığı ancak XIX. yüzyılda amacından çıkarak devletin ekonomisinin dışa bağımlı hale gelmesinde etkili olduğu söylenebilir?

- A) Duyun-u Umumiye
- B) Islahat Fermanı
- C) Tanzimat Fermanı
- D) Kapitülasyonlar
- E) Balta Limanı Antlaşması

31. Menemen ve Şeyh Said İsyanları'nın sonuçları arasında aşağıdakilerin hangisi gösterilemez?

- A) İstikrar ortamının yeniden sağlanması için tedbirler alınması
- B) Çok partili dönemin kesintiye uğraması
- C) İstiklal Mahkemelerinin kurulması
- D) Musul sorununun aleyhimize çözülmesi
- E) Teşviki Sanayi Kanunu'nun kabul edilmesi

32. Aşağıda verilen gelişmelerden hangisi II. Dünya Savaşı'ndan sonra Türkiye ile Yunanistan arasında yaşanan sorunlar arasında gösterilemez?

- A) Kıbrıs Meselesi
- B) Ege Adaları
- C) Hava Kontrol Sahası
- D) Kıta Saharlığı
- E) ASALA'nın faaliyetleri

33. Cumhuriyetin ilanı ve halifeliğin kaldırılmasına tepki olarak TBMM içinde ortaya çıkan ayrılıklar aşağıdaki siyasi oluşumlardan hangisinin kurulmasına neden olmuştur?

- A) Demokrat Parti
- B) Serbest Cumhuriyet Fırkası
- C) Terakkiperver Cumhuriyet Fırkası
- D) Hürriyet ve İtilâf Fırkası
- E) Halk Fırkası

34. Birleşmiş Milletler Güvenlik Konseyi'nin daimî üyeleri için veto ilkesinin kabul edildiği konferans aşağıdakilerden hangisidir?

- A) Tahran Konferansı
- B) San Francisco Konferansı
- C) Potsdam Konferansı
- D) Casablanca Konferansı
- E) Yalta Konferansı

35. Sanayi ve ulaşımda fosil enerji kaynaklarının kullanılması hava kirliliğinin artmasına neden olmuştur.



Bu kirlilik türünün haritada numaralandırılarak gösterilen yerlerin hangisinde **daha önce** başladığı söylenebilir?

- A) I B) II C) III D) IV E) V

36. Günümüzde meteoroloji kökenli ekstrem doğa olaylarının şiddetindeki ve sayısındaki artışlar iklim değişikliğinin bir göstergesi olarak kabul edilebilir.

Aşağıdakilerden hangisi bu yargıya kanıt olarak gösterilemez?

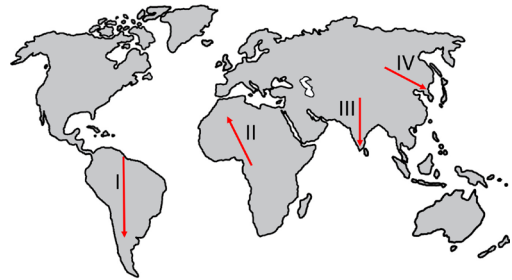
- A) Savan bölgesindeki kurak dönemin uzaması  
B) Akdeniz havzasında şiddetli rüzgârlara bağlı oluşan hortumların sayısının artması  
C) 2020 Ocak ayında Avustralya'da 30°C'yi aşan sıcaklıkların ölçülmesi  
D) 2021 Temmuz ayında Kanada'da sıcaklıkların 50°C'ye ulaşması  
E) 2022 Ekim ayı boyunca Ankara'da sıcaklıkların mevsim normallerinin üzerinde seyretmesi

37. Birleşmiş Milletler'in Genel Kurul, Güvenlik Konseyi, Ekonomik ve Sosyal Konsey, Uluslararası Adalet Divanı ve Birleşmiş Milletler Sekreterliği olmak üzere beş ana organı vardır. Bu beş ana organın dışında Birleşmiş Milletler ile ilişkilendirilen uluslararası örgütler ve bunlara bağlı uzmanlık kuruluşları bulunmaktadır.

Aşağıdakilerden hangisi bu uzmanlık kuruluşlarından biridir?

- A) Gelişen Sekiz Ülke  
B) Uluslararası Çalışma Örgütü  
C) Petrol İhraç Eden Ülkeler Örgütü  
D) Kuzey Atlantik Antlaşması Örgütü  
E) Ekonomik İşbirliği ve Kalkınma Örgütü

38. Sıcak ve nemli iklim bölgelerinden kurak veya daha soğuk iklim bölgelerine doğru ilerlendiğinde genel olarak canlı tür çeşitliliğinde azalmalar gözlenir.



Haritada numaralandırılan oklardan hangilerinin gösterdiği doğrultuda hareket edildiğinde buna benzer bir durum gözlenir?

- A) I ve II B) I ve III C) II ve III  
D) II ve IV E) III ve IV

39. Türkiye, yenilenebilir enerji kaynakları açısından yüksek potansiyele sahip bir ülkedir. Enerji üretimindeki yenilik ve gelişmelerle bu kaynaklar, ülkenin toplam enerji ihtiyacı teminindeki payını artırmaktadır.

**Aşağıdakilerden hangisi Türkiye'nin enerji üretiminde bu kaynakların payını artıracak gelişmelerdendir?**

- A) Büyük kapasiteli doğal gaz depolama birimlerinin kurulması
- B) Linyit çıkarılan maden ocaklarında üretim yapılan sürenin uzatılması
- C) Nükleer enerji üretiminde uzun vadeli planlamaların hayata geçirilmesi
- D) Uygun yer şekillerine sahip alanlarda hidroelektrik santrallerin kurulması
- E) Petrol rafinerilerinde üretimin devamlılığı için boru hatlarının inşa edilmesi

40. Bazı ülkeler yüksek miktarda doğal kaynak potansiyeline sahip olmalarına rağmen bu kaynakların önemli bir bölümünü işlemeden veya yarı işlenmiş hâlde ihraç etmektedir.

**Ülkelerin doğal kaynaklarından bu şekilde faydalanmasında aşağıdakilerden hangisi daha etkili olmuştur?**

- A) Önemli ulaşım güzergâhlarına uzak kalması
- B) Üretimde ham maddeye erişimin zor olması
- C) Sanayide çalışacak iş gücünün yetersiz olması
- D) Sermayenin ve teknolojik olanakların yetersiz olması
- E) Nüfus yoğunluğu nedeniyle arazi yetersizliğinin yaşanması

1. Bu testte sırasıyla, Tarih-2 (1-11), Coğrafya-2 (12-22), Felsefe Grubu (23-34), Din Kültürü ve Ahlak Bilgisi (35-40), Din Kültürü ve Ahlak Bilgisi dersini yasal olarak almak zorunda olmayan veya farklı müfredat ile alanlar için Felsefe Grubu (41-46) alanlarına ait toplam 46 soru vardır.
2. Cevaplarınızı cevap kâğıdının Sosyal Bilimler-2 Testi için ayrılan kısmına işaretleyiniz.

1. Aşağıdaki materyallerden hangisi tarihî bir olayın araştırılmasında kullanılamaz?

- A) Olay ile ilgili kalıntı ve vesikalar  
B) Dijital kaynak  
C) Arşivler  
D) Kamuoyu yoklamaları  
E) Hatıratlar

2. İslamiyet'in Avrupa'da yayılmasında;

- I. Nihavent  
II. Kadisiye  
III. Kadiks  
IV. Puvatya

savaşlarından hangilerinin etkili olduğu söylenebilir?

- A) Yalnız I                      B) Yalnız III                      C) I ve III  
D) III ve IV                      E) II, III ve IV

3. Vakıf, kişilerin taşınır ya da taşınmaz mallarını toplum yararına ebedî olarak bağışlanmasıdır. Osmanlı Devleti'nde toplumdaki sosyal dengenin sağlanmasında etkili olan vakıflar; sosyal barışın ve adaletin korunmasında devlet, toplum ve fert ilişkisinin olumlu yönde gelişmesinde önemli rol oynamıştır.

Buna göre Osmanlı Devleti'nde vakıf sistemi aracılığıyla aşağıdaki yapılardan hangisinin oluşması beklenemez?

- A) Medrese  
B) Mescit  
C) İmarethane  
D) Hamam  
E) Kışla

4. Osmanlı tarihinde Yavuz Sultan Selim zamanı, sadece Doğu'ya sefer yapılan dönem olarak bilinir.

Aşağıdakilerden hangisi bu durumun nedenleri arasında gösterilemez?

- A) Doğu'daki Şii faaliyetlerinin tehlikeli boyutlara ulaşması  
B) Avrupa'dan gelebilecek bir tehlike olmaması  
C) Anadolu Türk birliğini sağlama düşüncesi  
D) Baharat Yolu kontrolünün ele alınmak istenmesi  
E) Memluk Devleti'nin Osmanlı Devleti'nden yardım istemesi

5. Aşağıdakilerden hangisinin Düvün-u Umumiye İdaresi'nin kurulmasıyla birlikte gerçekleştiği savunulamaz?

- A) Osmanlı Devleti'nin ekonomisinin kontrolü kademele olarak yabancıların eline geçmiştir.  
B) Osmanlı Devleti ekonomik yönden dışa bağımlı hale gelmiştir.  
C) Osmanlı Devleti'nin ekonomik kaynakları azalmıştır.  
D) Avrupalı devletlerin zenginleşmesine sebep olmuştur.  
E) Osmanlı Devleti'nin dış borçları azalmıştır.

6. 1768-1774 Osmanlı-Rus Savaşı sonunda imzalanan Küçük Kaynarca Antlaşması, Osmanlı tarihinde bir dönüm noktası olmuştur. Bu antlaşma ile Osmanlı Devleti gayrimüslim tebaanın çoğunlukta olduğu topraklar dışında bir Müslüman Türk toprağını kaybetmiştir.

**Paragrafa göre Osmanlı Devleti'nin Küçük Kaynarca Antlaşması ile kaybettiği toprak aşağıdakilerden hangisidir?**

- A) İran
- B) Azerbaycan
- C) Gürcistan
- D) Kırım
- E) Luristan

7. XIX. yüzyıl başlarında Osmanlı Devleti dağılma sürecine girdi. Bu gelişme üzerine Osmanlı aydınları ve devlet adamları fikirler üretmeye başladılar. Böylece bazı fikir akımları ortaya çıktı. Bunlar; Osmanlılık, İslamcılık, Türkçülük ve Batıcılıktır.

**Bu fikir akımlarının ortak amacı aşağıdakilerden hangisidir?**

- A) Kullandıkları söylem ve eylem farklılıklarına rağmen dağılmayı önlemeye yönelik fikirler üretmek
- B) Devletin sınırları içinde yaşayanları hangi din veya milletten olursa olsun kaynaştırarak bir Osmanlı milleti oluşturmak.
- C) Müslümanların Osmanlı halifesinin etrafında toplanmasını sağlamak.
- D) Osmanlı Devleti yönetimi altında yaşayan Türklere millî bilinç kazandırmak.
- E) Osmanlı Devleti'nin geri kalmışlıktan kurtarılması sağlamak.

8. .... Mustafa Kemal'in ilk görev yeridir. Mustafa Kemal 1905 yılında atanmış olduğu V. Ordu'ya bağlı olarak kurulan süvari alayları ile bölgedeki ayaklanmaları bastırmıştır. Askerlik görevinin yanı sıra siyasi faaliyetlerini de sürdüren Mustafa Kemal, burada Vatan ve Hürriyet Cemiyetini kurmuştur.

**Metnin doğru olarak tamamlanabilmesi için boş bırakılan yere aşağıdakilerin hangisi getirilmelidir?**

- A) Sofya
- B) Selanik
- C) Şam
- D) Trablusgarp
- E) Manastır

9. **Aşağıdakilerden hangisi Millî Mücadele Dönemi'nde Yahudiler tarafından kurulan cemiyetlerden birisidir?**

- A) Makabi
- B) Mavri Mira
- C) Taşnak ve Hınçak
- D) Pontus Rum
- E) Etnik-i Eteryay

10. Aşağıdakilerden hangisi Atatürk döneminde siyasî alanda yapılan inkılablar arasında gösterilemez?

- A) BMM'nin açılması
- B) Saltanatın kaldırılması
- C) Cumhuriyet Halk Fırkasının kurulması
- D) Maarif Vekâletinin kurulması
- E) Halifeliğin kaldırılması

11. “Çöl Fırtınası” ve “Çöl Tilki” operasyonları aşağıdaki ülkelerden hangisi üzerine yapılmıştır?

- A) Afganistan
- B) Suriye
- C) Irak
- D) İran
- E) Lübnan

12. Kuraklık ve çölleşme, insan kaynaklı iklim değişikliğiyle birlikte sonuçları açısından günümüzde insanlığın karşı karşıya olduğu ve mutlaka ciddiye alması gereken önemli küresel ve bölgesel çevre sorunlarından biridir.

Aşağıdakilerden hangisi bu sorunun önlenmesi veya en aza indirilmesinde daha az etkiye sahiptir?

- A) Yatay yerleşim sahalarının oluşturulması
- B) Doğal kaynakların sürdürülebilir kullanımı
- C) Doğru arazi kullanım yöntemlerinin seçilmesi
- D) Yeraltı suyu kullanımının kontrol altına alınması
- E) Ekonomik faaliyetlerin doğal ortama uyumlu olarak planlanması

13. Şehirler, kurulduğu mekânın yanı sıra çevrelerini de etkiler. Ancak her şehrin etki alanı birbirinden farklıdır. Şehirlerin etki alanının sınırları, sahip olduğu işlevsel özelliklerle yakından ilgilidir.



Haritada numaralandırılan yerlerde bulunan şehirlerden hangisinin etki alanı diğerlerine göre daha dardır?

- A) I
- B) II
- C) III
- D) IV
- E) V

14. Türkiye; siyasi, askerî, ekonomik, bilimsel ve teknolojik alanda iş birliği yapmak için küresel ve bölgesel örgütlerin bazılarında üye olmuştur.

Aşağıdakilerden hangisi bu örgütlere örnek gösterilemez?

- A) Grup 20 (G-20)
- B) Gelişen Sekiz Ülke (D-8)
- C) Bağımsız Devletler Topluluğu (BDT)
- D) Karadeniz Ekonomik İşbirliği Teşkilatı (KEİ)
- E) Ekonomik İşbirliği ve Kalkınma Örgütü (OECD)

15. Ekstansif tarım yöntemlerinin uygulandığı alanlarda tarımsal faaliyetlerin daha çok doğal koşulların etkisine bağlı olarak yapıldığı görülmektedir.

**Bu tarımsal faaliyetlerin yapıldığı alanlarla ilgili olarak aşağıdakilerden hangisi söylenebilir?**

- A) Ticari tarım faaliyetleri yaygındır.  
B) Sanayi bitkilerinin ekim alanı geniştir.  
C) Üretimde işgücüne duyulan ihtiyaç azdır.  
D) Üretimde yıldan yıla dalgalanma fazladır.  
E) Birim tarım alanından elde edilen ürün fazladır.

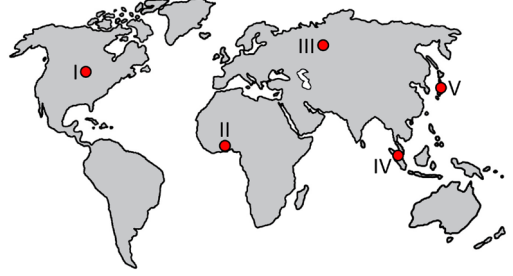
16. Demir yolları; deniz yolu ile kıyılara getirilen malların iç kesimlere kadar ulaştırılabilmesi bakımından büyük önem arz etmektedir. Demir yolu ulaşımı, limanların gelişiminde önemli bir yere sahiptir.



**Haritada numaralandırılan limanlardan hangisinin gelişiminde bu önemden bahsedilemez?**

- A) I B) II C) III D) IV E) V

17. Sanayileşmiş ülkelerin bir kısmı sanayi faaliyetleri için gerekli olan doğal kaynaklar açısından zengin olmadığı için bu kaynakları büyük oranda başka ülkelerden ithal eder.



**Haritada numaralandırılarak gösterilen yerlerden hangisinde bu niteliklere sahip bir ülke bulunur?**

- A) I B) II C) III D) IV E) V

18. Ekstrem doğa olaylarının bir kısmı başka doğa olaylarının oluşmasında etkili olabilmektedir. Yerka-  
buğunun zayıf noktaları boyunca gerçekleşen volkanik patlamaların da böyle bir özelliğe sahip olduğu bilinmektedir.

**Aşağıdakilerden hangisinin bu doğa olayı sonucunda gerçekleşmesi beklenmez?**

- A) Meteorların düşmesi  
B) Depremlerin oluşması  
C) Tsunami dalgalarının oluşması  
D) Kül bulutlarının gökyüzünü kaplaması  
E) Lav akıntılarının yakın çevreyi tahrip etmesi



19. Kullanılan doğal kaynakların kendini yenileyebilir özellikte olması sürdürülebilir kaynak kullanımı açısından önemlidir.

**Bu kullanıma aşağıdakilerden hangisi örnek olarak verilebilir?**

- A) Yüksek karbon içerikli yeraltı kaynaklarının kimya endüstrisinde kullanılması
- B) Bulutluluk süresinin az olduğu alanlarda güneş enerjisi santrallerinin kurulması
- C) Bazı ülkelerde enerji ihtiyacının büyük kısmının radyoaktif maddelerden karşılanması
- D) Termik santrallerde üretilen elektrik miktarının hidroelektrik ile üretilenden fazla olması
- E) Geri dönüşüm maliyeti yüksek olan maddelerin madencilik faaliyetleriyle elde edilmesi

20. Okyanus ekosistemleri içerisinde bulunan mercan resifleri ve bu alanlarda yaşayan hayvanlar arasındaki sistematik ilişki bir ekosistemin meydana gelmesini sağlar.

**Bu ekosistemle ilgili olarak;**

- I. Deniz canlıları için beslenme ve barınma alanı oluşturmaktadır.
- II. Soğuk okyanusların temiz ve derin sularında yaygın olarak bulunmaktadır.
- III. Farklı canlıların yaşaması ve tür çeşitliliğinin artmasına imkân sağlamaktadır.

**yargılarından hangileri doğrudur?**

- A) Yalnız I
- B) Yalnız II
- C) Yalnız III
- D) I ve III
- E) II ve III

21. Hazar Bölgesi'nden çıkarılan petrolün bir kısmının Akdeniz'e ulaştırılması aşamasında boru hatları büyük bir öneme sahiptir.

**Bu bölgede boru hatlarıyla taşımacılığın önemli olmasında;**

- I. Bölge ve yakın çevresinde farklı ekosistem alanlarının bulunması
- II. Bölgenin doğrudan okyanus veya denizlerle bağlantısının olmaması
- III. Üretim alanı ve yakın çevresinde kara yolu ulaşımının yeterince gelişmemesi

**durumlarından hangileri daha etkili olmuştur?**

- A) Yalnız I
- B) Yalnız II
- C) Yalnız III
- D) I ve III
- E) II ve III

22. Enerji ihtiyacının karşılanmasında ülkeler yenilene-meyen kaynakları yoğun bir şekilde kullanmaktadır. Canlı kalıntıların tortullaşmasıyla oluşan fosil yakıtlar da yenilene-meyen enerji kaynakları arasındadır. Bu kaynakların yoğun kullanımı ciddi ve tehlikeli boyutlarda çevre sorunlarına neden olmaktadır.

**Aşağıdakilerden hangisi bu kaynaklardan biri değildir?**

- A) Doğal gaz
- B) Turba
- C) Petrol
- D) Biyokütle
- E) Antrasit

23. Teori, fenomenleri olduğu gibi ele almak, bu fenomenlere göre hareket etmek zorundadır. Çünkü her teori, bu teori hangi varlık alanıyla ilgili olursa olsun, kendi alanına giren fenomenleri objektif olarak incelemelidir. İnsan bilgisinin başka alanlarında, özellikle teorik alanlarda, teorinin neden olduğu zararlı yanlışlıkların farkına varmak kolay değildir. Çünkü teorik alanlarda teori ancak bilimin araştırmalarına, ilerlemesine engel olduğu, onun kısırlaşmasına neden olduğu zaman dikkati çeker. Eğer bir alan pratik bir alan değilse, teorinin zararları sonraları, hattâ çok sonraları görülebilir. Böyle bir teori, ya kenara atılır ya da yeni bir teori ile değiştirilir; bu yeni teori eskisinin yerine geçer.

**T. Mengüşoğlu'nun *İnsan Felsefesi* adlı eserinden alınan bu parçadan teori ile ilgili aşağıdaki-lerden hangisine ulaşamaz?**

- A) Genel geçer bir kesinliğe sahip olması
- B) Olgusal dünyayı nesnel olarak ele alması
- C) Duyularla algılanabilen varlığı incelemesi
- D) Yanlışlanabilirlik özelliğini taşıması
- E) Gündelik yaşamda sınanabilir olması

24. “Üstün bir insan, sağlam özyapılı, dürüst ve doğru-luğu seven bir kimsedir. O, insanların sözlerini ölçer, kişiliğini inceler ve başkalarına karşı alçakgönüllü olmaya çalışır. Böyle bir adam, ülkesi ve boyu için- de tanınır.” “Ünlü bir insana gelince; o, görünüşte erdemlidir; ama, bunun tersini yapar ve kendisinden hiç kuşku duymaz. Böyle bir insan da, ülkesi ve boyu içinde bilinir.”

**Konfüçyus'un *Konuşmalar* adlı eserinden alınan bu parçadan aşağıdakilerden hangisine ulaşamaz?**

- A) Tanınmış insan evrene metodik bir şüpheyle yak-laşır.
- B) İyiyeye yönelen insan diğer insanlara karşı tevazu sahibidir.
- C) Erdemli olmanın ön koşullarından biri hakikate gönül vermektir.
- D) Üstün insanlar irdeleyici bir bakış açısına sahiptir.
- E) Gerçek erdem ahlaki değerlerin içselleştirilmesidir.

25. Kant “kendinde şey” fikrini, kendinde şeyin imkânını reddetmez. Onun reddettiği “kendinde şey”in insan yetileri ile bilinebileceğidir. Çünkü Kant'a göre insanı bilgiye götüren iki şey vardır. Bunlardan birincisi gö-rünür dünyanın fenomenlerini algılayabilme imkânına sahip olan duyular; bir diğeri de duyulardan gelen verileri işleyip bir ürün olarak bilgiyi ortaya koymaya muktedir olan akıldır.

**Kant'ın bilgi görüşünü yansıtan bu parçadan aşağıdaki yargılardan hangisine ulaşılabilir?**

- A) Doğuştan getirilen donanım sayesinde Tanrı bili-nebilir.
- B) Metafizik alan, bilgi sınırının dışında kalır.
- C) Görüngüleri bilmenin yolu duyu verileridir.
- D) Bilginin kaynağı aklın kategorileridir.
- E) Duyulur dünyanın bilgisi insana kapalıdır.

26. Hepimizde bazı olgulara, kişilere ya da objelere yönelik kökleşmiş sanılar bulunmaktadır ve bunlara tutum denir. Tutumlar ne kadar yerleşmiş sanılar olsa da doğru yollarla farklı biçimlere dönüştürülebilir. Örneğin "Yenilikçi ve Etkili Öğretim Stratejileri" adlı eğitime katılan bir eğitimci, uzmanların beden dilini etkili biçimde kullanmalarından, iyi planlanmış ve örneklendirilmiş bir sunum yapmalarından, katılımcıların sordukları sorulara verdikleri gerçekçi, esprili ve bilgilendirici cevaplardan etkilenirse bu stratejilerle ilgili önceki sanılarını değiştirip bu yöntemleri kendisi de kullanacaktır.

**Bu parçada tutumlarla ilgili vurgulanmak istenen aşağıdakilerden hangisidir?**

- A) Bireyin gelişimini olumsuz etkilediği
- B) Evrensel bir niteliğe sahip olduğu
- C) Davranışa dönüştürmezse gözlenemeyeceği
- D) Duygusal öğeler tarafından belirlendiği
- E) İkna yöntemiyle değiştirilebileceği

27. Pozitif bilimler belli bir alanda bilimsel yöntemle elde edilmiş düzenli ve sistemli bilgiler bütünü olarak ifade edilir. Bu bilimler olgular hakkında geliştirilen hipotezleri, yine olgularla denetleyerek doğrulamaktadır. Psikoloji de bilimsel yöntemler aracılığıyla gözlenebilen ve ölçülebilen olguları konu edindiği için pozitif bir bilim olarak nitelendirilmektedir.

**Buna göre aşağıdakilerden hangisi psikolojinin pozitif bilim olarak nitelendirilmesinin göstergesi olamaz?**

- A) Zekâyı ölçen test araçlarının kullanılması
- B) W. Wundt'un ilk psikoloji laboratuvarını kurması
- C) Davranışların gözlem yoluyla incelenmesi
- D) Bir psikoloğun hastasına kişilik testi uygulaması
- E) İnsanı anlamaya ve açıklamaya çalışması

28. Çocuk bu dönemde nesnelere büyüklük, renk ve şekillerine göre sınıflandırabilir. Mantıksal düşünce sistemi gelişmiştir. Kavramlardaki gizli anlamları çözemeyebilir ancak somutlaştırılmış problemleri çözebilir. Bu dönemdeki çocuğun mecaz anlama yeteneği henüz gelişmemiştir.

**Parçada J. Piaget'nin bilişsel gelişim dönemlerinden hangisine yönelik açıklama yapılmıştır?**

- A) Duyusal Motor Dönem
- B) İşlem Öncesi Dönem
- C) Somut İşlemler Dönemi
- D) Soyut İşlemler Dönemi
- E) İşlem Sonrası Dönem

29. Türkiye'de sosyolojinin üniversitelerde kurumsallaşmasında önemli rol oynayan sosyolog, çalışmaları sonucunda sosyolojiye "tampon kurum" kavramını kazandırmıştır. Ona göre tampon kurumlar toplumsal bütünleşmeyi sağlayan, toplumsal değişimin olumsuz etkilerini azaltan ve toplumsal çözülmenin önüne geçen kurumlardır.

**Bu parçada görüşlerine yer verilen Türk sosyoloğu hangisidir?**

- A) Prens Sabahattin
- B) Ziya Gökalp
- C) Mübeccel Belik Kıray
- D) Mümtaz Turhan
- E) Hilmi Ziya Ülken

30. Anthony Giddens *Sosyoloji* isimli eserinde şöyle demiştir: “Tabakalaşma, insanların ayrı gruplanmaları arasındaki yapısal eşitsizlikler olarak basitçe tanımlanabilir. Tabakalaşmayı daha çok yerin yüzeyindeki kayaların jeolojik katmanlarına benzer olarak düşünmek faydalı olabilir. Topluları, bir hiyerarşi içinde, tabana yakın az ayrıcalıklılarla, tavandaki daha fazla kayrılmış olanlardan oluşan ‘katman’lar olarak görebiliriz. Toplayıcılığa ve avcılığa dayanan, ilk dönemdeki insan topluluklarında temel olarak pek az paylaşılmış kaynak ve zenginliğin olması nedeniyle çok az tabakalaşma vardı. Tarım toplumlarındaki toplumsal tabakalaşma, dipteki pek çok insan ile yukarı gittikçe birbirini izleyen az sayıda insanla, gittikçe bir piramidi andırmaktadır. Bugün sanayi ve sanayi sonrası toplumlar, aşırı derecede karmaşıktır; tabakalaşmaları daha yüksek bir olasılıkla, çok sayıda insanın ortada ve ortanın alt derecesinde (bizim orta sınıf dediğimiz), pek az insanın tabanda ve çok az insanınsa tavanda yer aldığı bir göz yaşı damlasına benzemektedir.”

**Bu parçadan tabakalaşma ile ilgili aşağıdakilerden hangisine ulaşamaz?**

- A) Tarihsel süreçte daha kompleks hale geldiği
- B) Bireyler arasında ast-üst farklılaşması yarattığı
- C) Her toplumsal yapıda görülebildiği
- D) Farklı olanaklara sahip sosyal sınıflara ilişkin olduğu
- E) Toplumsal hareketliliğin hızını artırdığı

31. Küreselleşme, son yıllarda popülerleşen ve tartışılan bir kavram haline gelmiştir. Çoğunlukla ekonomik temelde ele alınan küreselleşme, aslında daha kapsamlı bir terim olarak anlaşılmalıdır. Çünkü artan teknolojik imkânlarla neredeyse bütün insanların birbirleriyle etkileşimde bulunması, dünyanın geleceğine ilişkin ortak kaygılar besleyebilmesi, benzer estetik ve pratik objeleri günlük yaşamlarına dâhil etmesi, aslında bir noktada milletlerin birbirlerine bağımlı hale gelmesine işaret etmektedir. Çağdaş toplumların bu karşılıklı etkileşimi birden olmamıştır. Örneğin Sanayi Devrimi'yle beraber üretim alanında meydana gelen değişiklikler üretim fazlasını doğurmuş, ulaştırma alanında yaşanan gelişmeler üretim fazlası malların dünya pazarına sunulmasına olanak tanımış, haberleşme alanında yaşanan gelişmeler ise bu mallara ihtiyaç duyan ile malları üretenlerin birbirinden haberdar olmasına imkân sağlamıştır.

**Bu parçada küreselleşme ile ilgili vurgulanan düşünce aşağıdakilerden hangisidir?**

- A) Ulusal kültürlerin varlığını ortadan kaldırmıştır.
- B) Bireysel yaşama ilişkin alışkanlıkları teğet geçmiştir.
- C) Evrensel değerlerin kabulünü zorunlu kılmıştır.
- D) Temelinde modernleşmenin dinamikleri vardır.
- E) Uluslararası rekabetin son bulmasına sebep olmuştur.

32. Yağmur yağıyorsa hava bulutludur.

Hava bulutluysa insanlar mutsuz olur.

İnsanlar mutsuz olursa evden çıkmazlar.

**Öncüllerinin mantıksal sonucu aşağıdakilerden hangisidir?**

- A) İnsanlar mutsuzsa yağmur yağıyordur.
- B) Yağmur yağıyorsa insanlar evden çıkmazlar.
- C) Hava bulutluysa insanlar evden çıkmazlar.
- D) Yağmur yağıyorsa insanlar mutsuzdur.
- E) İnsanlar mutsuzsa hava bulutludur.

33. “Bazı filozofların rasyonalist olmadığı doğru değildir.” önermesinin yüklem mantığındaki sembolik karşılığı aşağıdakilerden hangisidir?

- A)  $\forall x \sim Fx$
- B)  $\sim \exists x \sim Fx$
- C)  $\sim \forall x Fx$
- D)  $\sim \exists x Fx$
- E)  $\exists x \sim Fx$

34. Kavramlar kapsadıkları alanlara göre tümel, tikel ve tekil olarak sınıflandırılır. Ele aldığı alanın tamamını gösteren kavramlar tümel, bir kısmını gösteren kavramlar tikel, yalnızca bir bireyi gösteren kavramlar tekildir.

**Buna göre aşağıdaki önermelerden hangisi tikel bir yargı içerir?**

- A) İstanbul büyük şehirdir.
- B) Hiçbir öğrenci derse gelmedi.
- C) Çiçeklerin birçoğu kırmızı renktedir.
- D) Okulların tamamı Eylül ayında açılıyor.
- E) Her insan ölümlüdür.

**35 - 40. soruları Din Kültürü ve Ahlak Bilgisi dersini yasal olarak almak zorunda olanlar ve İmam Hatip Okulları öğrencileri/mezunları cevaplayacaktır.**

35. “Adaletli olmak Hz. Muhammed’in (s.a.v.), en belirgin özelliklerinden biridir. Allah’ın (c.c.) “...Eğer hükmedecek olursan, aralarında adalet ile hükmet...” (Mâide suresi, 42. ayet.) emrini her durumda uygulamıştır. Öyle ki, - - - -”

**Bu metin aşağıdakilerden hangisi ile devam ederse anlam bütünlüğü sağlanmış olmaz?**

- A) Bir sahabi Yahudi birisinden borç alır ancak vaktinde ödeyemez. Yahudi alacağını ısrarla isteyince Hz. Peygamber, sahabeden bazı mallarını satarak borcunu ödemesini, alacaklıyı mağdur etmemesini ister.
- B) Hudeybiye Anlaşması’nın maddeleri Müslümanların aleyhine gibi gözükse de anlaşmayı kabul etmiş ve hükümlerine sadakat göstermiştir.
- C) Bedir savaşında Hz. Peygamber’in amcası da esir olarak ele geçirilir. Tazminatsız serbest bırakılmasını teklif ederler. O, buna karşı çıkar ve diğer esirler kadar tazminat ödemesi gerektiğini söyler.
- D) Mekke’nin ileri gelen ailelerinden birine mensup bir kadın hırsızlık yapar. Cezalandırılmaması için Hz. Peygamber’e aracı gönderilir. O ise, “Kızım Fatıma yapmış olsaydı dahi cezasını verirdim” der.
- E) Görevlendirme yapacağı zaman ırk ve dil ayırımı yapmazdı. Herkese liyakatine göre görevler verirdi.

36. Merve Öğretmen, “Allah (c.c.), insana akıl ve irade vermiştir. İnsan akli ile iyi ve kötüyü birbirinden ayırır, iradesini kullanarak da seçimlerde bulunabilir. Ayrıca ilk insandan itibaren ilahi mesajlar gönderilerek insana doğru yol gösterilmiştir. Son olarak da İslam dini gönderilmiştir. Kur'an ve Hz. Muhammed'in (s.a.v.) sünneti bu dinin temel kaynağını oluşturmaktadır. Bu kaynakların her ikisi de - - - -”

**Merve Öğretmen sözünü hangi ifade ile tamamlarsa yanlış bir bilgi vermiş olur?**

- A) İslam'ın tam olarak yaşanması için ayrılmaz bir bütündür.
- B) Bu dünya hayatında bizler için rehber niteliğindedir.
- C) Hz. Muhammed (s.a.v.) döneminde yazıya geçirilmiştir.
- D) İnsanlar için bir hidayet kaynağıdır.
- E) İnsanın hem dünya hem de ahiret mutluluğunu sağlar.

37. · Mesnevi  
· Makalat  
· Divan  
· Divan-ı Hikmet

**Yukarıda hangi mutasavvıfa ait bir esere yer verilmemiştir?**

- A) Mevlâna Celaleddin-i Rumi
- B) Hacı Bayram-ı Veli
- C) Ahmet Yesevi
- D) Yunus Emre
- E) Hacı Bektaş-ı Veli

38. İbadet, insan için fitri bir ihtiyaçtır. İbadet eden insan;

- Allah'ı (c.c.) anarak huzur bulur.
- Allah'a (c.c.) sığınır ve kendisini güven içinde hissederek.
- Sıkıntı ve zorluklar karşısında ümitsizliğe düşmez.
- Allah'a (c.c.) yaklaşır ve böylece kötülüklerden uzak durur.

**Aşağıdaki ayetlerden hangisi bu bilgilerle ilgili değildir?**

- A) “...Muhakkak ki namaz kötülüklerden alıkoyar...” (Ankebût suresi, 45. ayet.)
- B) “...Şunu iyi bilin ki kalpler ancak Allah'ı anmakla tatmin olur.” (Ra'd suresi, 28. ayet.)
- C) “...Kim Allah'a tevekkül ederse O, kendisine yeter...” (Talâk suresi, 3. ayet.)
- D) “...Sen O mutlak galip ve engin merhamet sahibine güvenip dayan.” (Şu'arâ suresi, 217. ayet.)
- E) “Ey insanlar! Sizi ve sizden öncekileri yaratan Rabbinize kulluk edin...” (Bakara suresi, 21. ayet.)

39. İbadetlerin Allah (c.c.) katında değer kazanması için bazı ilkelerin gözetilmesi gerekir.

**Buna göre;**

- I. Kur'an ve Sünnet'e uygunluk
- II. Zamana ve coğrafyaya uygunluk
- III. Niyet
- IV. İhlas

**hangileri bu ilkelerdendir?**

- A) I ve III
- B) II ve III
- C) I, II ve IV
- D) I, III ve IV
- E) I, II, III ve IV

40. Allah (c.c.), dünyayı ve içindekileri belli bir düzen ve ahenk içinde yaratmıştır. İnsanın ve diğer varlıkların sağlıklı bir şekilde yaşayabilmesi bu düzenin devamı ile mümkündür. Bu manada evren Allah'ın (c.c.) insana bir emanettir. Allah'ın (c.c.) yeryüzündeki halifesi olan insanın görevi ise çevre bilinci ile hareket ederek bu emanete sahip çıkmaktır.

**Buna göre;**

- I. "Nihayet o gün (dünyada yararlandığınız) nimetlerden elbette ve elbette hesaba çekileceksiniz." (Tekâsür suresi, 8. ayet.)
- II. "Göğü yükseltti ve ölçüyü koydu. Sakın dengeyi bozmayın." (Rahmân suresi, 7-8. ayetler.)
- III. "İnsanların bizzat kendi işledikleri yüzünden karada ve denizde düzen bozuldu ki Allah yaptıklarının bir kısmını onlara tattırsın, belki de (tuttukları kötü yoldan) dönerler." (Rûm suresi, 41. ayet.)

**ayetlerinden hangileri insanın sorumluluğu ile ilişkilendirilebilir?**

- A) Yalnız I      B) Yalnız II      C) I ve II  
D) I ve III      E) I, II ve III

**41 - 46. soruları Din Kültürü ve Ahlak Bilgisi dersini yasal olarak almak zorunda olmayan veya farklı müfredat ile alanlar cevaplayacaktır.**

41. Bir insan, ancak dört bir taraftan topladığı bilgiyi bir araya getirip bildiği şeyleri, bir doğruyu diğerleriyle karşılaştırarak bir araya getirdiği zaman ona tamamen hâkim olur ve onu kendi gücüne, melekesine dönüştürür. Bir insan bilmediği bir şeyi zihninde evirip çeviremez, düşünemez; bu yüzden önce bir şeyi öğrenmelidir; fakat bir insan ancak üzerine düşündüğü şeyi bilir.

**Schopenhauer'a ait bu parçada felsefi düşüncenin aşağıdaki hangi özelliği vurgulanmıştır?**

- A) Rasyonel olma  
B) Refleksif olma  
C) Eleştirel olma  
D) Tutarlı olma  
E) Şüphe duyma

42. 18-19. yüzyılda felsefe geniş kitlelere ulaşmayı başarmıştır. Bu başarıyı büyük oranda edebi eserler yoluyla sağlamıştır. Çünkü filozoflar felsefi içerikli, dönemin öne çıkan konularını işleyen, olay örgüsü içeren edebi türde eserler de vermişlerdir. Felsefe alanında yapılan tartışmalar gazete ve dergilerde yayınlanmıştır. Bütün bunlar halkın aydınlanmasında etkili olmuş, bu durum da sosyal, politik, ekonomik birçok alanda değişimler ve gelişmeler yaşanmasına sebep olmuştur.

**Bu parçadan aşağıdaki yargıların hangisine ulaşılamaz?**

- A) Aklın özgürce kullanımında felsefe öncülük yapmıştır.  
B) Düşüncenin aktarılmasında dilin zenginliğinden yararlanılmıştır.  
C) İnsanların bilgi birikiminin artmasıyla tartışmalar yazılara yansımıştır.  
D) Aydın sınıfı diğer alanların yanında felsefeye de ilgi göstermiştir.  
E) Felsefe ve edebiyat birbiriyle çatışan iki alan haline gelmiştir.

43. I. Seyir halinde olan çok fazla sayıda araç olduğunu fark etmesi  
II. Güneş batmadan benzinlikte kırmızı renkli olduğunu gördüğü, şimdi önünde seyreden aracın yalnızca far lambalarının aydınlattığı bölümünün kırmızı, aydınlanmayan bölümlerinin daha koyu renkli görünmesine rağmen aracın yine de tamamını kırmızı renkli olarak algılaması  
III. Yolun bazı bölümlerinde yolda kasis olduğu izlenimini uyandıran çizimler sebebiyle yavaşlaması

**Algıyı ilgilendiren aşağıdaki kavramlardan sırasıyla hangisiyle ilgilidir?**

- A) Algısal değişmezlik - Algı - Derinlik algısı  
B) Algı - Algısal değişmezlik - Derinlik algısı  
C) Algısal değişmezlik - Derinlik algısı - Algı  
D) Derinlik algısı - Algısal değişmezlik - Algı  
E) Algı - Derinlik algısı - Algısal değişmezlik

44. Topluların ilerlemesi de gerilemesi de toplumsal deęişme kavramına girmektedir. Toplumsal deęişmenin oluşmasında bir toplumun kendi iç yapısından kaynaklanan özelliklerin yanında toplumun dışındaki faktörler de önemli bir etkiye sahiptir. Özellikle hızla gelişen teknoloji toplumsal deęişmenin temel dinamiklerinden biridir. Toplumsal deęişmeyi oluşturan bazı faktörler tek başına deęişim yaratamazken, bazı faktörler örneğin ekonomik gelişmeler aile, eğitim, hukuk gibi toplumsal kurumları etkileyecek ve deęiştirecektir.

**Bu parçadan aşağıdakilerden hangisine ulaşamaz?**

- A) Toplumsal yapının dinamik bir sürece tabi olduğuna
- B) Deęişmenin tek yönlü olarak gerçekleştiğine
- C) Deęişime sebep olan etkenlerin farklı ölçülerde etkileri olduğuna
- D) Deęişmenin toplumsal yapının farklı unsurlarında gerçekleşebildiğine
- E) Deęişmenin evrensel nitelikte olduğuna

45. Bir toplumda alt tabakada yer alan bir aile üyesinin üst tabakaya geçme imkânı çeşitli sosyo-ekonomik koşullara bağlıdır. Bu koşulların en önemlileri fırsat eşitliği, rekabet, engellerin kaldırılması ve eğitim imkânlarıdır. Açık sınıf tabakalaşması olan toplumlar, bu türden dikey hareketliliğe olanak verir.

**Buna göre toplumsal hareketlilik ile ilgili aşağıdakilerden hangisi söylenemez?**

- A) Çağdaş toplumlar bireye fırsat eşitliği sağlar.
- B) Eğitim olanakları dikey hareketlilik için önemlidir.
- C) Bireylerin genetik özellikleri tabakalar arası geçişlerde etkilidir.
- D) Çağdaş toplumlarda tabakalar arası geçiş mümkündür.
- E) Çağdaş toplumlarda bireylerin doğuştan getirdikleri statüler tabakalar arası geçişlerde etkili değildir.

46. I. Reel bir kavramın belli bir nesnede somutlaşmasıdır.  
 II. Tümel bir kavramın yalnız zihindeki bireylerinin ve bunların ortak özelliklerinin dikkate alınıp düşünülmesidir.  
 III. Tümel bir kavramı nesnel dünyada temsil eden ya da onun kapsamına giren bireylerin tümüdür.

**Öncüllerde verilen ifadeler sırasıyla aşağıdaki kavramlardan hangilerinin tanımıdır?**

	I	II	III
A)	Nelik	Gerçeklik	Kimlik
B)	Kimlik	Nelik	Gerçeklik
C)	Gerçeklik	Kimlik	Nelik
D)	Nelik	Kimlik	Gerçeklik
E)	Gerçeklik	Nelik	Kimlik





# Kendini Deęerlendir



1

*Kare kodu okut.*

2

*Sınavını seę*

3

*Cevaplarını sisteme gir.*

4

*Eksik olduęun konuları analiz et.*

5

*Bu sınava katılanlar arasındaki sıralamanı gör.*



T.C. MİLLÎ EĞİTİM  
BAKANLIĞI

3 ADIM

DENEME SINAVLARI

3. ADIM

AYT  
sözel



1. DENEME

ADI VE SOYADI

OKUL ADI

ADAYIN İMZASI

**ADAYIN DİKKATİNE!**

1. Bu sınavda AYT soru dağılımları dikkate alınmıştır.
2. Deneme tam kapsam olup YKS konularının tamamını kapsamaktadır.
3. Bu sınav Türk Dili ve Edebiyatı - Sosyal Bilimler 1 Testi (TDE 24 soru, Tarih 10 soru, Coğrafya 6 soru) 40 soru, Sosyal Bilimler 2 Testi (Tarih 11 soru, Coğrafya 11 soru, Felsefe Grubu 12 soru, DKAB 6 soru) 40 soru olmak üzere toplamda 80 soru içermektedir.

Bu testlerin her hakkı saklıdır. Hangi amaçla olursa olsun, testlerin tamamının veya bir kısmının Millî Eğitim Bakanlığının yazılı izni olmadan kopya edilmesi, fotoğrafının çekilmesi, herhangi bir yolla çoğaltılması, yayımlanması ya da kullanılması yasaktır. Bu yasağa uymayanlar gerekli cezai sorumluluğu ve testlerin hazırlanmasındaki mali külfeti peşinen kabullenmiş sayılır.

### **DİKKAT!**

Din Kültürü ve Ahlak Bilgisi dersini yasal olarak almak zorunda olan adaylar ve İmam Hatip Okulları öğrencileri/mezunları, Sosyal Bilimler-2 Testi'nin ilk 40 sorusunu cevaplamakla yükümlüdür. Bu adaylar, bu testin 41-46. sorularını cevaplamayacaklardır. Bu adaylar, bu testin 41-46. sorularında işaretleme yapmış olsalar bile bu cevapları değerlendirmeye alınmayacaktır.

Din Kültürü ve Ahlak Bilgisi dersini yasal olarak almak zorunda olmayan veya farklı müfredat ile alan adaylar, Sosyal Bilimler-2 Testi'nin 35-40. sorularını cevaplamadan 41-46. sorularını cevaplayacaklardır. Bu adaylar, bu testin 35-40. sorularında işaretleme yapmış olsalar bile bu cevapları değerlendirmeye alınmayacaktır.

### **AÇIKLAMA**

1. Bu kitapçıkta **86 soru** bulunmaktadır.  
Türk Dili ve Edebiyatı-Sosyal Bilimler-1 Testi: 40 soru  
Sosyal Bilimler-2 Testi: 46 soru
2. **Bu sınavda her testteki doğru cevaplarınızın sayısından yanlış cevaplarınızın sayısının dörtte biri çıkarılacak ve kalan sayı o bölüme ilgili ham puanınız olacaktır.**
3. Kitapçığın sayfalarındaki boş yerleri müsvedde için kullanabilirsiniz.
4. Cevaplamaya istediğiniz sorudan başlayabilirsiniz. Bir soru ile ilgili cevabınızı cevap kâğıdında o soru için ayrılmış olan yere işaretlemeyi unutmayınız.
5. Bu kitapçıkta yer alan her sorunun sadece bir doğru cevabı vardır. Cevap kâğıdında bir soru için birden çok cevap yeri işaretlenmişse o soru yanlış cevaplanmış sayılacaktır. İşaretlediğiniz bir cevabı değiştirmek istediğinizde silme işlemini çok iyi yapmanız gerektiğini unutmayınız.

1. Bu testte sırasıyla, Türk Dili ve Edebiyatı (1-24), Tarih-1 (25-34), Coğrafya-1 (35-40) alanlarına ait toplam 40 soru vardır.
2. Cevaplarınızı cevap kâğıdının Türk Dili ve Edebiyatı-Sosyal Bilimler-1 Testi için ayrılan kısmına işaretleyiniz.

1. Bir türkünün sözleri içinde, bütün bir türküyü taşıyan, o sözlerin bir anlamda bel kemiğini oluşturan, şiirsel yükü en fazla olan diğer bütün dizelerin sanki onu söylemek için söylenmiş olduğu bir iki dize veya bir dörtlük vardır. Diğer dizeler de elbette çok güzeldir ama o dize söylenmemiş olsaydı türkü değerinden yitirecek gibidir. Duygusunu yaşadığımız bir “şah” dizedir, dörtlüktür o. Sesin kendini tamamlaması, çavlanlar çizerek akması o dize olduğu içindir sanki. Halkın yaratıcı dehasının billurlaştığı dizelerdir onlar.

**Bu parçadaki altı çizili sözle anlatılmak istenen aşağıdakilerden hangisidir?**

- A) Halkın belli bir kesimini yansıttığı  
B) Türkülerin en önemli kısmı olduğu  
C) Türkünün özünü aksettirdiği  
D) Türkülerin şiirsel yükünü taşıdığı  
E) Türkünün değerini belirlediği

2. Balık yoktur; hamsi, zargana, lüfer, kılıç, levrek vardır diyen Sait Faik'e göre bir öykücü bunları bilmek, görmek zorundadır eğer öyküsü deniz ile ilgili ise.

**Bu cümlede anlatılmak istenen aşağıdakilerden hangisidir?**

- A) Öykü yazarı iyi öyküler yazabilmek için her şeyle ilgili bilgi sahibi olmak zorundadır.  
B) İyi bir öykücü olabilmek için iyi bir gözlemci olup ayrıntıları fark etmek gerekir.  
C) Öykü yazarı yazdığı konuyla ilgili genel bilgilerle yetinmemeli, konunun ayrıntılarını da öğrenmelidir.  
D) Ancak dünyayı izleyen, ayrıntıları fark edebilenler iyi öykücü olabilirler.  
E) Öykünün başarısı, yazarının öğrenmeye merakı ve bilgili olmasıyla ilgilidir.

3. Güzel sanatların hemen bütün dallarıyla ilişkili olan şiirin resimle bağı çoğunlukla sözcükler yoluyla yaratılan imgesel görüntüyle sınırlıdır. Somut şiir, şiirin sözcüklerinin sadece imgesel olarak değil aynı zamanda görsel olarak da kullanılmasını amaçlayan bir şiir anlayışıdır. “Desen şiir”, “şekilli şiir”, “görsel şiir” olarak da anılan somut şiir; dilin sadece anlamsal ve kavramsal boyutlarını değil görsel-çizgisel boyutlarını da araştırır. Algıladıklarını dile dönüştüren şair, somut şiirlerle dilsel olanı yeniden görsel olana dönüştürür. Ancak ilk aşamada görünen sadece şairin değil her insanın görebileceği bir şeyken son aşamadaki görsellik, sanatçının dil ve biçim estetiğiyle “yaratıldığı” sanatsal bir şeydir dolayısıyla özel bir okuma gerektirir. Ve görüntü, imgesellikten çıkarak “somut”laşır. Böylece şair, şiirin iç ve dış boyutlarını genişletir, derinleştirir; duyuları ve algıları karıştırarak okuru şaşırtır, düşündürür; eserinin yorum ve okuma olanaklarını artırır, çeşitlendirir.

**Bu parçadan aşağıdakilerin hangisine ulaşılabılır?**

- A) Gördüklerini, duyduklarını dile getiren şair; sözcükler aracılığıyla dili tekrar somut olarak inşa eder.  
B) Somut şiiri ortaya çıkaran şair, dilin anlamsal ve kavramsal boyutlarından uzaklaşarak görsel boyutları önceler.  
C) Somut şiir oluşturulurken sözcüklerin görsel planından ziyade imgesel planı dikkate alınmalıdır.  
D) Resimle bağı yadsınamayan somut şiirin oluşmasında diğer güzel sanatların etkisinden de söz etmek mümkündür.  
E) Somut şiir, okurun yorumlama gücünü artırma çabasında değil şiirin ana yorumuna ulaşmasının peşindedir.

4. Bir dili ister yazılı ister sözlü olarak kök saldığı ve yayıldığı topraklardaki kişilerin özellikleri geliştirir. Halkının ne tür özelliklere ve niteliklere sahip olduğunu yakından tanıyan akıllı, sabırlı ve sevgi dolu insanların kendi çağında ortaya koyduğu eserler; yüzlerce yıl içinde bulunduğu toplumun her zaman beğendiğı, örnek aldığı kalıcı eserler olmuştur. Bu tür eserler; aradan kaç yıl geçerse geçsin, hiç eskimez. Dillerinin sade olmasından dolayı eskiyle yeni arasında kurdukları dil ve kültür köprülerinden genç kuşaklar da rahatça geçerler.

**Bu parçadan aşağıdakilerin hangisine ulaşamaz?**

- A) Toplum tarafından takdir edilen eserler, o toplumu tanıyan sanatçıların kaleminden çıkmıştır.
- B) Bir dilin nitelikli olabilmesi o dili kullanan toplumun nitelikli olmasına bağlıdır.
- C) İçinde yaşadığı halkı özümsemiş sanatçıların yazdığı eserler zamanın yok ediciliğine direnebilir.
- D) Yalın bir üslupla oluşturulan eserler; eski ile yeni arasında köprü vazifesi üstlenmiş durumdadır.
- E) Çağlardan çağlara aktarılan dil, sanatsal özelliklerini geliştirilerek ilerletilmesini sağlamaktadır.

5. *Mecâlisü'n-Nefâis*, Türk dilinde yazılan ilk şairler tezkiresi olması bakımından önemlidir. Ali Şîr Nevâî, Câmî'nin *Bahâristân* adlı tezkiresini örnek alarak kendi eserini sekiz kısma ayırmış ve her kısma "meclis" adını vermiştir. Sekizinci meclis tamamen Hüseyin Baykara'ya ayrılmıştır. Tezkirede geçen şairlerin büyük kısmı Farsça kaleme alınmıştır. Eserde dört yüz elli bir şair bulunmakta ve bunlardan sadece kırk birinin Türkçe şiir yazdığı görülmektedir. Eser Özbekistan Fenler Akademisi tarafından 1961 yılında yayımlanmıştır. Ayrıca bazı ilâvelerle 1530, 1562 ve 1584 yılında Farsçaya çevrilmiştir.

**Bu parçadan *Mecâlisü'n-Nefâis* ile ilgili aşağıdakilerden hangisine değinilmemiştir?**

- A) En az iki farklı dilde yazılmış şiirlere yer verildiğine
  - B) Aynı türde başka bir eserin içeriğini taklit ettiğine
  - C) Şair tezkireleri içinde bir ilk olma özelliğı taşıdığına
  - D) Aynı yüzyılda birçok defa başka bir dile çevrildiğine
  - E) Dört yüz elli şairin ilk yedi bölüm içinde ele alındığına
6. Hem kalıtsal hem de çevresel faktörleri kapsayan birçok etken, akılcı olmayan bir biçimde düşünmemize yol açabilir. Akılcı olmayan yerleşik düşüncelerin böylesine yaygın olmasından anlaşılacağı üzere bu tür düşüncelere kolaylıkla inanma eğilimimiz vardır. Öte yandan içinde yaşadığımız kültür de çoğu zaman bu yerleşik düşüncelerin özgül içeriğini destekliyor gibi görünmektedir.

**Bu parçada aşağıdakilerin hangisi vurgulanmaktadır?**

- A) Yanlışlarımızın ilk ve başlıca nedeni, geçmişte edindiğimiz ön yargılardır.
- B) Gösterdiğimiz davranışların nedeni, alışlagelen öğretilerden kaynaklanır.
- C) Sıkıntılarla başa çıkmanın başlıca yolu düşünce biçimimizi değiştirmektir.
- D) Başımıza gelenleri denetleyemesek de gösterdiğimiz tepkiler denetlenebilir.
- E) Akılcı olmayan düşüncelerimizi değiştirmek için önce bakış açımızı değiştirmeliyiz.

7. Rüzgâr eser dallarınız atışır,  
Kuşlarınız birbiriyle ötüşür,  
Ören yerler bu bayramda pek üşür,  
Sümbül niçin yaslı bakışır dağlar!

**Bu dizelerle ilgili aşağıdakilerden hangisi söylemez?**

- A) Açık istiare sanatının kullanıldığı  
B) Redif ve kafiye yararlanıldığı  
C) Pastoral şiire örnek olduğu  
D) 11'li hece ölçüsüyle söylendiği  
E) aaab kafiye düzenine sahip olduğu

8. Vara vara vardım ol kara taşa  
Hasret ettin beni kavim kardaşa  
Sebep ne gözden akan kanlı yaşa  
Bir ayrılık bir yoksulluk bir ölüm

**Bu dörtlükle ilgili aşağıdakilerden hangisi söylemez?**

- A) Tenasüp sanatına başvurulmuştur.  
B) Düz ayak düzeninde söylenmiştir.  
C) Redife yer verilmiştir.  
D) Zengin ayak kullanılmıştır.  
E) 11'li hece ölçüsüyle söylenmiştir.

9. Aşağıdaki dizelerin hangisinde, parantez içinde verilen edebî sanat yoktur?

- A) Onlar ki bu güller tutuşan bahçededirler  
Bir gün nereden, hangi tesadüfle gelirler  
(İstiare)
- B) Uçmakta, konmadan, kıyısız bir denizde rûh  
Benzer mi böyle bir kuşa Tufan içinde Nuh  
(Telmihi)
- C) Mâzî yosunla örtülü bir göl ki yok dibi  
Mevsim serin ve bahçede yaprak yığın yığın  
(Tenasüp)
- D) Uşşâkı niçün kırmaz gamze ne durur bilmem  
Keskin mi değil tığı mestâne değil mi yâ  
(Tecahülûarif)
- E) Bülbülü nâlân edip urmazdı âteş cânına  
Olmasa mâ'il eğer âlemde sâz u söze gül  
(Hüsûtalil)

10. İslamiyet öncesi doğal Türk destanlarından biri olup Uygurlara ait *Türeyiş Destanı* ile konu bakımından benzerlik gösterir.

**Bu cümlede sözü edilen destan aşağıdakilerden hangisidir?**

- A) *Yaradılış Destanı*  
B) *Göç Destanı*  
C) *Alp Er Tunga Destanı*  
D) *Bozkurt Destanı*  
E) *Oğuz Kağan Destanı*

11. Altmış üçke yaşım yetti öttüm ğafil  
Hak emrini mehkem tutmay özüm câhil  
Rûze namâz kazâ kılıp boldum kâhil  
Yaman izlep yahşılardın keçtim mena

**Bu dörtlük, biçim ve içerik özelliklerinden hareketle aşağıdakilerin hangisinden alınmış olabilir?**

- A) *Risâletü'n-Nushiyye*  
B) *Divânu Lugâti't-Türk*  
C) *Divân-ı Hikmet*  
D) *Mâkâlât*  
E) *Kutadgu Bilig*

12. İlahiler, mutasavvif şairler tarafından dinî konularda Allah'ı övmek ve Allah'a yalvarmak amacıyla oluşturulan şiirlerdir. İlahiler farklı tarikatlarda farklı isimlerle anılmıştır. İlahi yerine Mevleviler ----, Bektaşiler ----, Yeseviler hikmet adlarını kullanmışlardır. Farklı sanatçılar tarafından ilahiler yazılmış olsa da ilahi denilince akla ilk gelen isimlerden biridir ----.

**Bu parçada boş bırakılan yerlere aşağıdakilerin hangileri sırasıyla getirilmelidir?**

- A) dergâh - nutuk - Yunus Emre  
B) zikir - tekke - Pir Sultan Abdal  
C) âyin - şathiye - Mevlânâ  
D) dergâh - semah - Yunus Emre  
E) âyin - nefes - Yunus Emre

13. **Aşağıdakilerin hangisi parantez ( ) içerisinde verilen terimle uyuşmamaktadır?**

- A) Halk şiirinde uyak yerine kullanılan bir terimdir.  
(ayak)
- B) Türk halk edebiyatında bir uzun hava türüdür.  
(bozlak)
- C) Şarkı ve türkülerde tekrarlanan dizedir.  
(kavuştak)
- D) Bektaşî törenlerinde makamlarla okunan nazım türüdür.  
(nefes)
- E) Tasavvufu öğrenmeye yeni başlayan dervişlere, tasavvuf adabını öğretmek için söylenmiş şiirlerdir.  
(deme)

14. **Aşağıdaki beyitlerden hangisi kasidenin nesib bölümünden alınmış olabilir?**

- A) Kerem ehlin bu gece seyr cihânında görüp  
Soraram bunlara kim n'oldu sehâ kanı kerem
- B) İd-gâh oldu çemenler goncalar etfal-i id  
Salınıp bâd-ile gül dülâba bindi cûybâr
- C) Beni irşâd edip gösterdi hakkâ meslek-i hakkı  
Ulûm-ı keşfi söyler bir kitâb-ı hoş-beyân verdi
- D) Şükr kıl fakrınıle etme şikâyet Şeyhî  
Derdine şâh-ı kerem eyleye dermân-ı kerem
- E) Yaraşır ana Süleymân-ı hakikat derssem  
Halka-i çarh benân-ı dilinin hâtemidir



15. İnan, Hindistan ve Afganistan'da revaç bulan bu akım, XVII-XVIII. yüzyıllarda Türk şairlerini önemli ölçüde etkilemiştir. Bu yüzyıllarda yaşayan şairlerin birçoğu bu üslupla şiirler yazmışlar; kendi hayal zenginliklerini, fikirlerini, duygularını bu üsluba uygun olarak mübalağalı bir tarzda şiirlerinde yansıtmışlardır. Şiirleri genellikle Farsça kelime ve terkiplerle dolu olduğundan ağıdalı bir hâl almış, bu ağıdalı dilin ince ve nazik hayallerle birleşmesi şiirlerin anlaşılmasını güçleştirmiştir.

**Aşağıdakilerden hangisi bu parçada sözü edilen üsluptan etkilenen sanatçıların eserlerinden biri değildir?**

- A) *Hüsn ü Aşk*  
B) *Sihâm-ı Kazâ*  
C) *Nâil-i Kadim Divânı*  
D) *Rind ü Zâhid*  
E) *Tuhfetü'l Uşşak*

16. Halkın yazınsal beğeni düzeyinin yükseltilmesine, özel bilgilerinin genişletilmesine çalışmak; Batı ülkelerindeki dengi kurumlarla bağlantı ve ilişki kurarak ülkemizin yazınsal türlerini, Batı'nın aydınlığını Doğu ufuklarına aktaracak güçlü ve yüce bir aktarma görevini yapmak ve dilin, edebiyatın, yazınsal ve toplumsal bilimlerin ilerlemesine hizmet etmek; ayrı ayrı, şurada burada gelişip büyüyen yetenekleri bağrında toplayarak birlik ve topluluğun doğuracağı güçle yetkinleşmeye, düşünsel çatışmaların parlatacağı gerçek şimşegiyle düşünceleri aydınlatmaya çalışmak: İşte bizim azim ve isteğimizin ereği!

**Bu parçada sanat görüşüne yer verilen edebî topluluk aşağıdakilerden hangisidir?**

- A) Servetifünun  
B) I. Yeni  
C) Fecriati  
D) II. Yeni  
E) Hisarcılar

17. Vatan Şarkısı

Âmâlimiz efkârımız ikbâl-i vatandır.  
Serhaddimize kal'a bizim hâk-i bedendir.  
Osmanlılarız ziyetimiz kanlı kefendir.  
Gavgâda şehâdetle bütün kâm alırsız biz.  
Osmanlılarız can verir nâm alırsız biz.

**Bu şiirden hareketle Tanzimat I. Dönem şiiri hakkında aşağıdakilerden hangisi söylenemez?**

- A) Dönemde yer verilen temalar; medeniyet, hak, hukuk, vatan, hürriyet gibi sosyal ve siyasi konulardır.  
B) Klasik şiirin teknik unsurlarına bağlı kalınarak nazım şekilleri, ölçü ve söz sanatları devam ettirilir.  
C) Bu dönemde dilde sadeleşme hareketinin ön plana çıkmasıyla şiirlerde sade bir söyleyiş tutumu benimsenmiştir.  
D) Bu dönemin şiirlerinde romantizm benimsendiği için şiirlerde coşkulu ve lirik anlatım söz konusudur.  
E) Bu dönem şiiri hiçbir zaman belli bir sınıfa ait olmamış, şiirde milletin ortak düşüncelerine yer verilmiştir.

18. Cumhuriyet'in 1923-1940 yılları arasında önceki dönemlerden gelerek etkisini sürdüren ya da yeni ortaya çıkan şiir anlayışları Türk şiirinin seyrini belirler. ----; hece vezninin duru bir Türkçe ve toplum meseleleri etrafında gelişen memleket şiirinin önemli isimlerden biridir. Ahmet Hâşim ve Yahya Kemal'in izinden giden ----, bu dönemde saf şiir anlayışıyla şiirler yazmıştır. Serbest nazımla ülke sorunlarını toplumcu gerçekçi bir biçimde dile getiren ----, Türk şiir geleneğinden köklü bir biçimde kopuşu da beraberinde getirmiştir. Bu dönemde şiirdeki özgünlüğünü belli bir ekolden almayıp sadece kendine borçlu olan ---- gibi şairler de vardır.

**Bu parçada boş bırakılan yerlere aşağıdaki şairlerden hangisi getirilemez?**

- A) Orhan Veli Kanık  
B) Fazıl Hüsnü Dağlarca  
C) Ahmet Hamdi Tanpınar  
D) Nâzım Hikmet Ran  
E) Ahmet Kutsi Tecer

19. Türk diline yeni bir söyleyiş getirmiştir. Şiir bütünlüğünü korumuş, hece ölçüsünü en güzel şekilde mısralara uygulamıştır. Sağlam bir tarih bilincine sahiptir. Yahya Kemal ve Ahmet Hâşim'in etkisindedir. Çeşitli mecaz ve düşüncelerle dolu zengin bir anlatımı vardır. "Şiirde sustuğum şeyleri roman ve hikâyelerimde anlatırım." diyen yazar şiir, makale, biyografi, edebiyat tarihi, hikâye ve roman türünde eserler vermiştir.

**Aşağıdaki eserlerden hangisi parçada sözü edilen sanatçıya ait olabilir?**

- A) *Ayaşlı ve Kiracıları*  
 B) *Bir Sürgün*  
 C) *Saatleri Ayarlama Enstitüsü*  
 D) *Miskinler Tekkesi*  
 E) *Handan*

20.

**Eser****Yazar**

- |                                 |               |
|---------------------------------|---------------|
| I. <i>Yorgun Savaşçı</i>        | Necati Cumalı |
| II. <i>Baba Evi</i>             | Yaşar Kemal   |
| III. <i>Binboğalar Efsanesi</i> | Kemal Tahir   |
| IV. <i>Çıkrıklar Durunca</i>    | Orhan Kemal   |
| V. <i>Viran Dağlar</i>          |               |

**Yukarıda verilen eser ve yazarlar eşleştirildiğinde hangisi dışta kalır?**

- A) I      B) II      C) III      D) IV      E) V

21. Sanatçı; Türk romanının ölümsüz kahramanlarından biri olan Fahim Bey'in kişiliğinde onun gençlik yıllarından başlayarak bütün bir ömür boyu kendi kendisinden, insanlardan, hayatın acı gerçeklerinden, çeşitli olaylardan ve hemen her şeyden kaçan; zihnindeki muhayyel dünyada yaşarken de herhangi bir arızaya meydan vermeyen tuhaf bir insanın hayat macerasını hikâye etmiştir.

**Bu parçada sözü edilen yazar aşağıdakilerden hangisidir?**

- A) Peyami Safa  
 B) Sâmîha Ayverdi  
 C) Ahmet Hamdi Tanpınar  
 D) Mithat Cemal Kuntay  
 E) Abdülhak Şinasi Hisar

22. Çeviri onu takiben de adapte eserler aracılığıyla Türk edebiyatına dâhil olan tiyatronun ilk örneğini Müştak Bey'in evlilik macerasını işlediği komedi türündeki eseriyle ---- vermiştir. Onun çağdaşı, tiyatroyu bir eğitim aracı olarak gören ---- ise Türk edebiyatında sahnelenen ilk tiyatronun yazarıdır. Cumhuriyet'in ilanından sonra dünya tiyatrosunu yakından takip etme olanağı bulan yazarlar -Tanzimat Dönemi sanatçıları gibi- tiyatrodaki yeni türleri yazdıkları eserlerle Türk tiyatrosuna taşırlar. Dünya edebiyatında Bertolt Brecht'in öncülüğünü yaptığı epik tiyatronun Türk edebiyatındaki öncüleri Sinekliadağ'ı sahneye taşıyan ---- ve *Asiye Nasıl Kurtulur* adlı oyunun yazarı Vasif Öngören'dir. ---- ise kahramanlarını Amerikalı petrol zengini bir çift, Ozan Wong, Avcı Çoo ve Matmazel Lülü'nün oluşturduğu oyunuyla absürt tiyatronun başarılı bir örneğini Türk edebiyatına kazandırmıştır.

**Bu parçada boş bırakılan yerlere aşağıdaki sanatçılardan hangisi getirilemez?**

- A) Haldun Taner  
 B) Güngör Dilmen  
 C) İbrahim Şinâsi  
 D) Nâmık Kemal  
 E) Orhan Asena

23. Tanzimat Dönemi tiyatrosunda Shakespeare ve Molière'in etkisi oldukça fazladır. Bu dönemde modernleşmeye başlayan Türk tiyatrosu geleneksel tiyatro ile Batı tiyatrosunu birleştirmeye çalışmıştır. Yazarlar bu birleşmeyi ancak gülmeceyle yapabilmişlerdir. Bu sebeple özellikle komedi türünde oyunlar yazılmış veya adaptasyon yoluyla aktarılmıştır.

**Bu parçada söz edilen tiyatro anlayışıyla eser veren sanatçılar aşağıdakilerden hangisidir?**

- A) Nâmık Kemal - Şinâsi
- B) Ahmet Vefik Paşa - Direktör Âli Bey
- C) Ahmet Mithat Efendi - Ahmet Vefik Paşa
- D) Direktör Âli Bey - Ahmet Mithat Efendi
- E) Nâmık Kemal - Direktör Âli Bey

24. Bir yayınevi, üç yazarından maden işçilerinin sorunlarını anlatan birer roman yazmalarını ister. İlk yazar, herhangi bir maden ocağının olmadığı bir kıyı şehrinde romanını yazmaya başlar. Kafasında hayal dünyasının sınırlarınca bir maden ocağı ve maden işçileri kurgusu oluşturur. İkinci yazar, Zonguldak'a giderek bir maden ocağının yakınında ev kiralar. Maden işçilerinin çalışma koşullarıyla ilgili gözlemler yapıp notlar alır ve işçilerle konuşur. Elde ettiği bu bilgilerle romanını yazar. Üçüncü yazar ise Zonguldak'a gider ve bir maden ocağında çalışmaya başlar. Bir maden işçisi gibi çalışır ve yaşar. Romanını da bu birikim üzerine oluşturur.

**Bu parçada tanıtılan üç yazar sırasıyla hangi edebî akımın temsilcisi olabilir?**

- A) Romantizm - Realizm - Natüralizm
- B) Klasisizm - Natüralizm - Romantizm
- C) Realizm - Romantizm - Fütürizm
- D) Romantizm - Empresyonizm - Dadaizm
- E) Natüralizm - Klasisizm - Fütürizm

25.

	Miladi	Hicri
I	Güneş yılı esaslıdır.	Ay yılı esaslıdır.
II	365 gün vardır.	354 gün vardır.
III	Türklerin kullandığı takvimlerdendir.	Türklerin kullandığı takvimlerdendir.
IV	Milat başlangıçtır.	Hicret başlangıçtır.
V	Ülkemizde 1926 yılında kullanılmaya başlandı.	Ülkemizde hiçbir zaman kullanılmamıştır.

Yukarıda verilen tabloda Miladi ve Hicri takvim karşılaştırılmıştır.

**Buna göre verilenlerden hangisindeki karşılaştırma doğru değildir?**

- A) I      B) II      C) III      D) IV      E) V

26. Anadolu'nun yazılı tarihe geçmesine sebep olan Kayseri Kültepe tabletleri aşağıdaki Mezopotamya uygarlıklarından hangisine aittir?

- A) Sümerler      B) Babiller      C) Asurlar
- D) Akadlar      E) Elamlar

27. Türkiye Selçuklu Devleti'nde, Büyük Divan'a bağlı olarak çalışan alt dereceli divanlar vardır.

**Aşağıda verilen küçük divanların hangisinin görevi yanlış eşleştirilmiştir?**

- A) Divanı Arz ⇒ Askerî işlerle ilgili kararların alındığı divan
- B) Niyabet-i Saltanat ⇒ Arazi işleri ile ilgili kararların alındığı divan
- C) Divan-ı İstifa ⇒ Mali işler ile ilgili divan
- D) Divan-ı İşraf ⇒ Denetim divanı
- E) Divan-ı İnşa ⇒ Yazışma divanı

28. IV. Haçlı Seferi sırasında Haçlılar seferin yönünü İstanbul'a çevirip şehri yağmalamışlardır. Bunun üzerine Bizans İmparatorluğu hanedanı başkenti terk etmek zorunda kalmıştır.

**Bizans'ın Latin işgaline uğramasıyla birlikte imparatorluk hanedanlığı aşağıdaki şehirlerin hangilerine giderek devletler kurmuştur?**

- A) İzmir - Aydın
- B) Trabzon - Mora
- C) İznik - Trabzon
- D) İznik - Mora
- E) Bursa - Çanakkale

29. Osmanlı Devleti döneminde sadrazam sarayı olarak bilinen ve XVIII. yy sonlarına kadar paşa sarayı, paşa kapısı gibi adlarla anılan hükümet işlerinin yürütüldüğü yer aşağıdakilerden hangisidir?

- A) Enderun
- B) Hasbahçe
- C) Birun
- D) Harem
- E) Bâb-ı Âlî

30. I. Girit

II. Rodos

III. Kıbrıs

IV. Limni

**Yukarıda verilen adalardan hangileri XVII. yüzyılda fethedilmiştir?**

- A) Yalnız I
- B) Yalnız II
- C) Yalnız III
- D) I ve IV
- E) I, II ve III

31. I.Dünya Savaşı sırasında Osmanlı İmparatorluğu'nun paylaşılmasını öngören; İstanbul, Sykes-Picot , Saint Jean de Maurienne ve Londra gibi gizli antlaşmalar yapılmıştır.

**Aşağıdaki devletlerden hangisi bu gizli antlaşmalarda yer almamıştır?**

- A) İngiltere
- B) Fransa
- C) Rusya
- D) İtalya
- E) Yunanistan

32. Mondros Ateşkes Antlaşması'nın 7. maddesine dayanarak İtilaf Devletlerinin gerçekleştirdiği işgallere karşı ilk silahlı direnişin başladığı yer ve işgal eden devlet aşağıdakilerden hangisidir?

- A) Hatay/Dört Yol - Fransa
- B) İzmir - Yunanistan
- C) Maraş - Fransa
- D) Musul - İngiltere
- E) Maraş - İngiltere

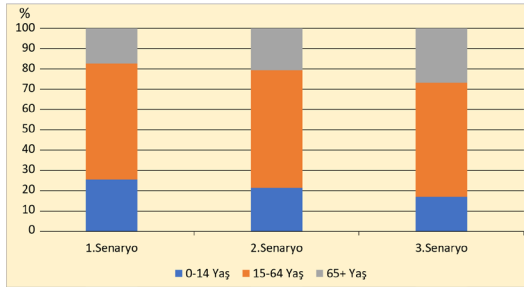
33. **Aşağıdaki inkılaplardan hangisinin batılı ülkeler ile ticari ilişkilerimizi düzeltmek için yapıldığı söylenemez?**

- A) Miladi Takvimin kabul edilmesi
- B) Uluslararası rakamların kabul edilmesi
- C) Ölçü ve tartı birimlerini değiştirilmesi
- D) Hafta sonu tatilinin değişmesi
- E) Soyadı Kanunu'nun çıkarılması

34. NATO'nun kuruluşunda aşağıdaki devletlerden hangisi yoktur?

- A) ABD
- B) İspanya
- C) Fransa
- D) Lüksemburg
- E) Kanada

35. Aşağıda gerçekleşmesi muhtemel üç senaryoya göre 2075 yılında Türkiye nüfusunun yaş gruplarına dağılım oranları verilmiştir.



Bu senaryoların gerçekleşmesi durumunda;

- I. Nüfus artış hızında en düşük oran, 1. senaryoda görülecektir.
- II. İç ve dış göçte en fazla hareketlilik, 2. senaryoda görülecektir.
- III. Orta yaşta en yüksek seviye, 3. senaryoda görülecektir.

çıkarmalarından hangileri yapılabilir?

- A) Yalnız I
- B) Yalnız II
- C) Yalnız III
- D) I ve III
- E) II ve III

36. Çevre sorunlarının oluşması ve büyük boyutlara ulaşmasında hızlı sanayileşme süreci, giderek azalan ve yok olma tehlikesi ile karşı karşıya kalan doğal kaynaklar, artan dünya nüfusu ve çeşitlenen ihtiyaç türleri etkili olan faktörlerdendir.

Bu sorunların oluşumu ve yayılışıyla ilgili aşağıda verilenlerden hangisi doğrudur?

- A) Oluştugu alanın dışında da etkili olabilmektedir.
- B) Etkilerinin yakın zamanda biteceği öngörülmektedir.
- C) Yenilenebilir kaynak kullanımı ile ortadan kalkacaktır.
- D) Doğum oranını düşüren ülkelerde görülmemektedir.
- E) Yalnızca sanayileşmiş ve büyük nüfuslu ülkelerde görülür.

37. Aşağıdaki haritada bazı yerler numaralandırılarak gösterilmiştir.



Bu yerlerin hangisinde; deprem, fırtına ve tsunami doğa olaylarının tümünün ekstrem boyutlara ulaşabilme olasılığı daha yüksektir?

- A) I
- B) II
- C) III
- D) IV
- E) V

38. Aşağıda üç farklı ülkeye ait nüfus artış hızı, kırsal nüfus oranı ve aritmetik nüfus yoğunluğunun gösterildiği tablo verilmiştir.

	Nüfus Artış Hızı (%)	Kırsal nüfus oranı (%)	Aritmetik nüfus yoğunluğu (kişi/km <sup>2</sup> )
K ülkesi	16,3	77	85
L ülkesi	1,4	10	40
M ülkesi	9,6	55	35

**Yalnızca tablodaki bilgiler dikkate alındığında bu ülkelerin gelişmişlik düzeyleriyle ilgili olarak aşağıdakilerden hangisi söylenebilir?**

- A) Gelişmişlik düzeyi en yüksek olan M ülkesidir.
- B) L ülkesinin gelişmişlik düzeyi, K ülkesinden yüksektir.
- C) M ülkesinin gelişmişlik düzeyi, L ülkesinden yüksektir.
- D) K ülkesinin gelişmişlik düzeyi, M ülkesinden yüksektir.
- E) L ülkesinde nüfus yoğunluğunun azlığı ülkenin gelişmişlik düzeyini azaltmıştır.

39. Canlılar için çok önemli bir element olan azot, %78'lik bir oranla atmosferde en çok bulunan gazdır. Ancak bazı bakteriler dışındaki canlıların önemli bir kısmı atmosferde bulunan azotu doğrudan kullanamaz.

**Bu bakteriler dışındaki canlıların azotu kullanabilmesinde aşağıdakilerden hangisi daha büyük etkiye sahiptir?**

- A) Fotosentez
- B) Besin zinciri
- C) Su döngüsü
- D) Karbon döngüsü
- E) Oksijen döngüsü

40. Mal ve hizmetlerin bir dizi işlemde geçirilerek kullanılabilir hâle getirilmesi olan üretim, yetiştirme ve imalat şeklinde ikiye ayrılır. Yetiştirme; tarım, hayvancılık, ormancılık, balıkçılık ve madencilik gibi ihtiyaçların doğrudan veya dolaylı olarak doğadan karşılanmasıdır. İmalat ise sanayi, enerji üretimi ve inşaat sektörü gibi alanlarda ham maddenin çeşitli süreçlerden geçirilerek kullanıma hazır hâle getirilmesi işlemidir.

**Aşağıdakilerden hangisi beşeri faktörlerin bu faaliyetlere etkisine örnek gösterilebilir?**

- A) Yaz yağışlarının fazla olduğu bölgelerde çayır bitki örtüsüne bağlı olarak büyükbaş hayvancılığın gelişmesi
- B) Su kaynakları üzerinde gerçekleştirilen ulaşım faaliyetleriyle üretilen ürünlerin ihtiyaç duyulan yerlere daha hızlı gönderilmesi
- C) Kitle iletişim araçlarıyla reklamı yapılan bir ürünün insanlar tarafından daha fazla tercih edilmesi
- D) Teknolojik gelişmeler sayesinde ürünlerin özel olarak yapılmış araçlarla sağlıklı bir şekilde taşınması
- E) Tarımda makineleşmenin artması ile ürünlerin ekim ve hasadının kısa sürede gerçekleşmesi

1. Bu testte sırasıyla, Tarih-2 (1-11), Coğrafya-2 (12-22), Felsefe Grubu (23-34), Din Kültürü ve Ahlak Bilgisi (35-40), Din Kültürü ve Ahlak Bilgisi dersini yasal olarak almak zorunda olmayan veya farklı müfredat ile alanlar için Felsefe Grubu (41-46) alanlarına ait toplam 46 soru vardır.
2. Cevaplarınızı cevap kâğıdının Sosyal Bilimler-2 Testi için ayrılan kısmına işaretleyiniz.

1. MS 1453 yılının yüzyıl olarak tanımlanması aşağıdakilerden hangisinde doğru olarak verilmiştir?
- A) XIV.yy I.yarı III.çeyrek  
B) XVI.yy II.yarı IV.çeyrek  
C) XV.yy II.yarı III.çeyrek  
D) XIV.yy II.yarı III.çeyrek  
E) XV.yy I.yarı II.çeyrek
2. X. yüzyıl ortalarında bugünkü Afganistan'da kurulan ve İslâmiyet'in Hint Yarımadası'nda yayılmasında etkisi olan Türk devleti aşağıdakilerden hangisidir?
- A) Memlûkler  
B) İhşitler  
C) Harzemşahlr  
D) Selçuklular  
E) Gazneliler
3. Aşağıdakilerden hangisi Anadolu'da ilk medrese-yi yaptıran Türk beyliğidir?
- A) Danişmentliler  
B) Saltuklular  
C) Artuklular  
D) Karamanoğulları  
E) Germiyanoğulları
4. Türk İslam kültüründe saray "kapu" olarak adlandırılır. Türklerde sarayda hükümdarın huzuruna kabul edilmeye "Paşa kapısı", Batı dünyasının merkezi krallıklarından olan Fransa'da ise "court to roy" derler.
- Osmanlı Devleti'nde de kabul gören bu anlayışın etkisiyle başlangıçta sultanın davaları dinlediği ve hükümet işlerini yürüttüğü yer demek olan kavram aşağıdakilerden hangisidir?**
- A) Enderun  
B) Hasbahçe  
C) Kubbealtı  
D) Harem  
E) Birun
5. IV. Murat'a devletin kötü gidişi karşısında alınacak önlemler konusunda rapor sunan devlet adamı aşağıdakilerden hangisidir?
- A) Koçi Bey  
B) Tarhuncu Ahmet Paşa  
C) Alemdar Mustafa Paşa  
D) Patrona Halil  
E) Kuyucu Murat Paşa
6. Aşağıdakilerden hangisi Tanzimat Dönemi'nde etkili olan fikirler arasında gösterilemez?
- A) Hürriyet  
B) Meşrutiyet  
C) Demokrasi  
D) Adalet  
E) Eşitlik

7. I. Dünya Savaşı sırasında İngilizlerin Irak cephesini açma nedenleri arasında aşağıdakilerden hangisinin olduğu söylenemez?

- A) Orta Doğu petrollerini kontrol altında tutmak
- B) Kafkaslarda Ruslarla birleşmek
- C) Türk kuvvetlerinin İran'a girmesini önlemek
- D) Sömürgesi olan Hindistan'ın güvenliğini sağlamak
- E) Filistin'de bir Yahudi Devleti kurulmasını sağlamak

8. Doğu cephesinde düzenli orduların Ermenilere karşı kazandıkları zafer sonucunda Gümrü Antlaşması imzalanmıştır. Sonuçta Ermeniler BMM'yi tanımıştır.

**Bu duruma bakılarak;**

- I. Askeri başarılar BMM'nin siyasal alanda güçlenmesini sağlamaktadır.
- II. Gümrü Antlaşması Ermenilerin Doğu Anadolu'daki ideallerinin sürdüğünü göstermektedir.
- III. Doğu cephesindeki başarılar diğer cephelere yansımamıştır.

**gibi yargılardan hangisine ulaşamaz?**

- A) Yalnız I
- B) Yalnız II
- C) I ve II
- D) II ve III
- E) I, II ve III

9. Türkiye'de Meclis Hükümetinden Kabine Sistemine geçiş aşağıdaki gelişmelerden hangisiyle başlamıştır?

- A) Saltanatın kaldırılması
- B) 1924 Anayasası'nın yapılması
- C) TBMM'nin açılması
- D) Cumhuriyetin ilan edilmesi
- E) Halifeliğin kaldırılması

10. Türkiye'nin;

- 1932'de Milletler Cemiyetine üye olması
- 1934'te Balkan Paketi'nin oluşmasında öncülük etmesi
- Sadabat Paketi'ne üye olması

**durumlarına bakılarak Türkiye'nin dış politikası hakkında aşağıdaki yargılardan hangisinin doğru olduğu söylenemez?**

- A) Uluslararası alanda saygınlığının arttığı
- B) Dış tehditlere karşı önlem almaya çalıştığı
- C) Dünya barışına katkıda bulunduğu
- D) Ulusal egemenlik anlayışının pekiştiği
- E) Bölgesel iş birliğine gittiği

11. 1993'te Azerbaycan, Kazakistan, Kırgızistan, Özbekistan, Türkmenistan ve Türkiye arasında imzalanan anlaşmayla kuruldu. Çok sayıda etkinlik düzenleyen bu kurumun etkinliklerinin en başında Nevruz kutlamaları gelir. Bu kurum sanatsal buluşmalar kapsamında her yıl, Türk dünyasından fotoğrafçıları, ressamı, opera sanatçıları, şairleri, medya mensuplarını, tiyatro gruplarını, dans ve müzik topluluklarını bir araya getirmektedir. Ayrıca bu kurum Türk halklarının ortak geçmişini; dil, edebiyat, kültür ve sanat faaliyetlerini bir bütün hâlinde ele alan pek çok bilimsel çalışmanın yapılmasına öncülük etmektedir.

**12.sınıf öğrencisi Gaye'nin sunumunda bahsettiği bu kurum aşağıdakilerden hangisidir?**

- A) TİKA
- B) TÜRKSOY
- C) KEİ
- D) Yunus Emre Enstitüsü
- E) Yurtdışı Türkler ve Akraba Topluluklar Başkanlığı



12. Aşağıda dört biyomun yeryüzündeki dağılışıyla ilgili bilgiler verilmiştir.

- Yıl boyunca nem ve yağışın fazla olduğu orta kuşağın kışların ılık, yazların serin geçtiği ılıman iklim bölgelerinde yayılış göstermektedir.
- Kışların uzun ve soğuk, yazların kısa ve serin geçtiği sert karasal iklim bölgelerinde görülür.
- Orta kuşağın 30° - 40° enlemleri çevresinde yer alan deniz kenarlarında yazları sıcak ve kurak, kışları ılık ve yağışlı geçen bölgelerinde yaygındır.
- Her mevsimin sıcak ve yağışlı geçtiği, yıl boyu yeşil kalabilen uzun boylu ve geniş yapraklı ağaçların bulunduğu alanlarda görülür.

**Buna göre verilenler arasında aşağıdaki biyomlardan hangisine ait özellik yoktur?**

- A) Çalı biyomu  
B) Savan biyomu  
C) Yağmur ormanları biyomu  
D) Yaprak dökken orman biyomu  
E) İğne yapraklı ormanlar biyomu

13. Doğal çevrenin kendini yenileyebilmesi belirli koşullar altında gerçekleşebilmektedir. Büyük boyutlardaki doğal kaynak tüketiminin olduğu alanlarda doğal çevrenin artık kendini yenileyemediğinin belirtileri ortaya çıkmaya başlamaktadır.

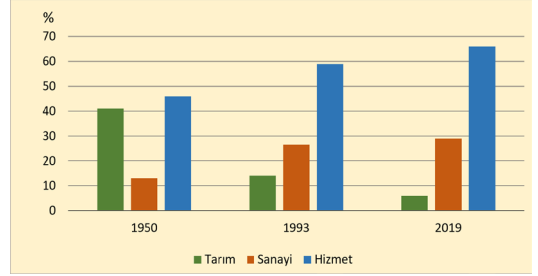
**Buna göre bir alanda;**

- I. Bazı canlıların belirli mevsimlerde göç etmesi  
II. Yeraltı sularına daha derin seviyelerde ulaşılması  
III. Akarsuların her yıl aynı dönemde debisinin azalması  
IV. Ormanlık alanlarda antropojen bozkırların genişlemesi

**durumlarından hangileri bu belirtiler arasında değerlendirilebilir?**

- A) I ve II      B) I ve III      C) II ve III  
D) II ve IV      E) III ve IV

14. Aşağıdaki grafikte belirlenmiş yıllarda Türkiye'nin gayrisafi millî hasılasının sektörel dağılımı oransal olarak verilmiştir.



**Yalnızca grafikteki bilgiler dikkate alındığında verilen yıllarda Türkiye ekonomisiyle ilgili olarak;**

- I. Sanayinin ekonomideki payı artmıştır.  
II. Hizmet sektöründe çalışan kişi sayısı sürekli artmıştır.  
III. Tarımsal üretim en düşük 2019 yılında gerçekleşmiştir.

**yargılarından hangilerine ulaşılabilir?**

- A) Yalnız I      B) Yalnız II      C) Yalnız III  
D) I ve II      E) I ve III

15. Ülkeler bulunduğu konum ve sahip oldukları doğal kaynaklara bağlı olarak ekonomik ve askeri çıkarlar doğrultusunda aynı anda birden fazla örgütün üyesi olabilmektedir.



**Haritada numaralandırılan yerlerdeki ülkelerden hangisi İslam İşbirliği Teşkilatı, Petrol İhraç Eden Ülkeler Örgütü ve Birleşmiş Milletler örgütlerinin tümüne üyedir?**

- A) I      B) II      C) III      D) IV      E) V

16. Ulaşım olanaklarının geliştirilmek istenmesi ve teknolojik gelişmelerin getirdiği olanaklar deniz ulaşımına uygun yeni güzergâhların ortaya çıkmasını sağlamıştır. Böyle güzergâhlara yakın alanların öneminin artması dünya jeopolitik dengesinde değişikliklere yol açmıştır.



**Haritada numaralandırılan yerlerden hangilerinde buna benzer bir değişimin gerçekleştiği söylenebilir?**

- A) I ve III                      B) I ve IV                      C) II ve III  
D) II ve IV                      E) III ve IV

17. Türkiye’de 1923 ile 1965 yılları arasında genellikle nüfus artış hızını yükseltmeyi amaçlayan politikalar uygulanmıştır. Ancak 1965 yılında ilk olarak Nüfus Planlaması Kanunu çıkarılmış ve nüfus artış hızı düşürülmeye çalışılmıştır.

**Türkiye’nin nüfus politikasında yaşanan bu değişikliğin temel nedeni aşağıdakilerden hangisi olabilir?**

- A) Kadınların çalışma hayatında daha fazla yer alması  
B) Makineleşme sonucu kırsal kesimde işsizliğin artması  
C) Halk sağlığını koruyucu yasal düzenlemelerin yapılması  
D) Nüfus artışının ekonomik ve sosyal problemlere yol açması  
E) Savaşların ülke nüfusunda meydana getirdiği tahribatın azalması

18. Dünya Sağlık Örgütü raporuna göre her yıl milyonlarca insan hava kirliliğine bağlı hastalıklarla mücadele etmektedir. Hava kirliliği insanların yanı sıra diğer canlıların da yaşamını tehlikeye atmaktadır. Bu durum günümüz ve gelecekte insanoğlunun çözmesi gereken en önemli sorunlardandır.

**Bu sorunun çözümünde aşağıdaki uygulamalardan hangisi daha etkili olacaktır?**

- A) Sanayi bölgelerinde atık su arıtma tesislerinin kurulması  
B) Orman tahribatının önlenerek, yeşil alanların artırılması  
C) Kâğıt, cam, plastik gibi atıkların geri dönüşümünün sağlanması  
D) Tıbbi atıkların uygun koşullar sağlanarak bertaraf edilmesi  
E) Fosil yakıt yerine alternatif enerji kaynağı kullanımının artırılması

19. Aşağıda dünya ticaretine yön veren uluslararası bölgeler ve kuruluşlarla ilgili açıklamalar yer almaktadır.

- ABD, Kanada ve Meksika tarafından üye ülkeler arasındaki gümrük vergileri gibi ticari engellerin kaldırılması amacıyla kurulmuştur.
- Güney Amerika ülkeleri arasında serbest ticaret dolaşımını ve gümrük birliğini içeren ticari bir ortaklıktır.
- Tayvan, Singapur, Japonya gibi ülkelerin bulunduğu, ekonomik büyümenin çok hızlı olduğu ticaret bölgesidir.
- 1992 Maastricht Antlaşması'yla, üye ülkelerin 2000 yılından sonra tek para ve tek bayrak kullanması, sınırların kaldırılması ve güvenliğin sağlanması amacıyla kurulmuştur.

**Bu açıklamalar sırasıyla hangi bölge veya kuruluşla ilgilidir?**

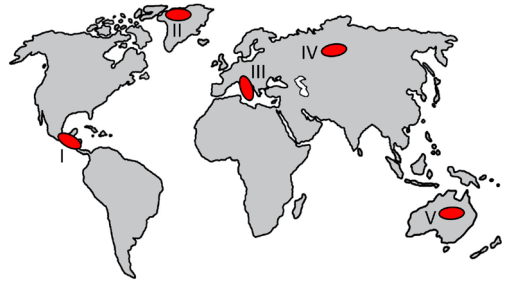
- A) Avrupa Birliği - Güney Ortak Pazarı - Uzak Doğu Ticaret Bölgesi - Kuzey Amerika Serbest Ticaret Bölgesi
- B) Kuzey Amerika Serbest Ticaret Bölgesi - Güney Ortak Pazarı - Uzak Doğu Ticaret Bölgesi- Avrupa Birliği
- C) Uzak Doğu Ticaret Bölgesi- Avrupa Birliği - Güney Ortak Pazarı - Kuzey Amerika Serbest Ticaret Bölgesi
- D) Güney Ortak Pazarı - Kuzey Amerika Serbest Ticaret Bölgesi - Uzak Doğu Ticaret Bölgesi- Avrupa Birliği
- E) Avrupa Birliği - Güney Ortak Pazarı - Kuzey Amerika Serbest Ticaret Bölgesi - Uzak Doğu Ticaret Bölgesi

20. Birbirleriyle sürekli etkileşim hâlinde olan sanayileşme, şehirleşme ve göç; toplumun günlük hayatına getirdiği birçok iyileşmenin yanında sosyal, ekonomik ve çevresel sorunlara yol açabilmektedir.

**Aşağıdakilerden hangisi bu üçünün ortaya çıkardığı sorunlardan biri değildir?**

- A) Güvenliğin azalması
- B) Kültürel çeşitliliğin artması
- C) Kent içi yeşil alanların daralması
- D) Plansız kentleşme ve gecekondulaşma
- E) Sanayi tesislerinin şehir içinde kalması

21. Endonezya'nın Sumatra Adasındaki Toba Yanardağı'nın patlamasıyla dünyada uzun süren soğuk ve karanlık bir dönem yaşandı. Toba patlaması şiddetli volkanik bir olaydır. Milyarlarca ton kül ve sülfür dioksit tüm dünyayı etkiledi. Son buzul evresinde soğuk iklimin etkisi yaşanırken Toba Yanardağı'nın patlamasıyla sıcaklıklar iyice azalmış, dünya üzerinde çok sayıda bitki ve hayvan türü yok olmuş, insan toplulukları da olumsuz etkilenmiştir.



**Haritada numaralandırılarak gösterilen alanların hangilerinde benzer bir ekstrem doğa olayı yaşanma olasılığı daha yüksektir?**

- A) I ve II                      B) I ve III                      C) II ve V
- D) III ve IV                      E) IV ve V

22. Eski çağlarda genellikle insanların kendi ürettikleri veya yakın çevrelerinden temin ettikleri tüketim malzemeleri, günümüzde dünyanın en uzak köşelerine ulaştırılabilmektedir. Ayrıca geçmişte çabuk bozulan ürünlerin tüketiciye bozulmadan ulaştırılmasında güçlükler yaşanırken günümüzde bu durumun da önemli ölçüde kolaylaştığı görülmektedir.

**Bu gelişmeler üzerinde aşağıdakilerden hangisinin etkisi daha azdır?**

- A) Tüketime artması
- B) İletişim ağının güçlenmesi
- C) Modern pazarlama teknikleri
- D) Soğutma sistemlerinin gelişmesi
- E) Ulaşım sistemlerinin çeşitlenmesi

23. Bryan Magee *Büyük Filozoflar* adlı eserinde, Sokrates'in görüşlerine dair yorumunda şöyle bir çıkarım yapar: "Kabullerimiz ve inançlarımız sürekli bir sorgulamaya tâbi tutulduğu için, "sonuçlar"ın özel bir statüsü yoktur. Onlar, daha sonraki araştırmalara giden yolda, bir yapı iskelesi olmaktan öteye gidemezler."

**Alıntılanan bu söz felsefeye ilişkin aşağıdaki hangi özelliği örneklendirir niteliktedir?**

- A) Filozofların kişisel bakış açılarının ürünleridir.
- B) Geçmişten geleceğe uzanan evrensel bir niteliktedir.
- C) Sorular cevaplardan daha önemlidir.
- D) Evrene ve insana ilişkin merak dolayısıyla ortaya çıkar.
- E) Filozofların görüşleri kendi içinde bir tutarlılık gösterir.

24. Aristoteles fenomenlerin ne ise o olmalarına sebep olan bir töz olduğunu düşünür. Gerçek varlık Platon'un iddia ettiği gibi başka bir dünyada yer bulan tümüyle ideal şeyler değildir ona göre. Ancak Aristoteles varlığı yalnızca maddeye de indirgememiştir. Maddenin biçim almasına, başka başka varlıklara dönüşmesine ve bizim onu tanıyamıza imkân veren bir formunun olduğunu da kabul etmiştir. Evrende, insan tarafından algılanan varlığı dört neden kuramıyla açıklamıştır: maddi, formel, ereksel ve fail neden.

**Buna göre Aristoteles'in varlık anlayışı için aşağıdakilerden hangisi söylenebilir?**

- A) Varlığın değişmez nitelikte olduğunu düşünür.
- B) Ontolojik açıklamaları metafizik öğelerden bağımsızdır.
- C) Gerçek varlığın duyu algılarından bağımsız olduğunu savunur.
- D) Birbirinden farklı nitelikte dört varlık kategorisi benimser.
- E) Belli nedenlere bağlı olarak biçim alan bir varlık anlayışını kabul eder.

25. Bilgenin derdi bilmek  
Devası da bilmektir.  
Kendiliğinden vurulmuştur  
Arayışın mührü zihnine  
İyi, güzel, doğru ne varsa  
Sorar, irdeler ve söyler kendince  
Şimdiki ve gelecek an'ın içinde  
Erişmek ister varoluşunun bilincine

**Bu şiir aşağıda verilen felsefenin alt dallarından hangisi ile ilişkilendirilemez?**

- A) Bilim
- B) Epistemoloji
- C) Estetik
- D) Etik
- E) Ontoloji

26. Farkında mısın yaşantının

Yoksa bulanık mı anlığın

Anımsıyor musun anılarını

Yoksa hepsi silik birer görüntü mü

Aynıların içinde hemen algıladın

Aynı olmayı...

O halde hiçbir şey silinmez sende

Sadece doğru kodlanmamıştır zihninde.

**Bu şiir psikolojinin aşağıda verilen kavramlarından hangisiyle ilişkilendirilemez?**

- A) Bellek
- B) Bilinç
- C) Dikkat
- D) Duygu
- E) Unutma

27. Davranışçı yaklaşıma göre ne kadar karmaşık olursa olsun, tüm davranışlar basit bir “uyaran-tepki” ilişkisine indirgenebilir. Bu yaklaşımın, “uyarıcı-tepki” psikologları olarak adlandırılan temsilcilerinden biri olan Watson, psikolojinin amacını şöyle tanımlamıştır: “Uyarı ele aldığımızda, hangi tepkinin gerçekleşeceğini tahmin etmek, tepkiyi ele aldığımızda ise tepkiye sebep olan durumun ya da uyarının ne olduğunu belirlemektir.”

**Buna göre aşağıdaki yargılardan hangisi davranışçı yaklaşım için söylenebilir?**

- A) Davranışı anlamak için insan bilincinin öğelerinin analiz edilmesi gerekir.
- B) Bilinçaltı etkenlerin davranışı etkilediği savunulur.
- C) Organizmanın dıştan gözlemlenebilecek davranışları incelenir.
- D) Psikoloji bilincin işlevini ve insanın çevreye uyum sürecini ele almalıdır.
- E) Temelde birey vardır ve bireyin dünyayı nasıl algıladığı davranışı üzerinde etkilidir.

28. Ruh sağlığının korunması kişilerin yaşam sürecinde karşılaştıkları ya da karşılaşılabilecekleri problemlere doğru ve gerçekçi bir biçimde çözüm bulabilmesi, bu problemlere karşı güçlü durabilmesi açısından oldukça önemlidir. Benlik saygısı yüksek, çevresindeki bireylerle sevgi, saygı ve hoşgörüyü dayalı uyumlu bir işbirliği içinde olan, özgürce ve gerçekçi kararlar alabilen, karşılaştığı sorunlara karşı direnç gösterebilen bireyler ruhsal açıdan sağlıklı bireyler olma yolunda emin adımlar atmaktadırlar. Hepimiz yaşamımızın belli bir döneminde kaygı, gerginlik, üzüntü ve umutsuzluk içeren bir süreçten geçebiliriz. Bu durum ruh sağlığımızın tamamen bozuk olduğu anlamına gelmez. Önemli olan saydığımız bu durumların süreklilik göstermemesi ve yaşam rutinimizi ve sosyal ilişkilerimizi bozucu bir biçimde etkilememesidir. Duygu, düşünce ve davranışları arasında uyumu sağlayabilen bireylerde çatışma duygusu azalacak ve birey daha mantıklı kararlar alarak yaşamına devam edecektir.

**Bu parçada asıl vurgulanmak istenen yargı aşağıdakilerden hangisidir?**

- A) Bağımsız davranabilen bireyler ruhsal açıdan daha sağlıklıdır.
- B) Ruh sağlığını dengede tutabilen bireyler yaşamının yönünü kendi belirler.
- C) Duygu durumlarının değişkenliği ruh sağlığını bozar.
- D) Ruh sağlığının yerinde olması ideal bir iyilik halini gerektirir.
- E) Ruhsal açıdan sağlıklı olmanın genel geçer kriterleri vardır.

29. Düşünürler tarihsel sürecin en başından beri toplumsal gerçeğin ne olduğunu anlamaya ve açıklamaya çalışmışlardır. Fakat bu çaba toplumsal gerçekliğin (siyaset, eğitim, toplumsal yapı, aile vb.) bilimsel bakış açısı ve yöntemle anlaşılması şeklinde değil, felsefi düşünce ve argümanlar aracılığıyla anlaşılması şeklinde olmuştur. 18.yy ve sonrasında Fransız İhtilali, Sanayi Devrimi gibi olayların yaşanması ve doğa bilimlerinin gelişmesi ile birlikte insan ve topluma ait konular diğer bilimlerle de ilişki içinde fakat ayrı bir bilim olarak toplum bilim tarafından incelenmeye başlamıştır. Örneğin A. Comte "sosyoloji" terimini ilk kez kullanmış, toplumsal dünyanın yasalarını açıklayabilecek bir toplum bilimi yaratmaya çalışmıştır.

**Bu parçada sosyoloji ile ilgili vurgulanmak istenen aşağıdakilerden hangisidir?**

- A) Felsefeden farkı
- B) Bilim haline gelme süreci
- C) İlgilendiği konuların nitelikleri
- D) Kullandığı yöntem ve teknikler
- E) Bireye ve topluma katkıları

30. Sosyal normlar toplumsal yapıyı düzenleyen, denetleyen davranış örgüleri olarak buldukları toplumun gereksinimleri doğrultusunda değişen bir yapı gösterir. Sosyal yaşamın birçok alanında bireye neyi yapmayı yapmaması gerektiğini dikte ederler ki zaten bireyler de bu normları yaşamın temel süreci içinde öğrenirler ve çoğu zaman farkında olmadan bu kurallara uyarlar. Fakat bu kuralların toplumsal etkisi hem kendi toplumunda hem de başka toplumlarda farklılık gösterir.

**Buna göre sosyal normlarla ilgili aşağıdakilerin hangisi söylenemez?**

- A) Toplumsal kontrolü sağladıkları
- B) Durağan davranış kalıpları oldukları
- C) Yaptırım güçlerinin değişken olduğu
- D) Sosyalleşme sürecinde kazanıldıkları
- E) Bireyin davranışlarını şekillendirdikleri

31. Afşar Timuçin *Düşünce Tarihi* adlı eserinde “Demek ki bugünün insanı için insan olmak daha da güç kazanmak adına daha çok üretmek anlamı taşımaktadır. Her ölçüsüz üretimin aşırı tüketimleri kışkırtması olağandır. Bugün tüketebileceğinden çoğunu üreten bir dünyada kendimizle ve başkalarıyla yarışmanın bedeli son derece yoğun bir sıkıntıdır. Orta Çağ’ın bitimiyle başlayan sömürgecilik girişimleri, Eski Çağ’ın sömürgecilik anlayışını her bakımdan çok gerilerde bırakan bir toprak, ürün ve insan gücü elde etmek tutkusuyula gelişirken, uzak toprakların insanlarını uygarlık merkezlerinin insanlarına her bakımdan bağımlı kıldı. Bunun yanında uygarlık merkezlerinin insanları artan zenginliklerle birlikte kendi içlerinde tam tamına adaletsiz bir bağımlılaşma durumuna girdiler. Gelişmiş ülkeler üretici ve satıcı olurken az gelişmiş ülkeler pazar oldular.” demiştir.

**Bu parçada vurgulanmak istenen aşağıdakilerden hangisidir?**

- A) Günümüzde bireyler otorite için ekonomik faaliyetlerde bulunmaktadır.
- B) Gelişmiş toplumlarda bilinçsiz tüketim daha yaygın olarak görülür.
- C) Otorite için yapılan bilinçsiz üretim bazı toplumlar için dezavantajlıdır.
- D) Sömürge faaliyetleri her zaman olmuştur ve olmaya devam edecektir.
- E) Arz talep dengesizliği ekonomik ve toplumsal sorunlara yol açar.

32. “Dünya, üzerinde canlıların yaşayabildiği tek gezegendir.” önermesinde kaç terim yer almaktadır?

- A) 5
- B) 4
- C) 3
- D) 2
- E) 1

33. Bazı bilim insanları Yeni Çağ’da mantığı matematiksel sembollerle ifade edilen bir hale büründürmeye çalışmışlar ve Aristoteles’in mantığını eleştirmişlerdir. Eleştiri sebeplerinden biri de klasik mantığın düşünmenin sadece bir biçimi üzerine kurulmuş olmasından kaynaklanmaktadır. Klasik mantığın çok anlamlılığı, belirsizliği ve bulanıklığına bir alternatif olarak değişmez çıkarımlara ulaşmak amaçlanmıştır. Bununla ilgili olarak D. Özlem Mantık adlı eserinde şöyle yazmıştır: “De Morgan, 1847’de, mantığı matematiksel yoldan sembollerle ifade edilen bir yapıya kavuşturmanın ilk örneğini vermiştir. Ayrıca o, Aristoteles mantığında özne yüklem ilişkisine dayalı önerme formu yanında başka önerme formlarının ve dolayısıyla başka mantıksal ilişkilerin de varlığına dikkat çekmiştir.”

**Bu parçada sembolik mantık ile ilgili olarak vurgulanmak istenen aşağıdakilerden hangisidir?**

- A) Sembolleştirmenin önermeleri belirsiz hale getireceği
- B) Mantığın çok sayıda sistemi içine almasının zorunluluğu
- C) Doğru düşünmenin biçiminden çok anlamsal yapınının değerli olduğu
- D) Mantığın matematik gibi kesin bir alan haline gelmesinin amaçlandığı
- E) Çok anlamlılığın klasik mantığın bir özelliği olduğu

34. Çıkarım, önceden sahip olunan bilgilerden yeni bilgilere ulaşma işlemidir. Çıkarım işlemi birden fazla bilgiden hareketle yapılıyorsa dolaylı, tek bir önermeden hareketle yapılıyorsa doğrudan çıkarım olarak adlandırılır.

**Buna göre aşağıdaki çıkarımların hangisinin doğrudan çıkarım olduğu söylenebilir?**

- A) Düşünüyorum öyleyse varım.
- B) Mademki öğretmen insandır, o da hata yapabilir.
- C) Mars’ta Dünya’daki gibi atmosfer var. O halde Mars’ta da yaşam vardır.
- D) Bazı insanlar duygusaldır o halde bazı insanlar duygusal değildir.
- E) Ya bu deveyi güdersin ya da bu diyardan gidersin.

**35 - 40. soruları Din Kültürü ve Ahlak Bilgisi dersini yasal olarak almak zorunda olanlar ve İmam Hatip Okulları öğrencileri/mezunları cevaplayacaktır.**

35. “Sen af yolunu tut, bağışla, uygun olanı emret, bilgisizlere aldırış etme.” (A'râf suresi, 199. ayet.)

**Bu ayet hangi kavramı öne çıkarmaktadır?**

- A) Dürüstlük  
B) Adalet  
C) Müsamaha  
D) Şecaat  
E) İhlas

36. (I) Türkler, Maveraünnehir bölgesinde Emeviler zamanında İslam ile tanışmışlardır. (II) Emevilerin döneminde uygulanan barışçıl siyaset İslam'ı benimsemelerini kolaylaştırmıştır. (III) Abbasiler döneminde ise Maveraünnehir bölgesinin tamamı Müslüman olmuştur. (IV) Talas savaşında Türkler, Araplarla birlikte Çinlilere karşı savaşmıştır. Bu savaş Türklerle Müslüman Araplar arasında güçlü bağların oluşmasını sağlamıştır. (V) Türklerin tümünün Müslüman olması yaklaşık üç asır sürmüştür.

**Metinde yer alan maddelerden hangisinde yanlış bir bilgiye yer verilmiştir?**

- A) I      B) II      C) III      D) IV      E) V

37. • Usta, kalfa ve çırak ilişkilerini tasavvuf ilkelerine bağlı kalarak düzenlemiş ve bu kuralların yerleşmesi için gayret göstermiştir.  
• Kırşehir'e yerleştikten sonra esnafı teşkilatlandırarak İslam medeniyetine katkıda bulunmuştur.  
• 20. yüzyılın başlarına kadar esnaf üzerindeki manevi etkisi devam etmiştir.

**Yukarıda özellikleri verilen mutasavvıf kimdir?**

- A) Hacı Bayram-ı Veli  
B) Hacı Bektaş-ı Veli  
C) Yunus Emre  
D) Ahmet Yesevi  
E) Ahi Evran

38. • Allah (c.c.) tarafından kesin bir şekilde emredilmiştir, her Müslüman bizzat kendisi yapmalıdır.  
• Bir kısım Müslümanın yapmasıyla diğerlerinin üzerinden sorumluluk kalkar.  
• Dinimiz tarafından emredilmiştir; ancak farz kadar kesin değildir.  
• Yapılıp yapılmaması günah ya da sevap değildir.

**Bu açıklamalar aşağıdaki ibadetlerle eşleştirildiğinde hangisi dışarıda kalır?**

- A) Cenaze namazı  
B) Ramazan orucu  
C) Selam vermek  
D) Kurban kesmek  
E) Dinlenmek



39. “Sözün en hayırlısı Allah’ın kitabıdır. Yolun en hayırlısı Hz. Muhammed’in yoludur. Bunlara aykırı sonradan çıkarılan her şey bidattir, sapıklıktır.” (Müslim, Cuma, 43.)

**Bu hadisten hareketle;**

- I. İnsanın kalbinde taşıdığı niyet ibadetin değerini belirler.
- II. Kur’an ve sünnet tarafından belirlenen şeklin dışında ibadet yapılamaz.
- III. Hiç kimsenin veya hiçbir kurumun dine bir şey ekleme yetkisi yoktur.
- IV. İbadetler, Hz. Peygamber’in bizlere gösterdiği şekilde yapılmalıdır.

**yargılarından hangilerine ulaşamaz?**

- A) Yalnız I                      B) II ve III                      C) I ve IV  
D) II, III ve IV                      E) I, II, III ve IV

40. İslam dini, ekonomik ilişkileri düzenleyen kurallar getirmiştir. Bu ilkelere göre;

- Çalışmak ve üretmek teşvik edilmiştir.
- Miras yoluyla mal edinmek helaldir.
- Aldatmak ve aldatılmak yoktur.
- Nimetlerin kıymetini bilmeli, gerektiği kadar kullanılmalıdır.

**Aşağıdaki ayetlerden hangisi yukarıda verilen ilkelere ilgili değildir?**

A) “Ey iman edenler! Karşılıklı rızaya dayanan ticaret dışında mallarınızı haksızlıkla yemeyin...” (Nisâ suresi, 29. ayet.)

B) “Onlar gayba inanırlar, namaz kılarlar, kendilerine verdiğimiz mallardan Allah yolunda harcarlar.” (Bakara suresi, 3. ayet.)

C) “Ana babanın ve akrabanın vefat edip geride bıraktığı mallarda erkek mirasçıların bir payı olduğu gibi; ana babanın ve akrabanın vefat edip geride bıraktığı mallarda kadın mirasçıların da bir payı vardır...” (Nisâ suresi, 7. ayet.)

D) “Bilsin ki insan için kendi çalışmasından başka bir şey yoktur.” (Necm suresi, 39. ayet.)

E) “Onlar harcadıklarında ne israf ne de cimrilik ederler; ikisi arasında orta bir yol tutarlar.” (Furkan suresi, 67. ayet.)

**41 - 46. soruları Din Kültürü ve Ahlak Bilgisi dersini yasal olarak almak zorunda olmayan veya farklı müfredat ile alanlar cevaplayacaktır.**

41. Kendilerinin doğuştan kabiliyetli olduğunu düşünen bazı insanlar felsefe veya mantıkla ilgilenmek istememektedir. Onlar daha da ileri giderek doğa bilimini bile öğrenmeyi arzu etmemekte, sadece imanla yetinmek istemektedir. Clemens bu insanları, herhangi bir şekilde bakımlarıyla ilgilenmeksizin asmalardan üzüm elde etmek isteyen insanlara benzetir. Ona göre Tanrı'nın gücünden pay almayı arzu eden bir insan felsefe yaparak entelektüel konuları ele almak zorundadır.

**A. Arslan'ın *İlkçağ Felsefe Tarihi* adlı eserinden alınan bu parçadaki akıl-inanç ilişkisi ile çelişen yargı aşağıdakilerden hangisidir?**

- A) İman ve akıl birbirleri için gereklidir.
- B) Aklını doğru kullanan insanın hakikate ulaşması kolaylaşır.
- C) Felsefe ve din uzlaşma içindedir.
- D) Teoloji insanı Tanrı'ya ulaştırmada tek yoldur.
- E) Akıl inancın temellendirilmesine katkı sağlar.

42. A. Cevizci *Felsefe Tarihi* adlı eserinde; "İstedığımız her şeye sahip olamayız. O halde, nedenleri bilerek; sahip olduğumuz şeyi isteyerek, kendimizi özgür kılabiliriz. Fakat başımıza gelen her şeyi nasıl kabul edebiliriz? Spinoza, bunun yolunun akıldan geçtiğini söyler. İnsanın özgür olması için meydana gelen her şeyin zorunlu olduğunu anlaması, aklı sayesinde bu kaçınılmaz zorunlulukla birleşmesi gerekir. Ona göre, insan başına bir felaket geldiği zaman, dünyadaki nedensellik zincirinin bu felaketi kaçınılmaz kıldığını kavratsa sakin olur; acılarını bireysel varlığının dar bakış açısından ele almayı bırakıp, onları bütün açısından, her şeyin birbirleriyle bağlantısı açısından ele aldığı takdirde huzur ve sükûn bulur." demiştir. Spinoza'ya göre insan doğanın bir parçasıdır ve doğa yasaları, insan doğasını kendine itaat etmeye ve hemen hemen her yola başvurarak kendisiyle uyumlu olmaya zorlar.

**Buna göre aşağıdakilerden hangisi Spinoza'nın etik anlayışı ile çelişir?**

- A) Epistemolojik bir temeli vardır.
- B) Ahlaksal bir determinizm içerir.
- C) Evrensel bir ahlak yasası mümkündür.
- D) Ahlaki eylem rasyonel bir bilince bağlıdır.
- E) İnsan için özgürlük kaçınılmazdır.

43. A. Maslow'un ihtiyaçlar hiyerarşisinde en alt basamakta fizyolojik ihtiyaçlar sonra güvenlik, sevgi, ait olma, saygınlık, anlama-bilme, estetik ve en üst basamakta da kendini gerçekleştirme ihtiyacı yer almaktadır. Kişi temel ihtiyaçlar olarak görülen beslenme, sağlık, güvenlik, meslek sahibi olma gibi hiyerarşide alt basamaklarda olan ihtiyaçların büyük bir bölümünü gerçekleştirmeden yeteneklerinin ortaya çıkarılabilmesi için gerekli içsel güdülenmeyi bulamayabilir. Bu ihtiyaçlar belirli düzeyde giderilmezse insanlar daha üst basamaklarda bulunan ihtiyaçları karşılamak için güdülenmezler. Bununla birlikte beslenme, sağlık nasıl zorunlu ihtiyaçlar olarak görülüyorsa özgüven, özsaygı, yeteneklerin ortaya çıkarılması gibi ihtiyaçlar da zorunlu ihtiyaçlar olarak görülmelidir.

**Bu parçadan hareketle aşağıdaki yargılardan hangisine ulaşılabılır?**

- A) Kendini gerçekleştirme basamağına her birey ulaşır.
- B) Bireyin güdülenmesinde en önemli ihtiyaç sevgi ve ait olma basamağıdır.
- C) İlk iki basamak yoğun olarak psiko-sosyal ihtiyaçlara yöneliktir.
- D) Alt basamaktaki ihtiyaçlar diğerlerinden daha önemli ve zorunludur.
- E) Birey yaşamsal ihtiyaçlarını karşılamadan bir üst basamağına geçemez.

44. Toplumsal yaşamda ilişkilerin sağlıklı sürdürülebilmesi; bu ilişkilerin toplumsal değerler, toplumsal normlar ve toplumsal kontrol mekanizmalarıyla bağına dayanır. Bireyler değerleri ve resmi olmayan normları sosyalleşmeyle öğrenir. Ancak resmi normları doğru biçimde öğrenebilmek için ayrı bir çaba göstermek gerekir. Yazılı normlara dayanan resmî kontrolü sağlayan en büyük kurum devlettir ve yazılı normlar devletin kurumları tarafından da öğretilmelidir. Birey yazılı kuralları öğrenerek sadece düzenin sağlanmasına değil, hak ve özgürlüklerinin korunmasına da katkıda bulunacaktır. Kanunlar sadece resmi uygulayıcılar tarafından bilinecekse bugünün Orta Çağ'ın karanlığından ne farkı kalır?

**Parçadan hareketle resmi toplumsal kontrolle ilgili aşağıdakilerden hangisi söylenemez?**

- A) Resmi normlar eğitim kurumlarında bireylere öğretilmelidir.
- B) Hukuk kurallarını bilmek aynı zamanda haklarımızı bilmektir.
- C) Resmi normları bilmek için sosyalleşmenin dışında çaba gerekir.
- D) Resmi kontrol araçları bugünü Orta Çağ'dan ayıran normlardır.
- E) Devlet resmi kontrolü sağlayan en büyük toplumsal kurumdur.

45. Monografi yöntemi ilk kez Fransız sosyolog Le Play tarafından uygulanmıştır. Aynı zamanda bir maden mühendisi olan sosyolog; sınırları belirlenmiş bir konunun derinlemesine incelenmesi esasına dayanan bu teknikle, doğa bilimlerindeki nesnelliği yakalamayı amaçlamıştır. "Madende çalışan işçi aileleri" üzerine yaptığı monografik çalışması aynı zamanda standart ölçme araçlarının kullanıldığı sistematik bir gözlemdir.

**Parçadan yola çıkarak aşağıdaki yargılardan hangisine ulaşamaz?**

- A) Monografi bir konunun derinlemesine incelenmesidir.
- B) Tüm monografik çalışmaların sonuçları nesnelidir.
- C) Sistematik gözlem standart ölçme araçları kullanılarak yapılır.
- D) Le Play monografi yönteminin ortaya çıkmasına öncülük etmiştir.
- E) Le Play doğa bilimlerinin kesin sonuçlarına ulaşmak ister.

46. Aristoteles'e göre özgülük, nesnenin mahiyetini ifade etmekle beraber, yalnız bu nesneye ait olan ve onunla karşılanabilir. Söz gelimi, gramer öğrenmeye müsait olmak insanın bir özneliğidir. Çünkü "A" insan ise gramer öğrenmeye muktedirdir ve gramer öğrenmeye muktedir ise insandır. İlinti ise ne tarif, ne özgülük, ne cins olmayıp nesneye ait olan şeydir; veya hangisi olursa olsun bir tek ve aynı şeye ait olabilen veya ait olamayan şeydir: Söz gelimi, oturmuş olmak aynı bir varlığa ait olabildiği veya ait olamadığı gibi; ak da böyledir, çünkü hiç bir şey aynı nesneyi bazen ak, bazen ak olmayan olmaktan alıkoymaz.

**Bu parçadan özgülük ve ilinti ile ilgili aşağıdaki yargılardan hangisine ulaşamaz?**

- A) İlintinin ait olduğu şeyin varlığı ilintiye bağlıdır.
- B) Düşünmek insanın özgülüğü, uyumak ilintisidir.
- C) İlinti farklı türlerdeki ortak olan özelliktir.
- D) İlinti, özgülük ve cinsten farklı olan bir özelliktir.
- E) Özgülük tek bir türde bulunan yüklemidir.



# Kendini Deęerlendir



1

*Kare kodu okut.*

2

*Sınavını seę*

3

*Cevaplarını sisteme gir.*

4

*Eksik olduęun konuları analiz et.*

5

*Bu sınava katılanlar arasındaki sıralamanı gör.*



T.C. MİLLÎ EĞİTİM  
BAKANLIĞI

3 ADIM

DENEME SINAVLARI

3. ADIM

AYT  
sözel



2. DENEME

ADI VE SOYADI

OKUL ADI

ADAYIN İMZASI

**ADAYIN DİKKATİNE!**

1. Bu sınavda AYT soru dağılımları dikkate alınmıştır.
2. Deneme tam kapsam olup YKS konularının tamamını kapsamaktadır.
3. Bu sınav Türk Dili ve Edebiyatı - Sosyal Bilimler 1 Testi (TDE 24 soru, Tarih 10 soru, Coğrafya 6 soru) 40 soru, Sosyal Bilimler 2 Testi (Tarih 11 soru, Coğrafya 11 soru, Felsefe Grubu 12 soru, DKAB 6 soru) 40 soru olmak üzere toplamda 80 soru içermektedir.

Bu testlerin her hakkı saklıdır. Hangi amaçla olursa olsun, testlerin tamamının veya bir kısmının Millî Eğitim Bakanlığının yazılı izni olmadan kopya edilmesi, fotoğrafının çekilmesi, herhangi bir yolla çoğaltılması, yayımlanması ya da kullanılması yasaktır. Bu yasağa uymayanlar gerekli cezai sorumluluğu ve testlerin hazırlanmasındaki mali külfeti peşinen kabullenmiş sayılır.

### **DİKKAT!**

Din Kültürü ve Ahlak Bilgisi dersini yasal olarak almak zorunda olan adaylar ve İmam Hatip Okulları öğrencileri/mezunları, Sosyal Bilimler-2 Testi'nin ilk 40 sorusunu cevaplamakla yükümlüdür. Bu adaylar, bu testin 41-46. sorularını cevaplamayacaklardır. Bu adaylar, bu testin 41-46. sorularında işaretleme yapmış olsalar bile bu cevapları değerlendirmeye alınmayacaktır.

Din Kültürü ve Ahlak Bilgisi dersini yasal olarak almak zorunda olmayan veya farklı müfredat ile alan adaylar, Sosyal Bilimler-2 Testi'nin 35-40. sorularını cevaplamadan 41-46. sorularını cevaplayacaklardır. Bu adaylar, bu testin 35-40. sorularında işaretleme yapmış olsalar bile bu cevapları değerlendirmeye alınmayacaktır.

### **AÇIKLAMA**

1. Bu kitapçıkta **86 soru** bulunmaktadır.  
Türk Dili ve Edebiyatı-Sosyal Bilimler-1 Testi: 40 soru  
Sosyal Bilimler-2 Testi: 46 soru
2. **Bu sınavda her testteki doğru cevaplarınızın sayısından yanlış cevaplarınızın sayısının dörtte biri çıkarılacak ve kalan sayı o bölüme ilgili ham puanınız olacaktır.**
3. Kitapçığın sayfalarındaki boş yerleri müsvedde için kullanabilirsiniz.
4. Cevaplamaya istediğiniz sorudan başlayabilirsiniz. Bir soru ile ilgili cevabınızı cevap kâğıdında o soru için ayrılmış olan yere işaretleme yapmayınız.
5. Bu kitapçıkta yer alan her sorunun sadece bir doğru cevabı vardır. Cevap kâğıdında bir soru için birden çok cevap yeri işaretlenmişse o soru yanlış cevaplanmış sayılacaktır. İşaretlediğiniz bir cevabı değiştirmek istediğinizde silme işlemini çok iyi yapmanız gerektiğini unutmayınız.



1. Bu testte sırasıyla, Türk Dili ve Edebiyatı (1-24), Tarih-1 (25-34), Coğrafya-1 (35-40) alanlarına ait toplam 40 soru vardır.
2. Cevaplarınızı cevap kâğıdının Türk Dili ve Edebiyatı-Sosyal Bilimler-1 Testi için ayrılan kısmına işaretleyiniz.

1. 1957 ABD yapımı bir drama filmi olan *12 Öfkeli Adam*, Sidney Lumet'in yönettiği ilk filmidir. Filmde jürinin kentlinin yoksul bir bölgesinde yaşayan genç bir sanığın suç işleyip işlemediğine dair bir ---- süreci yaşanmaktadır. Filmi izlerken aslında jüri üyelerinin konuya gereken ---- göstermediği, ön yargılarından ve kişisel sorunlarından yola çıkarak karar aldıkları görülmektedir. Jüri kendi içinde tartışırken ikna yöntemlerine ve tutum ---- sıklıkla başvurmaktadır.

**Bu parçada boş bırakılan yerlere aşağıdakilerden hangisi sırasıyla getirilmelidir?**

- A) tespit - ilgiyi - farklılığına  
B) karar - hassasiyeti - değişikliğine  
C) ikna - önemi - dönüşümüne  
D) durum - özeni - şekillenmesine  
E) yargı - adaleti - değerlendirmesine

2. I. Genellikle hüznün ile ilişkilendirilen sonbahar mevsiminin kokuları biyolojik, kimyasal ve psikolojik etmenlerin buluşmasıyla nostaljik bir etki oluşturur.
- II. İnsan beyninde koku sinyallerinin duygular ve bellek verileriyle birlikte işlenmesi, kokunun her insanda farklı biçimde deneyimlenmesiyle sonuçlanır.

**Numaralanmış II. cümle ile ilgili aşağıdakilerden hangisi söylenebilir?**

- A) I. cümlede ifade edilen bilgiyi kanıtlamak için karşılaştırma yapılmıştır.  
B) I. cümlede yer verilen durumun nedeninden söz edilmiştir.  
C) I. cümlede yer alan düşüncüyü desteklemek için örnekler verilmiştir.  
D) I. cümledeki bilginin olası sonuçları üzerinde durulmuştur.  
E) I. cümledeki durumun hangi amaca yönelik olduğu söylenmiştir.

3. İsmet Özel, Türk şiirinin 1955-1959 yılları arasında son atılımını yaptığını ileri sürdüğünde, bir açıdan haklıydı: II. Yeni geniş ölçüde o dar dönemde yatağını kazmış, sonra da Behçet Necatigil'den Ece Ayhan'a, Cemal Süreya'dan İlhan Berk'e pek çok şair o büyük yatağın içinde kendi özel yollarına sapmışlardı. Gelgelelim II. Yeni'nin imge düzeni ile kendini ortaya koyan poetik damarı zamanla tıkanı ve bütün şiir yazarların anonim dilinde oluştu kriz. Geniş ölçüde bugün de sürüyorsa kriz, bunun nedeni Oktay Rifat'ın gerçekleştirdiği baypasın fark edilmiş olmasıdır.

**Bu parçada belirtilen krizin nedeni hangisidir?**

- A) Ece Ayhan, Cemal Süreya ve İlhan Berk'in kendilerine özgü biçimleri  
B) II. Yenicilerin edebiyat otoritesi olmak istemesi  
C) Behçet Necatigil'in yazın dünyasında yeni bir ekol oluşturmaya çalışması  
D) Oktay Rifat'ın bulduğu yeni yolun görülmemesi  
E) İsmet Özel'in haklı olduğunun fark edilmemesi

4. Eski zaman yaşayışının can çekişen eski gelenekler ve insanları, Nahit Sırrı Örik'in en çok başarı göstereceği bir hikâye alanı olacaktır. Nahit Sırrı Örik'in, aynı vadede yazar isimlerle birçok birleşen tarafı olmakla beraber çağımızın hiçliği ve geçmişin üstünlüğünü belirtmek amacı ile hareket etmediği anlatışından iyice bellidir. Tarihî eserlerindeki objektiflik bir bakıma edebî eserlerine de geçmiş, anlattıklarını bugünkü düşkünlükleri içinde gösterip idealize etmek cihetine gitmemiştir. Eski ve solgun resimler üzerinde efendice, sakın ve heyecansız üslubu ile anlattıkları belli belirsiz bir ironi ile keder arası bir tesir bırakmaktadır.

**Bu parçadan Nahit Sırrı Örik ile ilgili aşağıdakilerden hangisine ulaşılamaz?**

- A) Kurgu dışı ve kurgusal türlerde eser vermiştir.  
B) Sakin tavrında mizah ile hüznün iç içe geçmiştir.  
C) Varlığını sürdürmekte zorlanan töreleri işlemiştir.  
D) Söylemiyle aynı konuda yazarlardan ayrılmıştır.  
E) Geçmişi yüceltme çabasından uzak durmuştur.

5. Behçet Necatigil'in halktan kopuk olduğu, farklı tarihlerde birçok dergide yayımlanan yazılarda belirtilmiştir. Bu yazılara karşı Necatigil'in başkaları gibi öfkeye kapılmadığını biliyoruz. Hatta bu yazılara karşı Necatigil'in yanıtları oldukça sessiz olmuştur. *Bile/Yazdı* adlı kitabında toplanan yazılarını ve konuşmalarını incelediğimizde sanatçının bu eleştirilere karşı davranışını saptama olanağımız vardır: "Ben çatışacağımı anladığım anda bırakır, çekilirim. Geçer bütün tozkoparan fırtınaları. Çünkü her sanatçı ayrı bir ağıt yakar hayata. Kendi tutarlılığında yazıyorum, koroyu bozuyorum diye içerenler oldu. Sığınakta da faydalı işler yapılır."

**Bu parçadan hareketle Behçet Necatigil ile ilgili aşağıdakilerden hangisi söylenemez?**

- A) İnsanlarla mücadele etmektense araya mesafe koymayı tercih etmektedir.
- B) Birbiriyle uyumlu ve dengeli bir sanat hayatına sahip olduğuna inanmaktadır.
- C) Yazdıkları ve konuştuklarıyla kendisine yönelik eleştirilere cevap vermektedir.
- D) Çağdaşı diğer sanatçılardan başka bir yerde durduğunu kabul etmektedir.
- E) Bir sanatçının arka planda kalarak da yararlı olabileceğini düşünmektedir.

6. Bir aile, grup veya cemiyet içinde yaşayan birey; karşımıza yazar olarak çıktığında onu bulunduğu yerden soyutlayarak ele alamayız. Bazen eleştirileri veya isyanlarıyla kimi zaman da kabulleri ve takdirleriyle yazar, çevresini okuyucuya yansıtır. Bu, fotoğraf çeker gibi bir yansıtma değildir. Şair ya da yazar hem olayların ve olguların içindedir hem de olaylar onun içinden doğar. O, bir sosyolog gibi kendini olayların dışında tutmaya çalışarak değerlendirme yapmaz. Tam tersine olan bitenler, onun gözünden yansır ve onun dilinden dökülür. Yazar, toplum denilen toprağı kalemiyle çapalar. Tohumu, semaya boy versin diye serper. Eseri boy boylar, soy soylar. Tohum toprakta can bulur. Toprak onu kendi canıyla besler. Tohum kök saldıkça sema ona yaklaşır. Derinlere daldıkça özüne öz katar abıhayat. Yazar, gönül güneşi ile aydınlatır. Gönülde hararet, başta bulut olur; bulutta kelime doludur. Kelimeler yağmur olur, sağanak olur, kar olur. Toprak, karı sinesinde eritir.

**Bu parçadan aşağıdakilerin hangisine ulaşılabılır?**

- A) İnsana dair her eser, içinde yaşadığı toplumla ilişkilidir.
- B) Sosyolojinin subjektifliği edebî eser için geçerli değildir.
- C) Sanatçılar eserlerini yazarken duygularını tarafsız yansıtır.
- D) Toplumun, yazılan edebî eserleri özümsemesi çok zaman alır.
- E) Sanatçının kabul görmesi için konuyu doğru yansıtmaması gerekir.

7. Aşağıdaki beyitlerden hangisi parantez ( ) içinde verilen atasözüyle ilişkilendirilemez?

- A) Egerçi ağır olur taş kopduğu yerde  
Sitâre var ki akikî eder Yemende garîb  
(Taş düştüğü yerde ağırdır.)
- B) Meyl it gözüm yaşına eyâ serv-i hoş-hırâm  
Derler ki eyle iylügi âb-ı revâna at  
(İyilik yap denize at.)
- C) Yirine diken diken vaktinde hâsıl diremez  
Acı agu ağacında tattlu bâr olmaz kişi  
(Gülü seven dikenine katlanır.)
- D) Varunu vir dost derdinden ala gör bir zerrece  
Tâ ki sana da diyeler derdi var dermân diler  
(Derdini söylemeyen derman bulamaz.)
- E) Âteş-i ışkile yandı dutuşub gönlüm gözüm  
Bu semeldür kim yanar kuru yanınca dahı yaş  
(Kurunun yanında yaş da yanar.)

8. İndim gittim nazlı yârin iline  
Bülbül konmaz bahçesine gülüne  
Bayram gelsin kına yakam eline  
Kınası olmadık eller perişan

Bu dörtlükle ilgili aşağıdakilerden hangisi söylenmez?

- A) Ek hâlinde redif vardır.  
B) Yarım uyak kullanılmıştır.  
C) Düz uyak oluşturacak şekilde söylenmiştir.  
D) 6+5 duraklı, 11'li hece ölçüsüyle yazılmıştır.  
E) İlk dizede "ı" sesleriyle asonans sağlanmıştır.

9. Gâmım pinhan tutardım ben dediler yâre kıl rûşen  
Desem ol bî-vefâ bilmem inanır mı inanmaz mı

Bu beyitte yer alan edebî sanat aşağıdakilerin hangisinde vardır?

- A) Beni candan usandırdı cefâdan yâr usanmaz mı  
Felekler yandı âhımdan murâdım şem'i yanmaz mı
- B) Kamu bîmârına cânân deva-yı derd eder ihsan  
Niçün kılmaz bana derman beni bîmar sanmaz mı
- C) Değildim ben sana mâil sen ettin aklımı zâil  
Beni tan eyleyen gafil seni görgeç utanmaz mı
- D) Fuzûlî rind-i şeydâdır hemîşe halka rüsvâdır  
Sorun kim bu ne sevdâdır bu sevdâdan usanmaz mı
- E) Gül-i ruhsârına karşı gözümünden kanlu akar su  
Habîbim fasl-ı güldür bu akar sular bulanmaz mı

10. *Kalyanamkara Papamkara* adlı eserle ilgili

- I. Uygurlara ait yazılı bir eserdir.  
II. Budizme dayanan bir çatik örneğidir.  
III. Türk edebiyatının masal türündeki ilk eseri olarak kabul edilir.  
IV. Açlıktan ölmek üzere olan bir parsı kurtarmaya çalışan iyi kalpli şehzade anlatılır.

yargılarından hangileri yanlıştır?

- A) Yalnız I                      B) Yalnız II                      C) Yalnız IV  
D) II ve IV                      E) I, II ve IV

11. Bir varmış, bir yokmuş, Allah'ın kulu çokmuş; develer dellal iken, pireler berber iken, ben anamın beşiğini tıklar mıkır salları iken bir memleketin birinde "Allahverdioğlu" derler biri varmış; eloğlu yakıştırmış da söylemiş doğrusu, ne muradı varsa vermiş Allah; ektiği yeşermiş, diktiği güvermiş, toprak diye avuçladığı altın olmuş. Elden, günden bitecek dert yok; mihnetsizlik yok, ne yapsın adam? Dil bedestenine gidip de baha bilmezlere cevahir satacak değil ya eller oturup çene yarıştırmışken o, daldan dala şahin uçurur; ömrünü, gününü av peşinde geçirirmiş. Günlerden bir gün, dağ bayır dolanırken bir dalda bir kuş görmüş, daha oku çekmeye kalmamış, kuş dile gelip de: "Huuu, Allahverdioğlu, üstünde bir kara bulut dolaşiyor, er geç başına bir gelecek var; erinde mi gelsin, gecinde mi?" demesin mi? Kulaklarına inanmamış adam. Durmuş, dinlemiş ama bir daha ne "gak" demiş ne "guk!" demiş ne "hey!" demiş ne "yok!".

**Bu parçayla ilgili aşağıdakilerden hangisi söylemez?**

- A) Bir masalın düğüm bölümünden alınmıştır.
- B) Ses ve sözcük tekrarlarına yer verilmiştir.
- C) Olağanüstü öğelere yer verilmiştir.
- D) Konuşturma sanatına başvurulmuştur.
- E) Tanrısal bakış açısı kullanılarak yazılmıştır.

12. UNESCO tarafından "Yaşayan İnsan Hazinesi" seçilen Cumhuriyet Dönemi halk şairimiz aşağıdakilerden hangisidir?

- A) Murat Çobanoğlu
- B) Âşık Mahzuni Şerif
- C) Abdurrahim Karakoç
- D) Şeref Taşlıova
- E) Âşık Veysel

13. Erzurum'a bir buçuk saat kala şehre yetişemeyip kara kış onları yakalayınca feryat ve figan ettiler. Hak Sübhan Hazretleri onların gözlerinin yaşlarına merhameten bir mağara gösterdi. Soğuk kışta mağarada sığınan biçare Kerem sazı eline aldı:

Erzurum'dan çıktım benzim bozuldu  
Ak alnıma kara yazı yazıldı  
Mezarımız gurbet elde kazıldı  
Çağıraram Kâdir Allah amân hey

Böyle söylediğinde bir atlı mağara kapısına gelip "Ey âdemler, nedir sizin feryâdınız?" diye sordu. Kerem "Kışa tutulduk, mağaraya kapandık, hâlimiz perişandır." Meğer o atlı Hızır Aleyhisselâm imiş. Kerem ile Sofu'yu atın arkasına alıp "Yum gözünü zira atım delidir, korkarsınız" dedi. Onlar da gözlerini yumup belinden kucakladılar. Hızır Aleyhisselâm ata bir kamçı vurup o saat Kerem ile Sofu'yu Erzurum'da bir konak önüne getirip "Aç gözünü!" dedi.

**Bu parçayla ilgili aşağıdakilerden hangisi söylemez?**

- A) Anlatmaya dayalı bir metinden alınmıştır.
- B) Kavuşamayan âşıklar üzerine söylenmiştir.
- C) Mensur ve manzum parçalar içerir.
- D) Karşılıklı konuşmalardan yararlanılmıştır.
- E) Olağanüstü olaya yer verilmiştir.

14. Tasavvuf ve halk şairidir. 13 ve 14. yüzyılda Anadolu'da etkin olan dinî-tasavvufî Türk şiirinin önemli temsilcilerindendir. Mesnevisi; Anadolu sahası Türk edebiyatının, bir başka deyişle divan edebiyatının bilinen ilk Yusuf ile Züleyhâ'sı olması bakımından önemlidir. Şairin Arapça ve Farsça kelimeler de kullandığı aruzla yazılmış şiirlerinin yanı sıra hece ölçüsüyle dörtlükler hâlinde tasavvuf anlayışına bağlı öğretici şiirleri de vardır.

**Bu parçada sözü edilen şair aşağıdakilerin hangisidir?**

- A) Âşık Paşa
- B) Ahmedî
- C) Şeyyad Hamza
- D) Hoca Mesud
- E) Kul Mesud

15. Sevdığım cânım yolunda hâke yeksân olduğum  
İyddir çık nâz ile seyrâna kurbân olduğum  
Ey benim aşkında bülbül gibi nâlân olduğum  
İyddir çık nâz ile seyrâna kurbân olduğum

**Bu şiirde altı çizili sözden hareketle hangi akımın etkili olduğu söylenebilir?**

- A) Sebkihindi  
B) Mahallîleşme  
C) Türkîbasit  
D) Hikemî tarz  
E) Tasavvuf akımı

16. *Yeni Mecmua*'da yayımlanan *Eski Kahramanlar*, Ömer Seyfettin'in konusunu eski tarihten aldığı epik hikâyeleridir. Yazar; ---, --- ve --- hikâyelerinde Gönen'de geçen çocukluğunu ve ilkokul yıllarını konu alır.

**Parçada boş bırakılan yerlere aşağıdakilerden hangisi sırasıyla getirilmelidir?**

- A) *Falaka - Efruz Bey - Perili Köşk*  
B) *And - Forsa - Mahçupluk İmtihanı*  
C) *Başını Vermeyen Şehit - And - Topuz*  
D) *Kaşığı - Pembe İncili Kaftan - Primo Türk Çocuğu*  
E) *And - Falaka - Kaşığı*

17. Eserlerinin çoğunda Anadolu efsanelerinden, halk hikâyelerinden yararlanan yazar, Anadolu'yu ve Anadolu insanının yaşantısını folklor ile birleştirerek anlatır. Kendine özgü canlı bir dili vardır. Zengin bir kelime dağarcığına sahip olan yazarın eserleri birçok yabancı dile çevrilmiştir. Ülkemizde ve yurt dışında ödüller kazanan yazar, Nobel Ödülü'ne aday gösterilmiştir.

**Aşağıdakilerden hangisi bu parçada sözü edilen yazarın eserlerinden biri değildir?**

- A) *Teneke*  
B) *Ölmez Otu*  
C) *Sarı Sıcak*  
D) *Ortadirek*  
E) *Sağırdere*

18. Şiir, öykü, roman, oyun, deneme, biyografi, eleştiri, aforizma ve çeviri kitapları ile resim / sanat tarihi eleştirmenliğine yönelik eserleri vardır. Bunlar içerisinde daha çok öykücülüğü ile tanınmıştır. Bunaltılı, çaresiz, iletişimsizlikler içerisinde yalnız, yabancı, umutsuz ve karamsar öykü kişileri, onun ruh hâlinde izler taşımaktadır. Kafka'nın kişilerini hatırlatan varoluş durumları ile olanaksız, boşuna direnen, hiçlik boyutunda bunaltılı, geleceğe ümitsiz bakan özellikleri ile eserlerinde belirgin olarak görülmektedir. *Eylülün Gölgesinde Bir Yazdı* roman türünde yazdığı eserlerinden biridir.

**Bu parçada sözü edilen sanatçı aşağıdakilerden hangisidir?**

- A) Ferit Edgü  
B) Yusuf Atılgan  
C) Oğuz Atay  
D) Adalet Ağaoğlu  
E) Füzûzan

19. Resimden sonra musiki de sanatçının şiir anlayışında ilk sıralarda yer almaktadır. "Biz hâlâ anlayamadık ki edebiyat bir musikidir: Sözün ve lisanın musikisi... Ondan ancak zevk-i bedii beklemek hakkına malikiz." diyerek şu dizeyle de bu düşüncesini dile getirir: Ben figanımda musiki ararım.

**Bu parçada aktarılan düşünceler aşağıdaki sanatçılardan hangisine ait olabilir?**

- A) Ziyâ Paşa  
B) Nâmık Kemal  
C) Cenap Şahabettin  
D) Muallim Nâci  
E) Abdülhak Hâmit

20. • Fransız sembolistlerinin etkisinde kalınmıştır.
- Şiirlerde didaktik bir söyleyiş yerine lirik bir yaklaşım tercih edilmiştir.
  - Ahenge önem veren sanatçılar, ölçülü ve kafiyeli şiirler yazmışlardır.
  - Millî Edebiyat Dönemi şiir anlayışları bu anlayışın oluşmasında etkili olmuştur.

**Bazı özellikleri verilen bu şiir anlayışına, aşağıdaki şiir topluluklarından hangisinin yakın olduğu söylenebilir?**

- A) Beş Hececiler
- B) I. Yeni
- C) Yedi Meşaleciler
- D) Mavi
- E) II. Yeni

21. Şiirde asıl olan “hikâye etmek” değil kelimeler arasında kurulacak “şiirsel yük”tür. Çıkış noktamızı buradan alırsak dosdoğru, folklorun şiir için kaçınılması gereken bir tehlike olduğu sonucuna varabiliriz. İşin nedeni şurada: Halk deyimlerinde yerleşmiş, birbirine bağlanmış kelimeler arasında yeni bir yük, yeni bir bağıntı kurmak söz konusu olamaz. Nasıl olsun ki bu kelimeler zaten kıpırdamaz bir şekilde birbirlerine bağlanmışlar, alacakları yükleri zaten önceden almışlardır.

**Aşağıdaki dizelerden hangisi bu parçada eleştirilen şiir anlayışı doğrultusunda yazılmamıştır?**

- A) Şairim  
Şiirin gerçeğini köy türkülerimizde bulmuşum  
Türkülerle yunmuş yıkanmış dilim  
Onlarla ağlamış, onlarla gülmüşüm...
- B) Bitti o sevda kesildi çığlıkları martıların  
Su gibi bitti, suya karşıt gibi bitti  
İtti kıyıyı adına deniz dediğimiz şey  
Unuttuk ikimiz de her türlü yetinmezliği
- C) Amanın bana bir hal oldu  
Bir hal oldu a dostlar  
Amanın beni bir rüzgar aldı  
A dostlar bir rüzgar aldı
- D) Maltepe'den yola çıktım  
Bakkalbaşı selam durdu  
Bakkalbaşının selamını  
Alyanaklı Artin gördü
- E) Kendi gitti,  
İsmi bile kalmadı yadigâr.  
Yalnız şu beyit kaldı,  
Kahve ocağında, el yazısıyla:  
“Ölüm Allah'ın emri,  
Ayrılık olmasaydı.”

22.

Tiyatro Türü	Tiyatro Özelliği
I. Orta Oyunu	<ul style="list-style-type: none"> <li>Bu oyunda palanga adı verilen alanda oyun sahnelenir.</li> <li>Konuların millî tarihten ve günlük yaşamdan seçildiği bu oyunda üç birlik kuralı yıkılmıştır.</li> <li>Bu oyunda taklitletlerin şarkılarını söyleyen, tef çalan yardımcı olarak anılan yardımcı durumundaki kişidir.</li> </ul>
II. Komedi	
III. Meddah	
IV. Dram	
V. Karagöz	

Numaralanmış tiyatro türleri ile özellikler eşleştirildiğinde hangileri dışta kalır?

- A) I ve II                      B) II ve III                      C) II ve V  
D) III ve IV                      E) IV ve V

23.

Hem çağını hem de insanı anlamayı esas aldığı- nı belirten ve bunu yazdığı tiyatro oyunları ile destekleyen sanatçı, döneminin getirdiği bunalımları, sıkıntıları yazdığı tiyatro oyunlarına taşımıştır. Oyunlarında sadece günün koşullarını sergilemekle yetinmemiş, bu koşulların bireylerde yarattığı sorunları da aktarmıştır. Her düşüncüyü ve durumu bir karşıtıyla birlikte ortaya koyarak oyun kişilerini gergin durum ve mekânlar içine yerleştirmiştir. Oyunlarında kendi kimlikleri ile var olma şansını kaybetmiş oyun kişilerinin arınma süreçlerini ele almıştır. Bu bağlamda oyun kişilerini belli bir zamana ve mekâna bağlı kılmamak, onları bir anlamda evrensel kılmak üzere oyun kişilerine isim koymaktan vazgeçtiği ilk oyun *İçerdeki*'dir. Yine oyun kişilerinin isminin olmadığı ilk kez 1972 yılında yayımlanan tek perdelik oyunu ise *Dikkat Köpek Var*'dır.

**Bu parçada sözü edilen yazar aşağıdakilerden hangisidir?**

- A) Cevat Fehmi Başkut  
B) Refik Erduran  
C) Ahmet Kutsi Tecer  
D) Melih Cevdet Anday  
E) Sabahattin Kudret Aksal

24.

Kesin ve net kuralları olmayan akım, serbest bir tarzda şekil almıştır bu sebeple tanımlanması zordur. Görünenin ötesindeki gerçekliği ortaya çıkarmayı amaçlayan bu akıma mensup sanatçılar Kant ve Schopenhauer'dan etkilenmişlerdir. Geleneğe karşı yıkıcı, karamsar, yenilikçi bir topluluktur. Sanata, gerçeğe ulaşmanın bir yolu olarak bakmışlardır. Romantizmde olduğu gibi bu akımda da sanatçı merkezî bir konumdadır; özel, seçilmiş bir kişidir; diğer insanların algılarına açık olmayan hakikatleri kavrayabilen ve yol gösteren kişidir.

**Bu parçada sözü edilen akım aşağıdakilerden hangisidir?**

- A) Parnasizm                      B) Sürealizm                      C) Sembolizm  
D) Realizm                      E) Natüralizm

25. I. Asurlar

II. Soğdlar

III. Fenikeliler

**Yukarıdaki uygarlıklardan hangileri uluslararası kara ve deniz ticareti alanında gelişmelere katkı sağlayan tüccar topluluklardandır?**

A) Yalnız I      B) Yalnız II      C) Yalnız III

D) I ve II      E) I, II ve III

26. İslamiyet öncesi Türk devletlerinin sıkça kullandığı ve egemen olduğu en önemli ticaret yollarının;

I. İpek Yolu

II. Kürk Yolu

III. Baharat Yolu

**hangileri olduğu söylenebilir?**

A) Yalnız I      B) Yalnız II      C) Yalnız III

D) I ve II      E) I, II ve III

27. I. Koyunhisar Savaşı

II. Maltepe (Palekanon) Savaşı

III. Çimpe Kalesi'nin alınması

**Bizans kuvvetlerine karşı yapılan yukarıdaki mücadelelerden hangisi Orhan Bey Dönemi'nde gerçekleşmiştir?**

A) Yalnız I      B) Yalnız II      C) Yalnız III

D) I ve II      E) II ve III

28. Aşağıdakilerden hangisi Kanuni Sultan Süleyman Dönemi'nde yapılan ve başarı ile sonuçlanan seferlerden biri değildir?

A) Rodos Seferi

B) Nahçıvan Seferi

C) Korfu Seferi

D) Zigetvar Seferi

E) Almanya Seferi

29. Aşağıdaki isyanların hangisi ilmiye sınıfının bozulmasına bağlı olarak çıkmıştır?

A) Celali İsyancıları

B) Yeniçeri İsyancıları

C) Suhte İsyancıları

D) Kapıkulu Süvarileri isyanları

E) Azınlık İsyancıları

30. İttihatçıların, Türk nüfusun servet sahibi olması için, Türkleri ticarete teşvik ve kolaylık sağlamak amacıyla uyguladığı çalışma aşağıdakilerden hangisidir?

A) Millî İktisat Politikası

B) Teşvik-i Sanayi Kanunu'nun çıkartılması

C) Kapitülasyonların tek taraflı olarak kaldırılması

D) Kredi ve Satış Kooperatiflerinin kurulması

E) Duyun-u Umumiyenin kaldırılması



31. Aşağıdakilerden hangisi İstiklal Mahkemelerinin kurulmasının temel nedenidir?

- A) Asker kaçakları sorununu çözmek
- B) Meclise karşı çıkan ayaklanmaları bastırmak
- C) Tekalif-i Milliye Emirlerinin uygulanmasını sağlamak
- D) Şeyh Said Ayaklanması'nı bastırmak
- E) Casusluk yapanları cezalandırmak

32. Aşağıdaki yargılardan hangisi cumhuriyetçilik ilkesinin özellikleri arasında gösterilemez?

- A) Yönetim hakkını sadece belli kitlenin kullanmasına izin verir.
- B) Millî egemenliği esas alır.
- C) Seçme ve seçilme hakkı tüm vatandaşlara verilmiştir.
- D) Çok sesliliği savunur.
- E) Halk arasında birlik ve beraberlik duygularını güçlendirir.

33. Aşağıdakilerden hangisi Mustafa Kemal'in "Siyasi zaferler ne kadar büyük olursa olsun ekonomik zaferlerle taçlandırılmazsa kalıcı olmaz" düşüncesine uygun gerçekleştirilmiş bir inkılap değildir?

- A) Kabotaj Kanunu
- B) Teşvik-i Sanayi Kanunu
- C) I. Beş Yıllık Sanayi Planı
- D) Aşar vergisinin kaldırılması
- E) Tevhid-i Tedrisat Kanunu

34. Aşağıdakilerin hangisinde gerçekleşen olay ve ilgili Atatürk ilkesi eşleştirmesi yanlış verilmiştir?

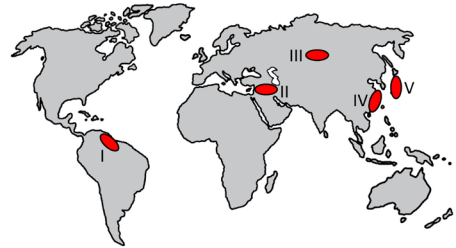
- A) Tevhidi Tedrisat Kanunu'nun kabulü - Laiklik
- B) Saltanatın kaldırılması - Cumhuriyetçilik
- C) Millet Mekteplerinin açılması - Halkçılık
- D) I. Beş Yıllık Sanayi Planı - Devletçilik
- E) Kılık ve kıyafet inkılabının yapılması - Milliyetçilik

35. Nil Nehri çevresinde kurulan Mısır Medeniyeti'nin diğer medeniyetlerle etkileşimi azdır. Bu durum Mısır Medeniyeti'nin kendine özgü ve uzun ömürlü bir medeniyet olmasını sağlamıştır.

**Medeniyetin bu özelliğe sahip olmasındaki temel etken aşağıdakilerden hangisidir?**

- A) Etrafının çöl ve denizlerle çevrili olması
- B) Etkileşime kapalı bir toplumsal yapıya sahip olması
- C) Teknoloji ve iletişimde döneminin gerisinde kalması
- D) Sahip olduğu su kaynakları ve verimli toprakları korumaya çalışması
- E) Askeri alanda güçlü yapısıyla diğer medeniyetleri sınırlarından uzaklaştırabilmesi

36. Aşağıdaki haritada beş alan numaralandırılarak gösterilmiştir.



**Bu yerlerle ilgili olarak aşağıdakilerden hangisi söylenemez?**

- A) I numaralı yer, önemli pazar alanlarından biridir.
- B) II numaralı yer, enerji kaynakları üretim alanıdır.
- C) III numaralı yerde kısıtlı tarımsal üretim yapılmaktadır.
- D) IV numaralı yer, sanayi üretim alanları arasındadır.
- E) V numaralı yerde balıkçılık faaliyeti gelişmiştir.

37. Yenilenemeyen bir enerji kaynağı olan nükleer enerji, atom çekirdeğinde meydana gelen reaksiyonlar sonucunda elde edilmektedir. Nükleer santrallerde yüksek enerji elde etmek için uranyum, toryum, radyum ve radon gibi elementler kullanılır.

**Bu enerji kaynağı;**

- I. yüksek sıcaklıktaki atık suların su ekosistemlerine zarar vermesi,
- II. doğal sistemler arasındaki azot döngüsünü hızlandırması,
- III. kazalar sonucu doğal ortamda meydana gelen kirliliğin uzun yıllar sürmesi

**sorunlarından hangilerine daha fazla neden olmaktadır?**

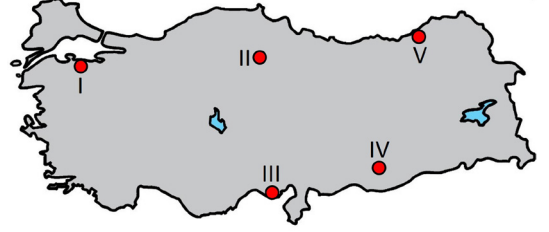
- A) Yalnız I      B) Yalnız II      C) Yalnız III  
D) I ve II      E) I ve III

38. Küresel iklim değişikliğinin neden olduğu olaylardan biri de buzulların erimesidir. Bu durumdan kıyıların, özellikle de ortalama yükseltisi az olan ülkelerin, daha fazla etkileneceği tahmin edilmektedir.

**Buzulların erimesiyle bu ülkelerde yaşanacağı öngörülen olaylar arasında aşağıdakilerden hangisi yer almaz?**

- A) Kıyılarda toprak kaybı  
B) Deniz seviyesinin yükselmesi  
C) Denizel iklimin etki alanının daralması  
D) Sahil bölgelerinde erozyonun artması  
E) Tatlı ve tuzlu su kaynaklarının karışması

39. Sulama; tarımsal verimi etkileyen önemli unsurlardan biridir. Yaz mevsiminin kurak, yağışların da genel itibarıyla düzensiz olduğu alanlarda tarımda sulama gereksinimi daha fazladır. Bu alanlarda sulamanın yaygınlaşması sadece üretim ve verimi değil tarımsal ürün çeşidini de artırmaktadır.



**Haritada numaralandırılarak gösterilen yerlerden hangisindeki tarımsal faaliyetler için bu unsura duyulan gereksinim daha azdır?**

- A) I      B) II      C) III      D) IV      E) V

40. Çok uzun bir geçmişe dayanan nüfus politikaları, eskiden salgın hastalıklar ve savaşlar sonucu azalan nüfusu dengelemek amacıyla uygulanırken günümüzde ülkelerin sahip olduğu ekonomik gelişmişlik seviyelerine göre şekillenmektedir. Sahip olunan kaynaklara oranla nüfus miktarının çok fazla olduğu ya da ekonomik büyümeye oranla nüfus artış hızının çok yüksek olduğu ülkelerde nüfus artış hızının düşürülmesini amaçlayan politikalar uygulanmaktadır.

**Aşağıdakilerden hangisi bu politikayı uygulayan ülkelerden biridir?**

- A) Türkiye      B) Hindistan      C) Rusya  
D) Avustralya      E) İran

1. Bu testte sırasıyla, Tarih-2 (1-11), Coğrafya-2 (12-22), Felsefe Grubu (23-34), Din Kültürü ve Ahlak Bilgisi (35-40), Din Kültürü ve Ahlak Bilgisi dersini yasal olarak almak zorunda olmayan veya farklı müfredat ile alanlar için Felsefe Grubu (41-46) alanlarına ait toplam 46 soru vardır.
2. Cevaplarınızı cevap kâğıdının Sosyal Bilimler-2 Testi için ayrılan kısmına işaretleyiniz.

1. I. 12 Levha Kanunları  
II. Telipinu Fermanı  
III. Urgakina Kanunları
- Yukarıdaki hukuk alanında yapılan düzenlemelerin hangisi Roma uygarlığına aittir?**
- A) Yalnız I      B) Yalnız II      C) Yalnız III  
D) I ve II      E) II ve III
2. **Türklerin konargöçer yaşam şekli;**
- I. taşınabilir sanat dallarının gelişmesine,  
II. özgün mimari üslup oluşturmalarına,  
III. bayındır kentler oluşturmalarına
- gibi gelişmelerin hangisine ortam hazırlamıştır?**
- A) Yalnız I      B) Yalnız II      C) I ve II  
D) II ve III      E) I, II ve III
3. **Osmanlı Beyliği'nin 1302-1453 yılları arasında aşağıdaki devletlerden hangisiyle mücadele ettiği söylenemez?**
- A) Macar Krallığı  
B) Venedik Cumhuriyeti  
C) Sırp Krallığı  
D) Karamanoğulları  
E) Akkoyunlu Devleti
4. Osmanlı Devleti'nde Müslüman olan halk, tarım, hayvancılık, el sanatları ve askerlik işleri ile uğraşır.
- Buna göre Müslümanların;**
- I. Öşür  
II. Haraç  
III. Cizye
- gibi vergilerinden hangilerini ödediği söylenemez?**
- A) Yalnız I      B) Yalnız II      C) Yalnız III  
D) I ve III      E) II ve III
5. **Aşağıdakilerden hangisi Ekber ve Erşed usulünün uygulanması ile Osmanlı tahtına çıkan ilk hükümdardır?**
- A) II. Osman  
B) IV. Murat  
C) IV. Mehmet  
D) I. Mustafa  
E) I. Ahmet

6. Yunan İsyanı'nı bastırmak isteyen Osmanlı donanması; İngiliz, Fransız ve Rus gemilerinden oluşan müttefik donanma tarafından 20 Ekim 1827 tarihinde yakılarak yok edildi. Tarihte bu hadiseye "Navarin Olayı" denir. Bu olayı Avusturya başbakanı Metternich "tarihte yeni bir dönem başlıyor" şeklinde değerlendirerek yeni politikalar geliştirmeye çalışmıştır.

**Metternich'in Navarin Olayı sonrasında bu şekilde düşünmesinin sebebi aşağıdakilerden hangisidir?**

- A) Yunan bağımsızlık hareketinin tek destekçisinin Avusturya olması gerektiğine inanması  
 B) İngilizlerin bu olaydan olumsuz etkilenecekleri endişesi  
 C) Yunan İsyanı'nın Avusturya İmparatorluğu'ndaki milletler için örnek teşkil edecek olması  
 D) Fransa ve İngiltere'nin Yunan bağımsızlık hareketine vermiş olduğu destekten çekinmesi  
 E) Osmanlı donanmasının yok edilmesinden kendisini sorumlu hissetmesi

7. 1. Mustafa Kemal'in askerî idadiye başladığı ve Balkanlardaki 3. Ordu'nun komuta merkezinin bulunduğu şehirdir.  
 2. Mustafa Kemal'in İtalyanlara karşı mücadele ettiği bölgedir. Gazeteci kimliği ile gizlice gittiği bu bölgede, savunma savaşının ilk tecrübelerini kazanmıştır.  
 3. Mustafa Kemal'in uluslararası askerî manevralara Osmanlı Devleti'ni temsilen katıldığı şehirdir.  
 4. Mustafa Kemal'in askerî atışe olarak görev yaptığı şehirdir.

**Bilgisi verilen şehirlerin doğru sıralaması aşağıdakilerden hangisidir?**

	1	2	3	4
A)	Selanik	Trablusgarp	Picardie	İstanbul
B)	Selanik	Trablusgarp	Picardie	Sofya
C)	Sofya	İstanbul	Trablusgarp	Selanik
D)	Manastır	Sofya	Selanik	İstanbul
E)	Manastır	Trablusgarp	Picardie	Sofya

8. BMM'ye karşı çıkan ayaklanmalarda İstanbul Hükûmeti'nin etkinliği olmasına rağmen Bolu, Düzce, Adapazarı, Hendek gibi yerlerde de İngilizlerin desteklediği ayaklanmalar meydana gelmiştir.

**Bu ayaklanmaları İngilizlerin desteklemelerinin temel nedeni aşağıdakilerden hangisidir?**

- A) İngilizlerin Boğazlardaki varlığını sürdürmek.  
 B) BMM'nin otoritesini kırmak.  
 C) Halk arasında demokrasi isteklerini hızlandırmak.  
 D) İtilaf devletleri arasında görüş birliği oluşturmak.  
 E) Halkı, padişaha bağlamak.

## 9. Cumhuriyet döneminde gerçekleşen;

- I. Din ve düşünce özgürlüğüne önem verilmesi
- II. Halk iradesinin esas alınması
- III. Kadınlara seçme ve seçilme hakkının verilmesi

**gibi girişimlerin Atatürk ilkeleriyle ilişkisi aşağıdakilerden hangisinde doğru verilmiştir?**

I	II	III
A) Halkçılık	Milliyetçilik	İnkılapçılık
B) Cumhuriyetçilik	Devletçilik	İnkılapçılık
C) Cumhuriyetçilik	Milliyetçilik	İnkılapçılık
D) Laiklik	Cumhuriyetçilik	Halkçılık
E) Cumhuriyetçilik	Milliyetçilik	Halkçılık

## 10. BMM hükümetinin son askeri başarısı ve mücadele ettiği devlet aşağıdakilerden hangisidir?

- A) Birinci İnönü - Fransızlar
- B) Sakarya - Yunanlılar
- C) Kütahya Eskişehir - Fransızlar
- D) İkinci İnönü - İtalyanlar
- E) Büyük Taarruz - Yunanlılar

## 11. Kurtuluş Savaşı hazırlık sürecinde gerçekleşen ;

- I. Erzurum
- II. Sivas
- III. Alaşehir

**kongrelerinden hangilerinin toplanmasında Mustafa Kemal'in rolünden söz edilebilir?**

- A) Yalnız I
- B) Yalnız II
- C) I ve II
- D) II ve III
- E) I, II ve III

## 12. Farklı iklim bölgelerinde görülebilen sulak alanlardan bazıları günümüzde birçok tehditle karşı karşıyadır. Bu tehditlerin başında kurutma faaliyetleri, kaçak avlanma ve tarım alanlarından gelen kimyasal maddelerle su kalitesindeki bozulmalar gelmektedir.

**Aşağıdakilerden hangisi bu tehditlere bağlı olarak ortaya çıkan sorunlardan biri değildir?**

- A) Tatlı su kaynaklarının azalması
- B) Yaban hayatının ortadan kalkması
- C) Doğadaki besin zincirinin değişikliğe uğraması
- D) Bazı endemik hayvan türlerinin soylarının tükenmesi
- E) Konaklayan göçmen kuşların göç mevsiminin değişmesi

## 13. Gaz atıklar; sanayi tesisleri, konutlar, taşıtlar, çöp depolama alanları, fosil yakıt kullanımı ile yangınlardan kaynaklanmaktadır. Hava, su ve toprak kirliliğini beraberinde getiren gaz atıklar, bazen sera etkisi ile küresel iklim değişikliğine neden olmaktadır.



**Haritada numaralandırılan alanların hangilerinde bu atıkların oluşturduğu çevre sorunları daha fazladır?**

- A) I ve II
- B) I ve III
- C) II ve III
- D) II ve IV
- E) III ve IV

14. • Çeliğe sertlik ve darbelere karşı direnç, aşınma ve oksitlenmeye karşı koruma sağlar.
- Paslanmayı önleyici özelliklerinden dolayı uçak ve gemi sanayilerinde yararlanır.
  - Türkiye, yıllık bazda yaklaşık 1,5 milyon tonluk üretimiyle dünyanın sayılı üreticileri arasında yer almaktadır.
  - Çıkarıldığı yerler arasında Guleman, Kop Dağı, Fethiye ve Köyceğiz vardır.

**Yukarıda hangi madenin kullanım alanı ve rezerviyle ilgili bilgiler verilmiştir?**

- A) Demir                      B) Krom                      C) Bakır  
D) Bor                          E) Cıva

15. Çölleşme, bitki örtüsü ve yağış yönünden yeterli bir bölgenin kuraklaşması, toprağın hızla aşınarak çöl yapısının görülmesi demektir. Çölleşmenin yaşandığı bölgelerde bir takım değişimler de gözlenmektedir.

**Aşağıdakilerden hangisi bu değişimlerden biri değildir?**

- A) Erozyonun artması  
B) Biyoçeşitliliğin azalması  
C) Açlık ve kıtlığın yaşanması  
D) Su kaynaklarının kuruması  
E) Nadas alanlarının azalması

16. Doğal kaynakların kullanım şekli kullanılan teknoloji ve yöntemlere bağlı olarak ülkeden ülkeye farklılık gösterir. Gelişmiş ülkeler, doğal kaynakları kullanırken çevreye en az zarar vermeyi amaçlamakta ve doğal kaynağın sürdürülebilir kullanımına önem vermektedir.

**Aşağıdakilerden hangisi bu ülkelerin uygulamalarına örnek gösterilebilir?**

- A) Millî parklarda hayvancılığın yaygınlaştırılması  
B) Fosil rezervlerin en kısa sürede ekonomiye kazandırılması  
C) Maliyeti azaltmak için açık maden yönteminin uygulanması  
D) Doğal bitki örtüsünü korumak için ekonominin sınırlandırılması  
E) Bataklık alanların kurutularak tarımsal faaliyetler için kullanılması

17. Ekstrem doğa olayları alışılmışın dışında olan ve nadiren görülen doğa olayları olarak tanımlanır.

**Aşağıdakilerden hangisi bu olayların özelliklerinden biri değildir?**

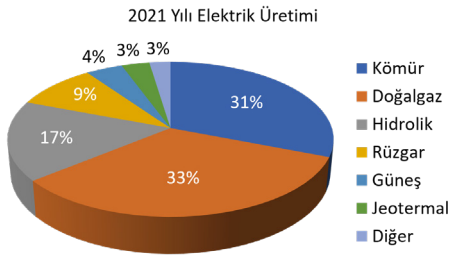
- A) Beşeri faaliyetleri aksatması  
B) Başka bir doğal olayı etkileyebilmesi  
C) Bir bölgede ölçülen uç değerlere sahip olması  
D) Etkili olduğu alanda görülme sıklığının az olması  
E) Nüfusun yoğun olduğu alanlarda daha etkili olması

18. Üye ülkeler arasındaki ekonomik ve ticari iş birliğini ön planda tutarak gelişmekte olan ülkelerin dünya ekonomisindeki konumunu iyileştirmeyi amaçlayan bir kuruluştur. Ayrıca ticari ilişkileri çeşitlendirerek yeni fırsatlar oluşturma, uluslararası düzeyde karar alma mekanizmalarına katılımı artırma ve yaşam standartlarını yükseltmeye yönelik amaçları da vardır.

**Bu amaçlar doğrultusunda 15 Haziran 1997'de İstanbul'da kurulan uluslararası örgüt aşağıdaki-lerden hangisidir?**

- A) Grup 20  
B) Gelişen Sekiz Ülke  
C) İslam İşbirliği Teşkilatı  
D) Bağımsız Devletler Topluluğu  
E) Ekonomik İşbirliği ve Kalkınma Örgütü

19. Aşağıdaki grafikte Türkiye'de 2021 yılında elektrik üretiminde kullanılan kaynakların oranları verilmiştir.



**Yalnızca grafikteki bilgiler dikkate alındığında aşağıdakilerden hangisi söylenebilir?**

- A) Jeotermal enerji üretimi en fazla Batı Anadolu'dadır.  
B) Elektrik üretiminde en az kullanılan kaynak rüzgârdır.  
C) Elektrik üretiminde Güneş'in payı giderek artmaktadır.  
D) Elektrik üretiminin yarıdan fazlası fosil kaynaklara aittir.  
E) Hidroelektrik santrallerinin büyük bölümü Doğu Anadolu'dadır.

20. Arazi yetenek sınıflandırılmasına uygun olmayan kullanım yanlış arazi kullanımı olarak tanımlanmaktadır.

**Buna göre;**

- I. Delta ovalarının tarıma açılması  
II. Vadi tabanlarının yerleşime açılması  
III. Millî park ve koruma alanlarının turizmde açılması

**durumlarından hangileri doğru arazi kullanımı olarak nitelendirilebilir?**

- A) Yalnız I  
B) Yalnız II  
C) Yalnız III  
D) I ve III  
E) II ve III

21. Dış ticaret bir ülkenin diğer ülkelerle yaptığı her türlü alım satımdır. Türkiye'de seksenli yılların ilk yarısından itibaren ticarete dışa dönük bir politika izlenmeye başlanması, dış ticaret hacminde önemli bir büyüme sağlamıştır.

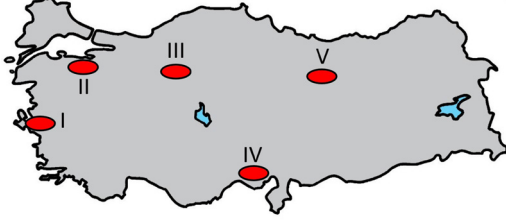
**Buna göre Türkiye'de bu ticaret faaliyetinin gelişmesinde;**

- I. Ulaşım olanaklarının gelişmesi  
II. Nüfus yoğunluğu fazla olan şehirlerin artması  
III. Komşu ülkelerde ihtiyaç duyulan mal ve hizmetlerin çeşitli olması

**durumlarından hangileri daha etkili olmuştur?**

- A) Yalnız I  
B) Yalnız II  
C) Yalnız III  
D) I ve III  
E) II ve III

22. Göçlere bağlı şehirleşmenin arttığı alanlarda işsizlik, trafik yoğunluğu, altyapı sorunu, gecekondulaşma gibi temel sorunlar ortaya çıkmaktadır.



**Haritada numaralandırılan işaretli alanlardan hangisinde bu tür sorunların görülme ihtimali daha azdır?**

- A) I      B) II      C) III      D) IV      E) V

23. “Bir şeyi kavradığımız zaman, ona ilişkin hiçbir karar vermezsek, aldanma tehlikesiyle karşılaşmayız. Hatta yargımızı sunduğumuz şeyde açık ve seçik olarak bildiğimiz şeyi kabul edersek, aldanmamız yine olanak dışıdır. Ancak genel olarak aldanmamıza neden olan şey daha çok, yargımızı sunduğumuz şeyin henüz tam bir bilgisini edinmeden karar vermemizdir.”

**Descartes’ın *Felsefenin İlkeleri* adlı eserinden alınan bu parçadan aşağıdaki yargıların hangisine ulaşılabilir?**

- A) İnsanın bilgisel olgunluğu yanılmasına engel teşkil etmez.  
B) Pratik yaşama ilişkin bilgiler doğru hüküm vermeye yeter.  
C) Hakikatle ilgili kesin bir yargıya ulaşmak mümkün değildir.  
D) Epistemolojik yetkinliğe sahip olmak yanılığın engeller.  
E) İnsan sınırlı yetilere sahip olduğu için doğruya ulaşamaz.

24. F. Bacon *Novum Organum* adlı eserinde “Ortada gerçeği araştırmanın ve keşfetmenin sadece iki yolu bulunmaktadır veya iki yolu olabilir: Bunlardan biri, duyulardan ve tikellerden yola çıkarak en genel aksiyomlara doğru hızla ilerler; ve ilkeler olarak kabul edilmekle beraber, tartışılmaz gerçeklik sanılan en genel aksiyomlardan ilerleyerek de aradaki aksiyomları keşfeder. İşte şimdi kullanılan yol budur. Öteki ise, duyulardan ve tikellerden başlayarak en genel aksiyomlara yükselene kadar aralıksız ve derece derece artarak kendi aksiyomlarını kurar. İşte bu, doğru olmakla birlikte henüz denenmemiş bir yoldur.” demıştır.

**Bu parçada Bacon’ın henüz denenmemiş olduğunu söylediği yol aşağıdakilerden hangisidir?**

- A) Analoji  
B) Diyalektik  
C) Fenomenolojik  
D) Tümdengelim  
E) Tümevarım

25. Orta Çağ felsefesi din eksenli bir felsefe olduğu için inanç konusu bu dönem felsefesinin temel kavramlarının başında gelir. Bununla beraber yine de bir “felsefe” olması dolayısıyla akıl da konu olmaktan çıkmamıştır. Hem Hristiyan düşünürleri hem de İslam düşünürleri hakikate ulaşmada akıl ve inancı güvenilirlikleri bakımından değerlendirmeye tabi tutmuştur. Örneğin Hristiyan düşünürü olan Tertullian “Akıl almaz olduğu için inanıyorum.” derken; İslam düşünürü İbn Rüşd ise “Felsefe, dinin getirmiş olduğu her şeyi inceler. Eğer araştırdığı şeyi algılayabiliyorsa iki algı (ikisinin algısı) eşittir.” demıştır.

**Bu parçadan aşağıdaki yargılardan hangisine ulaşamaz?**

- A) Orta Çağ filozofları akıl inanç ilişkisini tartışmıştır.  
B) İbn Rüşd’e göre akıl ve inanç uzlaşa içindedir.  
C) Teoloji etkisindeki Orta Çağ felsefesinde akıl da etkili olmuştur.  
D) Tertullian inancı aklın önünde konumlandırmıştır.  
E) İslam felsefesinde akli bilgi nakli bilgiden üstündür.



26. Sınava hazırlanan bir birey, gireceği sınavla ilgili bilgilerinin eksik olduğunu hissediyorsa bu durum onda gerilime sebep olabilir. Bu gerilimden kurtulmak için birey hem içten hem de dıştan gelen etkilerle hedefine uygun olarak davranışa geçme eğiliminde bulunabilir. Bu bağlamda harekete geçen birey istediği başarıya ulaşma yolunda önemli bir yol katetmiş olacaktır. Çünkü düşüncesini davranışa dönüştürecek ve hedefini belirleyerek yürümek istediği yolda daha istekli, azimli bir biçimde ve zorluklar karşısında yılmadan öğrenme yolculuğunu devam ettirebilecektir.

**Bu parçada vurgulanmak istenen aşağıdakilerden hangisidir?**

- A) Güdülenmiş davranışın niteliği
- B) Sosyal biliş türlerinin davranışa etkisi
- C) Öğrenme stratejilerinin göreceliliği
- D) Doğru karar vermede irdelemenin önemi
- E) Belleğin öğrenme üzerindeki etkisi

27. Gardner tüm insanların tek bir tür zekâyâ sahip olmadığını savunur. Ona göre farklı zekâ türleri vardır ve bu türler arasında hiyerarşik bir sıralama yoktur. Biri diğerine göre daha öncelikli veya saygın değildir. Benzer şekilde bir zekâ türünün geliştiği bireylerde diğer zekâ türlerinin geri kalması da gerekmez. Zekâ türlerindeki bireylere özgü farklılaşmada beyindeki sinaptik bağlantılar ve toplumsal öğeler gibi farklı unsurların etkisi olabilir.

**Bu parçadan Gardner'ın zekâ kuramı ile ilgili aşağıdakilerin hangisine ulaşamaz?**

- A) Zekânın birden çok bileşenden oluştuğuna
- B) Biyolojik ve kültürel unsurların zekâyı etkilediğine
- C) Her zekâ alanının kendi içinde bağımsız olduğuna
- D) Zekâda bireysel farklılıkların bulunduğuna
- E) Her bireyde bu zekâ türlerinden birinin baskın olduğuna

28. Deneysel yöntem araştırmacı tarafından kontrol altına alınmış değişkenlerle uygulanır. Bağımsız değişken araştırmadaki neden ya da etki; bağımlı değişken araştırmadaki sonuç ya da etkilenen değişkendir. Atletizmdeki başarılı sporcularla ilgili çalışma yapan bir araştırmacı, spora başlama yaşının atletizm müsabakalarındaki başarıya etkisini araştırmaktadır.

**Bu araştırmadaki bağımsız değişken aşağıdakilerden hangisidir?**

- A) Antrenman sayısı
- B) Antrenman süresi
- C) Spora başlama yaşı
- D) Sporcunun fiziksel özellikleri
- E) Sporcu başarısı

29. Tarihsel süreçte hemen her toplumda insanların birbirinden saygınlık, ekonomik durum, eğitim, cinsiyet, etnik köken vb. nedenlere dayalı olarak ayrıştıkları görülmüştür. Bazı toplumlarda bireyler arası bu üst-üst farklılaşması doğuştan verilmiş değişime kapalı bir biçimde yapılır. Bazı toplumlarda bireyler içine doğdukları aileden çok kendi çaba, yetenek, beceri ve girişimleri ile buldukları konumları aşip üst sınıfa çıkmış ya da alt sınıfa inmiştir.

**Bu parçadan tabakalaşma ile ilgili olarak aşağıdakilerden hangisine ulaşamaz?**

- A) Hiyerarşik bir sınıflaşmaya neden olduğu
- B) Bireye avantaj ya da dezavantaj sağladığı
- C) Bireylerin yaşam standardını biçimlendirdiği
- D) Tabakalara olan aidiyetin farklı şartları olabileceği
- E) Toplumda ortak bir yaşam biçimini amaçladığı

30. Yurttaşı olduğu ülkenin kırsal bir bölgesinde yaşayan bir genç üniversite okumak için bir metropole taşındığında, o metropolde yaşayan insanların yeme içme alışkanlıkları, birbirleri ile ilişkilerinde benimsedikleri kurallar hatta kullandıkları jest ve mimikler karşısında şaşkınlık yaşayıp, uyum sağlamakta zorlanabilir. Bu durum zaman alsa da birey, yeni kültür öğelerine uyum sağlayabilir ya da kendisi gibi farklı norm ve değerleri benimsemiş öğrencilerle birlikte hâlihazırda benimsedikleri kültürel değer ve normları sürdürümler.

**Bu parçada anlatılanlar aşağıdaki kavramlardan hangileriyle ilişkilendirilebilir?**

- A) Kültür emperyalizmi- Kültürlenme  
B) Kültürel şok- Alt kültür  
C) Kültürleşme- Kültür merkeziliği  
D) Alt kültür- Kültür emperyalizmi  
E) Kültürlenme- Kültürel şok
31. İnsanın özgür olma ihtimali vardır... Çünkü insanın seçim yapabilecek gizil gücü varoluşunda saklıdır ancak bu bütün insanların iradi bir yönelimle seçim yaptığı sonucunu da beraberinde getirmez. Söz konusu özgürlüğe sahip olmak, insan olmanın olanaklarını gerçekleştirmek, birey olarak gelişmek, mevcut yetilerin uyanmasını sağlamak uygun koşulların sağlanması ile mümkün olabilir. Bu nedenle çok küçük yaşlarda önce aileden başlamak kaydıyla öğrenme edimi önemsendir, farklı kurumlardan destek alınır. Bütün çabamız özgür kararlar verebilecek donanıma sahip insanın yetişebilmesidir.

**Bu parçada vurgulanan yargı aşağıdakilerden hangisidir?**

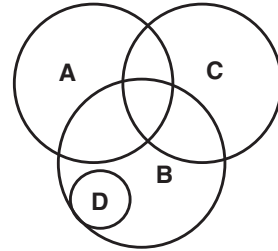
- A) İnsanın yaşamı üzerindeki gücü eğitim yoluyla törpülenir.  
B) Eğitim insanda uyuklayan yetenekleri aktifleştirir.  
C) İnsanın doğasında özgür olma potansiyeli vardır.  
D) Eğitimin en öncelikli amacı bireyin sosyalleşmesidir.  
E) Çağdaş toplumsal yapıda düzeni sağlayan eğitimidir.

32. Mantık düşüncenin meydana gelişi, nedenleri, işlevleri ve içeriğinden bağımsız olarak, doğru düşünmenin biçimiyle ve düşünceler arasındaki akıl yürütme ilişkileriyle ilgilenir. Amacı doğru bilgiye ulaşmak için düşünmeyi biçimsel olarak izleyip gereken ilke ve kuralları ortaya koymaktır. Bu nedenle mantık doğru düşünmenin kural ve yasalarını ortaya koyan disiplin şeklinde tanımlanır.

**Bu parçada vurgulanmak istenen aşağıdakilerden hangisidir?**

- A) Mantığın düşünmenin formel boyutuyla ilgilendiği  
B) Düşüncenin oluşumunun mantığa bağlı olduğu  
C) Düşünmenin belirli ilke ve kurallar gerektirdiği  
D) Mantık bilmeden de mantıklı düşünülebileceği  
E) Mantıksal düşünmenin tutarlı düşünmek olduğu

33.



Verilen diyagram kavramlar arası ilişkiler göz önüne alınarak çizilmiştir.

**Buna göre aşağıdaki ifadelerden hangisi doğrudur?**

- A) A ve B kavramları arasında tam girişimlik ilişkisi vardır.  
B) D ve B kavramları arasında eşitlik ilişkisi vardır.  
C) B ve D kavramları arasında eksik girişimlik ilişkisi vardır  
D) A ve D kavramları arasında ayrıklık ilişkisi vardır.  
E) B ve C kavramları arasında tam girişimlik ilişkisi vardır.

34. Üç değerli mantık sistemine göre bazı önermeler vardır ki ne doğru ne de yanlıştır. Şimdiki anda bu önermeye bir doğruluk değeri verilemez. Bu nedenle de bu önerme belirsiz değeri alacaktır. İşte doğru ve yanlıştan başka bir de belirsiz değeri eklenen bu sisteme üç değerli mantık adı verilir.

**Buna göre üç değerli mantık sistemi aşağıdaki ilkelerinden hangisini dışarda bırakmış olur?**

- A) Özdeşlik  
B) Çelişmezlik  
C) Üçüncü halin imkânsızlığı  
D) Yeter-sebep  
E) Eşitlik

**35 - 40. soruları Din Kültürü ve Ahlak Bilgisi dersini yasal olarak almak zorunda olanlar ve İmam Hatip Okulları öğrencileri/mezunları cevaplayacaktır.**

35. Hz. Muhammed (s.a.v.) 610 yılında ilahi vahye muhatap olduktan sonra bıkmadan usanmadan insanları dine davet etmiş, bunun için elinden gelen bütün gayreti göstermiştir. Gece gündüz demeden, yılmaksızın ve ümitsizliğe düşmeksizin tebliğ görevini yerine getirmiştir.

**Bu metin;**

- I. "Ey Peygamber! Rabb'inden sana indirileni tebliğ et. Eğer bunu yapmazsan, O'nun verdiği peygamberlik görevini yerine getirmemiş olursun..." (Mâide suresi, 67. ayet.)  
II. "O peygamberler ki Allah'ın gönderdiği emirleri duyurlar, Allah'tan korkarlar ve O'ndan başka kimseden korkmazlar." (Ahzâb suresi, 39. ayet.)  
III. "Ey örtünüp bürünen (Peygamber)! Kalk ve (insanları) uyar." (Müddessir Suresi, 1-2. ayetler.)

**ayetlerinden hangileri ile ilgilidir?**

- A) Yalnız I      B) Yalnız II      C) I ve II  
D) I ve III      E) I, II ve III

36. I. Sınır boylarında ve stratejik noktalarda bulunan askeri amaçlı yapılarıdır.  
II. Kelime olarak gençlik anlamına gelir. Gençlik ve yiğitlik teşkilatıdır.  
III. Meslek erbabının bir araya gelerek oluşturdukları teşkilattır.

**Açıklamalar sırasıyla aşağıdakilerden hangisi ile ilgilidir?**

- A) Ribat – Fütüvvet – Ahilik  
B) Ahilik – Fütüvvet – Ribat  
C) Ribat – Ahilik – Fütüvvet  
D) Fütüvvet – Ribat – Ahilik  
E) Ahilik – Ribat – Fütüvvet

37. Farz-ı ayn, her Müslümanın kendisinin yerine getirmek zorunda olduğu farzlardır. Örneğin - - - farz-ı ayndır. Her Müslümanın bizzat kendisinin yapması gerekir.

**Metindeki boşluğa aşağıdakilerden hangisi getirilemez?**

- A) Cuma namazı  
B) Ramazan orucu  
C) Günlük beş vakit namaz  
D) Cenaze namazı  
E) Zekât vermek

38. · Cemaatle kılınan namazlar inananları bir araya getirir. Camiye gelenler, sevinç ve üzüntülerini paylaşma imkânı bulurlar.
- Kurban ve zekât ibadetleriyle Müslümanlar arasında sevgi ve saygı artar, böylece bağlar daha da sağlamlaştırılır.
  - Hac ibadeti, Müslüman ülkeler arasında birlik ve beraberliğin oluşmasında önemli bir katkıya sahiptir.

**Bu bilgilerden hareketle aşağıdaki yargılardan hangisine ulaşamaz?**

- A) İbadetlerin farz kılınmasının önemli hikmetleri vardır.
  - B) Bireye ve topluma faydalı her iş ibadet kapsamındadır.
  - C) İbadetler yararlı tutum ve davranışlara vesile olur.
  - D) İbadetlerin bireysel ve toplumsal çok sayıda faydası vardır.
  - E) İbadetler çevreye karşı duyarlılık kazandırır.
39. İnsan sosyal bir varlıktır, yalnız başına yaşayamaz. Toplumun kopmaz bir parçası olarak bir takım iyi vasıflarla, güzel huy ve ahlakla donatılması gerekir. Şahsi menfaatlerini, kişisel çıkarlarını ön plana alanlar, bir bakıma topluma ters düşerler. Sosyal adalet, - - - .

**Bu metin aşağıdaki cümlelerden hangisi ile devam ettirilirse yanlış bir bilgi verilmiş olur?**

- A) her bireyin insanca bir yaşam sürmesini sağlar.
- B) herkesin aynı mal seviyesine sahip olmasını ifa eder.
- C) toplumun sağlıklı bir şekilde devamı için gereklidir.
- D) İslam'ın hedeflediği bir durumdur.
- E) fakirliğin birey ve toplum açısından olası zararlarını azaltır.

40. Toplumun sosyal yapısında ve alışkanlıklarında zamanla değişimler yaşanır. Bazı değerler kaybolur, yerini başka değerlere devreder. Buna sosyal değişim adı verilir. Sosyal değişimle birlikte dinin bazı hükümleri de değişebilir.

**Aşağıdaki olaylardan hangisi buna örnek olarak verilemez?**

- A) Hz. Peygamber, yoksulluğun yaygın olduğu bir dönemde kurban etlerinin üç günden fazla saklanması yasaklamıştır. Sonraki yıllarda şartlar iyileşince bu yasak kaldırılmıştır.
- B) Kur'an'da kalpleri İslam'a ısındırılacak olanlara da zekât verileceği bildirilmiştir. Hz. Ömer, Müslümanların yeterli sayıya ulaştıkları gerekçesiyle bu hükmün uygulamasını kaldırmıştır.
- C) Hz. Peygamber'in vefatı sonrasında kimin halife seçileceği ile ilgili tartışmalar siyasi ve itikadi mezheplerin ortaya çıkmasına sebep olmuştur.
- D) Kur'an'da ganimet mallarının beşte birinin devlete ait olduğu geri kalanının savaşa katılanlar arasında paylaşılması hükmü vardır. Hz. Ömer Suriye'yi fethettiğinde çok fazla toprak ele geçirilmiştir. Bunun savaşa katılanlar arasında paylaşılması takdirde derebeyliklerin ortaya çıkacağını söyler ve ganimetin hepsini devlete alır.
- E) Hz. Ömer, yolların genişliği için Hz. Peygamber tarafından belirtilen ölçüyü nüfus ve mekân farkı sebebiyle biraz daha genişletmiştir.

**41 - 46. soruları Din Kültürü ve Ahlak Bilgisi dersini yasal olarak almak zorunda olmayan veya farklı müfredat ile alanlar cevaplayacaktır.**

41. Aristoteles felsefeyi varlık olarak varlık araştırması sayar. Varlık olarak varlık deyimi bize bir şeyin kendine özdeş oluşunu duyurur, bir şeyin öz yapısını düşündürür. Bir şeyi o şey kılan temel değişmez nitelikleri o şeye uğrayan, o şey için zorunlu olmayan niteliklerden ayırmamız gerekir. Bir şeyin her zaman olduğuyla ara sıra olduğunu karıştırmak bizi yanlış düşürür. Örneğin hekim hekimdir, hekim olarak alınmalıdır, onun ara sıra iyi yemek yapıyor olması, hatta her zaman iyi yemek yapıyor olması rastlantısaldır, aşçının bir hastayı iyileştirebilmesi nasıl rastlantıysa.

**A. Timuçin'in *Düşünce Tarihi* adlı eserinden alınan bu parçada "Varlık olarak varlık" deyimiyle anlatılmak istenen aşağıdakilerden hangisidir?**

- A) Bir şeyi başka bir şeye göre değil, bir şeyi kendisi olarak ele almak gerektiği
- B) Varlığın rastlantısal özelliklerinin ona form kazandırdığı
- C) Bir şeyi o şey yapanın değişebilir nitelikte olduğu
- D) Varlığı varlık yapan ilkelerin maddesel özelliğe sahip olması gerektiği
- E) Varlığın değişiminin özün değişimi anlamına geldiği

42. Hartmann, önce, aralarında bir bağlılık bulunduğu da değinmekle beraber, bilgi düzeni ile varlık düzenini birbirinden ayırmak gerektiğini öğütüyor ve şimdiye kadar düşülmüş olan tüm yanlışların bunları birbirine karıştırmaktan doğduğunu ileri sürüyor. Ona göre, varlık düzeninde, alttan üste doğru şöylece sıralanan dört basamak var: Özdeksel (maddi) varlık basamağı, örgensel (uzvi) varlık basamağı, ruhsal (ruhi) varlık basamağı, tinsel (manevi) varlık basamağı. Basamakların en yalın özdeksel ve en karmaşığı tinsel olandır. Hartmann'a göre felsefenin en büyük yanılığı, temel ilkenin ya da evrenin nedeninin bunlardan sadece birinde, eş deyişle tek'te aranmasıdır. Hartmann şöyle diyor: "Ne tinsel basamaktan yola çıkılarak özdeksel evren, ne de özdeksel basamaktan yola çıkılarak tinsel yaşam anlaşılabilir."

**O. Hançerlioğlu'nun *Düşünce Tarihi* adlı eserinden alınan bu parçadan aşağıdaki yargılardan hangisine ulaşılabilir?**

- A) Varlık epistemoloji ve ontolojinin ilişkilendirilmesi yoluyla açıklanmalıdır.
- B) Varlık basamaklarından her birine ait bir yasa diğerlerine de uygulanmalıdır.
- C) Varlık basamakları alttan üste doğru yalınlaşmaktadır.
- D) Felsefe nesnel dünyayı sadece tinsel basamakla anlayabilir.
- E) Her varlık basamağı kendi içinde açıklanmalıdır.

43. Bazen bireyler yasaklanan bir davranışın mantıksız ve gereksiz olduğunu düşünse de ödüllendirilmek ya da cezadan kaçınmak için sosyal etkiye uyma davranışı gösterirler. Böyle bir kabul bireyde içselleştirilmediği için bu davranış ancak gözetlendiği sürece varlığını devam ettirir ve bu süre boyunca birey sosyal etkiye itaat eder.

**Bu parçada sosyal etki sonucu ortaya çıkan itaatin hangi yönü vurgulanmıştır?**

- A) Normatif bir uyuma neden olduğu
- B) Özdeşleşme sonucu gerçekleştiği
- C) Kalıcı davranış değişikliğine neden olduğu
- D) Bireyin isteğine bağlı oluştuğu
- E) Doğru davranma ihtiyacından kaynaklandığı

44. Dünya sahnesine çıkan tüm toplumlar, tıpkı biz insanlar gibi, önce emeklemiş, sonra ayağa kalkmış ve ardından yürümüştür. Nasıl ki bir insanı anlamak için çocukluk yaşantısına bakıyorsak toplumu anlamak için de tarihine bakmak gerekir. Örgütlü bir bütün olan eski ve yeni tüm toplumsal olaylar, birbirini az ya da çok etkiler. İnsan hafızasında çocukluk ne denli iz bırakıyorsa toplum hafızasında da geçmişin izleri o denli vardır.

**Parçadan yola çıkarak aşağıdakilerden hangisi söylenemez?**

- A) Toplumlar tarihin izlerinden etkilenmektedir.
- B) Toplumsal olaylar arasında nedensellik bağı vardır.
- C) Toplumlar insan organizmasına benzer.
- D) Tarih sosyoloji biliminin verilerinden faydalanır.
- E) Toplumsal yaşam organize bir bütündür.

45. Sosyoloji anlayışının merkezine toplumsal değişme problemini koyan Mübaccel Belik Kıray, yapısal - işlevselci sosyoloji yaklaşımının Türkiye'deki otorite ismi olmuştur. Onun tarafından ortaya konulan "tampon kurum" kavramı, değişmekte olan bir toplumda hem eski hem de yeni yapıya ait olmayan ve toplumsal yapının bütünlüğünü sağlayan kurumları ifade etmektedir. Tampon kurumlar, eski ve yeni yapı arasında bir köprü görevi görmektedir. Tampon kurumların oluşabilmesi için optimum olan değişim hızı, orta hızdır. Türkiye'nin modernleşme yönünde doğrusal ve düzenli bir dönüşüm geçirdiği tezini savunan Kıray; Türk sosyoloji tarihinde, değişimin ve geçiş toplumunun sosyoloğu, empirizmin temsilcisi olarak tanınmıştır.

**Parçadan hareketle Mübaccel Belik Kıray'ın görüşleri ile ilgili aşağıdaki yargıların hangisine ulaşılamaz?**

- A) Tampon kurumlar orta hızdaki toplumsal değişimlerde ortaya çıkar.
- B) Türkiye'nin modernleşme yönünde dönüşüm geçirdiği savunur.
- C) Değişimlerin olduğu her toplumda tampon kurumlar ortaya çıkar.
- D) Türk sosyoloji tarihinde deneysel anlayışın temsilcisi olarak tanınır.
- E) Anlayışının merkezine toplumsal değişme problemlerini koymuştur.

46. Kavram bir varlığın zihindeki tasavvurudur. Ortak nitelikleri olan varlıklara verilen ad olarak da tanımlanmıştır. Düşüncenin en temel birimidir. İnsan zihninin tüm faaliyetleri kavramlar arasında bağ kurmaktan ibarettir.

**Buna göre aşağıdakilerden hangisi kavramın özelliklerinden değildir?**

- A) Objenin akıldaki tasarımıdır.
- B) Genelleme yoluyla ulaşılabilir.
- C) Düşünmenin yapı taşlarıdır.
- D) Soyut ve zihinsel varlıklardır.
- E) Bir tasavvurun dildeki ifadesidir.



# Kendini Deęerlendir



1

*Kare kodu okut.*

2

*Sınavını seę*

3

*Cevaplarını sisteme gir.*

4

*Eksik olduęun konuları analiz et.*

5

*Bu sınava katılanlar arasındaki sıralamanı gör.*





T.C. MİLLÎ EĞİTİM  
BAKANLIĞI

3 ADIM

DENEME SINAVLARI

3. ADIM

AYT  
sözel



3. DENEME

ADI VE SOYADI

OKUL ADI

ADAYIN İMZASI

**ADAYIN DİKKATİNE!**

1. Bu sınavda AYT soru dağılımları dikkate alınmıştır.
2. Deneme tam kapsam olup YKS konularının tamamını kapsamaktadır.
3. Bu sınav Türk Dili ve Edebiyatı - Sosyal Bilimler 1 Testi (TDE 24 soru, Tarih 10 soru, Coğrafya 6 soru) 40 soru, Sosyal Bilimler 2 Testi (Tarih 11 soru, Coğrafya 11 soru, Felsefe Grubu 12 soru, DKAB 6 soru) 40 soru olmak üzere toplamda 80 soru içermektedir.

Bu testlerin her hakkı saklıdır. Hangi amaçla olursa olsun, testlerin tamamının veya bir kısmının Millî Eğitim Bakanlığının yazılı izni olmadan kopya edilmesi, fotoğrafının çekilmesi, herhangi bir yolla çoğaltılması, yayımlanması ya da kullanılması yasaktır. Bu yasağa uymayanlar gerekli cezai sorumluluğu ve testlerin hazırlanmasındaki mali külfeti peşinen kabullenmiş sayılır.

### **DİKKAT!**

Din Kültürü ve Ahlak Bilgisi dersini yasal olarak almak zorunda olan adaylar ve İmam Hatip Okulları öğrencileri/mezunları, Sosyal Bilimler-2 Testi'nin ilk 40 sorusunu cevaplamakla yükümlüdür. Bu adaylar, bu testin 41-46. sorularını cevaplamayacaklardır. Bu adaylar, bu testin 41-46. sorularında işaretleme yapmış olsalar bile bu cevapları değerlendirmeye alınmayacaktır.

Din Kültürü ve Ahlak Bilgisi dersini yasal olarak almak zorunda olmayan veya farklı müfredat ile alan adaylar, Sosyal Bilimler-2 Testi'nin 35-40. sorularını cevaplamadan 41-46. sorularını cevaplayacaklardır. Bu adaylar, bu testin 35-40. sorularında işaretleme yapmış olsalar bile bu cevapları değerlendirmeye alınmayacaktır.

### **AÇIKLAMA**

1. Bu kitapçıkta **86 soru** bulunmaktadır.  
Türk Dili ve Edebiyatı-Sosyal Bilimler-1 Testi: 40 soru  
Sosyal Bilimler-2 Testi: 46 soru
2. **Bu sınavda her testteki doğru cevaplarınızın sayısından yanlış cevaplarınızın sayısının dörtte biri çıkarılacak ve kalan sayı o bölüme ilgili ham puanınız olacaktır.**
3. Kitapçığın sayfalarındaki boş yerleri müsvedde için kullanabilirsiniz.
4. Cevaplamaya istediğiniz sorudan başlayabilirsiniz. Bir soru ile ilgili cevabınızı cevap kâğıdında o soru için ayrılmış olan yere işaretleme yapmayınız.
5. Bu kitapçıkta yer alan her sorunun sadece bir doğru cevabı vardır. Cevap kâğıdında bir soru için birden çok cevap yeri işaretlenmişse o soru yanlış cevaplanmış sayılacaktır. İşaretlediğiniz bir cevabı değiştirmek istediğinizde silme işlemini çok iyi yapmanız gerektiğini unutmayınız.

1. Bu testte sırasıyla, Türk Dili ve Edebiyatı (1-24), Tarih-1 (25-34), Coğrafya-1 (35-40) alanlarına ait toplam 40 soru vardır.
2. Cevaplarınızı cevap kâğıdının Türk Dili ve Edebiyatı-Sosyal Bilimler-1 Testi için ayrılan kısmına işaretleyiniz.

1. Yoğun egzersizler sırasında bazı kas dokularının fazlaca ---- hücre zedelenmeleri ve inflamasyon (yangı) oluşumu sıklıkla karşılaşılan durumlardandır. Hücre hasarıyla uyarılan dokularda sorunlu bölgeyi iyileştirmek ve ---- için hummalı bir çalışma başlar.

**Bu parçada boş bırakılan yerlere aşağıdakilerden hangisi sırasıyla getirilmelidir?**

- A) zorlanmasıyla - güçlendirmek  
B) kullanılmasıyla - kurmak  
C) çalıştırılmasıyla - yatıştırmak  
D) yorulmasıyla - çalıştırmak  
E) kuvvetlendirilmesiyle - kurtarmak

2. Eleştiri, edebî şahsiyetleri eserleri üzerinden kritik ederek hem o şahsiyetin hem de edebiyatın sanatsal bakımdan yükselmesini, kusurlarının asgari düzeye inmesini amaç edinir.

**Aşağıdakilerin hangisi bu cümlede anlatılmak istenenle anlamca aynı doğrultudadır?**

- A) Eleştiri olmazsa eserlerin edebî açıdan mükemmel yakalaması mümkün değildir.  
B) Eleştirmenler yaptıkları eleştiriler ile sanatçıların eksikliklerini görmesini sağlar.  
C) Sanatçılar, eleştirmenlerin kritikleri ile eserlerindeki hataları gidermeyi amaçlar.  
D) Eleştirinin amacı eserlerin edebî değerini arttırarak onları kusursuz hâle getirmektir.  
E) Eleştiri hem sanatçıyı hem de eserini sanatsal yönden yükseltir ve onların mükemmele yaklaşmasını sağlar.

3. Yusuf Atılgan'ın *Aylak Adam*, *Anayurt Otel*i ve yarım kalan romanı *Canistan*'da can sıkıntısının nasıl deneyimlendiği görülür. Bu üç metinde sıkıntının başka duygulanım biçimleriyle ilişkisi ortaya çıkarılır. Genellikle anomali belirtisi olarak görülen can sıkıntısına kavramsal açıdan bakmak gerekir. Sıkıntının tembellikten ziyade dünyayla iletişim biçimi olduğu doğru bir yorum değildir. Sıkıntı felsefi bir problem olarak ele alınmalıdır. C'nin toplumla olan derdinin, Zebercet'in bakmayla ilişkisinin ve Selim'in çocukluk arkadaşına karşı hınç duygusunun sıkıntıyla bağı çözüldüğünde anlamın var olma, özne oluş meselelerinde durduğu anlaşılır.

**Bu parçadan hareketle "Yusuf Atılgan ve eserleri ile ilgili" aşağıdakilerden hangisi söylenemez?**

- A) Can sıkıntısı eserlerinin ana temasıdır.  
B) Eserler birbiri arkasına yazılmış nehir romandır.  
C) Kahramanların sorunlarına felsefi bakılmalıdır.  
D) Kahramanların sıkıntısı, dünyayla iletişimden doğmaz.  
E) Yazarın kahramanlarının ortak özellikleri vardır.

4. Bilinen en eski yazı tekniği olan Sümer yazısıyla kayda geçirilen ilk metinlerin Sümer mitleri olması şaşırtıcı değildir. En eski edebî metinlerden biri olan Sümerlerin mitolojik destanı *Gilgamiş*'in günümüze kadar ulaşabilmiş olması bu ilişkinin sonucudur. Sümerlerden kalma kil tabletlerde karşılaşılan büyük tufana ilişkin metinler de yine Sümer mitolojisinin yazıya geçirilmiş örneklerindedir. Eski Mısır uygarlığında yazıya geçirilmiş *Ölümler Kitabı* gibi mitolojik metinler, benzer tavrın farklı coğrafyalarda da sergilendiğini göstermektedir.

**Bu parçadan aşağıdakilerin hangisine ulaşılabilir?**

- A) Mitler, günümüze kadar ulaşan en eski edebî metinler olma özelliğine sahiptir.
- B) Medeniyetler arasındaki etkileşim benzer süreçlerin yaşanmasına neden olur.
- C) Ancak yazıya aktarılan mitler unutulmaktan kurtulup günümüz insanına ulaşır.
- D) Yazılı edebiyat ile mitlerin ilişkisi, yazı tekniğinin ve geleneğinin tarihi kadar eskidir.
- E) Mitolojik eserlerde insanlığın ortak hafızasındaki birçok olaya tesadüf edilir.
5. Şiiri herkesçe beğenilir kılmak için Prometheus'un sancılarına katlanmak gerek sanırım. Annemi çok sevdiğim için anneli her şiir içinde kaybolurum mesele ben. Geçen gün bir arkadaşım deniz şiirlerindeki abartılı deniz sevgisini eleştiriyordu. Hem de nasıl bir eleştiril.. Şaştım kaldım doğrusu. Sonradan öğrendim ki küçükken kardeşini kaybetmiş denizde. O zaman anladım eleştirisini ve kendi şaşkınlığıma kızdım. Sadece bu da değil elbette şairlerin bıçak sırtında yaşaması. Benim çok beğendiğim dilin çağrışımlarında kaybolmak hüneri başkalarınca şairin züppeliği olarak görülüyor. Velhasıl zor iş, her şiiri her insana sevdirmek.

**Bu sözleri söyleyen bir kişinin aşağıdaki düşüncelerden hangisini savunması beklenir?**

- A) Şairler, toplumun hassasiyetlerini dikkate alarak yazmalıdır.
- B) Şiirin içinde kişilerin acıları yoksa o şiirin değeri olamaz.
- C) Kişinin deneyimleri ve kavrayışı, şiirin kabulünü belirler.
- D) Şiirde anlaşılır sözcükler kullanmak şiirin değerini artırır.
- E) Şiirde anlam, evrensel duyguya seslenmek zordur.

6. Isaac Asimov, *Son Soru* adlı kısa hikâyesinde bize insanlığın geleceğini ve yapay zekâların insanların dünyasındaki yerini gösteriyor. Bu hikâyede belki de hiç duymadığımız "entropi" sözcüğüyle tanışıyoruz. Bu tanışma pek çok kez düşündüğümüz ama çözüme vurdurmadığımız soruyu bir kez daha sorduruyor kendimize. Evren ve insanın geleceği entropiyle çözümsüzlüğe varıyor. Yaşlanmaya ve ölümsüzlüğe çare bulabilen insan bu hikâyede yok oluştan kurtulmıyor. Hikâyenin başında milyarlarca yıl sonrası için hayıflanılan insanların endişesi, milyarlarca yıl sonrası insanla gerçeğe dönüşüyor. Yeni yıldızları bile oluşturabilen insan, evrenin yok oluşuna çare bulamıyor. Bütün bu yok oluşta ayakta son kalan da yapay zekâ oluyor. İnsanlığın sonuna dair bir sorgulamaya sürüklendiğimiz hikâyede entropinin gerçek manasına da ulaşıyoruz.

**Bu parçadan aşağıdakilerin hangisi çıkarılamaz?**

- A) Kurgusal eserlerin, kavram öğretiminde etkili olabileceği
- B) Sanatsal ürünlerde olağanüstü konulara yer verildiği
- C) Edebî eserlerde kurgunun gerçek kişilere dayandırıldığı
- D) Edebî eserlerde insanın merak ettiği konulara değinildiği
- E) Hikâyelerin okuru yaşamla ilgili sorgu ve çözüme ulaştırdığı
7. I. İşidürsin dün ü gün âh ü figân eyledüğüm  
Hiç bir kerre dimezsün ki Necâtî neyler

- II. Ahmed çeke cevri ve lutfun göre ağıyâr  
Ey şefkati az şâh-ı cihân yandım elinden

**Bu beyitlerle ilgili aşağıdakilerden hangisi söylenemez?**

- A) İki beyitte de sevgiliye sitem vardır.
- B) İki beyitte de şairlerin mahlası yer almaktadır.
- C) Birinci beyitte mazmun kullanılmıştır.
- D) İkinci beyitte sevgili cihan padişahına benzetilmiştir.
- E) İkinci beyitte tezat sanatına yer verilmiştir.

8. I.

Bahçemizde nar ağacı  
Kimi tatlı kimi acı  
Gönüldeki dert ilacı  
Ya bulunur ya bulunmaz

II.

Evlerinin önü söğüt  
Atalardan kalmış öğüt  
Yârinden ayrılan yiğit  
Sılasına döner gelir

**Aşağıdakilerden hangisi bu dörtlüklerin ortak özelliklerinden biri değildir?**

- A) Halk şiiri geleneğine ait olma
- B) Mecazlı ifadelere sahip olma
- C) Aynı kafiye düzenine sahip olma
- D) Aynı hece ölçüsüne sahip olma
- E) Aynı nazım şekliyle yazılmış olma

9. **Aşağıdaki beyitlerde geçen altı çizili sözlerin hangisinde istiare sanatına başvurulmuştur?**

- A) Suya versin bâğban gülrârı zahmet çekmesin  
Bir gül açılmaz yüzün tek verse bin gülrâre su
- B) Ben fûrkatünde yandum düşmen visâle irdi  
Mü'min cehennem içre kâfir cinâne girdi
- C) Mey gibi kanum içüp bezmün harâm itdün bana  
Ben sana kanum eyâ sâkî helâl itmek neden
- D) Açıl bağın gül ü nesrîni ol ruhsârı görsünler  
Salın serv ü sanevber şive-i reftârı görsünler
- E) Menüm tek hiç kim zâr ü perîşân olmasun yâ Rab  
Esîr-i derd-i ışk u dâğ-i hicrân olmasun yâ Rab

10. Su kaynağının bulunduğu tepenin yaslandığı dağlarda yaşlı bir kadın yaşar. Kadın, koyunlarının sütü ve yağıyla geçinir. Ama yörede koyunlarını sulayabileceği bir dere yoktur. Bir gün uzak bir kaynaktan getirdiği suyla hamur yoğururken susuz kalmış koyunların suya bakışlarını görür. Onların durumuna acıyarak Tanrı'ya yakarır:

– Ulu Tanrım, şu hayvancıkların ateşini söndür. Şu ninenin un kalburunu da altına döndür.

Dileği kabul olur. Yamaçtan buz gibi sular akmaya başlar. Önündeki un kalburu da altına dönmüştür. Yaşlı kadın bu kez dövünmeye başlar: “Keşke bakracın, teknenin, taşın, toprağın da altına dönüşmesini isteseydim” der. O zaman da koyunları, kalburu, teknesiyle birlikte taş kesilir.

**Bu parça ile ilgili aşağıdakilerden hangisi söylenemez?**

- A) Gözlemci bakış açısıyla oluşturulmuştur.
- B) Efsaneye örnek oluşturur.
- C) Teması “tamahkârlık”tır.
- D) Üçüncü kişi anlatıcıyla oluşturulmuştur.
- E) Oluşturulduğu dönemin sosyal yapısına dair unsurlar içerir.

11. Yine bu kitabın içindekileri söyler

Bunu dört soylu temel üzerine kurar

Bunlardan biri adalettir, doğruluk üzerine  
İkincisi devlettir, kut ve ikbal üzerine

Üçüncüsü akıldır, ululuk ile  
Dördüncüsü kanaat ve afiyettir

Bunların her birine ayrı ad vermiş  
Sözlerini bu adlar altında söylemiş

**Bu beyitlerin biçim ve içerik özelliklerinden hareketle aşağıdaki eserlerin hangisinden alınmış olduğu söylenbilir?**

- A) *Kutadgu Bilig*
- B) *Dîvânu Lugâtî't-Türk*
- C) *Divân-ı Hikmet*
- D) *Muhakemetü'l-Lugâteyn*
- E) *Hüsn ü Aşk*

12. İlbahara yaz derler  
Şirin söze naz derler  
Kime derdim söylesem  
Bu dert sana az derler  
Kendin ettin kendine  
Yana yana gez derler

**Bu dizeler hangi mâni türünde yazılmış olabilir?**

- A) Düz mâni  
B) Yedekli mâni  
C) Cinaslı mâni  
D) Kesik mâni  
E) Karşılıklı mâni

13. Tasavvuf şairlerinden olan sanatçı, hem hece hem de aruzla şiirler yazmıştır. Hoşgörü anlayışıyla dünyaca tanınmış, şiirlerinde doğa unsurlarını kullanmış, basit gibi görünen ama anlamsal yoğunluk taşıyan şiirleriyle kendinden söz ettirmiştir. 2021 yılı UNESCO tarafından şaire adanmıştır.

**Aşağıdakilerden hangisi bu parçada sözü edilen şairin eseridir?**

- A) *Makâlât*  
B) *Divân-ı Kebir*  
C) *Mantıku't-Tayr*  
D) *Kitâb-ı Miglate*  
E) *Risaletü'n-Nushiyye*

14. ----, şiirlerinde halk söyleyişlerini ve deyimleri oldukça sık kullanır. Onun, medrese kültürüyle beslenen yüksek zümre edebiyatının belli kalıplar içindeki ifade şekillerini halk söyleyişleriyle yumuşatma, canlandırma, hayata bağlama isteği şarkılarında açıkça kendini gösterir.

**Bu parçada boş bırakılan yere aşağıdakilerde hangisi getirilmelidir?**

- A) Neşâtî  
B) Nedim  
C) Nefî  
D) Nâilî  
E) Nâbî

15. X. yüzyılda 60 bin beyitten oluşan eser, İran'da Arapların egemen olduğu döneme kadar geçen zaman içerisinde İran'ın destansı tarihi ile gerçek bilgileri harmanlayarak verir. Tarih öncesi dönemden başlayarak Sasani İmparatorluğu sonuna dek tüm eski İran krallarını inceler. Feridun, Keykubad, Keykâvus, Keyhüsrev, Cemşid, Rüstem, İsfendiyar, Efrasiyab eserin belli başlı kişilerini oluşturur.

**Bu parçada sözü edilen eserle benzer konuya sahip olan eser aşağıdakilerden hangisidir?**

- A) *Cemşid ü Hurşid*  
B) *Leylâ vü Mecnun*  
C) *Harnâme*  
D) *İskendernâme*  
E) *Mantıku't-Tayr*

16. Tevfik Fikret, *Servet-i Fünûn* dergisinin başına geçtiği 1896 yılından itibaren topluluğun dağılışına kadar geçen beş yıl içinde daha çok sanat için sanat anlayışı doğrultusunda ferdi ön plana çıkaran şiirler yazmıştır. 1901'e kadar sanatı sadece kendi için yapma gibi son derece estetik bir yaklaşımla şiirler yazan Fikret, *Sis* şiiri ile birlikte topluma adanmış bir şiiri benimser. İdealizm, Batı seviyesine ulaşma, hürriyet, yurtseverlik gibi konuları işler.

**Bu parçadan hareketle aşağıdakilerden hangisinin Tevfik Fikret'in 1901'den önceki sanat anlayışını yansıttığı söylenebilir?**

- A) Silin bulutları, silkin zılâl-i ehvâli,  
Ziyâ içinde koşan bir halâs-ı meşkûra.  
Ümidimiz bu: Öürsek de biz, yaşar mutlak  
Vatan sizinle şu zindân karanlığından uzak!
- B) Fikr ordusuyuz, meş'al-i irfânla mücehhez;  
Âyât-ı hakikat okunur râyetimizde.  
Ye'sin ebedî hasmımız, ümmîd-i mu'azzez  
Rehberlik eder meşyet-i zî-fikretimizde...
- C) Bahar olsun, bahar olsun diyordum;  
Bahar olmaz bu gün bundan mutarrâ...  
Niçin eksilmiyor hâlâ melalim,  
Niçin şâd olmuyor gönüm, hayâlim?..
- D) Zulmün topu var, güllesi var, kafası varsa,  
Hakkın da bükülmez kolu, dönmez yüzü vardır,  
Göz yumma güneşten, ne kadar nûru kararsa  
Sönmez ebedî, her gecenin gündüzü vardır.
- E) Yükselmeli... Artık yetişir zillet ü zulmet;  
Parlatmak her nâsiye bir neyyir-i fikret;  
Cehl ölmeli, zulm ölmeli, hak bulmalı kuvvet;  
Hakkın yüzü güldükçe gülümser beşeriyet...

17. Fransız edebiyatında Baudelaire'in yaygınlaştırdığı mensur şiir türünün Türk edebiyatındaki ilk örneklerini ---- vermiştir. Bu türden eserleri ---- ve ---- adıyla kitap olarak yayımlanmıştır.

**Bu parçada boş bırakılan yerlere sırasıyla hangileri getirilmelidir?**

- A) Mehmet Rauf - *Siyah İnciler* - *Serap*  
B) Halit Ziya Uşaklıgil - *Mensur Şiirler* - *Mezardan Sesler*  
C) Tevfik Fikret - *Rübâb-ı Şikeste* - *Haluk'un Defteri*  
D) Ali Ekrem Bolayır - *Ruh-i Kemâl* - *Vicdan Alevleri*  
E) Faik Ali Ozansoy - *Temâsil* - *Elhân-ı Vatan*

18. Çocuk Anadolu'dan böyle güvercin çıkmamıştır daha yalnızlığın üstüne böyle şiir kanatlanmamıştır böyle göz dökülmemiştir gurbet sürmelisine böyle yağmur da inmemiştir kimsenin gözlerine

İyilik kanatlarının üstüne olsun, gelmişsin şu uzun taşradan gölgesi bile yorulur bazen yorgunsun da biraz daha yorulmaya gelmişsin akşamlar efendidir, birbirine benzer deyiş gelmişsin dalgınlığından mı ne bir an çıkıp gelmişsin kim kimse demeden bir de çağrılmadan gelmişsin (...)

**Bu şiirle ilgili aşağıdakilerden hangisi söylenmez?**

- A) İkinci Yeni'nin şiir anlayışından etkilenildiği  
B) Sözcük tekrarlarından yararlandığı  
C) İmgelerin şiirlerde yoğun bir şekilde kullanıldığı  
D) Şehir ve taşra karşılaştırmasının konu olarak işlendiği  
E) Anlamdan çok nasıl anlatıldığının ön planda tutulduğu

19. Bu bodur ve seyrek ekinler, bu boynu bükük başaklar, bu buğulu söğüt ağacı, bu donuk ve sessiz su, hülâsa, bütün bu yoksul tabiat parçası...

Ben, Celal Paşa'nın oğlu Ahmet, İstanbul'un en muhteşem konaklarından birinde doğup ve parıltılı hülya iklimlerine doğru kanat açıp uçtukten sonra, kanatlarımın biri kırılmış olarak buraya düştüm. Otuz iki yaşında bir emekli asker, bütün geleceği geride kalmış bir delikanlı, şimdi burada...

— Ne yapıyorsun?

— Hah, hah; adam sen de...

Oysa, ben İstanbul'dan çıkarken bütün ıstıraplarımın kaynağının kafamda olduğuna karar vermiştim. Ve onu orada bırakmak istemişim. Burada, hiçbir şeyi düşünmeyecek, metafiziğe tamamıyla veda edecek ve bir köylü nasıl yaşarsa öyle yaşayacaktım. Tamamıyla onlara karışacaktım. Lakin işte görüyorum ki, bir çanak suda bir damla zeytinyağı gibiyim.

**Bu parçayla ilgili aşağıdakilerden hangisi söylemez?**

- A) Yalın, içten ve anlaşılır bir dil kullanılmıştır.  
 B) Olaylar, kahraman bakış açısıyla yansıtılmıştır.  
 C) Roman kişinin hayal kırıklığından söz edilmiştir.  
 D) Düşünceler, bilinç akışı tekniğiyle aktarılmıştır.  
 E) Anlatımda yer yer betimlemeler kullanılmıştır.
20. Roman tekniği onu çağdaşı Türk romancılardan ayırır. Ahmet Mithat geleneğini devam ettirmiş, geniş halk kitlelerine ulaşmayı amaç edinmiştir. Romanlarında olay akışını keserek okura ansiklopedik bilgiler vermesi, onun roman tekniğinin zayıflığı olarak yorumlanabilir. Romanlarındaki konuları bir şekilde şahit olduğu hadiselerden seçen sanatçı, natüralizmin Türk edebiyatındaki önemli isimlerinden biri olmuştur.

**Bu parçada sözü edilen yazar aşağıdakilerden hangisidir?**

- A) Recâizâde Mahmut Ekrem  
 B) Halit Ziya Uşaklıgil  
 C) Hüseyin Rahmi Gürpınar  
 D) Yakup Kadri Karaosmanoğlu  
 E) Nâbizâde Nâzım

21. Aşağıdakilerden hangisi farklı bir hikâye türünden alınmış olabilir?

- A) İkinciye doğru siyah zeytin ağaçlarının arasında yükselen açık renkli çınar ve kavaklar gözüme ilişti. Burası küçük bir değirmendi. Suyu bol bir çay küçük söğüt ağaçlarının arasından geçtikten sonra dar ve taş bir mecraya giriyor, oradan da dört tane tahta oluğa taksim oluyordu. İhtiyar çınarlar çukura gömülen eski değirmenin siyah kiremitli çatısını örtüyorlar ve ön tarafındaki geniş meydanı gölgeliyorlardı.
- B) Garipler köyü az çok çıplak ve kayalık bir yar ortasında sıkışmış, ıssız ve melul duruyor. Biz biraz sonra oradan geçip karşıki sırta çıkacağız. Yoldaşım, yorgun hayvanını kendi hâline bıraktı, ve suyun başına çöküp ellerini, yüzünü yıkamaya koyuldu. Ben, kendi hayvanımı ne olur, ne olmaz diye söğüt ağaçlarından birinin kütüğüne bağlamak lüzumu gördüm ve onu söğütlüğe doğru çektim.
- C) Bugün deniz, yüz veren bir anne gibidir. Bu kadar naz etmemeli, bu kadar yüz vermemeli, bu kadar ışıklı, bu kadar sakın, bu kadar lastik çizme gibi pırıl pırıl olmamalı deniz. Bunun yarını var. Dalga kırık cam parçaları gibi keskin ve soğuk vurduğu zaman olacak, o canavar su, baştan girip çıkacak.
- D) Irmağa giden yol, kasabadan kurtulunca, göz alabildiğine uzanan sayısız şeftali bahçeleri arasından geçirdi. Haziran içinde bile taşkın dere ayaklarının çamurlu, ıslak tuttuğu bu gölgeli yerlerde otlar bütün bir yaz mevsimi yeniden yeniye sürer kızgın güneş, ağaçların tepelerinde meyvaları pişirirken rutubetli toprakta birbiri arkasına yoncalar fıskırır, çayırlar kabarırdı.
- E) Hacı ağa, önünde öküzüyle çardağa yaklaşıncaya ihtiyarlar hep birden, dua eder gibi: "Hayrını göresin, hayrını göresin!" diye seslendiler. Yarı aydınlık içinde hayvanı seçmeye çalışıyorlardı. Kuru kafalı, kocaman boynuzlu, kemikleri çıkık, kart olduğu uzaktan belli bir öküzdü. Yorulmuş, bezmiş görünüyor, çökecek bir yer arıyordu.



22. Hikâye ve romanlarında daha çok Ege yöresinin kırsal kesim insanlarını ve onların yaşam sorunlarını anlatmıştır. Eserlerinde yalın, akıcı ve şiirsel bir dil kullanmıştır. Taşra, kasaba insanının gerçeğini; yaşadığı toplumsal sorunları bu bakış açısıyla yansıtmıştır. Oyunlarında da toplumsal yapıdaki eksiklikleri, aksaklıkları; insan ilişkilerinin trajik yanlarını işlemiştir. Bir edebiyat insanı olarak belki de en ilginç yönü tiyatro yazarlığıdır. Konularını yerli kaynaklardan alarak tamamen yerli unsurları kullanmıştır. Oyunlarının çoğu yabancı dillere çevrilmiştir; *Mine*, *Nalınlar* ve *Susuz Yaz* bunlardan birkaçıdır.

**Bu parçada sözü edilen sanatçı aşağıdakilerden hangisidir?**

- A) Melih Cevdet Anday
- B) Necati Cumalı
- C) Cevat Fehmi Başkut
- D) Reşat Nuri Güntekin
- E) Ahmet Kutsi Tecer

23. Sanatçının ilk oyunları "benzetmeci" anlatımla yazılmış, "kapalı biçim" özellikleri taşıyan gerçekçi yapıtlardır. Sanatçı; ilk dönem yapıtlarında, bireysel ya da toplumsal konulardan yola çıkarak evrensel değerlerle değişen toplumsal değerler arasında sağlıklı bir dengenin kurulamamış olduğu bir toplumsal çerçeveye içinde, bireyin yaşadığı iç ya da dış çatışmalar üstünde yoğunlaşır. 1958'de yazdığı *Karagöz'ün Dönüşü* adlı oyununda geleneksel tiyatromuzun ünlü Karagöz ve Hacivat'ına, yüzyıllar atlatarak onları uzun bir ayrılıktan sonra günümüzde bir araya getirmiştir. Bu iki güldürü kahramanının karşılaşmasından da toplumsal bozukluklara ayak uyduran bireyi eleştiren hüznünlü bir öykü çıkarmıştır.

**Bu parçada sözü edilen sanatçı aşağıdakilerden hangisidir?**

- A) Orhan Asena
- B) Cevat Fehmi Başkut
- C) Necip Fazıl Kısakürek
- D) Sabahattin Kudret Aksal
- E) Turgut Özakman

24. Şiir gayrişahsi konuları işler. Felsefe, tarih, tabiat gibi konulara yönelir. Tasvirî bir özellik kazanır. Dil ve şekle bağlılığa, biçim mükemmelliğine önem verir. Biçim mükemmelliği ve objenin vazih çizgilerle tespit edilmesi, duyguya şekil verilmesi sanatçıları plastik sanatlara yaklaştırır.

**Bu parçada şiir anlayışından söz edilen sanat akımı aşağıdakilerden hangisidir?**

- A) Parnasizm
- B) Sembolizm
- C) Romantizm
- D) Sürrealizm
- E) Empresyonizm

25. Orta Çağ ile ilgili verilen bilgilerden hangisi yanlıştır?

- A) Kavimler Göçü ile başlamıştır.
- B) Yaklaşık bin yıl sürmüştür.
- C) İstanbul'un Fethi ile son bulmuştur.
- D) İslamiyet'in ortaya çıktığı dönemdir.
- E) Türklerin tarih sahnesine çıktığı çağdır.

26. I. Sav  
II. Kitabeler  
III. Destan  
IV. Sagu

**Yukarıdakilerden hangisi İslamiyet'ten önceki Türk Devletlerine ait sözlü edebiyat eseri değildir?**

- A) Yalnız I
- B) Yalnız II
- C) I ve II
- D) I, II ve IV
- E) I, III ve IV

27. Aşağıdaki âlim ve sufilerden hangisi, Anadolu'nun İslamlaşması sürecinde Anadolu'da olmayıp fikirleri ile bu süreci etkilemiştir?

- A) Mevlana Celaleddin Rumi
- B) Yunus Emre
- C) Ahmet Yesevi
- D) Hacı Bektâş-î Veli
- E) Ahi Evran

28. Osmanlı Devleti, tımar sistemini yasa ve yönetiminin yeterince yerleştiği bölgelerde uygulayabilmiştir. Bu bölgelerde sancak sistemini uygulayarak egemenliğini güçlendirmiştir.

**Buna göre tımar sistemi Osmanlı Devleti'nde;**

- I. Mısır
- II. Bağdat
- III. Diyarbakır
- IV. Basra

**eyaletlerinden hangisinde uygulandığı söylenemez?**

- A) Yalnız I
- B) I ve II
- C) I, II ve IV
- D) I, III ve IV
- E) II, III ve IV

29. Mısır Sorunu'nun çözüme kavuşmasında;

- I. Rusya
- II. İngiltere
- III. Fransa
- IV. İspanya

**devletlerinden hangilerinin rolü olduğu söylenbilir?**

- A) I ve II
- B) I, II ve III
- C) I, II ve IV
- D) I, III ve IV
- E) II, III ve IV

30. Aşağıdakilerden hangisi Osmanlı Devleti'nin 1875 yılında dış borçlarını ödemek için verdiği teminatlar arasında gösterilemez?

- A) Balık avı vergi gelirleri
- B) Tuz tekeli gelirleri
- C) Tütün tekeli gelirleri
- D) Ağnam vergisi gelirleri
- E) Mısır eyalet gelirleri

31. Aşağıdakilerden hangisi I. İnönü Muharebesi ile II. İnönü Muharebesi arası dönemde meydana gelen gelişmelerden biri değildir?

- A) Teşkilat-ı Esasiye Kanunu'nun kabul edilmesi
- B) İngiltere'nin girişimleri ile Londra Konferansı'nın toplanması
- C) Fransa ile Ankara Antlaşması'nın imzalanması
- D) SSCB ile Moskova Antlaşması'nın yapılması
- E) Afganistan ile BMM arasında dostluk antlaşması'nın yapılması

32. I. Halifeliğin Kaldırılması  
II. Cumhuriyetin İlanı  
III. Ankara'nın Başkent Oluşu  
IV. 1924 Anayasası  
V. Saltanatın Kaldırılması

**Siyasi alanda yapılmış inkılapların kronolojik sıralaması aşağıdakilerin hangisinde doğru olarak verilmiştir?**

- A) I - V - II - III - IV  
B) II - V - I - II - IV  
C) V - III - I - II - IV  
D) III - V - I - II - IV  
E) V - III - II - I - IV

33. Sağlık alanında yaşanan aşağıdaki gelişmelerden hangisi iki dünya savaşı arasındaki döneme ait değildir?

- A) DNA'nın kimyasal yapısının çözülmesi  
B) Verem aşısının bulunması  
C) Nöroloji bilim dalının kurulması  
D) C vitaminin keşfedilmesi  
E) Pankreas özütünden insülin elde edilmesi

34. BM Güvenlik Konseyi'nde veto yetkisine sahip devletler arasında aşağıdakilerden hangisi yoktur?

- A) Almanya  
B) Fransa  
C) Rusya  
D) İngiltere  
E) ABD

35. Ekonomik gelişmenin kaynağı olan doğal çevrenin sınırlı olduğu düşüncesinden hareketle kalkınmanın devamı ve gelecek nesillerin refahının sağlanabilmesi için sürdürülebilir kalkınma modeli ortaya atılmıştır.

**Aşağıdakilerden hangisinin bu kalkınma modeline uygun bir çalışma olduğu söylenemez?**

- A) Ormanlık arazilerde gençleştirme amaçlı ağaç kesimlerinin yapılması  
B) Sanayi üretiminde atıklardan elde edilmiş ham madde kullanımının artırılması  
C) Artan ihtiyacın karşılanması için alternatif enerji kaynaklarından faydalanılması  
D) Nüfus projeksiyonları ile gelecekteki nüfusun ve ihtiyaçlarının belirlenmesi  
E) Bataklıkların kurutulmasıyla tarımsal üretim yapılan alanların genişletilmesi

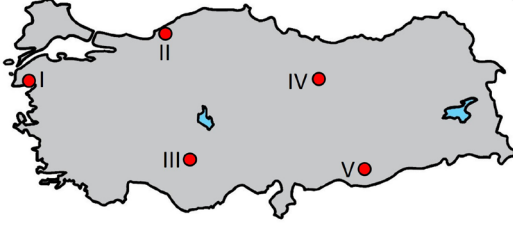
36. Kültürel öğelerden özellikle dil ve din dikkate alınarak büyük kültür bölgeleri oluşturulmaktadır. Bu bölgelerin yeryüzündeki dağılımında konum ve coğrafi koşullar öncelikli etkili olmuştur.



**Buna göre harita üzerinde numaralandırılmış yerlerden hangileri aynı kültür bölgesi içerisinde yer almaktadır?**

- A) I ve II  
B) I ve III  
C) II ve III  
D) II ve IV  
E) III ve IV

37. Aşağıdaki haritada bazı yerler numaralandırılarak gösterilmiştir.



Haritada numaralandırılarak gösterilen yerlerin hangisinde fosil yakıtların yoğun kullanımına bağlı olarak çevre sorunlarının **daha fazla** görüldüğü söylenebilir?

- A) I B) II C) III D) IV E) V

38. Deniz suyu sıcaklığının yıllık ortalama  $23^{\circ}$ - $25^{\circ}$  °C olduğu tropikal denizlerin sığ kıyılarında daha geniş yaşam alanlarına sahip olan mercanlar, bu denizlerde yaşayan canlılar arasında bir ekosistemin oluşmasını sağlamaktadır.



Haritada numaralandırılan yerlerden hangilerinde bu ekosistemin yayılışı **daha geniştir**?

- A) I ve II B) I ve III C) II ve III  
D) II ve IV E) III ve IV

39. Yaşamsal faaliyetler için gerekli olan karbon, çeşitli süreçlerle ilgili olarak doğal ortamlar arasında sürekli yer değiştirerek bir döngü hâlinindedir. İnsan faaliyetlerine bağlı olarak bu döngünün doğal işleyişinde bazı değişiklikler gerçekleşmektedir.

Bu **değişikliğin oluşmasında aşağıdakilerden hangisi daha fazla etkilidir?**

- A) Denizlerde kültür balıkçılığı faaliyetlerinin artması  
B) Ham madde temin edilen orman alanlarının daralıyor olması  
C) Tarımsal faaliyetlerde azotlu gübre kullanımının yaygınlaşması  
D) Bazı maden türlerinin açık ocak madencilik tekniğiyle elde edilmesi  
E) Kırsal yerleşmelerde tarım ve hayvancılık faaliyetlerinin yaygın olması

40. UNESCO Dünya Mirası Listesi'nde bulunan bazı yerleri görmek için Türkiye'yi ziyarete gelen bir turist grubu İzmir, Aydın, Denizli, Konya ve Çorum illerini kapsayan bir gezi programı oluşturmuştur.

Aşağıdakilerden hangisi bu programda gezilebilecek yerler arasında **değildir**?

- A) Efes  
B) Aphrodisias  
C) Arslantepe Höyüğü  
D) Hattuşa: Hitit Başkenti  
E) Çatalhöyük Neolitik Alanı

1. Bu testte sırasıyla, Tarih-2 (1-11), Coğrafya-2 (12-22), Felsefe Grubu (23-34), Din Kültürü ve Ahlak Bilgisi (35-40), Din Kültürü ve Ahlak Bilgisi dersini yasal olarak almak zorunda olmayan veya farklı müfredat ile alanlar için Felsefe Grubu (41-46) alanlarına ait toplam 46 soru vardır.

2. Cevaplarınızı cevap kâğıdının Sosyal Bilimler-2 Testi için ayrılan kısmına işaretleyiniz.

1. Aşağıdakilerden hangisinin feodal düzende ülkelerin sosyal, siyasal, askerî, ekonomik ve hukuki düzenini belirleyen temel unsur olduğu söylenebilir?

- A) Asalet
- B) Toprak
- C) Silahlı güç
- D) Egemenlik gücü
- E) Tanrısal güç

2. • Emeviler devlet görevlerini başta kendi soylarından gelenler olmak üzere Araplara verdiler. Arap olmayanları ise dışlayıp mevali (köle) olarak adlandırdılar.
- Kuzey Afrika'da ortaya çıkan Fâtîmi Halifeliği'nin kurucuları soylarını Hz. Muhammed'in kızı Hz. Fatîma'ya dayandırdılar. Fâtîmiler Şii'de var olan "Mehdi'nin Fâtîmi ailesinden geleceği" inancı nedeniyle halifelerine mehdi (kurtarıcı) unvanı verdiler.

Verilen açıklamalar aşağıdaki kavramlardan hangisine ait bir uygulama örneğine kanıt gösterilebilir?

- A) Soy dayanışması
- B) Millî şuur
- C) Millî birlik
- D) Aristokrasi
- E) Millî egemenlik

3. Osmanlı Devleti'nin tarımsal üretimi artırmak için;

- I. toprağını terk edip, üç yıl üst üste ekmeden köylüye çift bozan cezası kesilmesi
- II. Adet-i Ağnam vergisinin alınması
- III. fetih hareketleri ile sınırların genişlemesi

gibi uygulamalardan hangisini yürürlüğe koyduğu söylenebilir?

- A) Yalnız I
- B) Yalnız II
- C) Yalnız III
- D) I ve II
- E) I, II ve III

4. Osmanlı Devleti büyüdükçe sadrazamların yetki ve sorumlulukları arttı. Sadrazamlar, Topkapı Sarayı'na yakın olması bakımından İstanbul'un bugünkü Eminönü ilçesindeki Cağaloğlu semtinde yaptırılan konaklarda oturmaya başladılar. 1756'da Sultan III. Osman tarafından bu semtte yaptırılan Sadrazamlık konağı ilk bilinen resmi nitelikteki Sadrazamlık binası oldu. İlk önceleri binaya "Paşa Kapısı" ve "Bâb-ı Âsafî" denildi.

Metinde hakkında bilgi verilen Osmanlı Devleti yönetim bölümünün adı aşağıdakilerden hangisidir?

- A) Dergah-ı Ali
- B) Divan-ı Ali
- C) Kasr-ı Adalet
- D) Dar-ı Bâb-ı Âlî
- E) Bâb-ı Âlî

## 5. Osmanlı tarihinde görülen;

- Kanun-i Esasi'nin kabulü
- I. Meşrutiyet'in ilanı
- Meclis-i Mebusanın kapatılması

**gibi gelişmeler aşağıdaki padişahlardan hangisinin döneminde yaşanmıştır?**

- A) Abdülmecit
- B) II. Mahmut
- C) II. Abdülhamit
- D) Mehmet Reşat
- E) Abdülaziz

6. I. Mühendishane-i Bahri Humayun'un açılması  
 II. Sürat Topçuları Ocağı ve İstihkâm Okulu açılması  
 III. İrad-ı Cedid adlı yeni bir hazine kurulması  
 IV. İlk kez çiçek aşısı uygulanması  
 V. Avrupa başkentlerine elçiler gönderilmesi

**Yukarıdaki ıslahatların hangisi I. Abdülhamit Devri'nde yapılmıştır?**

- A) I
- B) II
- C) III
- D) IV
- E) V

## 7. BMM'de alınan;

- Yasama, yürütme ve yargı yetkisi BMM'ye aittir.
- BMM'nin üstünde hiçbir güç yoktur.
- Saltanat ve hilafetin geleceği BMM'nin vereceği karara bağlıdır.

**kararları dikkate alındığında;**

- I. Güçler birliği anlayışı benimsenmiştir.
- II. BMM milletin tek temsilcisi olup, millet adına egemenlik hakkını kullanmıştır.
- III. Saltanat ve hilafete bağlılık ilkesi korunmuştur.

**yargılarından hangilerine ulaşılır?**

- A) Yalnız I
- B) I ve II
- C) I ve III
- D) II ve III
- E) I, II ve III

## 8. Tevhid-i Tedrisat Kanunu ile;

- I. Türkiye Cumhuriyeti'ndeki bütün okulların programlarının ve eğitim sisteminin düzenlenmesi Millî Eğitim Bakanlığına bırakılmıştır.
- II. Kanun uyarınca medreseler kapatılmış, din görevlisi yetiştirmek amacıyla imam-hatip mektepleri ve ilahiyat fakülteleri açılmıştır.
- III. Karma eğitim ile birlikte eğitimde kadın-erkek eşitliği sağlanmıştır.

**Bu uygulamaların Atatürk ilkeleri ile doğru eşleştirilmesi aşağıdakilerden hangisinde verilmiştir?**

	I	II	III
A) Laiklik	Devletçilik	Milliyetçilik	
B) Laiklik	Halkçılık	Milliyetçilik	
C) Milliyetçilik	Laiklik	Halkçılık	
D) Milliyetçilik	Laiklik	Devletçilik	
E) Halkçılık	Devletçilik	Laiklik	

9. Aşağıdakilerden hangisi Sakarya Meydan Muharebesi'nin sonuçları arasında gösterilemez?

- A) Fransa ile 1921 Ankara Anlaşması imzalanması
- B) Mustafa Kemal'e gazilik unvanı, mareşallik rütbesi verilmesi
- C) Yunanlıların savunma durumuna geçmesi
- D) İstiklal Marşı'nın kabul edilmesi
- E) Kars Anlaşması'nın imzalanması

10. İsrail Devleti'nin resmen kurulmasından sonra Arap ülkeleri ordularının İsrail'e karşı saldırıya geçmesiyle 1948 Arap-İsrail Savaşı başlamış oldu. ABD ve Avrupa ülkeleri tarafından desteklenen İsrail, kısa sürede Araplara karşı askerî üstünlük sağladı. Bu savaş sonucunda Arap ülkeleri ve İsrail arasında ateşkesler imzalandı.

Bu bilgiye göre İsrail ile ateşkes imzalayan Arap ülkeleri arasında aşağıdakilerden hangisi yoktur?

- A) Mısır
- B) Suriye
- C) Irak
- D) Lübnan
- E) Ürdün

11. I. Lozan Antlaşması'nın yapılması

II. Londra Konferansı

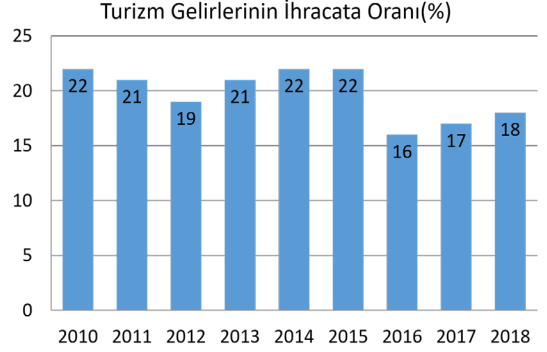
III. Erzurum Kongresi

IV. Amasya Görüşmeleri

Bu gelişmelerin oluş sırası aşağıdakilerden hangisidir?

- A) I - IV - III - II
- B) II - III - IV - I
- C) III - IV - II - I
- D) IV - II - III - I
- E) III - II - I - IV

12. Aşağıdaki grafikte 2010-2018 yılları arasında Türkiye'de turizm gelirlerinin ihracat içerisindeki oransal payı gösterilmiştir.



Yalnızca grafikteki bilgiler dikkate alındığında aşağıdakilerden hangisi söylenebilir?

- A) Turizm gelirinin en düşük olduğu yıl 2016'dır.
- B) Turizm gelirleri 2010 ile 2012 arasında azalmıştır.
- C) 2015 yılından sonra Türkiye'ye gelen turist sayısı azalmıştır.
- D) Turizm gelirlerinin en yüksek olduğu yıllar 2010, 2014 ve 2015'tir.
- E) Turizm gelirlerinin ihracat gelirleri içerisinde payı 2016'dan 2018 yılına kadar artış göstermiştir.

13. Bilimsel araştırmalar jeolojik dönemlerde bir arada yaşayan bazı canlıların bugün doğal yaşam alanlarının birbirine uzak alanlarda olduğunu göstermektedir. Aynı atalara sahip olduğu düşünülen ve uçamayan büyük kuşlardan olan deve kuşu Afrika'da, ostrich Amerika'da, emu, kiwi, cassowary ise Okyanusya'da yaşamaktadır.

Biyçeşitliliğin yeryüzüne dağılışındaki bu farklılıkta aşağıdakilerden hangisi daha etkili olmuştur?

- A) İnsan faaliyetleri
- B) Kıtaların kayması
- C) Küresel iklim değişikliği
- D) Canlılar arası besin zinciri
- E) Deniz seviyesinin değişmesi

14. Büyük Okyanus kıyılarına paralel uzanan And Dağları üzerinde yaşamış olan İnkaların kurulduğu bölge 2.000 metrenin üzerinde yükseltiye sahipken Akdeniz medeniyetlerinin kıyıya yakın ve yükseltisi az olan alanlarda kurulduğu görülmektedir.

**Bu farklılığın temel nedeni aşağıdakilerden hangisidir?**

- A) Jeolojik yapı  
B) Demografik yapı  
C) Hidrolojik özellikler  
D) Ekonomik faaliyetler  
E) Klimatolojik özellikler

15. Eski çağlarda insanlar, üretim faaliyetlerine başladıklarında ellerindeki ihtiyaç fazlası ürünleri gereksinim duydukları başka ürünlerle değiş tokuş ederek ticaretin başlamasını sağlamışlardır. Ancak o çağlardan günümüze kadar olan süreçte ticari faaliyetler değişmiş ve günümüzde başka bir boyut kazanmıştır.

**Günümüze kadar olan süreçte yaşanan bu değişimde aşağıdakilerden hangisinin etkisi daha azdır?**

- A) Sanayi Devrimi  
B) Paranın icat edilmesi  
C) Ulaşım araçlarının çeşitlenmesi  
D) Doğal kaynak rezervinin azalması  
E) İletişim teknolojilerinin gelişmesi

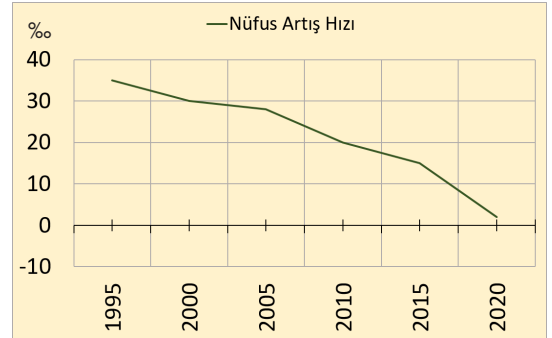
16. Aşağıda bir uluslararası örgüte ait bilgiler verilmiştir.

8 Aralık 1991 tarihinde Rusya Federasyonu, Beyaz Rusya ve Ukrayna arasında yapılan anlaşma ile oluşturulmuş bölgesel bir örgüttür. 21 Aralık 1991 tarihinde Azerbaycan, Kazakistan, Ermenistan, Kırgızistan, Moldova, Tacikistan, Türkmenistan ve Özbekistan'da katılmıştır. 1993 yılında Gürcistan'ın da katılımıyla örgütün üye devlet sayısı 12'ye yükselmiştir. Sonraki yıllarda bazı ülkelerin topluluktan ayrılmasıyla üye sayısı 9'a düşmüştür.

**Verilen bilgilerin ait olduğu örgüt aşağıdakilerden hangisidir?**

- A) Avrupa Birliği  
B) Gelişen Sekiz Ülke  
C) Bağımsız Devletler Topluluğu  
D) Kuzey Atlantik Antlaşması Örgütü  
E) Karadeniz Ekonomik İşbirliği Teşkilatı

17. Aşağıda sınırları değişmeyen bir ülkenin 1995 – 2020 yılları arasındaki nüfus artış hızını gösteren grafik verilmiştir.



**Yalnızca grafikteki bilgiler dikkate alındığında bu ülkenin verilen dönemdeki nüfusuyla ilgili;**

- I. İç ve dış göç artmıştır.  
II. Toplam nüfus artmıştır.  
III. Nüfusun yaş ortalaması azalmıştır.

**yargılarından hangilerine kesin olarak ulaşılabılır?**

- A) Yalnız I      B) Yalnız II      C) Yalnız III  
D) I ve II      E) II ve III

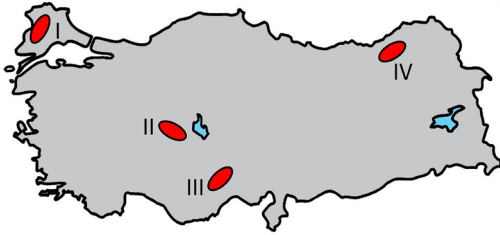


18. Mal ve hizmetlerin üretilmesi veya atıkların ortadan kaldırılması için tüketilen su, toprak, bitki gibi ekolojik kaynakların ölçüsü olarak ifade edilen ekolojik ayak izi, kapasitenin üzerinde boyutlara ulaşması durumunda ekolojik açık ortaya çıkmaktadır. Bu açığa bağlı olarak zamanla; doğal kaynaklar tükenmekte, çevre sorunları belirlemekte ve insanlar ihtiyaçlarını karşılayamaz hale gelmektedir.

**Bu açığın oluşmasında aşağıdakilerden hangisinin etkisi daha azdır?**

- A) Akarsu ve göllerin sanayide kullanımının fazla olması  
 B) Artan gıda ihtiyacını karşılamak için suni gübre kullanılması  
 C) Bataklık alanlarının kurutularak tarım arazisine dönüştürülmesi  
 D) Mera hayvancılığında hayvan başına düşen otlak alanının fazla olması  
 E) Küresel enerji ihtiyacının büyük oranda fosil yakıtlarından karşılanması

19. Yaylalar, genellikle ilkbahar ve yaz mevsimlerinde yüksek kesimlerdeki gür ot topluluklarından hayvancılık faaliyetlerinde yararlanmak amacıyla oluşturulan geçici yerleşmelerdir. Son yıllarda turizm faaliyetlerinin de geliştiği yaylalar, ülkemizde köyden küçük yerleşmelerin en yaygın olanlarıdır.



**Haritada numaralandırılarak gösterilen alanlardan hangilerinde bu yerleşim türü daha az görülmektedir?**

- A) I ve II      B) I ve III      C) II ve III  
 D) II ve IV      E) III ve IV

20. Sıcaklık veya kuraklık koşullarının ekstrem doğa olayı olarak kabul edilmesi bulunulan yere ve yaşanan mevsime göre değişebilmektedir.

**Buna göre;**

- I. Afrika'nın savan bölgesinde yaz yağışlarının görülmesi  
 II. Avustralya'da temmuz ayında sıcaklık ortalamalarının ocak ayından düşük olması  
 III. İskandinav Yarımadası'nda ocak ayı sıcaklık ortalamalarının 10°C'nin üzerinde seyretmesi

**durumlarından hangileri ekstrem olarak değerlendirilebilir?**

- A) Yalnız I      B) Yalnız II      C) Yalnız III  
 D) I ve III      E) II ve III

21. Aşağıdaki haritada bazı yerler numaralandırılarak gösterilmiştir.



**Bu yerlerdeki sanayi tesisleriyle ilgili aşağıdaki bilgilerden hangisi yanlıştır?**

- A) I numaralı yerde petrol rafinerisinin kurulmasında ulaşım koşulları etkili olmuştur.  
 B) II numaralı yerde ayçiçek yağı fabrikasında yakın çevresinden elde edilen ham madde kullanılmaktadır.  
 C) III numaralı yerde pamuklu dokuma tesislerinin kurulmasında pazar koşulları etkili olmuştur.  
 D) IV numaralı yerde demir - çelik fabrikasının kurulmasında ham maddeye yakınlık etkili olmuştur.  
 E) V numaralı yerde bakır işleme fabrikasının kurulmasında ulaşım koşulları etkili olmuştur.

22. Sürdürülebilir kalkınmanın amacı dünyanın mevcut kaynaklarının korunmasını ve gelecek nesillere aktarılmasını sağlamaktır.

**Buna göre;**

- I. Eğimli alanların tarım alanına dönüştürülmesi  
II. Enerji üretiminde fosil yakıtların payının artırılması  
III. Üretimde tekrar kullanılabilen ham maddelerin tercih edilmesi

**durumlarından hangileri bu amaca uygun çalışmalardır?**

- A) Yalnız I                      B) Yalnız II                      C) Yalnız III  
D) I ve III                      E) II ve III

23. M. Gökbek *Felsefe Tarihi* adlı eserinde "Demokritos'un eudaimonizmi çok temiz ve soylu. Mutluluğa erişmek isteyen, yararına olanla olmayanı ayırt etmeyi bilmelidir. Bunun ölçüsünü de insan, haz ve acı duygularında bulabilir. Yalnız, görelilik olarak iyi olanla, mutlak olarak iyi olanı ayırmayı da bilmelidir. Görelilik olarak iyi olanlar: maddî-duyusal sevinçler, güzellik, şeref ve zenginlik gibi şeylerdir. Mutlak iyi ise, ruhun iyi bir durumda bulunmasıdır. Ruh böyle bir durumda olunca, insan yalnız iyi olandan sevinç duyar, kötüyü yapmak şöyle dursun, istemez bile. İnsanın ahlâkça değerinin ölçüsü, düşünüştür." demiştir.

**Bu parçadan aşağıdaki yargıların hangisine ulaşılabılır?**

- A) Çok sayıda insanı mutlu eden hazlara yönelmek gerekir.  
B) İyi ve kötü yargıları her durumda rölatif niteliğe sahiptir.  
C) Mutluluk insanın eyleminin sonuçlarına bağlıdır.  
D) Ruh görelilik değerlere yöneldiğinde haz duygusuna erişir.  
E) Gerçek mutluluk ruh dinginliğine erişmektir.

24. İnsan kendini bilme yetisine sahip bir varlık olarak bu yetiyi kendisine dönük bir farkındalık ve sorgulamaya dönüştürürse zenginleşen zihni yeni ufuklara yelken açacaktır. Artık başka başka zihinler değil, kendi zihni kendi adına kendi kelimelerini konuşacaktır. Kant'ın da dediği gibi aklını kullanma cesaretini gösteren bireyler aklın öne çıktığı yeni bakış açısıyla insanı ve evreni yeniden yorumlayacaktır.

**Bu parçada anlatılanlar aşağıdakilerden hangisiyle ilişkilendirilebilir?**

- A) Hümanizm  
B) Skolastik düşünce  
C) Bilimsel yöntem  
D) Kartezyen felsefe  
E) Determinizm

25. İnsan usunu doğuştan boş bir odaya benzeten J. Locke *İnsanın Anlama Yetisi Üzerine Bir Deneme* adlı eserinde şöyle demiştir: Örneğin, şeker bizde beyazlık ve tatlılık dediğimiz ideleri üretiyorsa şekerde zihinlerimizde bu ideleri üretecek bir güç var demektir, yoksa bu söz konusu olamaz. Her bir duyum duyularımıza etki eden güce karşılık olduğundan, böylece ortaya çıkan (herhangi bir yalın ide üretme gücünde olmayan zihnin bir uydurması değil) gerçek bir idedir.

**J. Locke'un bu görüşlerinden hareketle aşağıdaki yargıların hangisine ulaşılabılır?**

- A) Deneyimden geçmeyen varlığın ussal bir gerçekliği olamaz.  
B) Bilgiler deneyle başlar fakat deneyden doğmazlar.  
C) Bilginin doğruluğu rölatif bir niteliğe sahiptir.  
D) Genel geçer bilgilerin varlığından söz edilemez.  
E) İdeler a priori olarak insan zihninde bulunurlar.

26. Psikoloji insan davranışlarını inceleyen bir bilimdir fakat insan içinde bulunduğu sosyal yapıdan bağımsız bir varlık değildir. Bu nedenle bireyin grup içindeki davranışlarını, grupların bireyin davranışlarına olan etkisini inceleyen psikolojinin alt dallarından biri olan sosyal psikoloji ortaya çıkmıştır. Sosyal psikoloji moda, kamuoyu, propaganda, liderlik gibi olguların birey üzerindeki etkilerini anlamaya ve açıklamaya çalışmaktadır. Sosyoloji de toplumsal olguları inceler ama onun yaptığı şey sosyal olguları açıklamak ve bundan hareketle genellemelere ulaşmaktır.

**Bu parçadan hareketle aşağıdakilerden hangisi sosyal psikoloji için söylenemez?**

- A) Sosyoloji ve psikolojinin etkileşiminden ortaya çıktığı
- B) Sosyolojiden farklı bir yönetsel anlayışa sahip olduğu
- C) Toplumun bireyin psikolojisi üzerindeki etkilerini konu edindiği
- D) Toplumsal gerçekleri açıklamak amacıyla bireyi analiz ettiği
- E) Toplumsal bir olgu bağlamındaki bireyi çözümlenmeye çalıştığı

27. **Aşağıdakilerden hangisi güdülenmiş davranışın güdülenmemiş davranıştan farkına ilişkin yanlış bir yargıdır?**

- A) Güdülenmiş davranış belli hedeflere yönelirken güdülenmemiş davranışta belli bir hedef yoktur.
- B) Güdülenmiş davranışta organizma harekete geçmez, güdülenmemiş davranış organizmayı harekete geçirir.
- C) Güdülenmiş davranış seçicidir, güdülenmemiş davranışta bu seçicilik yoktur.
- D) Güdülenmiş davranış, güdülenmemiş davranışa göre daha yorucudur.
- E) Güdülenmiş davranışta dikkat ve öğrenme üst düzeyde iken güdülenmemiş davranışta ilgisizlik görülür.

28. Kişilik her bireyin biricik ve kendine özgü olan, bir bölümü genetik olarak ana babadan gelen bir bölümü de sonradan kazanılan özelliklerinin toplamıdır. Yaşamın ilk yıllarının kişiliğin şekillenmesinde oldukça etkili olduğunu savunan bazı kuramcılar ana baba davranışlarının çocukların sağlıklı bir kişilik gelişmesinde oldukça önemli bir etken olduğunu ortaya koymaktadır. Bireylerin içine doğdukları ortam ve bu ortamda yaşadıkları, yaşamın ileriki yıllarında kişiliği üzerinde olumlu ya da olumsuz etkilere neden olacaktır.

**Bu parçadan kişilik ile ilgili aşağıdakilerden hangisine ulaşılamaz?**

- A) Kişiliğin doğuştan gelen bir yönünün olduğuna
- B) Sosyal koşulların kişilik gelişimini etkilediğine
- C) Kişiliğin kalıtım ve çevrenin bileşiminden oluştuğuna
- D) Ebeveyn tutumlarının kişilik gelişiminde önemli olduğuna
- E) Çevresel faktörlerin kişiliği daha çok etkilediğine

29. Sosyalleşme, bireyin toplumun kültürünü öğrenmesi benimsemesi sürecidir. Bu süreçte kişinin, toplumun kültürünü, değer yargılarını öğrenmemesi, onun topluma yabancılaşmasına neden olur. Örneğin köyden kente ya da bir ülkeden başka bir ülkeye göç eden insanlar, tamamıyla farklı bir kültürel ortama girdikleri için zaman zaman toplumla bütünleşmede zorlanırlar. Hızlı sanayileşen toplumlarda değer ve normlarda meydana gelen değişimler, eski ve yeni normlardan hangisine uyacakları konusunda karar verirken bireyleri zorlayabilir. Bu gibi durumlar toplumsal sapmaya neden olabilir. Toplumun kurum ve bireyleri sapma davranışını ortadan kaldırmak için bir irade ortaya koymazsa, bu davranış artarak devam edebilir.

**Parçaya göre aşağıdakilerden hangisi toplumsal sapmaya neden olan unsurlardan biri olamaz?**

- A) Başarısız sosyalleşme
- B) Normların yaptırım gücünün yüksek olması
- C) Kültürel çatışmanın görülmesi
- D) Toplumsal kontrolün zayıflaması
- E) Toplumsal değişimin hızlı olması

30. Z. Bauman *Sosyolojik Düşünmek* adlı eserinde “Hayati bilinçli bir biçimde yaşamının gösterilen çabaya değdiğini düşünen herkes için sosyoloji hararetle sıkılan bir yardım eli olacaktır. Sosyoloji sağduyuyla sürekli ve yakın bir diyalogu korumakla birlikte, onun sınırlılığını aşmayı amaçlar; sağduyunun doğal olarak önünü tıkama eğilimi duyduğu imkânların önünü açmaya çalışır. Ortak sağduyusal bilgimize hitap ederken ve meydan okurken, sosyoloji bizi deneyimlerimizi yeniden değerlendirmeye, muhtemel yorumlarının daha birçoğunu keşfetmeye ve sonuçta şeylerin bugün oldukları gibi ya da bizim olduklarına inandığımız (daha doğrusu hiçbir zaman olmamış olabileceklerini düşünmediğimiz) gibi oldukları konusunda daha eleştirel, daha az uzlaşmacı olmaya sevk edebilir, yüreklendirebilir.” demiştir.

**Bu parçada sosyoloji ile ilgili vurgulanmak istenen aşağıdakilerden hangisidir?**

- A) Konusu                      B) Yöntemi                      C) İşlevi  
D) Doğuşu                      E) Diğer alanlarla ilişkisi

31. Bir insan vücudunu, bütünlüğü içinde incelediğimizde, her biri kendi işinde uzmanlaşmış, birbirine bağlı fakat farklı uzuvların uyumu, işleyişi bize küçük bir toplumu anımsatır. Söz gelimi bir kitap okumaya karar verdiğimizde, bu kararı veren beynimiz, kararı uygulamak için işe koşulan örneğin kitabı almak için yer değiştirmemizi sağlayan ayaklarımız, kitaplıktan kitabı almamızı sağlayan ellerimiz, kitabı okumamızı sağlayan gözlerimiz birbiriyle uyumlu bir işbirliği içindedir. Ancak böyle bir işbirliği ve birliktelik ile hayatta kalabiliriz. Toplumsal yapıda da benzer bir durum vardır. Toplumun birbiriyle uyum içindeki her bir unsuru, toplumsal gelişme için temel oluşturur ve bu uyumun bozulması da gelişmeyi engelleyici bir neden olarak karşımıza çıkar.

**Bu parçada vurgulanan düşünce aşağıdakilerden hangisidir?**

- A) Toplumun ileri yönlü değişimi için rekabet ortadan kaldırılmalıdır.  
B) Bireyin, olanaklarını geliştirmesi, bir gruba aidiyetini zorunlu kılar.  
C) Toplumsal yapıdaki ahenk, gelişme ve bütünleşmenin anahtarıdır.  
D) Toplumsal yapıdaki çözülme, değişimin gerçekleşmesini zorlaştırır.  
E) Toplumun organizma ile benzerliği, bir gün yok olacağının da habercisidir.

32. Önermeler yapılarına göre basit ve bileşik olarak ayrılır. Basit önermeler tek bir yargı bildiren, bileşik önermeler ise birden fazla yargı bildiren önermelerdir. Bazı önermeler de tek bir yargı bildirdikleri için basit önerme olmakla birlikte özne ve yüklemeleri birden çok kavramla ifade edildikleri için karmaşık önerme olarak adlandırılır.

**Buna göre aşağıdaki önermelerden hangisi karmaşık önerme örneğidir?**

- A) Sadece Hazal ders çalışıyor.  
B) Çocukların temel besini olan süt yararlıdır.  
C) Sayı ya tek ya da çifttir.  
D) Çalışan hem mutlu hem de başarılı olur.  
E) Bazı günler yağışlı geçiyor.

33. Bu kavram, niceleme mantığında “X bir asal sayıdır.” dediğimizde, belirsiz olan özneyi belirtmek için kullandığımız x sembolü yerine konulan evrene (E) ait değerlerden birinin ya da birden fazlasının özelleme önermesini doğrulaması durumudur.

**Buna göre parçada niceleme mantığındaki;**

- I. Değişken  
II. Gerçekleme  
III. Açılım

**kavramlarından hangilerine değinilmiştir?**

- A) Yalnız I  
B) Yalnız II  
C) Yalnız III  
D) I ve II  
E) II ve III

34. Bir şey neden tanımlanır? Tanımlamanın altında yatan nedenlerden en önemlisi sözcüğün anlamını ortaya koymak, onu anlamak ve gerekirse düzeltmektir. Bir sözcüğün anlamı biliniyorsa anlama eylemi gerçekleşmiştir denilebilir. Fakat bir sözcük ya da önermenin sınırları belli değilse onu anlamak zorlaşacak ve ona herhangi bir doğruluk değeri vermek mümkün olmayacaktır.

**Bu parçadan aşağıdaki yargıların hangisine ulaşılabılır?**

- A) Belirsizlik ve anlamın ters orantılı olduğuna  
B) Anlamanın tanımlamadan önce geldiğine  
C) Her sözcüğün tanımlanamayacağına  
D) Tanımlamanın genel geçer kriterlerinin olduğuna  
E) Tanım yapmanın bir yöntem sorunu olmadığına

**35 - 40. soruları Din Kültürü ve Ahlak Bilgisi dersini yasal olarak almak zorunda olanlar ve İmam Hatip Okulları öğrencileri/mezunları cevaplayacaktır.**

35. Hüseyin Öğretmen, “Hüküm koymak anlamına gelir ve bu yetki Allah’a (c.c.) ve Hz. Peygamber’e aittir. Onun (s.a.v.) hüküm koyması ilahi gözetim altında olduğu için Müslümanlar için bağlayıcıdır. Konulan hükümler Kur’an’da belirtilen hususları açıklayıcı ve destekleyici niteliktedir. Örneğin, namaz konusu Kur’an’da belirtilmiştir. Hz. Peygamber de nasıl kılınacağını açıklamış ve bununla ilgili hükümler koymuştur.”

**Hüseyin Öğretmenin Hz. Muhammed’in (s.a.v.) hangi görevine açıklık getirdiğini söyleyebiliriz?**

- A) Tebyin                      B) Tebliğ                      C) Temsil  
D) Tevhit                      E) Teşri

36. • 862 yılında Semerkant’ta doğmuştur.  
• Hanefi mezhebinin yaygın olduğu yerlerde itikadi olarak kabul görmüş mezhebin kurucusudur.  
• Ebu Hanife’nin inanç alanındaki görüşleri çerçevesinde ehl-i sünnet itikadını sistemleştirmiştir.  
• Ehl-i sünnet inancının kurucusu olarak kabul edilmektedir.

**Yukarıda verilen özellikler hangi din âlimine aittir?**

- A) İmam Şafii  
B) İmam Maturidi  
C) İmam Eşarî  
D) İmam Muhammed  
E) İmam Ebu Yusuf

37. · 1340 yılında Ankara'da doğmuştur.
- Dinî ve fennî ilimler almış, Ankara'da Kara Medrese'de müderrislik yapmıştır.
  - Somuncu Baba'dan tasavvuf eğitimi almış, tasavvuf ile diğer ilimleri birleştirerek yeni bir bakış açısı oluşturmuştur.
  - Akşemseddin, Eşrefoğlu Rumi gibi önemli isimler yetiştirmiştir.
  - Anadolu'da siyasi birliğin sağlanmasında önemli katkıları olmuştur.

**Metinde özellikleri verilen mutasavvıf kimdir?**

- A) Hacı Bektaş-ı Veli
- B) Ahmet Yesevi
- C) Yunus Emre
- D) Hacı Bayram-ı Veli
- E) Sarı Saltuk

38. Haram, Allah (c.c.) tarafından kesinlikle yasaklanan davranışlardır. Mekruh ise haram kadar kesin olmayan; ancak dinimizde hoş görülmeyen işlerdir.

**Aşağıdaki davranışlar haram ve mekruh olarak ayrıldığına hangisi dışarıda kalır?**

- A) Namazın sünnetlerini terk etmek
- B) Cuma namazını kılmamak
- C) Dedikodu Yapmak
- D) Yalan söylemek
- E) Hırsızlık yapmak

39. I. “Şüphesiz Allah, adaleti, ihsanı, yakınlarla yardım etmeyi emreder; hayâsızlığı, fenalık ve azgınlığı da yasaklar. O, düşünüp tutasınız diye size öğüt veriyor.” (Nahl suresi, 90. ayet.)
- II. “...Allah'ın sana ihsan ettiği gibi sen de insanlara ihsan et, iyilikte bulun...” (Kasas suresi, 77. ayet.)
- III. “Mallarını Allah (c.c.) yolunda sarf edenlerin durumu, her başağında yüz tane olmak üzere yedi başak veren tanenin durumu gibidir. Allah dilediğine kat kat verir. Allah'ın lütfu (ihsanı) geniştir...” (Bakara suresi, 261. ayet.)
- IV. “İhsanın karşılığı ancak yine ihsandır.” (Rahmân suresi, 60. ayet.)

**Bu ayetlerle ilgili aşağıdaki değerlendirmelerden hangisi yanlıştır?**

- A) Birinci ayette ihsan, iyi ve güzel davranışları ifade etmek için kullanılmıştır.
- B) İkinci ayete göre ihsan kavramı, hem Allah (c.c.) için hem de insanlar için kullanılır.
- C) Üçüncü ayette ihsan Allah'ın (c.c.) bahsettiği nimetler için kullanılmıştır.
- D) Dördüncü ayetten iyilik edenlerin iyilik bulacağı anlaşılmaktadır.
- E) Bu ayetlerde ihsan Allah'ı (c.c.) görüyor gibi yaşamak anlamında kullanılmıştır.

40. **Alevilik ile ilgili aşağıdakilerden hangisi söylenemez?**

- A) Tüm İslam dünyasında yaygın olan bir oluşumdur.
- B) Kelime olarak, “Ali'ye mensup, Ali taraftarı” gibi anlamlara gelir.
- C) Önemli bir kısmı Bektaşî geleneğine bağlıdır.
- D) ‘Dört Kapı - Kırk Makam’ ilkeleri benimsenmiştir.
- E) Hz. Ali ve Ehlibeyt sevgisi en önemli unsurlarındandır.

**41 - 46. soruları Din Kültürü ve Ahlak Bilgisi dersini yasal olarak almak zorunda olmayan veya farklı müfredat ile alanlar cevaplayacaktır.**

41. Augustinus, *İtiraflar* adlı eserinde “Damak zevki bozulmamış birine lezzetli gelen ekmeğe, damak zevki bozulmuş birine lezzetli gelmeyebilir; gözleri sağlıklı birine ışık hoş gelirken hastalıklı gözlere acı verebilir. Aynı şekilde senin hakkaniyetin dürüst olmayan kişilere hoş gelmez; iyi olarak yaratmış olduğun ve aşağı seviyedeki yaratıkların bir bölümü ile uyum içinde bulunan bir engerek ve bir küçük yer solucanı da hoş gelmez. Kötüler bu aşağı bölgelere daha çok uyum sağlayarak sana olan benzerliklerini yitirirler; tersine sana daha çok benzemeye çalışanlar ise, üstün yaratıklarınla daha çok uyum içine girerler. Kötünün ne olduğunu aradım ve onun bir töz olmadığını keşfettim, kötülük yüce tözden, yani Tanrı'nın senden yüz çeviren, bu içten zenginlikleri reddeden, daha aşağı seviyedeki şeylere dönerek dışarıda gururla şişinen bir irâdenin ahlâk bozukluğudur.” demiştir.

**Buna göre Augustinus'un aşağıdaki yargılardan hangisine karşı çıkması beklenir?**

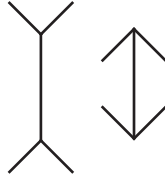
- A) Kötülük a priori bir ilke olarak insan zihninde bulunur.  
 B) İnsan iyiye de kötüye de iradi seçimleri sonucunda ulaşır.  
 C) Kötülük, irade zayıflığının ürünüdür.  
 D) Aynı koşullar, farklı şekilde algılanıp değerlendirilebilir.  
 E) İyilik insana Tanrı tarafından verilmiş bir tözdür.

42. T. Kuhn'un *Bilimsel Devrimlerin Yapısı* adlı eserinde “Bilimsel olsun ya da olmasın, insan belli bir topluluğu nasıl seçer ve kendisi o topluluğa bir üye olarak nasıl seçilir? Bu çevrede sosyalleştirilme süreci ve bu sürecin aşamaları nelerdir? Çevrenin ortak amacı olarak belirlendiği hedefler hangileridir? Bireysel veya toplu ne tür aykırı davranışlara hoşgörü gösterir? İzin verilemeyecek sapmaları nasıl denetler? Bilim üzerine çok daha kapsamlı bir anlayışın gelişebilmesi, başka tür sorunların yanıtlanmasına da bağlıdır elbette, fakat bu kadar acil araştırmaya gerek duyulan başka bir alan daha göremiyorum. Bilimsel bilgi de tıpkı dil gibi, özünde ya bir topluluğun ortak malıdır, yahut da bir “Hiç”tir.” demiştir.

**Bu parçadan hareketle T. Kuhn aşağıdakilerden hangisine eleştiri yapmaktadır?**

- A) Bilimsel bir verinin ortaya çıktığı çevrenin tanınması gerektiğine  
 B) Bilimin toplumsal bir etkinlik olduğuna  
 C) Bilimin çok yönlü bir biçimde incelenmesi gerektiğine  
 D) Bilimin tarihsel süreçten bağımsız ele alınmasına  
 E) Bilimin toplumsal kontrolde etkin olması gerektiğine

43.

Ponzo  
YanılsamasıMüller-Lyer  
Yanılsaması

Tek bir düz çizgi bulunmayan bir ortamda yetiştiginizi hayal edin: Ne dört köşe evler, dümdüz giden yollar, upuzun direkler ne de o bildik dikdörtgen masalar var. Evleriniz de tarlalarınız da yusuvarlak olsun. Yollarınız kıvrıla kıvrıla gitsin. Asla düz bir kara ya da tren yolu görmemiş olsaydınız size yukarıdaki şekilleri gösterecekler Ponzo yanılsaması veya Müller-Lyer yanılsaması yaşar mıydınız?

**A. Furnham'ın Gerçekten Bilmeniz Gereken 50 Psikoloji Fikri** adlı eserinden alınan bu parçada algıyı etkileyen hangi etmen sorgulanmaktadır?

- A) İlgı ve ihtiyaçlar
- B) Toplumsal etmenler
- C) Öğrenme ve deneyimler
- D) Uyarıcıların benzerliği
- E) Uyarıcıların konumu

44. Thales'in, MÖ 585 yılındaki güneş tutulmasının zamanını doğru olarak bildirmesinden bu yana, bu öngörüler insanları şaşırtmış ve meraklandırmıştır. Bilim insanları olaylar arasındaki nedensellik bağına çözümlen ve açıklamalarını sağlam bir zemine oturtmanın peşindedir. Oysa sosyolojik olaylarla ilgili kesin tahminde bulunmak her zaman mümkün değildir. Tüm nedenler ortada olsa dahi, olayların her zaman aynı şekilde sonuç vermesi beklenemez.

**Parçada aşağıda verilenlerden hangisi vurgulanmaktadır?**

- A) Bilimler kesin sonuçlara ulaşmanın peşindedir.
- B) Bilimsel öngörüler sağlam delillere dayanmaktadır.
- C) Sosyoloji biliminin sonuçları kesin değildir.
- D) Bilim insanları neden-sonuç bağına peşindedir.
- E) Sosyolojik öngörülerde bulunmak oldukça zordur.

45. Nüfusu inceleyen bilime "demografi" denir. Toplumun omurgasını oluşturan nüfus aynı zamanda toplumsal yapının dinamik yönüdür. Toplumsal yapıyı doğru biçimde analiz edebilmek için kurumsal yapının yanında, demografik yapıyı da bilmek gerekir. Nüfusun sayısı, eğitim düzeyi, doğum ve ölümlerin oranları, aktif nüfus, göç hareketleri gibi bilgiler, toplumsal yapıyı tanımak için gereklidir. Toplumsal yapıda meydana gelecek değişimleri tahmin etmeyi sağlayan bu veriler, toplum düzeni ve kalkınma açısından da oldukça önemlidir.

**Parçada vurgulanmak istenen asıl yargı aşağıdakilerden hangisidir?**

- A) Toplumun doğru analizi için demografik yapıyı da bilmek gerekir.
- B) Demografi sayesinde toplumsal yapıdaki değişimler tahmin edilebilir.
- C) Toplumsal yapıyı tanımak için nüfus biliminin verileri yeterlidir.
- D) Toplum düzeni ve kalkınma değişimlerle ilgili tahminlere dayanır.
- E) Nüfus toplumun omurgasını oluşturan en önemli unsurdur.

46. Kavram, zihnimizdeki tümel tasarımlardır. Terim ise zihnimizdeki tasarımın yani kavramın dilsel işaretidir. Zihnimizdeki bir ide, bir fikir, bir tasarım olarak kavram, öbür yandan imgeden de ayrılır. İmge, uzam ve zaman içinde algıladığımız herhangi tekil bir nesnenin bizdeki tekil izlenimidir (şu anda algıladığım "bu masa"); oysa kavram tekil bir duyuşal izlenim değil, genel bir tasarımdır.

**Bu parçaya göre aşağıdaki yargılardan hangisi yanlıştır?**

- A) Kavram bir şeyin tekil izlenimini değil tasarımını gösterir.
- B) Terim ideyi işaret eden bir söyledir.
- C) Kavram zihinsel bir etkinlikte meydana getirilen tümel tasarımlardır.
- D) İmge tekil ve duyuşal bir izlenimdir.
- E) Nesnenin anlamına ilişkin genellemeler birer imgedir.





# Kendini Deęerlendir



1

*Kare kodu okut.*

2

*Sınavını seę*

3

*Cevaplarını sisteme gir.*

4

*Eksik olduęun konuları analiz et.*

5

*Bu sınava katılanlar arasındaki sıralamanı gör.*



T.C. MİLLÎ EĞİTİM  
BAKANLIĞI

3 ADIM

DENEME SINAVLARI

3. ADIM

AYT  
sözel



4. DENEME

ADI VE SOYADI

OKUL ADI

ADAYIN İMZASI

**ADAYIN DİKKATİNE!**

1. Bu sınavda AYT soru dağılımları dikkate alınmıştır.
2. Deneme tam kapsam olup YKS konularının tamamını kapsamaktadır.
3. Bu sınav Türk Dili ve Edebiyatı - Sosyal Bilimler 1 Testi (TDE 24 soru, Tarih 10 soru, Coğrafya 6 soru) 40 soru, Sosyal Bilimler 2 Testi (Tarih 11 soru, Coğrafya 11 soru, Felsefe Grubu 12 soru, DKAB 6 soru) 40 soru olmak üzere toplamda 80 soru içermektedir.

Bu testlerin her hakkı saklıdır. Hangi amaçla olursa olsun, testlerin tamamının veya bir kısmının Millî Eğitim Bakanlığının yazılı izni olmadan kopya edilmesi, fotoğrafının çekilmesi, herhangi bir yolla çoğaltılması, yayımlanması ya da kullanılması yasaktır. Bu yasağa uymayanlar gerekli cezai sorumluluğu ve testlerin hazırlanmasındaki mali külfeti peşinen kabullenmiş sayılır.

### **DİKKAT!**

Din Kültürü ve Ahlak Bilgisi dersini yasal olarak almak zorunda olan adaylar ve İmam Hatip Okulları öğrencileri/mezunları, Sosyal Bilimler-2 Testi'nin ilk 40 sorusunu cevaplamakla yükümlüdür. Bu adaylar, bu testin 41-46. sorularını cevaplamayacaklardır. Bu adaylar, bu testin 41-46. sorularında işaretleme yapmış olsalar bile bu cevapları değerlendirmeye alınmayacaktır.

Din Kültürü ve Ahlak Bilgisi dersini yasal olarak almak zorunda olmayan veya farklı müfredat ile alan adaylar, Sosyal Bilimler-2 Testi'nin 35-40. sorularını cevaplamadan 41-46. sorularını cevaplayacaklardır. Bu adaylar, bu testin 35-40. sorularında işaretleme yapmış olsalar bile bu cevapları değerlendirmeye alınmayacaktır.

### **AÇIKLAMA**

1. Bu kitapçıkta **86 soru** bulunmaktadır.  
Türk Dili ve Edebiyatı-Sosyal Bilimler-1 Testi: 40 soru  
Sosyal Bilimler-2 Testi: 46 soru
2. **Bu sınavda her testteki doğru cevaplarınızın sayısından yanlış cevaplarınızın sayısının dörtte biri çıkarılacak ve kalan sayı o bölüme ilgili ham puanınız olacaktır.**
3. Kitapçığın sayfalarındaki boş yerleri müsvedde için kullanabilirsiniz.
4. Cevaplamaya istediğiniz sorudan başlayabilirsiniz. Bir soru ile ilgili cevabınızı cevap kâğıdında o soru için ayrılmış olan yere işaretlemeyi unutmayınız.
5. Bu kitapçıkta yer alan her sorunun sadece bir doğru cevabı vardır. Cevap kâğıdında bir soru için birden çok cevap yeri işaretlenmişse o soru yanlış cevaplanmış sayılacaktır. İşaretlediğiniz bir cevabı değiştirmek istediğinizde silme işlemini çok iyi yapmanız gerektiğini unutmayınız.

1. Bu testte sırasıyla, Türk Dili ve Edebiyatı (1-24), Tarih-1 (25-34), Coğrafya-1 (35-40) alanlarına ait toplam 40 soru vardır.
2. Cevaplarınızı cevap kâğıdının Türk Dili ve Edebiyatı-Sosyal Bilimler-1 Testi için ayrılan kısmına işaretleyiniz.

1. Şiirin ---- veya şiir olma kabiliyetini saf şiirin ---- değerlendirmek çıkış noktası olarak yanlıştır. İyi kullanılan bir hikâye, şiirin çoğu zaman lehine olacak; anlam ve duygu motiflerinin bütünlüklü bir örgüye ---- etkili olacaktır.

**Bu parçada boş bırakılan yerlere aşağıdakilerden hangisi sırasıyla getirilmelidir?**

- A) yerini - öncelikleriyle - ilerlemesinde  
B) değerini - özellikleriyle - kavuşmasında  
C) özünü - olanaklarıyla - bürünmesinde  
D) poetikasını - bakış açısıyla - dönüşmesinde  
E) niteliklerini - ilkeleriyle - odaklanmasında

2. Türkçedeki herhangi bir fiilin çekiminin ve sözcüklerin nasıl çoğul yapılacağı öğrenilmiş olması; henüz varlığı bile bilinmeyen, 5 yıl sonra Türkçeye girecek fiillerin nasıl çekileceğinin ve 300 yıl önce unutulmuş sözcüklerin çoğullarının ne olduğunun biliniyor olması demektir.

**Bu cümlede Türkçeye ilgili anlatılmak istenen aşağıdakilerden hangisidir?**

- A) Varlığının eskiye dayandığı  
B) Fiil bakımından zengin olduğu  
C) Varlığını geleceğe taşıyacağı  
D) Köklü kurallara dayandığı  
E) Öğrenilmesi kolay bir dil olduğu

3. 19. yüzyıl edebiyat eleştirmenlerinden John Ruskin özellikle genç şairlerin sık sık düştükleri bir hatayı anlatmak için "patetik yanılı" kavramını kullanır. Ruskin bu kavramı, insanın doğa karşısında hissettiklerinin, sanki doğanın kendi niteliğiymiş gibi anlatıldığı bir düşünme biçimi olarak tarif eder. Daha önemlisi ise zihnin kamaşması ile oluşan bu yanılı sonucunda, insan ile doğa arasındaki ilişki bulanıklaşır, iç dünya ile dış dünya arasındaki sınırlar belirsizleşir, şair kendi dışındaki nesnel dünyayı iç dünyasının öznel rengine boyayarak gerçeği çarpıtır. Ruskin'e göre "ağlayan çayır", "yaslı denizler" ya da "suskun dağlar" gibi ifadeler birer patetik yanılı örneğidir. Ölümünden kısa bir süre önce günlüğünde Ruskin'in patetik yanılı kavramına değinen Oğuz Atay ise tam tersi bir anlamda kullandığı "apatetik yanılı" kavramını ortaya atar.

**Bu parçadan yola çıkarak "apatetik yanılı"nın tanımını aşağıdakilerden hangisi olabilir?**

- A) Doğal varlıkların gerçekçi bir bakış açısıyla, başka varlıkların özellikleriyle değil bütünüyle kendisine ait özelliklerle yansıtıldığı yanılı şeklidir.  
B) Bir yazarın canlı ve cansız varlıklar arasındaki ayrımları ortadan kaldırarak gerçekle gerçek dışının sınırlarını belirsizleştirmesine denir.  
C) Canlı varlıkların cansız nesnelere gibi anlatıldığı, duygu yüklü olması kaçınılmaz olan sözcüklerin içinin boşaltılarak duygusuzlaştırıldığı bir yanılı türüdür.  
D) İnsanın duygularını cansız varlıklara yöneltip cansız olanın canlıymış gibi ele aldığı, doğanın insanlaştırıldığı bir düşünme biçimidir.  
E) Bir varlığa kendisine ait olmayan özellikler atfederek onu gerçek niteliklerinden uzaklaştırıp bambaşka bir şekilde yansıtma tarzıdır.

4. Yapılan araştırma sonucu; ülkemizde kara yolu trafiği kapsamında araç kullanan ve trafiğe çıkan sürücülerin genelde hız limitlerine uymaya çalıştıkları, sollama kurallarına uydukları, trafik kurallarının önemini bildikleri ve özverili araç kullandıkları güçlü yanlar olarak belirlenmiştir. Sürücülerin yasal mevzuatın açıklarından yararlanmaya çalışmaları, denetim ve kontrolün bulunmadığı veya yetersiz olduğu zamanlarda kural ihlaline yönelmeleri, karmaşık ya da sıkışık, trafik güçlüğü yaşanan zor ve güvensiz trafik ortamlarında paniklemeleri, uzun süreli, yorgun hâlde araç kullanmaları zayıf yanlar olarak belirlenmiştir. Sürücüler; seyrüsefer hâlinde bulunan bir araç sürücüsünün işine karışılmasını, dışarıdan yapılan telkin ya da ikazlar veya müdahaleleri öncelikli tehdit olarak algılamaktadırlar. Ayrıca trafik ortamını sarmalayan ve sergilenen görsel ağırlıklı reklam panoları başta olmak üzere dikkat çekici her türlü materyali ve yol çıkış bakım ve kontrolünün yapılmamasını, aceleci tavır ve davranışları tehdit olarak görmektedirler.

**Bu parçada söz edilen araştırma sonucunda aşağıdakilerin hangisine ulaşamaz?**

- A) Görsel ağırlıklı panolar, sürücü için tehdit oluşturmaktadır.
- B) Hız limitine uyan, trafik kurallarını bilen sürücüler fazladır.
- C) Trafik denetimlerinin düzenli yapılması kural ihallerini engeller.
- D) Yorgun sürücülerin, araç kullanırken panikleme oranı yüksektir.
- E) Sürücüler, araba kullanırken onların yanlarındaki kişilerin yaklaşımı önemlidir.

5. Çağımızın ünlü bilim felsefesi filozofu T. Kuhn'a göre bilim ilerleme şeklinde değil karşılaşılan bir problemi çözememesi dolayısıyla ortaya çıkan kriz sonunda mevcut paradigmanın devrimsel tarzda terk edilerek yeni bir paradigmanın benimsenmesi şeklinde olur. En temel bilimsel değişme, bilimsel devrimler yoluyla gerçekleşir. Bilim tarihi buna tanıklık etmektedir. Paradigma dönüşümü, doktora araştırması veya benzer tarzda yapılan derin çalışmalarla gerçekleşir. Bilimsel bir krizi doğuran probleme iyice gömülmüş bir araştırmacının bir şekilde (içe doğuş, rastlantı, rüya vb.) yakaladığı bir ipucu ile yeni paradigma uç verir ve tamamlanır. Burada şuna işaret etmek gerekir, her araştırma yapanın çözümü bulması şeklinde bir garantiden söz edilemez ancak bulanlar arayanlardır.

**Bu parçadan aşağıdakilerin hangisine ulaşılabilir?**

- A) İlimin macerası bilinmeyen arayanların bakış açısına bağlıdır.
- B) Soru sormaya, sorgulamaya açılan her kapı bilime katkı sağlar.
- C) İlim, her türlü birikimden yararlanarak geleceğe bakabilmektir.
- D) Sadece hayallerine yaslanan bilim insanı gelişmeye açık değildir.
- E) Bilimsel araştırmada objektiflik, bilim tarihinin güvencesidir.

6. Günümüzde dijital çağın getirdikleri ve bunların teknolojik varyasyonlarının birçok manuel mekanizmanın yerini almakta olduğu bilinmektedir. Klasik kuyruklu piyanonun yerine birebir aynı sesleri (ve çok daha fazlasını) çıkartabilen dijital-teknolojik versiyon klavyeler! Aynı sesleri çıkartsa bile neden hâlâ eski usul vermeli mekanik aksamıyla kuyruklu piyanoyu kullanıyor insanlık? Basit bir karşılaştırma ile dijital klavye ile istenilen her ses yüksekliğine, tonajına, türüne, ses aralığına ve hatta başka enstrümanların seslerine erişmek mümkün olmaktadır. Ancak kuyruklu piyanoda yalnızca tek bir ses çeşidi mevcuttur ya da klavyeyi elinize alıp her yere kolayca götürebilirsiniz. Oysa piyanoyu bir yerden başka bir yere taşımak için özel bir ekip ya da vinç kullanmak bile gerekebilmektedir. Bir klavyeyi tamir ettirmek ucuz ve kolay süreçler içermekte olsa da bir piyanonun bakım veya tamir masrafları oldukça yüksektir.

**Bu parçada kuyruklu piyano ile klavye arasındaki farklılıklarla ilgili aşağıdakilerden hangisine değinilmemiştir?**

- A) Ağırlığı  
B) Ses çeşidi  
C) Fiyatı  
D) Tamiri  
E) Yapım özelliği

7. **Aşağıdaki dizelerden hangisinin teması diğerlerinden farklıdır?**

- A) Gün gibi tenhâda çıksan tîg ile meydâna sen  
Kârger düşmez sipâh-ı düşmanın şûr u şeri  
B) Ne tende cân ile sensiz ümîd-i sıhhât olur  
Ne cân bedende gâm-ı firkatûnle rahat olur  
C) Kamû bîmârnâ cânan devâ-yî derd eder ihsan  
Niçin kılmaz manâ derman menî bîmâr sanmaz mı  
D) Gamzen dili rûsvâ-yı cihân eyledi  
Billâh ben ol âfeti hem-râz sanırdım  
E) Aşka saldı ben beni pend almayıp bir dosttan  
Hiç düşmen eylemez anı kim ettim ben bana

8. Sefil baykuş ne gezersin bu yerde  
Yok mudur vatanın, illerin hani  
Küsmüş müsün selâmımı almazsın  
Şeydâ bülbül şirin dillerin hani

Ecel tuzağını açamaz mısın  
Açıp da içinden kaçamaz mısın  
Azad eyleseler uçamaz mısın  
Kırık mı kanadın kolların hani

**Bu dizelerle ilgili aşağıdakilerden hangisi söylenemez?**

- A) Tam uyağa yer verildiği  
B) Duraksız 11'li hece ölçüsüyle söylendiği  
C) Teşhis sanatına başvurulduğu  
D) Halk edebiyatı nazım birimi kullanıldığı  
E) Ek ve kelime hâlinde redife yer verildiği

9. Veysel ördek olsun sen de göl yârim  
Yeter artık kerem eyle gel yârim  
Lale sümbül mor menekşe gül yârim  
Sen bir çiçek olsan ben bir yaz olsam

**Bu dörtlükte;**

- I. tenasüp,  
II. teşbih,  
III. telmih

**sanatlarından hangileri vardır?**

- A) Yalnız I  
B) Yalnız II  
C) I ve II  
D) II ve III  
E) I, II ve III

10. Aşağıdakilerden hangisinin bir masalın döşeme bölümünden alındığı söylenemez?

- A) Evvel zaman içinde, kalbur saman içinde
- B) Develer tellal iken pireler berber iken
- C) Az gittim uz gittim, dere tepe düz gittim
- D) Gökten üç elma düştü: Biri anlatana, biri dinleyene, biri de iyi insanlara
- E) Ben anamın beşiğini tıngır mıngır salları iken

11. • Türk edebiyatında aruzla yazılmış ilk eserdir.  
• Döneminin Türk dünyasını gösteren bir haritaya sahiptir.  
• Basat, Salur Kazan, Uruz Han, Yigenek Bey eserin kahramanlarındandır.  
• İlk Türk mutasavvıfı tarafından söylenmiş şiirleri içerir.

Bu cümlelerde aşağıdakilerden hangisi ile ilgili bilgi verilmemiştir?

- A) *Atabetü'l Hakâyık*
- B) *Kutadgu Bilig*
- C) *Divân-ı Hikmet*
- D) *Dede Korkut Hikâyeleri*
- E) *Divânu Lugâti't-Türk*

12. • Özel bir besteyle söylenir.  
• 8'li hece ölçüsüyle kurulur.  
• En az 3, en fazla 5 dörtlükten oluşur.  
• Sevgi, tabiat, güzellik gibi lirik konular işlenir.

Bu özellikleri verilen nazım şekli aşağıdakilerden hangisidir?

- A) Koşma
- B) Türkü
- C) Semai
- D) Mânî
- E) Ninni

13. Aşağıdaki şair - eser eşleştirmelerinin hangisinde yanlışlık yapılmıştır?

- A) Hacı Bektâş-ı Veli - *Makâlât*
- B) Gülşehrî - *Mantık'ı Tayr*
- C) Kayıkçı Kul Mustafa - *Genç Osman Destanı*
- D) Kaygusuz Abdal - *Dolapnâme*
- E) Hacı Bayram Veli - *Gülistân*

14.

Sanatçı	Yüzyıl	Eser
I	XIV. yüzyıl	<i>Vesiletü'n-Necat</i>
Şeyhî	II	<i>Hüsrev ü Şirin</i>
Fuzulî	XVI. yüzyıl	III

Bu tabloda numaralanmış yerlere aşağıdakilerden hangisi getirilmelidir?

- | I                  | II         | III                     |
|--------------------|------------|-------------------------|
| A) Hoca Dehhani    | 14. yüzyıl | <i>Hadikatü's-Süeda</i> |
| B) Süleyman Çelebi | 15. yüzyıl | <i>Heft Câm</i>         |
| C) Ahmedî          | 15. yüzyıl | <i>Gencîne-i Râz</i>    |
| D) Kâtip Çelebi    | 16. yüzyıl | <i>Beng ü Bâde</i>      |
| E) Bâkî            | 15. yüzyıl | <i>Enis'ül Kalb</i>     |

15. Kasideler nesib bölümünde anlatılan konuya göre isim alır. Buna göre

“Zemistan geldi hükm-i zemherîr erdi cihân üzre  
Felek ak câmeler kesti sevâd-ı bûsîtân üzre”

beyti hangi tür kasideden alınmış olabilir?

- A) Bahariyye
- B) Nevruziyye
- C) Şitâiyye
- D) Hazaniyye
- E) Temmuziyye



16. ----, Tanzimat'tan sonraki eleştiri anlayışına yeni bir yön vermeye ve yeni edebiyatın Batı'daki gerçekçi edebiyat (realizm ve natüralizm) karşısındaki durumunu belirlemeye çalışmıştır. Pozitivist bir dünya görüşüne sahip olan yazar, Türk edebiyatında ilk defa realizm ve natüralizmden bahsetmiş ve bu akımlarla ilgili bilgiler aktarmıştır. Emile Zola, Alphonse Daudet, Gustave Flaubert, Auguste Comte, Diderot gibi Batılı yazar ve filozoflardan ilk defa söz etmiştir. Sadece hayalle beslenen, gerçek hayattan kopuk eski ve yeni edebiyat anlayışlarının geçerliliğini yitirdiğini, sanat ve edebiyatın deneysel bilimlere ters düşmemesi gerektiğini düşünmüştür. Sanatkarın bilim adamı gibi gerçeğe objektif bir gözle bakmasını istemiş ve edebiyatın da topluma belli ölçülerde hizmet etmesi gerektiğini belirtmiştir.

**Bu parçada boş bırakılan yere aşağıdaki sanatçılardan hangisi getirilmelidir?**

- A) Mizancı Murat
- B) Beşir Fuat
- C) Nâbizâde Nâzım
- D) Nâmık Kemal
- E) Abdülhak Hâmit

17. • Memleket edebiyatı anlayışının önde gelen isimlerindedir.
- İlk şiirlerinde aruz ölçüsünü kullanmış sonraki şiirlerinde heceye yönelmiştir.
  - "Çamdeviren" ve "Deli Ozan" takma adlarıyla mi-zahi şiirler yazmıştır.

**Aşağıdakilerden hangisi, bazı özellikleri verilen şaire ait eserlerden biridir?**

- A) *Bingöl Çobanları*
- B) *Kökler ve Dallar*
- C) *Han Duvarları*
- D) *Bu Vatan Kimin*
- E) *Cenk Duyguları*

18. Şiirimizde büyük bir kırılma yaratan, kendinden önceki estetiği "kurarak yıkan", sokaktaki "tutunamayanların" derdini yine onların ağzıyla şiirleştiren bu kişiler sadece kendi dönemlerini etkilemekle kalmadılar, ellerini günümüze dek uzattılar.

**Aşağıdakilerden hangisi bu parçada anlatılan şiir anlayışına sahip şairlerden biridir?**

- A) Attilâ İlhan
- B) Melih Cevdet Anday
- C) Ece Ayhan
- D) İlhan Berk
- E) Nâzım Hikmet

19. **Aşağıdaki eserlerden hangisi tür yönünden diğerlerinden ayrılır?**

- A) *Yaz Yağmuru*
- B) *Erenlerin Bağından*
- C) *Harap Mabetler*
- D) *Bahar ve Kelebekler*
- E) *Mendil Altında*

20. ----, Yakup Kadri Karaosmanoğlu tarafından kaleme alınmış olan ve sosyal siyasal konuları işleyen bir eserdir. Yakup Kadri'nin bir aydınının şahsında Paris'teki Türklerle ilgili bilgiler vermesi açısından önemli bir romandır. Sosyal siyasal roman türünde ---- adlı eser de yazılmıştır. Refik Halit Karay tarafından yazılan eser, konusu bakımından sürülen bir subayın Suriye topraklarında yaşadığı ilginç olayları ve arkadaşlarıyla ailesinin yaşamını işler.

**Bu parçada boş bırakılan yerlere aşağıdakilerden hangisi sırasıyla getirilmelidir?**

- A) *Sodom ve Gomora - Bu Bizim Hayatımız*
- B) *Panorama - Karlı Dağdaki Ateş*
- C) *Bir Sürgün - Sürgün*
- D) *Hep O Şarkı - Yerini Seven Fidan*
- E) *Nur Baba - Yeraltında Dünya Var*

21. Bir edebiyatçı olarak içinden çıktığı toplumun sorunlarına ilgi duyan, yaşanan düzensizlik ve yoksulluklardan rahatsız olan biridir. Amacı onlara dair tanıklıklarını romanıyla yansıtmaktır. Öyle de yapar. Yazar, gelip yaşadığı kentle yüzleşirken taşrada (Adapazarı) yakından tanıdığı bir yörenin insan-yaşam gerçekliğine döner yüzünü. Duyduğu rahatsızlık toplumdaki değişimle gelen çarpıklık, yozlaşmadan kaynaklanır. Yazarı harekete geçiren de toplumun vicdani olma duygusudur diyebiliriz. Bunu kendisi şöyle dile getirir: “Ben bu romanı daha çok bu rezilliği sarsmak, okuyucuya uyarıda bulunmak, biraz abartılı da olsa insanımızın gerçek dramını gözler önüne sermek (...) için yazdım.” Roman büyük gürültü kopardı ve sonunda edebiyat kazandı, derken gerçekten de o koparılan gürültünün üzerinde en az bu roman kadar durmak gerektiğini düşündürüyordu bizlere.

**Bu parçada sözü edilen yazar ve romanı aşağıdakilerden hangisidir?**

- A) Ahmet Hamdi Tanpınar - *Huzur*
- B) Nezihe Meriç - *Alagün Çocukları*
- C) Faik Baysal - *Sarduvan*
- D) Samim Kocagöz - *Doludizgin*
- E) Yusuf Atılgan - *Aylak Adam*

22. (I) Trajedilerde değişmez kurallar vardır ve seçkin bir dil kullanılır. (II) Hayatın gülünç ve acıklı yönlerini üç birlik kuralına uyararak anlatan tiyatroya komediya denir. (III) Feeri bir masalın sahneye konmuş şeklidir. (IV) Sahnede cin, peri gibi doğaüstü varlıkları canlandıran tiyatro çeşidine melodram denir. (V) Operanın tiyatrodan ayrılan en önemli yanı bir müzik bölümünün olmasıdır.

**Bu parçada numaralanmış cümlelerin hangilerinde bilgi yanlışlığı yoktur?**

- A) I ve II
- B) I ve III
- C) II ve IV
- D) III ve V
- E) IV ve V

23. (I) Tezatlar şairi olarak tanınan sanatçının ilk şiir kitabı *Sahra*, Türk edebiyatında Batılı anlamda ilk pastoral şiir örneklerini içerir. (II) *Makber* adlı şiiri Türk edebiyatının ilk uyaksız şiiri olarak bilinir. (III) Döneminde “Şair-i Azam” olarak nitelendirilen sanatçı, aynı zamanda manzum tiyatronun ilk örneklerini vermiştir. (IV) *Eşber*, aruz ölçüsüyle *Nesteren*, hece ölçüsüyle yazılmış tiyatro eserlerindedir. (V) Dram türündeki eserlerinde Shakespeare ve Victor Hugo’dan etkilenmiştir.

**Bu paragrafta numaralanmış cümlelerin hangisinde bilgi yanlışlığı vardır?**

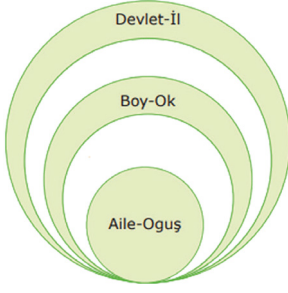
- A) I
- B) II
- C) III
- D) IV
- E) V

24. İnsanı aklı ve duygusu ile bir bütün olarak kabul eden bu akım, onun çeşitli melekeleriyle kavradığı gerçeğin bütünü edebiyatın özü yapmak istemiştir. Zira onlara göre değerlerin kaynağı ve ölçüsü insandır ve insan evrenin merkezidir. Sanatkâr, eserinde ifade edeceği gerçeği bütün benliğiyle kucaklamaya çalışır. Bir başka ifadeyle edebiyatın özü, dinamik bir oluş içindeki insanın duygu tecrübesidir. Söz konusu duygular, öncelikle bireyseldir ve sanatkâra aittir. Ancak bu bireysellik, onun evrensel olmasını engellemez. Böyle bir anlayış, sanat ve sanatkârın değerini o güne dek görülmemiş bir biçimde yüceltilmesini sağlamış; sanatkâr, sanatın merkezine yerleştirilmiştir.

**Bu parçada söz edilen edebî akım aşağıdakilerden hangisidir?**

- A) Sürrealizm
- B) Natüralizm
- C) Realizm
- D) Romantizm
- E) Klasisizm

25.



Eski Türklerde toplumsal yapı birbirine sıkı sıkı bağlı 5 katmandan meydana gelmekteydi.

Aşağıdan yukarıya doğru sıralanan toplumsal yapıda boş bırakılan 2. ve 4. katmana aşağıdakilerden hangisi gelmelidir?

- A) Urug - Budun
- B) Budun - Ülüş
- C) Toy - Urug
- D) Budun - Urug
- E) Urug - Soy

26. "Başka bir dinden çıkıp Müslüman olma" anlamına gelen kavram aşağıdakilerden hangisidir?

- A) İhtida
- B) Mevali
- C) Gayri Müslim
- D) İkta
- E) Ensar

27. Aşağıdakilerden hangisi Osmanlı Devleti'nde yaşamış olan ünlü hattatlardan biri değildir?

- A) Amasyalı Şeyh Hamdullah
- B) Ali Bin Yahya Sofi
- C) Karahisarlı Ahmet
- D) Hafız Osman
- E) Takıyyüddin Mehmet

28.

I.	Bennalar	Bina yapan kimse inşaatçı.
II.	Kahhâller	Göz hekimleri.
III.	Nalçacılar	Hayvanların ayağına nal çakan kimse.
IV.	Palanduzlar	Palan, bir çeşit semer diken kimseler.
V.	Debbâğlar	Deriyi terbiye eden tabaklayan kullanıma hazırlayan kişiler.

Yukarıda verilen Osmanlı Devletindeki meslek kollarından hangisinin karşısındaki açıklama yanlış olarak verilmiştir?

- A) I
- B) II
- C) III
- D) IV
- E) V

29. Aşağıdakilerden hangisi Fransız İhtilali sonrası ortaya çıkan kavramlar arasında gösterilemez?

- A) Liberalizm
- B) Kapitalizm
- C) Sosyalizm
- D) Milliyetçilik
- E) Monarşi

30. Aşağıdaki uygulamalardan hangisi Cumhuriyetin ilanı öncesinde gerçekleştirilmiştir?

- A) Ankara'nın başkent yapılması
- B) Tevhid-i Tedrisat Kanunu'nun çıkarılması
- C) Kabotaj Kanunu'nun kabul edilmesi
- D) Teşvik-i Sanayi Kanunu çıkarılması
- E) Türk Medeni Kanunu'nun kabul edilmesi

31. Mudanya Ateşkes Antlaşması'nda;

- Doğu Trakya 15 gün içerisinde Yunan kuvvetleri tarafından boşaltılacak,
- Boğazlar ve İstanbul TBMM'ye bırakılacak,
- Doğu Trakya'daki memuriyetler 30 gün içinde Türklere teslim edilecek

maddeleri yer almıştır.

**Buna göre;**

I. İstanbul'un TBMM'ye verilmesi Osmanlı Devleti'nin hukuken yok sayıldığının göstergesidir.

II. Yunanlılar yenilgiyi kabullenmiştir.

III. Doğu Trakya, savaşılmadan alınmıştır.

**gibi yargılardan hangilerine ulaşılabılır?**

- A) Yalnız I      B) Yalnız II      C) Yalnız III  
D) I ve II      E) I,II ve III

32. ABD, II. Dünya Savaşı'na katılarak aynı zamanda aşağıdaki politikalardan hangisinden uzaklaştığını da göstermiştir?

- A) Truman Doktrini  
B) Marshall Planı  
C) Monroe Doktrini  
D) Çevreleme Politikası  
E) Mekik Diplomasisi

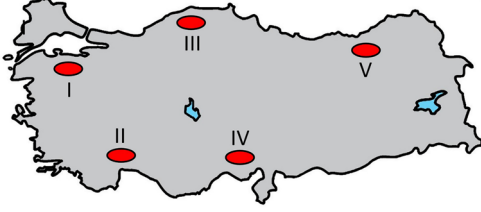
33. Aşağıdakilerden hangisi, II. Dünya Savaşı'nın ardından ABD-SSCB mücadelesinin yol açtığı gelişmelerden birisidir?

- A) Atlantik Bildirisi'nin yayınlanması  
B) Birleşmiş Milletler Teşkilatının kurulması  
C) 1929 Dünya Ekonomik Krizi'nin yaşanması  
D) Marshall Planı'nın uygulanması  
E) Briand-Kellog Paketi'nin imzalanması

34. Aşağıdakilerden hangisi Türkiye'nin Kore Savaşı'na katılmasında etkili olan faktörler arasında gösterilemez?

- A) Türkiye'nin Truman ve Marshall Yardımlarını yapan ABD'yle ilişkilerini sekteye uğratmak istememesi  
B) ABD'nin Senatör Cain aracılığı ile Türkiye'den savaşa katılması yönünde talepte bulunması  
C) Türkiye ile ABD arasındaki savunma ve güvenliğe yönelik iş birliğinin geliştirilmek istenmesi  
D) Demokrat Partinin uygulamak istediği aktif dış siyaset politikasını harekete geçirmek istemesi  
E) Batı ile ekonomik ve siyasi ilişkilerini geliştirmek isteyen Türkiye'nin Avrupa Konseyi'ne üye olmayı amaçlaması

35. Aşağıdaki haritada bazı alanlar numaralandırılarak gösterilmiştir.



Haritada numaralandırılan alanlardan hangisinde kıyı ile iç kesimler arasındaki ulaşımın geliştirilmesinde geçit ve tünellere daha az ihtiyaç duyulur?

- A) I B) II C) III D) IV E) V

36. Temiz ve sağlıklı bir çevrede yaşanabilmesi ve gelecek nesillere daha güzel bir dünya bırakabilmek için; artan çevre sorunları karşısında gerekli duyarlılığın gösterilmesi lazımdır. Giderek artan ve küresel boyutta etkilerinin görüldüğü bu sorunların önlenmesinde hükümetlerin yanında bireylere de önemli görevler düşüğü unutulmamalıdır.

**Bu sorunun önlenmesinde aşağıdakilerden hangisi daha çok bireylere düşen görevler arasında bulunmaktadır?**

- A) Atıkları kaynağında ayırmak  
B) Şehirlerde yeşil alanları artırmak  
C) Çevre dostu teknolojik araçlar üretmek  
D) Çevreyi kirlütenlere caydırıcı yaptırımlar uygulamak  
E) Sera gazı salınımlarına küresel anlamda kısıtlama getirmek

37. Batı Kültür Bölgesi, kapladığı alan bakımından dünyanın en büyük kültür bölgesini oluşturmaktadır. Coğrafi keşiflere kadar sadece Avrupa'yı kapsayan bu kültür; bu dönemden sonra dünyanın diğer kültür bölgelerini etkilemiştir. Çok sayıda dilin konuşulduğu Batı Kültür Bölgesi'nde en yaygın din ise Hristiyanlıktır.



**Haritada numaralandırılarak gösterilen yerlerden hangileri bu kültür bölgesinde yer almaktadır?**

- A) I ve II B) I ve V C) II ve III  
D) III ve IV E) IV ve V

38. Sıcaklık ve yağış, karalarda yaşayan canlıların dağılışını etkileyen önemli iklim elemanlarıdır. Genel olarak sıcak ve nemli iklim bölgelerindeki biyoçeşitlilik kurak ve soğuk iklim bölgelerine göre daha fazladır.

**Aşağıdakilerden hangisi bu duruma örnek gösterilemez?**

- A) Çalı biyomundaki bitki çeşitliliğinin tundra biyomundan fazla olması  
B) Ilıman çayırlar biyomundaki biyoçeşitliliğin kutup biyomundan fazla olması  
C) İğne yapraklı orman biyomundaki orman örtüsünün savan biyomundan fazla olması  
D) Çöl biyomundaki hayvan türlerinin tropikal yağmur ormanları biyomundan az olması  
E) Yaprak döken ormanlar biyomundaki bitki çeşidinin tundra biyomundan fazla olması

39. Coğrafya öğretmeni öğrencilerinden hava kirliliğini azaltacak önlemler hakkında araştırma yapmasını istemiştir. Öğrencilerden biri "Güneş fırını" ile fosil yakıt kullanımını azaltarak atmosfere daha az karbon salınabileceği bilgisine ulaşmıştır. Güneş fırını yönteminin yoğun olarak kullanılabileceğini düşündüğü alanları da aşağıdaki haritaya işaretlemiştir.



Öğrencinin haritadaki işaretlemelerinden hangileri bu yöntemin yoğun olarak kullanılabileceği yerler arasında değildir?

- A) I ve II      B) I ve III      C) II ve V  
D) III ve IV      E) IV ve V

40. I. Kırdan kente göçü teşvik ederek kırsal alanlarda yaşayan bölge halkının refah seviyesini yükseltmek  
II. Çevreye zarar veren maden ocakları ve termik santralleri kapatarak çevre sorunlarını gidermek  
III. Kişi başına düşen geliri artırarak bölgeler arasındaki ekonomik farklılıkları azaltmak

**Yukarıdakilerden hangileri Güneydoğu Anadolu Projesi'nin hedefleri arasında gösterilebilir?**

- A) Yalnız I      B) Yalnız II      C) Yalnız III  
D) I ve II      E) II ve III

1. Bu testte sırasıyla, Tarih-2 (1-11), Coğrafya-2 (12-22), Felsefe Grubu (23-34), Din Kültürü ve Ahlak Bilgisi (35-40), Din Kültürü ve Ahlak Bilgisi dersini yasal olarak almak zorunda olmayan veya farklı müfredat ile alanlar için Felsefe Grubu (41-46) alanlarına ait toplam 46 soru vardır.
2. Cevaplarınızı cevap kâğıdının Sosyal Bilimler-2 Testi için ayrılan kısmına işaretleyiniz.

1. Denize kıyısı olan uygarlıklar, tarım ve hayvancılık yerine deniz ticareti ve kolonileşme hareketleriyle ilgilendir. Bu özelliğe sahip olan uygarlıklar ticari faaliyetler sebebi ile etkileşime daha açık oldukları için özgür düşünce ortamı ve kültürel gelişmişlik bu uygarlıklarda çok daha fazla görülür. Denize kıyısı olmayan biraz iç kısımda kalmış uygarlıklarda ise tarım ve hayvancılık faaliyetleri fazlaca görüldüğünden, bu özelliğe sahip uygarlıklarda daha çok aristokrasi yönetimi görülür.

**Buna göre aşağıdaki uygarlıkların hangisinde aristokrasinin görülmesi beklenemez?**

- A) Asur                      B) Urartu                      C) Frigya  
D) İyonya                      E) Babiller

**2. Orta Asya Türk Devletlerinde**

- I. Sulama kanalları kullanılması  
II. Tahıl kapları kullanılması  
III. Orak ve saban kullanılması  
IV. Öğütme taşlarının kullanılması

**gibi gelişmelerden hangisi Türklerin tarım yaptıklarının kesin kanıtıdır?**

- A) Yalnız I                      B) Yalnız II                      C) I ve III  
D) II ve IV                      E) II, III ve IV

3. 1402 Ankara Savaşı'nda I. Bayezid, 5 oğlunun bulunduğu kuvvetlerle Timur'a karşı mücadeleyi kaybetmiş, 2 oğlu babaları ile birlikte Timur'a esir düşmüştür.

**Aşağıdaki seçeneklerden hangisinde Ankara Savaşı'nda Timur'a esir düşen şehzadeler doğru olarak verilmiştir?**

- A) İsa Çelebi - Musa Çelebi  
B) Süleyman Çelebi - Mustafa Çelebi  
C) Musa Çelebi - Mustafa Çelebi  
D) Mehmet Çelebi - Süleyman Çelebi  
E) İsa Çelebi - Mehmet Çelebi

4. **Osmanlı Devleti'nde yaygın bir kurum olan vakıf teşkilatının aşağıdaki alanlardan hangilerinde hizmet verdiği söylenemez?**

- A) Eğitim  
B) Askere alma ve askerî eğitim  
C) Sağlık alanı hizmetleri  
D) Han ve kervansaray yapımı  
E) Sosyal ve kültür alanındaki ihtiyaçlar

5. Ekonomik ve siyasal süreçlerle birlikte kültür, sosyal hayatın önemli bir parçası olmuştur. Batıda Sanayi Devrimi sonrası yükselen kapitalizm, ekonomik ve sosyal alanlarda olduğu gibi kültürel alanda da belirleyici olmuştur. Sanayileşme toplumun en temel ayırt edici özelliklerinden olan kültürü belirlemiş ve alınıp satılan bir ticaret ürünü haline dönüştürmüştür. Dolayısıyla kitle iletişim araçlarına sahip olanlar, kültüre de yön vermeye başlamıştır. Bütün bunlar Sanayi Devrimi sonrası insanları tüketmeye teşvik eden popüler kültürü ortaya çıkarmıştır.

**Metinde verilen bilgilere göre popüler kültür ile ilgili aşağıdakilerden hangisi söylenemez?**

- A) Kapitalizm popüler kültürün ortaya çıkmasında etkili olmuştur.  
B) Kültüre yön vermek isteyenler kitle iletişim araçlarını kullanmışlardır.  
C) İnsanların tüketme isteği popüler kültürün ortaya çıkmasında etkili olmuştur.  
D) Sanayi Devriminin getirdiği yenilikler kültürel alanda da etkili olmuştur.  
E) Popüler kültür, insanların üretmeye teşvik edilmeleri sonucu ortaya çıkmıştır.

6. Aşağıdaki antlaşmalardan hangisi ile Yunanistan Osmanlı Devleti'nden ayrılarak bağımsızlığını kazanmıştır?

- A) Edirne Antlaşması
- B) Bükreş Antlaşması
- C) Karlofça Antlaşması
- D) Berlin Antlaşması
- E) Paris Antlaşması

7. Cumhuriyet döneminde ülkemizde gerçekleştirilen yeni uygulamalardan bazıları şunlardır:

- I. Din ve mezhep seçme özgürlüğünün sağlanması
- II. Devletin ekonomik kalkınmayı sağlayıcı alanlarda öncü olması
- III. Devletin yönetimindeki çeşitli toplumsal gruplara kanun önünde kesin eşitlik tanınması

**Bu uygulamaların Atatürk ilkeleriyle ilişkisi aşağıdakilerden hangisinde doğru olarak verilmiştir?**

I	II	III
A) Laiklik	Devletçilik	Halkçılık
B) İnkılapçılık	Devletçilik	Cumhuriyetçilik
C) Laiklik	İnkılapçılık	Devletçilik
D) Devletçilik	Cumhuriyetçilik	Halkçılık
E) Devletçilik	İnkılapçılık	Cumhuriyetçilik

8. Mustafa Kemal, cumhuriyetin ilanından sonra çok partili hayata bir an önce geçilmesi ve hükümetin mecliste muhalefet partileri tarafından denetlenmesi gerektiği düşüncesindeydi.

**Metne göre Mustafa Kemal'in kuruluşuna öncülük ettiği partiler aşağıdakilerden hangisinde doğru verilmiştir?**

- A) Serbest Cumhuriyet Fırkası - Demokrat Parti
- B) Halk Fırkası - Serbest Cumhuriyet Fırkası
- C) Demokrat Parti - Millî Kalkınma Partisi
- D) Millî Kalkınma Partisi - Demokrat Parti
- E) Serbest Cumhuriyet Fırkası - Terakkiperver Cumhuriyet Partisi

9. I. Eğitimin çağdaşlaştırılması  
II. Tevhid-i Tedrisat kanununun çıkarılması  
III. Halkın kültür düzeyinin yükseltilmesi  
IV. Türk Dil Kurumu'nun kurulması  
V. Okuma yazmanın kolaylaştırılması

**Yukarıda verilen gelişmelerden hangileri yeni Türk harflerinin kabulü ile doğrudan ilgilidir?**

- A) I - II - III
- B) I - III - IV
- C) I - III - V
- D) II - IV - V
- E) III - IV - V



10. Türkiye'de dış ticaret açığının kapatılamaması, enflasyon ve bütçe açıkları 1970'li yılların sonunda ekonomiyi tıkadı. Buna bağlı olarak 24 Ocak 1980'de ekonomiye yön verecek bazı kararlar alındı.

**Bu kararların temel hedefleri arasında;**

- I. enflasyonun aşağıya çekilmesi,
- II. ekonomiyi dışa açarak döviz gelirlerinin artırılması,
- III. serbest piyasa ekonomisinin önüne geçilmesi

**gibi özelliklerinden hangilerinin olduğu söylenebilir?**

- A) Yalnız I
- B) Yalnız II
- C) Yalnız III
- D) I ve II
- E) II ve III

11. **Bosna Hersek bağımsızlık mücadelesi hakkında proje hazırlamak isteyen bir araştırmacı aşağıdaki gelişmelerden hangisi ile ilgilenirse proje kapsamından uzaklaşmış olur?**

- A) Dayton Antlaşması
- B) Aliya İzzetbegoviç
- C) Altı Gün Savaşı
- D) NATO Ortak Çaba Harekâtı
- E) Srebrenitsa Katliamı

12. Karbon döngüsü; karbonun biyosfer, litosfer, hidrosfer ve atmosfer arasında yer değiştirmesiyle meydana gelen bir dögüdür. Dögü ile karbon bir ortamdan diğerine geçmektedir.

**Aşağıdakilerden hangisinde karbonun geçişleriyle ilgili yanlış bilgi verilmiştir?**

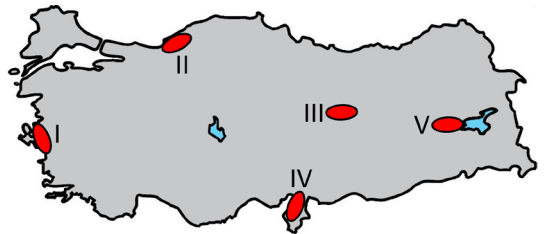
- A) Solunum ile atmosferden biyosfere geçer.
- B) Fosil yakıtların kullanımı ile litosferden atmosfere geçer.
- C) Canlı kalıntıların çürümesi ile biyosferden atmosfere geçer.
- D) Karbonatlı kayaların çözünmesi ile litosferden atmosfere geçer.
- E) Deniz canlılarının kabuk oluşumu ile hidrosferden biyosfere geçer.

13. Geri dönüşüm; daha önce toplanan, işlenen, yeniden üretilen ve kullanılan materyaller aracılığıyla oluşan bir süreçtir. Geri dönüşüm ile atıklar yeni ürüne dönüştürülerek ekonomiye kazandırılmaktadır.

**Aşağıdakilerden hangisi bu dönüşüme örnek gösterilemez?**

- A) Metal ambalajlardan alüminyum üretilmesi
- B) Kırık camların eritilerek cam eşyalar yapılması
- C) Plastik pet şişelerden dolgu malzemesi elde edilmesi
- D) Kumaş parçalarının yalıtım malzemesi üretiminde kullanılması
- E) Kayaçların parçalama işleminden geçerek çimento üretilmesi

14. Ham madde kaynaklarının bulunduğu yerler aynı zamanda önemli üretim sahalarıdır. Ancak demir gibi ergitilmesi zor olan madenler, enerji kaynağının olduğu alanlara taşınarak o bölgeyi üretim alanına dönüştürebilmektedir.



**Haritada numaralandırılan alanların hangisi bu duruma örnek gösterilebilir?**

- A) I
- B) II
- C) III
- D) IV
- E) V

15. Sürdürülebilir kalkınma, hem ulusal hem evrensel ölçekteki çevre koruma politikalarının genel kabul görmüş ana kavramıdır. Sürdürülebilir kalkınmanın başarılı olabilmesi için ekonomik, sosyal ve çevresel boyutlarda amaçlar belirlenmeli ve bu amaçlar doğrultusunda çalışmalar yapılmalıdır.

**Aşağıdakilerden hangisi bu çalışmalara örnek gösterilemez?**

- A) Ekosistem unsurlarını korunmak  
B) Atmosferin dengesini bozmamak  
C) Mal ve hizmetleri gelir odaklı üretmek  
D) Doğal kaynakların devamlılığını sağlamak  
E) Sosyal hizmetlerin eşit dağılımına önem vermek

16. Ürünlerin ve hizmetlerin dünyanın farklı bölgeleri veya ülkeleri arasında alınıp satılması yoluyla küresel ticaret faaliyetleri gelişmiştir. Hacmi her geçen zaman büyüyen bu faaliyetler, az ya da çok dünyanın bütün bölgelerini etkiler hale gelmiştir.

**Bu faaliyetlerin ortaya çıkmasında ve büyük boyutlara ulaşmasındaki temel etken aşağıdakilerden hangisidir?**

- A) Dünya nüfusunun artış göstermesi  
B) Dağıtım sistemlerinin gelişmiş olması  
C) Küreselleşme ile ihtiyaçların çeşitlenmesi  
D) Teknolojik gelişmelerin belirli ülkelerde yoğunlaşması  
E) Üretim ve ham madde alanlarının farklılık göstermesi

17. Ekosistemi oluşturan canlı ve cansız unsurlar sürekli etkileşim hâlinindedir. Canlı ve cansız unsurlar arasında gerçekleşen madde ve enerji akışı sayesinde ekosistemde devamlılık sağlanır.

**Ekosistemde meydana gelen bu durum ile ilgili olarak;**

- I. Enerji etçillerden otçullara, oradan da üreticilere doğru aktarılmaktadır.  
II. Besin zincirinde üreticilerin artması bu zincirdeki tüm canlı türlerinin artmasına neden olmaktadır.  
III. Madde döngülerinin kesintiye uğraması ekosistemlerin devamlılığını etkilemez.  
IV. Bitkiler, Güneş'ten aldığı enerjiyi karbondioksit ve su yardımıyla kimyasal bağ enerjisine dönüştürerek organik maddelerde depolar.

**yargılarından hangileri doğrudur?**

- A) I ve II                      B) I ve III                      C) II ve III  
D) II ve IV                      E) III ve IV

18. Aşağıda K ülkesi ve L ülkesine ait nüfus, insani gelişme endeksi, insani gelişme endeksi sıralaması ve gayri safi yurtiçi hâsılanın gösterildiği tablo verilmiştir.

	K Ülkesi	L Ülkesi
Nüfus	125 milyon	200 milyon
İnsani Gelişme Endeksi	0,9	0,5
İnsani Gelişme Endeksi Sırası	19	161
Gayri Safi Yurtiçi Hâsıla (ABD doları)	5 trilyon	500 milyar

**Yalnızca tablodaki bilgiler dikkate alındığında bu ülkelerle ilgili olarak aşağıdakilerden hangisi söylenebilir?**

- A) K ülkesinde yaşlı nüfus oranı L ülkesinden azdır.  
B) K ülkesinde nitelikli iş gücü L ülkesinden fazladır.  
C) L ülkesinde kentsel nüfus oranı K ülkesinden fazladır.  
D) L ülkesinde tarım sektöründe çalışanların oranı K ülkesinden azdır.  
E) K ülkesinde araştırma geliştirme faaliyetlerine ayrılan kaynak L ülkesinden azdır.

19. Aşağıda Türkiye'nin iki farklı bölgesine ait iklim özellikleri verilmiştir.

**K Bölgesi:** İlbahar ve sonbahar mevsimleri yağışlı, yaz mevsimi ise kurak geçer. Yağış ortalaması 300-600 mm civarındadır. Ocak ayı sıcaklık ortalaması 0°C civarındadır.

**L Bölgesi:** Yaz mevsimi sıcak ve kurak, kış mevsimi ılık ve yağışlıdır. Yağış ortalaması 600-1.200 mm civarındadır. Ocak ayı sıcaklık ortalaması 7°-8°C civarındadır.

**Bu bölgelerde yaygın olarak yetiştirilebilecek tarım ürünleri aşağıdakilerden hangisinde birlikte verilmiştir?**

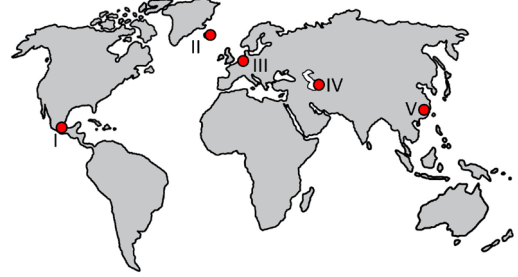
K bölgesinde	L bölgesinde
A) İncir	Mısır
B) Fındık	Pamuk
C) Buğday	Zeytin
D) Arpa	Fındık
E) Mercimek	Çay

20. Turizm, dünyanın en dinamik ve en büyük ekonomik faaliyetlerinden biridir. Ülkelerin sahip olduğu turizm potansiyeli, ekonomilerine ciddi anlamda katkı sağlar.

**Aşağıdakilerden hangisi turizmin bu katkısına örnek gösterilemez?**

- A) Kültürel etkileşimi artırması
- B) İstihdam olanaklarını artırması
- C) Dış borç ödemelerine katkı sağlanması
- D) Cari açığın kapatılmasına yardımcı olması
- E) Alt ve üstyapı hizmetlerinin iyileştirilmesi

21. Sanayileşen alanlarda iş olanaklarındaki artış göçe dayalı nüfus artışına ve hızlı şehirleşme sürecine neden olmaktadır. Böyle alanlar aynı zamanda sosyal, kültürel ve ekonomik faaliyetlerdeki değişimin hızlı olduğu alanlardır.



**Haritada numaralandırılan yerlerden hangilerinde buna benzer bir değişimin daha fazla yaşandığı söylenebilir?**

- A) I ve II
- B) I ve III
- C) II ve IV
- D) III ve V
- E) IV ve V

22. Birleşmiş Milletler Güvenlik Konseyi; ABD, Çin, İngiltere, Fransa ve Rusya'dan oluşan 5 daimi üye ile dönüşümlü olarak her iki yılda bir değişen 10 geçici üyeden oluşur. Konseyin esas görevi, Birleşmiş Milletler'in amaç ve ilkeleri çerçevesinde uluslararası barış ve güvenliği sağlamaktır. Ayrıca Birleşmiş Milletler Genel Kurulu'nda alınan bütün kararları Güvenlik Konseyi'nin veto etme yetkisi vardır.

**Bu ülkelerin örgütte etkinliğinin fazla olmasının temel nedeni aşağıdakilerden hangisidir?**

- A) Nüfuslarının fazla olması
- B) Ekonomik güçlerinin fazla olması
- C) Bilim ve teknolojiye ilerlemiş olmaları
- D) II.Dünya Savaşı'nın kazanılmasında etkin rol oynamaları
- E) Birleşmiş Milletler'e yeni üye kazandırmada etkin rol oynamaları

23. Bir yaratıcı fikrinin sorgulanmaya başlanması binlerce yıl öncesine dayanır. İnsanlar bu sorgulamayı yaparken farklı farklı sorulara cevap bulma ümidi taşımışlardır kuşkusuz. Söz gelimi evrendeki düzenin tesadüf eseri olup olamayacağı ya da her bir var olanın bir sebebe gereksinim duyması dolayısıyla sebepsiz bir var olanın mümkün olup olmadığı soruları Tanrı'nın varlığını sorgulamaya itmiş olabilir insanları. Bu tür sorular aracılığıyla Tanrı'nın var olduğu kanıtlanmaya çalışılmıştır aslında. Ama evrende bulunan ve insanların hoşnut olmadığı bazı durumlar dolayısıyla Tanrı'nın var olmadığını iddia eden ve bunu kanıtlamaya çalışanlar da olmuştur. Tanrı'nın yokluğunu ispat etmeye çalışanlara ise Augustinus *İtiraflar* adlı eserinde şöyle cevap vermiştir: "Ah Tanrım, n'olur beni duy! Vah, insanların işlediği günahlara! Gerçi bunu söyleyen de bir insan ve sen onun günahlarına merhamet gösteriyorsun; çünkü sen onu yarattın, ama içindeki günahı sen yaratmadın."

**Bu parçada Augustinus'un karşı çıktığı görüş Orta Çağ felsefesinin aşağıdaki problemlerinden hangisiyle ilgilidir?**

- A) Tanrı'nın varlığını kanıtlama problemi
- B) Tümler problemi
- C) İrade özgürlüğü problemi
- D) Kötülük problemi
- E) Toplumsal yaşama yönelik problemler

24. "Sorgulanmayan hayat yaşanmaya değer." diyen Sokrates'in, altını çizmeye çalıştığı temel bazı kavramlar vardır. Bunların başında bilgi ve erdem gelir. Sokrates bilginin a priori nitelikte olduğunu, zaten sahip olunan bilginin hatırlanmasıyla da erdemli olunacağını savunuyordu. Ona göre kimse bile bile kötülük yapmazdı. Sokrates hayattaki en büyük kazancın erdemli bir yaşam sürmek olduğunu düşünüyordu.

**Bu parçadan aşağıdaki yargılardan hangisine ulaşılabılır?**

- A) Kötü ve adaletsiz bir yaşam sürmek kişinin kendine verebileceği en büyük zarardır.
- B) Erdemler, toplumsal yaşam içinde, zamanla toplum tarafından belirlenir.
- C) Hakikatin sırrı sıradan insana kapalı olduğundan yalnızca bilge insanlar tarafından çözülebilir.
- D) Epistemolojik gerçeklere ulaşmak etik ilkelere sahip olmaktan geçer.
- E) Doğru bilgiye ulaşmak, dünyayı gözlemlemek ve deneyimlemek yoluyla mümkün olur.

25. Birçok insan gördüm ki benden çok daha bilgince felsefe yaparlardı; ama felsefeleri sanki kendilerine yabancıydı. Herkesten daha bilgin olmak istedikleri için, nasıl kurulduğunu anlamak amacıyla dünyayı inceleyerdiler; ama bu, kazayla rastladıkları bir makineyi gözden geçirmek merakından başka bir şey değildi. İnsanın yaratılışını öğrenmeye çalışıyorlarsa, bunun nedeni, ondan bilgince söz edebilmek içindi; yoksa kendilerini anlayabilmek için değil.

**J. J. Rousseau'nun *Yalnız Gezerin Düşlemleri* adlı eserinden alınan bu parçada aşağıdakilerden hangisi vurgulanmıştır?**

- A) Yaşamın ereğini anlayabilmek için felsefe yapmak gerekir.
- B) Merak etmek hakikate ulaşmanın en önemli adımıdır.
- C) Gerçek bilgelik olgusal dünyayı tüm yönleriyle sorgulamaktır.
- D) İnsanın öğrenmeyi kendini bilmek için istemesi gerekir.
- E) Bilge olabilmek bilmeyi ve öğrenmeyi sevmekle mümkündür.

26. Maslow'un ihtiyaçlar hiyerarşisinde öncelik insanın temel ve yaşamsal öneme sahip gereksinimleridir. Eğer insanlar bu gereksinimlerini karşılayamazsa bir üst basamağa çıkmak için gerekli olan güdülenmeye sahip olamazlar.

**Buna göre;**

- I. Bir bireyin bilimsel bir konuyu bilme ve araştırma isteği
- II. Bir üniversite öğrencisinin kalabileceği bir yurt araması
- III. Bir kişinin kendisini ve başkalarını olduğu gibi kabul etmesi
- IV. Bir çocuğun ailesi ve arkadaşları tarafından sevilme ihtiyacı

**İfadelerinin ihtiyaçlar hiyerarşisine göre aşağıdan yukarıya doğru sıralanışı aşağıdakilerden hangisinde doğru verilmiştir?**

- A) I - II - III - IV
- B) II - IV - III - I
- C) IV - II - III - I
- D) II - IV - I - III
- E) III - I - II - IV

27. Modern yaşam koşulları beraberinde yaşamın kaçınılmaz bir parçası olan stresi ve stresin etkilerini daha çok gündeme getirdi. Stres bireylerin yaşamlarını fiziksel, ruhsal, sosyal, davranışsal olarak etkileyen kronik birçok hastalığı tetikleyen bir durum olarak karşımızda durmakta. Onunla nasıl başa çıkılacağı ve bunun için hangi yolları kullanmak gerektiği bugün en çok konuşulan konular arasında yerini almış durumda. Hem içsel hem de dışsal kaynakları olan stres bireylerin hayatını güçleştirmekte, bedensel ve psikolojik sağlığını tehdit edebilmektedir. Örneğin bireylerin herhangi bir gereksinimini belirli nedenlerden ötürü karşılamaması ya da çözümleyemedikleri problemler karşısında yaşadıkları karmaşa ve kaos durumunun stres yaratması olağandır. Fakat stres, bireylerin yaşadığı zorluklarla baş edebilmesinde, kendini geliştirmesinde ve bunu eylem alanına yansıtılma düzeyine bağlı olarak bireylere motivasyon aracı olarak yardımda bulunabilir.

**Bu parçaya bir başlık yazılmak istense en uygunu aşağıdakilerden hangisi olurdu?**

- A) Stres ile başa çıkmanın zorlukları
- B) Geçmişten günümüze stres
- C) Stresi önleme yöntemleri
- D) Stres ve yaşama etkileri
- E) Ruh sağlığının korunmasında stresin rolü

28. Dil bireylerin duygu ve düşüncelerini aktarmasında ve düşüncenin biçimlenmesinde en önemli araçtır. İnsan yaşadığı sosyal çevrede bilişsel olarak geliştiğçe dili kullanma becerisi de artar ve buna bağlı olarak hem dili hem de düşünsel becerileri gelişir. Örneğin üst düzey düşünme becerilerini kullanmak (problem çözmek, yaratıcı düşünmek, analiz, sentez ve değerlendirme) için dili kullanırız. Dilimiz ne kadar gelişmişse düşünce dünyamızı da o kadar iyi ifade edebiliriz. Yaşadığımız dünyada kendi varoluşumuzun bilincinde olarak öznel ve özgün fikirler ortaya koyarız. Aynı zamanda bireyler olarak bizi biz yapan özelliklerimizi de fark eder benliğimizi tanırız. Sonuç olarak dil aracılığı ile kazandığımız bilgiler, düşüncelerimize ve eylemlerimize temel oluşturur.

**Bu parçadan aşağıdakilerden hangisi vurgulanmaktadır?**

- A) Dil ve düşüncenin birbirini karşılıklı olarak beslediği
- B) Düşüncenin varlığı için dile gerek olmadığı
- C) Dilin sadece düşünmeyi aktaran bir araç olduğu
- D) Dil olmadan düşünmenin bir işlevinin olamayacağı
- E) Sosyalleşmenin ancak dil ile gerçekleşebileceği

29. Modern dünyanın birer parçası olarak hepimiz, atalarımıza kıyasla daha çok ve çeşitli tehlikelerle karşı karşıyayız. Artık bilgiye ulaşmak geçmişe göre daha kolay olsa da yanılma ihtimalimiz de bir o kadar fazla; tıbbi olanaklar ne kadar artmış olsa da sağlığımızı kaybetmemize sebep olan koşullar da aynı oranda artıyor. Hayatımızı idame ettirmek için çalışabileceğimiz alanlar daha çeşitli ama emeğimizin karşılığı olan gelir, ihtiyaçlarımızı giderme noktasında nispeten daha sınırlı. Bu nedenle artan rekabet toplumsal eşitsizliklere neden olduğu gibi samimi ilişkilerin yaşanmasını da zorlaştırıyor.

**Bu parçadan modernleşmenin etkileri ile ilgili aşağıdaki yargılardan hangisine ulaşamaz?**

- A) Enformasyon alanındaki gelişmeyle bilgi kirliliği de meydana gelmiştir.
- B) Pratik yaşamın sorunları teknolojinin gelişimiyle çözümlenmiştir.
- C) Olumsuz yönde toplumsal değişmeye neden olmuştur.
- D) Beklenen ekonomik refahın sağlanmasında yetersiz kalmıştır.
- E) Toplumsal çözülmenin oluşmasına zemin hazırlamıştır.

30. Bireylerin doğduğu kültür içinde yaşamı boyunca kazandığı her tür bilgi ve beceriyi ifade eder. A. Giddens bununla ilgili olarak *Sosyoloji* adlı eserinde "Her biri Harry'nin tek bir okul yılını anlatan Harry Potter romanları, büyümekten daha büyük bir serüvenin olmadığı ilkesine dayanmaktadır. Harry, Hogwarts Büyücülük ve Sihir Okuluna devam ediyor olsa da, burası yalnızca bir okul, çünkü herkes, sınırsız bir güce sahip genç bir büyücü bile, bir değerler kümesini oluştururken yardıma gerek duyar. Hepimiz önemli yaşam aşamalarından geçerez: çocukluktan ergenliğe, sonra da yetişkinliğe." demiştir.

**Bu parça aşağıdaki kavramlardan hangisi ile ilişkilendirilebilir?**

- A) Sosyal normlar
- B) Sosyal statü
- C) Sosyal prestij
- D) Sosyalleşme
- E) Sosyal kontrol

31. Din olgusu biden fazla alanın inceleme konusu olmuştur. Örneğin teoloji, ele aldığı dinin kurallarını doğru kabul ederek yola çıkar ve açıklamaya çalışır. Felsefe dine daha genel ve kapsamlı yaklaşır ve dine ilişkin kavramları sorgular. Bir bilim olarak sosyoloji de din ile ilgilenir ancak bunu kendine özgü bir bakış açısıyla yapar. Yani toplum bilim olarak sosyoloji dinin toplumsal alandaki etkilerini kendine konu edinir, onu toplumla ilişkili olarak anlamaya ve açıklamaya çalışır. Çünkü bir kurum olarak din, insanların birlikte gerçekleştirdiği ritüelleri, ona inanan insan topluluklarını bağlayan kuralları, inananların ortak paydada buluşması dolayısıyla aralarında oluşturdukları duygudaşlık ve dayanışmayı, diğer kurumlarla etkileşimi içermesi bakımından sosyolojik bir olgudur.

**Buna göre din kurumu ile ilgili aşağıdaki yargılardan hangisi söylenemez?**

- A) Toplumsal dayanışmanın sağlanmasında bir etkidir.
- B) Toplumsal yapıyı oluşturan temel unsurlardan biridir.
- C) Toplumsal alanda sapma davranışını ortadan kaldırır.
- D) Toplumsal istikrar ve sürekliliğin sağlanmasına katkı sunar.
- E) Toplumsal kontrolün sağlanmasında işlevseldir.

32. “Yağmur yağmazsa yerler ıslanmaz.” ( $\sim p \Rightarrow \sim q$ ) önermesinin eşdeğeri aşağıdakilerden hangisidir?

- A) Yağmur yağar ve yerler ıslanır. ( $p \wedge q$ )
- B) Ya yağmur yağar ya da yerler ıslanmaz. ( $p \vee \sim q$ )
- C) Yağmur yağar ve yerler ıslanmaz. ( $p \wedge \sim q$ )
- D) Hem yağmur yağmaz hem de yerler ıslanır. ( $\sim p \wedge q$ )
- E) Yağmur yağarsa yerler ıslanır. ( $p \Rightarrow q$ )

33. Ters döndürme önermenin niteliğine dokunmadan öznesinin karşıt halini yüklem, yüklemnin karşıt halini özne yapmaktır.

**Buna göre aşağıdaki çıkarımların hangisinde doğru bir şekilde ters döndürme yapılmıştır?**

- A) Her insan yeteneklidir.  
Her yetenekli olmayan insan olmayandır.
- B) Bütün ağaçlar yeşildir.  
Hiçbir yeşil olmayan ağaç olmayan değildir.
- C) Bazı ağaçlar yeşildir.  
Bazı yeşiller ağaç olmayan değildir.
- D) Bazı insanlar mutlu değildir.  
Bazı mutlu olmayan insan olmayandır.
- E) Hiçbir sanatçı yaratıcı değildir.  
Hiçbir yaratıcı olmayan sanatçı olmayandır.

34. Özel veya tekil önermelerden genel veya tümel önermelere doğru yapılan akıl yürütme tümevarımdır. Tümevarımın eksik ve tam tümevarım olmak üzere iki türü vardır. Eksik tümevarım bütünü meydana getiren unsurların bir kısmından yola çıkılarak genel yargıya ulaşılan, tam tümevarım ise bir bütünü meydana getiren bütün öğelerin incelenmesi sonucu genel yargıya ulaşılan akıl yürütmelerdir.

**Buna göre verilen çıkarımların hangisinde tam tümevarım söz konusudur?**

- A) Pazartesi, salı ve çarşamba günleri hava güneşliydi. O halde bu hafta hava hep güneşli olacak.
- B) Ayşe'nin fizik, matematik ve edebiyat dersinden notları yüksektir. O halde Ayşe'nin bütün derslerden notları yüksektir.
- C) Rize ve Giresun Karadeniz şehridir ve bol yağış alır. O halde bütün Karadeniz şehirleri bol yağış alır.
- D) 11/A sınıfındaki öğrencilerin felsefe yazılı notları yetmişin üzerindedir. O halde 11/A sınıfı öğrencileri felsefe dersinde başarılıdır.
- E) Bu yıl ilkbahar ve yaz ayları kurak geçti. O halde bu yılın tamamı kurak geçecek.

**35 - 40. soruları Din Kültürü ve Ahlak Bilgisi dersini yasal olarak almak zorunda olanlar ve İmam Hatip Okulları öğrencileri/mezunları cevaplayacaktır.**

35. İslam ahlakının kaynakları Kur'an-ı Kerim ve Hz. Peygamber'in sünnetidir. Kur'an'da nasıl bir kul olmamız gerektiği belirtilmiştir. Hz. Peygamber de tutum ve davranışlarıyla Kur'an'ı hayata geçirmiştir. Kur'an'da onun bu yönüne işaret edilmiş ve üsve-i hasene olarak nitelendirilmiştir.

**Metinde bahsedilen ayet aşağıdakilerden hangisidir?**

- A) "De ki: Ben de ancak sizin gibi bir insanım. Ne var ki bana, ilahınızın bir tek ilah olduğu vahyolunuyor." (Kehf Suresi, 110. ayet.)
- B) "Muhammed ... Allah'ın resulü ve peygamberlerin sonuncusudur. Allah her şeyi hakkıyla bilir." (Ahzâb Suresi, 40. ayet.)
- C) "Ant olsun size içinizden öyle bir peygamber gelmiştir ki sizin sıkıntıya uğramanız ona çok ağır gelir. O, size çok düşkün, müminlere karşı çok şefkatli ve merhametlidir." (Tevbe Suresi, 128. ayet.)
- D) "Ve seni ancak âlemlere rahmet olarak gönderdik." (Enbiya suresi, 107. ayet.)
- E) "İçinizde Allah'ın lütfuna ve ahiret gününe umut bağlayanlar, Allah'ı çokça ananlar için hiç şüphe yok ki Allah'ın elçisinde güzel bir örnek vardır." (Ahzâb suresi, 21. ayet.)

36. • Kırk yaşına kadar Mutezile mezhebinin görüşlerini savunmuştur.
- Kırk yaşından sonra Mutezile mezhebinin aşırı akılcılığına karşı çıkmıştır. Hadis ve sünneti merkeze alan bir yaklaşımı benimsemiştir.
- İyi ve kötünün ancak vahiy ile bilinebileceğini söylemiştir.

**Yukarıda verilen bilgiler hangi mezhep imamına aittir?**

- A) İmam Şafii
- B) İmam Maturidi
- C) İmam Eşarî
- D) İmam Malik
- E) İmam Cafer es-Sadık

37. "...Ey Rabbimiz! Unutur ya da yanılırsak bizi sorumlu tutma! Ey Rabbimiz! Bize, bizden öncekilere yüklediğin gibi ağır yük yükleme! Ey Rabbimiz! Bize gücümüzün yetmediği şeyleri yükleme! Bizi affet, bizi bağışla, bize acı." (Bakara suresi, 286. ayet.)

**Bu ayet aşağıdaki yargılardan hangisi ile ilişkilendirilemez?**

- A) İslam, kimseyi gücünün yetmeyeceği ibadetle sorumlu tutmaz.
- B) Akıl ve irade mükellef olmanın şartlarındandır.
- C) İnsanın yapıp yapmamakta serbest olduğu davranışları vardır.
- D) Yanılma ve unutma gibi durumlarda sorumluluk kalkar.
- E) Mümin, güç yetirebildiği oranda sorumludur.



38. “Rabbin için namaz kıl ve kurban kes.” (Kevser suresi, 2. ayet.) ayetinde bayram namazı kılma ve kurban kesme emri Hz. Muhammed (s.a.v.) içindir. Dolayısıyla onun (s.a.v.) için farzdır. Ancak bu emrin bütün Müslümanlar için geçerli olup olmadığı kesin değildir. Yani bu emrin bütün Müslümanlar için dayanağı kesin değildir.

**Metinde belirtilen durumlar için kullanılan ifade aşağıdakilerden hangisidir?**

- A) Farz-ı ayn  
B) Vacip  
C) Sünnet  
D) Mendup  
E) Müstehap

39. “Helaller ve haramlar bellidir. Fakat ikisi arasında şüpheli şeyler vardır. Şüpheli şeylerden korunan, dini temiz tutmuş olur. Şüphelere düşen harama da düşer. Koruluğun kenarında koyun otlatan çobanın koyunlarının her an koruluğa girme ihtimali vardır. Haberiniz olsun her melikin bir koruluğu vardır. Allah'ın koruluğu da haramlardır.” (Buhârî, İman, 39.)

**Bu hadis aşağıdakilerden hangisinin önemine işaret etmektedir?**

- A) Cihat                      B) Salih Amel                      C) İnfak  
D) Takva                      E) İffet

40. Allah, yarattıklarını her an gören ve gözetendir. Mümin, bunun bilincinde olmalı ve kendisi de Allah'ın huzurundaymış ve onu görüyormuş gibi bir yaşam sürmelidir. Hayatını buna göre düzenlediği takdirde davranışlarında daha özenli olacaktır. Samimiyetle hareket edecek, gösterişten uzak davranışlar gösterecektir. Böylece olgun bir insan haline gelecektir.

**Bu metinde altı çizili bölüm hangi kavramla doğrudan ilgilidir?**

- A) İhsan                      B) Dalalet                      C) Takva  
D) Hidayet                      E) Cihat

**41 - 46. soruları Din Kültürü ve Ahlak Bilgisi dersini yasal olarak almak zorunda olmayan veya farklı müfredat ile alanlar cevaplayacaktır.**

41. Sadece duydukların, gördüklerin ve dokundukların mı gerçektir? Ya usta olanlar, belki de verilmiş ama hatırlamadığın şeyler vardır. Bu dünyadaki şeylerin sadece duyusal nitelikte olduğunu düşünüyorsun. Öyleyse algılayamıyoruz diye yok saymalıyız düşünsel şeyleri veya sadece görmezden geleceğiz ideal gerçeklikleri. Ya da şeyler kişiden kişiye değişir diyerek yargısız mı kalmalıyız?

**Bu metinde aşağıdaki felsefi yaklaşımlardan hangisine değinilmemiştir?**

- A) Empirizm                      B) İdealizm                      C) Kritisizm  
D) Rasyonalizm                      E) Rölativizm

42. Hobbes *Leviathan* adlı eserinde “Adalet, hakkaniyet, tevazu, merhamet ve özet olarak, bize ne yapılmasını istiyorsak başkalarına da onu yapmak gibi doğa yasaları, bunlara uyulmasını sağlayacak bir gücün korkusu olmaksızın, bizi taraf tutmaya, kibir, öç alma ve benzer şeylere sürükleyen doğal duygularımıza aykırıdır. Kılıcın zoru olmadıkça ahitler sözlerden ibarettir ve insanı güvence altına almaya yetmez. Dolayısıyla, doğa yasalarına rağmen, (bu yasalara uyulmak istendiğinde ve güvenlik içinde uyulması mümkün olduğunda) kurulu bir iktidar yoksa veya bu iktidar güvenliğimiz için yeterince büyük değilse; herkes, bütün diğer insanlara karşı korunmak için, kendi gücüne ve kurnazlığına dayanacak ve üstelik bunu meşru olarak yapabilecektir.” demiştir.

**Buna göre aşağıdaki yargılardan hangisine ulaşılabılır?**

- A) İnsanların güvenlik ihtiyacı doğal hukukla sağlanamaz.  
B) Yasalar insanlar üzerinde baskı kurmamalıdır.  
C) Devletin amacı insanların mutluluğunu sağlamaktır.  
D) Doğal yaşama uygun yasalar çıkarılmalıdır.  
E) Devlet insanlar arasında yapılan bir sözleşme ile oluşturulmalıdır.

43. Organizmayı harekete geçiren içsel ve dışsal tüm etkiler organizma için birer uyarıcıdır. Uyarıcıların duyu organlarını etkileyerek sinirler aracılığıyla beyne iletilmesi sonucunda duyum oluşur. Duyumun oluşabilmesi için, uyarıcının şiddetinin duyuusal sistemin harekete geçmesinin koşulu olan en düşük ve en yüksek fiziksel enerji aralığında olması gerekir, buna duyuusal eşik denir. Uyarıcıların çok oluşu da gereğinden az oluşu da organizma için huzursuzluk kaynağıdır.

**Bu parçadan aşağıdaki yargıların hangisine ulaşılabilir?**

- A) Organizmayı etkileyen tüm uyarıcılar organizma tarafından anlamlandırılır.
- B) Uyarıcının şiddeti ne kadar yüksek olursa uyarıcı o kadar kolay algılanır.
- C) Bir uyarıcıdan söz edilebilmesi için organizmaya dıştan bir etki söz konusu olmalıdır.
- D) Organizma için duyumun gerçekleşebilmesi belirli koşulların var olmasına bağlıdır.
- E) Ortamdaki en düşük şiddetli uyarıcı, organizmada en az huzursuzluğa sebep olan uyarıcıdır.

44. Antik Yunan'da oldukça yaygın olan kölelik, pek çok filozof tarafından doğal bir durum olarak kabul edilmiş hatta gerekli görülmüştü. Ülkedeki ekonomik refah ve siyasi demokrasi büyük ölçüde kölelerin üzerinden yükseliyordu. İlk Çağ'da kölelik düşüncesine karşı başlıca eleştiri, Stoa Okulu filozofları tarafından yapılmıştır. Dönemin kölelik anlayışının karşısında duran Stoacılara göre adalet, salt insan olmaları itibarıyla değeri ve onuru olan kölelerin de hakkıydı.

**Stoacı filozofların köleliğe karşı takındıkları tutum aşağıdaki sosyolojik durumların hangisiyle açıklanabilir?**

- A) Birlik ve beraberliğin korunması için etki oluşturma
- B) Toplumun bireye yüklediği değerlere uygun davranma
- C) Bir karşılık alma amacıyla davranışta bulunma
- D) Grubun kalıplarını değiştirmeden çatışmayı önleme
- E) Toplumda hâkim olan normlara aykırı davranma

45. Durkheim, sosyolojinin sosyal olgularla ilgilendiğini, sosyal fenomenleri eşya gibi ele alması gerektiğini ortaya atmıştır. Bununla ilgili olarak "Olayları maddi gerçeklikler gibi ele almak, onları bilimin başlangıç noktasını oluşturan veriler olarak ele almak demektir. Toplumsal olayların bu özellikte olduğu tartışma götürmez. Veri olan şey, insanların değer üzerine yaptığı düşünce değildir; çünkü ona ulaşılamaz; veri olan şey, ekonomik ilişkiler sırasında gerçekten değişimi yapılan değerlerdir." demiştir.

**Bu parçadan aşağıdaki yargıların hangisine ulaşılabilir?**

- A) Sosyal olaylar nesnel gerçeklikler olarak ele alınmalıdır.
- B) Toplumsal olayların doğası üzerine felsefi düşünceler geliştirilmelidir.
- C) Her insan eylemi toplumsal bir olay olarak incelenmelidir.
- D) Sosyoloji toplumsal olaylara çözüm bulmalıdır.
- E) Sosyolojinin araştırma yöntemleri doğa bilimlerinden tamamen farklı olmalıdır.

46. Bütün insanlar ölümlüdür.

Sokrates de bir insandır.

O halde Sokrates de ölümlüdür.

Bu çıkarımın öncülünde iddia edildiği gibi, bütün insanların ölümlü olduğunu olgusal olarak söylememiz mümkündür. Çünkü verilen yargı gerçeğe uygundur. Buna bilgi doğrusu adı verilmektedir.

**Buna göre aşağıdakilerden hangisi bilgi doğrusu için söylenebilir?**

- A) Yargının akıl ilke ve kurallarına uygun olmasıdır.
- B) Yargının genelin kabul ettiği varlığı temsil etmesidir.
- C) Yargıların biçimsel açıdan çelişki taşıyamasıdır.
- D) Yargının nesnesine uygunluğudur.
- E) Yargının yaşam içinde kullanılabilir olmasıdır.



# Kendini Deęerlendir



1

*Kare kodu okut.*

2

*Sınavını seę*

3

*Cevaplarını sisteme gir.*

4

*Eksik olduęun konuları analiz et.*

5

*Bu sınava katılanlar arasındaki sıralamanı gör.*



T.C. MİLLÎ EĞİTİM  
BAKANLIĞI

3 ADIM

DENEME SINAVLARI

3. ADIM

AYT  
sözel



5. DENEME

ADI VE SOYADI

OKUL ADI

ADAYIN İMZASI

**ADAYIN DİKKATİNE!**

1. Bu sınavda AYT soru dağılımları dikkate alınmıştır.
2. Deneme tam kapsam olup YKS konularının tamamını kapsamaktadır.
3. Bu sınav Türk Dili ve Edebiyatı - Sosyal Bilimler 1 Testi (TDE 24 soru, Tarih 10 soru, Coğrafya 6 soru) 40 soru, Sosyal Bilimler 2 Testi (Tarih 11 soru, Coğrafya 11 soru, Felsefe Grubu 12 soru, DKAB 6 soru ) 40 soru olmak üzere toplamda 80 soru içermektedir.

Bu testlerin her hakkı saklıdır. Hangi amaçla olursa olsun, testlerin tamamının veya bir kısmının Millî Eğitim Bakanlığının yazılı izni olmadan kopya edilmesi, fotoğrafının çekilmesi, herhangi bir yolla çoğaltılması, yayımlanması ya da kullanılması yasaktır. Bu yasağa uymayanlar gerekli cezai sorumluluğu ve testlerin hazırlanmasındaki mali külfeti peşinen kabullenmiş sayılır.

### **DİKKAT!**

Din Kültürü ve Ahlak Bilgisi dersini yasal olarak almak zorunda olan adaylar ve İmam Hatip Okulları öğrencileri/mezunları, Sosyal Bilimler-2 Testi'nin ilk 40 sorusunu cevaplamakla yükümlüdür. Bu adaylar, bu testin 41-46. sorularını cevaplamayacaklardır. Bu adaylar, bu testin 41-46. sorularında işaretleme yapmış olsalar bile bu cevapları değerlendirmeye alınmayacaktır.

Din Kültürü ve Ahlak Bilgisi dersini yasal olarak almak zorunda olmayan veya farklı müfredat ile alan adaylar, Sosyal Bilimler-2 Testi'nin 35-40. sorularını cevaplamadan 41-46. sorularını cevaplayacaklardır. Bu adaylar, bu testin 35-40. sorularında işaretleme yapmış olsalar bile bu cevapları değerlendirmeye alınmayacaktır.

### **AÇIKLAMA**

1. Bu kitapçıkta **86 soru** bulunmaktadır.  
Türk Dili ve Edebiyatı-Sosyal Bilimler-1 Testi: 40 soru  
Sosyal Bilimler-2 Testi: 46 soru
2. **Bu sınavda her testteki doğru cevaplarınızın sayısından yanlış cevaplarınızın sayısının dörtte biri çıkarılacak ve kalan sayı o bölüme ilgili ham puanınız olacaktır.**
3. Kitapçığın sayfalarındaki boş yerleri müsvedde için kullanabilirsiniz.
4. Cevaplamaya istediğiniz sorudan başlayabilirsiniz. Bir soru ile ilgili cevabınızı cevap kâğıdında o soru için ayrılmış olan yere işaretlemeyi unutmayınız.
5. Bu kitapçıkta yer alan her sorunun sadece bir doğru cevabı vardır. Cevap kâğıdında bir soru için birden çok cevap yeri işaretlenmişse o soru yanlış cevaplanmış sayılacaktır. İşaretlediğiniz bir cevabı değiştirmek istediğinizde silme işlemini çok iyi yapmanız gerektiğini unutmayınız.

1. Bu testte sırasıyla, Türk Dili ve Edebiyatı (1-24), Tarih-1 (25-34), Coğrafya-1 (35-40) alanlarına ait toplam 40 soru vardır.
2. Cevaplarınızı cevap kâğıdının Türk Dili ve Edebiyatı-Sosyal Bilimler-1 Testi için ayrılan kısmına işaretleyiniz.

1. Garip Hareketi'ne bağlı şairlerin günlük yaşamda farklı durumlarla karşı karşıya kaldıklarında bu duruma uygun sözcükleri çekip aldığı bir sözler ve beylik düşünceler sandığı vardır.

**Bu cümledeki altı çizili sözü anlamca karşılayabilecek bir kullanım aşağıdakilerin hangisinde vardır?**

- A) Abdülhak Hâmit, üslubunda yer yer dikkat çeken itinasızlık ve alışılmamış hayal sistemi yüzünden eleştirilmiştir.
- B) Ahmet Hâşim, ruhunun derinliklerinde yer alan duyguları ve arzuları güçlü bir biçimde aktaran büyük bir sanatçıdır.
- C) Yahya Kemal'in şiir görüşü, dil mükemmeliyeti ve müziğe dayandığı için kelime seçiminde titizdir.
- D) Cahit Sıtkı, fazla derin olmamakla birlikte akıcı ve ahenkli bir dil kullandığı için sevilerek okunmuştur.
- E) Ece Ayhan, sanat hayatı boyunca basmakalıp ifadelerden özellikle kaçınmış; sözcükler arasında tuhaf bağlantılar kurmuştur.

2. 1841 yılında Blyth, 1856'da da Valenciennes tarafından bilim dünyasına tanıtılan, 1800'lü yıllardaki verilere göre Ankara, Eskişehir, Afyon, Konya ve Karaman'ın dağlık bölgelerinde varlığını sürdürürken 1960'lı yıllarda sayısı 50'nin altına düşerek çeşitli nedenlerle nesli tükenme tehdidiyle karşı karşıya kalan, 1966 yılında 420 kilometrekarelik bir alanda koruma altına alınan Anadolu yaban koyunu bugün Konya'da varlık göstermektedir.

**Bu cümleden Anadolu yaban koyunu ile ilgili kesin çıkarılabilecek yargı aşağıdakilerden hangisidir?**

- A) 1800'lü yıllardan günümüze kadar sayılarında düzenli bir biçimde azalma meydana gelmiştir.
- B) Koruma altına alınması neslinin yok olma tehdidinin tamamen ortadan kalkmasını sağlamıştır.
- C) İnsanların varlığını öğrenmeleri iki araştırmacının çalışmaları sayesinde mümkün olmuştur.
- D) Günümüzde bir yerde varlığını sürdürmesine karşın engebeli bölgeler doğal yaşam alanlarıdır.
- E) Bilim insanlarının dünyayı bilgilendirme çabaları sayesinde yok olmalarının önüne geçilmiştir.

3. İnsan kuşkulananın da onaylamanın da uymanın da nerede gerekli olduğunu bilmelidir. Böyle davranmayan usun erkinden anlamaz. Bu üç ilkedен yoksun insanlar vardır. Onlar kanıtlanma sanatından anlamadıkları için kanıtlanma gücüne dayanarak iş göremezler. Neye bağlı kalmanın gerektiğini bilmediklerinden her nesneden kuşkulanırlar ya da ne zaman yargı vermenin gerektiğini bilmeyişleri yüzünden her konuya "evet" derler.

**Bu parçadan aşağıdakilerin hangisine ulaşılabilir?**

- A) İnsanlar, duygularını her zaman kontrol edebilmeyi bilmelidir.
- B) Davranış şekilleri, akla dayandırılarak yerine göre ayarlanmalıdır.
- C) Aklını kullanmayı bilen kişi, insanlarla iyi geçinmeyi de bilir.
- D) Başkalarını onaylarken kuşkucu davranışlarda bulunulmamalıdır.
- E) Bir konuda karar verirken sonuçlarını da tahmin etmek gerekir.

4. İyonya'nın büyük bir medeniyet olmasının birçok avantajı vardı. Her şeyden önce İyonya, adalar ve küçük körfezler ülkesiydi. Böylece farklı ada ve körfezlerde, farklı siyasal sistemler oluştu. Tek bir güç, bölgenin tümünde toplumsal ve entelektüel bir tekdüzelik kuramamış böylece hür düşünce ve serbest araştırma mümkün olmuştu. Burada, Orta Doğu'nun Fenike alfabesi Grek diline uygulanmış, okuma yazma yaygınlaşmıştı. Üstelik siyasal güç tüccarların eline geçmiş ve onlar da zenginliklerinin dayanağı olan teknolojiyi etkin bir biçimde kullanmaya çalışmışlardır.

**Bu parçada İyonya ile ilgili aşağıdakilerden hangisine ulaşılamaz?**

- A) Bilim için elverişli bir ortam oluşturduklarına
- B) Merkezî bir yönetim sisteminin olmadığına
- C) Deniz etrafında oluşmuş bir uygarlık olduğuna
- D) Siyasal gücü olan tüccarların zenginliklerinin temelini teknoloji olduğuna
- E) Farklı uygarlıkların etkisi altında kaldıklarına

5. Toplumsalın ete kemiğe büründüğü ortam, ortak zemine sahip bireylerin beraberce oluşturdukları ve paylaştıkları yaşama dünyası, özneler arası dünyadır. Müştereklik yüklü bir ruhsal durum olan toplumsal buradan neşvünema bulur. Toplumsal taşıyan, toplumsal ruha can veren bireyler olmalı ki bu ruh mevcudiyetini sürdürebilsin. Toplumsala sırt çeviren bireyler hem kendi yaşantılarını hem de toplum hâlinde varoluşu hasara uğratar. Özneler arası dünyanın derin yapısını oluşturan toplumsal, bireyleri ötekine kapı açmaya sevk ve teşvik eder. Bu kapının açılması toplumsalı daha da güçlendirir. Özneler arası dünyaya bireyler kendi iradeleriyle katılırlar. Zaten bu dünya da katılanların el birliğiyle oluşturulur. Orada bulunmak için bulunmayı arzu etmek, kendini ve ötekileri bir bilinç varlığı olarak tanımak ve kabullenmek, diğerleriyle birlikte o dünyaya can vermeyi istemek lazımdır. Orada doğan ruh olarak toplumsal da işte bu istek ve iradede güç alır.

**Bu parçadan toplumsallık ile ilgili aşağıdakilerin hangisine ulaşılabilir?**

- A) Özneler arası ilişki kurallarını bilip uygulamaya öncelik vererek bir arada yaşamaktır.
- B) Bireylerin varoluş sebeplerine hâkim olarak toplumun gelişmesine katkıda bulunmasıdır.
- C) Kendi varoluşunu tamamlamış insanların başka insanlara yardım etmeyi kabullenmesidir.
- D) Bir arada olma ruhunu ve bu ruhla bir arada yaşamayı kabul eden bireyler topluluğudur.
- E) Evrendeki varlıkların kendimizle eşit mesafede haklara sahip olduğunu bilerek yaşamaktır.

6. Sinema yirminci yüzyıla aittir ve bu yüzyılın özellikleriyle belirlenip oluşmuş bir kurumdur. Geçmişleri yüz yıllara dayanan öteki sanatsal faaliyetlerin arasında, doğrudan teknolojiye bağımlı olan ilk yaratıcılık alanıdır ve üstelik yüzlerce kopyası çıkarılabilecek milyonlarca kişi tarafından aynı anda izlenebilecek filmler üretmek üzere kurulmuştur. Dolayısıyla filmler, sıradan insana hitap ettikleri, kolay anlaşılır oldukları, ciddi sorunlarla değil günlük yaşamda karşılaşılan manzaralarla ilgilendikleri için çok uzun süre yalnızca bir "eğlence aracı" olarak görülüp küçümsenmişlerdir. Buradan, belirli bir bakış açısından eğlenmenin de pek saygı duyulacak bir şey olmadığı anlaşılmaktadır. Endüstrinin kurallarından uzak durmaya ve sistemin dışında kalmaya çalışılarak üretilen filmler de olmuştur. Varlıklarının temel ilkesi "arayış", "farklılık", "sorgulama" ve "yenilik" olan bu filmlerin dışında eleştirmenlerce geleneksel "özgün"lük kıstasına uygun bulunarak "sanat" olarak değerlendirilen filmleri de unutmamak gerekir.

**Bu parçada sinema ile ilgili aşağıdakilerin hangisine değinilmemiştir?**

- A) Hedef kitlesinin miktarına
- B) Diğer sanatlarla arasındaki farkına
- C) Sanat filmlerinin yenilikçi yapısına
- D) Bazı kişilerce değersiz bulunduğu
- E) Hitap ettiği kitlenin niteliğine

7. I.  
Şimdiye dek mukarrerdi beni yüz kez öldürmek  
Günde bin kez öldüğü yeğdür deyü öldürmedi

II.  
Gel beni öldür ey âfet hançer-i bürrân ile  
Kurtulayım günde bin kez ölmeden hicrân ile

**Bu beyitlerle ilgili aşağıdakilerden hangisi söylenemez?**

- A) İkinci beyitte redif ve zengin uyak kullanılmıştır.
- B) İkinci beyit matla özelliği göstermektedir.
- C) İki beyitte de ölüm teması işlenmiştir.
- D) İki beyitte de mübalağa yapılmıştır.
- E) İkinci beyitte şair sevgiliye seslenmiştir.



8. Aşağıdaki dizelerden hangisi farklı bir şiir türü örneğidir?

- A) Köroğlu geliyor Kenan elinden  
Kalkanı elinde kılıç belinde
- B) Cenk gününde döğüş olur, kan kokar  
Şehitlerden ılgıt ılgıt kan akar
- C) Yürü yiğit beyler namınız kalsın  
Kelle getirenler bahşişin alsın
- D) Ayrılığın bir ağrıdır vurur şakaklarımda  
Ve büyür gözlerimde bir okyanus kadar
- E) Ardımda on bin kılıç, önümden on bin atlı  
Savaş hayattan güzel, zafer, ondan da tatlı

9. Annem yaşlanırken,  
Büyürdüm ben de...  
Kahvesini çekerdim el değirmeninde,  
İpliğini  
İğnesine geçirirdim,  
Saat  
Kaç sularında  
Söyledim,  
Gözlüğünü bulurdum  
Koyduğu yerde,  
Su küpünü  
Suyla doldururdum,  
Öperdim ellerinden...  
Teyzelerine gördüm böyle işleri...  
Annemin dargın  
Yaprağıydım ben...

**Bu şiirle ilgili aşağıdakilerden hangisi söylenemez?**

- A) Anlamca ilişkili sözler bir arada kullanılmıştır.
- B) Anlamca karşıtlık oluşturacak durumlara yer verilmiştir.
- C) İnsana özgü bir özellik onun dışındaki bir varlığa verilmiştir.
- D) İki varlık arasında benzerlik kurulurken kendisine benzetilen varlık söylenmemiştir.
- E) Benzetme yönü ve edatı kullanılmadan iki varlık arasında benzerlik ilişkisi kurulmuştur.

10. Aşağıdaki savlardan hangisinin Türkçe karşılığı yanlış verilmiştir?

- A) Suv körmeginçe etük tartma  
(Öfkeyle kalkan pişmanlıkla oturur.)
- B) Aç ne yimes tok ne dimes  
(Aç ne yemez tok ne demez.)
- C) Bir karga birle kış kelmes  
(Bir karga ile kış gelmez.)
- D) Tağ tagka kavuşmas kişi kişiye kavuşur  
(Dağ dağa kavuşmaz, kişi kişiye kavuşur.)
- E) Bu künki işing komda kılma yarın  
(Bugünün işini yarına bırakma.)

11. ...

Göstermek için güzel sesini

Açınca ağzını, düşürdü nevalesini.

Tilki kapıp onu dedi ki: "Efendiciğim,

Size güzel bir ders vereceğim:

Her dalkavuk bir alığın sırtından geçinir,

Bu derse de fazla olmasa gerek bir peynir."

Karga şaşkın, mahcup, biraz da geç ama

Yemin etti gayrı faka basmayacağına.

**Bu parçayla ilgili aşağıdakilerden hangisi söylenemez?**

- A) Manzum olarak yazılmıştır ve teması "kibir" dir.
- B) Bir fablın sonuç ve öğüt bölümlerinden alınmıştır.
- C) Kahramanları tilki ve karga alegorik varlıklardır.
- D) Kişileştirme ve intak sanatlarından yararlanılmıştır.
- E) Okuyucuya aktarılmak istenen düşünce atasözleriyle verilmiştir.

12. Yiğitler çağrışır yaman gün olur  
Allah Allah derler yüksek ün olur  
Çarba çarba döğüşicek bun olur  
Hasmin arar koçlar meydan içinde
- Bu dörtlük aşağıdaki nazım biçimlerinin hangisinden alınmış olabilir?**

- A) Türkü  
B) Varsağı  
C) Koşma  
D) Semai  
E) Mâni

13. I. Şathiye  
II. Deme  
III. Mersiye  
IV. Nefes  
V. Devriye

**Numaralanmış nazım türlerinden hangisi tasavvuf edebiyatı içerisinde yer almaz?**

- A) Yalnız I                      B) Yalnız III                      C) Yalnız IV  
D) III ve V                      E) II ve V

14. **Aşağıdaki açıklamalardan hangisi parantez ( ) içinde verilen terimle uyuşmamaktadır?**

- A) Mektupların, resmî yazıların, güzel yazı örneklerinin ve kısa mensur metinlerin bir araya toplandığı yapıtlardır. (Münşeat)
- B) Bir kişinin gezip gördüğü yerlerin güzellikleri, insanlarının örf ve âdetleri hakkında yazdığı yazılardır. (Letaifname)
- C) Yabancı bir ülkeye elçi olarak gönderilen bir görevlinin o ülkenin siyasi yapısı, örf ve âdetleri, gelişmişlik düzeyi, değişik özellikleri hakkındaki izlenimlerine yer verdikleri yapıtlardır. (Sefaretname)
- D) Edebiyatçıların, sanatçıların ya da başka alanlarda ün yapmış kişilerin kısa hayat hikâyelerine ve özelliklerine ya isimlerinin harf sırasına ya da zaman sırasına göre düzenlenen biyografik kitaplarıdır. (Tezkire)
- E) Ahilik teşkilatına girenlerin uyması gereken kuralları belirleyen eserlerdir. (Fütüvvetname)

15. ----, İranlı şair Feridüddin-i Attâr'ın aynı isimli Farsça eserinden yola çıkılarak Gülşehrî tarafından kaleme alınmış Türkçe bir mesnevidir. Firdevsî'nin İran-Turan mücadelelerini, İran'ın ulusal kahramanı Rüstem'in yiğitliklerini ve Büyük İskender'in İran'ı işgalini anlattığı ---- derleme eseri ise Farsça yazılmıştır.

**Bu parçada boş bırakılan yerlere aşağıdakilerden hangisi sırasıyla getirilmelidir?**

- A) *Mantık'ı Tayr - Şehnâme*  
B) *Hayrâbâd - Hüsn ü Aşk*  
C) *Beng ü Bâde - İskendernâme*  
D) *Vesiletü'n Necat - Mesnevi*  
E) *Hüsrev ü Şirin - Hayriyye*

16. *Mâlumât* dergisinde Hasan Asaf adlı genç bir şairin *Burhan-ı Kudret* adlı şiirinin yayımlanması üzerine derginin yazarlarından biri olan Menemenlizâde Mehmet Tâhir, şiire bir ek yazarak şiirin geleneksel uyak anlayışına uymadığını öne sürmüştür. Mehmet Tâhir, şiirin bir yerinde geçen "muktebes" sözüyle uyaklı olan "abes" sözcüğünü diğer beyite eklemiş ve böylece uyakla ilgili bir tartışma başlatmıştır. Bu eleştirinin üzerine Hasan Asaf kendini savunurken dönemin önemli sanatçılarından ---- tartışmaya katılmış, divan şiiri kurallarının bırakılması gerektiğini belirtmiştir. ---- ise divan şiirinin üstün yönlerine sadık kalınması gerektiğini savunarak tartışmaya dâhil olmuştur.

**Bu parçada boş bırakılan yerlere aşağıdaki sanatçılardan hangileri getirilmelidir?**

- A) Nâmık Kemal - Ziyâ Paşa  
B) Ahmet Mithat Efendi - Nâmık Kemal  
C) Recâizâde Mahmut Ekrem - Muallim Nâci  
D) Nâmık Kemal - Recâizâde Mahmut Ekrem  
E) Ziyâ Paşa - Muallim Nâci

17. Aşağıdakilerden hangisi İkinci Yeni şiirine örnek gösterilemez?

- A) Biliyor musun sen bir şiirde ilk satırsın ilk sözcük  
Beyaz bir gül  
Beyaz bir gül ne kadar beyaz olursa o kadar  
Ne kadar suysa bir su  
O kadar
- B) ben bütün hüznüleri denemişim kendimde  
canımla besliyorum şu hüznün kuşlarını  
bir bir denemişim bütün kelimeleri  
yeni sözler buldum seni görmeyeli
- C) İşim gücüm budur benim,  
Gökyüzünü boyarım her sabah,  
Hepiniz uykudayken.  
Uyanır bakarsınız ki mavi.
- D) Senin bu ellerinde ne var bilmiyorum göğe bakalım  
Tuttukça güçleniyorum kalabalık oluyorum  
Bu senin eski zaman gözlerin yalnız gibi ağaçlar gibi  
Sularım ısınsın diye bakıyorum ısınıyor
- E) Öküzün gözü veya dananın kuyruğu  
Kadifekale veya Sen Nehri  
Ha Sezai ha ping-pong masası  
Ha ping-pong masası ha boş tüfek

18.

Yazar	Eser	Sanat Anlayışı
Oktay Rifat	I	Garip
II	<i>Bir Gün Mutlaka</i>	Toplumcu Şiir
Ece Ayhan	<i>Bakışsız Bir Kedi Kara</i>	III

Bu tabloda numaralanmış yerlere aşağıdakilerden hangisi getirilmelidir?

- | I                           | II               | III         |
|-----------------------------|------------------|-------------|
| A) <i>Vazgeçemediğim</i>    | Nâzım Hikmet     | İkinci Yeni |
| B) <i>Perçemli Sokak</i>    | Ataol Behramoğlu | İkinci Yeni |
| C) <i>Telgrafhane</i>       | Süreyya Berfe    | Garip       |
| D) <i>Rahatı Kaçan Ağaç</i> | İsmet Özel       | Mavi        |
| E) <i>Karga ile Tilki</i>   | Gülten Akın      | Garip       |

19. • Roman, Zebercet adlı karakterin iç dünyasının, karmaşalarının açığa çıkarılması üzerinde şekillenir.
- Roman, Mümtaz ile Nuran'ın aşkı çerçevesinde eski-yeni, Doğu-Batı ve aşk-toplumsal sorumluluk çatışmasını irdeler.
- Doğu-Batı çatışmasını yansıtmayı amaçlayan roman, ana karakterlerden Neriman'ın yaşadığı bunalımlar ve iç çatışmalar yoluyla biçimlenir.
- Ana karakterlerini Hayri İrdal, Halit Ayarçı ve Doktor Ramiz'in oluşturduğu romanda Türk modernleşmesi bir parodiye dönüştürülür.

Bu cümlelerde aşağıdaki romanlardan hangisiyle ilgili bilgiye yer verilmemiştir?

- A) *Fatih-Harbiye*  
B) *Saatleri Ayarlama Enstitüsü*  
C) *Aylak Adam*  
D) *Anayurt Oteli*  
E) *Huzur*

20. Aşağıdaki verilen romanlardan hangisi nehir romana örnek gösterilemez?

- A) *Esir Şehrin İnsanları, Esir Şehrin Mahpusu, Yol Ayrımı*  
B) *Yeşil, Safran Sarı, Mor*  
C) *Azap Toprakları, Ak Topraklar, Tutsak*  
D) *Yılanların Öcü, Irazca'nın Dirligi, Kara Ahmet Destanı*  
E) *Ölmez Otu, Ortadirek, Yer Demir Gök Bakır*

21. Bu dönemin sanatçıları içe kapanık, karamsar mi-zaca sahip olmaları sebebiyle gerçeklerden kaçıp hayallere sığınmışlardır. Sanat yapmayı ve güzel-liği yansıtmayı amaçladıkları için eserlerinde bireysel konuları işlemişlerdir. Eserlerinde hayal-gerçek çatışması, karamsarlık, gerçeklikten kaçıp tabiata sığınma temalarını görmek mümkündür. Dönemin eserleri teknik bakımdan daha güçlü, Batı tarzına uy-gundur.

**Aşağıdakilerden hangisi bu parçada sözü edilen anlayışa ait eserlerden biri değildir?**

- A) *Sefile*
- B) *Bir Ölünün Defteri*
- C) *Ferda-yı Garam*
- D) *Kuyruklu Yıldız Altında Bir İzdivaç*
- E) *Salon Köşelerinde*

22. **Pişekâr:** Canım hiddeti filan bertaraf et de, ben kısa tarafını göstereyim.

**Kavuklu:** Sen onu babanın ölmüş eşeklerine göster.

**Pişekâr:** Öylesi değil a birader, sen sadece ismini bana bağışla!

**Kavuklu:** Al bakalım bir daha, sonra ben isimsiz mi kalayım, budala?

**Pişekâr:** Hayır canım. Bir adamın ismini soracağın vakit kabaca adın ne denmemesi için nezaketen isminizi bağışlar mısınız, derler. Şimdi anlaşıldı ya, isminiz nedir?

**Kavuklu:** Hamdi...

**Pişekâr:** Nerenin Hamdi'si?

**Kavuklu:** Bostancının, bakın ne kadar körpe!

**Bu parçayla ilgili**

- I. Orta oyununun muhavere bölümünden alınmıştır.
- II. Gülmece unsuru yanlış anlaşılıma dayanmaktadır.
- III. Doğaçlama yoluyla oluşturulmuştur.

**yargılarından hangileri doğrudur?**

- A) Yalnız I
- B) Yalnız II
- C) I ve II
- D) II ve III
- E) I, II ve III

23. Türk edebiyatının en tanınan ve yıllardan beri eser-leri en çok rağbet gören yazarlarından biridir. Daha çok romancı kimliğiyle bilinmesine karşın edebiyat âlemine tiyatroya olan ilgisi neticesinde atım atmış ve ömrü boyunca bu ilgisinden hiç vazgeçmemiştir. Yazar, telif piyesler yazmasının yanında -özellikle Fransız tiyatrosundan- çeviri ve adapteler hazırlayarak Türk tiyatrosunun gelişmesine önemli katkılarda bulunmuştur. Tiyatroyla ilgili faaliyetleri telif piyes metni yazmak veya adapte etmekle sınırlandırılmayacak kadar geniştir. Onun bir tür olarak tiyatro bağlamındaki en özgün yönü ise eleştirmenliğidir. Yazdığı bir piyeste dekor yapılamadığı için eser roma-na dönüşmüş, yazar da romancılığa başlamıştır. *Balıkesir Muhasebecisi* ve *Tanrıdaki Ziyafeti* eserle-rinden bazılarıdır.

**Bu parçada bahsedilen sanatçı aşağıdakilerden hangisidir?**

- A) Faruk Nafiz Çamlıbel
- B) Reşat Nuri Güntekin
- C) Halit Fahri Ozansoy
- D) Ahmet Kutsi Tecer
- E) Aka Gündüz

24. Toplumsal koşullar değiştiği zaman "yazın"ın da değişmesi doğaldı. Büyük devrim Fransız toplumunu derinden derine değiştirdiğine göre bu topluma yeni bir yazın sunmak kaçınılmaz olmuştu. Geçirilen büyük değişimler sonucunda çağdaş insan coşkulu ve hüzünlü bir niteliğe bürünmüş, acılı bir yetersizlik ve eksiklik duygusu içinde kıvrılmaktaydı. Öncelikle usumuza seslenen klasik yazın böyle bir insanın yö-nelimlerini dile getiremezdi.

**Bu parçada sözü edilen edebî akım aşağıdakilerden hangisidir?**

- A) Natüralizm
- B) Klasisizm
- C) Realizm
- D) Romantizm
- E) Sembolizm

25. I. Ridde Olayları  
II. Kur'an-ı Kerim'in çoğaltılması  
III. Ecnadeyn Savaşı
- gelişmelerinden hangisi Hz. Ebubekir'in halifeliği zamanında gerçekleşmiştir?**
- A) Yalnız I      B) Yalnız II      C) Yalnız III  
D) I ve III      E) II ve III

26. **Aşağıdakilerden hangisi Malazgirt Savaşı'ndan sonra kurulan Türk beyliklerinden biri değildir?**
- A) Sökmenliler  
B) İnançoğullar  
C) Tanrıvermişoğulları  
D) Eretna Devleti  
E) Çubukoğulları

27. **Mısır Seferi sonrası;**
- I. Halifelik Osmanlı Devleti'ne geçti.  
II. Doğu Akdeniz'den geçen Baharat Yolu Osmanlı'nın denetimine geçti.  
III. Memlûk Devleti yıkıldı; Suriye, Filistin, Lübnan, Mısır ve Hicaz bölgesi Osmanlı topraklarına katıldı.
- Bu sonuçların siyasi, dinî ve ekonomik alanlarla doğru olarak eşleştirilmesi aşağıdakilerden hangisinde verilmiştir?**

	<u>SİYASAL</u>	<u>DİNÎ</u>	<u>EKONOMİK</u>
A)	I	II	III
B)	I	III	II
C)	II	I	III
D)	III	II	I
E)	III	I	II

28. **Osmanlı Devleti'nin kapitülasyon siyaseti hakkında aşağıdakilerden hangisi söylenemez?**
- A) İlk kapitülasyonlar Cenevizlilere verilmiştir.  
B) Verilişinden itibaren mütekabiliyet esası uygulanmıştır.  
C) Osmanlı Devleti Venedikliler ile olan siyasi ilişkilerinde kapitülasyonları denge unsuru olarak kullanmıştır.  
D) Mısır'ın fethinden sonra kapitülasyonların önemi daha da artmıştır.  
E) Başlangıçta kapitülasyonlar padişahların dönemi ile sınırlandırılmıştır.

29. **Osmanlı Devleti'nde (1774) Küçük Kaynarca Antlaşması ile (1853-1856) Kırım Savaşı arasında yaşanan gelişmeler hakkında proje konusu seçmek isteyen bir öğrenci aşağıdakilerden hangisini tercih edemez?**
- A) Islahat Fermanı'nın ilanı  
B) Sened-i İttifak'ın imzalanması  
C) Patrona Halil İsyanı  
D) Tanzimat Fermanı'nın ilanı  
E) Nizam-ı Cedid Ordusu'nun kurulması

30. **Fransız Devrimine giden yolu açan antlaşma aşağıdakilerden hangisidir?**
- A) Balta Limanı Antlaşması  
B) Karlofça Antlaşması  
C) Westphalia Antlaşması  
D) Berlin Antlaşması  
E) Paris Antlaşması

31. I. Selânik  
II. Sofya  
III. İstanbul  
IV. Manastır

**Mustafa Kemal yukarıdaki şehirlerden hangilerinde askerî eğitim görmüştür?**

- A) I ve II  
B) I, II ve III  
C) I, III ve IV  
D) II ve III  
E) II, III ve IV

32. Millî İktisat Politikası aşağıdaki savaşlardan hangisinin başlamasıyla uygulamaya konulmuştur?

- A) Kırım Savaşı  
B) Trablusgarp Savaşı  
C) I. Balkan Savaşı  
D) II. Balkan Savaşı  
E) I. Dünya Savaşı

33. Atatürk, halkçılık ilkesi ile toplumda hiç kimsenin diğerinden üstün olmaması, kanun önünde herkesin eşitliği gibi evrensel bir anlayış ortaya koymuştur. Bu ilkeye göre hiçbir toplumsal grubun ve zümrenin ayrıcalığı yoktur.

**Buna göre;**

- I. Medeni Kanun'un kabul edilmesi,  
II. Lakap ve Ünvanların Kaldırılmasına Dair Kanun  
III. Kabotaj Kanunu'nun kabul edilmesi,  
IV. Latin harflerinin kabul edilmesi

**uygulamalarından hangisi doğrudan halkçılık ilkesi ile ilişkilendirilebilir?**

- A) I ve II  
B) I ve III  
C) II ve III  
D) II ve IV  
E) III ve IV

34. Yakın tarihimizde görülen; ABD Başkanı Johnson'ın İsmet İnönü'ye gönderdiği uyarı mektubunun aşağıdakilerden hangisine yönelik olduğu söylenebilir?

- A) Türkiye - İran ilişkileri  
B) Türkiye - İsrail ilişkileri  
C) Türkiye - SSCB ilişkileri  
D) Türkiye - Mısır ilişkileri  
E) Türkiye - Kıbrıs Rumları ilişkileri

35. Jeolojik kökenli olan volkanlar, yer kabuğunun zayıf noktaları olan levha sınırlarıyla uyumluluk gösterir.

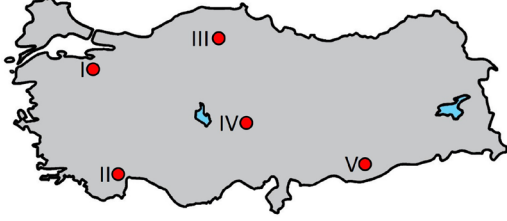
**Bu ekstrem doğa olayının dünyadaki dağılışı ile;**

- I. Deprem  
II. Tsunami  
III. Tropikal siklon  
IV. Meteor düşmesi

**ekstrem doğa olaylarından hangilerinin dağılışı daha uyumlu olduğu söylenebilir?**

- A) I ve II  
B) I ve III  
C) II ve III  
D) II ve IV  
E) III ve IV

36. Türkiye'de yükseltisi fazla olan dağların bulunması ve bu dağların bazılarında yılın büyük bölümünde kar örtüsünün olması kış turizmini geliştirmiştir.



Haritada numaralandırılarak gösterilen yerlerin özellikleri düşünüldüğünde hangisinde bu turizm türünün daha az gelişmesi beklenir?

- A) I B) II C) III D) IV E) V

37. Gelişmekte olan ülkelerde gelir dağılımının dengesiz olmasından dolayı sağlık ve eğitim hizmetlerinin yetersizliği, işsizlik gibi sosyal ve ekonomik sorunlar fazladır.



Haritada numaralandırılarak gösterilen yerlerde bulunan ülkelerden hangilerinde bu sorunların daha fazla yaşanması beklenir?

- A) I ve II B) I ve III C) II ve III  
D) II ve IV E) III ve IV

38. Türkiye maden çeşitliliği açısından oldukça zengin bir ülke olmakla birlikte, maden yatakları genel olarak küçük rezervli ve dağınık bir hâlde bulunmaktadır.

**Aşağıdakilerden hangisi bu durumun oluşmasının temel nedenleri arasındadır?**

- A) Dağların farklı doğrultularda uzanması  
B) Tortul kayaların geniş alanlarda görülmesi  
C) Farklı toprak türlerine sahip alanların bulunması  
D) Geçmiş dönemlerde iklim değişikliklerinin yaşanması  
E) Jeolojik yapının karmaşık ve faylarla parçalanmış olması

39. Deniz ve okyanuslarda su yüzeyinden derinlere inildikçe canlı tür çeşitliliğinde ve sayısında değişiklik gözlenir.

**Bu değişikliğin oluşmasında;**

- I. Basınç değerlerinin artması  
II. Sıcaklık değerlerinin azalması  
III. Deniz altı heyelanlarının gerçekleşmesi  
IV. Gelgit sonucu deniz seviyesinin değişmesi

**durumlarından hangileri daha fazla etkilidir?**

- A) I ve II B) I ve III C) II ve III  
D) II ve IV E) III ve IV

40. Hava, su ve toprak kendini belirli koşullar altında yenileyebilme özelliğine sahip doğal unsurlardır. Ancak gerekli koşulların sağlanamaması, bu unsurların artık kendini yenileyememesine ve buna bağlı olarak da çeşitli sorunların ortaya çıkmasına neden olmaktadır.

**Aşağıdakilerden hangisi bu sorunların oluşmasında daha az etkiye sahiptir?**

- A) Tarımsal verimi artırmak için suni gübre kullanılması
- B) Enerji üretiminde fosil yakıt kullanımının fazla olması
- C) Kanalizasyon atıklarının su kaynaklarına doğrudan bağlanması
- D) Endüstriyel amaçlı ağaç dikim alanlarında ham madde üretiminin artması
- E) Beşerî faaliyetler ile su kaynaklarının ortalama sıcaklığının yükselmesi



1. Bu testte sırasıyla, Tarih-2 (1-11), Coğrafya-2 (12-22), Felsefe Grubu (23-34), Din Kültürü ve Ahlak Bilgisi (35-40), Din Kültürü ve Ahlak Bilgisi dersini yasal olarak almak zorunda olmayan veya farklı müfredat ile alanlar için Felsefe Grubu (41-46) alanlarına ait toplam 46 soru vardır.

2. Cevaplarınızı cevap kâğıdının Sosyal Bilimler-2 Testi için ayrılan kısmına işaretleyiniz.

1. Sözlü tarih, tarihî olaylarla ilgili birinci elden bilgiye sahip kişilerden elde edilen bilgiyi kaydetmenin ve bunu toplam bilgiye eklemenin bir yoludur. Geçmişteki olaylara şahitlik etmiş ya da onlara katılmış kişilerin anıları son derece önemlidir.

**Buna göre aşağıdaki olayların hangisi ile ilgili sözlü tarih kaynaklarından günümüzde yararlanmak mümkün değildir?**

- A) Kıbrıs Barış Harekati  
B) Kore savaşı  
C) 93 Harbi  
D) Körfez savaşı  
E) Ermenistan'ın Karabağ işgali

2. Tarih öncesi dönemlere ait bir yerleşim yerinde yapılan kazılarda elde edilen bulgulara göre tarihsel sürecin sırasıyla yaşandığı tespit edilmiştir.

**Buna göre aşağıdaki kalıntıların hangilerine sırasıyla rastlanması beklenir?**

- A) Tunçtan silahlar - çanak çömlekler - taştan baltalar  
B) Çanak çömlekler - tunçtan silahlar - taştan baltalar  
C) Taştan baltalar - çanak çömlekler - tunçtan silahlar  
D) Taştan baltalar - tunçtan silahlar - çanak çömlekler  
E) Çanak çömlekler - taştan baltalar - tunçtan silahlar

3. Hicretten sonra yapılan Medine Sözleşmesi ile; din, dil, ırk fark etmeksizin bütün herkes eşit olarak kabul edilmiş, Medine şehrinin sınırları da belirlenmiş, Müslümanların burada yaşayan gayrimüslimler ile birlikte kardeşçe yaşayabilmesi amaçlanmıştır.

**Bu sözleşme ile ilgili;**

- I. Medine'de sadece Müslümanların huzuru ve refahı güvence altına alınmıştır.  
II. Medine Sözleşmesi'nin sadece belli bölgelerde geçerliliği belirlenmiştir.  
III. Toplumdaki insanların hepsi aynı hak ve özgürlüklere sahip olmamıştır.  
IV. Hukuk devletinin temeli oluşturulmuştur.

**yargılarından hangisi söylenemez?**

- A) I ve II  
B) I ve III  
C) II ve IV  
D) I, II ve III  
E) II, III ve IV

4. Tarih öğretmeni, derste öğrencilerine Kanuni Sultan Süleyman Dönemi'nde Osmanlı Devleti'nde sanat ve kültür faaliyetlerini anlatırken, Sultan Süleyman'ın çok sevdiği bir şairi beyitlerine kızdığı için İstanbul'dan sürgün ettiğinden bahsetmiştir.

**Metne göre Kanuni Sultan Süleyman tarafından sürgün edilen ünlü şair aşağıdakilerden hangisidir?**

- A) Figanı  
B) Şeyhi  
C) Baki  
D) Nabi  
E) Nefi

5. XV. yüzyılın ortalarından XVI. yüzyılın sonlarına kadar süren Coğrafi Keşifler, yeni kara parçaları ve ticaret yollarını ortaya çıkarmış, dünyanın jeopolitik ve ekonomik dengesini değiştirmiş, dünyayı Eski ve Yeni Dünya olarak ikiye ayırmıştır. Bu süreçte Avrupalılar; Amerika, Asya, Afrika ve Uzak Doğu'nun birçok bölgesine keşif yolculukları gerçekleştirmiştir.

**Buna göre Coğrafi Keşifler hakkında aşağıdaki-lerden hangisi söylenemez?**

- A) Coğrafi Keşifler Asya, Afrika ve Avrupa'da hayatın her alanında etkili olmuştur.
- B) Atlas Okyanusu limanlarının önemi azalmış Akdeniz limanları önemini artırmıştır.
- C) Bu keşifler Avrupa'nın zenginleşmesine sebep olmuştur.
- D) Keşfedilen yeni yerlerdeki Aztek ve İnka gibi medeniyetler talan edilmiştir.
- E) Coğrafi Keşiflerle birlikte patates, domates, mısır, fasulye, kakao, vanilya ve tütün gibi ürünler Akdeniz dünyasına girmiştir.

6. **Lale Devri'nde (1718-1730) yapılan yenilikler aşağıdaki alanlarla eşleştirildiğinde hangisi dışarıda kalır?**

- A) Sağlık
- B) Ekonomik
- C) Askerî
- D) Kültürel
- E) Sanat

7. "Osmanlı Devleti'nin toprak bütünlüğü Avrupa devletlerinin güvencesi altında olacaktır" **maddesi aşağıdaki antlaşmalardan hangisinde yer almıştır?**

- A) 1856 Paris Antlaşması
- B) 1878 Berlin Antlaşması
- C) 1533 İstanbul Antlaşması
- D) 1833 Hünkâr İskeleyi Antlaşması
- E) 1838 Balta Limanı Antlaşması

8. Kazım Karabekir 1882 tarihinde İstanbul'da doğdu. 1902'de Harbiye Mektebi'ni bitirdi. İttihat ve Terakki Cemiyeti'nin kurulmasında büyük rol oynadı. Çanakkale Savaşı'nın başlaması üzerine de cepheye gönderilerek Kerevizdere'de Fransızlara karşı üç ay boyunca mücadele etti. 1916 senesinde de Kutül-Amare'yi kuşatan 18. Kolordu komutanlığına getirildi. Mondros Ateşkes Anlaşması sırasında da Sadrazam Ahmed İzzet Paşa'nın genelkurmay başkanlığı önerisini kabul etmeyerek Milli Mücadele'ye katıldı. Kurtuluş Savaşı'nda da Doğu cephesi komutanlığı yaptı. 15 Kasım 1920 tarihinde de Ermeni ordusunu büyük bir bozguna uğrattı. Rus Sovyet Sosyalist Federe Cumhuriyeti'yle de Kars Antlaşması görüşmelerini yürüttü. 1923'te de İstanbul milletvekili seçilerek Türkiye Büyük Millet Meclisi'ne girdi. 17 Kasım 1924'te kurulan Terakkiperver Cumhuriyet Fırkası'nın da başkanlığı yaptı. 1948 tarihinde Ankara'da hayatını kaybetti.

**Bu parçada Kazım Karabekir Paşa'nın;**

- I. eğitimci kişiliği,
- II. edebî kişiliği,
- III. askerî kişiliği,
- IV. siyasetçi kişiliği,
- V. diplomatik kişiliği

**yönlerinden hangilerine değinilmiştir?**

- A) I ve II
- B) I, II ve III
- C) II ve III
- D) II, III ve IV
- E) III, IV ve V

9. **Mustafa Kemal İsmet Paşa'ya bir telgraf çekerek; "Siz orada sadece düşmanı değil, milletin makûs (kötü) giden talihini de yendiniz" sözünü aşağıdaki savaşlardan hangisinde kullanmıştır?**

- A) Birinci İnönü
- B) Büyük Taarruz
- C) Kütahya - Eskişehir
- D) İkinci İnönü
- E) Sakarya

10. Aşağıdakilerden hangisi Ankara'nın başkent olmasının nedenlerinden biri değildir?

- A) TBMM'nin burada açılmış olması
- B) Jeopolitik açıdan güvenilir bir yerde olması
- C) Güvenlik bakımından Anadolu'nun ortasında bulunması
- D) Kurtuluş Savaşı'nın bu şehirden başlatılması
- E) Ülkenin her tarafına hizmet götürecek uygun bir konumda olması

11. I. Dağlık Karabağ Sorunu

II. Hocalı Katliamı

III. Kanlı Noel

**Yukarıdaki gelişmelerden hangileri Azerbaycan - Ermenistan ilişkileri için söylenebilir?**

- A) Yalnız I
- B) Yalnız II
- C) Yalnız III
- D) I ve II
- E) II ve III

12. Karadeniz Ekonomik İşbirliği Teşkilatı (KEİ), 25 Haziran 1992 tarihinde Türkiye'nin öncülüğünde kurulan ekonomik ve bölgesel bir örgüttür. Merkezi İstanbul'da olan KEİ'nin amacı, üye ülkelerin mevcut potansiyellerinin yanı sıra coğrafi yakınlık ve ekonomik anlamda birbirlerini tamamlayan özelliklerinden yararlanmaktır.

**Bu örgütün üye ülkeler arasında aşağıdakilerden hangisinin gelişimine yönelik çalışmaları daha azdır?**

- A) Politik ilişkiler
- B) Ticari alışveriş
- C) Eğitim projeleri
- D) Askeri tatbikat
- E) Teknolojik iletişim

13. Artan enerji kullanımı ile birlikte hava kirliliği önemli bir sorun haline gelmiştir. Enerji tüketiminin büyük bölümünü oluşturan sanayi tesislerinin, ulaşım araçlarının ve konutların yoğun olduğu alanlarda hava kirliliğine bağlı sorunların da çok olduğu görülmektedir.



**Haritada numaralandırılan alanlardan hangisinde bu sorunların daha fazla yaşanması beklenir?**

- A) I
- B) II
- C) III
- D) IV
- E) V

14. Aşağıda farklı zamanlarda yaşanmış dört ekstrem doğa olayı verilmiştir.

I. 2013'te bir gök taşı Rusya'nın Chelyabinsk bölgesinde yerden 30 km yukarıda parçalanarak 1.400 kişinin yaralanmasına neden olmuştur.

II. 2012'de Orta ve Doğu Avrupa'da yaşanan aşırı soğuklar ile kar yağışı enerji tüketiminin artmasına ve ulaşımın aksamasına neden olmuştur.

III. Sahel Bölgesi'nde 1970'lerden günümüze kadar belirli aralıklarla yaşanan şiddetli kuraklıklar ekonomik sorunlara neden olmuştur.

IV. 1815'te Endonezya'da Tambora Dağı'ndaki volkanik patlama sonucunda ortaya çıkan toz ve kül bulutları Avrupa ile Kuzey Amerika'ya kadar ulaşmış ve bu bölgelerde bir yıl sonra çok soğuk bir yaz mevsimi yaşanmıştır.

**Verilenlerden hangileri oluşumuna göre meteoroloji kökenli ekstrem doğa olaylarına örnek gösterilebilir?**

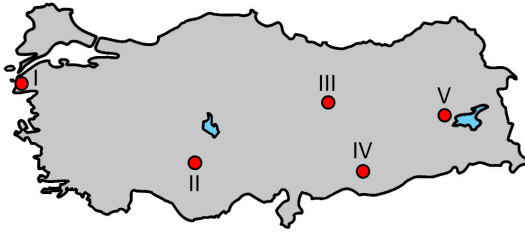
- A) I ve II
- B) I ve III
- C) II ve III
- D) II ve IV
- E) III ve IV

15. Ticaret şehirleri, genellikle ulaşım hatlarının geliştiği ve ticari faaliyetlerin yoğunlaştığı şehirlerdir. Ayrıca hinterlandı geniş, işlek bir limana sahip, ticaretin genellikle liman aracılığıyla yapıldığı liman şehirlerinin de ticari fonksiyonlarının geliştiği söylenebilir.

Aşağıdaki şehirlerden hangisi bu duruma örnek olarak gösterilebilir?

- A) Madrid B) Moskova C) Tokyo  
D) Şam E) Berlin

16. Uluslararası önem taşıyan, bu nedenle takdire ve korunmaya değer doğal oluşumlara, anıtlara ve sitlere "Dünya Mirası" denir. Türkiye, sahip olduğu tarihsel ve doğal miras ile dünyanın sayılı ülkeleri arasındadır.



Haritada işaretlenen yerlerde bulunan kültürel miras eşleştirmelerinden hangisi yanlış verilmiştir?

- A) I- Truva Arkeolojik Alanı  
B) II- Çatalhöyük Neolitik Alanı  
C) III- Divriği Ulu Camii ve Darüşşifası  
D) IV- Göbekli Tepe  
E) V- Ani Harabeleri

17. Orman ürünleri üretimi, uygun doğal koşullara sahip orman zengini ülkelerde daha yaygın olan bir faaliyettir.



Haritada numaralandırılmış yerlerden hangilerinin de bu üretim faaliyeti daha yaygındır?

- A) I ve II B) I ve III C) II ve III  
D) II ve IV E) III ve IV

18. Beslendiği akarsuların beşerî faaliyetlerde yoğun kullanımı sonucunda Aral Gölü'nün kapladığı alan büyük oranda küçülmüştür. Bu durum, gölde ve yakın çevresinde pek çok olumsuz sonuca neden olmuştur.

Aşağıdakilerden hangisi bu sonuçlardan değildir?

- A) Gölün derin kısımlarında kalan suların aşırı tuzlanması  
B) Göl sularıyla gerçekleşen ulaşımın büyük oranda yapılamaması  
C) Göl tabanındaki tuzlu kumların rüzgârlarla çevredeki tarım topraklarına taşınması  
D) Göldeki ve yakın çevresindeki canlıların önemli bir kısmının yok olması  
E) Göl havzasındaki yeraltı sularına yüzeye daha yakın derinlikte ulaşılması

19. Kuraklık beşerî faaliyetler nedeniyle etki alanı genişleyen önemli bir sorundur. Bu sorun, çoğu iklim bölgesinde görülebilir ancak kurak iklim bölgelerinde nem azlığı ve düzensiz yağışlar nedeniyle daha belirgin olarak yaşanmaktadır.



Haritada numaralandırılan alanlardan hangisinde bu sorunun **daha belirgin** olarak yaşandığı söylenebilir?

- A) I B) II C) III D) IV E) V

20. Aşağıdaki haritada bazı yerler numaralandırılarak gösterilmiştir.



Bu yerlerde bulunan biyomlarla ilgili olarak aşağıdakilerden hangisi **söylenemez**?

- A) I numaralı yerde düşük sıcaklık şartlarının hâkim olduğu alanlarda görülen iğne yapraklı ormanlar biyomu bulunmaktadır.
- B) II numaralı yerde sıcaklıklar yıl boyunca 0°C'nin altında olduğu için bitki örtüsünden yoksun olan biyom bulunmaktadır.
- C) III numaralı yerde 10°-20° enlemleri arasında yer alan uzun boylu ot topluluklarının yaygın olduğu biyom bulunmaktadır.
- D) IV numaralı yerde yaz mevsiminin sıcak ve kurak şartlarına uyum sağlamış çalı biyomu bulunmaktadır.
- E) V numaralı yerde yıllık 200 mm'nin altındaki yağışa uyum sağlamış canlıların bulunduğu biyom bulunmaktadır.

21. Aşağıda dünya üzerinde sıcak çatışmaların yaşandığı alanlardan dördüne ait bilgiler verilmiştir.
- 2013 yılının Kasım ayında iç karışıklıklar ile başlayan çatışmalar, 2014 yılında Kırım'ın Rusya'ya bağlanması sorunu derinleştirmiştir.
  - 2011 yılında meydana gelen ayaklanma sonucunda ortaya çıkan olay günümüzde hâlâ devam etmektedir. Çatışmaların en önemli sebebi Aden Körfezi'nin kontrolünün bu bölgede olmasıdır.
  - Çin'in kuzeybatısındaki zengin doğal kaynaklara ve elverişli tarım topraklarına sahip bölgeyi kontrol etmek isteyen Çin yönetimi ve bölge halkı arasında günümüzde de devam eden etnik çatışmalar binlerce sivilin hayatını kaybetmesine sebep olmaktadır.
  - 1958'den bu yana yaşanan siyasal istikrarsızlık, ekonomik krizler ve dış politikadaki yanlış tutumlar ülkeyi önemli bir çatışma bölgesi haline getirmiştir. Ekonomide petrole olan bağımlılık, dünya petrol fiyatlarının düşmesiyle önemli dar boğazlara girmiştir.

**Buna göre aşağıdaki çatışma alanlarından hangisine ait bilgi verilmemiştir?**

- A) Ukrayna savaşı
- B) Yemen sorunu
- C) Venezuela Sorunu
- D) Filistin-İsrail Sorunu
- E) Doğu Türkistan sorunu

22. Hizmet sektörü içinde yer alan yönetim bölgeleri; yapılan faaliyetlere bağlı olarak çeşitli işlevsel hizmet bölgelerine ayrılmıştır. Örneğin; Karayolları Genel Müdürlüğü, 18 bölge müdürlüğü ile işlevsel hizmet bölgelerine ayrılmış ve ülke geneline hizmet veren bir kurumdur.

**Kurumların bu şekilde bölgelere ayrılmasında aşağıdakilerden hangisinin etkisi daha azdır?**

- A) İşleyişi hızlandırmak
- B) Aksaklıkları azaltmak
- C) Yüksek gelir sağlamak
- D) Denetimi kolaylaştırmak
- E) Hizmetleri yurt geneline yaymak

23. Nietzsche'ye göre değerli olan, kişinin kendi iradesi ile edimlerini ve daha da iddialı olarak, "iyi"yi belirleyebilmesidir. İyi ve kötünün belirleyicisi olan insanın bu durumunu "güç istemi" kavramı ile açıklar. Ona göre saygı duyulması insan güç istencine sahip olmandır. Bununla ilgili olarak Nietzsche *Böyle Buyurdu Zerdüşt* adlı eserinde "Bulduğu ile yetinmek, her şeyi tadabilmek: en iyi damak zevki değildir bu! Yemek seçen en inatçı dillere ve midelere saygı duyarım ben. "Ben" ve "Evet" ve "Hayır" demeyi öğrenmişlerdir onlar." demiştir.

**Bu parçadan aşağıdakilerden hangisine ulaşılabilir?**

- A) Evrensel bir ahlak yasasının mümkün olmadığına
- B) Ahlaklı kişinin geleneğe bağlılık göstermesi gerektiğine
- C) Bireysel yönelimlerin kişiyi erdemden yoksun bırakacağına
- D) Bireyin toplumsal değerlerden kopmaması gerektiğine
- E) Kişinin iyi ve kötüyü ayırt etme yetisine sahip olmadığına

24. Ey güzel doğa!

Estetik yaratımın biricik objesi

Estetiğin güzellik fenomeni olsan da

Süjenin zihnidir maddeyi tinselleştiren

Onu o olmaktan çıkarıp, onu aşkın hale getiren

**Bu şiirde vurgulanmak istenen yargı aşağıdakilerden hangisidir?**

- A) Sanat eseri doğanın yansımasının sonucu oluşur.
- B) Ortak estetik yargılar üzerinde uzlaşa sağlanabilir.
- C) Sanat estetik öznenin yaratıcılığının ürünüdür.
- D) Sanatın en önemli özelliği evrenselliğidir.
- E) Alımlayıcının beğenisi sanat eserine değer kazandırır.

25. - Kant, hakkında bilgi elde edilebilecek olan şeylerin yalnızca fenomenler; yapılması gereken öncelikli işin de fenomenlerin bilgisine hangi yolla ulaşılabileceğinin bulunması olduğunu düşünmüştür. Yani aslında öncelikli olarak yapmaya çalıştığı şey bilgi yetimizin sınırlarını belirlemeye çalışmaktır. Çünkü ona göre görüşler dünyasının dışında kalan “kendinde şey” bilgi yetimizin dışında kalan bir varlık alanıdır.

- Hegel ise bilginin bütün bir tarihsel gelişim sürecinin sonunda kendisiyle özdeş olan Geist'a yani mutlak olana varacağını savunur. Bilgi yetisinin ne olduğu ve sınırı felsefenin uğraşması gereken bir sorun değildir. Çünkü o özne ve nesneyi birbirinden ayrı koymaz.

**Buna göre bu iki görüş için aşağıdakilerden hangisi söylenebilir?**

- A) Bilgiye ulaşma konusunda insanın yeteneklerinin sınırlı olduğu
- B) Bilenebilir tek alanın görüngüler dünyası olduğu
- C) Felsefenin metafizik alana yönelmesi gerektiği
- D) Varlığını yalnızca kendisine borçlu bir hakikatin kabul edildiği
- E) Varlığın bilgisine deneyimler yoluyla ulaşılabileceği

26. 20. yüzyıldan bu yana bireylerin kendilerini sürekli olarak yenilemesini gerektiren bir süreç yaşanıyor Adına bilgi çağı dediğimiz bu dönemde sosyal, ekonomik ve kültürel olarak hızla değişiyor dünya. Bu değişime adapte olabilmek ve bireylerin kendilerine uygun bir yer edinmesi için sürekli kendilerini yenilemesi gerekmektedir. Bu durumda bireyler yaşamları boyunca eğitime gereksinim duyacak ve bunun sonucunda hem yaşadığı topluma hem de yaşanan değişimlere uyum sağlayacaktır. Öğrenmenin bir parçası olan birey, yaşı ve eğitimi ne olursa olsun hayatının her döneminde kendi gelişimini sağlayabileceği, kendisine en uygun olan yolu seçmeli ve yaşamına kendisi yön vermelidir. Unutmamak gerekir ki yaşamın dümeni elinizdedir. Siz kendi ekseniniz etrafında mı döneceksiniz, yoksa bir yere varmak için çaba mı sarf edeceksiniz? Kendinizi ve ne olmak istediğinizi öğrenme arzunuzla kendiniz belirleyeceksiniz.

**Bu parçada vurgulanmak istenen yargı aşağıdakilerden hangisidir?**

- A) Hızlı değişimlerin yaşandığı dönemde öğrenme daha değerlidir.
- B) Kendilerini gerçekleştiren bireyler yaşamda daha mutlu olurlar.
- C) Öğrenme stratejilerini bilen bireyler yeniliklere kolay uyum sağlarlar.
- D) Öğrenmeyi öğrenmek hayat boyu devam eden kaçınılmaz bir süreçtir.
- E) Eğitimde kalıcı öğrenme yaşamın ilk dönemlerinde gerçekleşir.

27. Psikoloji, insan davranışlarını ele alıp inceleyen pozitif bir bilimdir. İnsan davranışları çağın koşullarından etkilenmekte ve buna bağlı olarak değişebilmektedir. Sosyal olaylar insan hayatına yön verirken, psikoloji bilimi de değişmekte ve konuları arasına her geçen gün yenileri eklenmektedir. Psikoloji bilimi yaşamın kendisine açtığı yeni yollarda ustaca ilerlemeyi bilen ehliyetli bir sürücüdür.

**Buna göre aşağıdakilerden hangisi psikolojinin ilgilendiği konulardan biri değildir?**

- A) Sosyal medyanın insan davranışları üzerindeki etkisi
- B) Bilimsel gelişmeler ve sosyal değerler arasındaki ilişki
- C) Tüketici davranışları ve reklam ilişkisi
- D) Salgın hastalıkların bireyin iş verimine etkisi
- E) Dijital çağın getirilerinin ruh sağlığına etkisi

28. Davranış, organizmanın içsel ve dışsal uyarılara karşı gösterdiği her türlü tepkidir. Davranışların ortaya çıkma nedenlerini açıklamak her zaman kolay değildir. Aynı uyarıcı, farklı organizmalarda farklı tepkilerin ortaya çıkmasına sebep olabildiği gibi, aynı organizma aynı uyarıcıya farklı durumlarda farklı tepkiler de gösterebilir. Aynı zamanda farklı uyarıcılar organizmada aynı tepkilere de neden olabilir.

**Buna göre aşağıdakilerden hangisi organizmanın aynı uyarıcıya farklı tepki göstermesine örnek olarak verilebilir?**

- A) Bilgi yarışmasını kazanan Selin'in mutlu olması
- B) Aç olmayan birinin çok sevdiği yemeğin kokusundan rahatsız olması
- C) Kedi tarafından tırmalanan Ali'nin bütün kedilerden korkmaya başlaması
- D) Sınavdan düşük not alan öğrencinin mutsuz olması
- E) Dişçiden korkan çocuğun beyaz önlük giyen herkesten korkması

29. Bir bilim olarak sosyoloji, bilimsel sonuçlar elde ederken diğer bilimler gibi bazı araştırma yöntemlerinden ve veri toplama tekniklerinden yararlanmaktadır. Örneğin bir toplumsal grupta görülen sapma davranışının nedenlerinin ve sapmanın önlenmesi için alınması gereken tedbirlerin tespiti sosyolojinin çalışma alanı içinde değerlendirilir. Bu konuda çalışacak sosyologlar, sapmanın görüldüğü grubu derinlemesine inceleyip, grubun yaşadığı coğrafyayı, diğer gruplarla ilişkisini, davranışı ortaya çıkaran sebepleri tüm yönleriyle anlamaya çalışır.

**Bu parçada örneklendirilen araştırma sosyolojinin aşağıdaki yöntem ve tekniklerinden hangisi ile açıklanabilir?**

- A) Gözlem
- B) Monografi
- C) Sosyometri
- D) İstatistik
- E) Örnek olay incelemesi



30. Toplumsal hareketlilik, insanların toplumsal tabakalar arasında ya da aynı tabaka içinde gerçekleşen fiziksel veya toplumsal konumları açısından yer değiştirmelerini ifade eden bir kavramdır. Bir toplumsal tabaka içinde yer alan bireyin, örneğin bir tarım işçisinin, başka bir ilde bu işi yapmaya devam etmesi ya da bir fabrikada işçi olarak çalışmaya başlaması, aynı tabaka içinde gerçekleşen yatay hareketliliğe örnektir. Ancak bir tarım işçisinin fabrika sahibi olması ya da fabrika sahibi birinin iflas edip fabrikasında işçi olarak çalışması, sosyo-ekonomik durumunda ve statüsünde bir değişimi getirdiğinden, bu durum tabakalar arasında gerçekleşen dikey hareketliliği örneklendirir.

**Bu parçadan aşağıdaki yargılardan hangisine ulaşılabilir?**

- A) Yatay hareketlilik bireyin refah seviyesindeki değişikliklerle ilişkilidir.
- B) Toplumsal hareketlilik sosyal düzenin bozulmasına sebep olur.
- C) Dikey hareketlilik daha üst bir statüye geçmeyi işaret eder.
- D) Toplumsal hareketliliğin birey için olumlu ve olumsuz sonuçları olur.
- E) Yatay hareketlilik eğitim seviyesindeki artışla gerçekleşir.

31. Bireyler, içinde buldukları gruba, çoğu zaman kültür aracılığıyla bir aidiyet geliştirirler. Bu olması istenen, beklenen ve normal bir durumdur. Ancak her eylem ve düşüncede kötü kabul edilebilecek "aşırılık" durumu bu aidiyet duygusu için de geçerlidir. Birey içinde bulunduğu grubun normlarını benimsemekle kalmayıp, bunların en doğru normlar olduğunu düşünür, başka grupların normlarını reddeder, bunlarla alay eder, aşağılar, dolayısıyla da başka gruplara bir düşmanlık beslemeye başlarsa artık bu durum etnosentrizm kavramı ile açıklanır. Etnosentrizm diğer bir ifadeyle etnik merkezlik, bireyin ait olduğu ve bağlı hissettiği grup dışındaki gruplara ve normlara karşı geliştirdiği olumsuz yönlü bakış açısıdır. Bu sayede bireyler kendilerini ve içinde buldukları grubu ayrıcalıklı ve üstün görerek içsel bir tatmin yaşar.

**Bu parçadan aşağıdaki yargılardan hangisine ulaşılabilir?**

- A) Bireyin özsaygısını geliştirmesi için etnosentrik bir bakış açısına sahip olması gerekir.
- B) İçinde bulunulan kültüre duyulan hayranlık, sosyalleşmenin zorunlu bir sonucudur.
- C) Etnik merkezlik, bireyin kendini geliştirmesi yolunda olumsuz bir rol oynar.
- D) Toplumsal normlar tümüyle reddedilirse evrensel bir kültür oluşturulabilir.
- E) Bireyin yaşayacağı toplumsal aidiyet duygusu birey ve toplum için tehlikelidir.

32. Doğru düşünmenin ilkelerini ortaya koyan bir bilim olan mantık ile doğa bilimleri arasında bir ilişki olması gerektiği kaçınılmaz bir gerçektir. Doğa bilimlerinin fenomenal dünyadan empirik yöntemlerle ulaştığı veriler öylesine veya rastlantısal bir biçimde ortaya çıkmaz. Yapılan deneysel çalışmalarda akıl yürütme ilkeleri ve yöntemlerine başvurmak gerekir. Çünkü bilimsel verilerin geçerliği, güvenilirliği ve tutarlılığı son derece önemlidir.

**Bu parçada aşağıdakilerden hangisi vurgulanmaktadır?**

- A) Mantığın gelişiminin doğa bilimlerine bağlı olduğu
- B) Mantık ilke ve kurallarının belli alanlarda kullanılabilmesi
- C) Mantıksallığın olmadığı salt bir bilimden söz edilemeyeceği
- D) Doğa bilimlerinin mantık yoluyla mutlak kesinliğe ulaştığı
- E) Empirik bilgilerin rasyonel yöntemlerle açıklanamayacağı

33. İki şey arasında bir ortak nitelikten hareketle birinde bulunan niteliği ikincisine yükleme durumudur. Fakat yüklenen niteliğin diğerinde bulunması zorunlu değildir. Bu nedenle sonuç bazen doğru bazen de yanlış olabilir. İki şey arasında ortak niteliklerin niceliği ne kadar fazlaysa sonucun doğru olma olasılığı da o kadar artacaktır. Ancak gözlemsel ve deneysel olarak tek tek olgulardan hareketle genel aksiyomlara ulaşmak daha güvenilir olduğu için bilimler tarafından tercih edilen yöntemdir.

**Bu parçada;**

- I. Analoji
- II. Tümevarım
- III. Tümdengelim

**akıl yürütme türlerinden hangileri açıklanmıştır?**

- A) Yalnız I
- B) I ve II
- C) I ve III
- D) II ve III
- E) I, II ve III

34. Tümel olumlu (A) Tümel olumsuz (E)



Tikel olumlu (I) Tikel olumsuz (O)

**Aşağıdaki önerme çiftlerinin hangisinde karşı olum karesinde gösterilen bir ilişki yoktur?**

- A) Bütün filozoflar sorgulayıcıdır.  
Bazı filozoflar sorgulayıcıdır.
- B) Bazı kuşlar kanatlı değildir.  
Bazı kuşlar kanatlıdır.
- C) Bazı çiçekler güzel kokulu değildir.  
Bazı güzel kokulular çiçek değildir.
- D) Hiçbir insan kusursuz değildir.  
Bütün insanlar kusursuzdur.
- E) Her canlı ölümlüdür.  
Bazı canlılar ölümlü değildir.

35 - 40. soruları Din Kültürü ve Ahlak Bilgisi dersini yasal olarak almak zorunda olanlar ve İmam Hatip Okulları öğrencileri/mezunları cevaplayacaktır.

35. Hz. Muhammed'in (s.a.v.), sözleri ağızdan ağıza aktarılmış ancak yazılmamıştır. Hadis uydurmalarının başlaması üzerine hicri ikinci asırdan sonra toplanmaya ve yazıya geçirilmeye başlamıştır. Hadisler büyük bir titizlikle toplanmış ve çok sayıda eser ortaya çıkmıştır. En çok bilinen altı hadis kitabı vardır. Bunlara Kütüb-ü Sitte adı verilir.

**Aşağıdakilerden hangisi bu altı hadis kitabı içinde yer almaz?**

- A) Buhari- Câmîu's-Sahîh
- B) Müslim – Câmîu's-Sahîh
- C) Ebu Davud- Sünen
- D) Tirmizî – Sünen
- E) Dârimî- Sünen

36. • 873 yılında Basra'da dünyaya gelmiştir ve en yaygın iki itikadi mezhepten birinin kurucusudur.

- On iki imama inanmayı inanç konuları kapsamında değerlendirir.
- Fıkıh usulü konularını belirleyerek bu ilmin temellerini atmıştır.
- Akıl ve duyunun yanında doğru haberi de bilgi kaynakları arasında kabul etmiştir.

**Verilen bilgilerde hangi İslam âlimine ait özelliğe yer verilmemiştir?**

- A) Ahmet Yesevî
- B) İmam Eşarî
- C) İmam Şafii
- D) İmam Maturidi
- E) Cafer es-Sadık

37. Nafile ibadetler, Allah'ın (c.c.) rızasını kazanmak için yapılan ve zorunlu olmayan ibadetlerdir. Yapıldığı takdirde kişiye sevap kazandırır; yapılmadığında ise günahı yoktur.

**Buna göre;**

- I. Teheccüd
- II. Kuşluk
- III. Cuma
- IV. Tesbih

**namazlarından hangileri nafile ibadet kapsamındadır?**

- A) I ve II
- B) II ve III
- C) III ve IV
- D) I, II ve IV
- E) I, II, III ve IV

38. • Işık, gölge ve hacim duygusu olmayan resim sanatıdır.

- Elde hazırlanmış boyaların yoğunlaştırılmış su üzerine serpilip kâğıda geçirilmesiyle oluşan bir sanattır.
- Arap harflerini estetik ölçülere uygun olarak güzel bir şekilde yazma sanatıdır.
- Çinicilik, giyim ve mimari gibi sanat eserlerinin her alanında yapılan süslemelerdir.

**Yukarıda hangi sanat dalı hakkında bilgi verilmemiştir?**

- A) Hat
- B) Minyatür
- C) Musiki
- D) Ebru
- E) Tezhip

39. Sağlıklı bir yaşam ancak sağlıklı bir çevrede mümkün olur. Sağlıklı bir yaşam için soluduğumuz havanın, içtiğimiz suyun ve yaşadığımız ortamın temiz olması gerekir. Güzel ve temiz bir çevrede yaşamak her canlının hakkıdır. Çevrenin kirlenmesi, insanların ve diğer canlıların bu hakkına engel olmak anlamına gelir. Bu sebeple insan, çevrenin Allah'ın (c.c.) bir emaneti olduğunun bilincinde olmalı ve doğal dengeyi korumalıdır. Hz. Peygamber de sözleri ve davranışları ile inananlara bu duyarlılığı kazandırmayı amaçlamıştır. Çevreyi korumayı öğütlemiş, doğal dengeye zarar verecek davranışlardan kaçınılmasını istemiştir. Ağaç dikmeye teşvik etmiş, hayvanlara zarar vermektan sakındırmıştır.

**Bu metinden hareketle aşağıda sorulardan hangisine cevap verilemez?**

- A) Kur'an'ın çevre konusunda uyarıları nelerdir?  
 B) Çevreyi korumak niçin dini bir görevdir?  
 C) Çevre temizliği niçin önemlidir?  
 D) Çevre temizliği için nelere dikkat edilmesi gerekir?  
 E) Hz. Peygamber'in çevre ile ilgili öğütleri nelerdir?

40. - - - - güzel davranışların kaynağıdır. Nezaketin ve zarafetin kaynağıdır. Kişi, buna ne kadar uygun davranıyorsa tasavvufta o kadar ilerlemiş demektir. İlk sufiler, hayatın her alanı ile ilgili böyle kurallar koymuştur. Bu kurallara - - - - ve - - - - adı verilir.

**Metinde boş bırakılan yerlere sırasıyla aşağıdakilerden hangisi getirilmelidir?**

- A) Mâsîva – Adap – Tezkiye  
 B) Edep – Adap – Erkân  
 C) Edep – Tasavvuf – Adap  
 D) Tezkiye – Adap – Mâsîva  
 E) Tezkiye – Mâsîva – Edep

**41 - 46. soruları Din Kültürü ve Ahlak Bilgisi dersini yasal olarak almak zorunda olmayan veya farklı müfredat ile alanlar cevaplayacaktır.**

41. İnsanları öyle bir noktaya varmış sayalım ki, doğal yaşama halindeyken korunmalarını güçleştiren engeller, direktme güçleriyle, tek tek her kişinin bu durumda kalabilmek için harcayacağı çabalara üstün gelsin. O zaman, bu ilkel durum sürüp gidemez artık; insanlar yaşayışlarını değiştirmelerse, yok olup giderler. Ama insanlar yeni güçler yaratamadıklarına, eldeki güçleri birleştirip kullanmaktan başka bir şey yapamadıklarına göre, kendilerini korumak için yapacakları tek şey, birleşerek direktme gücünü alt edebilecek bir güç birliği kurmak, bu güçleri bir tek dürtücü güçle yönetmek ve elbirliğiyle harekete getirmektir. Bu güç birliği birçok kimsenin bir araya gelmesiyle kurulabilir.

**J. J. Rousseau'nun *Toplumsal Sözleşme* adlı eserinden alınan bu parça ile ilgili aşağıdakilerden hangisi söylenemez?**

- A) İnsan, güç birliği, yönetim parçada kullanılan felsefi kavramlardan bazılarıdır.  
 B) "Devlet nasıl ortaya çıkmıştır?" probleminde cevap aranmaktadır.  
 C) Devletin toplumsal sözleşmeye dayandığı görüşü benimsenmiştir.  
 D) Savunulan argümanın konusu siyaset felsefesidir.  
 E) Devletin doğal bir kurum olduğu fikri savunulmuştur.

42. Ne zaman farkına varırız acaba? Dünde ve yanında yaşamının verdiği acının, endişenin ve korkunun zihninizde ve bedeninizde bıraktığı zararların... Ne değiştiremeyeceğimiz bir geçmişte yaşamak ne de olasılıklarla dolu bilinmeyen bir gelecek için endişe duymak gerek. Her ikisi arasında doğru bir ölçüyü nasıl mı buluruz? Tabii ki “an”da “ben”ini bularak ve şimdinin içinde kendini gerçekleştirerek.

**Bu parça aşağıdaki filozof ve yaklaşımlarından hangisiyle ilişkilendirilebilir?**

- A) Bentham'ın utilitarizmi
- B) Hobbes'un egoizmi
- C) Epiküros'un hedonizmi
- D) Aristoteles'in altın ortası
- E) Sokrates'in erdem etiği

43. Bir davranışın anlaşılmasında o davranışa neden olan duyguları bilmek çok önemlidir. Özellikle de duygular çok yoğun yaşandığında, duygunun neden olduğu davranışı değiştirmek çok zordur. Kaygı duygusu çok yoğun olan bir insanın mantıklı hareket etmesi zordur. Fakat bazen de duygular insanı tehlikelerden koruma ve hayatta kalabilme yönünde yapıcı bir fonksiyona sahip olabilir. Burada önemli olan kişinin kendi duygularını tanıyabilmesi, sorgulayabilmesi ve kabullenebilmesidir. Bunu yapabilen kişiler duygularını istedik yönde değiştirebilir ve kontrol edebilir. Unutulmamalıdır ki duyguları kontrol etmek onları bastırmak ve saklamak değil onları doğru bir şekilde ve düzeyde ortaya koyabilmektir.

**Bu parçadan duygularla ilgili olarak aşağıdakilerden hangisine ulaşamaz?**

- A) Yoğun yaşandığında zorlayıcı bir nitelikte olduğuna
- B) Değişime direnç gösteren statik bir yapıda olduğuna
- C) Davranışı etkileyip şekillendirdiğine
- D) Bilinçli olduğunda kontrol edilebilir olduğuna
- E) İşlevsel bir özelliğe sahip olduğuna

44. Birey doğduğu andan itibaren sosyal bir kişidir ve hayat boyu süren sürekli bir değişime uğrar. Bireylerin yaşamında etrafındakilerle ilk temasa geçtiği, ilk deneyimleri edindiği, diğer bireylerle ilişkileri ile öğrendikleri ve kendilerini geliştirdikleri erken dönem birincil; zaten sosyalleşen bireylerin kendi toplumunun nesnel dünyasındaki yeni kesimlere girmesini sağlayan süreç ikincil sosyalleşme olarak tanımlanır. Birincil sosyalleşmede birey toplumsal olarak tanımlanmış belli aşamaları örneğin toplumsal normları öğrenir. Kendisinden toplumun neler beklediğini, toplum içinde nasıl davranması gerektiğini içselleştirdiği ilk dünyasını inşa ettiği dönemdir. İkincil sosyalleşmede ise bireyler istediğini yapabilme noktasında, birincil sosyalleşmeden farklı olarak daha serbest hareket ederler.

**Bu parçadan aşağıdaki yargılardan hangisine ulaşamaz?**

- A) Sosyalleşme bireylerin çevresindekilerle etkileşim sürecidir.
- B) Bireyler toplumsal değerleri öncelikle birincil sosyalleşme yoluyla kazanır.
- C) İkincil sosyalleşmede bireyler daha özgür oldukları bir eylem alanına sahiptir.
- D) Birincil sosyalleşme çocukluk döneminde gerçekleşir.
- E) İkincil sosyalleşme gerçekleştiğinde sosyalleşme süreci tamamlanmış olur.

45. Statü, bireylerin toplumsal yaşam içinde buldukları mevkidir. Bireyler kişilik özellikleri ve performanslarıyla statüye katkı sağlarlar. Fakat bazı statüler üzerinde bireylerin yapabileceği bir şey yoktur. Örneğin soy, yaş, ırk vb. statüler bireyleri toplumsal yapının normlarına uymaya zorlar. Bireyler bu normlara uygun davrandıklarında sosyal rollerini gerçekleştirmiş olurlar. Rol, statünün canlı ve aktif olarak eyleme dönüştürülmüş kısmıdır. Statünün gerektirdiği rolüne uygun davranışta bulunanlar toplumsal yaşamda prestij kazanırlar.

**Bu parçadan statü ve rol ile ilgili aşağıdaki yargıların hangisine ulaşılabilir?**

- A) Her statü bireye saygınlık kazandırır.
- B) Rollere ilişkin kuralların belirlenmesinde statü etkilidir.
- C) Statülerin edinilmesi bireysel çabaya bağlıdır.
- D) Role uygun davranışı bireyler belirler.
- E) Statü toplumun bireyden beklediği davranışlar bütünüdür.

46. Gündelik yaşamın içinde karşımızdaki insanlara "Söylemlerin akla ve mantığa uymuyor.", "Seni akla ve mantığa davet ediyorum." derken hep mantıktan ve mantıklı olmaktan söz ederiz. Çünkü doğru düşünme ile gerçekliğe ait tutarlı bilgiye ulaşabiliriz. Mantık bilimi, temel kavramları ve ilkeleri ile düşünmenin gelişigüzel değil, belli kurallara uygun olarak yapılması gerektiğini ortaya koyar.

**Bu parçadan aşağıdaki yargılardan hangisine ulaşılabilir?**

- A) Mantık bilimi öğrenmeden de mantıklı düşünülebilir.
- B) Mantık doğru düşünmenin biçimiyle ilgilidir.
- C) Mantığa uygun olan her düşünce doğrudur.
- D) Gerçeklik, doğru düşünmeden bağımsızdır.
- E) Tüm insanlarda doğru düşünebilme becerisi vardır.



# Kendini Deęerlendir



1

*Kare kodu okut.*

2

*Sınavını seę*

3

*Cevaplarını sisteme gir.*

4

*Eksik olduęun konuları analiz et.*

5

*Bu sınava katılanlar arasındaki sıralamanı gör.*



AYT . 1. ADIM . 1. DENEME

TÜRK DİLİ VE EDEBİYATI-SOSYAL BİLİMLER-1																			
1	2	3	4	5	6	7	8	9	10	11	12	13	14	15	16	17	18	19	20
D	E	E	E	B	C	D	D	B	D	E	C	A	C	B	E	A	A	D	A
21	22	23	24	25	26	27	28	29	30	31	32	33	34	35	36	37	38	39	40
B	B	C	C	C	E	E	D	A	B	A	D	A	A	D	B	E	D	D	C

SOSYAL BİLİMLER-2																			
1	2	3	4	5	6	7	8	9	10	11	12	13	14	15	16	17	18	19	20
E	A	E	B	A	E	B	C	E	C	A	D	D	C	E	C	E	C	A	B
21	22	23	24	25	26	27	28	29	30	31	32	33	34	35	36	37	38	39	40
A	B	A	E	E	C	E	B	C	C	D	D	E	B	C	A	D	B	B	C
41	42	43	44	45	46														
D	A	C	E	B	D														

AYT . 1. ADIM . 2. DENEME

TÜRK DİLİ VE EDEBİYATI-SOSYAL BİLİMLER-1																			
1	2	3	4	5	6	7	8	9	10	11	12	13	14	15	16	17	18	19	20
C	C	E	B	B	A	C	D	D	E	E	D	E	D	B	D	C	B	B	D
21	22	23	24	25	26	27	28	29	30	31	32	33	34	35	36	37	38	39	40
B	A	D	B	B	B	E	B	B	A	C	C	D	A	B	C	A	C	D	C

SOSYAL BİLİMLER-2																			
1	2	3	4	5	6	7	8	9	10	11	12	13	14	15	16	17	18	19	20
E	D	E	E	D	B	C	A	C	A	A	E	A	E	C	B	E	C	B	E
21	22	23	24	25	26	27	28	29	30	31	32	33	34	35	36	37	38	39	40
B	D	D	B	D	D	D	D	D	B	E	C	E	A	E	B	D	E	C	C
41	42	43	44	45	46														
C	E	D	D	E	E														

AYT . 1. ADIM . 3. DENEME

TÜRK DİLİ VE EDEBİYATI-SOSYAL BİLİMLER-1																			
1	2	3	4	5	6	7	8	9	10	11	12	13	14	15	16	17	18	19	20
C	E	A	B	D	A	E	C	D	E	D	A	D	D	A	D	B	D	C	B
21	22	23	24	25	26	27	28	29	30	31	32	33	34	35	36	37	38	39	40
B	E	E	E	B	E	E	D	E	D	E	C	E	C	A	C	C	D	E	A

SOSYAL BİLİMLER-2																			
1	2	3	4	5	6	7	8	9	10	11	12	13	14	15	16	17	18	19	20
D	A	C	C	E	C	D	E	E	A	D	C	A	D	C	B	C	D	D	E
21	22	23	24	25	26	27	28	29	30	31	32	33	34	35	36	37	38	39	40
E	A	C	C	D	B	E	E	B	E	D	C	C	A	D	E	A	B	D	C
41	42	43	44	45	46														
E	B	D	A	B	B														

## AYT • 1. ADIM • 4. DENEME

## TÜRK DİLİ VE EDEBİYATI-SOSYAL BİLİMLER-1

1	2	3	4	5	6	7	8	9	10	11	12	13	14	15	16	17	18	19	20
A	C	E	C	A	B	C	E	A	E	E	B	A	A	C	C	B	D	A	E
21	22	23	24	25	26	27	28	29	30	31	32	33	34	35	36	37	38	39	40
A	C	C	C	E	B	B	E	C	B	A	D	E	A	B	A	E	B	D	C

## SOSYAL BİLİMLER-2

1	2	3	4	5	6	7	8	9	10	11	12	13	14	15	16	17	18	19	20
C	A	C	B	C	E	D	D	C	E	B	B	B	A	C	E	B	C	C	A
21	22	23	24	25	26	27	28	29	30	31	32	33	34	35	36	37	38	39	40
B	D	C	B	A	D	E	B	D	C	D	E	B	B	E	C	C	D	B	B
41	42	43	44	45	46														
E	A	E	B	B	D														

## AYT • 1. ADIM • 5. DENEME

## TÜRK DİLİ VE EDEBİYATI-SOSYAL BİLİMLER-1

1	2	3	4	5	6	7	8	9	10	11	12	13	14	15	16	17	18	19	20
D	D	B	D	D	C	E	E	D	E	A	A	A	C	C	E	C	A	C	B
21	22	23	24	25	26	27	28	29	30	31	32	33	34	35	36	37	38	39	40
E	B	B	C	B	D	C	B	D	E	A	D	C	C	B	C	C	C	B	C

## SOSYAL BİLİMLER-2

1	2	3	4	5	6	7	8	9	10	11	12	13	14	15	16	17	18	19	20
D	B	D	D	E	E	E	C	A	D	E	D	C	C	A	E	B	E	A	A
21	22	23	24	25	26	27	28	29	30	31	32	33	34	35	36	37	38	39	40
C	A	A	B	D	C	A	E	E	B	B	C	C	A	A	E	E	D	B	D
41	42	43	44	45	46														
E	A	A	D	B	B														

AYT . 2. ADIM . 1. DENEME

TÜRK DİLİ VE EDEBİYATI-SOSYAL BİLİMLER-1																			
1	2	3	4	5	6	7	8	9	10	11	12	13	14	15	16	17	18	19	20
A	E	C	C	B	B	E	D	C	E	E	D	A	A	C	D	C	E	A	A
21	22	23	24	25	26	27	28	29	30	31	32	33	34	35	36	37	38	39	40
B	B	E	A	A	E	C	B	E	B	A	B	C	D	D	D	B	A	C	C
SOSYAL BİLİMLER-2																			
1	2	3	4	5	6	7	8	9	10	11	12	13	14	15	16	17	18	19	20
E	C	D	D	B	D	D	D	E	B	B	C	B	E	D	D	D	C	E	B
21	22	23	24	25	26	27	28	29	30	31	32	33	34	35	36	37	38	39	40
B	A	E	B	E	C	D	C	E	E	A	B	D	B	B	A	E	C	D	C
41	42	43	44	45	46														
C	A	A	E	C	B														

AYT . 2. ADIM . 2. DENEME

TÜRK DİLİ VE EDEBİYATI-SOSYAL BİLİMLER-1																			
1	2	3	4	5	6	7	8	9	10	11	12	13	14	15	16	17	18	19	20
C	E	C	C	A	E	D	D	D	A	A	E	A	A	A	D	D	C	B	E
21	22	23	24	25	26	27	28	29	30	31	32	33	34	35	36	37	38	39	40
A	B	B	A	B	A	C	D	C	A	D	B	B	A	B	B	E	B	D	C
SOSYAL BİLİMLER-2																			
1	2	3	4	5	6	7	8	9	10	11	12	13	14	15	16	17	18	19	20
C	C	B	B	E	B	C	C	B	C	E	A	A	C	A	C	C	A	D	A
21	22	23	24	25	26	27	28	29	30	31	32	33	34	35	36	37	38	39	40
E	A	A	D	C	C	A	D	B	D	B	C	C	B	D	E	C	A	B	E
41	42	43	44	45	46														
A	C	D	E	B	B														

AYT . 2. ADIM . 3. DENEME

TÜRK DİLİ VE EDEBİYATI-SOSYAL BİLİMLER-1																			
1	2	3	4	5	6	7	8	9	10	11	12	13	14	15	16	17	18	19	20
C	C	D	A	D	B	E	D	A	C	C	A	C	A	B	D	B	B	C	A
21	22	23	24	25	26	27	28	29	30	31	32	33	34	35	36	37	38	39	40
D	D	B	C	C	A	B	B	D	D	C	E	B	A	C	D	D	A	D	B
SOSYAL BİLİMLER-2																			
1	2	3	4	5	6	7	8	9	10	11	12	13	14	15	16	17	18	19	20
B	C	E	B	B	D	A	C	D	E	B	D	D	E	E	B	E	C	D	B
21	22	23	24	25	26	27	28	29	30	31	32	33	34	35	36	37	38	39	40
C	E	A	C	A	B	E	A	B	A	C	B	C	C	B	E	A	B	C	D
41	42	43	44	45	46														
A	B	D	D	C	E														

AYT • 2. ADIM • 4. DENEME

## TÜRK DİLİ VE EDEBİYATI-SOSYAL BİLİMLER-1

1	2	3	4	5	6	7	8	9	10	11	12	13	14	15	16	17	18	19	20
C	B	D	C	D	D	E	D	D	C	E	B	A	E	D	E	C	D	A	C
21	22	23	24	25	26	27	28	29	30	31	32	33	34	35	36	37	38	39	40
C	C	E	B	D	D	C	E	B	C	B	C	C	D	E	B	D	B	B	A

## SOSYAL BİLİMLER-2

1	2	3	4	5	6	7	8	9	10	11	12	13	14	15	16	17	18	19	20
B	C	C	A	E	B	C	B	E	E	C	C	E	D	E	D	B	A	D	C
21	22	23	24	25	26	27	28	29	30	31	32	33	34	35	36	37	38	39	40
A	D	E	C	D	D	D	B	C	D	C	D	E	E	A	D	B	C	E	D
41	42	43	44	45	46														
D	E	D	E	B	A														

AYT • 2. ADIM • 5. DENEME

## TÜRK DİLİ VE EDEBİYATI-SOSYAL BİLİMLER-1

1	2	3	4	5	6	7	8	9	10	11	12	13	14	15	16	17	18	19	20
C	A	C	C	B	D	D	E	E	E	A	C	E	C	D	A	E	B	E	E
21	22	23	24	25	26	27	28	29	30	31	32	33	34	35	36	37	38	39	40
B	D	A	B	E	B	D	A	D	D	E	E	C	E	B	C	B	A	D	D

## SOSYAL BİLİMLER-2

1	2	3	4	5	6	7	8	9	10	11	12	13	14	15	16	17	18	19	20
D	B	E	E	E	D	A	C	A	D	C	A	C	C	D	E	E	A	B	D
21	22	23	24	25	26	27	28	29	30	31	32	33	34	35	36	37	38	39	40
B	D	A	A	B	E	E	C	C	E	D	B	B	C	B	C	B	E	D	E
41	42	43	44	45	46														
B	E	B	B	C	B														

AYT . 3. ADIM . 1. DENEME

TÜRK DİLİ VE EDEBİYATI-SOSYAL BİLİMLER-1																			
1	2	3	4	5	6	7	8	9	10	11	12	13	14	15	16	17	18	19	20
C	C	A	E	B	A	A	D	D	D	C	E	E	B	D	C	C	A	C	D
21	22	23	24	25	26	27	28	29	30	31	32	33	34	35	36	37	38	39	40
E	E	B	A	E	C	B	C	E	A	E	A	E	B	C	A	D	B	B	E

SOSYAL BİLİMLER-2																			
1	2	3	4	5	6	7	8	9	10	11	12	13	14	15	16	17	18	19	20
C	E	A	C	A	B	E	D	D	D	B	B	D	A	B	A	D	E	B	B
21	22	23	24	25	26	27	28	29	30	31	32	33	34	35	36	37	38	39	40
B	A	C	E	A	D	C	A	B	B	E	C	D	D	C	B	E	C	A	B
41	42	43	44	45	46														
D	E	E	D	B	A														

AYT . 3. ADIM . 2. DENEME

TÜRK DİLİ VE EDEBİYATI-SOSYAL BİLİMLER-1																			
1	2	3	4	5	6	7	8	9	10	11	12	13	14	15	16	17	18	19	20
B	B	D	B	C	A	C	D	B	C	A	D	B	C	B	E	E	A	C	C
21	22	23	24	25	26	27	28	29	30	31	32	33	34	35	36	37	38	39	40
B	B	D	C	E	D	E	C	C	A	A	A	C	E	A	A	E	C	E	B

SOSYAL BİLİMLER-2																			
1	2	3	4	5	6	7	8	9	10	11	12	13	14	15	16	17	18	19	20
A	A	E	E	D	C	E	A	D	E	B	E	C	B	E	D	E	B	D	A
21	22	23	24	25	26	27	28	29	30	31	32	33	34	35	36	37	38	39	40
D	E	D	E	E	A	E	C	E	B	B	A	D	C	E	A	D	B	B	C
41	42	43	44	45	46														
A	E	A	D	C	E														

AYT . 3. ADIM . 3. DENEME

TÜRK DİLİ VE EDEBİYATI-SOSYAL BİLİMLER-1																			
1	2	3	4	5	6	7	8	9	10	11	12	13	14	15	16	17	18	19	20
A	E	B	D	C	E	C	B	D	E	A	B	E	B	D	C	B	D	D	C
21	22	23	24	25	26	27	28	29	30	31	32	33	34	35	36	37	38	39	40
C	B	E	A	E	B	C	C	B	E	B	B	A	A	E	C	B	D	B	C

SOSYAL BİLİMLER-2																			
1	2	3	4	5	6	7	8	9	10	11	12	13	14	15	16	17	18	19	20
B	A	A	E	C	A	B	C	D	C	C	E	B	E	D	C	B	D	A	C
21	22	23	24	25	26	27	28	29	30	31	32	33	34	35	36	37	38	39	40
D	C	E	A	A	D	B	C	B	C	C	B	C	E	E	B	D	A	E	A
41	42	43	44	45	46														
A	D	C	E	A	E														

AYT • 3. ADIM • 4. DENEME

## TÜRK DİLİ VE EDEBİYATI-SOSYAL BİLİMLER-1

1	2	3	4	5	6	7	8	9	10	11	12	13	14	15	16	17	18	19	20
B	D	C	D	A	C	A	B	C	D	A	C	E	B	C	B	C	B	B	C
21	22	23	24	25	26	27	28	29	30	31	32	33	34	35	36	37	38	39	40
C	B	B	D	A	A	E	C	E	E	A	C	D	E	A	A	B	C	A	C

## SOSYAL BİLİMLER-2

1	2	3	4	5	6	7	8	9	10	11	12	13	14	15	16	17	18	19	20
D	C	C	B	E	A	A	B	C	D	C	A	E	B	D	B	D	B	C	A
21	22	23	24	25	26	27	28	29	30	31	32	33	34	35	36	37	38	39	40
D	D	D	A	D	D	D	A	B	D	C	B	A	D	E	C	C	B	D	A
41	42	43	44	45	46														
C	A	D	E	A	D														

AYT • 3. ADIM • 5. DENEME

## TÜRK DİLİ VE EDEBİYATI-SOSYAL BİLİMLER-1

1	2	3	4	5	6	7	8	9	10	11	12	13	14	15	16	17	18	19	20
E	D	B	E	D	C	C	D	B	A	E	C	B	B	A	C	C	B	C	C
21	22	23	24	25	26	27	28	29	30	31	32	33	34	35	36	37	38	39	40
D	C	B	D	D	D	E	B	C	C	C	E	B	E	A	E	B	E	A	D

## SOSYAL BİLİMLER-2

1	2	3	4	5	6	7	8	9	10	11	12	13	14	15	16	17	18	19	20
C	C	D	C	B	C	A	E	D	D	D	D	A	C	C	E	B	E	C	D
21	22	23	24	25	26	27	28	29	30	31	32	33	34	35	36	37	38	39	40
D	C	A	C	D	D	B	B	E	D	C	C	B	C	E	A	D	C	A	B
41	42	43	44	45	46														
E	D	B	E	B	B														



# Kendini Deęerlendir



1

*Kare kodu okut.*

2

*Sınavını seę*

3

*Cevaplarını sisteme gir.*

4

*Eksik olduęun konuları analiz et.*

5

*Bu sınava katılanlar arasındaki sıralamanı gör.*